



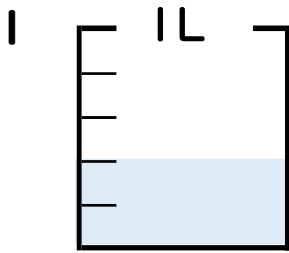
分数 4

分数の水のかさの読み取り



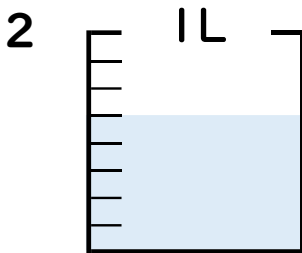
日にち： 月 日

名まえ _____



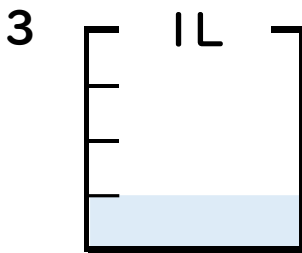
① 図の水のかさは1メモリの何こ分ですか？ _____ 半分

② 水のかさは、何^{リットル}Lですか？ _____ L



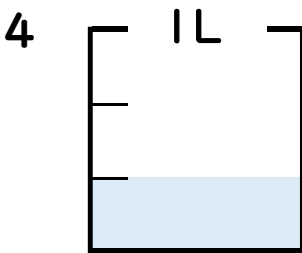
① 図の水のかさは1メモリの何こ分ですか？ _____ 七分

② 水のかさは、何^{リットル}Lですか？ _____ L



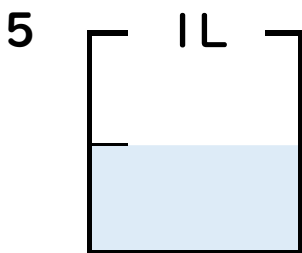
① 図の水のかさは1メモリの何こ分ですか？ _____ 四分

② 水のかさは、何^{リットル}Lですか？ _____ L



① 図の水のかさは1メモリの何こ分ですか？ _____ 三分

② 水のかさは、何^{リットル}Lですか？ _____ L



① 図の水のかさは1メモリの何こ分ですか？ _____ 二分

② 水のかさは、何^{リットル}Lですか？ _____ L





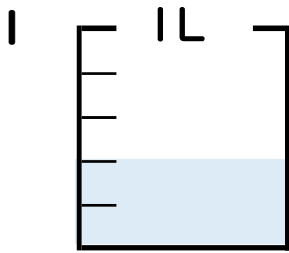
分数 4

分数の水のかさの読み取り



日にち： 月 日

名まえ _____

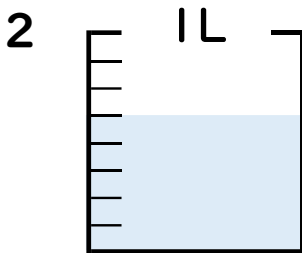


① 図の水のかさは1メモリの何こ分ですか？

2 半分

② 水のかさは、何^{リットル}Lですか？

$\frac{2}{5}$ L

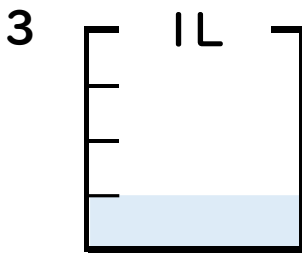


① 図の水のかさは1メモリの何こ分ですか？

5 半分

② 水のかさは、何^{リットル}Lですか？

$\frac{5}{8}$ L

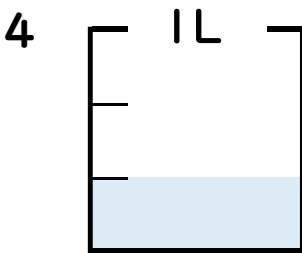


① 図の水のかさは1メモリの何こ分ですか？

1 半分

② 水のかさは、何^{リットル}Lですか？

$\frac{1}{4}$ L

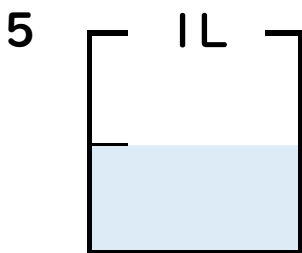


① 図の水のかさは1メモリの何こ分ですか？

1 半分

② 水のかさは、何^{リットル}Lですか？

$\frac{1}{3}$ L



① 図の水のかさは1メモリの何こ分ですか？

1 半分

② 水のかさは、何^{リットル}Lですか？

$\frac{1}{2}$ L

