



分数 3

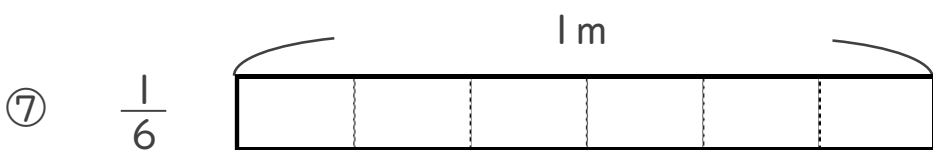
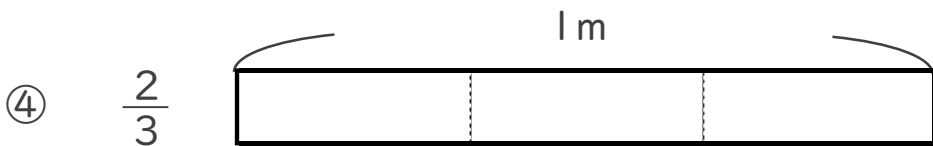
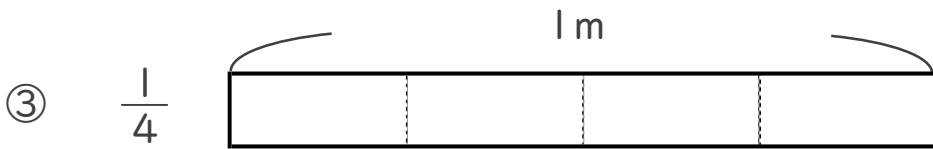
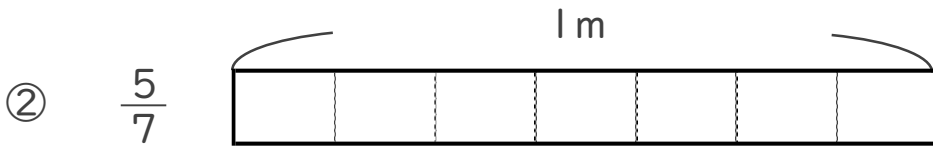
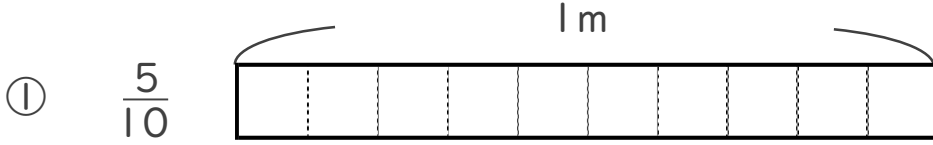
● 分数の長さの色ぬり



日にち： 月 日

名まえ _____

・ 次の長さの分だけ色をぬりましょう。





分数 3

● 分数の長さの色ぬり



日にち： 月 日

名まえ _____

・ 次の長さの分だけ色をぬりましょう。

