



分数 2

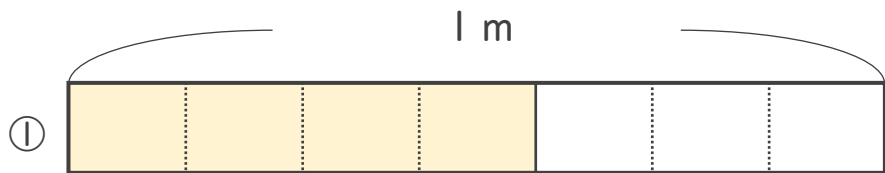
● 分数の長さの読み取り



日にち： 月 日

名まえ _____

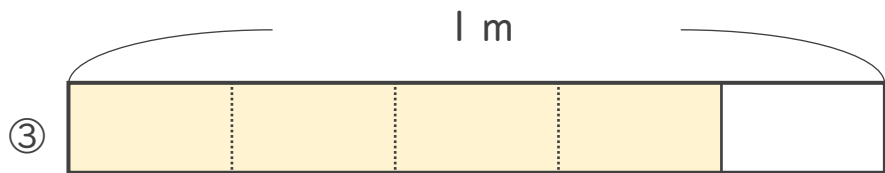
いろ なが なん
・ 色をぬったところの長さは、何mでしょう。



こたえ： _____ m



こたえ： _____ m




こたえ： _____ m



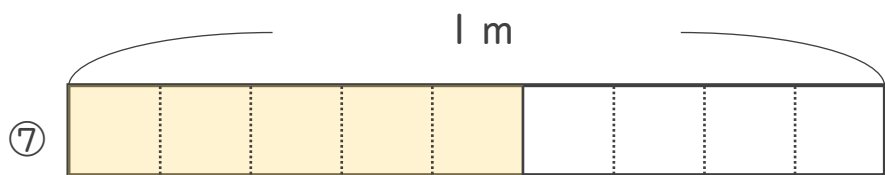
こたえ： _____ m



こたえ： _____ m



こたえ： _____ m



こたえ： _____ m





分数 2

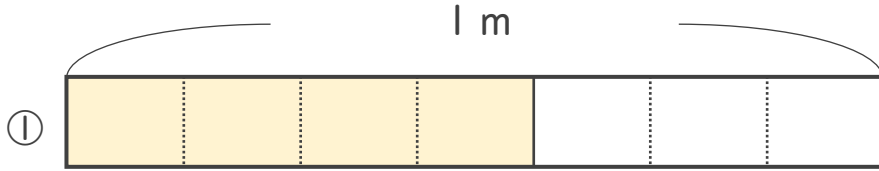
● 分数の長さの読み取り



日にち： 月 日

名まえ _____

いろ
・色をぬったところのなが
なが
なん
は、何mでしょう。



こたえ： $\frac{4}{7}$ m




こたえ： $\frac{1}{2}$ m




こたえ： $\frac{4}{5}$ m



こたえ： $\frac{3}{4}$ m



こたえ： $\frac{1}{9}$ m



こたえ： $\frac{2}{3}$ m



こたえ： $\frac{5}{9}$ m

