



# 小数の意味と表し方 II

● 小数の位置を数直線へ書きこむ



日にち：            月            日

名まえ \_\_\_\_\_

・ 次の数を、数直線に ↑ で数を書きましょう。

① 1.3

② 0.2

③ 0.7

④ 1.5

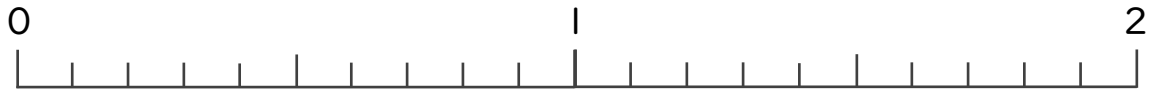


⑤ 1.2

⑥ 1.8

⑦ 0.4

⑧ 0.6



⑨ 0.5

⑩ 0.9

⑪ 1

⑫ 1.5





# 小数の意味と表し方II

● 小数の位置を数直線へ書きこむ



日にち：            月            日

名まえ \_\_\_\_\_

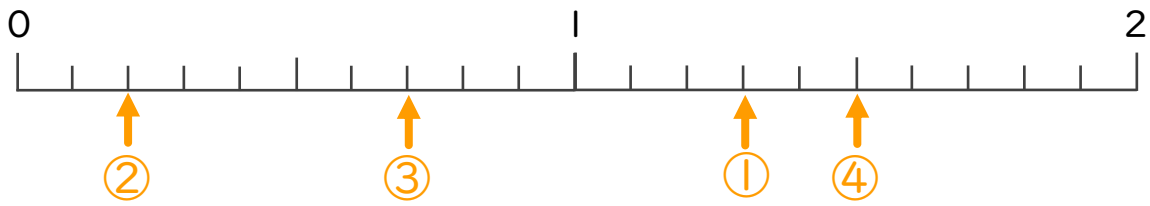
・ 次の数を、数直線に↑で数を書きましょう。

① 1.3

② 0.2

③ 0.7

④ 1.5

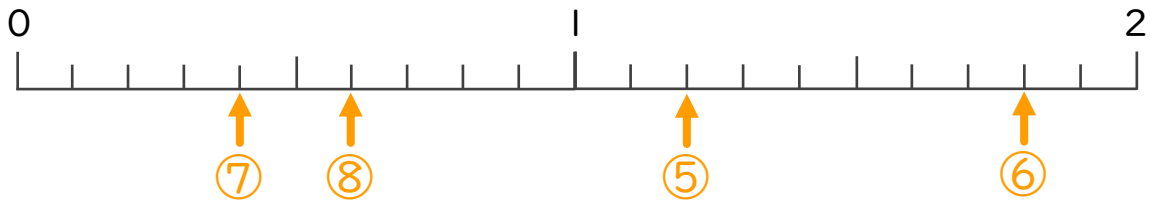


⑤ 1.2

⑥ 1.8

⑦ 0.4

⑧ 0.6



⑨ 0.5

⑩ 0.9

⑪ 1

⑫ 1.5

