



たし算と  
ひき算の筆算 22

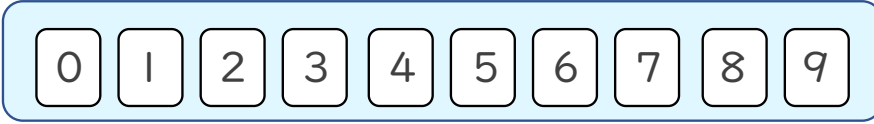


● 式をつくろう  
(大きな数のたし算)

日にち： 月 日

名まえ \_\_\_\_\_

- ・ 0 から 9 までの10まいのカードを8まい使って、  
答えが6000になるたし算の式をつくりましょう。

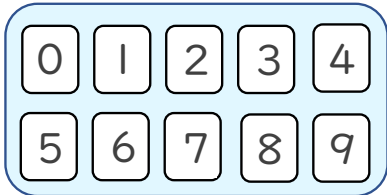


$$\square\square\square\square + \square\square\square\square = 6000$$

☆ 次の  に数字を入れましょう。

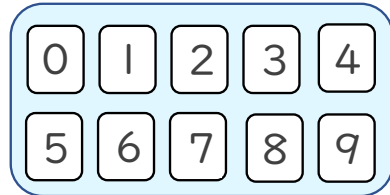
①

+				
	6	0	0	0



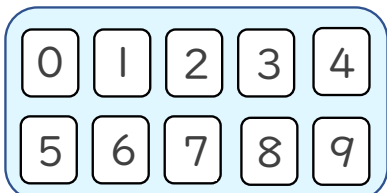
②

+				
	6	0	0	0



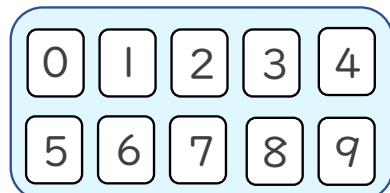
③

+				
	6	0	0	0



④

+				
	6	0	0	0





# たし算とひき算の筆算 22

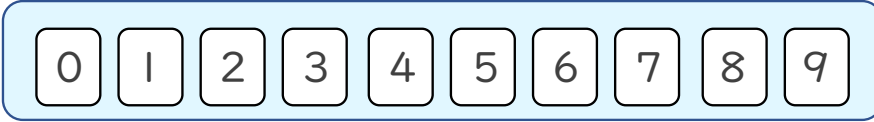


● 式をつくろう  
(大きな数のたし算)

日にち： 月 日

名まえ \_\_\_\_\_

- ・  から  までの10まいのカードを8まい使って、  
答えが6000になるたし算の式をつくりましょう。



$$\square\square\square\square + \square\square\square\square = 6000$$

☆ 次の  に数字を入れましょう。

(例)

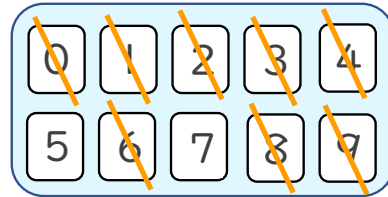
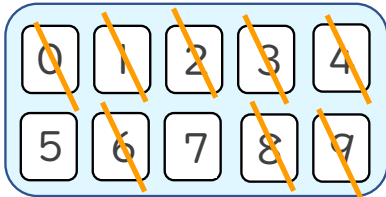
①

	2	1	9	4
+	3	8	0	6
<hr/>				
	6	0	0	0

(例)

②

	4	9	3	8
+	1	0	6	2
<hr/>				
	6	0	0	0



(例)

③

	1	6	0	2
+	4	3	9	8
<hr/>				
	6	0	0	0

(例)

④

	3	1	0	6
+	2	8	9	4
<hr/>				
	6	0	0	0

