



たし算と  
ひき算の筆算 22

● 式をつくろう  
(大きな数のたし算)



日にち： 月 日

名まえ \_\_\_\_\_

- ・  $\boxed{0}$  から  $\boxed{9}$  までの10まいのカードを8まい使って、  
答えが6000になるたし算の式をつくりましょう。

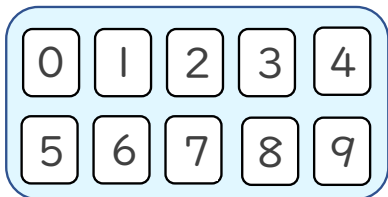


$$\square\square\square\square + \square\square\square\square = 6000$$

☆ 次の  $\square$  に数字を入れましょう。

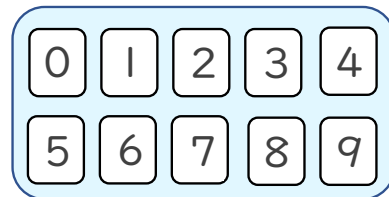
①

+				
	6	0	0	0



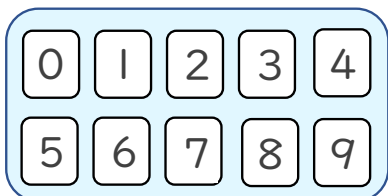
②

+				
	6	0	0	0



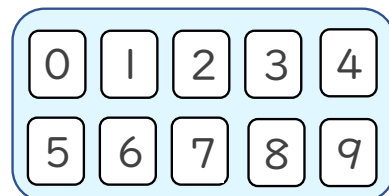
③

+				
	6	0	0	0



④

+				
	6	0	0	0





たし算と  
ひき算の筆算 22

● 式をつくろう  
(大きな数のたし算)



日にち： 月 日

名まえ \_\_\_\_\_

- ・  から  までの10まいのカードを8まい使って、  
答えが6000になるたし算の式をつくりましょう。



+     = 6000

☆ 次の  に数字を入れましょう。

(例)

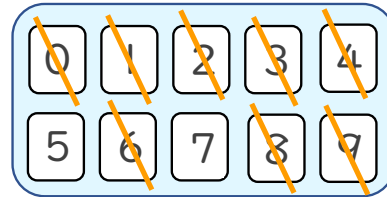
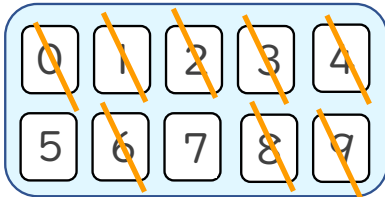
①

	2	1	9	4
+	3	8	0	6
	6	0	0	0

(例)

②

	4	9	3	8
+	1	0	6	2
	6	0	0	0



(例)

③

	1	6	0	2
+	4	3	9	8
	6	0	0	0

(例)

④

	3	1	0	6
+	2	8	9	4
	6	0	0	0

