



# □を使った式 10

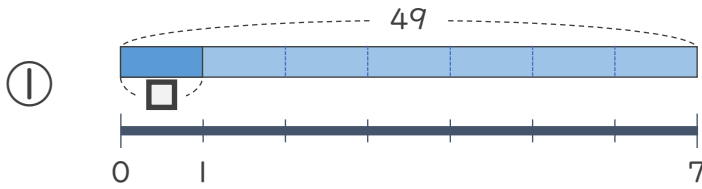
● 数 ÷ □ の  
□ をもとめる計算



日にち：            月            日

名まえ \_\_\_\_\_

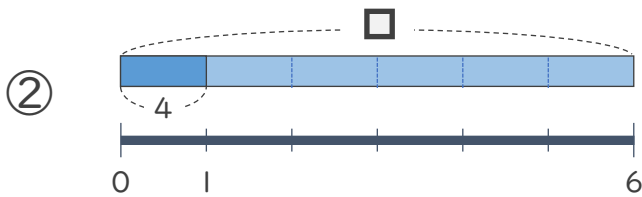
・ □ にあてはまる数をもとめましょう。



$$49 \div \square = 7$$

$$\square =$$

$$\square =$$



$$\square \div 6 = 4$$

$$\square =$$

$$\square =$$



# □を使った式 10

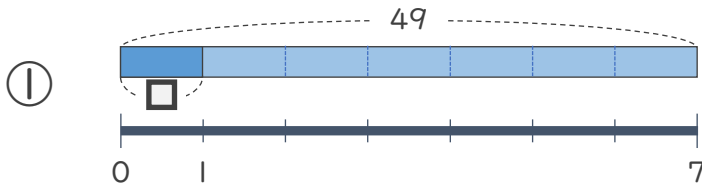
● 数 ÷ □ の  
□ をもとめる計算



日にち：            月            日

名まえ \_\_\_\_\_

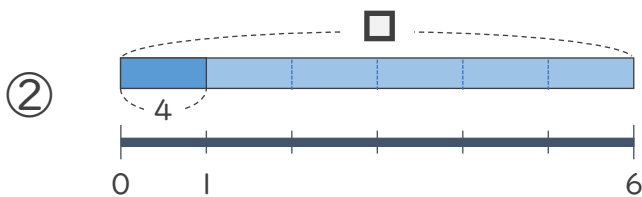
・ □ にあてはまる数をもとめましょう。



$$49 \div \square = 7$$

$$\square = 49 \div 7$$

$$\square = 7$$



$$\square \div 6 = 4$$

$$\square = 4 \times 6$$

$$\square = 24$$

