

小数の意味と表し方 10

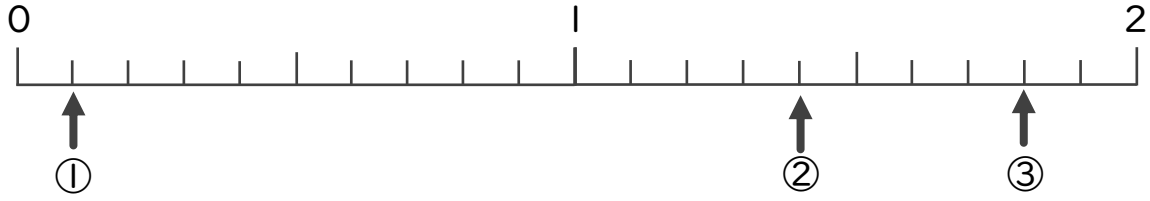
● 数直線の小数の読みとり



日にち： 月 日

名まえ _____

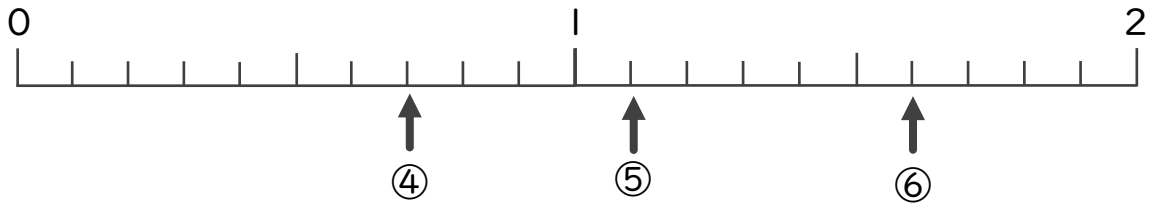
・ 下の数直線を見て ↑ のめもりが表す数を書きましょう。



① _____

② _____

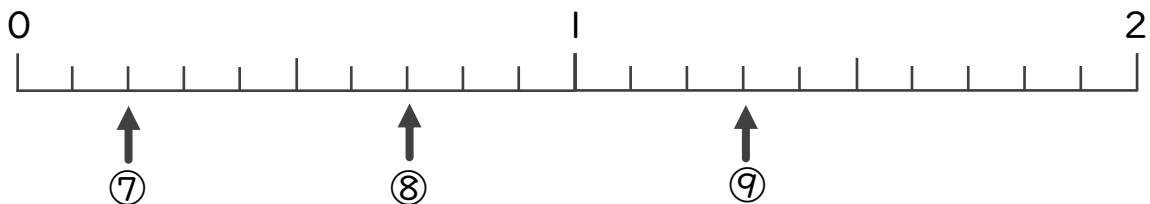
③ _____



④ _____

⑤ _____


⑥ _____



⑦ _____

⑧ _____

⑨ _____



小数の意味と表し方 10

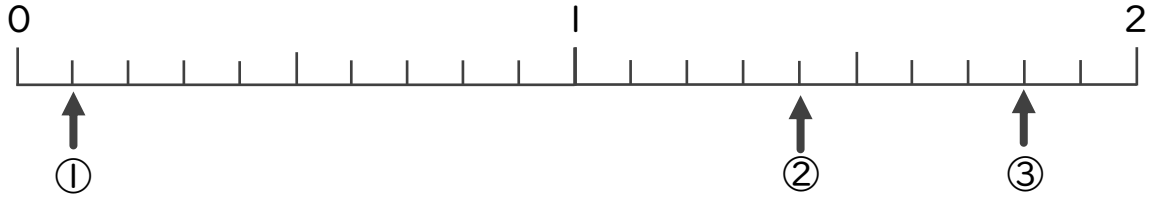
数直線の小数の読みとり



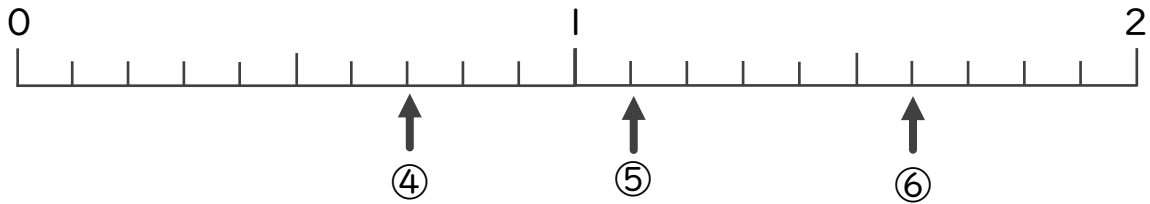
日にち： 月 日

名まえ _____

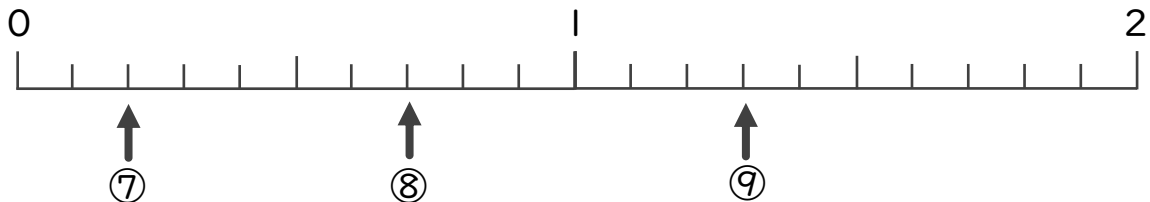
・ 下の数直線を見て ↑ のめもりが表す数を書きましょう。



① 0.1 ② 1.4 ③ 1.8



④ 0.7 ⑤ 1.1 ⑥ 1.6



⑦ 0.2 ⑧ 0.7 ⑨ 1.3