



時こくと時間の もとめかた 2

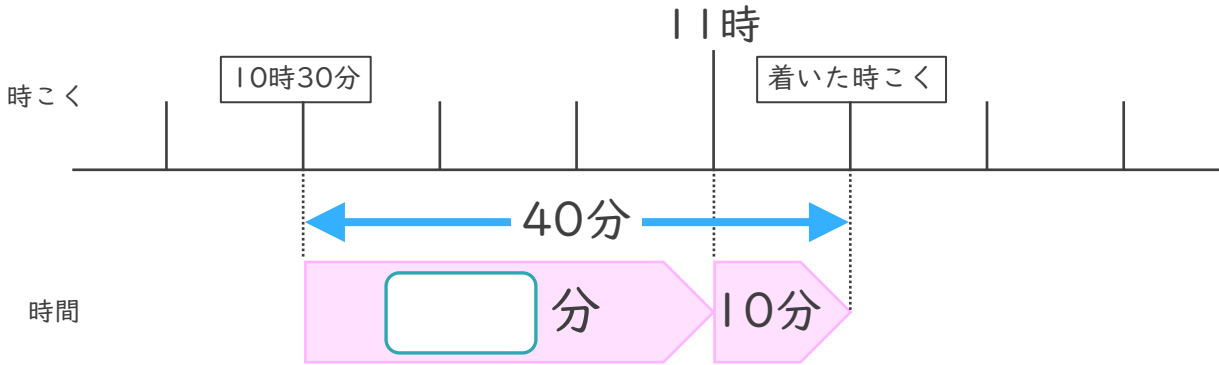


● 時こくをもとめる (数直線)

日にち： 月 日

名まえ _____

1 家を午前10時30分に出て、40分歩くと公民館に着きました。

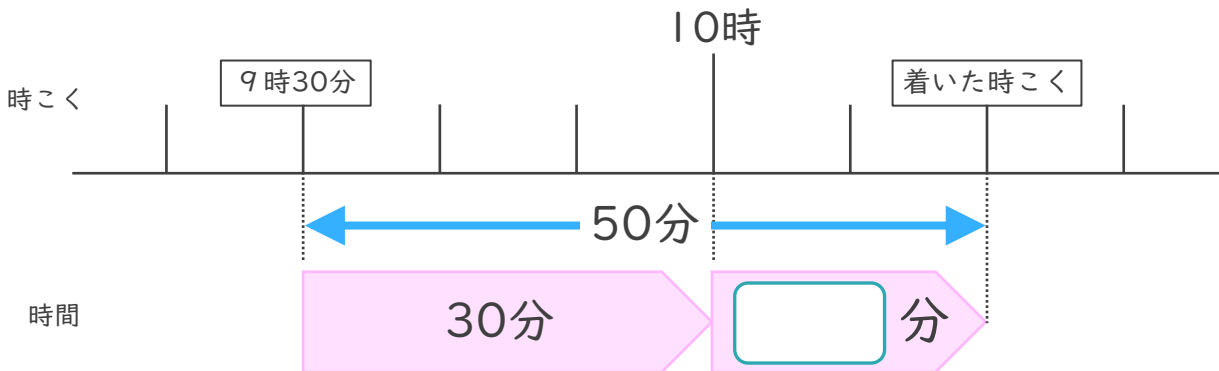


① □にあてはまる数を書きましょう。

② 公民館に着いた時こくは何時何分ですか。

答え ()

2 家を午前9時30分に出て、50分歩くと公園に着きました。



① □にあてはまる数を書きましょう。

② 公園に着いた時こくは何時何分ですか。

答え ()





時こくと時間の もとめかた 2

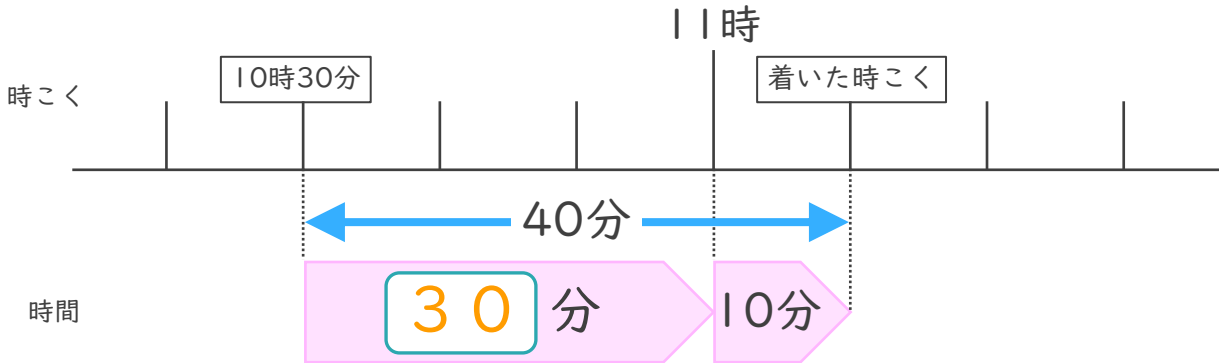
● 時こくをもとめる (数直線)



日にち： 月 日

名まえ _____

1 家を午前10時30分に出て、40分歩くと公民館に着きました。

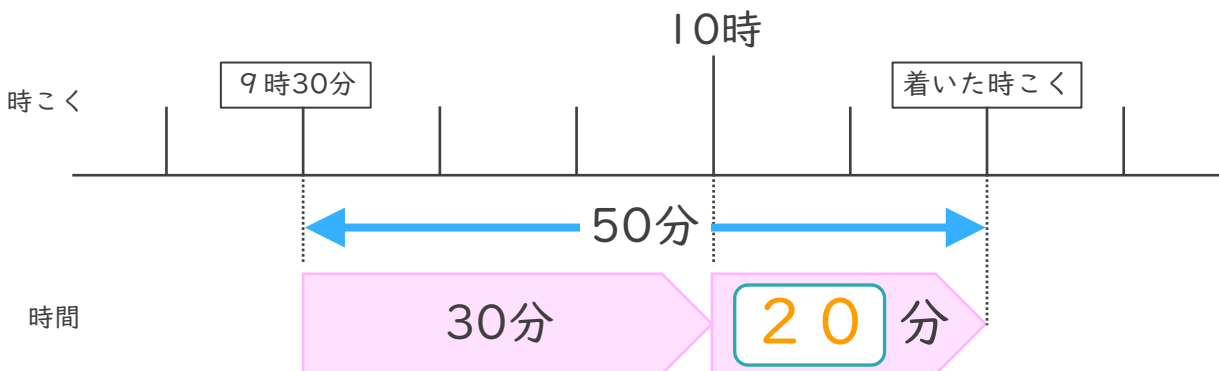


① にあてはまる数を書きましょう。

② 公民館に着いた時こくは何時何分ですか。

答え (11時10分)

2 家を午前9時30分に出て、50分歩くと公園に着きました。



① にあてはまる数を書きましょう。

② 公園に着いた時こくは何時何分ですか。

答え (10時20分)

