



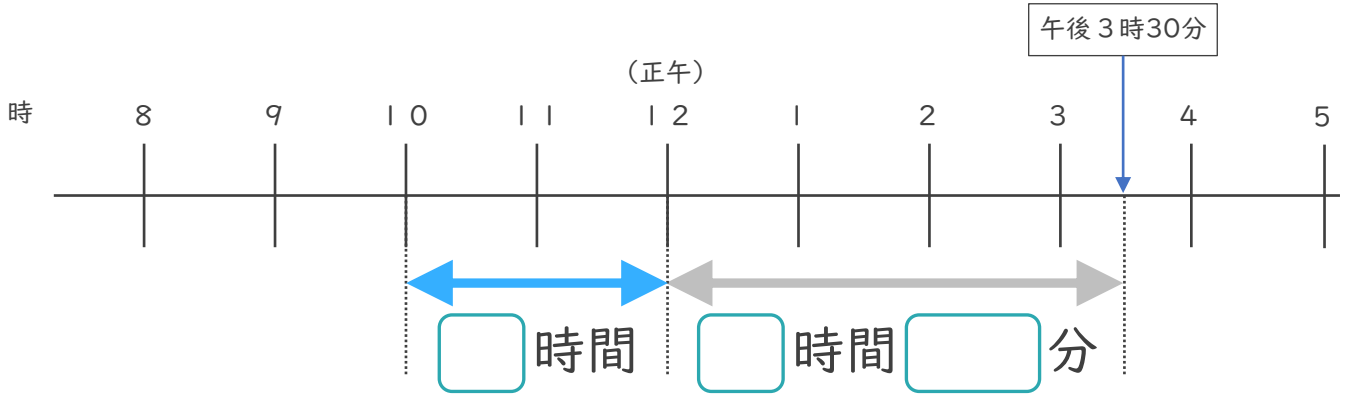
時こくと時間の
もとめかた 8 9

● 正午をはさむ計算

日にち： 月 日

名まえ _____

1 午前10時から午後3時30分までの時間をもとめます。

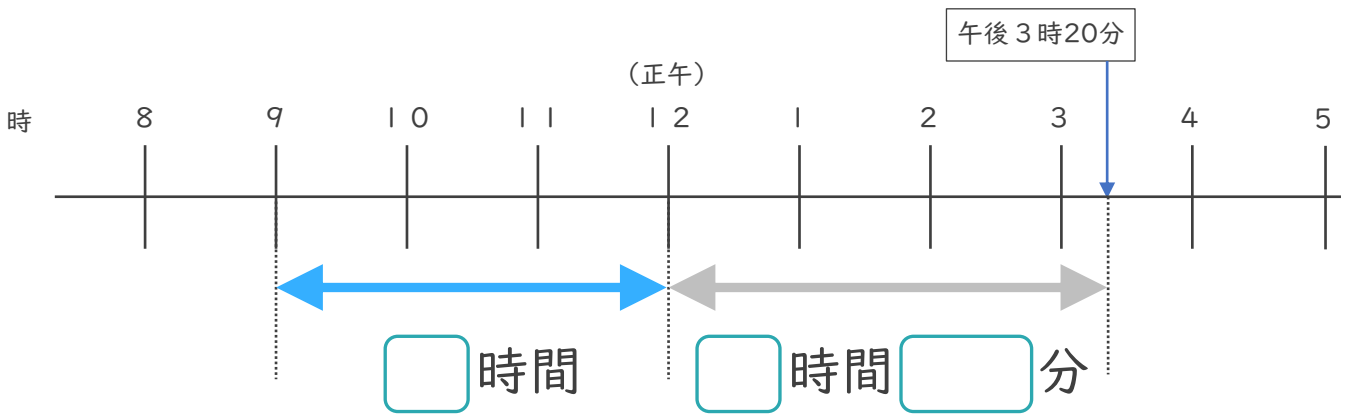


① □にあてはまる数を書きましょう。

② 午前10時から午後3時30分までの時間は何時間何分ですか。

答え ()

2 午前9時から午後3時20分までの時間をもとめます。



① □にあてはまる数を書きましょう。

② 午前9時から午後3時20分までの時間は何時間何分ですか。

答え ()



時こくと時間の
もとめかた 8

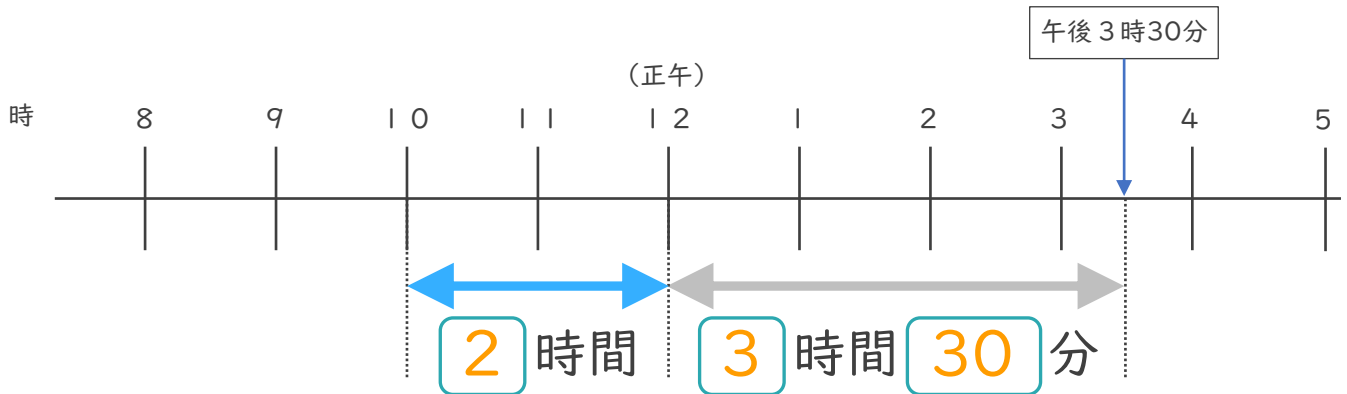


● 正午をはさむ計算

日にち： 月 日

名まえ _____

1 午前10時から午後3時30分までの時間をもとめます。

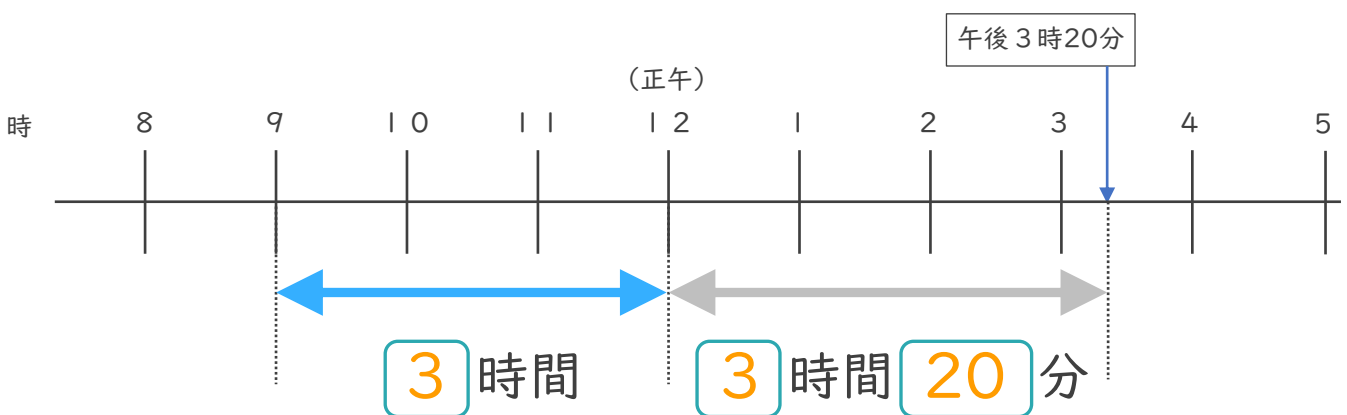


① にあてはまる数を書きましょう。

② 午前10時から午後3時30分までの時間は何時間何分ですか。

答え (5 時間 3 0 分)

2 午前9時から午後3時20分までの時間をもとめます。



① にあてはまる数を書きましょう。

② 午前9時から午後3時20分までの時間は何時間何分ですか。

答え (6 時間 2 0 分)

