



円と球 10

● 球の半径や直径の長さ

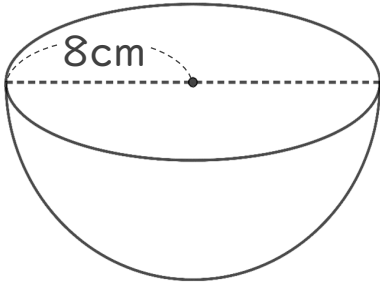


日にち： 月 日

名まえ _____

・ 次の球の半径や直径は何cmですか。

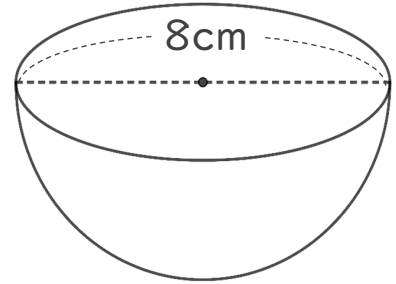
① 直径は何cmですか。



式：

答え： _____

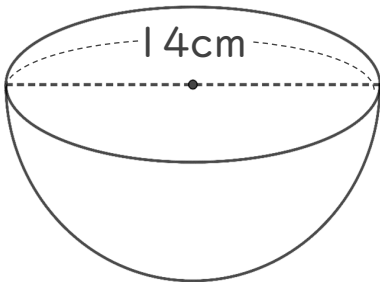
③ 半径は何cmですか。



式：

答え： _____

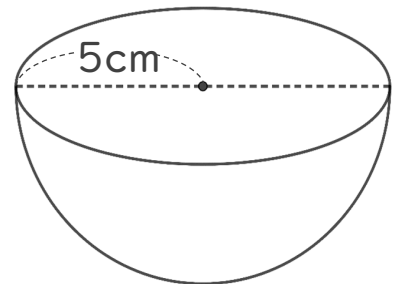
② 半径は何cmですか。



式：

答え： _____

④ 直径は何cmですか。



式：

答え： _____



円と球 10

● 球の半径や直径の長さ

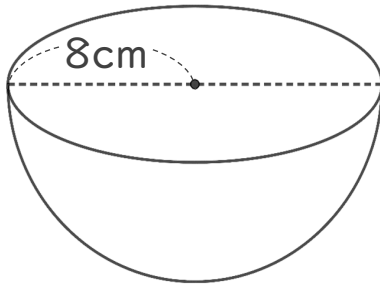


日にち： 月 日

名まえ _____

・ 次の球の半径や直径は何cmですか。

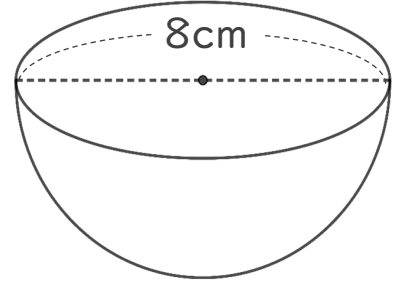
① 直径は何cmですか。



式： $8 \times 2 = 16$

答え：16 cm

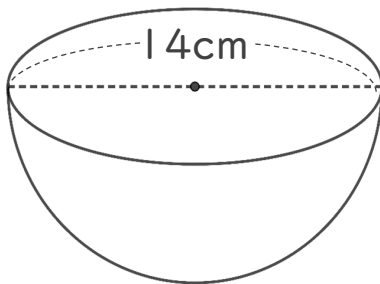
③ 半径は何cmですか。



式： $8 \div 2 = 4$

答え：4 cm

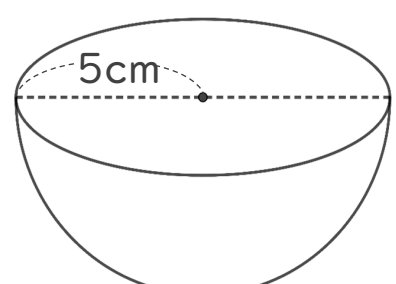
② 半径は何cmですか。



式： $14 \div 2 = 7$

答え：7 cm

④ 直径は何cmですか。



式： $5 \times 2 = 10$

答え：10 cm