



長いものの長さの はかり方と表し方 3

● 長さをはかる道具



日にち： 月 日

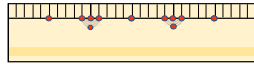
名まえ _____

・ 次の長さをはかります。①、②、③ のどれを使いますか。

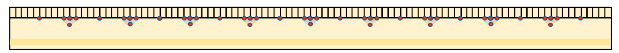
① まきじゃく



② 30cmものさし



③ 1mものさし



① 教室のたての長さ

答え ()

② はがきのたての長さ

答え ()

③ ドラムかんのまわりの長さ

答え ()

④ つくえの横の長さ

答え ()





長いものの長さの はかり方と表し方 3

● 長さをはかる道具



日にち： 月 日

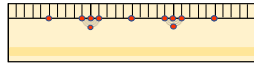
名まえ _____

・ 次の長さをはかります。①、②、③ のどれを使いますか。

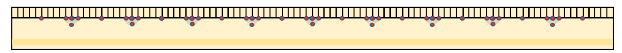
① まきじゃく



② 30cmものさし



③ 1mものさし



① 教室のたての長さ

答え (①)

② はがきのたての長さ

答え (②)

③ ドラムかんのまわりの長さ

答え (①)

④ つくえの横の長さ

答え (③)

