



分数 8

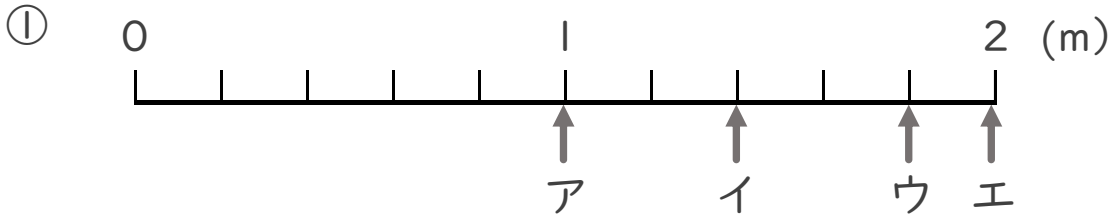
1より大きい分数を数直線に表す



日にち： 月 日

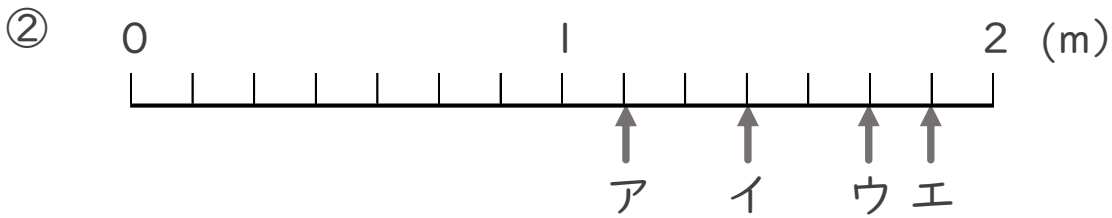
名まえ _____

ア～エのめもりが表す長さは、それぞれ何mですか。



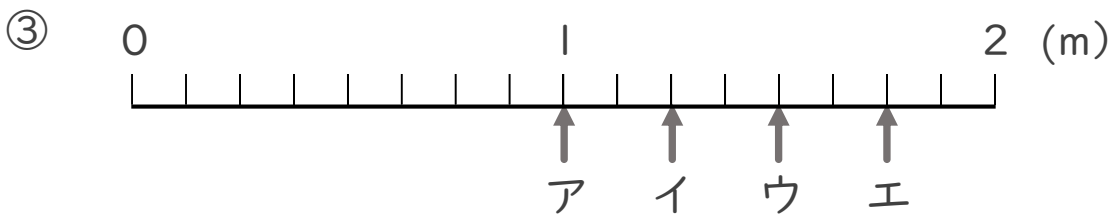
答え ア イ ウ エ

_____ m _____ m _____ m _____ m



答え ア イ ウ エ

_____ m _____ m _____ m _____ m



答え ア イ ウ エ

_____ m _____ m _____ m _____ m



分数 8

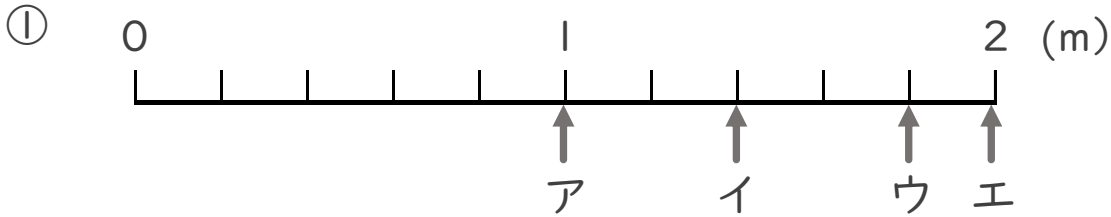
● 1より大きい分数を
数直線に表す



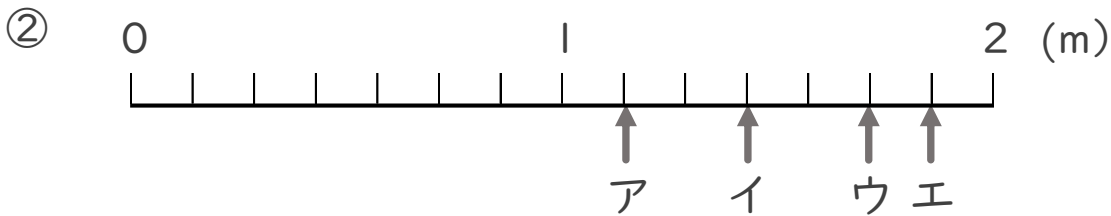
日にち： 月 日

名まえ _____

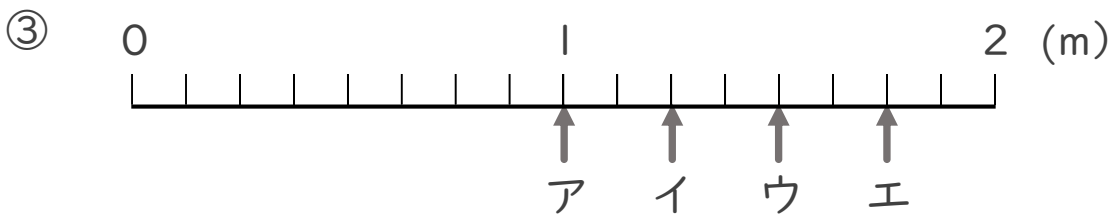
・ ア～エのめもりが表す長さは、それぞれ何mですか。



答え ア 1 m イ $\frac{7}{5}$ m ウ $\frac{9}{5}$ m エ 2 m



答え ア $\frac{8}{7}$ m イ $\frac{10}{7}$ m ウ $\frac{12}{7}$ m エ $\frac{13}{7}$ m



答え ア 1 m イ $\frac{10}{8}$ m ウ $\frac{12}{8}$ m エ $\frac{14}{8}$ m