



# 分数 7

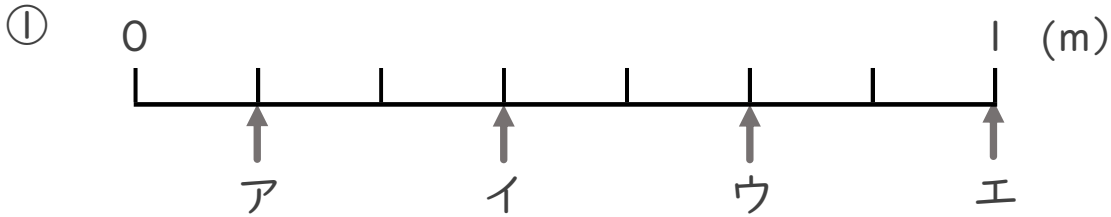
● 1より小さい分数を  
数直線に表す



日にち： 月 日

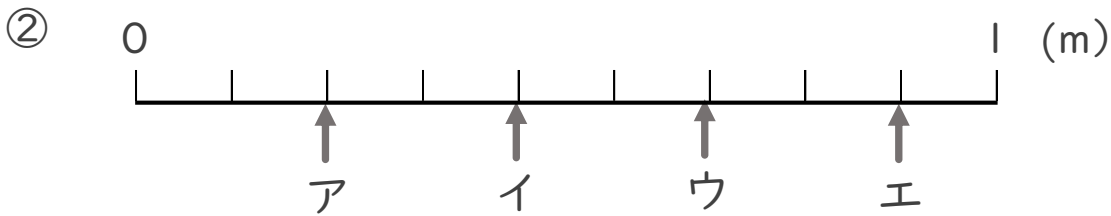
名まえ \_\_\_\_\_

・ ア～エのめもりが表す長さは、それぞれ何mですか。



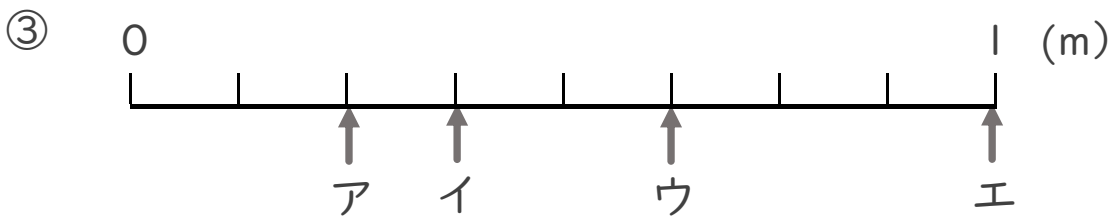
答え    ア                      イ                      ウ                      エ

                  \_\_\_\_\_ m    \_\_\_\_\_ m    \_\_\_\_\_ m    \_\_\_\_\_ m



答え    ア                      イ                      ウ                      エ

                  \_\_\_\_\_ m    \_\_\_\_\_ m    \_\_\_\_\_ m    \_\_\_\_\_ m



答え    ア                      イ                      ウ                      エ

                  \_\_\_\_\_ m    \_\_\_\_\_ m    \_\_\_\_\_ m    \_\_\_\_\_ m



# 分数 7

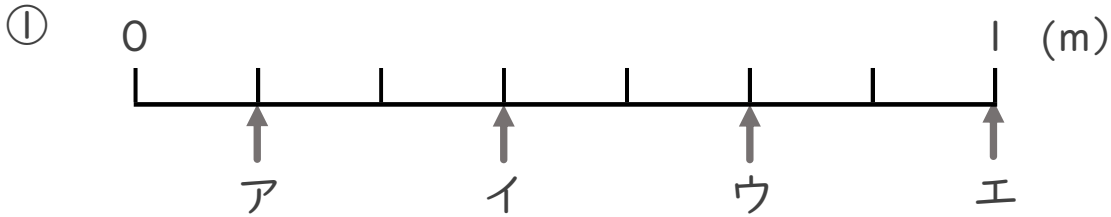
1より小さい分数を  
数直線に表す



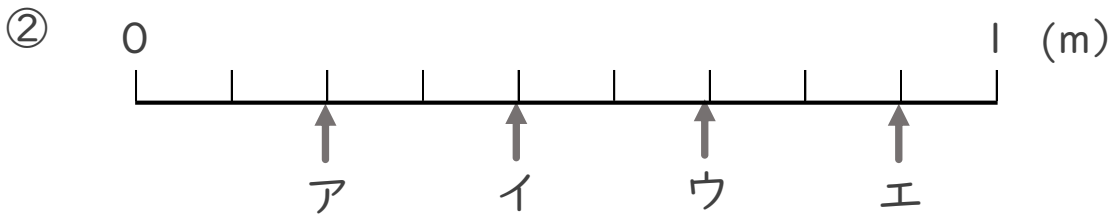
日にち： 月 日

名まえ \_\_\_\_\_

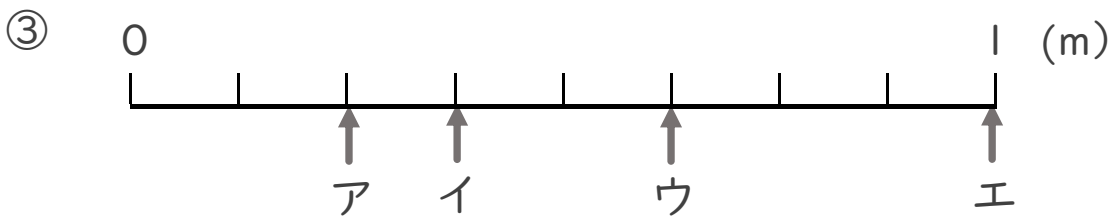
・ ア～エのめもりが表す長さは、それぞれ何mですか。



答え ア  $\frac{1}{7}$  m イ  $\frac{3}{7}$  m ウ  $\frac{5}{7}$  m エ 1 m



答え ア  $\frac{2}{9}$  m イ  $\frac{4}{9}$  m ウ  $\frac{6}{9}$  m エ  $\frac{8}{9}$  m



答え ア  $\frac{2}{8}$  m イ  $\frac{3}{8}$  m ウ  $\frac{5}{8}$  m エ 1 m