



大きい数のしくみ 9

● 1万の位の数直線

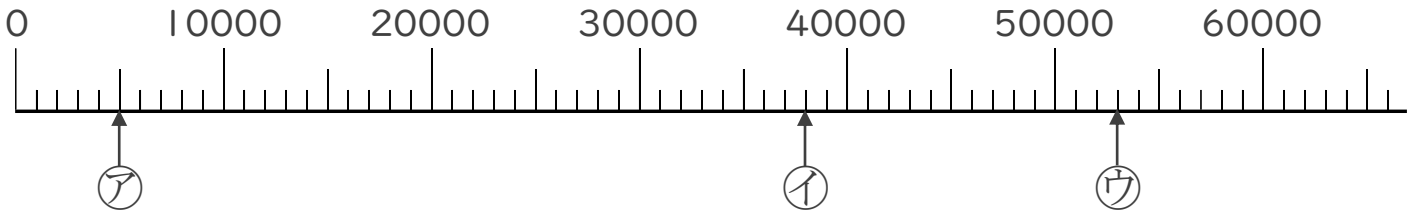


日にち： 月 日

名まえ _____

1 ㉠、㉡、㉢のめもりが表している数を〔 〕に書きましょう。

①

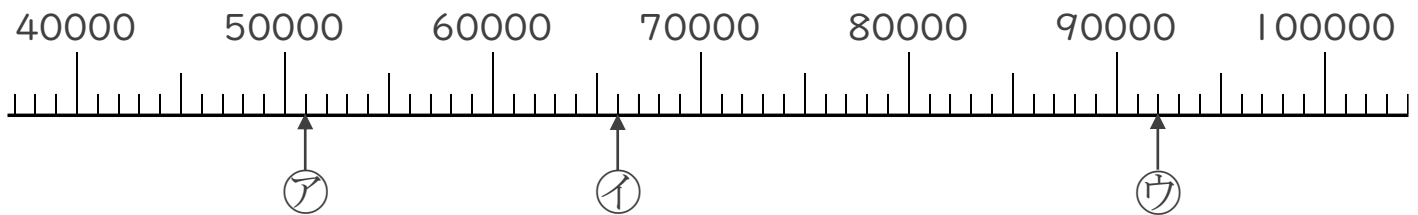


〔 〕

〔 〕

〔 〕

②



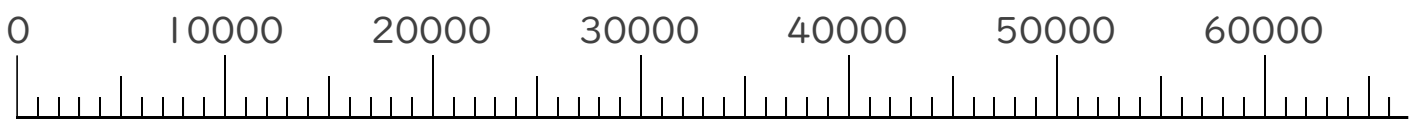
〔 〕

〔 〕

〔 〕

2 次の数を表すめもりに、↑を書きましょう。

① 1000 ② 24000





大きい数のしくみ 9

● 1万の位の数直線

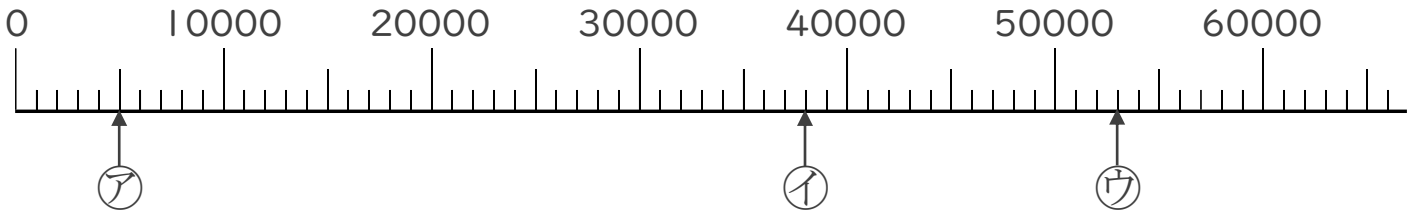


日にち： 月 日

名まえ _____

1 ㉠、㉡、㉢のめもりが表している数を〔 〕に書きましょう。

①

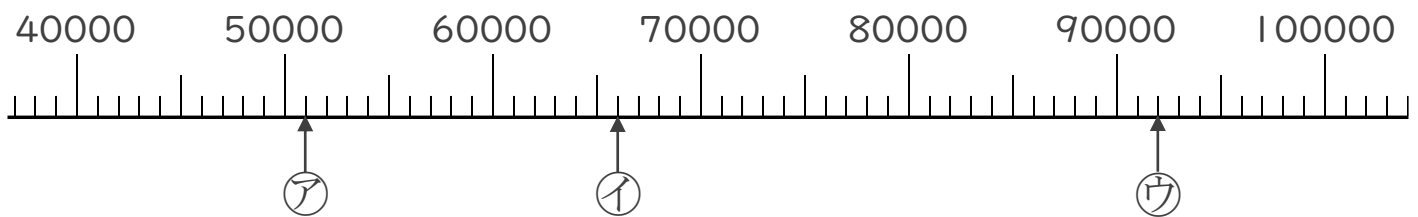


〔 5000 〕

〔 38000 〕

〔 53000 〕

②



〔 51000 〕

〔 66000 〕

〔 92000 〕

2 次の数を表すめもりに、↑を書きましょう。

① 1000 ② 24000

