



かけ算の筆算 1

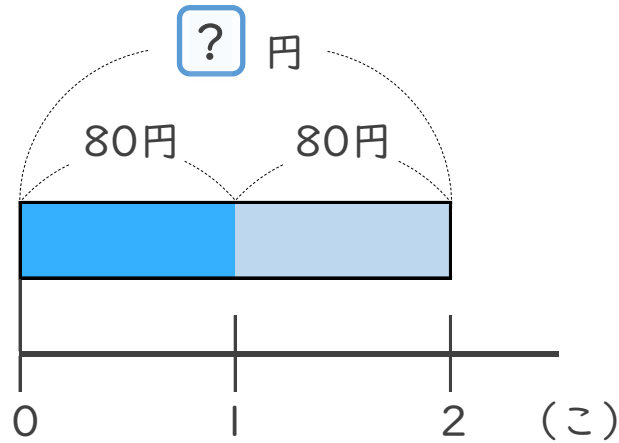
● 30 円のガムを
4 こ買った代金



日にち： 月 日

名まえ _____

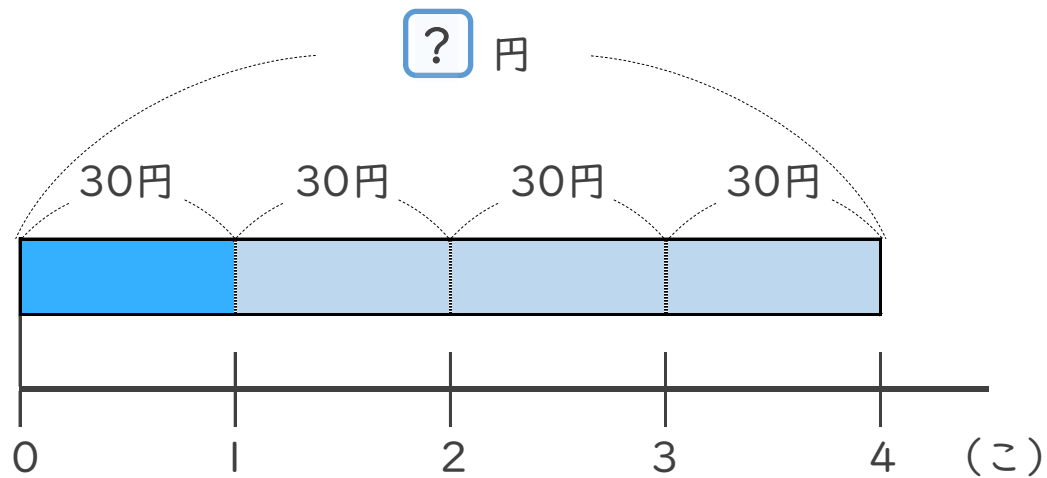
1 | 1こ80円のチョコを、2こ買います。代金はいくらですか。



式：

答え： _____

2 | 1こ30円のガムを、4こ買います。代金はいくらですか。



式：

答え： _____



かけ算の筆算 ①

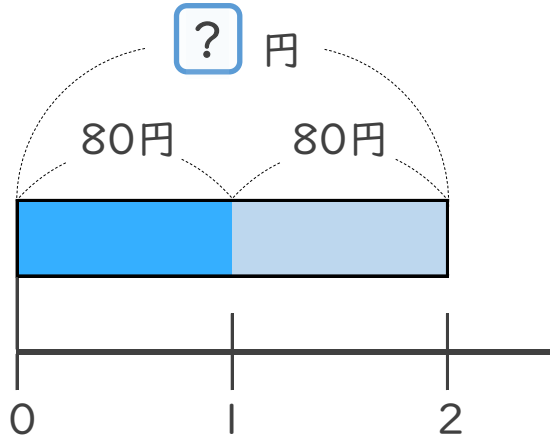
● 30 円のガムを
4 こ買った代金



日にち： 月 日

名まえ _____

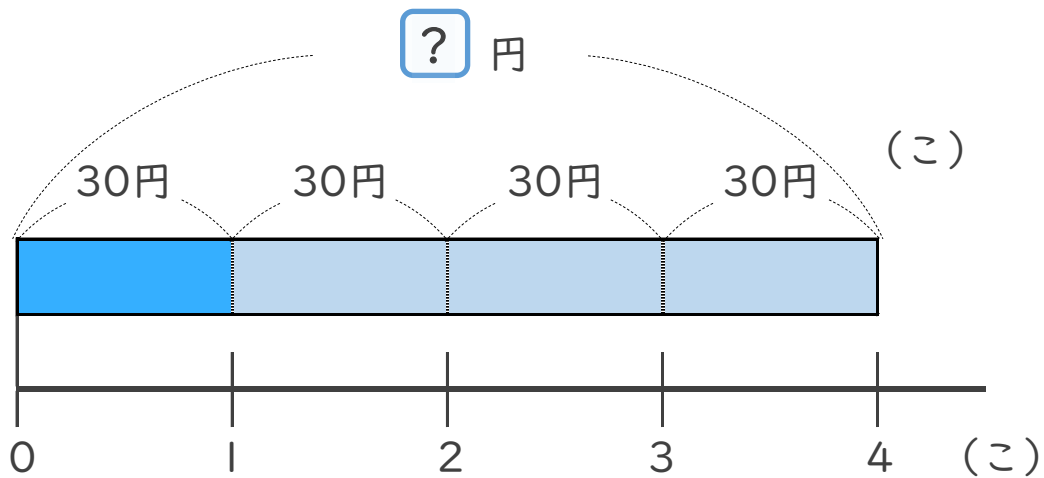
1 | 1 こ 80 円のチョコを、2 こ買います。代金はいくらですか。



式： $80 \times 2 = 160$

答え： 160 円

2 | 1 こ 30 円のガムを、4 こ買います。代金はいくらですか。



式： $30 \times 4 = 120$

答え： 120 円

