

小数の意味と表し方2

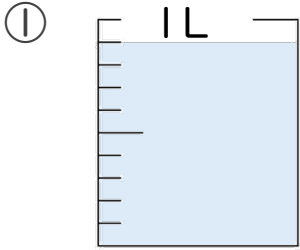
◎ 水のかさ (真小数)



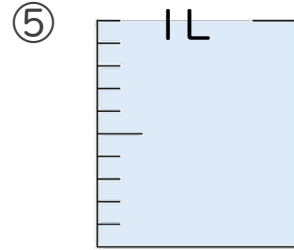
日にち： 月 日

名まえ _____

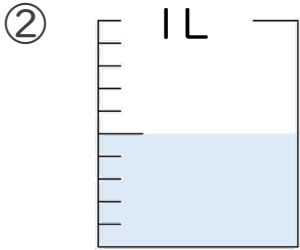
・ 水のかさは、何Lでしょう。(うすい字はなぞりましょう。)



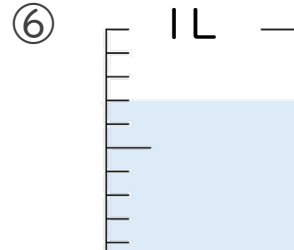
答え 0.9 L



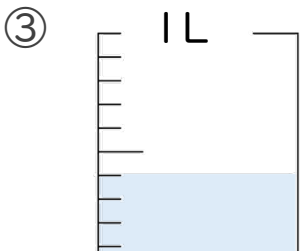
答え _____ L



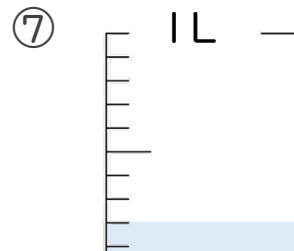
答え _____ L



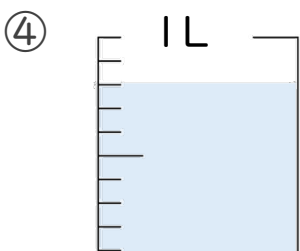
答え _____ L



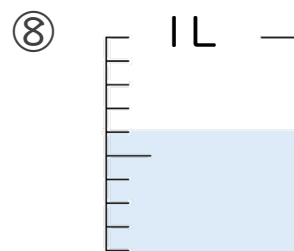
答え _____ L



答え _____ L



答え _____ L



答え _____ L





小数の意味と表し方2

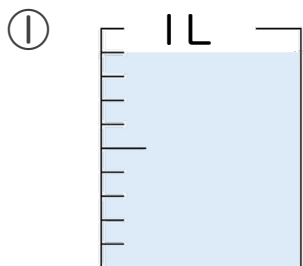
◎ 水のかさ (真小数)



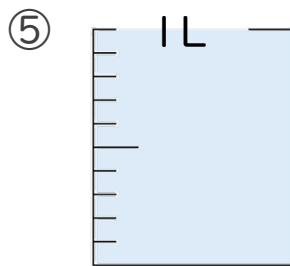
日にち： 月 日

名まえ _____

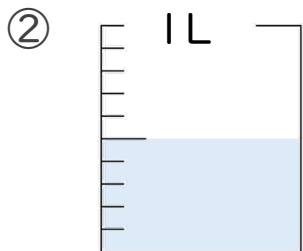
・ 水のかさは、何Lでしょう。(うすい字はなぞりましょう。)



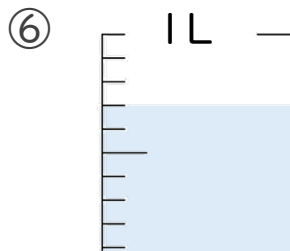
答え 0.9 L



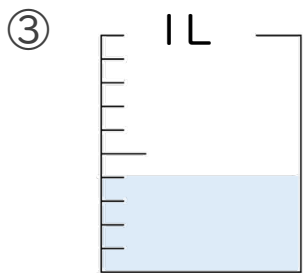
答え 1 L



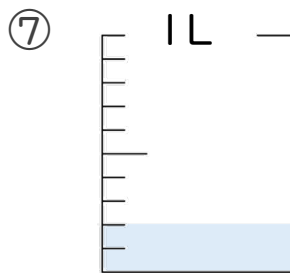
答え 0.5 L



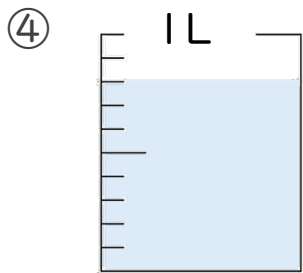
答え 0.7 L



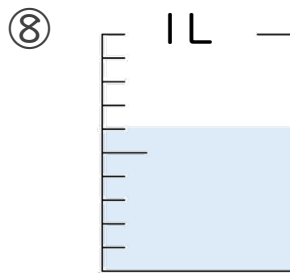
答え 0.4 L



答え 0.2 L



答え 0.8 L



答え 0.6 L

