



# がい数の 使い方と表し方

● 数直線と四捨五入のはんい

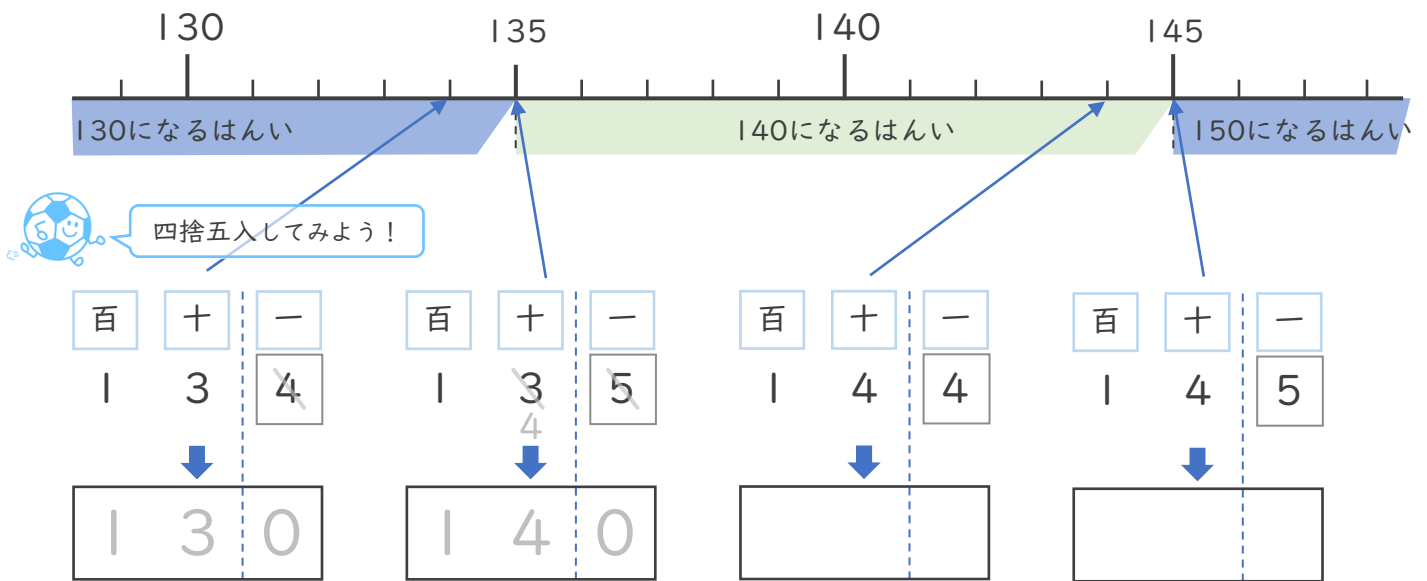


日にち：            月            日

名まえ \_\_\_\_\_

・ 次の問いに答えましょう。（うすい字はなぞりましょう。）

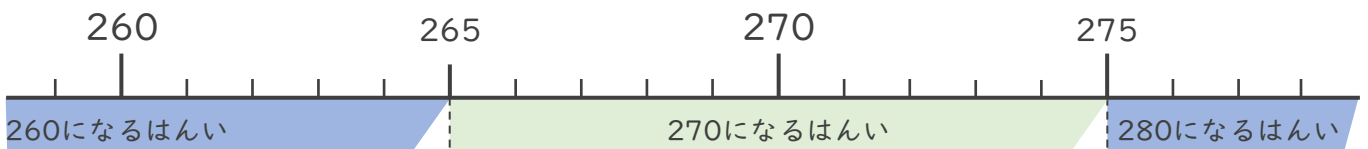
- ① 一の位で四捨五入して140になる整数のうち、いちばん小さい数といちばん大きい数はいくつですか。



いちばん小さい数 ( 135 )

いちばん大きい数 ( 144 )

- ② 一の位で四捨五入して270になる整数のうち、いちばん小さい数といちばん大きい数はいくつですか。



いちばん小さい数 (            )

いちばん大きい数 (            )



# がい数の 使い方と表し方 ②

● 数直線と四捨五入のはんい

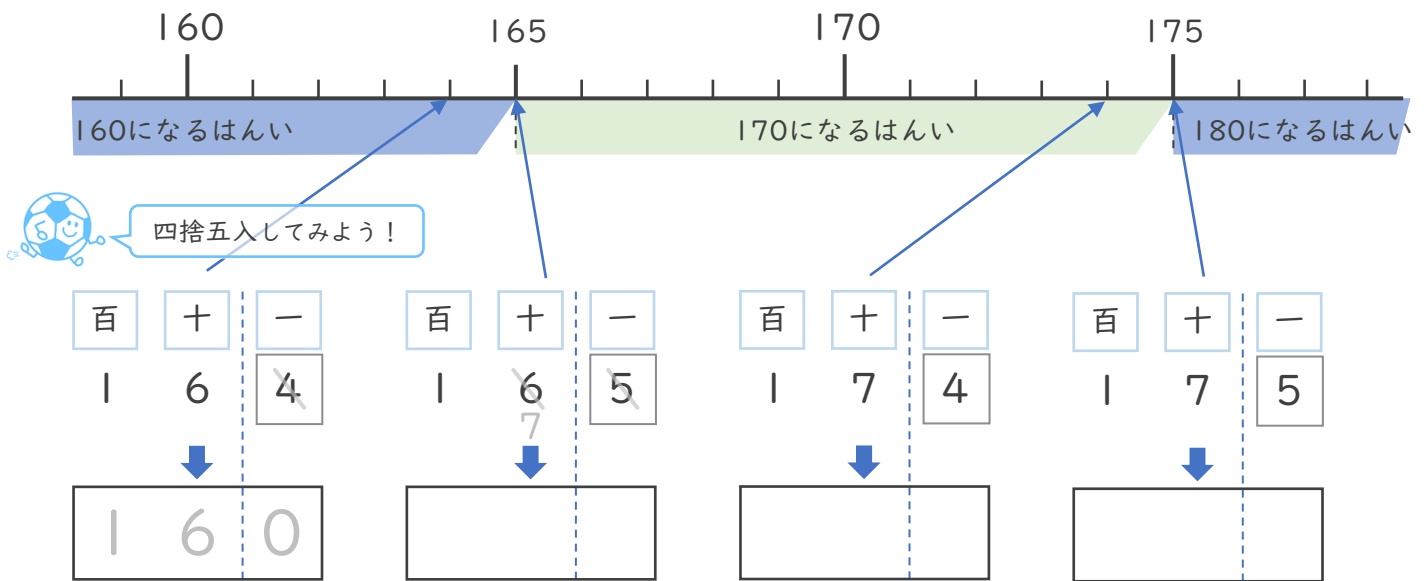


日にち：            月            日

名まえ \_\_\_\_\_

・ 次の問いに答えましょう。（うすい字はなぞりましょう。）

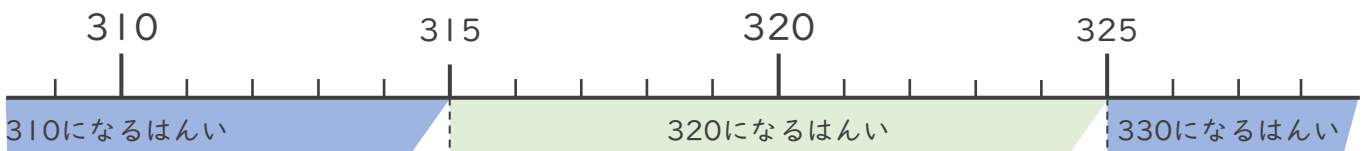
- ① 一の位で四捨五入して170になる整数のうち、いちばん小さい数といちばん大きい数はいくつですか。



いちばん小さい数 (                      )

いちばん大きい数 (                      )

- ② 一の位で四捨五入して320になる整数のうち、いちばん小さい数といちばん大きい数はいくつですか。



いちばん小さい数 (                      )

いちばん大きい数 (                      )



# がい数の 使い方と表し方 ③

● 数直線と四捨五入のはんい

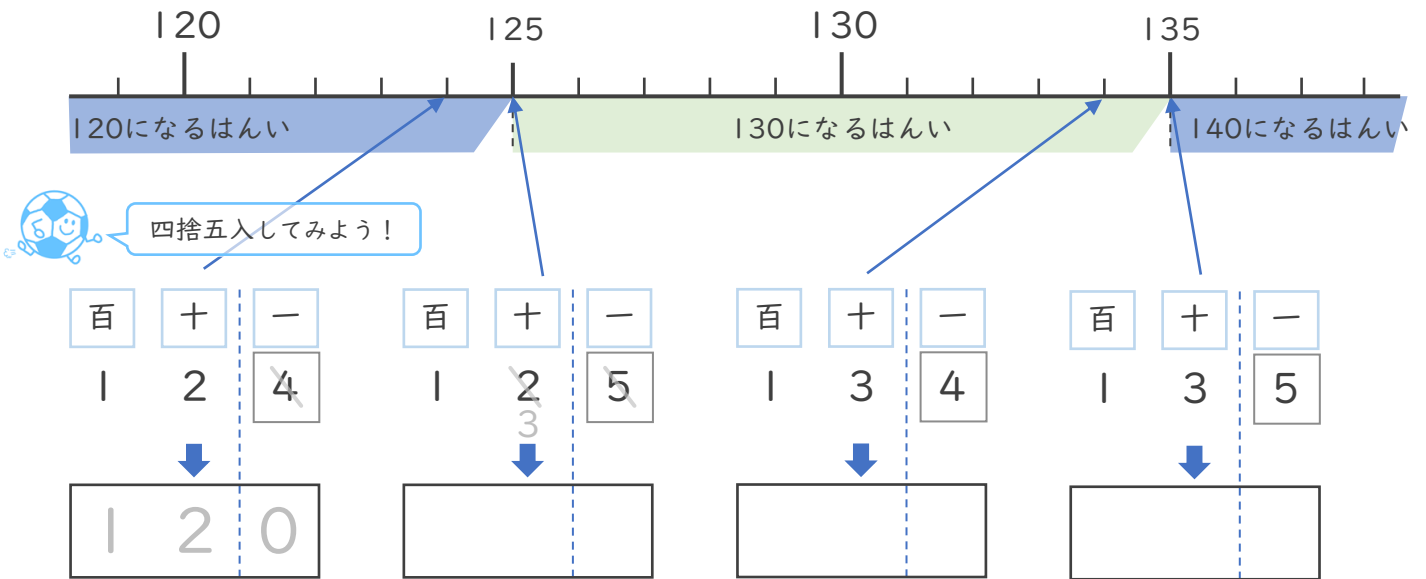


日にち：            月            日

名まえ \_\_\_\_\_

・ 次の問いに答えましょう。（うすい字はなぞりましょう。）

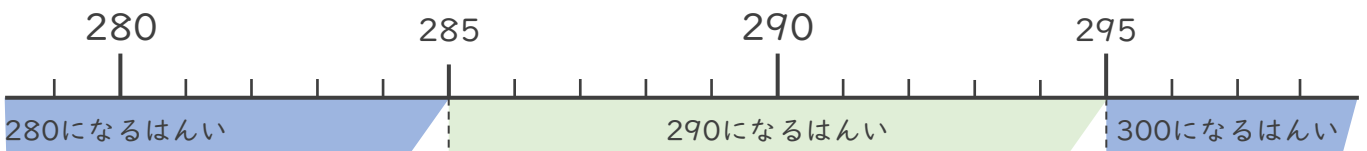
- ① 一の位で四捨五入して130になる整数のうち、いちばん小さい数といちばん大きい数はいくつですか。



いちばん小さい数 (                    )

いちばん大きい数 (                    )

- ② 一の位で四捨五入して290になる整数のうち、いちばん小さい数といちばん大きい数はいくつですか。



いちばん小さい数 (                    )

いちばん大きい数 (                    )





# がい数の 使い方と表し方 ④

● 数直線と四捨五入のはんい

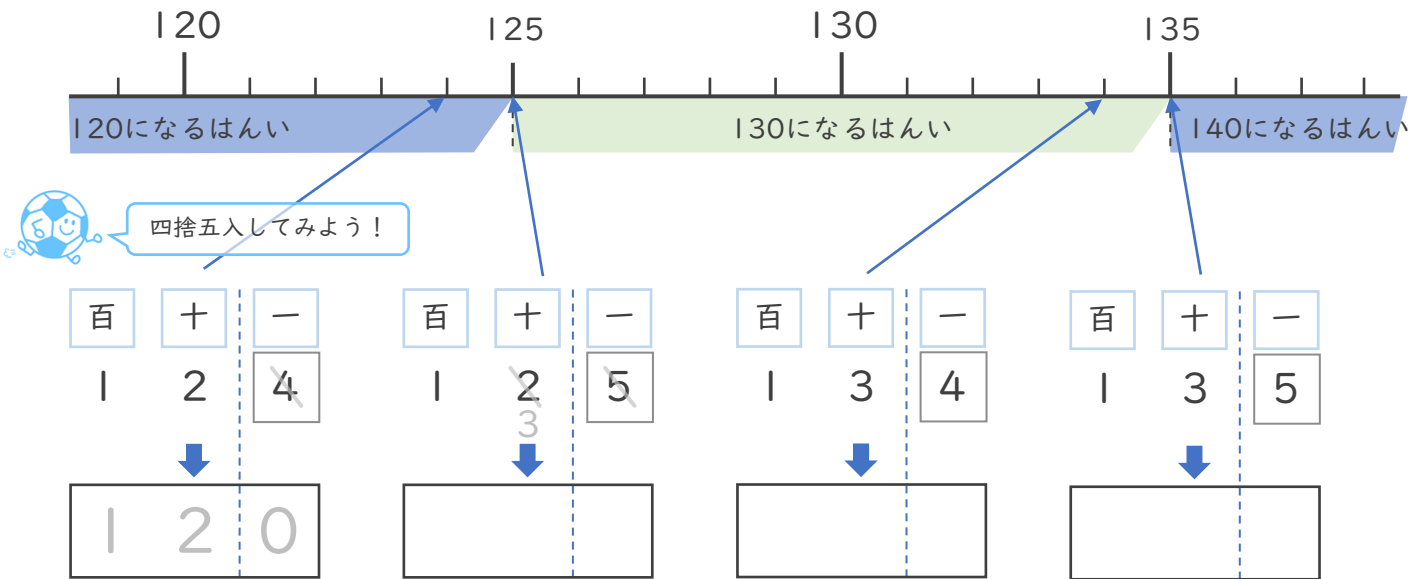


日にち： 月 日

名まえ \_\_\_\_\_

・ 次の問いに答えましょう。（うすい字はなぞりましょう。）

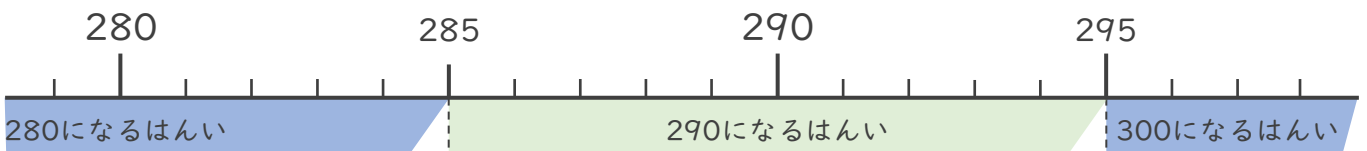
- ① 一の位で四捨五入して130になる整数のうち、いちばん小さい数といちばん大きい数はいくつですか。



いちばん小さい数 ( )

いちばん大きい数 ( )

- ② 一の位で四捨五入して290になる整数のうち、いちばん小さい数といちばん大きい数はいくつですか。



いちばん小さい数 ( )

いちばん大きい数 ( )





# がい数の 使い方と表し方 〇〇

● 数直線と四捨五入のはんい

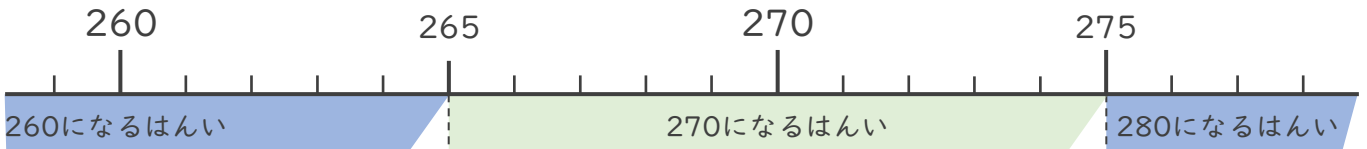


日にち：            月            日

名まえ \_\_\_\_\_

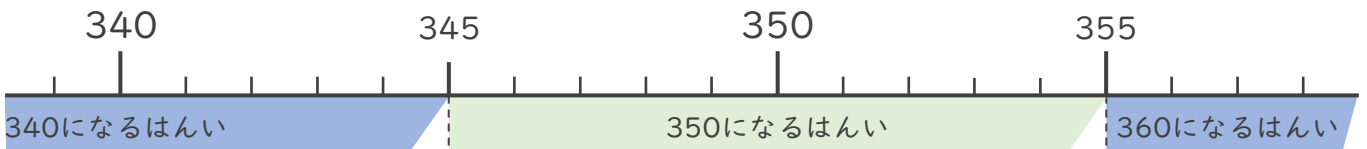
・ 次の問いに答えましょう。

- ① 一の位で四捨五入して270になる整数のうち、いちばん小さい数といちばん大きい数はいくつですか。



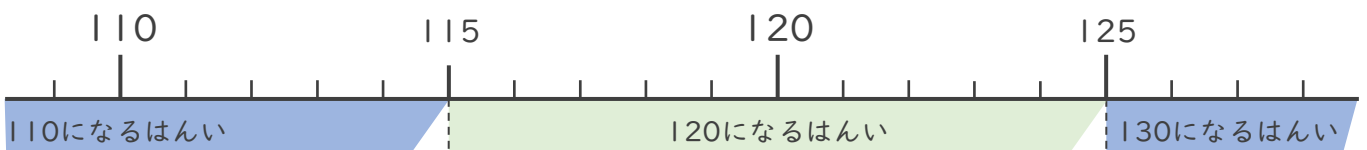
いちばん小さい数 (                      )      いちばん大きい数 (                      )

- ② 一の位で四捨五入して350になる整数のうち、いちばん小さい数といちばん大きい数はいくつですか。



いちばん小さい数 (                      )      いちばん大きい数 (                      )

- ③ 一の位で四捨五入して120になる整数のうち、いちばん小さい数といちばん大きい数はいくつですか。



いちばん小さい数 (                      )      いちばん大きい数 (                      )





# がい数の 使い方と表し方 ①①

● 数直線と四捨五入のはんい

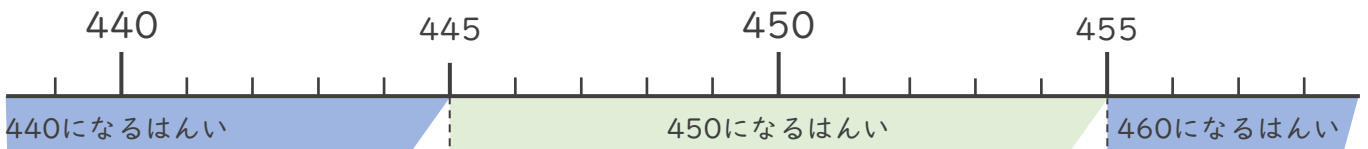


日にち：            月            日

名まえ \_\_\_\_\_

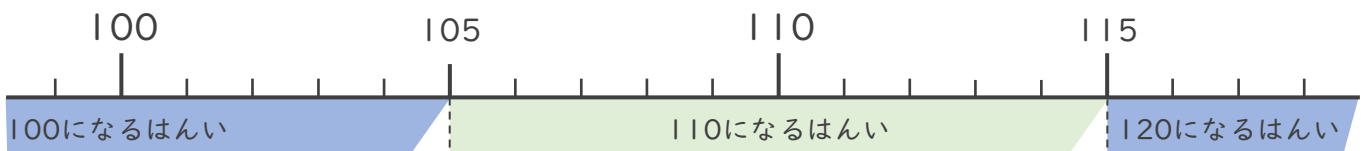
・ 次の問いに答えましょう。

- ① 一の位で四捨五入して450になる整数のうち、いちばん小さい数といちばん大きい数はいくつですか。



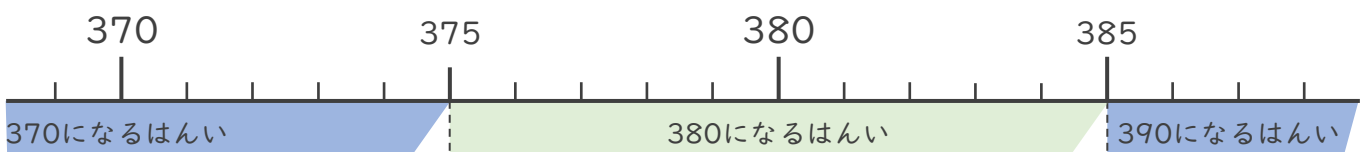
いちばん小さい数 (                      )      いちばん大きい数 (                      )

- ② 一の位で四捨五入して110になる整数のうち、いちばん小さい数といちばん大きい数はいくつですか。



いちばん小さい数 (                      )      いちばん大きい数 (                      )

- ③ 一の位で四捨五入して380になる整数のうち、いちばん小さい数といちばん大きい数はいくつですか。



いちばん小さい数 (                      )      いちばん大きい数 (                      )





# がい数の 使い方と表し方 ①①

● 数直線と四捨五入のはんい

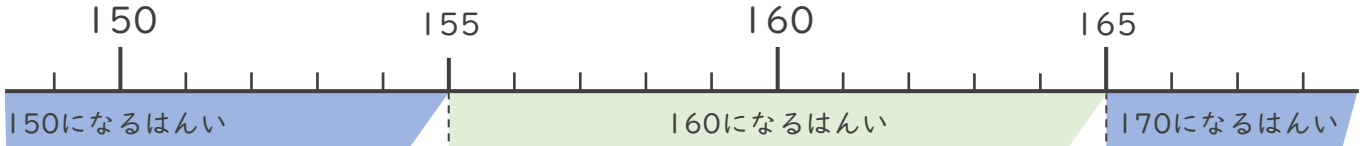


日にち：            月            日

名まえ \_\_\_\_\_

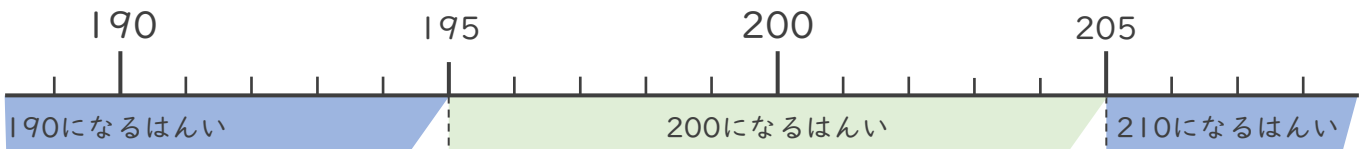
・ 次の問いに答えましょう。

- ① 一の位で四捨五入して160になる整数のうち、いちばん小さい数といちばん大きい数はいくつですか。



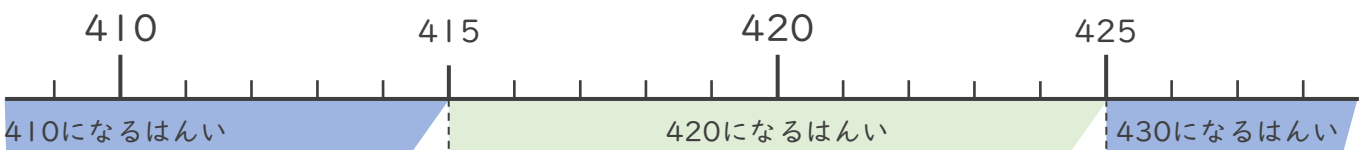
いちばん小さい数 (                      )      いちばん大きい数 (                      )

- ② 一の位で四捨五入して200になる整数のうち、いちばん小さい数といちばん大きい数はいくつですか。



いちばん小さい数 (                      )      いちばん大きい数 (                      )

- ③ 一の位で四捨五入して420になる整数のうち、いちばん小さい数といちばん大きい数はいくつですか。



いちばん小さい数 (                      )      いちばん大きい数 (                      )





# がい数の 使い方と表し方 〇〇

● 数直線と四捨五入のはんい

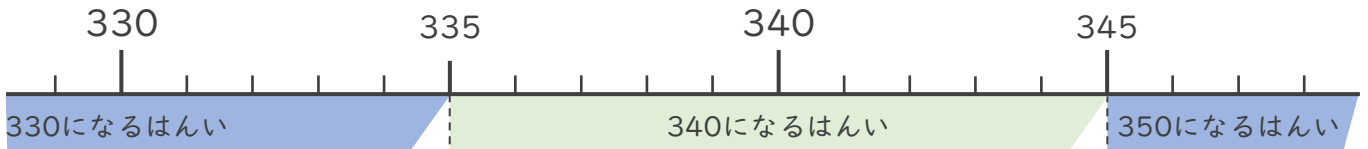


日にち： 月 日

名まえ \_\_\_\_\_

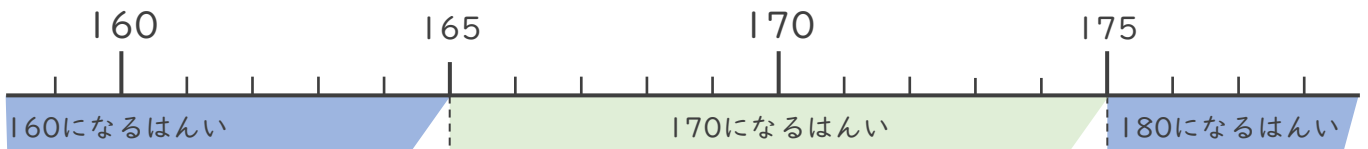
・ 次の問いに答えましょう。

- ① 一の位で四捨五入して340になる整数のうち、いちばん小さい数といちばん大きい数はいくつですか。



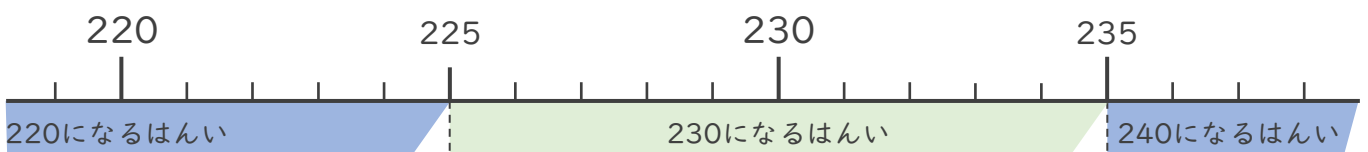
いちばん小さい数 (                      )      いちばん大きい数 (                      )

- ② 一の位で四捨五入して170になる整数のうち、いちばん小さい数といちばん大きい数はいくつですか。



いちばん小さい数 (                      )      いちばん大きい数 (                      )

- ③ 一の位で四捨五入して230になる整数のうち、いちばん小さい数といちばん大きい数はいくつですか。



いちばん小さい数 (                      )      いちばん大きい数 (                      )







# がい数の 使い方と表し方 〇〇

● 数直線と四捨五入のはんい

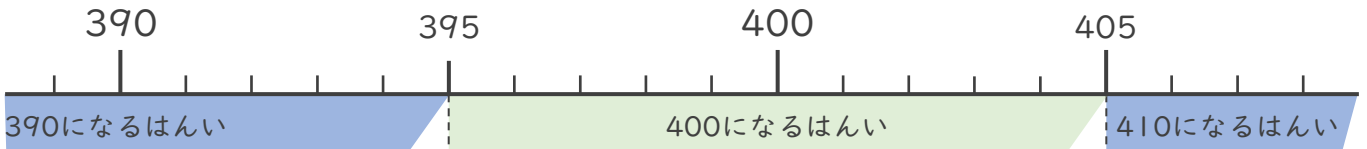


日にち： 月 日

名まえ \_\_\_\_\_

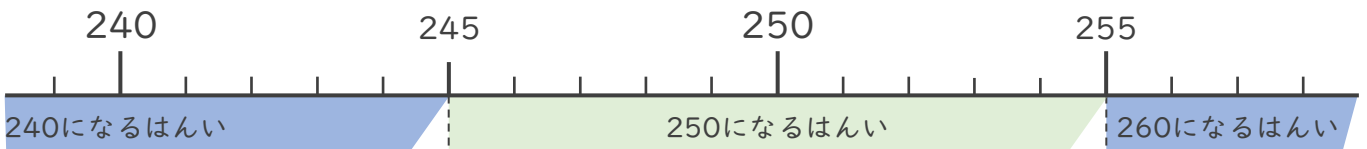
・ 次の問いに答えましょう。

- ① 一の位で四捨五入して400になる整数のうち、いちばん小さい数といちばん大きい数はいくつですか。



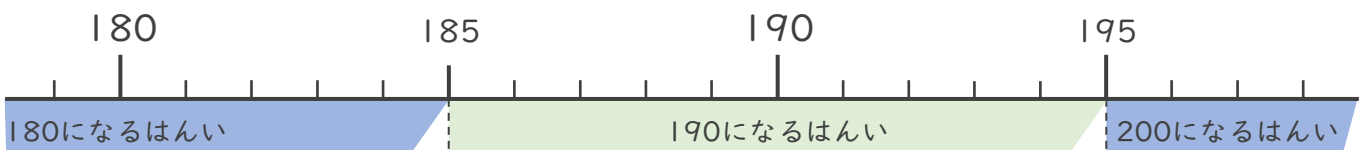
いちばん小さい数 (                      )      いちばん大きい数 (                      )

- ② 一の位で四捨五入して250になる整数のうち、いちばん小さい数といちばん大きい数はいくつですか。



いちばん小さい数 (                      )      いちばん大きい数 (                      )

- ③ 一の位で四捨五入して190になる整数のうち、いちばん小さい数といちばん大きい数はいくつですか。



いちばん小さい数 (                      )      いちばん大きい数 (                      )





# がい数の 使い方と表し方

● 数直線と四捨五入のはんい

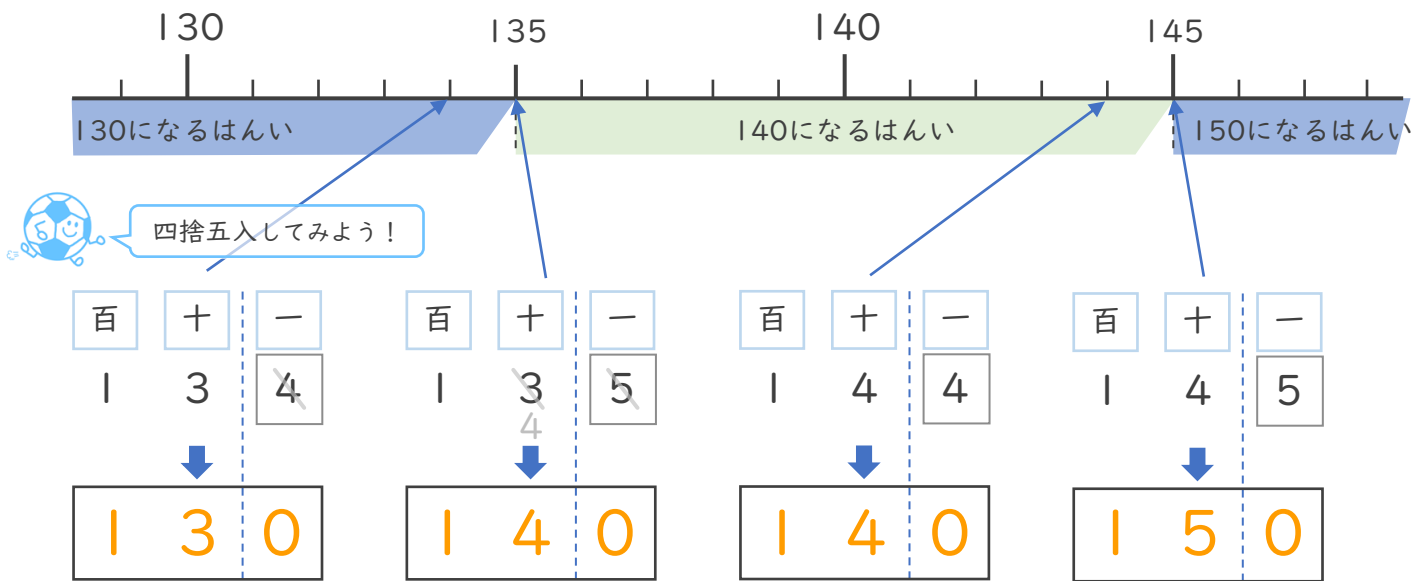


日にち：            月            日

名まえ \_\_\_\_\_

・ 次の問いに答えましょう。（うすい字はなぞりましょう。）

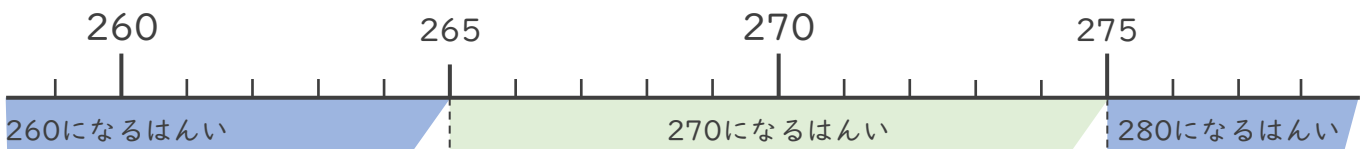
- ① 一の位で四捨五入して140になる整数のうち、いちばん小さい数といちばん大きい数はいくつですか。



いちばん小さい数 ( 135 )

いちばん大きい数 ( 144 )

- ② 一の位で四捨五入して270になる整数のうち、いちばん小さい数といちばん大きい数はいくつですか。



いちばん小さい数 ( 265 )

いちばん大きい数 ( 274 )





# がい数の 使い方と表し方 ②

● 数直線と四捨五入のはんい

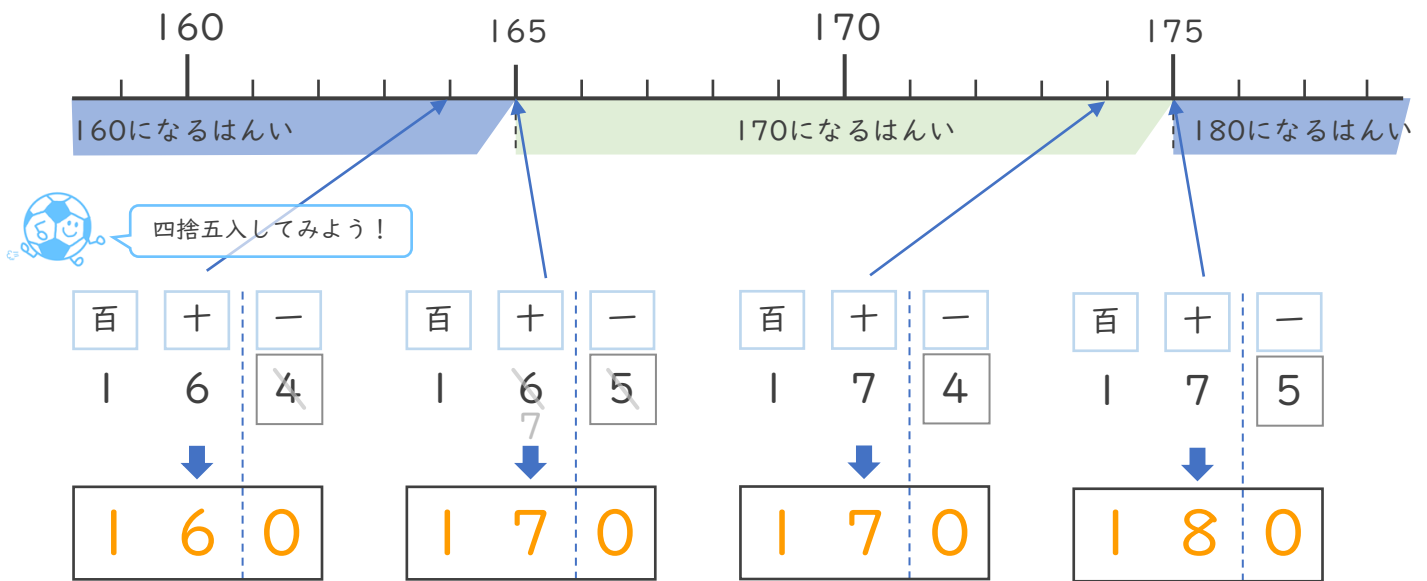


日にち： 月 日

名まえ \_\_\_\_\_

・ 次の問いに答えましょう。（うすい字はなぞりましょう。）

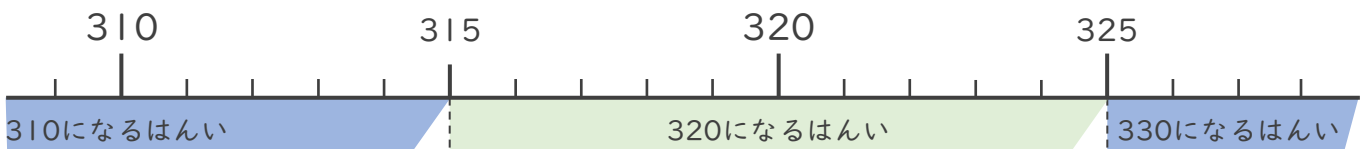
- ① 一の位で四捨五入して170になる整数のうち、いちばん小さい数といちばん大きい数はいくつですか。



いちばん小さい数 ( 165 )

いちばん大きい数 ( 174 )

- ② 一の位で四捨五入して320になる整数のうち、いちばん小さい数といちばん大きい数はいくつですか。



いちばん小さい数 ( 315 )

いちばん大きい数 ( 324 )





# がい数の 使い方と表し方 ③

● 数直線と四捨五入のはんい

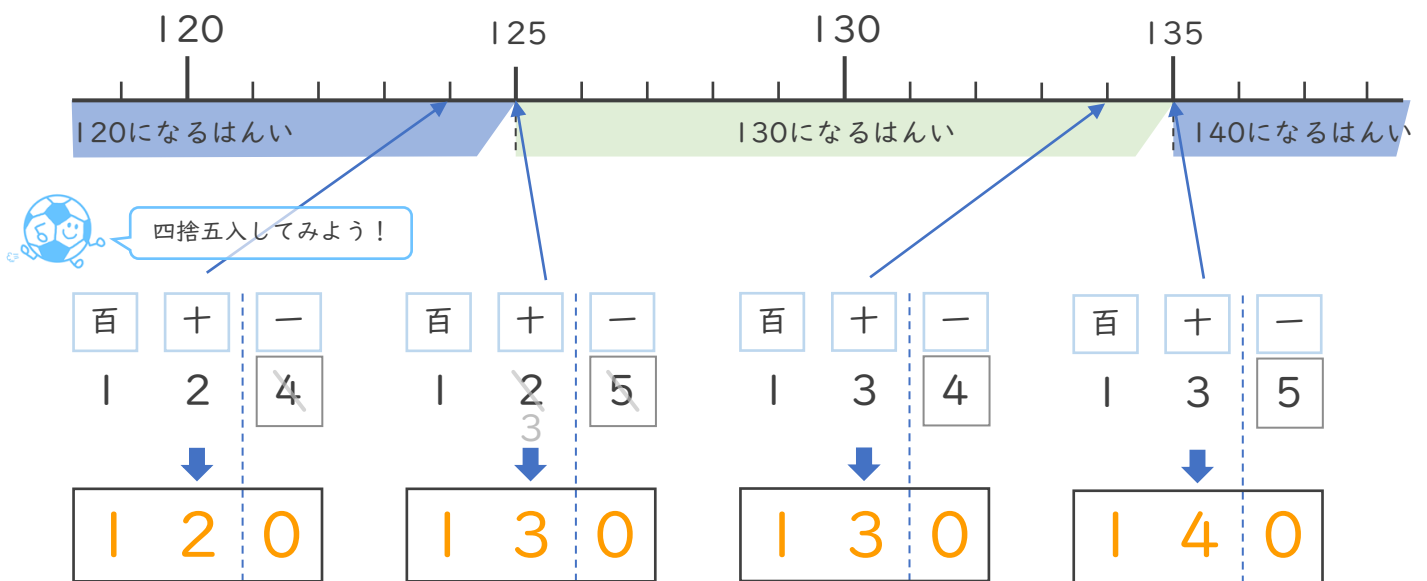


日にち： 月 日

名まえ \_\_\_\_\_

・ 次の問いに答えましょう。（うすい字はなぞりましょう。）

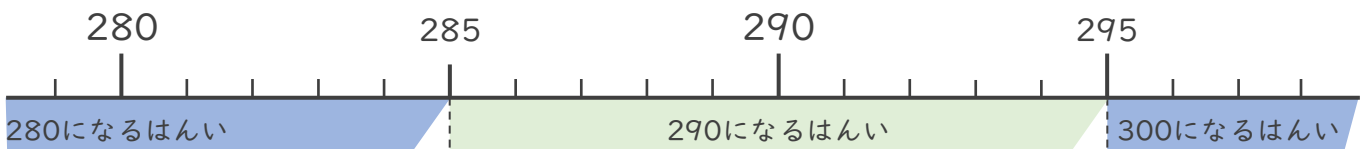
- ① 一の位で四捨五入して130になる整数のうち、いちばん小さい数といちばん大きい数はいくつですか。



いちばん小さい数 ( 125 )

いちばん大きい数 ( 134 )

- ② 一の位で四捨五入して290になる整数のうち、いちばん小さい数といちばん大きい数はいくつですか。



いちばん小さい数 ( 285 )

いちばん大きい数 ( 294 )





# がい数の 使い方と表し方 ④

● 数直線と四捨五入のはんい

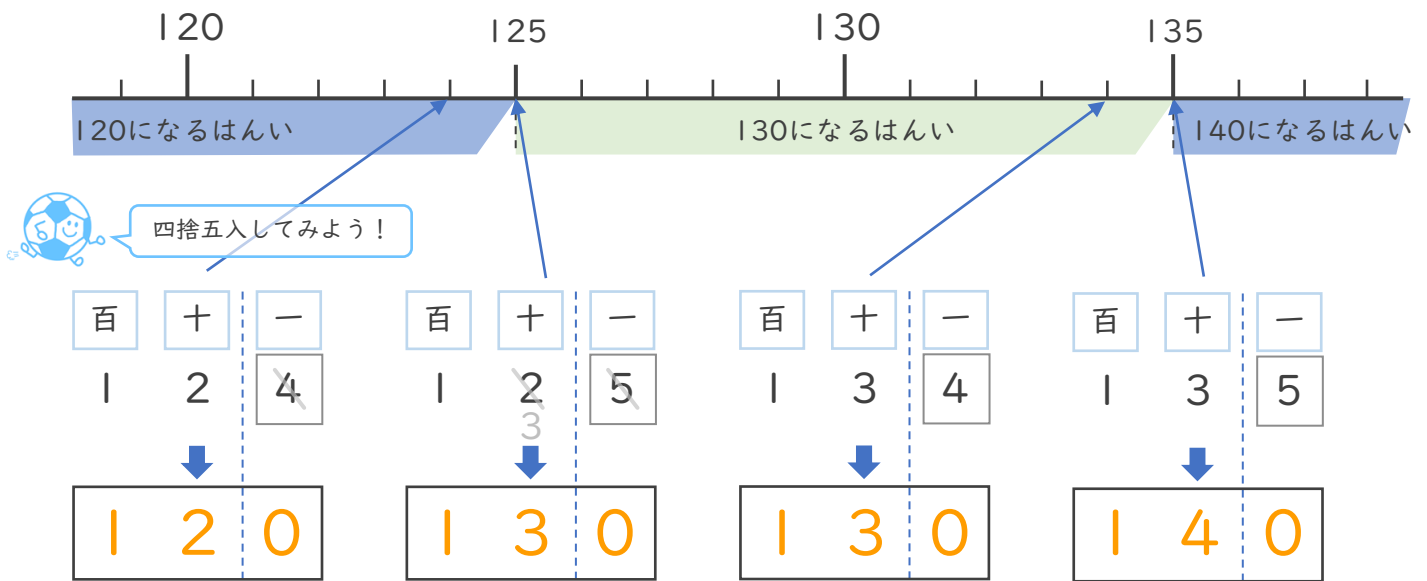


日にち：            月            日

名まえ \_\_\_\_\_

・ 次の問いに答えましょう。（うすい字はなぞりましょう。）

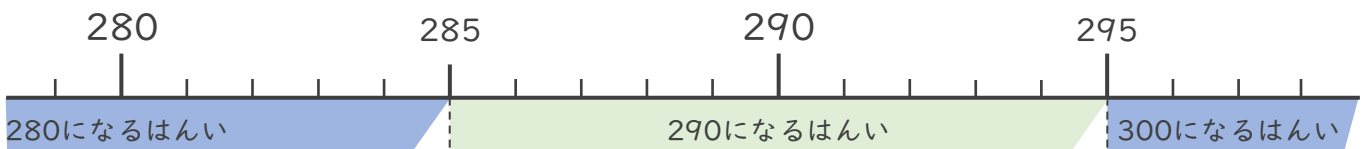
- ① 一の位で四捨五入して130になる整数のうち、いちばん小さい数といちばん大きい数はいくつですか。



いちばん小さい数 ( 125 )

いちばん大きい数 ( 134 )

- ② 一の位で四捨五入して290になる整数のうち、いちばん小さい数といちばん大きい数はいくつですか。



いちばん小さい数 ( 285 )

いちばん大きい数 ( 294 )





# がい数の 使い方と表し方 ①①

● 数直線と四捨五入のはんい

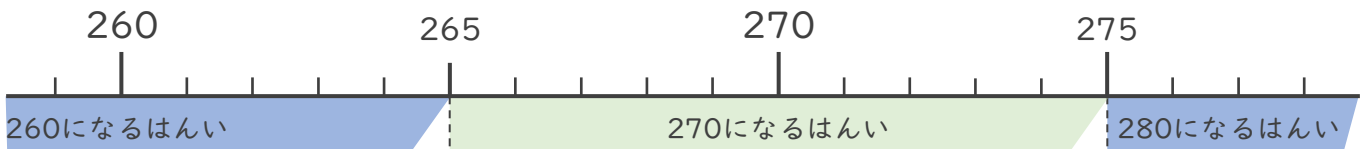


日にち：            月            日

名まえ \_\_\_\_\_

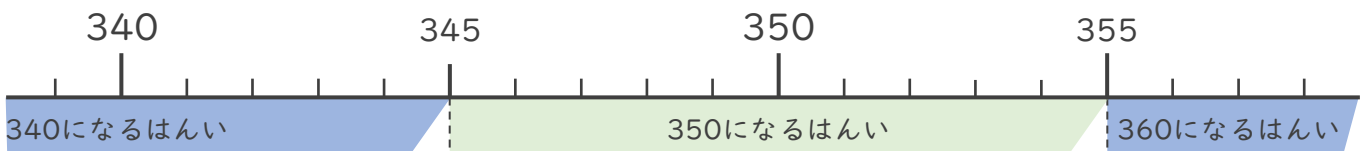
・ 次の問いに答えましょう。

- ① 一の位で四捨五入して270になる整数のうち、いちばん小さい数といちばん大きい数はいくつですか。



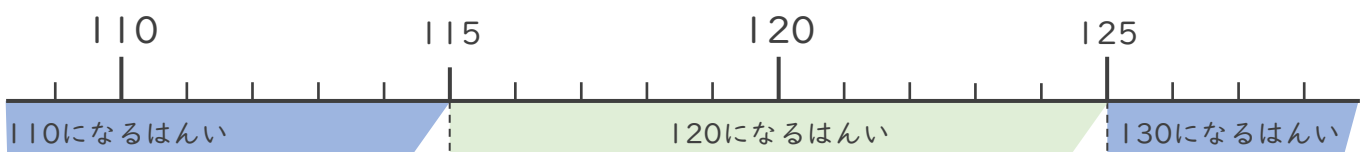
いちばん小さい数 ( **265** )      いちばん大きい数 ( **274** )

- ② 一の位で四捨五入して350になる整数のうち、いちばん小さい数といちばん大きい数はいくつですか。



いちばん小さい数 ( **345** )      いちばん大きい数 ( **354** )

- ③ 一の位で四捨五入して120になる整数のうち、いちばん小さい数といちばん大きい数はいくつですか。



いちばん小さい数 ( **115** )      いちばん大きい数 ( **124** )





# がい数の 使い方と表し方 ①①

● 数直線と四捨五入のはんい

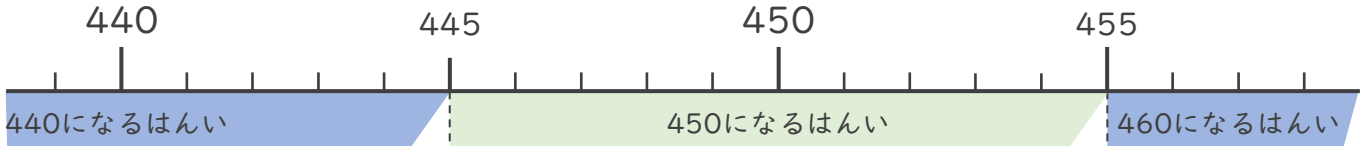


日にち：            月            日

名まえ \_\_\_\_\_

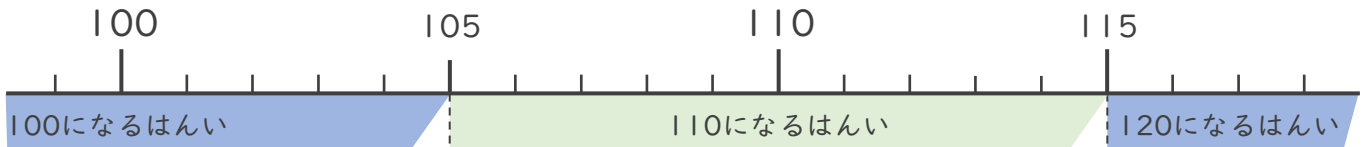
・ 次の問いに答えましょう。

- ① 一の位で四捨五入して450になる整数のうち、いちばん小さい数といちばん大きい数はいくつですか。



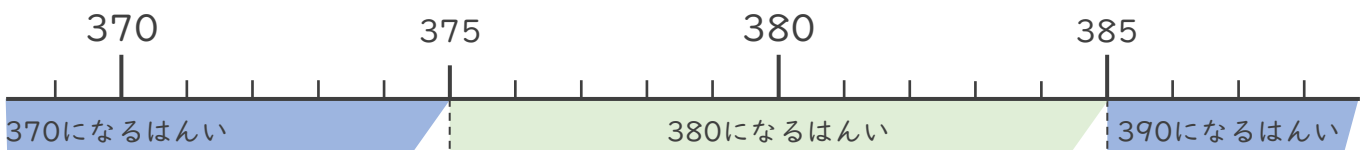
いちばん小さい数 ( **445** )      いちばん大きい数 ( **454** )

- ② 一の位で四捨五入して110になる整数のうち、いちばん小さい数といちばん大きい数はいくつですか。



いちばん小さい数 ( **105** )      いちばん大きい数 ( **114** )

- ③ 一の位で四捨五入して380になる整数のうち、いちばん小さい数といちばん大きい数はいくつですか。



いちばん小さい数 ( **375** )      いちばん大きい数 ( **384** )





# がい数の 使い方と表し方 ⑦

● 数直線と四捨五入のはんい

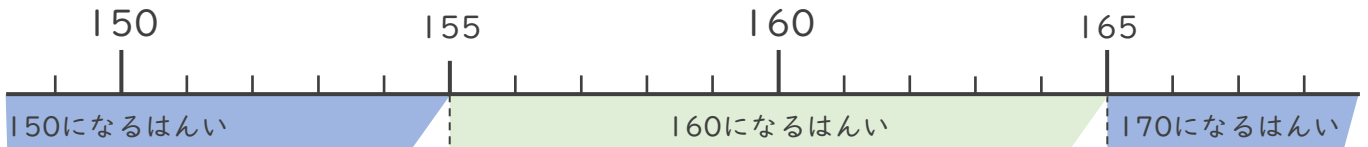


日にち：            月            日

名まえ \_\_\_\_\_

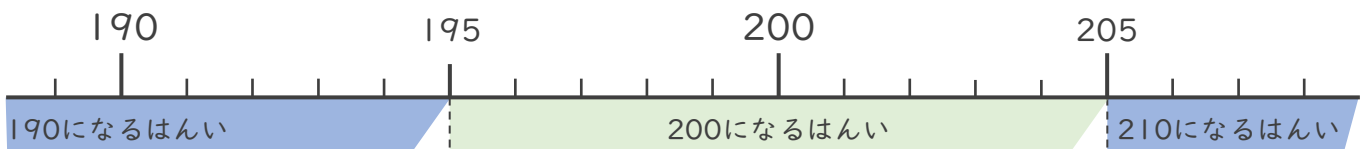
・ 次の問いに答えましょう。

- ① 一の位で四捨五入して160になる整数のうち、いちばん小さい数といちばん大きい数はいくつですか。



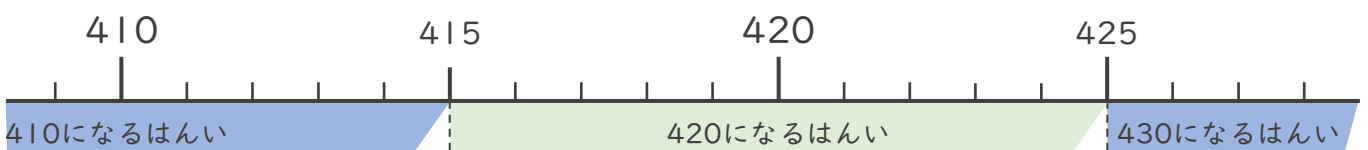
いちばん小さい数 ( **155** )      いちばん大きい数 ( **164** )

- ② 一の位で四捨五入して200になる整数のうち、いちばん小さい数といちばん大きい数はいくつですか。



いちばん小さい数 ( **195** )      いちばん大きい数 ( **204** )

- ③ 一の位で四捨五入して420になる整数のうち、いちばん小さい数といちばん大きい数はいくつですか。



いちばん小さい数 ( **415** )      いちばん大きい数 ( **424** )







# がい数の 使い方と表し方 ⑧

● 数直線と四捨五入のはんい

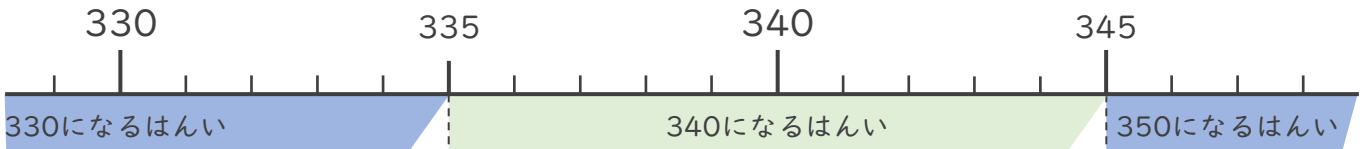


日にち：            月            日

名まえ \_\_\_\_\_

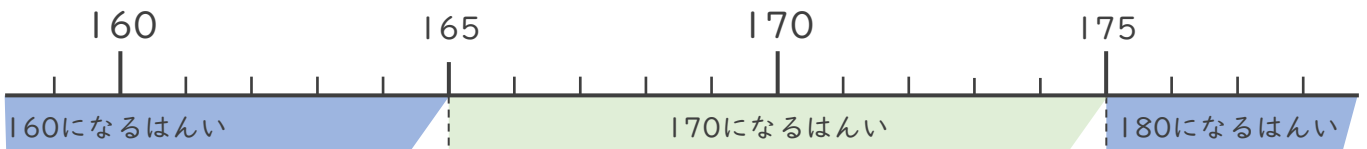
・ 次の問いに答えましょう。

- ① 一の位で四捨五入して340になる整数のうち、いちばん小さい数といちばん大きい数はいくつですか。



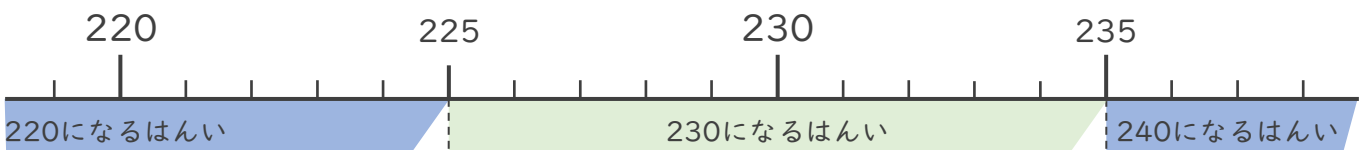
いちばん小さい数 ( **335** )      いちばん大きい数 ( **344** )

- ② 一の位で四捨五入して170になる整数のうち、いちばん小さい数といちばん大きい数はいくつですか。



いちばん小さい数 ( **165** )      いちばん大きい数 ( **174** )

- ③ 一の位で四捨五入して230になる整数のうち、いちばん小さい数といちばん大きい数はいくつですか。



いちばん小さい数 ( **225** )      いちばん大きい数 ( **234** )





# がい数の 使い方と表し方 ①

● 数直線と四捨五入のはんい

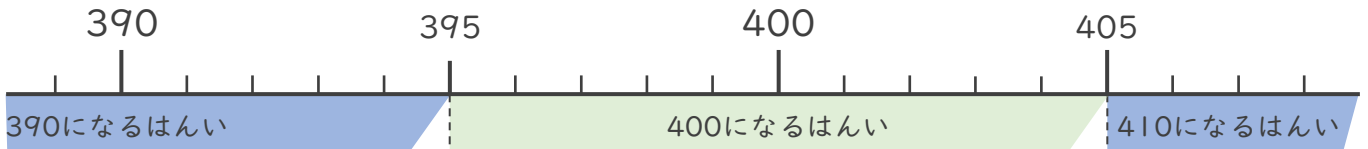


日にち：            月            日

名まえ \_\_\_\_\_

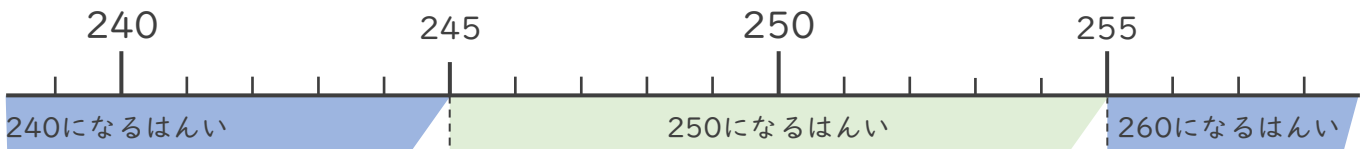
・ 次の問いに答えましょう。

- ① 一の位で四捨五入して400になる整数のうち、いちばん小さい数といちばん大きい数はいくつですか。



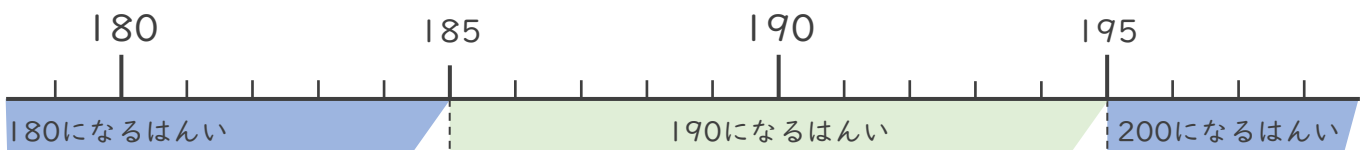
いちばん小さい数 ( **395** )      いちばん大きい数 ( **404** )

- ② 一の位で四捨五入して250になる整数のうち、いちばん小さい数といちばん大きい数はいくつですか。



いちばん小さい数 ( **245** )      いちばん大きい数 ( **254** )

- ③ 一の位で四捨五入して190になる整数のうち、いちばん小さい数といちばん大きい数はいくつですか。



いちばん小さい数 ( **185** )      いちばん大きい数 ( **194** )

