



がい数の 使い方と表し方2

● 百の位の切りすて



日にち： 月 日

名まえ _____

- ・ 百の位の数を切りすてて、千の位までのがい数にしましょう。
(うすい字はなぞりましょう。)

① 4 2 3 1

百の位を切りすてる

千	百	+	-
4	2	3	1

↓

4	0	0	0
---	---	---	---

そのまま 百から下の位は0にする

4231は、
およそ何千になるかな？



② 6 1 0 5

百の位を切りすてる

千	百	+	-
6	1	0	5

↓

--	--	--	--

そのまま 百から下の位は0にする

③ 5 3 1 7

千	百	+	-
5	3	1	7

↓

--	--	--	--



がい数の 使い方と表し方2

● 百の位の切りすて

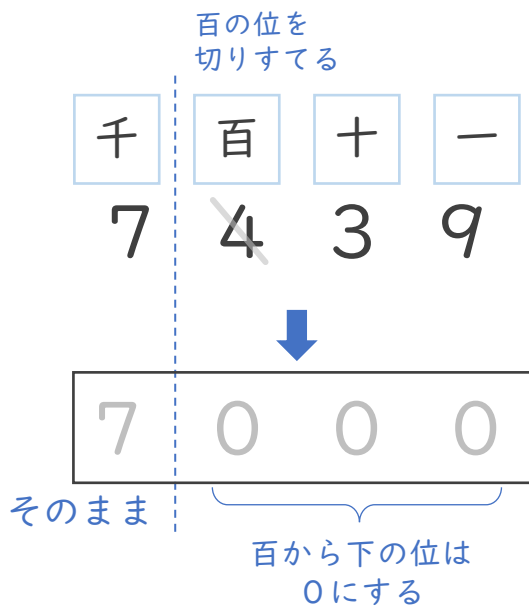


日にち： 月 日

名まえ _____

- ・ 百の位の数を切りすてて、千の位までのがい数にしましょう。
(うすい字はなぞりましょう。)

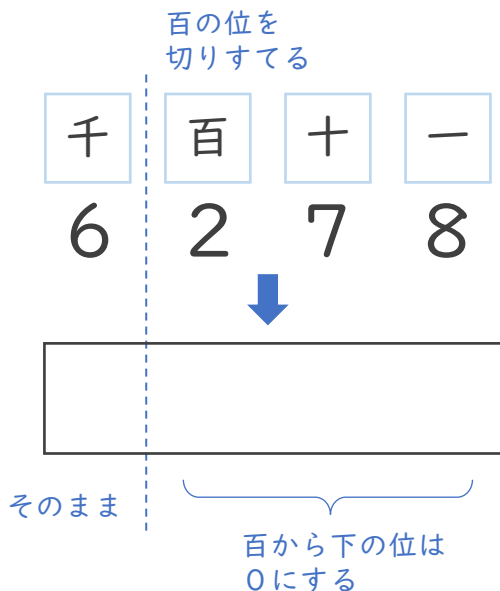
① 7 4 3 9



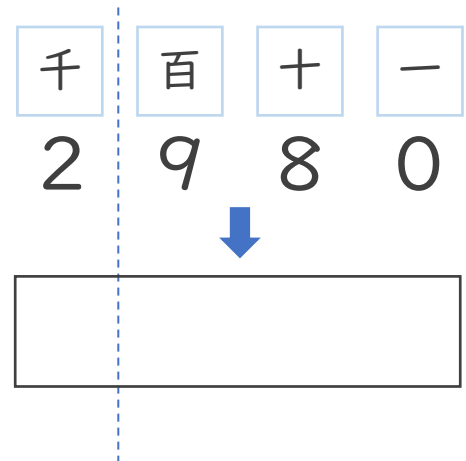
4231は、
およそ何千になるかな？



② 6 2 7 8



③ 2 9 8 0





がい数の 使い方と表し方2

● 百の位の切りすて

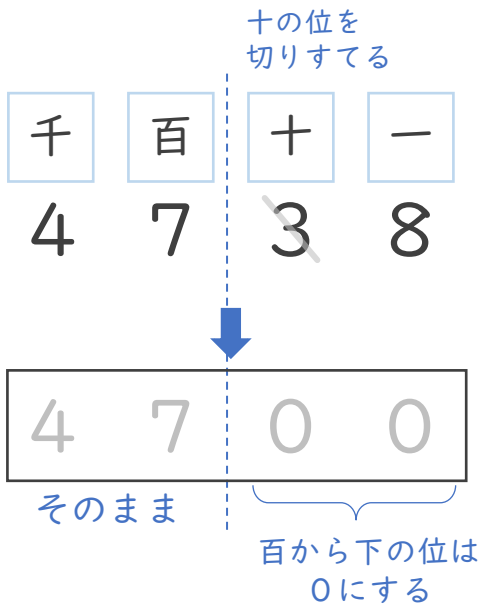


日にち： 月 日

名まえ _____

・ 十の位の数を切りすてて、百の位までのがい数にしましょう。
(うすい字はなぞりましょう。)

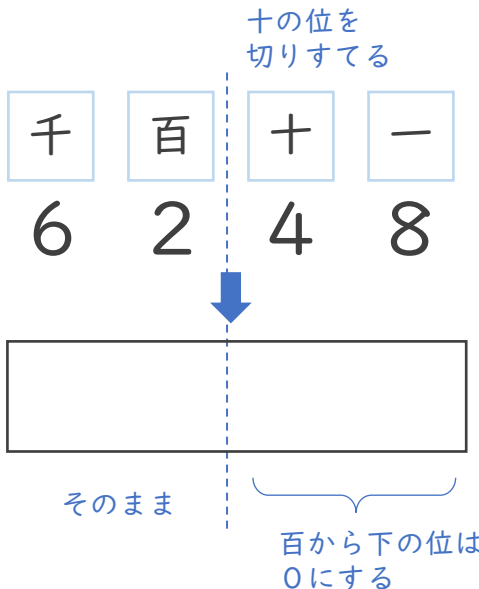
① 4 7 3 8



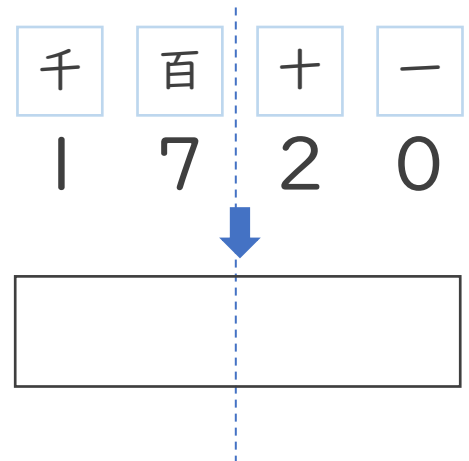
4738は、およそ何千何百になるかな？



② 6 2 4 8



③ 1 7 2 0



③ 確認



がい数の 使い方と表し方2

● 百の位の切りすて

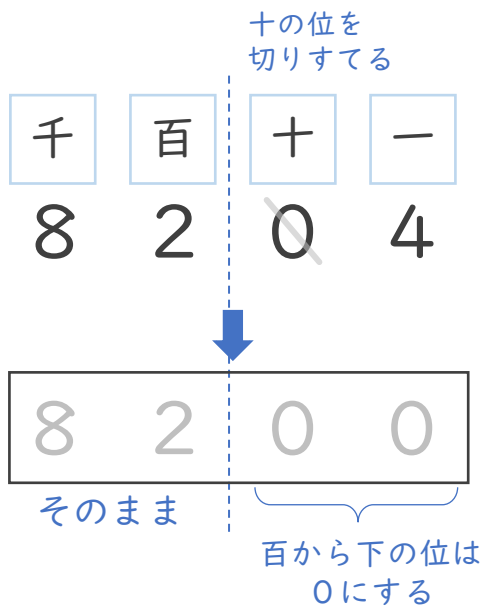


日にち： 月 日

名まえ _____

・ 十の位の数を切りすてて、百の位までのがい数にしましょう。
(うすい字はなぞりましょう。)

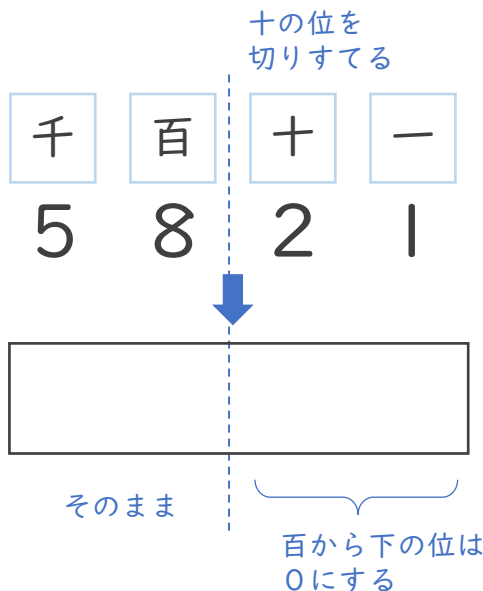
① 8 2 0 4



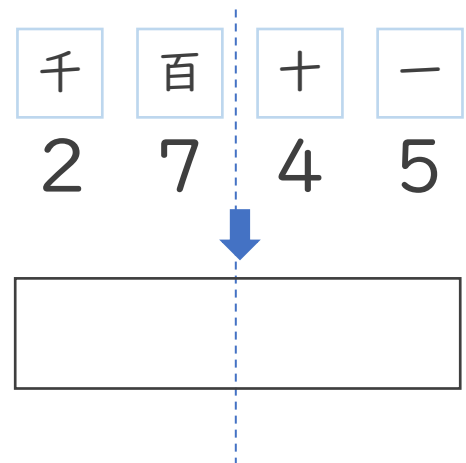
8204は、およそ何千何百になるかな？



② 5 8 2 1



③ 2 7 4 5



④ 確認



がい数の 使い方と表し方2

● 百の位の切りすて



日にち： 月 日

名まえ _____

1 百の位を切りすてて、千の位までのがい数にしましょう。

① 4 2 3 1

② 3 4 8 6

千	百	十	一
4	2	3	1

↓

千	百	十	一
3	4	8	6

↓

2 十の位を切りすてて、百の位までのがい数にしましょう。

② 6 1 0 5

③ 5 3 1 7

千	百	十	一
6	1	0	5

↓

千	百	十	一
5	3	1	7

↓



がい数の
使い方と表し方2

● 百の位の切りすて



日にち： 月 日

名まえ _____

1 百の位を切りすてて、千の位までのがい数にしましょう。

① 7 1 8 4

② 4 2 6 9

千	百	十	一
7	1	8	4

↓

千	百	十	一
4	2	6	9

↓

2 十の位を切りすてて、百の位までのがい数にしましょう。

② 1 1 3 8

③ 7 6 2 9

千	百	十	一
1	1	3	8

↓

千	百	十	一
7	6	2	9

↓



がい数の 使い方と表し方2

● 百の位の切りすて



日にち： 月 日

名まえ _____

1 百の位を切りすてて、千の位までのがい数にしましょう。

① 7 1 8 4

② 4 2 6 9

千	百	十	一
7	1	8	4

↓

千	百	十	一
4	2	6	9

↓

2 十の位を切りすてて、百の位までのがい数にしましょう。

② 1 1 3 8

③ 7 6 2 9

千	百	十	一
1	1	3	8

↓

千	百	十	一
7	6	2	9

↓



がい数の 使い方と表し方2

● 百の位の切りすて



日にち： 月 日

名まえ _____

1 百の位を切りすてて、千の位までのがい数にしましょう。

① 2 1 8 9

② 5 4 8 3

千	百	十	一
2	1	8	9

↓

千	百	十	一
5	4	8	3

↓

2 十の位を切りすてて、百の位までのがい数にしましょう。

② 8 6 3 1

③ 6 8 0 5

千	百	十	一
8	6	3	1

↓

千	百	十	一
6	8	0	5

↓



がい数の
使い方と表し方2

● 百の位の切りすて



日にち： 月 日

名まえ _____

1 百の位を切りすてて、千の位までのがい数にしましょう。

① 5 2 3 8

② 7 1 6 9

千	百	十	一
5	2	3	8

↓

千	百	十	一
7	1	6	9

↓

2 十の位を切りすてて、百の位までのがい数にしましょう。

② 2 3 2 3

③ 7 5 2 1

千	百	十	一
2	3	2	3

↓

千	百	十	一
7	5	2	1

↓



がい数の 使い方と表し方2

● 百の位の切りすて



日にち： 月 日

名まえ _____

・ 百の位の数を切りすてて、千の位までのがい数にしましょう。
(うすい字はなぞりましょう。)

① 4 2 3 1

百の位を切りすてる

千	百	+	-
4	2	3	1

↓

4	0	0	0
---	---	---	---

そのまま 百から下の位は0にする

4231は、
およそ何千になるかな？



② 6 1 0 5

百の位を切りすてる

千	百	+	-
6	1	0	5

↓

6	0	0	0
---	---	---	---

そのまま 百から下の位は0にする

③ 5 3 1 7

千	百	+	-
5	3	1	7

↓

5	0	0	0
---	---	---	---





がい数の 使い方と表し方2

● 百の位の切りすて

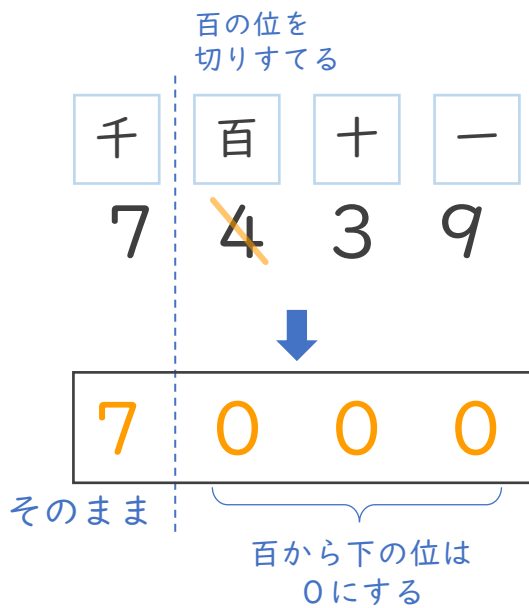


日にち： 月 日

名まえ _____

・ 百の位の数を切りすてて、千の位までのがい数にしましょう。
(うすい字はなぞりましょう。)

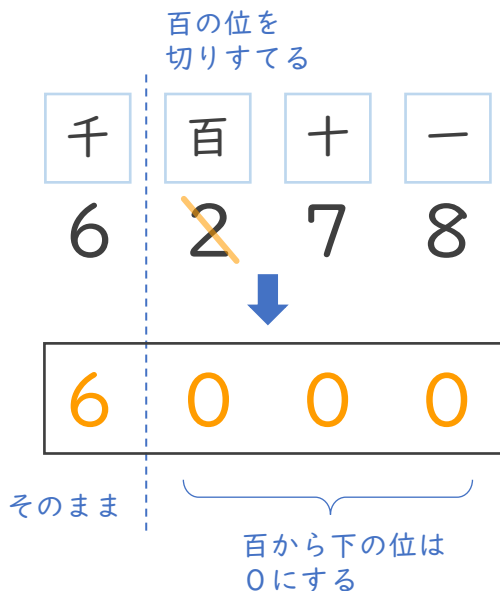
① 7 4 3 9



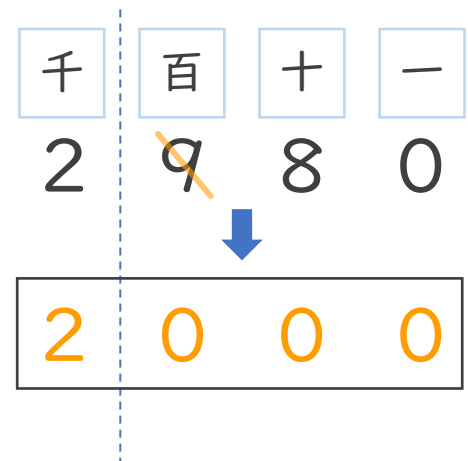
4231は、
およそ何千になるかな？



② 6 2 7 8



③ 2 9 8 0





がい数の 使い方と表し方2

● 百の位の切りすて

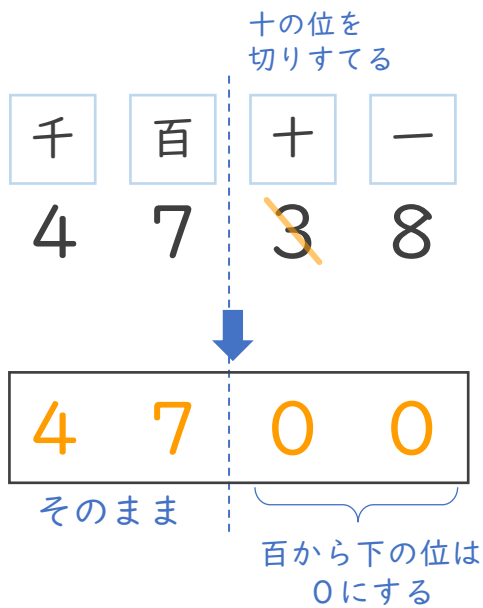


日にち： 月 日

名まえ _____

・ 十の位の数を切りすてて、百の位までのがい数にしましょう。
(うすい字はなぞりましょう。)

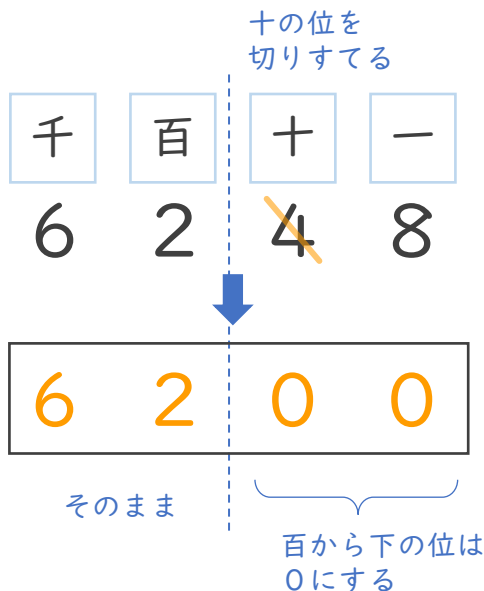
① 4 7 3 8



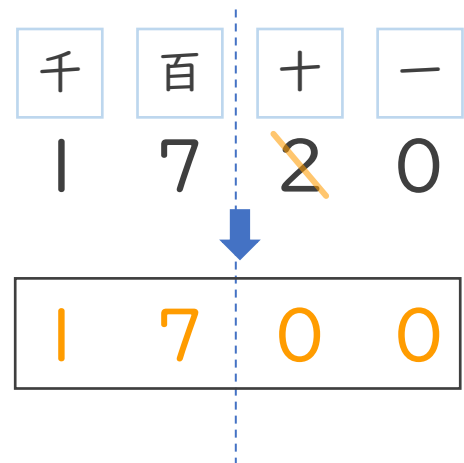
4738は、およそ何千何百になるかな？



② 6 2 4 8



③ 1 7 2 0



③ 確認 答え



がい数の 使い方と表し方2

● 百の位の切りすて

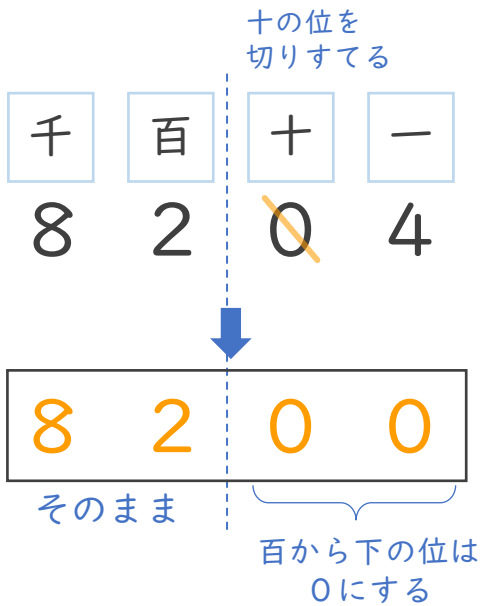


日にち： 月 日

名まえ _____

- ・ 十の位の数を切りすてて、百の位までのがい数にしましょう。
(うすい字はなぞりましょう。)

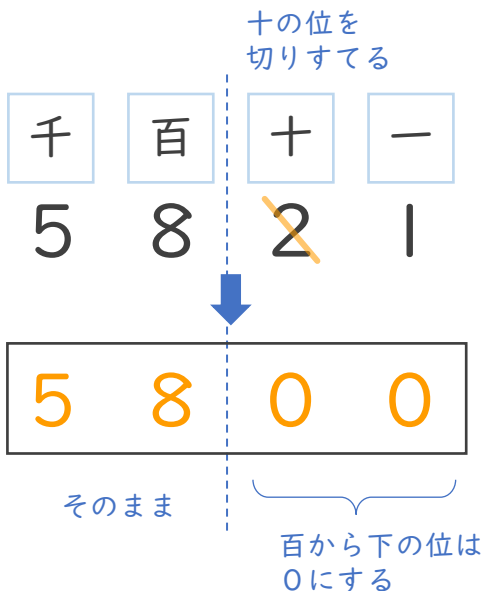
① 8 2 0 4



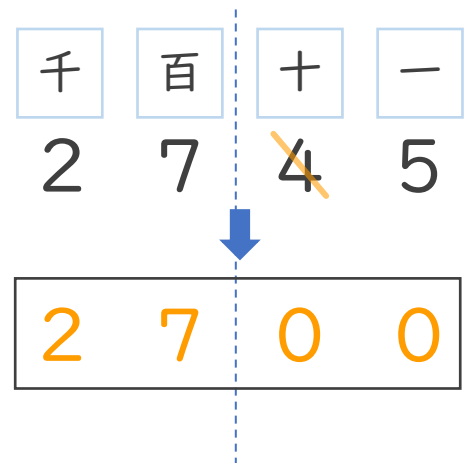
8204は、およそ
何千何百になるかな？



② 5 8 2 1



③ 2 7 4 5



④ 確認 答え



すらすらぷりんと



がい数の 使い方と表し方2

● 百の位の切りすて



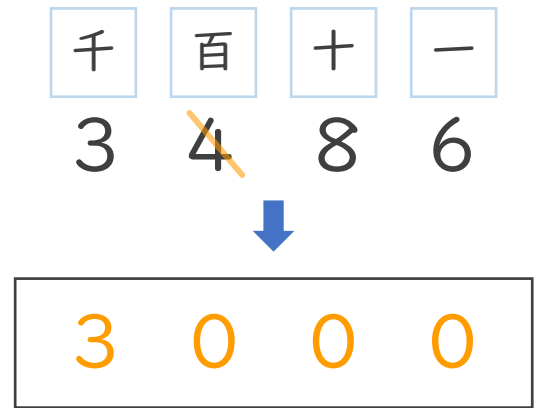
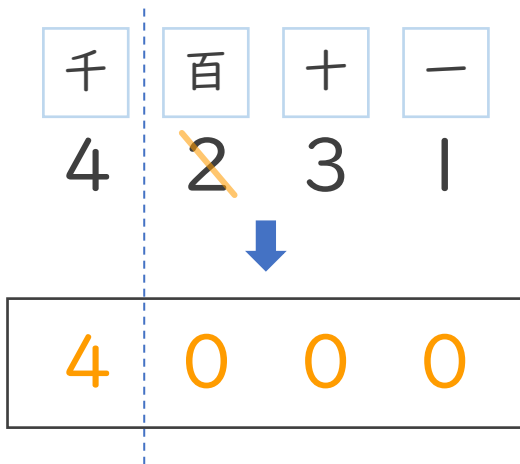
日にち： 月 日

名まえ _____

1 百の位を切りすてて、千の位までのがい数にしましょう。

① 4 2 3 1

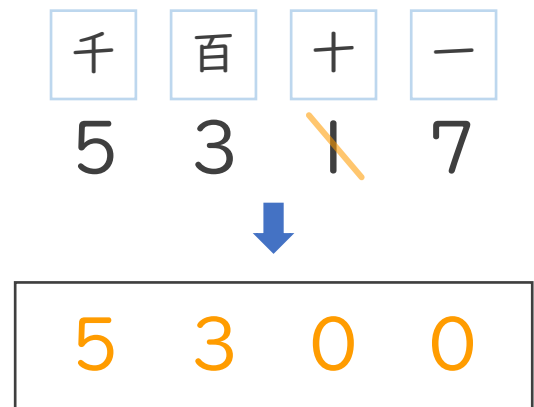
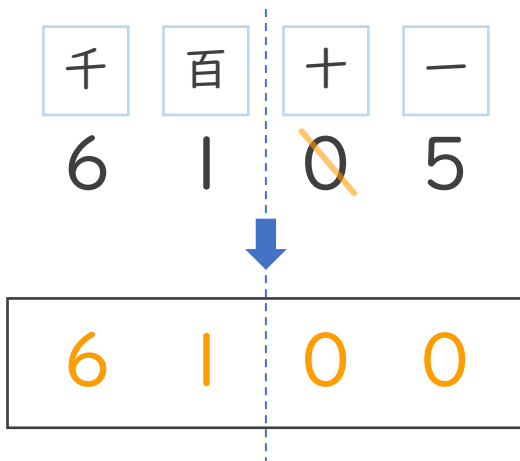
② 3 4 8 6



2 十の位を切りすてて、百の位までのがい数にしましょう。

② 6 1 0 5

③ 5 3 1 7





がい数の
使い方と表し方2

● 百の位の切りすて



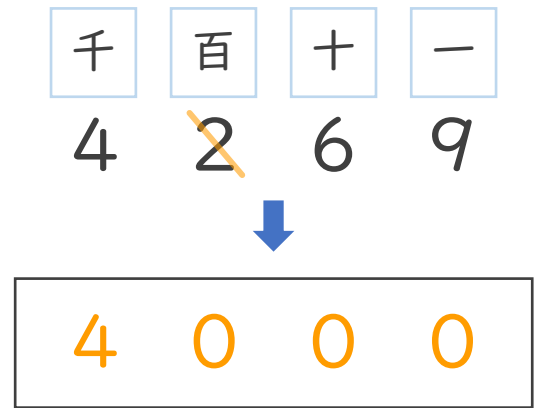
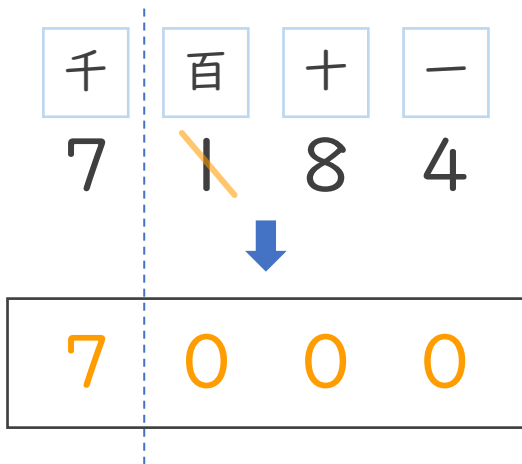
日にち： 月 日

名まえ _____

1 百の位を切りすてて、千の位までのがい数にしましょう。

① 7 1 8 4

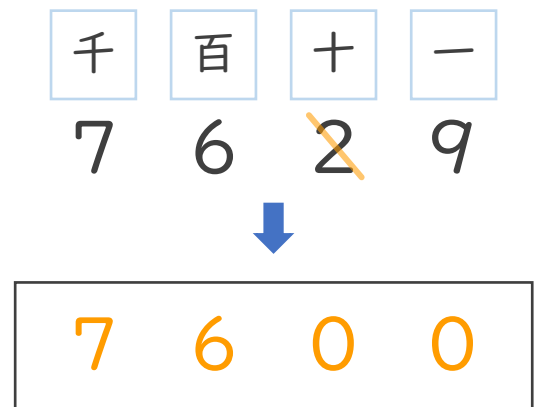
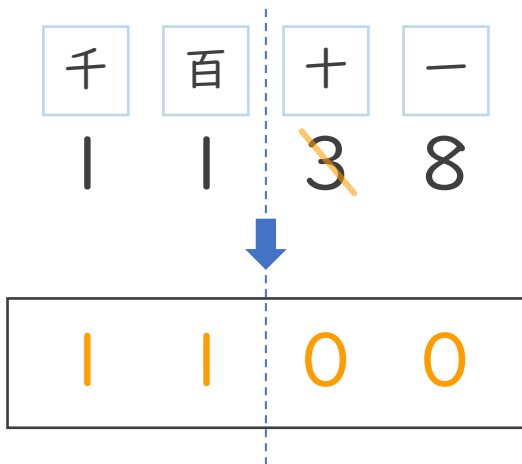
② 4 2 6 9



2 十の位を切りすてて、百の位までのがい数にしましょう。

② 1 1 3 8

③ 7 6 2 9





がい数の 使い方と表し方2

● 百の位の切りすて



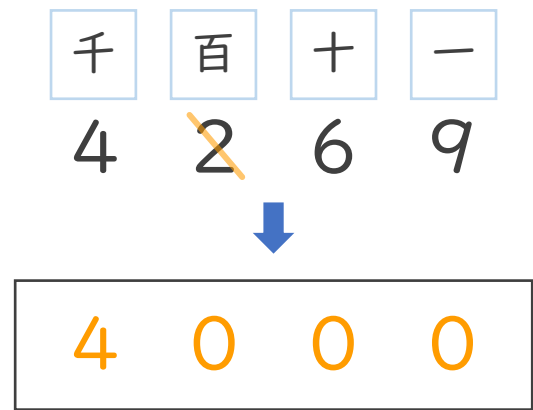
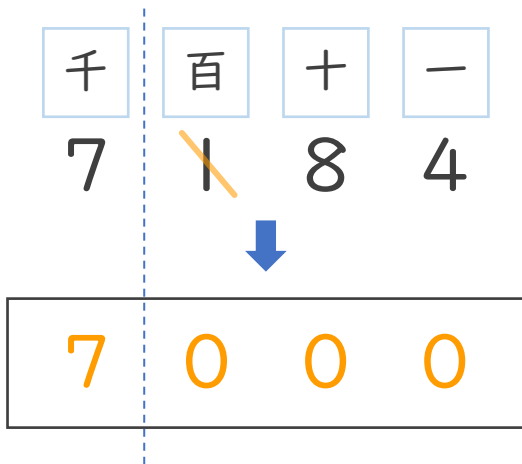
日にち： 月 日

名まえ _____

1 百の位を切りすてて、千の位までのがい数にしましょう。

① 7 1 8 4

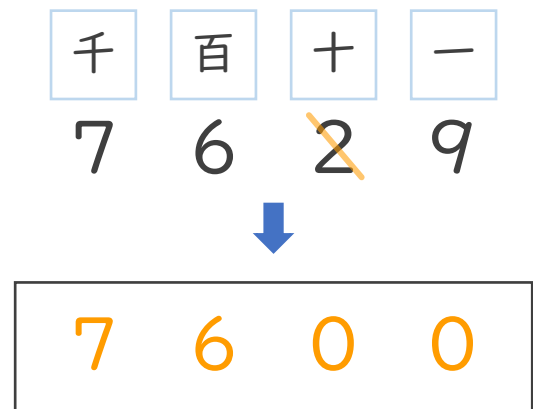
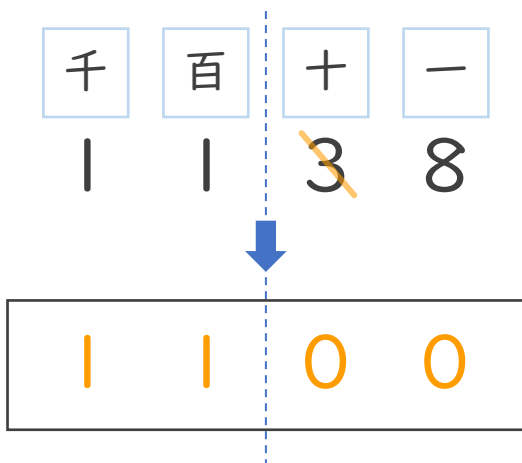
② 4 2 6 9



2 十の位を切りすてて、百の位までのがい数にしましょう。

② 1 1 3 8

③ 7 6 2 9





がい数の 使い方と表し方2

● 百の位の切りすて

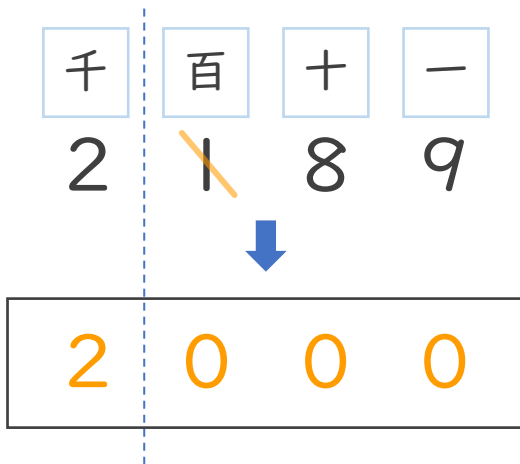


日にち： 月 日

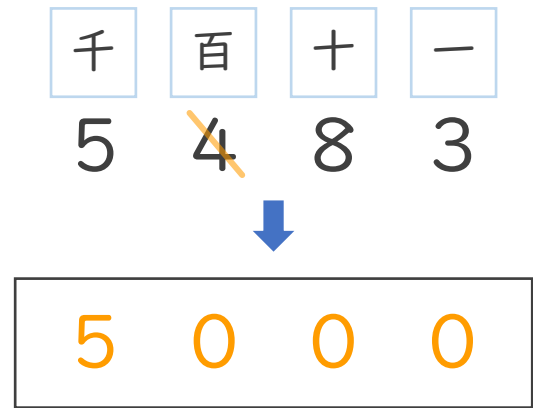
名まえ _____

1 百の位を切りすてて、千の位までのがい数にしましょう。

① 2 1 8 9

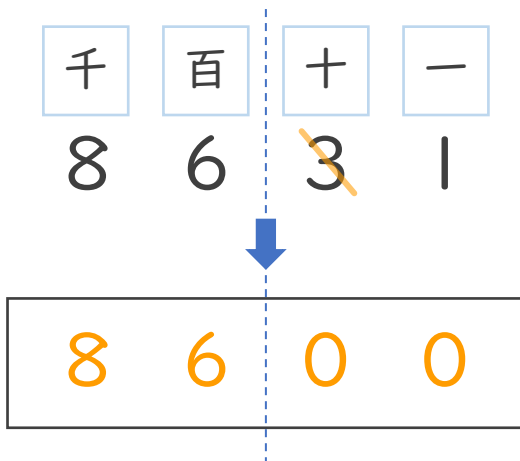


② 5 4 8 3

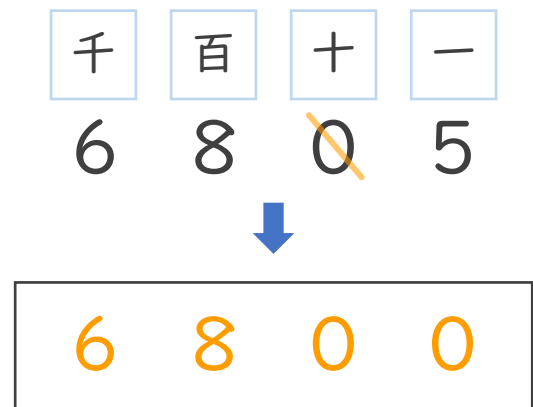


2 十の位を切りすてて、百の位までのがい数にしましょう。

② 8 6 3 1



③ 6 8 0 5





がい数の 使い方と表し方2

● 百の位の切りすて



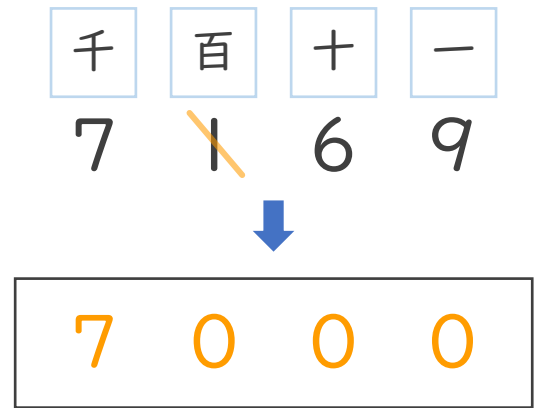
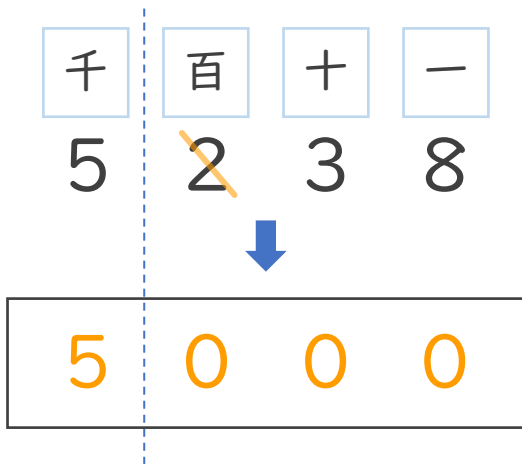
日にち： 月 日

名まえ _____

1 百の位を切りすてて、千の位までのがい数にしましょう。

① 5 2 3 8

② 7 1 6 9



2 十の位を切りすてて、百の位までのがい数にしましょう。

② 2 3 2 3

③ 7 5 2 1

