



がい数の
使い方と表し方6

● 百の位までのがい数
(四捨五入)

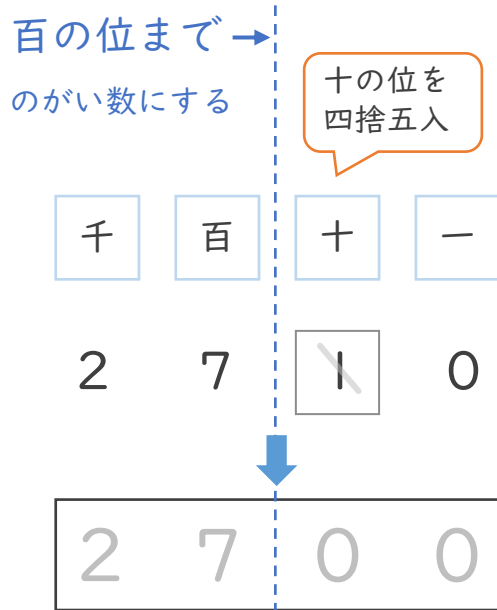


日にち： 月 日

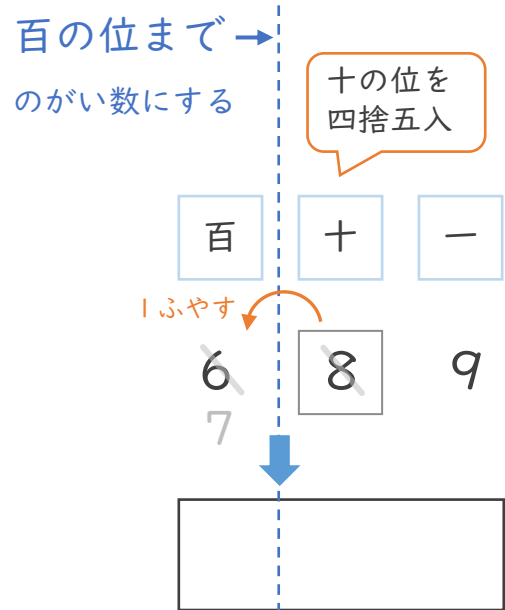
名まえ _____

1 四捨五入して、百の位までのがい数で表しましょう。

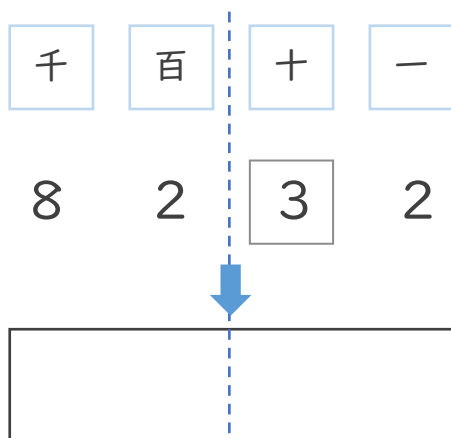
① 2710



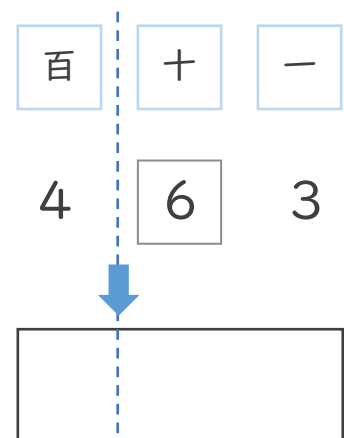
② 689



③ 8232



④ 463



1つ下の位(十の位)を
四捨五入すればいいんだね!





がい数の 使い方と表し方6

● 百の位までのがい数
(四捨五入)

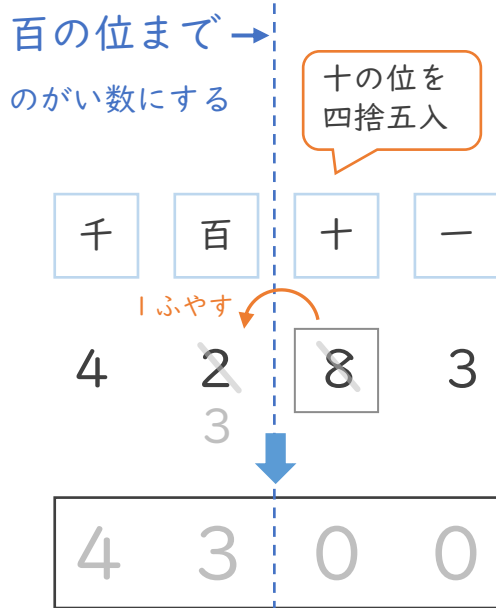


日にち： 月 日

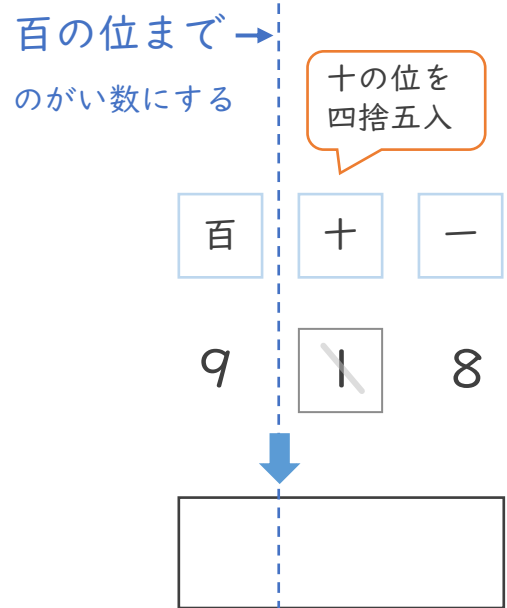
名まえ _____

1 四捨五入して、百の位までのがい数で表しましょう。

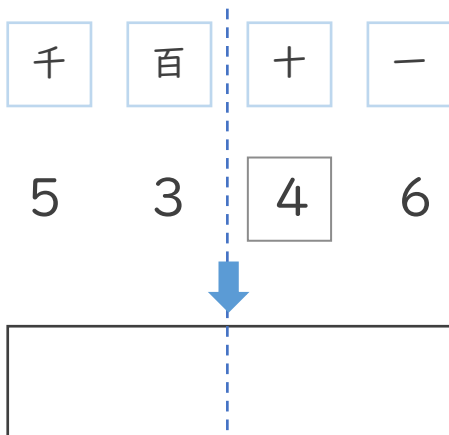
① 4283



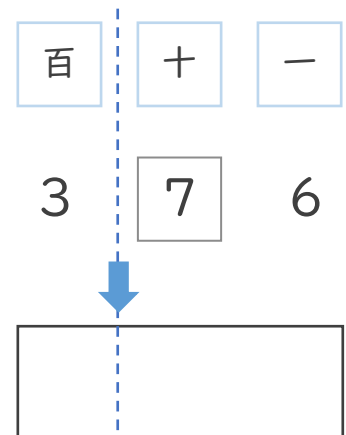
② 918



③ 5346



④ 376



1つ下の位(十の位)を
四捨五入すればいいんだね!





がい数の
使い方と表し方 6

● 百の位までのがい数
(四捨五入)



日にち： 月 日

名まえ _____

1 四捨五入して、百の位までのがい数で表しましょう。

① 6510

百の位まで →
のがい数にする

千	百	十	一
6	5	1	0

十の位を
四捨五入

↓

② 204

百の位まで →
のがい数にする

百	十	一
2	0	4

十の位を
四捨五入

↓

③ 5871

千	百	十	一
5	8	7	1

↓

④ 384

百	十	一
3	8	4

↓



1つ下の位(十の位)を
四捨五入すればいいんだね!





がい数の
使い方と表し方 6

● 百の位までのがい数
(四捨五入)



日にち： 月 日

名まえ _____

1 四捨五入して、百の位までのがい数で表しましょう。

① 1205

百の位まで → のがい数にする

千	百	十	一
1	2	0	5

十の位を四捨五入

↓

② 574

百の位まで → のがい数にする

百	十	一
5	7	4

十の位を四捨五入

↓

③ 2463

千	百	十	一
2	4	6	3

↓

④ 915

百	十	一
9	1	5

↓



1つ下の位(十の位)を
四捨五入すればいいんだね!





がい数の
使い方と表し方 6

百の位までのがい数
(四捨五入)



日にち： 月 日

名まえ _____

1 四捨五入して、百の位までのがい数で表しましょう。

十の位を
四捨五入

① 6 1 5 9
2

② 4 7 8 2

()

()

③ 7 6 4 0

④ 1 8 2 5

()

()

十の位を
四捨五入

⑤ 3 3 1

⑥ 5 0 3

()

()

⑦ 4 9 1

⑧ 2 3 0

()

()



がい数の 使い方と表し方 6

● 百の位までのがい数
(四捨五入)



日にち： 月 日

名まえ _____

1 四捨五入して、百の位までのがい数で表しましょう。

十の位を
四捨五入

① 2589

()

② 4813

()

③ 7932

()

④ 3753

()

十の位を
四捨五入

⑤ 618

()

⑥ 882

()

⑦ 502

()

⑧ 127

()



がい数の
使い方と表し方6

● 百の位までのがい数
(四捨五入)



日にち： 月 日

名まえ _____

1 四捨五入して、百の位までのがい数で表しましょう。

十の位を
四捨五入

① 3895

② 5282

()

()

③ 1865

④ 2706

()

()

十の位を
四捨五入

⑤ 695

⑥ 410

()

()

⑦ 947

⑧ 873

()

()





がい数の
使い方と表し方 6

● 百の位までのがい数
(四捨五入)



日にち： 月 日

名まえ _____

I 四捨五入して、百の位までのがい数で表しましょう。

十の位を
四捨五入

① 1797

()

② 6822

()

③ 4259

()

④ 5683

()

十の位を
四捨五入

⑤ 932

()

⑥ 745

()

⑦ 270

()

⑧ 502

()





がい数の
使い方と表し方 6

● 百の位までのがい数
(四捨五入)



日にち： 月 日

名まえ _____

1 四捨五入して、百の位までのがい数で表しましょう。

十の位を
四捨五入

① 9414

()

② 3762

()

③ 5393

()

④ 8074

()

十の位を
四捨五入

⑤ 453

()

⑥ 614

()

⑦ 280

()

⑧ 173

()



がい数の
使い方と表し方 6

● 百の位までのがい数
(四捨五入)



日にち： 月 日

名まえ _____

Ⅰ 四捨五入して、百の位までのがい数で表しましょう。

① 6 3 8 1

()

② 1 2 0 9

()

③ 5 7 3

()

④ 2 4 8

()

⑤ 9 1 5 3

()

⑥ 3 8 7 6

()

⑦ 3 4 2

()

⑧ 5 7 8

()



がい数の
使い方と表し方6

● 百の位までのがい数
(四捨五入)

12

日にち： 月 日

名まえ _____

| 四捨五入して、百の位までのがい数で表しましょう。

① 4503

()

② 3247

()

③ 605

()

④ 891

()

⑤ 1746

()

⑥ 9572

()

⑦ 286

()

⑧ 430

()



がい数の
使い方と表し方 6

● 百の位までのがい数
(四捨五入)

14

日にち： 月 日

名まえ _____

1 四捨五入して、百の位までのがい数で表しましょう。

① 2491

()

② 8842

()

③ 729

()

④ 310

()

⑤ 8073

()

⑥ 4650

()

⑦ 635

()

⑧ 174

()




がい数の
使い方と表し方 6

● 百の位までのがい数
(四捨五入)

15

めざせ80点!



名まえ _____

Ⅰ 四捨五入して、百の位までのがい数で表しましょう。(各20点)

① 8560

()

② 492

()

③ 638

()

④ 9113

()

⑤ 3876

()




がい数の
使い方と表し方 6

● 百の位までのがい数
(四捨五入)

16

めざせ80点!



てん

名まえ _____

Ⅰ 四捨五入して、百の位までのがい数で表しましょう。(各20点)

① 7 1 3 8

()

② 2 6 5

()

③ 8 3 1

()

④ 5 3 7

()

⑤ 1 9 4 2

()



がい数の
使い方と表し方6

● 百の位までのがい数
(四捨五入)

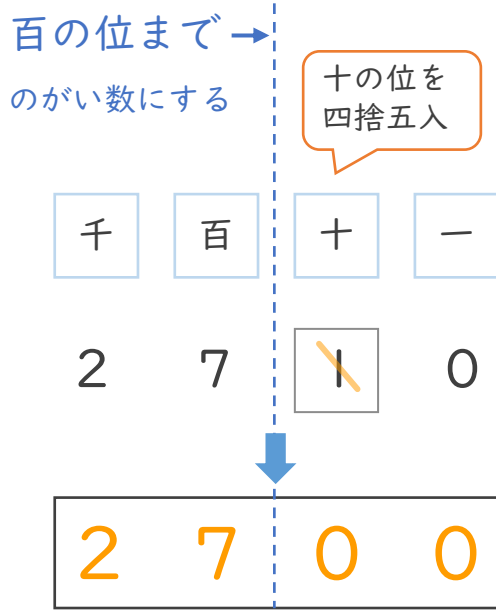


日にち： 月 日

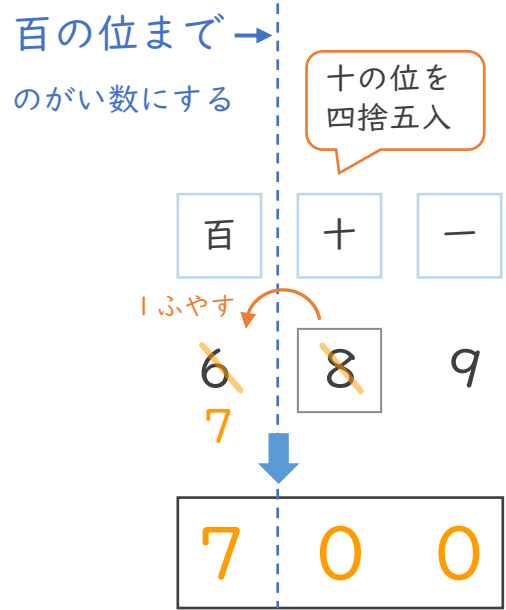
名まえ _____

1 四捨五入して、百の位までのがい数で表しましょう。

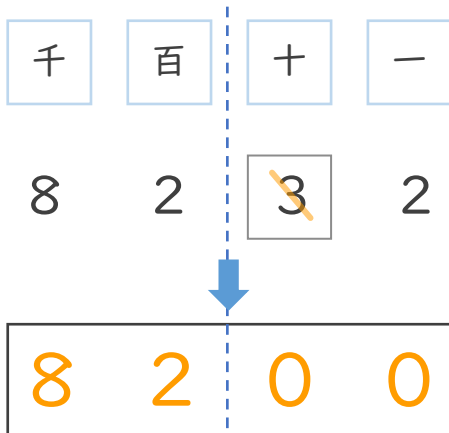
① 2710



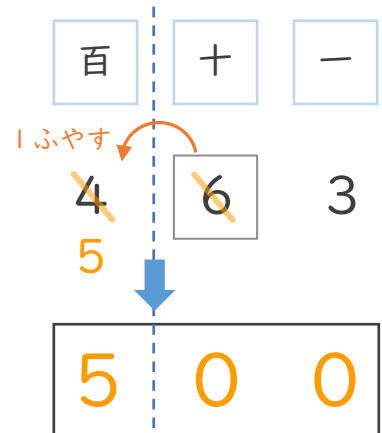
② 689



③ 8232



④ 463



1つ下の位(十の位)を
四捨五入すればいいんだね!





がい数の
使い方と表し方 6

● 百の位までのがい数
(四捨五入)

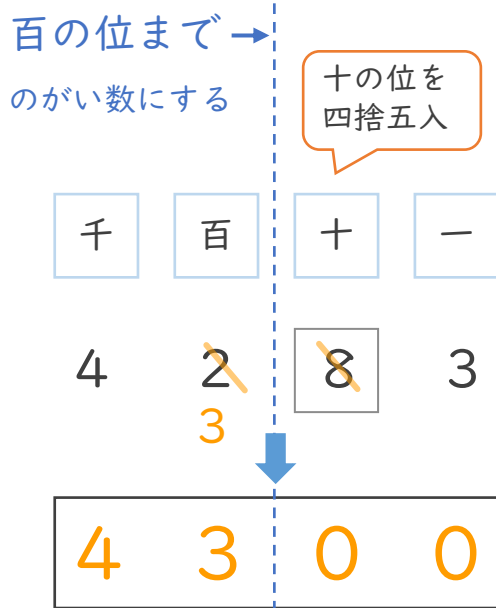


日にち： 月 日

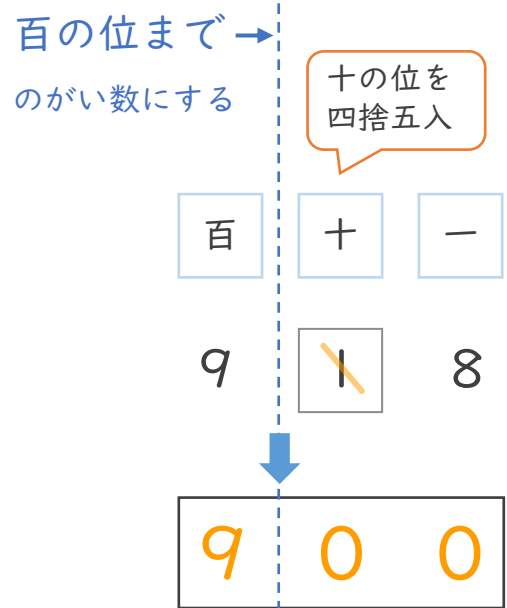
名まえ _____

1 四捨五入して、百の位までのがい数で表しましょう。

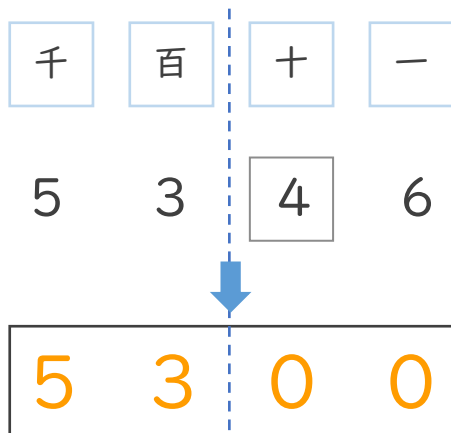
① 4283



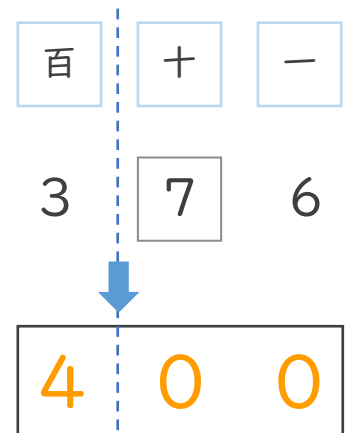
② 918



③ 5346



④ 376



1つ下の位(十の位)を
四捨五入すればいいんだね!





がい数の
使い方と表し方 6

● 百の位までのがい数
(四捨五入)

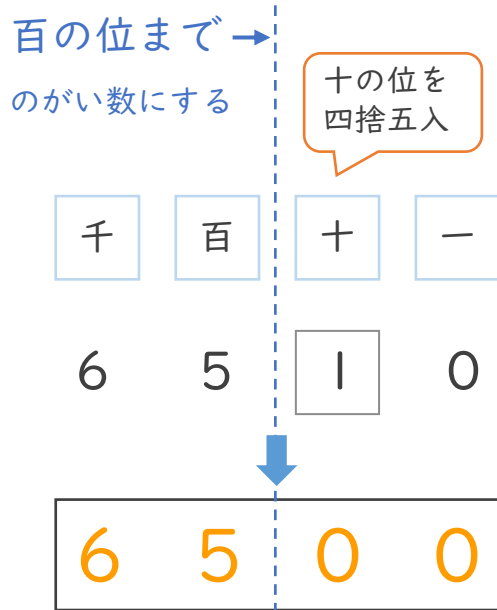


日にち： 月 日

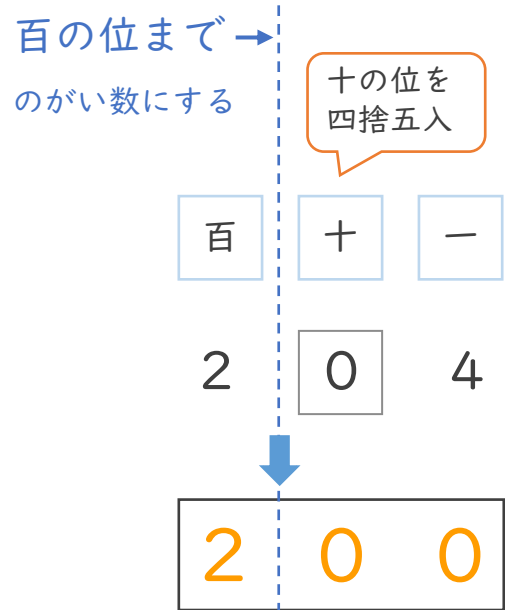
名まえ _____

1 四捨五入して、百の位までのがい数で表しましょう。

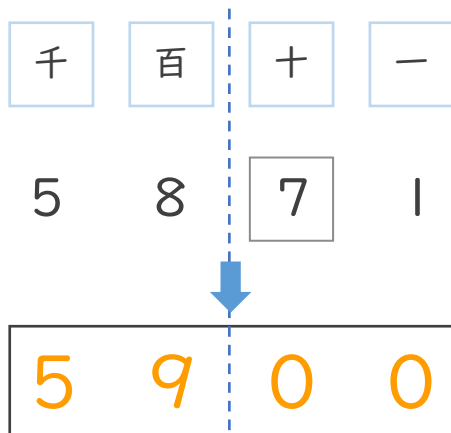
① 6510



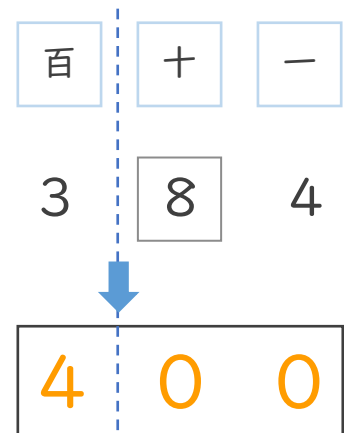
② 204



③ 5871



④ 384



1つ下の位(十の位)を
四捨五入すればいいんだね!





がい数の
使い方と表し方 6

● 百の位までのがい数
(四捨五入)

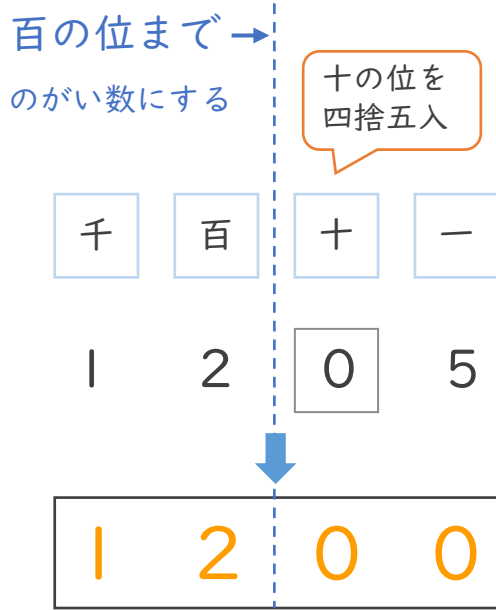


日にち： 月 日

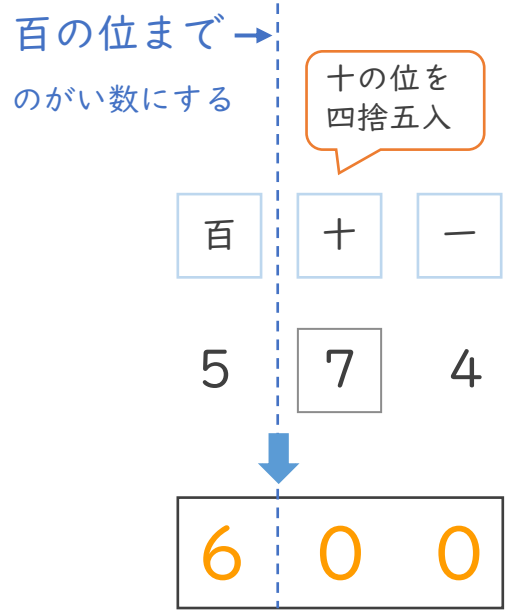
名まえ _____

1 四捨五入して、百の位までのがい数で表しましょう。

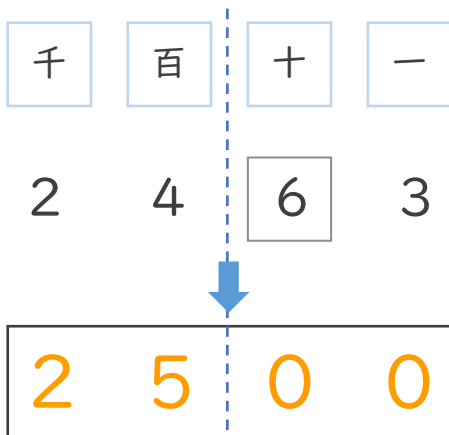
① 1205



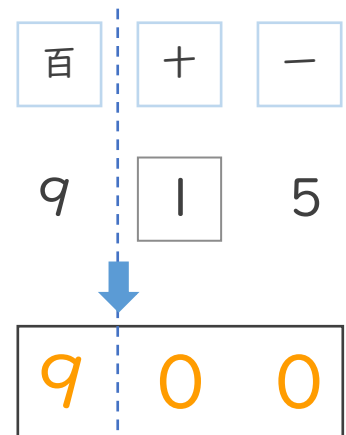
② 574



③ 2463



④ 915



1つ下の位(十の位)を
四捨五入すればいいんだね!





がい数の
使い方と表し方6

● 百の位までのがい数
(四捨五入)



日にち： 月 日

名まえ _____

Ⅰ 四捨五入して、百の位までのがい数で表しましょう。

十の位を
四捨五入

① 6 ~~1~~ 5 9
2

(6200)

② 4 7 8 2

(4800)

③ 7 6 4 0

(7600)

④ 1 8 2 5

(1800)

十の位を
四捨五入

⑤ 3 3 ~~1~~

(300)

⑥ 5 0 3

(500)

⑦ 4 9 1

(500)

⑧ 2 3 0

(200)





がい数の
使い方と表し方 6

● 百の位までのがい数
(四捨五入)



日にち： 月 日

名まえ _____

Ⅰ 四捨五入して、百の位までのがい数で表しましょう。

十の位を
四捨五入

① 2 5 8 9

(2600)

② 4 8 1 3

(4800)

③ 7 9 3 2

(7900)

④ 3 7 5 3

(3800)

十の位を
四捨五入

⑤ 6 1 8

(600)

⑥ 8 8 2

(900)

⑦ 5 0 2

(500)

⑧ 1 2 7

(100)





がい数の
使い方と表し方 6

● 百の位までのがい数
(四捨五入)



日にち： 月 日

名まえ _____

1 四捨五入して、百の位までのがい数で表しましょう。

十の位を
四捨五入

① 3895

(3900)

② 5282

(5300)

③ 1865

(1900)

④ 2706

(2700)

十の位を
四捨五入

⑤ 695

(700)

⑥ 410

(400)

⑦ 947

(900)

⑧ 873

(900)





がい数の
使い方と表し方 6

● 百の位までのがい数
(四捨五入)



日にち： 月 日

名まえ _____

Ⅰ 四捨五入して、百の位までのがい数で表しましょう。

十の位を
四捨五入

① 1797

(1800)

② 6822

(6800)

③ 4259

(4300)

④ 5683

(5700)

十の位を
四捨五入

⑤ 932

(900)

⑥ 745

(700)

⑦ 270

(300)

⑧ 502

(500)





がい数の
使い方と表し方 6

● 百の位までのがい数
(四捨五入)



日にち： 月 日

名まえ _____

Ⅰ 四捨五入して、百の位までのがい数で表しましょう。

十の位を
四捨五入

① 9414

(9400)

② 3762

(3800)

③ 5393

(5400)

④ 8074

(8100)

十の位を
四捨五入

⑤ 453

(500)

⑥ 614

(600)

⑦ 280

(300)

⑧ 173

(200)





がい数の
使い方と表し方6

● 百の位までのがい数
(四捨五入)



日にち： 月 日

名まえ _____

Ⅰ 四捨五入して、百の位までのがい数で表しましょう。

① 9942

(9900)

② 3247

(3200)

③ 743

(700)

④ 876

(900)

⑤ 9832

(9800)

⑥ 4671

(4700)

⑦ 288

(300)

⑧ 301

(300)



がい数の
使い方と表し方6

● 百の位までのがい数
(四捨五入)



日にち： 月 日

名まえ _____

Ⅰ 四捨五入して、百の位までのがい数で表しましょう。

① 6381

(6400)

② 1209

(1200)

③ 573

(600)

④ 248

(200)

⑤ 9153

(9200)

⑥ 3876

(3900)

⑦ 342

(300)

⑧ 578

(600)



がい数の
使い方と表し方6

● 百の位までのがい数
(四捨五入)

12

日にち： 月 日

名まえ _____

Ⅰ 四捨五入して、百の位までのがい数で表しましょう。

① 4 5 0 3

(4500)

② 3 2 4 7

(3200)

③ 6 0 5

(600)

④ 8 9 1

(900)

⑤ 1 7 4 6

(1700)

⑥ 9 5 7 2

(9600)

⑦ 2 8 6

(300)

⑧ 4 3 0

(400)



がい数の
使い方と表し方6

● 百の位までのがい数
(四捨五入)

13

日にち： 月 日

名まえ _____

Ⅰ 四捨五入して、百の位までのがい数で表しましょう。

① 3 7 8 4

(3800)

② 1 2 3 0

(1200)

③ 4 9 2

(500)

④ 8 7 2

(900)

⑤ 5 6 5 9

(5700)

⑥ 2 8 4 7

(2800)

⑦ 6 1 3

(600)

⑧ 7 1 1

(700)



がい数の
使い方と表し方6

● 百の位までのがい数
(四捨五入)

14

日にち： 月 日

名まえ _____

Ⅰ 四捨五入して、百の位までのがい数で表しましょう。

① 2491

(2500)

② 8842

(8800)

③ 729

(700)

④ 310

(300)

⑤ 8073

(8100)

⑥ 4650

(4700)

⑦ 635

(600)

⑧ 174

(200)




がい数の
使い方と表し方 6

● 百の位までのがい数
(四捨五入)

15

めざせ80点!



名まえ _____

Ⅰ 四捨五入して、百の位までのがい数で表しましょう。(各20点)

① 8 5 6 0

(8600)

② 4 9 2

(500)

③ 6 3 8

(600)

④ 9 1 1 3

(9100)

⑤ 3 8 7 6

(3900)





がい数の
使い方と表し方 6

● 百の位までのがい数
(四捨五入)

16

めざせ80点!



名まえ _____

Ⅰ 四捨五入して、百の位までのがい数で表しましょう。(各20点)

① 7 1 3 8

(7100)

② 2 6 5

(300)

③ 8 3 1

(800)

④ 5 3 7

(500)

⑤ 1 9 4 2

(1900)