



がい数の 使い方と表し方⑨

● 上から2けた、
3けたのがい数（四捨五入）

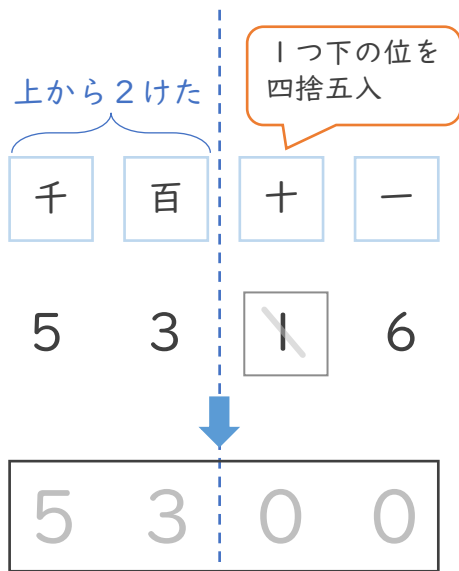


日にち： 月 日

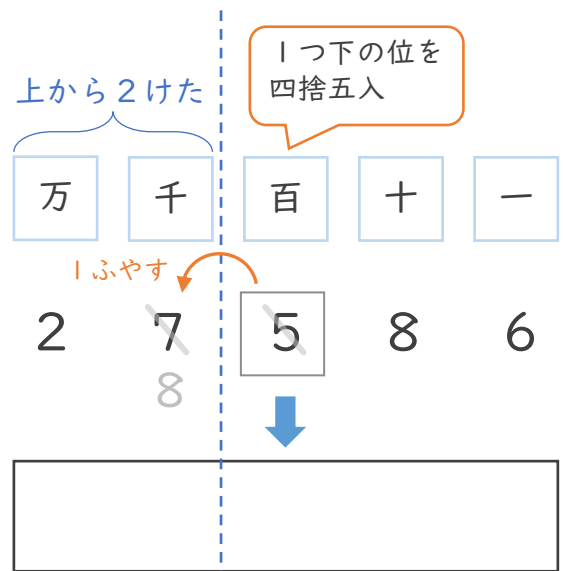
名まえ _____

1 四捨五入して、上から2けたのがい数で表しましょう。

① 5316

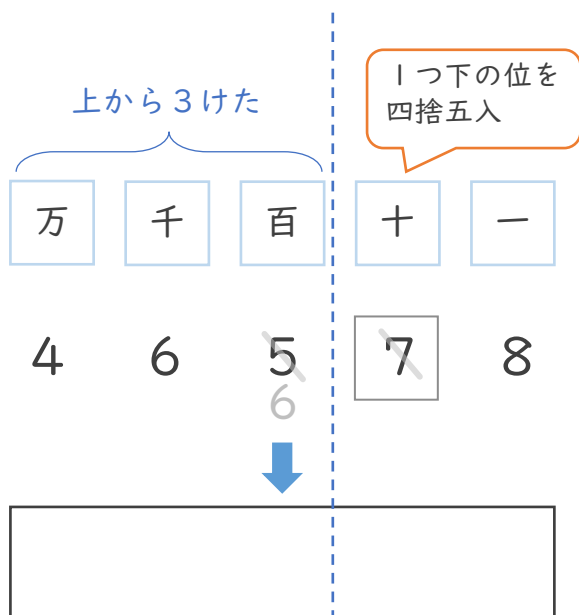


② 27586

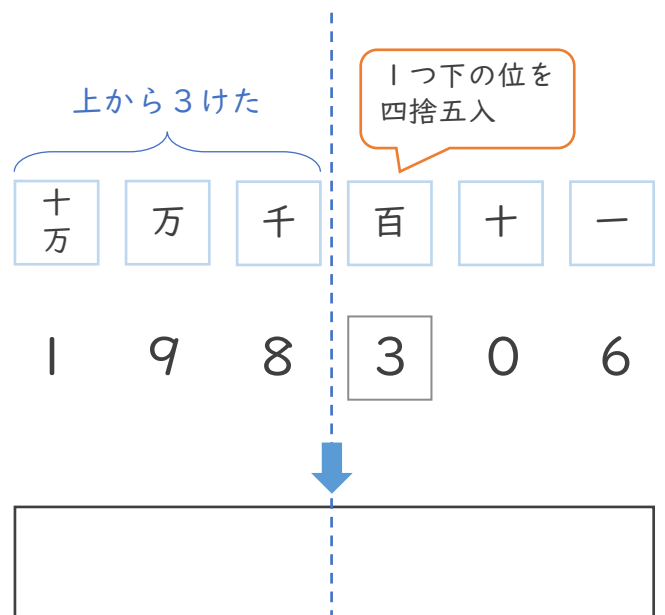


2 四捨五入して、上から3けたのがい数で表しましょう。

① 46578



② 198306





がい数の 使い方と表し方⑨

● 上から2けた、
3けたのがい数 (四捨五入)

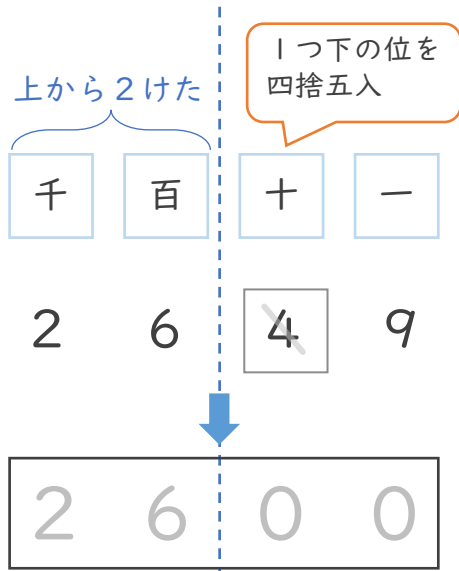


日にち： 月 日

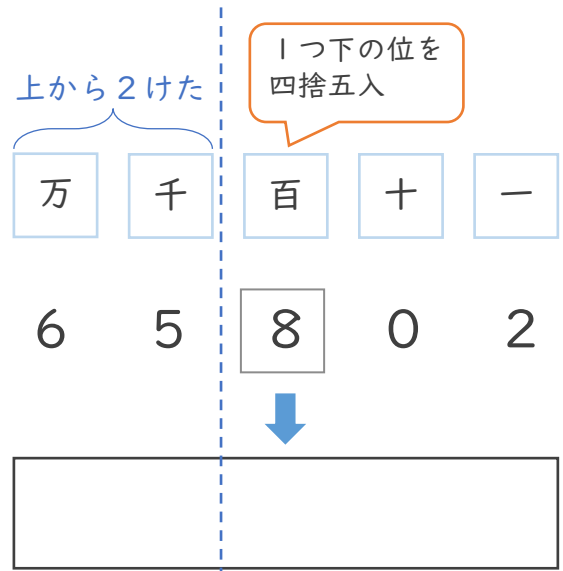
名まえ _____

1 四捨五入して、上から2けたのがい数で表しましょう。

① 2649

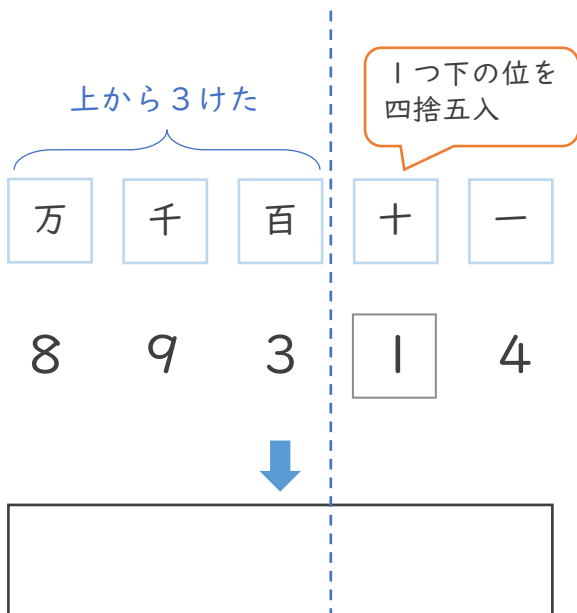


② 65802

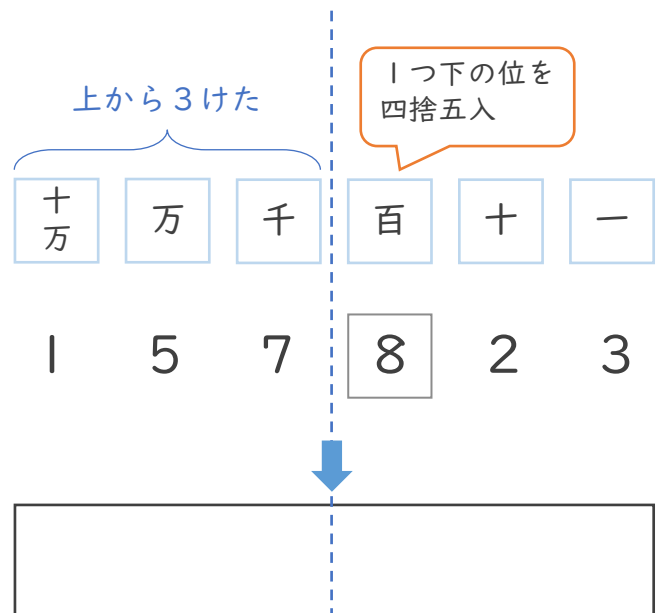


2 四捨五入して、上から3けたのがい数で表しましょう。

① 89314



② 157823





がい数の 使い方と表し方⑨

● 上から2けた、
3けたのがい数（四捨五入）



日にち： 月 日

名まえ _____

1 四捨五入して、上から2けたのがい数で表しましょう。

① 7823

② 25971

上から2けた

千	百	十	一
7	8	2	3

1つ下の位を四捨五入

7	8	0	0
---	---	---	---

万	千	百	十	一
2	5	9	7	1

--	--	--	--	--

2 四捨五入して、上から3けたのがい数で表しましょう。

① 93408

② 412678

上から3けた

万	千	百	十	一
9	3	4	0	8

1つ下の位を四捨五入

--	--	--	--	--

十万	万	千	百	十	一
4	1	2	6	7	8

--	--	--	--	--	--



がい数の 使い方と表し方⑨

● 上から2けた、
3けたのがい数（四捨五入）



日にち： 月 日

名まえ _____

1 四捨五入して、上から2けたのがい数で表しましょう。

① 1709

② 57832

上から2けた

千	百	十	一
1	7	0	9

1つ下の位を四捨五入

↓

1	7	0	0
---	---	---	---

万	千	百	十	一
5	7	8	3	2

↓

--	--	--	--	--

2 四捨五入して、上から3けたのがい数で表しましょう。

① 23175

② 698075

上から3けた

万	千	百	十	一
2	3	1	7	5

1つ下の位を四捨五入

↓


--	--	--	--	--

十万	万	千	百	十	一
6	9	8	0	7	5

↓

--	--	--	--	--	--





がい数の 使い方と表し方 9

5

- 上から2けた,
3けたのがい数 (四捨五入)

日にち： 月 日

名まえ _____

1 四捨五入して、上から2けたのがい数で表しましょう。

上から
2けた

1つ下の位を
四捨五入

① 2431

② 8097

()

()

③ 67192

④ 3318

()

()

2 四捨五入して、上から3けたのがい数で表しましょう。

上から
3けた

1つ下の位を
四捨五入

① 60239

② 192823

()

()

③ 31846

④ 546613

()

()





がい数の
使い方と表し方⑨

- 上から2けた、
3けたのがい数（四捨五入）



日にち： 月 日

名まえ _____

1 四捨五入して、上から2けたのがい数で表しましょう。

上から
2けた

1つ下の位を
四捨五入

① 1052

()

② 98413

()

③ 47256

()

④ 8103

()

2 四捨五入して、上から3けたのがい数で表しましょう。

上から
3けた

1つ下の位を
四捨五入

① 54872

()

② 907465

()


③ 34814

()

④ 125586

()





がい数の 使い方と表し方9

● 上から2けた,
3けたのがい数 (四捨五入)



日にち： 月 日

名まえ _____

1 四捨五入して、上から2けたのがい数で表しましょう。

上から
2けた

1つ下の位を
四捨五入

① 5064

()

② 85037

()

③ 21596

()

④ 4398

()

2 四捨五入して、上から3けたのがい数で表しましょう。

上から
3けた

1つ下の位を
四捨五入

① 19328

()

② 581426

()

③ 93181

()

④ 801563

()



がい数の
使い方と表し方 9



● 上から 2 けた、
3 けたのがい数 (四捨五入)

日にち： 月 日

名まえ _____

1 四捨五入して、上から 2 けたのがい数で表しましょう。

上から
2 けた
1 つ下の位を
四捨五入

① 5 4 9 2

()

② 2 1 8 4 8

()

③ 3 7 8 9 5

()

④ 4 6 0 5

()

2 四捨五入して、上から 3 けたのがい数で表しましょう。

上から
3 けた
1 つ下の位を
四捨五入

① 7 9 8 6 1

()

② 3 5 5 0 4 2

()

③ 1 6 2 3 2

()

④ 9 2 5 1 7 8

()





がい数の 使い方と表し方9



- 上から2けた,
3けたのがい数 (四捨五入)

日にち： 月 日

名まえ _____

1 四捨五入して、上から2けたのがい数で表しましょう。

上から
2けた
1つ下の位を
四捨五入

① 4922

② 84376

()

()

③ 64859

④ 2380

()

()

2 四捨五入して、上から3けたのがい数で表しましょう。

上から
3けた
1つ下の位を
四捨五入

① 78564

② 124930

()

()

③ 51882

④ 903794

()

()



がい数の
使い方と表し方⑨

① 上から2けた,
3けたのがい数(四捨五入)



日にち： 月 日

名まえ _____

1 四捨五入して、上から2けたのがい数で表しましょう。

① 1 3 7 9

② 3 0 6 4 9

()

()

2 四捨五入して、上から3けたのがい数で表しましょう。

① 8 3 3 7 8 2

② 9 3 6 5 6

()

()

③ 6 5 1 3 5

④ 4 7 7 6 8 0

()

()

3 四捨五入して、千の位までのがい数で表しましょう。

① 3 3 7 9

② 4 8 6 4 9

()

()





がい数の 使い方と表し方⑨

● 上から2けた、
3けたのがい数（四捨五入）



日にち： 月 日

名まえ _____

1 四捨五入して、上から2けたのがい数で表しましょう。

① 6 2 4 3

② 1 5 7 8 2

()

()

2 四捨五入して、上から3けたのがい数で表しましょう。

① 8 9 3 1 5

② 3 1 6 7 5 2

()

()

③ 7 8 2 3 6

④ 2 5 9 4 1 6

()

()

3 四捨五入して、千の位までのがい数で表しましょう。

① 9 3 4 0

② 4 1 8 6 7

()

()



がい数の
使い方と表し方⑨

● 上から2けた、
3けたのがい数（四捨五入）

12

日にち： 月 日

名まえ _____

1 四捨五入して、上から2けたのがい数で表しましょう。

① 1089

② 57832

()

()

2 四捨五入して、上から3けたのがい数で表しましょう。

① 23145

② 690872

()

()

③ 10569

④ 984132

()

()

3 四捨五入して、一万の位までのがい数で表しましょう。

① 47256

② 810395

()

()



がい数の
使い方と表し方 9

● 上から2けた,
3けたのがい数 (四捨五入)

13

日にち： 月 日

名まえ _____

1 四捨五入して、上から2けたのがい数で表しましょう。

① 5 4 9 7

()

② 9 0 7 4 6

()

2 四捨五入して、上から3けたのがい数で表しましょう。

① 3 6 2 8 4

()

② 1 2 7 5 8 0

()

③ 7 3 5 6 2

()

④ 4 5 5 1 9 6

()

3 四捨五入して、一万の位までのがい数で表しましょう。

① 9 2 6 1 9

()

② 2 8 5 3 4 6

()



がい数の
使い方と表し方⑨

- 上から2けた,
3けたのがい数 (四捨五入)

15

めざせ80点!



名まえ _____

1 四捨五入して、上から2けたのがい数で表しましょう。(各20点)

① 2 7 2 3

② 6 7 8 3 2

()

()

2 四捨五入して、上から3けたのがい数で表しましょう。(各20点)

① 3 6 8 8 2

② 3 7 8 9 2 7

()

()

③ 1 9 2 4 7 3

()



がい数の
使い方と表し方⑨

- 上から2けた,
3けたのがい数 (四捨五入)

16

めざせ80点!



名まえ _____

1 四捨五入して、上から2けたのがい数で表しましょう。(各20点)

① 5 4 9 2

② 2 1 8 4 9

()

()

2 四捨五入して、上から3けたのがい数で表しましょう。(各20点)

① 3 7 8 9 5

② 4 6 0 5 7 2

()

()

③ 4 9 8 1 1 5

()



がい数の 使い方と表し方⑨

● 上から2けた、
3けたのがい数（四捨五入）

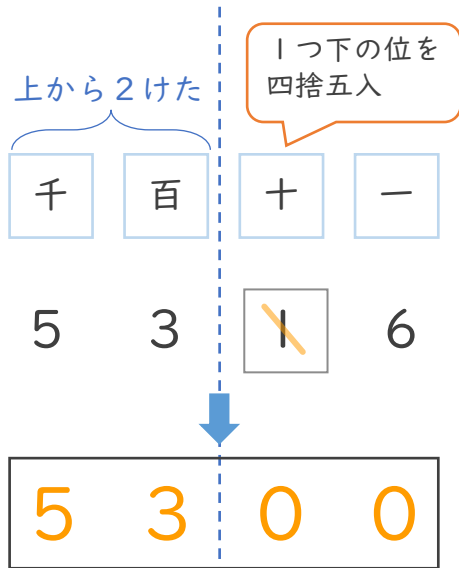


日にち： 月 日

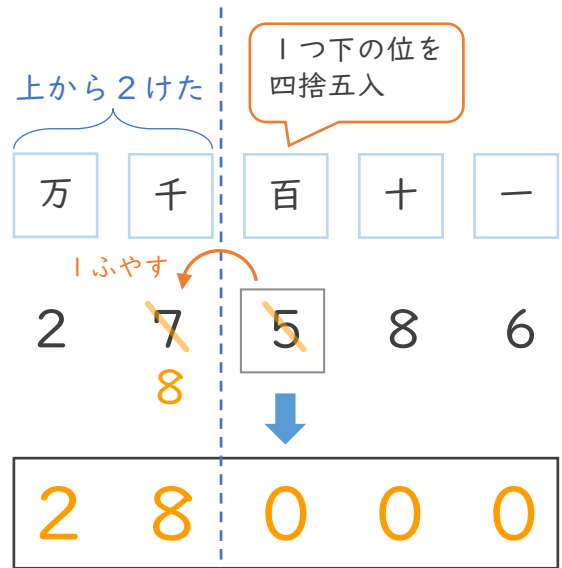
名まえ _____

1 四捨五入して、上から2けたのがい数で表しましょう。

① 5316

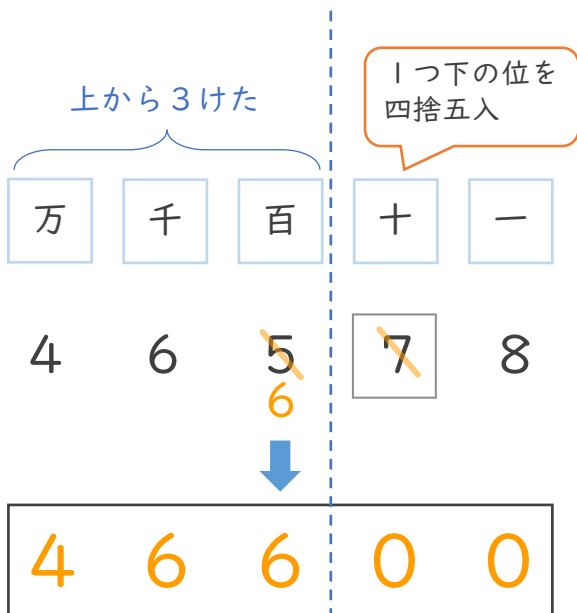


② 27586

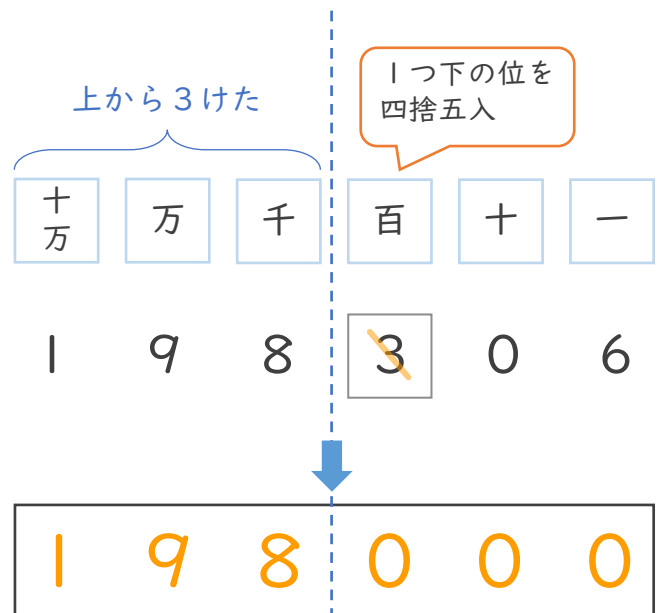


2 四捨五入して、上から3けたのがい数で表しましょう。

① 46578



② 198306





がい数の 使い方と表し方⑨

● 上から2けた、
3けたのがい数（四捨五入）

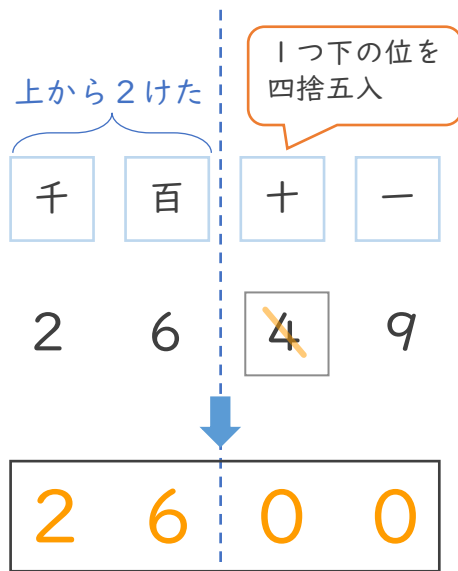


日にち： 月 日

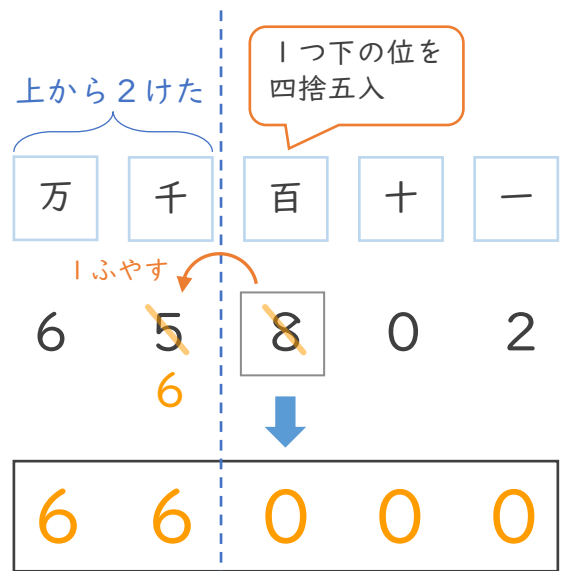
名まえ _____

1 四捨五入して、上から2けたのがい数で表しましょう。

① 2649



② 65802

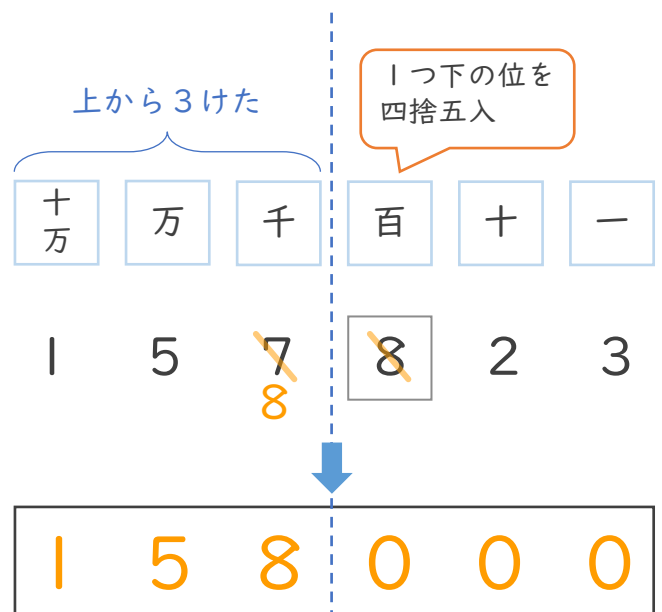


2 四捨五入して、上から3けたのがい数で表しましょう。

① 89314



② 157823





がい数の 使い方と表し方⑨

● 上から2けた、
3けたのがい数（四捨五入）

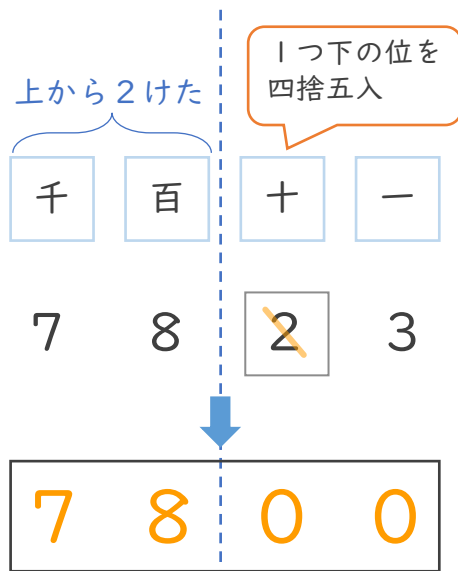


日にち： 月 日

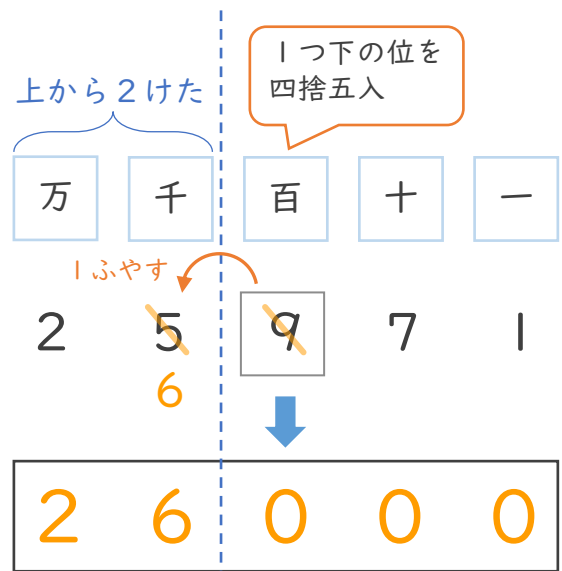
名まえ _____

1 四捨五入して、上から2けたのがい数で表しましょう。

① 7823

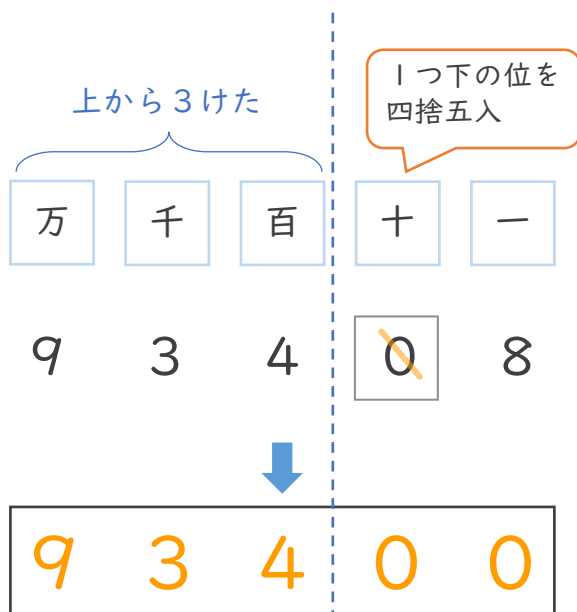


② 25971

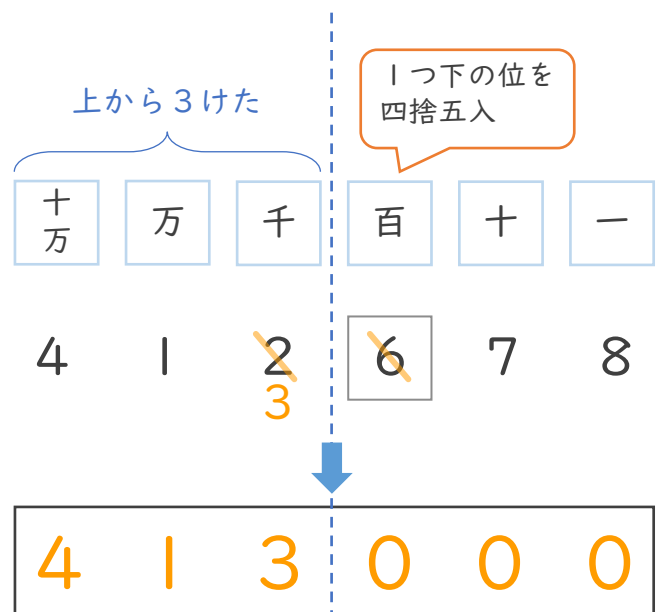


2 四捨五入して、上から3けたのがい数で表しましょう。

① 93408



② 412678





がい数の 使い方と表し方⑨

● 上から2けた、
3けたのがい数（四捨五入）

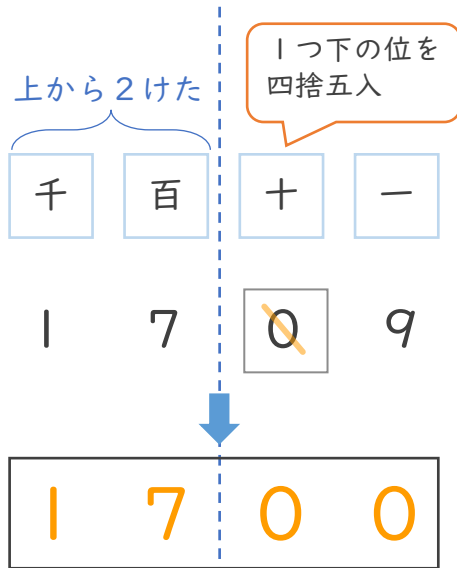


日にち： 月 日

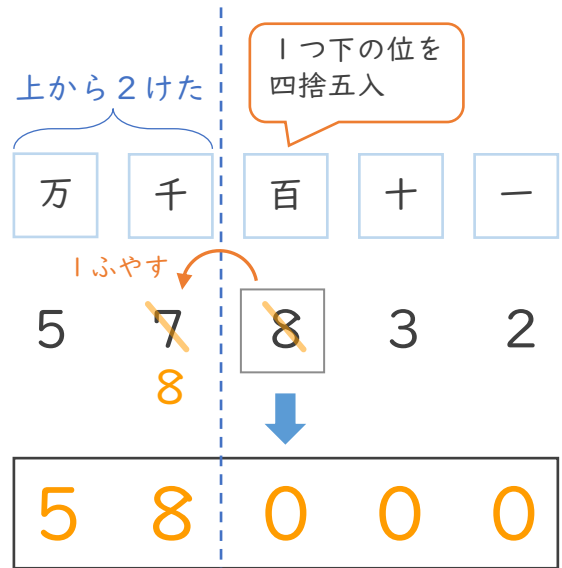
名まえ _____

1 四捨五入して、上から2けたのがい数で表しましょう。

① 1709



② 57832

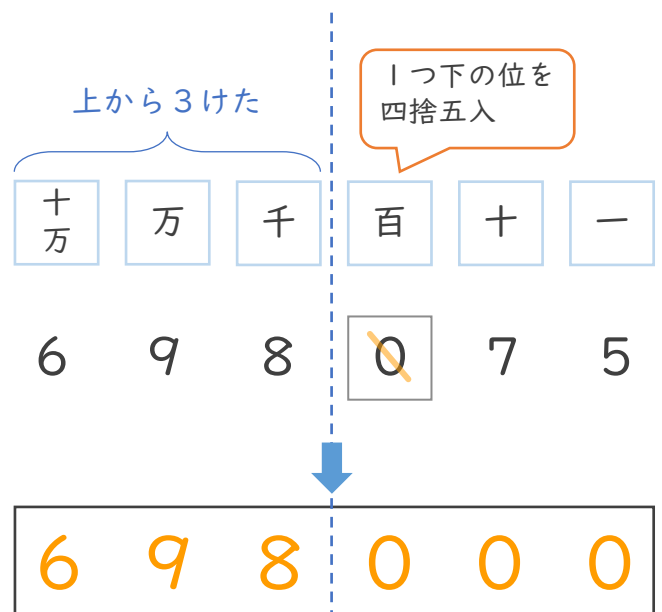


2 四捨五入して、上から3けたのがい数で表しましょう。

① 23175



② 698075





がい数の 使い方と表し方⑨

● 上から2けた、
3けたのがい数（四捨五入）



日にち： 月 日

名まえ _____

1 四捨五入して、上から2けたのがい数で表しましょう。

上から
2けた

1つ下の位を
四捨五入

① 2 4 3 1

(2400)

② 8 0 9 7

(8100)

③ 6 7 1 9 2

(67000)

④ 3 3 1 8

(3300)

2 四捨五入して、上から3けたのがい数で表しましょう。

上から
3けた

1つ下の位を
四捨五入

① 6 0 2 3 9

(60200)

② 1 9 2 8 2 3

(193000)

③ 3 1 8 4 6

(31800)

④ 5 4 6 6 1 3

(547000)





がい数の 使い方と表し方⑨

● 上から2けた、
3けたのがい数（四捨五入）



日にち： 月 日

名まえ _____

1 四捨五入して、上から2けたのがい数で表しましょう。

上から
2けた

1つ下の位を
四捨五入

① 1 0 5 2

(1 1 0 0)

② 9 8 4 1 3

(9 8 0 0 0)

③ 4 7 2 5 6

(4 7 0 0 0)

④ 8 1 0 3

(8 1 0 0)

2 四捨五入して、上から3けたのがい数で表しましょう。

上から
3けた

1つ下の位を
四捨五入

① 5 4 8 7 2

(5 4 9 0 0)

② 9 0 7 4 6 5

(9 0 8 0 0 0)

③ 3 4 8 1 4

(3 4 8 0 0)

④ 1 2 5 5 8 6

(1 2 6 0 0 0)





がい数の 使い方と表し方⑨

● 上から2けた、
3けたのがい数（四捨五入）



日にち： 月 日

名まえ _____

1 四捨五入して、上から2けたのがい数で表しましょう。

上から
2けた

1つ下の位を
四捨五入

① 5064

(5100)

② 85037

(85000)

③ 21596

(22000)

④ 4398

(4400)

2 四捨五入して、上から3けたのがい数で表しましょう。

上から
3けた

1つ下の位を
四捨五入

① 19328

(19300)

② 581426

(581000)

③ 93181

(93200)

④ 801563

(802000)





がい数の 使い方と表し方⑨

● 上から2けた、
3けたのがい数（四捨五入）



日にち： 月 日

名まえ _____

1 四捨五入して、上から2けたのがい数で表しましょう。

上から
2けた

1つ下の位を
四捨五入

① 5 4 9 2

(5500)

② 2 1 8 4 8

(22000)

③ 3 7 8 9 5

(38000)

④ 4 6 0 5

(4600)

2 四捨五入して、上から3けたのがい数で表しましょう。

上から
3けた

1つ下の位を
四捨五入

① 7 9 8 6 1

(79900)

② 3 5 5 0 4 2

(355000)

③ 1 6 2 3 2

(16200)

④ 9 2 5 1 7 8

(925000)





がい数の 使い方と表し方9

● 上から2けた、
3けたのがい数（四捨五入）



日にち： 月 日

名まえ _____

1 四捨五入して、上から2けたのがい数で表しましょう。

上から
2けた

1つ下の位を
四捨五入

① 4 9 2 2

(4900)

② 8 4 3 7 6

(84000)

③ 6 4 8 5 9

(65000)

④ 2 3 8 0

(2400)

2 四捨五入して、上から3けたのがい数で表しましょう。

上から
3けた

1つ下の位を
四捨五入

① 7 8 5 6 4

(78600)

② 1 2 4 9 3 0

(125000)

③ 5 1 8 8 2

(51900)

④ 9 0 3 7 9 4

(904000)





がい数の
使い方と表し方⑨

● 上から2けた、
3けたのがい数（四捨五入）



日にち： 月 日

名まえ _____

1 四捨五入して、上から2けたのがい数で表しましょう。

① 1 3 7 9

② 3 0 6 4 9

(1400)

(31000)

2 四捨五入して、上から3けたのがい数で表しましょう。

① 8 3 3 7 8 2

② 9 3 6 5 6

(834000)

(93700)

③ 6 5 1 3 5

④ 4 7 7 6 8 0

(65100)

(478000)

3 四捨五入して、千の位までのがい数で表しましょう。

① 3 3 7 9

② 4 8 6 4 9

(3000)

(49000)





がい数の
使い方と表し方⑨

● 上から2けた、
3けたのがい数（四捨五入）



日にち： 月 日

名まえ _____

1 四捨五入して、上から2けたのがい数で表しましょう。

① 6 2 4 3

② 1 5 7 8 2

(6200)

(16000)

2 四捨五入して、上から3けたのがい数で表しましょう。

① 8 9 3 1 5

② 3 1 6 7 5 2

(89300)

(317000)

③ 7 8 2 3 6

④ 2 5 9 4 1 6

(78200)

(259000)

3 四捨五入して、千の位までのがい数で表しましょう。

① 9 3 4 0

② 4 1 8 6 7

(9000)

(42000)





がい数の
使い方と表し方⑨

● 上から2けた、
3けたのがい数（四捨五入）

12

日にち： 月 日

名まえ _____

1 四捨五入して、上から2けたのがい数で表しましょう。

① 1089

② 57832

(1100)

(58000)

2 四捨五入して、上から3けたのがい数で表しましょう。

① 23145

② 690872

(23100)

(691000)

③ 10569

④ 984132

(10600)

(984000)

3 四捨五入して、一万の位までのがい数で表しましょう。

① 47256

② 810395

(50000)

(810000)





がい数の
使い方と表し方⑨

● 上から2けた、
3けたのがい数（四捨五入）

13

日にち： 月 日

名まえ _____

1 四捨五入して、上から2けたのがい数で表しましょう。

① 5 4 9 7

② 9 0 7 4 6

(5500)

(91000)

2 四捨五入して、上から3けたのがい数で表しましょう。

① 3 6 2 8 4

② 1 2 7 5 8 0

(36300)

(128000)

③ 7 3 5 6 2

④ 4 5 5 1 9 6

(73600)

(455000)

3 四捨五入して、一万の位までのがい数で表しましょう。

① 9 2 6 1 9

② 2 8 5 3 4 6

(90000)

(290000)



がい数の
使い方と表し方⑨

● 上から2けた、
3けたのがい数（四捨五入）

14

日にち： 月 日

名まえ _____

1 四捨五入して、上から2けたのがい数で表しましょう。

① 5064

② 85037

(5100)

(85000)

2 四捨五入して、上から3けたのがい数で表しましょう。

① 21696

② 437852

(21700)

(438000)

③ 19328

④ 581420

(19300)

(581000)

3 四捨五入して、一万の位までのがい数で表しましょう。

① 73271

② 838562

(70000)

(840000)



がい数の
使い方と表し方⑨

- 上から2けた,
3けたのがい数(四捨五入)

15

めざせ80点!



名まえ _____

1 四捨五入して、上から2けたのがい数で表しましょう。(各20点)

① 2 7 2 3

② 6 7 8 3 2

(2700)

(68000)

2 四捨五入して、上から3けたのがい数で表しましょう。(各20点)

① 3 6 8 8 2

② 3 7 8 9 2 7

(36900)

(379000)

③ 1 9 2 4 7 3

(192000)



がい数の
使い方と表し方⑨

- 上から2けた,
3けたのがい数(四捨五入)

16

めざせ80点!



名まえ _____

1 四捨五入して、上から2けたのがい数で表しましょう。(各20点)

① 5492

② 21849

(5500)

(22000)

2 四捨五入して、上から3けたのがい数で表しましょう。(各20点)

① 37895

② 460572

(37900)

(461000)

③ 498115

(498000)