



わり算の筆算 17

◎ 3けたのわり算の文章題
(商+1)



日にち： 月 日

名まえ _____

- 1 けいたさんは、265問の計算問題をとくのに1日に9問ずつときます。とき終わるまでに何日かかりますか。

(うすい字はなぞりましょう。)

式: $265 \div 9 =$ あまり

$29 + 1 = 30$

29日だとあと4問

残ってしまうから…



答え 30日

- 2 ゆりさんは、おり紙でメダルを87こ作ることにしました。1日に4こずつ作ると、作り終わるのに何日かかりますか。

(うすい字はなぞりましょう。)

式: $\div =$ あまり

$+ 1 =$

答え _____



わり算の筆算 17

◎ 3けたのわり算の文章題
(商+1)



日にち： 月 日

名まえ _____

- 1 183ページの本があります。これを1日に8ページずつ読んでいきます。全部読み終わるには、何日かかりますか。

(うすい字はなぞりましょう。)

$$\begin{array}{r} \text{式: } 183 \div 8 = \\ \quad \quad \quad + \quad | = \end{array}$$

22日だと



あと7ページ残ってしまうから…

答え _____

日

- 2 いちごが96こあります。これを1パックに9こずつ入れます。全部のいちごを入れるには、いれものは何パックあればよいですか。

(うすい字はなぞりましょう。)

$$\begin{array}{r} \text{式: } \quad \quad \div \quad = \quad \text{あまり} \\ \quad \quad \quad + \quad | = \end{array}$$

答え _____



わり算の筆算 17

◎ 3けたのわり算の文章題
(商+1)



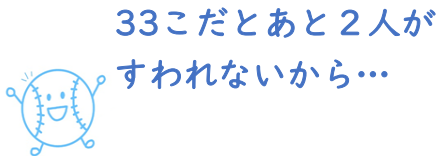
日にち： 月 日

名まえ _____

- 1 167人の小学生が、5人ずつ長いすにすわります。
全員すわるには何この長いすが必要ですか。

(うすい字はなぞりましょう。)

式: \div =



33こだとあと2人が
すわれないから...

答え _____

こ

- 2 けいとさんは、263ページの計算ドリルをとくのに1日に
6ページずつときます。とき終わるまでに何日かかりますか。

式:

答え _____



わり算の筆算 17

◎ 3けたのわり算の文章題
(商+1)



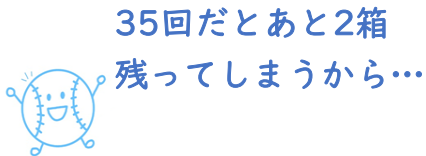
日にち： 月 日

名まえ _____

- 1 同じ大きさの箱が、107箱あります。これを1回に3こずつ運ぶと何回で運び終わりますか。

(うすい字はなぞりましょう。)

式： $\quad \div \quad =$



答え _____

- 2 64人の子どもが、6人ずつ車に乗ります。全員乗るには何台の車が必要ですか。

式：

答え _____



わり算の筆算 17

◎ 3けたのわり算の文章題
(商+1)



日にち： 月 日

名まえ _____

- 1 花が94本あります。この花を5本ずつ花びんにさします。
全部の花をさすには、花びんはいくつあればよいですか。

(うすい字はなぞりましょう。)

式： $\div =$
 $+ | =$

答え _____

こ

- 2 245ページの本があります。これを1日に9ページずつ読んで
いきます。全部読み終わるには、何日かかりますか。

式:

答え _____



わり算の筆算 17

◎ 3けたのわり算の文章題
(商+1)



日にち： 月 日

名まえ _____

- 1 りささんは、おり紙でメダルを93こ作ることにしました。
1日に8こずつ作ると、作り終わるのに何日かかりますか。

(うすい字はなぞりましょう。)

式： \div =

答え _____

- 2 けいたさんは、213ページの計算ドリルをとくのに1日に
2ページずつときます。とき終わるまでに何日かかりますか。

式：

答え _____



わり算の筆算 17

◎ 3けたのわり算の文章題
(商+1)



日にち： 月 日

名まえ _____

- 1 206ページの本があります。これを1日に8ページずつ読んでいきます。全部読み終わるには、何日かかりますか。

式:

答え _____

- 2 415人の小学生が、4人ずつ長いすにすわります。全員すわるには何この長いすが必要ですか。

式:

答え _____



わり算の筆算 17

◎ 3けたのわり算の文章題
(商+1)



日にち： 月 日

名まえ _____

- 1 81人の子どもが、7人ずつ車に乗ります。
全員乗るには何台の車が必要ですか。

式:

答え _____

- 2 花が184本あります。この花を5本ずつ花びんにさします。
全部の花をさすには、花びんはいくつあればよいですか。

式:

答え _____



わり算の筆算 17

◎ 3けたのわり算の文章題
(商+1)



日にち： 月 日

名まえ _____

- 1 しほさんは、188問の計算問題をとくのに1日に8問ずつときます。とき終わるまでに何日かかりますか。

式:

答え _____

- 2 182ページの本があります。これを1日に9ページずつ読んでいきます。全部読み終わるには、何日かかりますか。

式:

答え _____



わり算の筆算 17

◎ 3けたのわり算の文章題
(商+1)



日にち： 月 日

名まえ _____

- 1 そうたさんは、265問の計算問題をとくのに1日に9問ずつときます。とき終わるまでに何日かかりますか。

式:

答え _____

- 2 501このケーキを、4こずつ箱につめます。ケーキが4こ入った箱は、何箱できますか。

式:

答え _____



わり算の筆算 17

● 3けたのわり算の文章題
(商+1)



日にち： 月 日

名まえ _____

- 1 同じ大きさの箱が107箱あります。これを1回に3こずつ運ぶと何回で運び終わりますか。

式:

答え _____

- 2 632本の花を、5本ずつたばにします。5本のたばは、何たばできますか。

式:

答え _____



わり算の筆算 17

● 3けたのわり算の文章題
(商+1)



日にち： 月 日

名まえ _____

- 1 116このパンを、7こずつふくろにつめます。
パンが7こずつ入ったふくろは、何ふくろできますか。

式:

答え _____

- 2 415人の小学生が、4人ずつ長いすにすわります。
全員すわるには何この長いすが必要ですか。

式:

答え _____



わり算の筆算 17

◎ 3けたのわり算の文章題
(商+1)



日にち： 月 日

名まえ _____

- 1 リさんは、おり紙でメダルを93こ作ることにしました。
1日に8こずつ作ると、作り終わるのに何日かかりますか。

式:

答え _____

- 2 326このクッキーを、3こずつふくろにつめます。
クッキーが3こ入ったふくろは、何ふくろできますか。

式:

答え _____



わり算の筆算 17

◎ 3けたのわり算の文章題
(商+1)

14

日にち： 月 日

名まえ _____

- 1 163cmのテープを、9cmずつに切ります。
9cmのテープは何本とれますか。

式:

答え _____

- 2 239ページの本があります。これを1日に5ページずつ読んでいきます。全部読み終わるには、何日かかりますか。

式:

答え _____



わり算の筆算 17

◎ 3けたのわり算の文章題
(商+1)

15

目指せ100点!



名まえ _____

- 1 328ページの本があります。これを1日に6ページずつ読んでいきます。全部読み終わるには、何日かかりますか。

(50点)

式:

答え _____

- 2 602このチョコレートを、4こずつふくろにつめます。チョコレートが4こ入ったふくろは、何ふくろできますか。

(50点)

式:

答え _____




わり算の筆算 17

◎ 3けたのわり算の文章題
(商+1)

16

目指せ100点!



名まえ

- 1 81人の子どもが、7人ずつ車に乗ります。
全員乗るには何台の車が必要ですか。

(50点)

式:

答え

- 2 511このケーキを4こずつ箱につめます。
ケーキが4こ入った箱は、何箱できますか。

(50点)

式:

答え



わり算の筆算 17

◎ 3けたのわり算の文章題
(商+1)



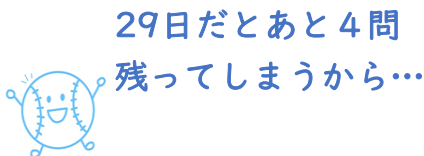
日にち： 月 日

名まえ _____

- 1 けいたさんは、265問の計算問題をとくのに1日に9問ずつときます。とき終わるまでに何日かかりますか。

(うすい字はなぞりましょう。)

$$\begin{aligned} \text{式: } 265 \div 9 &= 29 \text{ あまり } 4 \\ 29 + 1 &= 30 \end{aligned}$$



答え 30日

$$\begin{array}{r} 29 \\ 9 \overline{) 265} \\ \underline{18} \\ 85 \\ \underline{81} \\ 4 \end{array}$$

- 2 ゆりさんは、おり紙でメダルを87こ作ることにしました。1日に4こずつ作ると、作り終わるのに何日かかりますか。

(うすい字はなぞりましょう。)

$$\begin{aligned} \text{式: } 87 \div 4 &= 21 \text{ あまり } 3 \\ 21 + 1 &= 22 \end{aligned}$$

答え 22日

$$\begin{array}{r} 21 \\ 4 \overline{) 87} \\ \underline{8} \\ 7 \\ \underline{4} \\ 3 \end{array}$$



わり算の筆算 17

◎ 3けたのわり算の文章題
(商+1)



日にち： 月 日

名まえ _____

- 1 183ページの本があります。これを1日に8ページずつ読んでいきます。全部読み終わるには、何日かかりますか。

(うすい字はなぞりましょう。)

$$\begin{aligned} \text{式: } & 183 \div 8 = 22 \text{あまり} 7 \\ & 22 + 1 = 23 \end{aligned}$$

22日だと



あと7ページ残ってしまうから…

答え 23日

$$\begin{array}{r} 22 \\ 8 \overline{) 183} \\ \underline{16} \\ 23 \\ \underline{16} \\ 7 \end{array}$$

- 2 いちごが96こあります。これを1パックに9こずつ入れます。全部のいちごを入れるには、いれものは何パックあればよいですか。

(うすい字はなぞりましょう。)

$$\begin{aligned} \text{式: } & 96 \div 9 = 10 \text{あまり} 6 \\ & 10 + 1 = 11 \end{aligned}$$

答え 11パック

$$\begin{array}{r} 10 \\ 9 \overline{) 96} \\ \underline{9} \\ 6 \\ \underline{0} \\ 6 \end{array}$$

※ここは省くことができるよ!



わり算の筆算 17

◎ 3けたのわり算の文章題
(商+1)



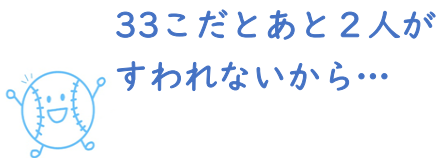
日にち： 月 日

名まえ _____

- 1 167人の小学生が、5人ずつ長いすにすわります。
全員すわるには何この長いすが必要ですか。

(うすい字はなぞりましょう。)

$$\begin{aligned} \text{式: } 167 \div 5 &= 33 \text{あまり} 2 \\ 33 + 1 &= 34 \end{aligned}$$



$$\begin{array}{r} 33 \\ 5 \overline{) 167} \\ \underline{15} \\ 17 \\ \underline{15} \\ 2 \end{array}$$

答え 34こ

- 2 けいとさんは、263ページの計算ドリルをとくのに1日に
6ページずつときます。とき終わるまでに何日かかりますか。

$$\begin{aligned} \text{式: } 263 \div 6 &= 43 \text{あまり} 5 \\ 43 + 1 &= 44 \end{aligned}$$

$$\begin{array}{r} 43 \\ 6 \overline{) 263} \\ \underline{24} \\ 23 \\ \underline{18} \\ 5 \end{array}$$

答え 44日



わり算の筆算 17

◎ 3けたのわり算の文章題
(商+1)



日にち： 月 日

名まえ _____

1 同じ大きさの箱が、107箱あります。これを1回に3こずつ運ぶと何回で運び終わりますか。

(うすい字はなぞりましょう。)

$$\begin{aligned} \text{式: } 107 \div 3 &= 35 \text{ あまり } 2 \\ 35 + 1 &= 36 \end{aligned}$$

35回だとあと2箱
残ってしまうから…



答え 36回

$$\begin{array}{r} 35 \\ 3 \overline{)107} \\ \underline{9} \\ 17 \\ \underline{15} \\ 2 \end{array}$$

2 64人の子どもが、6人ずつ車に乗ります。全員乗るには何台の車が必要ですか。

$$\begin{aligned} \text{式: } 64 \div 6 &= 10 \text{ あまり } 4 \\ 10 + 1 &= 11 \end{aligned}$$

答え 11台

$$\begin{array}{r} 10 \\ 6 \overline{)64} \\ \underline{6} \\ 4 \end{array}$$

※ここは省くことができるよ!



わり算の筆算 17

◎ 3けたのわり算の文章題
(商+1)



日にち： 月 日

名まえ _____

- 1 花が94本あります。この花を5本ずつ花びんにさします。
全部の花をさすには、花びんはいくつあればよいですか。

(うすい字はなぞりましょう。)

$$\begin{aligned} \text{式: } 94 \div 5 &= 18 \text{ あまり } 4 \\ 18 + 1 &= 19 \end{aligned}$$

$$\begin{array}{r} 18 \\ 5 \overline{)94} \\ \underline{5} \\ 44 \\ \underline{40} \\ 4 \end{array}$$

答え

19こ

- 2 245ページの本があります。これを1日に9ページずつ読んで
いきます。全部読み終わるには、何日かかりますか。

$$\begin{aligned} \text{式: } 245 \div 9 &= 27 \text{ あまり } 2 \\ 27 + 1 &= 28 \end{aligned}$$

$$\begin{array}{r} 27 \\ 9 \overline{)245} \\ \underline{18} \\ 65 \\ \underline{63} \\ 2 \end{array}$$

答え

28日



わり算の筆算 17

◎ 3けたのわり算の文章題
(商+1)



日にち： 月 日

名まえ _____

- 1 りささんは、おり紙でメダルを93こ作ることにしました。
1日に8こずつ作ると、作り終わるのに何日かかりますか。

(うすい字はなぞりましょう。)

式: $93 \div 8 = 11$ あまり5

$11 + 1 = 12$

答え

12日

$$\begin{array}{r} 11 \\ 8 \overline{)93} \\ \underline{8} \\ 13 \\ \underline{8} \\ 5 \end{array}$$

- 2 けいたさんは、213ページの計算ドリルをとくのに1日に
2ページずつときます。とき終わるまでに何日かかりますか。

式: $213 \div 2 = 106$ あまり1

$106 + 1 = 107$

答え

107日

※ここは
省くことが
できるよ!

$$\begin{array}{r} 106 \\ 2 \overline{)213} \\ \underline{2} \\ 10 \\ \underline{10} \\ 03 \\ \underline{02} \\ 1 \end{array}$$



わり算の筆算 17

◎ 3けたのわり算の文章題
(商+1)



日にち： 月 日

名まえ _____

- 1 206ページの本があります。これを1日に8ページずつ読んでいきます。全部読み終わるには、何日かかりますか。

$$\begin{aligned} \text{式: } 206 \div 6 &= 34 \text{ あまり } 2 \\ 34 + 1 &= 35 \end{aligned}$$

$$\begin{array}{r} 34 \\ 6 \overline{) 206} \\ \underline{18} \\ 26 \\ \underline{24} \\ 2 \end{array}$$

答え 35日

- 2 415人の小学生が、4人ずつ長いすにすわります。全員すわるには何この長いすが必要ですか。

$$\begin{aligned} \text{式: } 415 \div 4 &= 103 \text{ あまり } 3 \\ 103 + 1 &= 104 \end{aligned}$$

$$\begin{array}{r} 103 \\ 4 \overline{) 415} \\ \underline{4} \\ 15 \\ \underline{12} \\ 3 \end{array}$$

※ここは
省くことが
できるよ!

答え 104こ



わり算の筆算 17

◎ 3けたのわり算の文章題
(商+1)



日にち： 月 日

名まえ

- 1 81人の子どもが、7人ずつ車に乗ります。
全員乗るには何台の車が必要ですか。

$$\begin{aligned} \text{式: } 81 \div 7 &= 11 \text{ あまり } 4 \\ 11 + 1 &= 12 \end{aligned}$$

$$\begin{array}{r} 11 \\ 7 \overline{)81} \\ \underline{7} \\ 11 \\ \underline{7} \\ 4 \end{array}$$

答え 12台

- 2 花が184本あります。この花を5本ずつ花びんにさします。
全部の花をさすには、花びんはいくつあればよいですか。

$$\begin{aligned} \text{式: } 184 \div 5 &= 36 \text{ あまり } 4 \\ 36 + 1 &= 37 \end{aligned}$$

$$\begin{array}{r} 36 \\ 5 \overline{)184} \\ \underline{15} \\ 34 \\ \underline{30} \\ 4 \end{array}$$

答え 37こ



わり算の筆算 17

◎ 3けたのわり算の文章題
(商+1)



日にち： 月 日

名まえ _____

- 1 しほさんは、188問の計算問題をとくのに1日に8問ずつときます。とき終わるまでに何日かかりますか。

$$\begin{aligned} \text{式: } 188 \div 8 &= 23 \text{ あまり } 4 \\ 23 + 1 &= 24 \end{aligned}$$

$$\begin{array}{r} 23 \\ 8 \overline{) 188} \\ \underline{16} \\ 28 \\ \underline{24} \\ 4 \end{array}$$

答え 24日

- 2 182ページの本があります。これを1日に9ページずつ読んでいきます。全部読み終わるには、何日かかりますか。

$$\begin{aligned} \text{式: } 182 \div 9 &= 20 \text{ あまり } 2 \\ 20 + 1 &= 21 \end{aligned}$$

$$\begin{array}{r} 20 \\ 9 \overline{) 182} \\ \underline{18} \\ 2 \end{array}$$

※ここは
省くことが
できるよ!

$$\left[\begin{array}{r} 0 \\ 2 \end{array} \right]$$

答え 21日



わり算の筆算 17

◎ 3けたのわり算の文章題
(商+1)



日にち： 月 日

名まえ _____

- 1 そうたさんは、265問の計算問題をとくのに1日に9問ずつときます。とき終わるまでに何日かかりますか。

$$\begin{aligned} \text{式: } 265 \div 9 &= 29 \text{ あまり } 4 \\ 29 + 1 &= 30 \end{aligned}$$

$$\begin{array}{r} 29 \\ 9 \overline{) 265} \\ \underline{18} \\ 85 \\ \underline{81} \\ 4 \end{array}$$

答え 30日

- 2 501このケーキを、4こずつ箱につめます。ケーキが4こ入った箱は、何箱できますか。

$$\text{式: } 501 \div 4 = 125 \text{ あまり } 1$$

$$\begin{array}{r} 125 \\ 4 \overline{) 501} \\ \underline{4} \\ 10 \\ \underline{8} \\ 21 \\ \underline{20} \\ 1 \end{array}$$

答え 125箱



わり算の筆算 17

● 3けたのわり算の文章題
(商+1)



日にち： 月 日

名まえ _____

- 1 同じ大きさの箱が107箱あります。これを1回に3こずつ運ぶと何回で運び終わりますか。

$$\begin{aligned} \text{式: } 107 \div 3 &= 35 \text{ あまり } 2 \\ 35 + 1 &= 36 \end{aligned}$$

$$\begin{array}{r} 35 \\ 3 \overline{) 107} \\ \underline{9} \\ 17 \\ \underline{15} \\ 2 \end{array}$$

答え 36回

- 2 632本の花を、5本ずつたばにします。5本のたばは、何たばできますか。

$$\text{式: } 632 \div 5 = 126 \text{ あまり } 2$$

$$\begin{array}{r} 126 \\ 5 \overline{) 632} \\ \underline{5} \\ 13 \\ \underline{10} \\ 32 \\ \underline{30} \\ 2 \end{array}$$

答え 126たば



わり算の筆算 17

● 3けたのわり算の文章題
(商+1)



日にち： 月 日

名まえ _____

- 1 116このパンを、7こずつふくろにつめます。
パンが7こずつ入ったふくろは、何ふくろできますか。

式: $116 \div 7 = 16$ あまり4

$$\begin{array}{r} 16 \\ 7 \overline{) 116} \\ \underline{7} \\ 46 \\ \underline{42} \\ 4 \end{array}$$

答え 16ふくろ

- 2 415人の小学生が、4人ずつ長いすにすわります。
全員すわるには何この長いすが必要ですか。

式: $415 \div 4 = 103$ あまり3
 $103 + 1 = 104$

$$\begin{array}{r} 103 \\ 4 \overline{) 415} \\ \underline{4} \\ 15 \\ \underline{12} \\ 3 \end{array}$$

※ここは
省くことが
できるよ!

答え 104こ



わり算の筆算 17

◎ 3けたのわり算の文章題
(商+1)



日にち： 月 日

名まえ _____

- 1 りささんは、おり紙でメダルを93こ作ることにしました。
1日に8こずつ作ると、作り終わるのに何日かかりますか。

式: $93 \div 8 = 11$ あまり5

$11 + 1 = 12$

答え

12日

$$\begin{array}{r} 11 \\ 8 \overline{)93} \\ \underline{8} \\ 13 \\ \underline{8} \\ 5 \end{array}$$

- 2 326このクッキーを、3こずつふくろにつめます。
クッキーが3こ入ったふくろは、何ふくろできますか。

式: $326 \div 3 = 108$ あまり2

$$\begin{array}{r} 108 \\ 3 \overline{)326} \\ \underline{3} \\ 26 \\ \underline{24} \\ 26 \\ \underline{24} \\ 2 \end{array}$$

※ここは
省くことが
できるよ!

答え

108ふくろ



わり算の筆算 17

◎ 3けたのわり算の文章題
(商+1)

14

日にち： 月 日

名まえ

- 1 163cmのテープを、9cmずつに切ります。
9cmのテープは何本とれますか。

式: $163 \div 9 = 18$ あまり1

$$\begin{array}{r} 18 \\ 9 \overline{) 163} \\ \underline{9} \\ 73 \\ \underline{72} \\ 1 \end{array}$$

答え 19本

- 2 239ページの本があります。これを1日に5ページずつ読んでいきます。全部読み終わるには、何日かかりますか。

式: $239 \div 5 = 47$ あまり1

$47 + 1 = 48$

$$\begin{array}{r} 47 \\ 5 \overline{) 239} \\ \underline{20} \\ 39 \\ \underline{35} \\ 4 \end{array}$$

答え 48日




わり算の筆算 17

◎ 3けたのわり算の文章題
(商+1)



目指せ100点!



名まえ _____

1 328ページの本があります。これを1日に6ページずつ読んでいきます。全部読み終わるには、何日かかりますか。

(50点)

式: $328 \div 6 = 54$ あまり4

$54 + 1 = 55$

$$\begin{array}{r} 54 \\ 6 \overline{)328} \\ \underline{30} \\ 28 \\ \underline{24} \\ 4 \end{array}$$

答え 55日

2 602このチョコレートを、4こずつふくろにつめます。チョコレートが4こ入ったふくろは、何ふくろできますか。

(50点)

式: $602 \div 4 = 150$ あまり2

$$\begin{array}{r} 150 \\ 4 \overline{)602} \\ \underline{4} \\ 20 \\ \underline{20} \\ 2 \end{array}$$

※ここは
省くことが
できるよ!

答え 150ふくろ



わり算の筆算 17

◎ 3けたのわり算の文章題
(商+1)

16

目指せ100点!



名まえ

- 1 81人の子どもが、7人ずつ車に乗ります。
全員乗るには何台の車が必要ですか。

(50点)

$$\begin{aligned} \text{式: } 81 \div 7 &= 11 \text{ あまり } 4 \\ 11 + 1 &= 12 \end{aligned}$$

$$\begin{array}{r} 11 \\ 7 \overline{)81} \\ \underline{7} \\ 11 \\ \underline{7} \\ 4 \end{array}$$

答え 12台

- 2 511このケーキを4こずつ箱につめます。
ケーキが4こ入った箱は、何箱できますか。

(50点)

$$\text{式: } 511 \div 4 = 127 \text{ あまり } 3$$

$$\begin{array}{r} 127 \\ 4 \overline{)511} \\ \underline{4} \\ 11 \\ \underline{8} \\ 31 \\ \underline{28} \\ 3 \end{array}$$

答え 127箱