



垂直, 平行と 四角形2

2直線と垂直



日にち： 月 日

名まえ _____

次の図で、2本の直線が垂直であるものを㉠～㉥の中から全て選びましょう。(うすい字はなぞりましょう。)

㉠



㉡



㉢



㉣

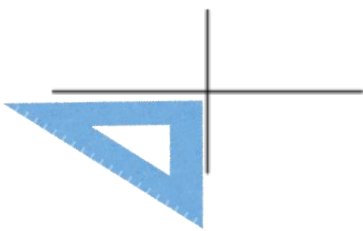


㉤



三角定規の直角の部分をあててみよう!

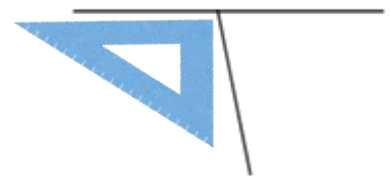
㉠



㉡



㉢



㉣



㉤



答え： ㉠, ,



垂直、平行と 四角形2

2直線と垂直

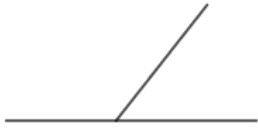


日にち： 月 日

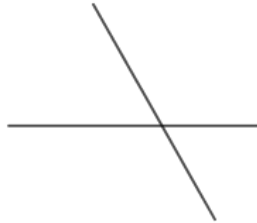
名まえ _____

次の図で、2本の直線が垂直であるものを㉠～㉥の中から全て選びましょう。(うすい字はなぞりましょう。)

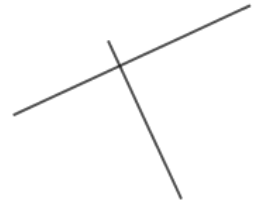
㉠



㉡



㉢



㉣



㉤

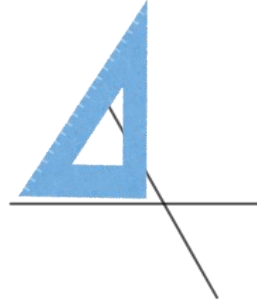


三角定規の直角の部分をあててみよう！

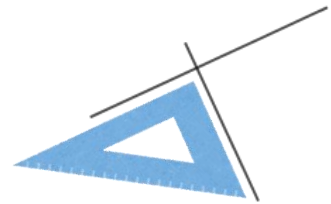
㉠



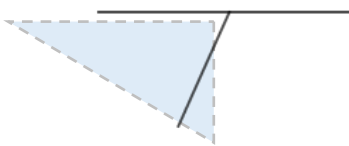
㉡



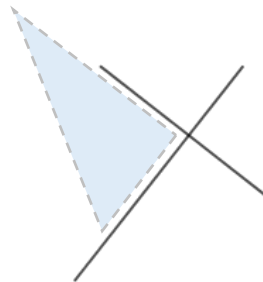
㉢



㉣



㉤



答え： ㉢，



垂直, 平行と 四角形 2

2直線と垂直

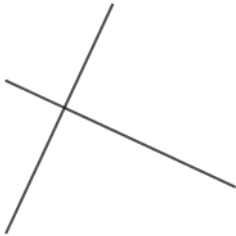


日にち： 月 日

名まえ _____

次の図で、2本の直線が垂直であるものを㉠～㉥の中から全て選びましょう。(うすい字はなぞりましょう。)

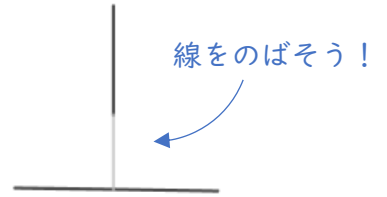
㉠



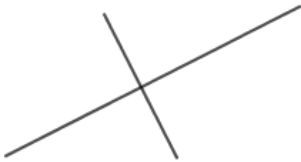
㉡



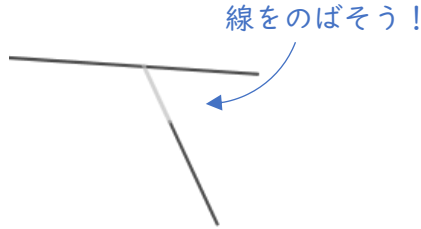
㉢



㉣

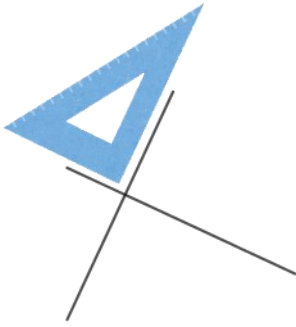


㉤

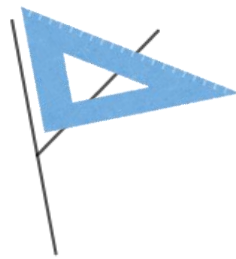


三角定規の直角の部分をあててみよう!

㉠



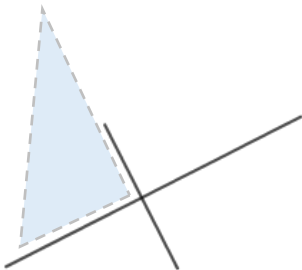
㉡



㉢



㉣



㉤



答え： ㉠, ,





垂直、平行と 四角形2

4

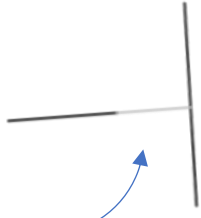
2直線と垂直

日にち： 月 日

名まえ _____

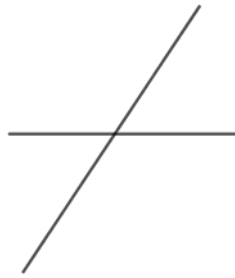
次の図で、2本の直線が垂直であるものを㉠～㉥の中から全て選びましょう。(うすい字はなぞりましょう。)

㉠

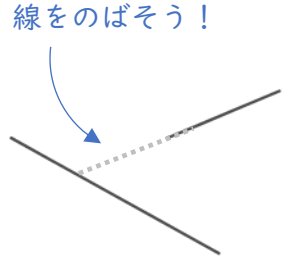


線をのばそう!

㉡



㉢

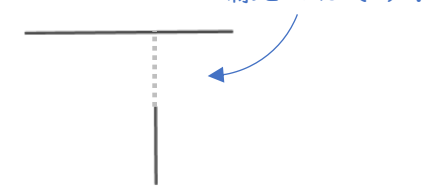


線をのばそう!

㉣



㉤



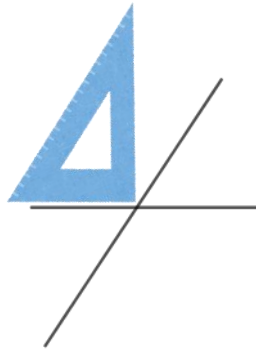
線をのばそう!

三角定規の直角の部分をあててみよう!

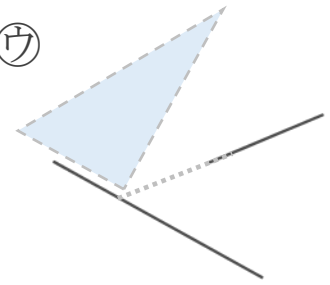
㉠



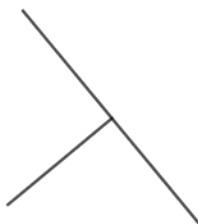
㉡



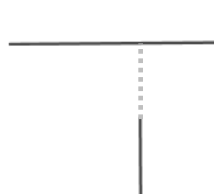
㉢



㉣



㉤



答え： , ,





垂直, 平行と 四角形2

2直線と垂直



日にち： 月 日

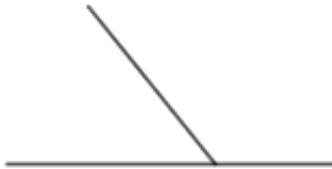
名まえ _____

次の図で、2本の直線が垂直であるものを㉠～㉧の中から全て選びましょう。(うすい字はなぞりましょう。)

㉠



㉡



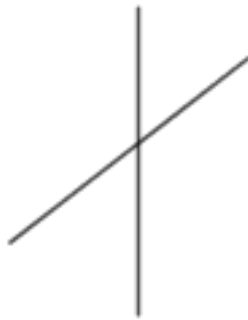
㉢



㉣



㉤



㉥



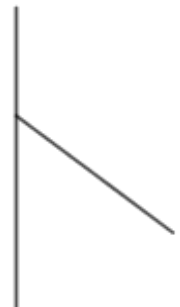
㉦



㉧



㉨



答え： , ,





垂直、平行と 四角形2

2直線と垂直

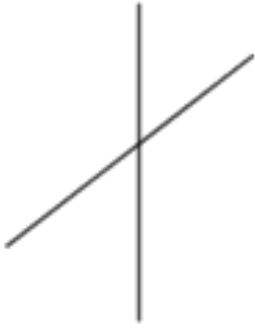


日にち： 月 日

名まえ _____

- 次の図で、2本の直線が垂直であるものを㉠～㉧の中から全て選びましょう。

㉠



㉡



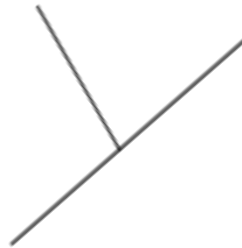
㉢



㉣



㉤



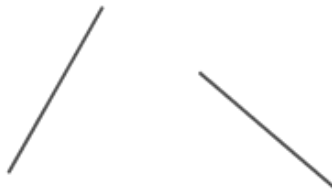
㉥



㉦



㉧



㉨



答え：





垂直, 平行と
四角形 2

2直線と垂直

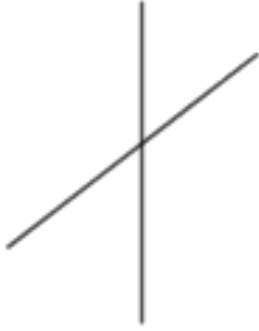


日にち： 月 日

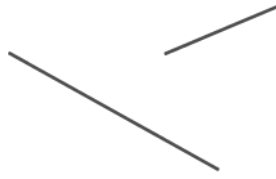
名まえ _____

次の図で、2本の直線が垂直であるものを㉠～㉧の中から全て選びましょう。

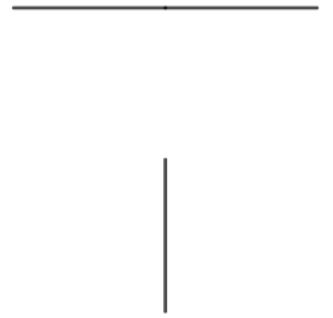
㉠



㉡



㉢



㉣



㉤



㉥



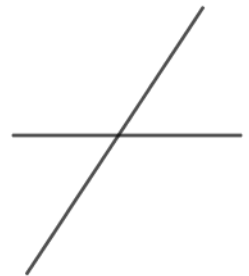
㉦



㉧



㉨



答え： _____





垂直, 平行と 四角形2

2直線と垂直

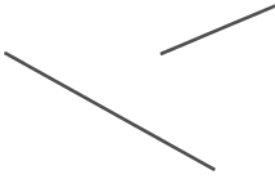


日にち： 月 日

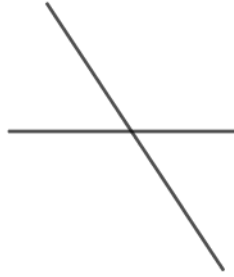
名まえ _____

- 次の図で、2本の直線が垂直であるものを㉠～㉧の中から全て選びましょう。

㉠



㉡



㉢



㉣




㉤



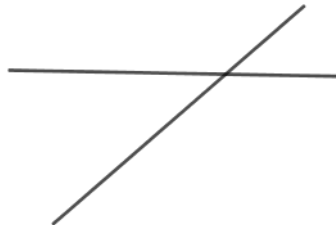
㉥



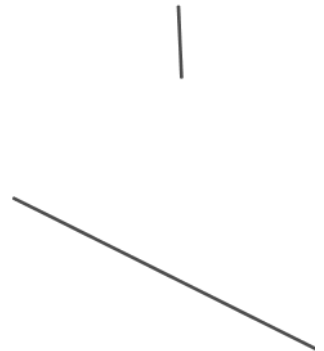
㉦



㉧



㉨



答え： _____





垂直, 平行と 四角形2

2直線と垂直




日にち： 月 日

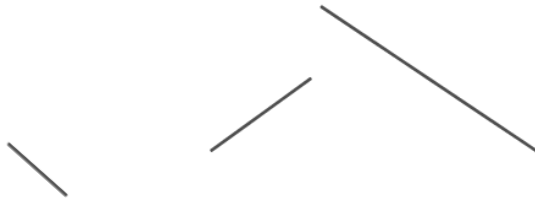
名まえ _____

- 次の図で、2本の直線が垂直であるものを㉠～㉧の中から全て選びましょう。

㉠



㉡



㉢



㉣



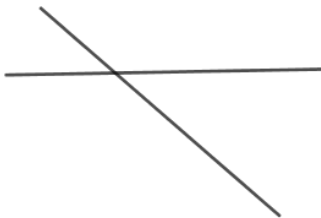
㉤



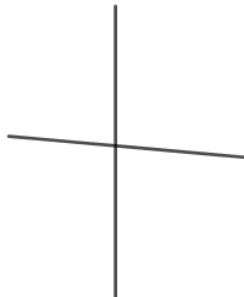
㉥



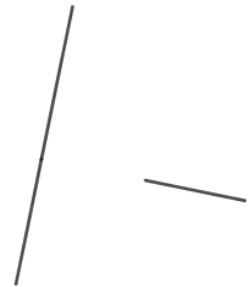
㉦



㉧



㉨



答え：





垂直、平行と
四角形2

2直線と垂直

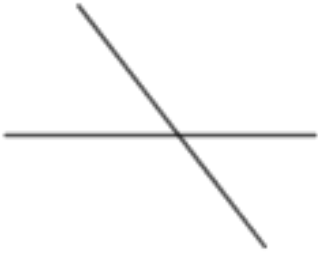


日にち： 月 日

名まえ _____

- 次の図で、2本の直線が垂直であるものを㉠～㉧の中から全て選びましょう。

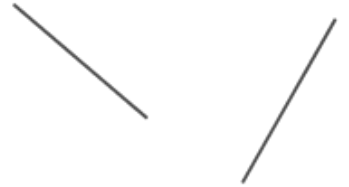
㉠



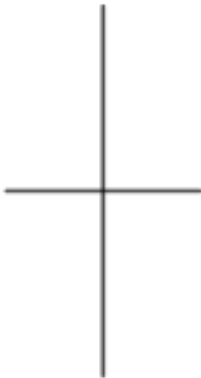
㉡



㉢



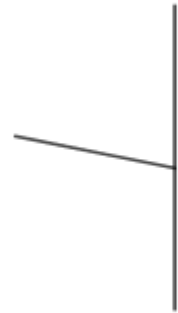
㉣



㉤



㉥



㉦



㉧



㉨



答え： _____





垂直、平行と 四角形2

2直線と垂直




日にち： 月 日

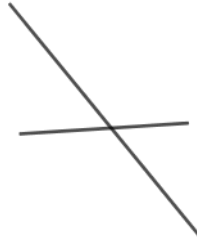
名まえ _____

次の図で、2本の直線が垂直であるものを㉠～㉧の中から全て選びましょう。

㉠



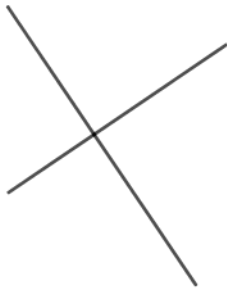
㉡



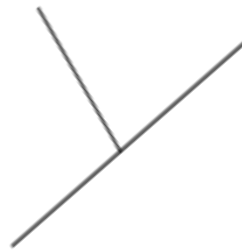
㉢



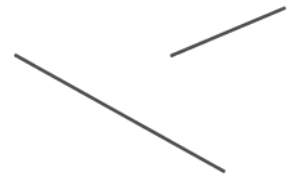
㉣



㉤



㉥



㉦



㉧



㉨



答え：





垂直, 平行と 四角形2

2直線と垂直

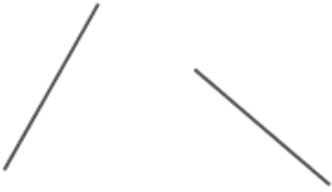
12

日にち： 月 日

名まえ _____

・ 次の図で、2本の直線が垂直であるものを㉠～㉧の中から全て選びましょう。

㉠



㉡



㉢



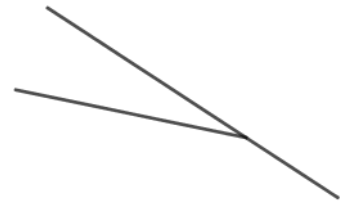
㉣



㉤



㉥



㉦



㉧



㉨



答え： _____





垂直, 平行と
四角形2

2直線と垂直

13

日にち： 月 日

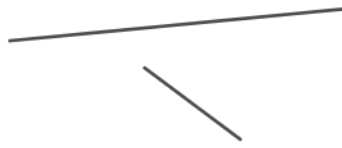
名まえ _____

- 次の図で、2本の直線が垂直であるものを㉠～㉧の中から全て選びましょう。

㉠



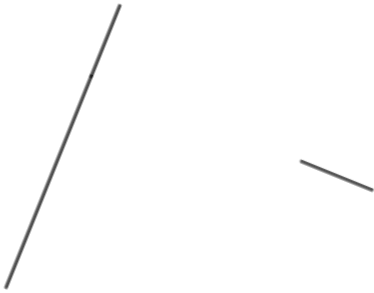
㉡



㉢



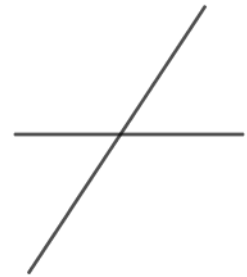
㉣



㉤



㉥



㉦



㉧



㉨



答え： _____





垂直、平行と
四角形2

2直線と垂直

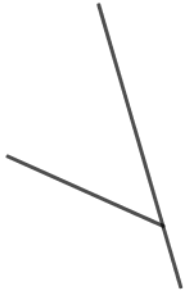
14

日にち： 月 日

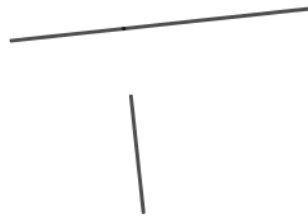
名まえ _____

次の図で、2本の直線が垂直であるものを㉠～㉧の中から全て選びましょう。

㉠



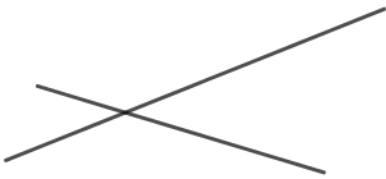
㉡



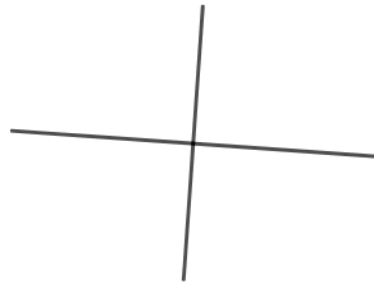
㉢



㉣



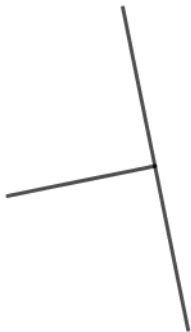
㉤



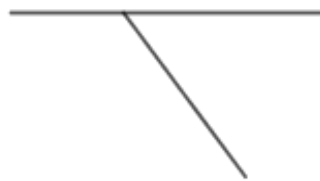
㉥



㉦



㉧



㉨



答え： _____






垂直、平行と
四角形2

15

2直線と垂直

めざせ100点!



名まえ

- 次の図で、2本の直線が垂直であるものを㉠～㉧の中から全て選びましょう。(100点)

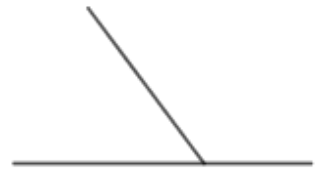
㉠



㉡



㉢



㉣



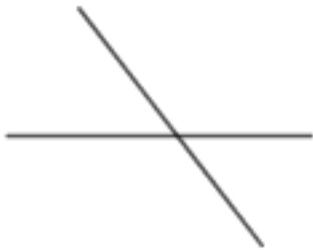
㉤



㉥



㉦



㉧



㉨



答え：






垂直、平行と
四角形2

16

2直線と垂直

めざせ100点!



名まえ

次の図で、2本の直線が垂直であるものを㉠～㉧の中から全て選びましょう。(100点)

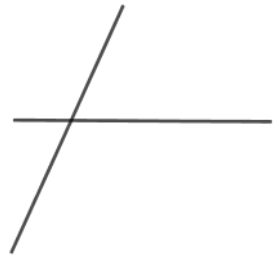
㉠



㉡



㉢



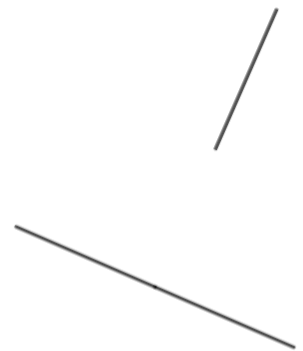
㉣



㉤



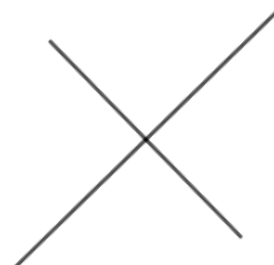
㉥



㉦



㉧



㉨



答え：





垂直, 平行と 四角形2

2直線と垂直



日にち： 月 日

名まえ _____

次の図で、2本の直線が垂直であるものを㉠～㉣の中から全て選びましょう。(うすい字はなぞりましょう。)

㉠



㉡



㉢



㉣

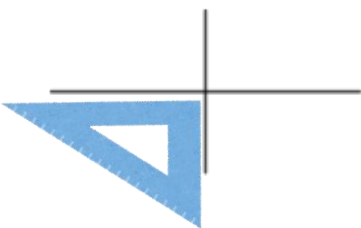


㉤



三角定規の直角の部分をあててみよう!


㉠



㉡



㉢



㉣



㉤



答え： ㉠, ㉣, ㉤





垂直, 平行と 四角形 2

2直線と垂直

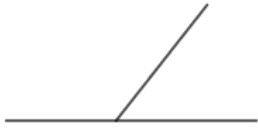


日にち： 月 日

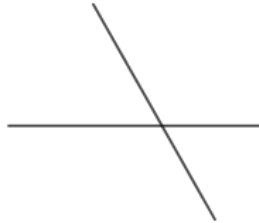
名まえ _____

次の図で、2本の直線が垂直であるものを㉠～㉥の中から全て選びましょう。(うすい字はなぞりましょう。)

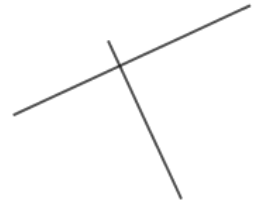
㉠



㉡



㉢



㉣



㉤

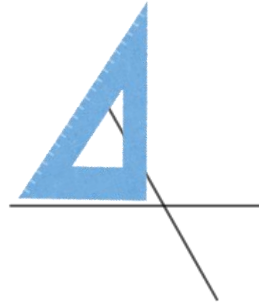


三角定規の直角の部分をあててみよう!

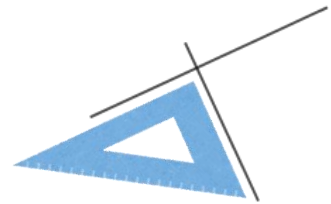
㉠



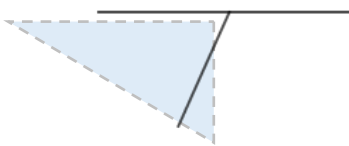
㉡



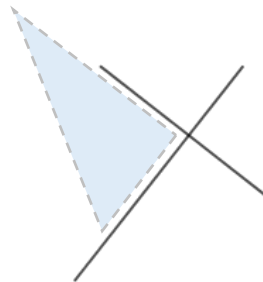
㉢



㉣



㉤



答え： ㉢, ㉤





垂直, 平行と 四角形 2

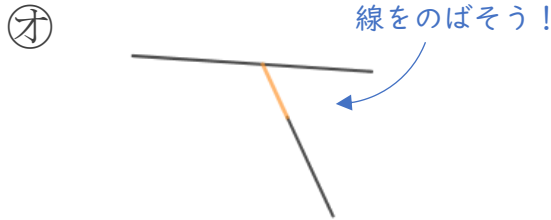
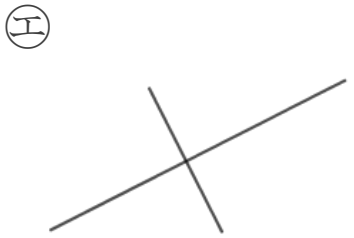
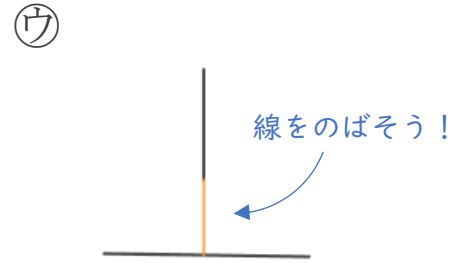
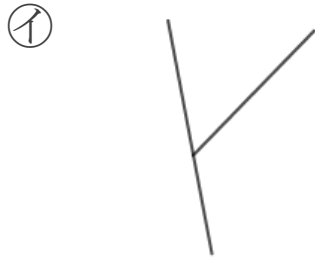
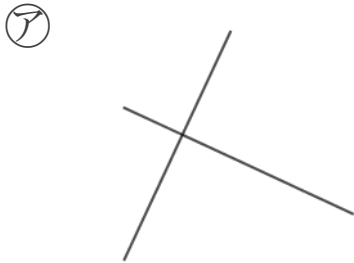
3

2直線と垂直

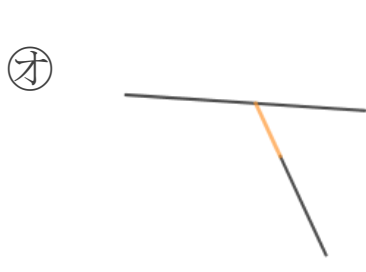
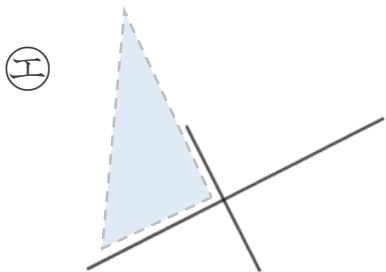
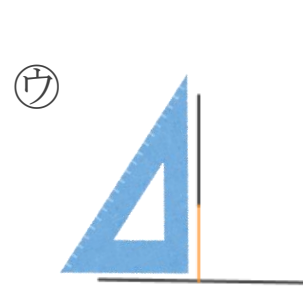
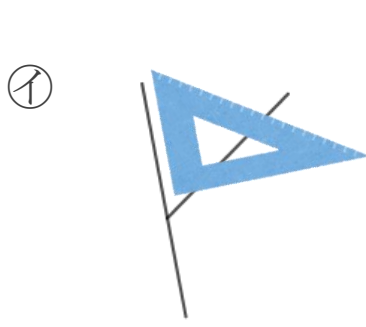
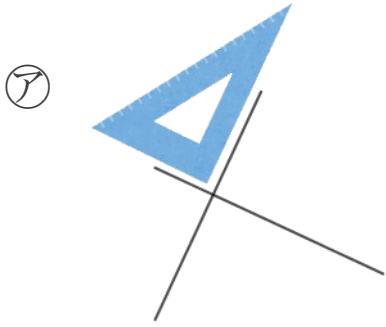
日にち： 月 日

名まえ _____

次の図で、2本の直線が垂直であるものを㉠～㉥の中から全て選びましょう。(うすい字はなぞりましょう。)



三角定規の直角の部分をあててみよう!



答え： ㉠, ㉢, ㉣



垂直, 平行と 四角形2

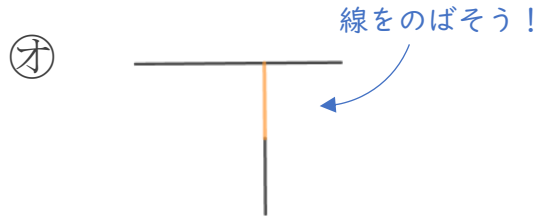
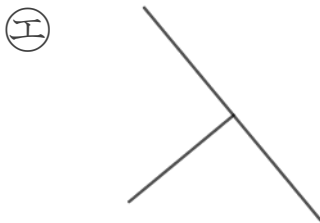
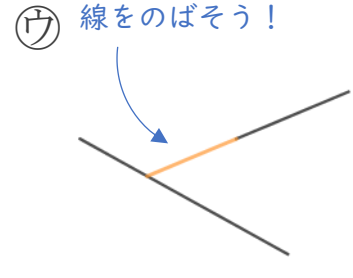
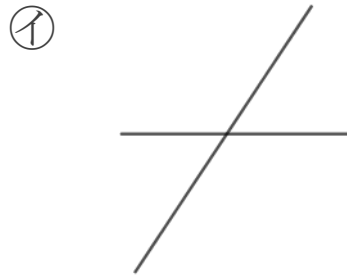
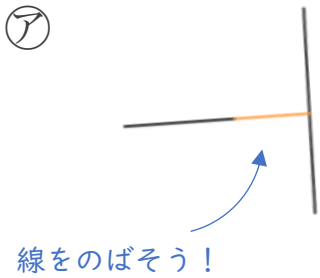
4

2直線と垂直

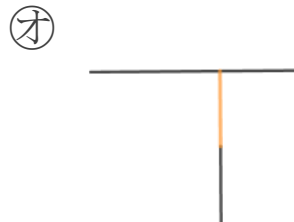
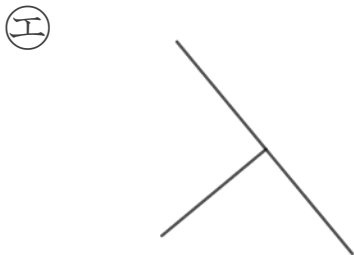
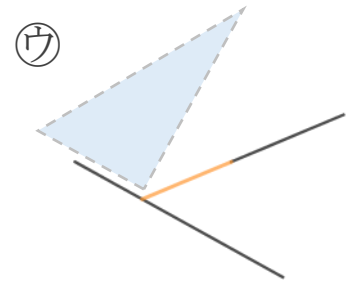
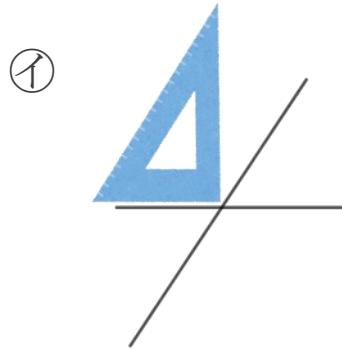

日にち： 月 日

名まえ _____

次の図で、2本の直線が垂直であるものをア～エの中から全て選びましょう。(うすい字はなぞりましょう。)



三角定規の直角の部分をあててみよう!



答え： ア, エ, オ



垂直, 平行と 四角形2

2直線と垂直



日にち： 月 日

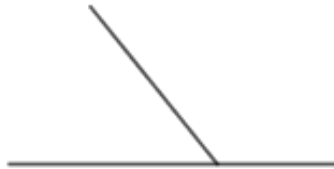
名まえ _____

- 次の図で、2本の直線が垂直であるものを㉠～㉧の中から全て選びましょう。(うすい字はなぞりましょう。)

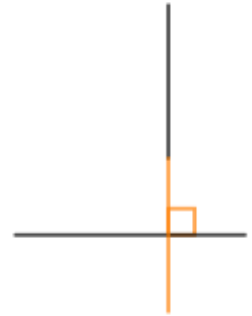
㉠



㉡



㉢



㉣



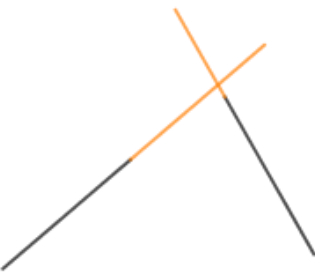
㉤



㉥



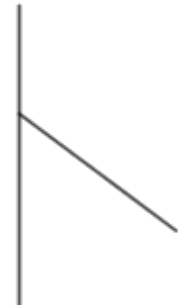
㉦



㉧



㉨



答え： ㉢, ㉥, ㉧





垂直, 平行と 四角形2

2直線と垂直

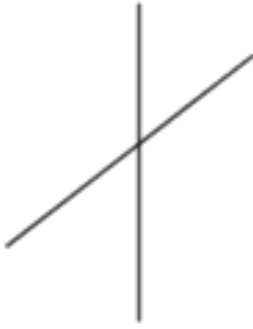


日にち： 月 日

名まえ _____

- ・ 次の図で、2本の直線が垂直であるものを㉠～㉧の中から全て選びましょう。

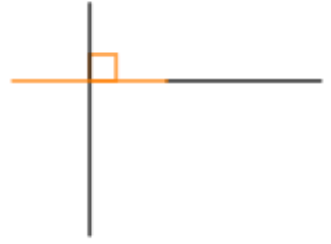
㉠



㉡



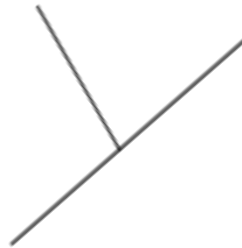
㉢



㉣



㉤



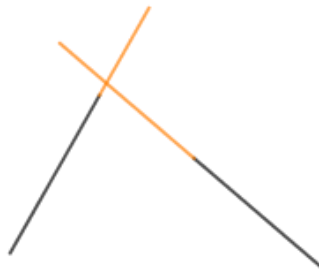
㉥



㉦



㉧



㉨



答え： ㉡, ㉢, ㉦





垂直, 平行と 四角形2

2直線と垂直

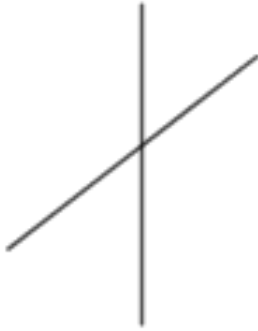


日にち： 月 日

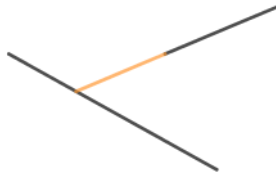
名まえ _____

- ・ 次の図で、2本の直線が垂直であるものを㉠～㉧の中から全て選びましょう。

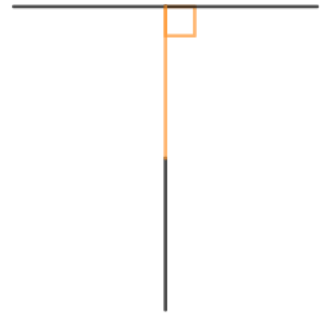
㉠



㉡



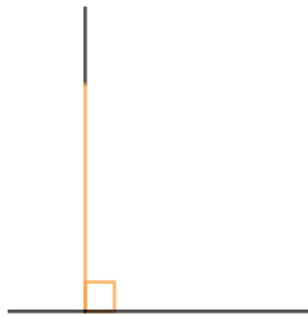
㉢



㉣



㉤



㉥



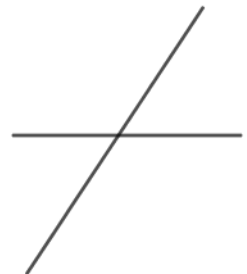
㉦



㉧



㉨



答え： ㉢, ㉤, ㉧





垂直, 平行と 四角形2

2直線と垂直

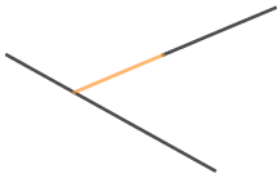


日にち： 月 日

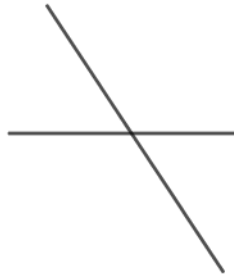
名まえ _____

- ・ 次の図で、2本の直線が垂直であるものを㉠～㉧の中から全て選びましょう。

㉠



㉡



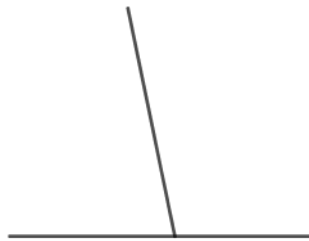
㉢



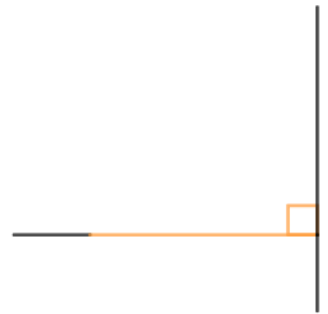
㉣



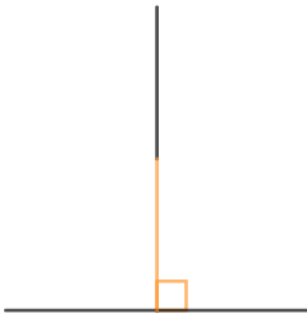
㉤



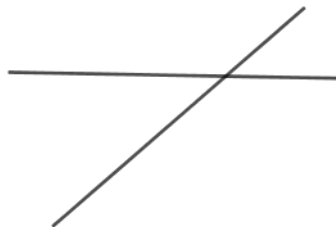
㉥



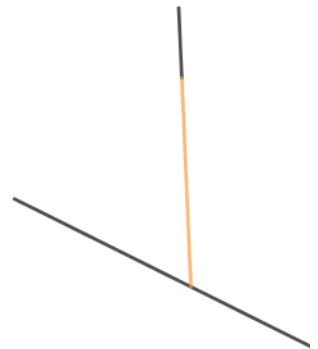
㉦



㉧



㉨



答え： ㉣, ㉥, ㉦





垂直, 平行と
四角形2

2直線と垂直

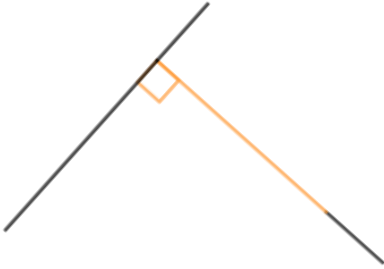


日にち： 月 日

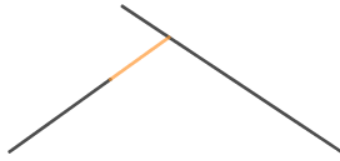
名まえ _____

次の図で、2本の直線が垂直であるものをア～ケの中から全て選びましょう。

ア



イ



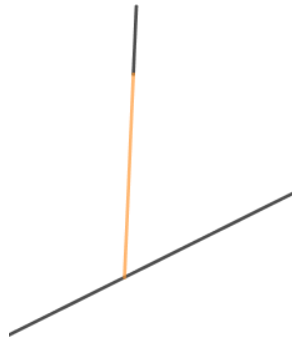
ウ



エ



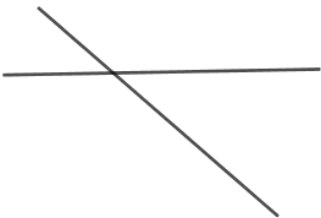
オ



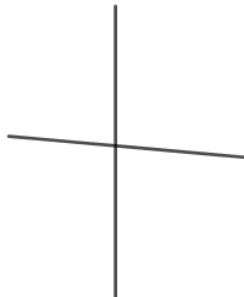
カ



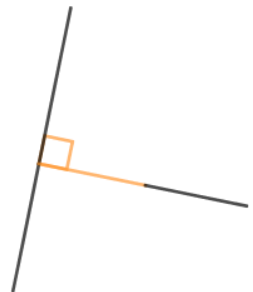
キ



ク



ケ



答え： ア, ウ, ケ





垂直, 平行と
四角形2

2直線と垂直

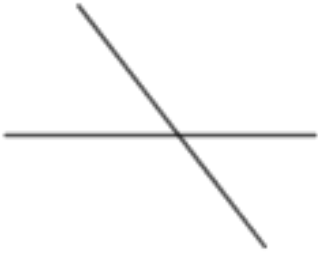
10

日にち： 月 日

名まえ _____

次の図で、2本の直線が垂直であるものを㉠～㉧の中から全て選びましょう。

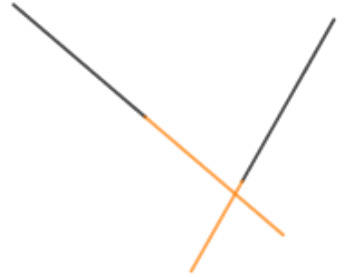
㉠



㉡



㉢



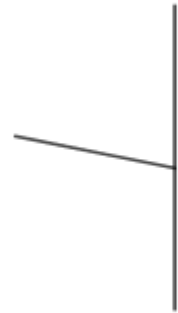
㉣



㉤



㉥



㉦



㉧



㉨



答え： ㉣, ㉤, ㉦





垂直, 平行と 四角形2

2直線と垂直

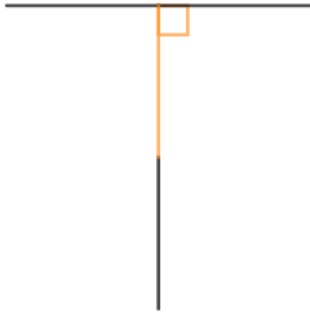


日にち： 月 日

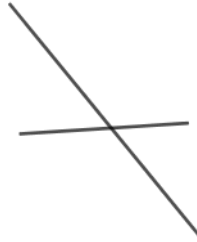
名まえ _____

- ・ 次の図で、2本の直線が垂直であるものを㉠～㉧の中から全て選びましょう。

㉠



㉡




㉢



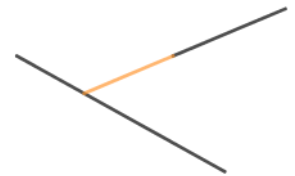
㉣



㉤



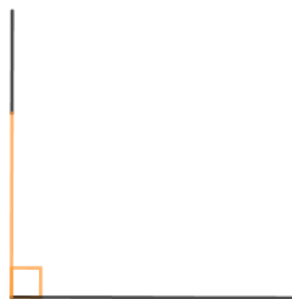
㉥



㉦



㉧



㉨



答え： ㉠, ㉣, ㉧





垂直, 平行と 四角形2

2直線と垂直

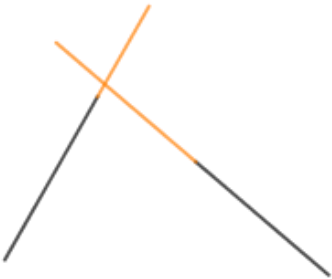
12

日にち： 月 日

名まえ _____

・ 次の図で、2本の直線が垂直であるものを㉠～㉧の中から全て選びましょう。

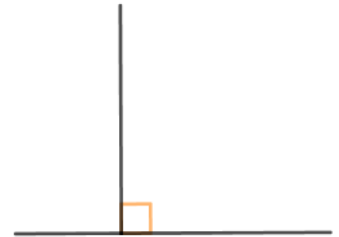
㉠



㉡



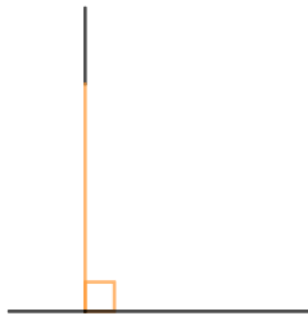
㉢



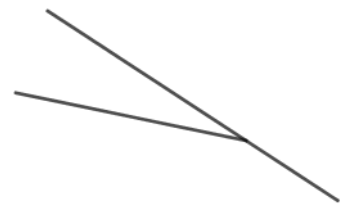
㉣



㉤



㉥



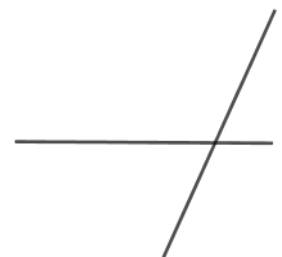
㉦



㉧



㉨



答え： ㉢, ㉣, ㉤





垂直, 平行と
四角形2

2直線と垂直

13

日にち： 月 日

名まえ _____

次の図で、2本の直線が垂直であるものをア～ケの中から全て選びましょう。

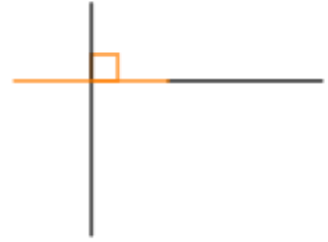
ア



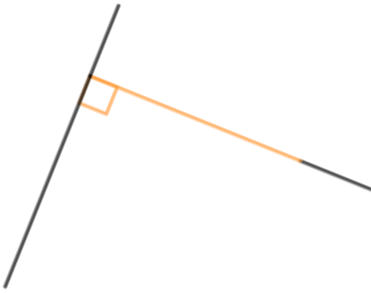
イ



ウ



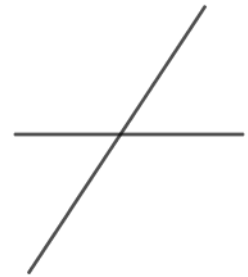
エ



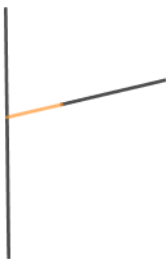
オ



カ



キ



ク



ケ



答え： ア, ウ, エ, オ, ケ





垂直, 平行と
四角形2

2直線と垂直

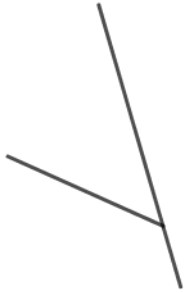
14

日にち： 月 日

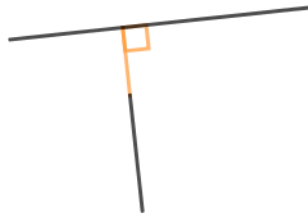
名まえ _____

次の図で、2本の直線が垂直であるものを㉠～㉧の中から全て選びましょう。

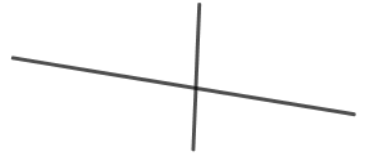
㉠



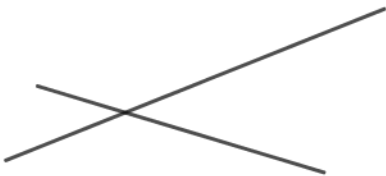
㉡



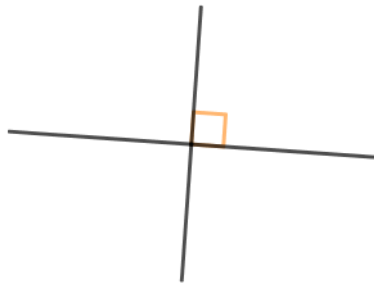
㉢



㉣



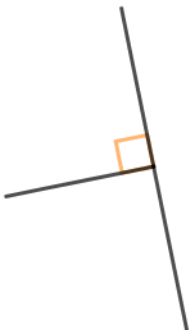
㉤



㉥



㉦



㉧



㉨



答え： ㉡, ㉤, ㉦






垂直, 平行と 四角形2

15

2直線と垂直

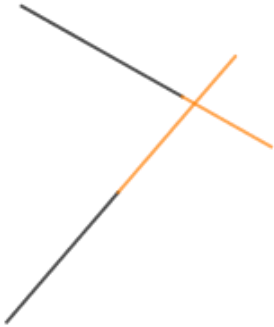
めざせ100点!



名まえ _____

次の図で、2本の直線が垂直であるものを㉠～㉧の中から全て選びましょう。(100点)

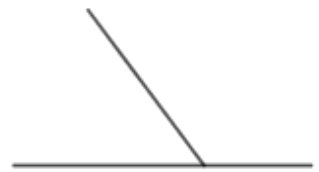
㉠



㉡



㉢



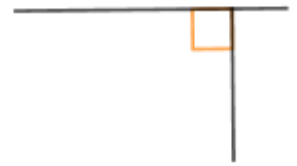
㉣



㉤



㉥



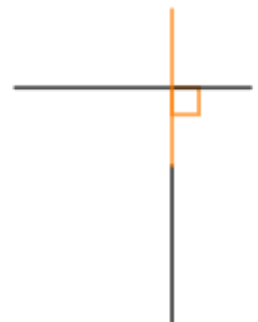
㉦



㉧



㉨



答え： ㉡, ㉤, ㉥, ㉧






垂直, 平行と
四角形2

16

2直線と垂直

めざせ100点!




名まえ

- 次の図で、2本の直線が垂直であるものをア～ケの中から全て選びましょう。(100点)

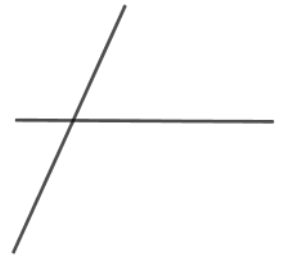
ア



イ




ウ



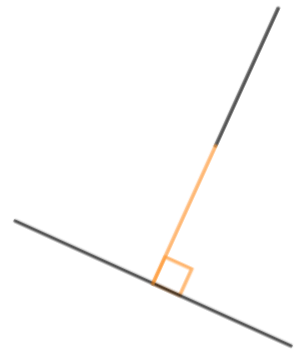
エ



オ



カ



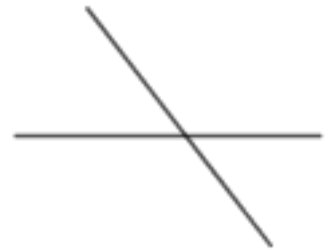
キ



ク



ケ



答え： ア, イ, カ, ク

