

# 垂直, 平行と 四角形 4

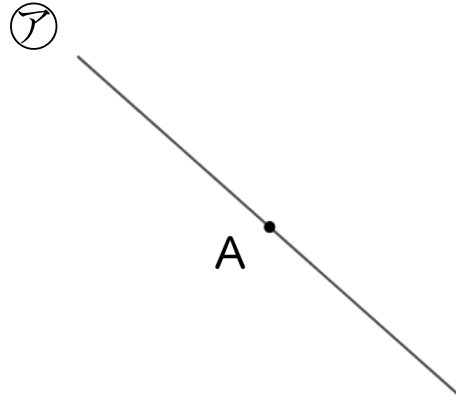


● 垂直な直線をひく

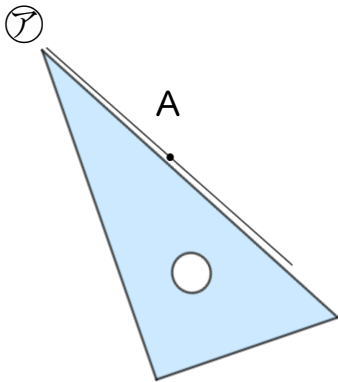
日にち：        月        日

名まえ \_\_\_\_\_

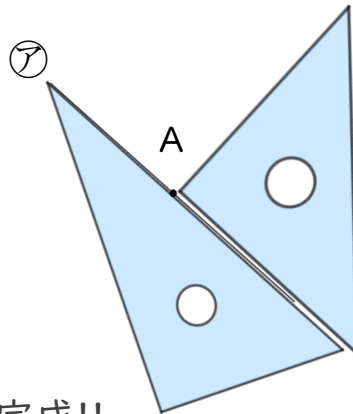
- ・ 2まいの三角じょうぎを使って、点Aを通り、㊦の直線に垂直な直線をひきましょう。(うすい線はしっかりなぞりましょう。)



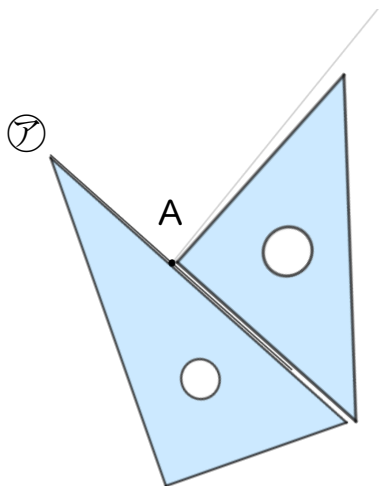
① ㊦に三角じょうぎをあてる



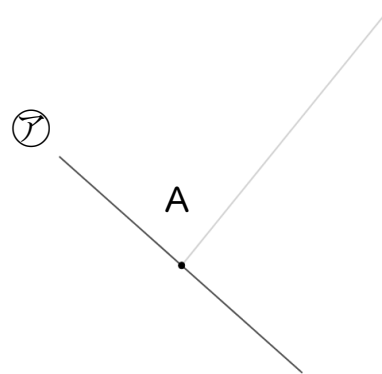
② もう1まいの三角じょうぎの直角を㊦にあてる



③ 線を引く



④ 完成!!





# 垂直, 平行と 四角形 4

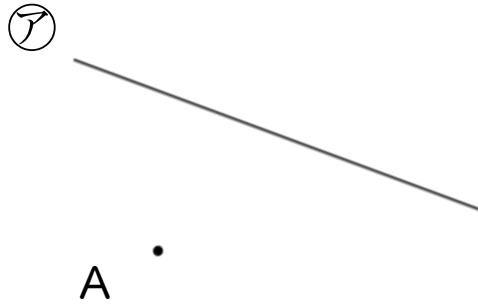
## 2

● 垂直な直線をひく

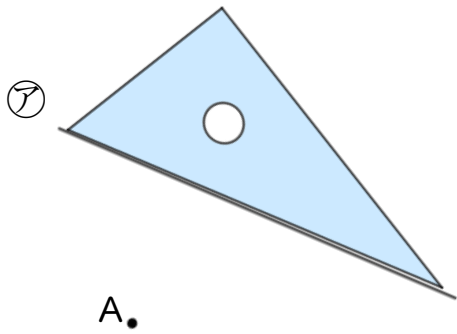
日にち：        月        日

名まえ \_\_\_\_\_

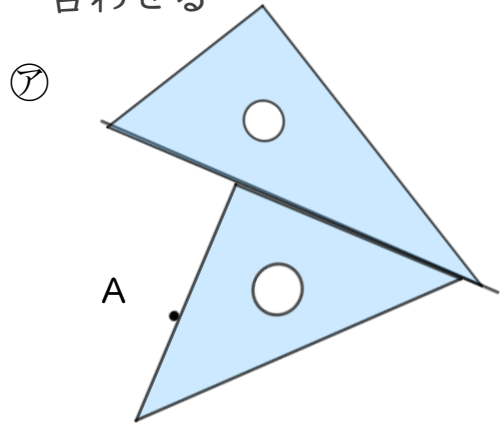
- ・ 2まいの三角じょうぎを使って、点Aを通り、㊦の直線に垂直な直線をひきましょう。(うすい線はしっかりなぞりましょう。)



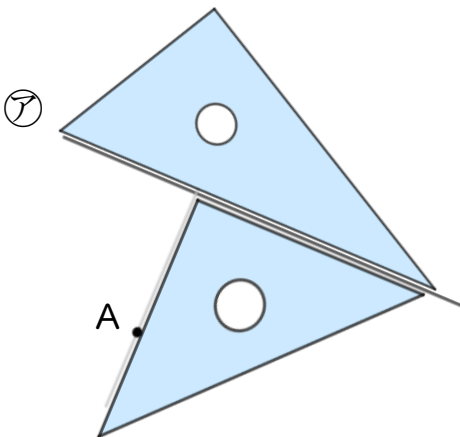
① ㊦に三角じょうぎをあてる



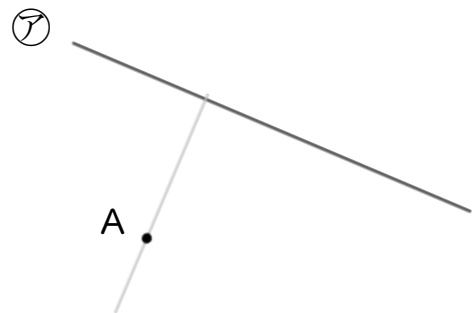
② もう1まいの三角じょうぎの直角を㊦にあてて、Aに合わせる



③ 線を引く



④ 完成!!





# 垂直, 平行と 四角形 4

# 3

● 垂直な直線をひく

日にち：        月        日

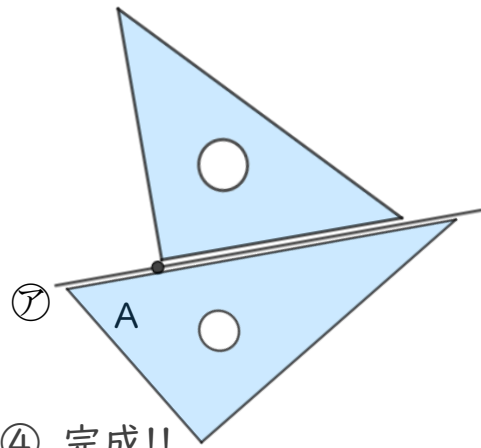
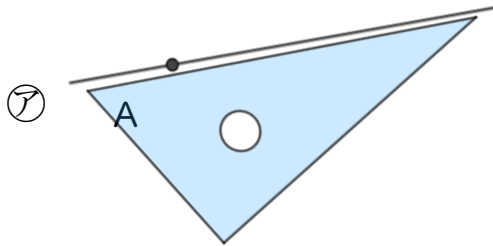
名まえ \_\_\_\_\_

- ・ 2まいの三角じょうぎを使って、点Aを通り、㊦の直線に垂直な直線をひきましょう。(うすい線はしっかりなぞりましょう。)



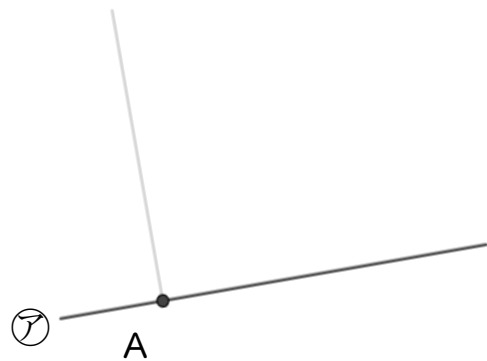
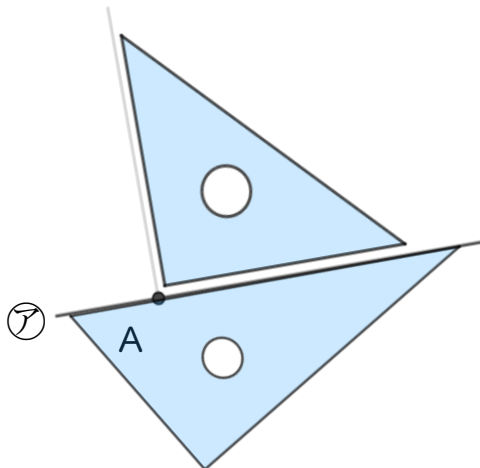
① ㊦に三角じょうぎをあてる

② もう1まいの三角じょうぎの直角を㊦にあてる



③ 線を引く

④ 完成!!



③ 確認



すらすらぷりんと



# 垂直, 平行と 四角形 4

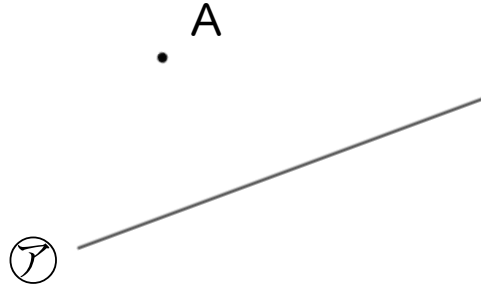


● 垂直な直線をひく

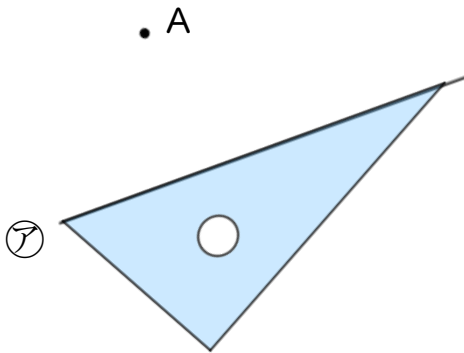
日にち：            月            日

名まえ \_\_\_\_\_

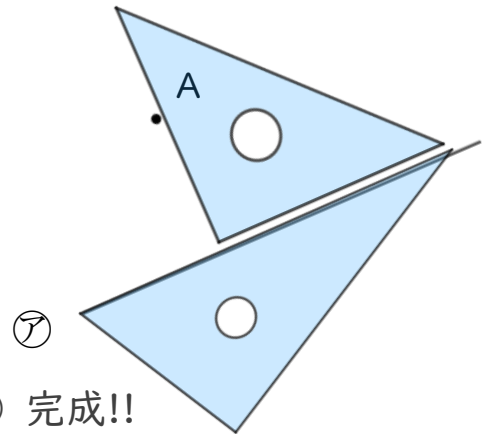
- ・ 2まいの三角じょうぎを使って、点Aを通り、㊦の直線に垂直な直線をひきましょう。(うすい線はしっかりなぞりましょう。)



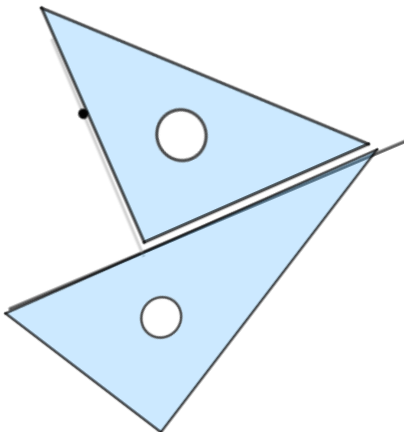
① ㊦に三角じょうぎをあてる



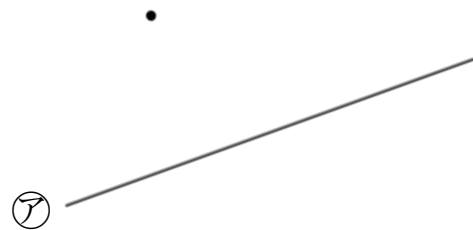
② もう1まいの三角じょうぎの直角を㊦にあてて、Aに合わせる



③ 線を引く



④ 完成!!



④ 確認



すらすらぷりんと



# 垂直, 平行と 四角形 4

# 5

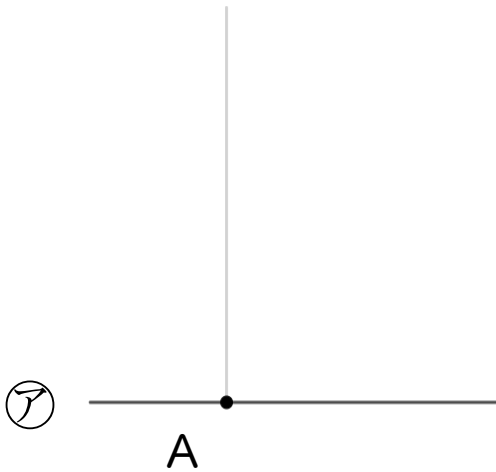
◎ 垂直な直線をひく

日にち：        月        日

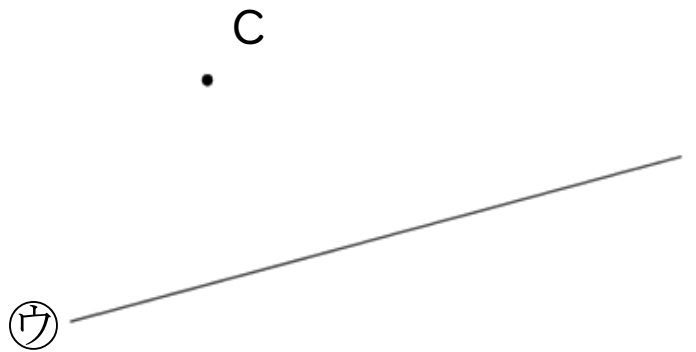
名まえ \_\_\_\_\_

・ 2まいの三角じょうぎを使って、次の点を通り、直線に垂直な直線をひきましょう。(うすい線はしっかりなぞりましょう。)

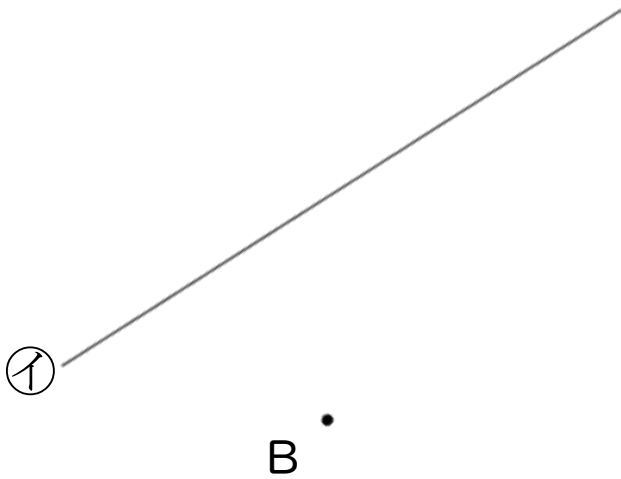
①



③



②



④





# 垂直, 平行と 四角形 4

# 6

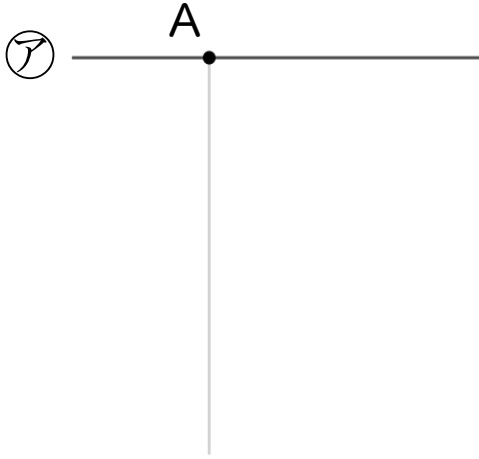
● 垂直な直線をひく

日にち：        月        日

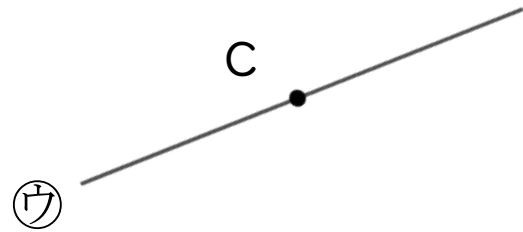
名まえ \_\_\_\_\_

・ 2まいの三角じょうぎを使って、次の点を通り、直線に垂直な直線をひきましょう。(うすい線はしっかりなぞりましょう。)

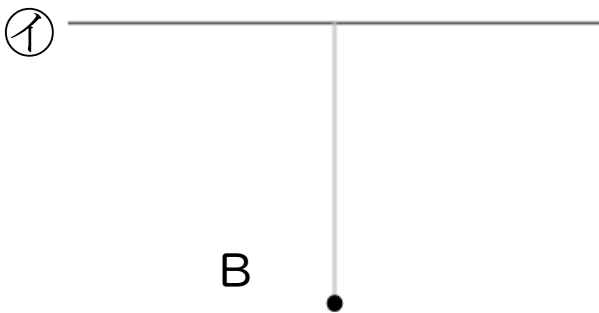
①



③



②



④





# 垂直, 平行と 四角形 4

# 7

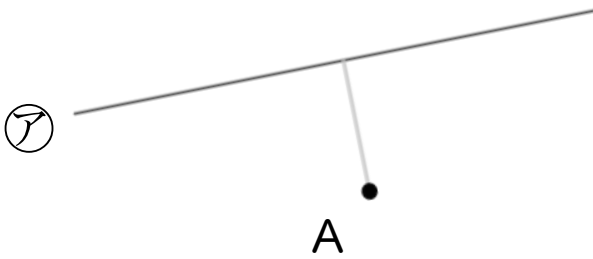
◎ 垂直な直線をひく

日にち：            月            日

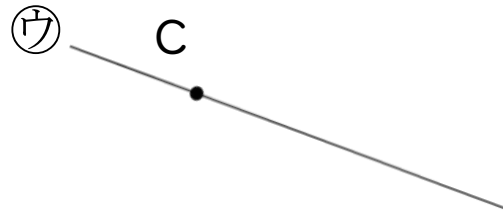
名まえ \_\_\_\_\_

・ 2まいの三角じょうぎを使って、次の点を通り、直線に垂直な直線をひきましょう。(うすい線はしっかりなぞりましょう。)

①




③



②



④





# 垂直, 平行と 四角形 4

# 8

◎ 垂直な直線をひく

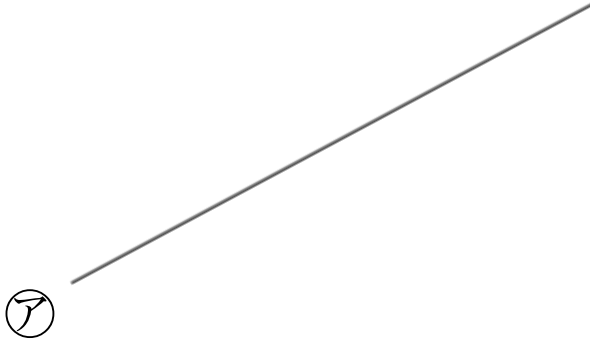
日にち：        月        日

名まえ \_\_\_\_\_

・ 2まいの三角じょうぎを使って、次の点を通り、直線に垂直な直線をひきましょう。

①

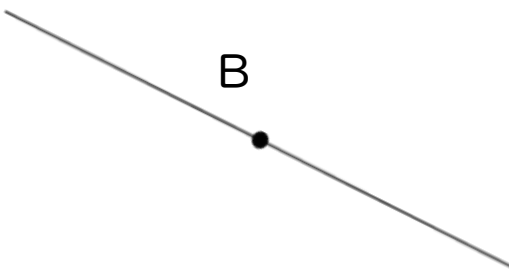
A



②

イ

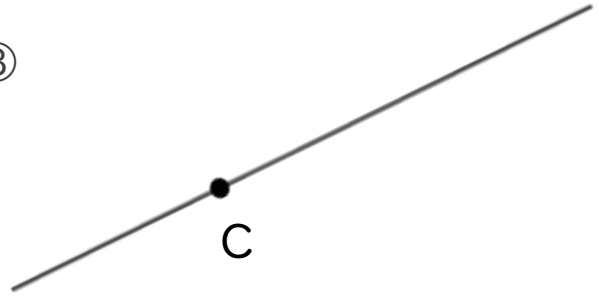
B



③

C

ウ



④

D

エ







# 垂直, 平行と 四角形 4

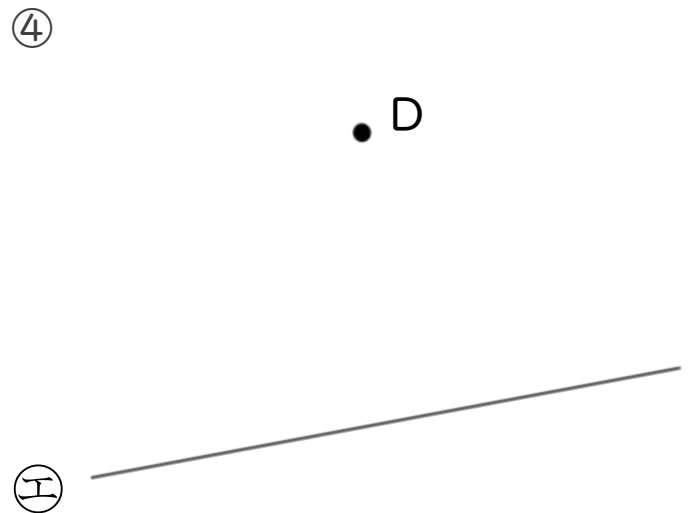
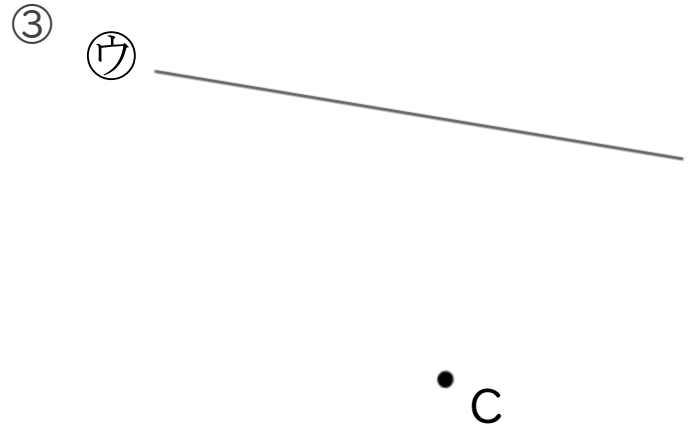
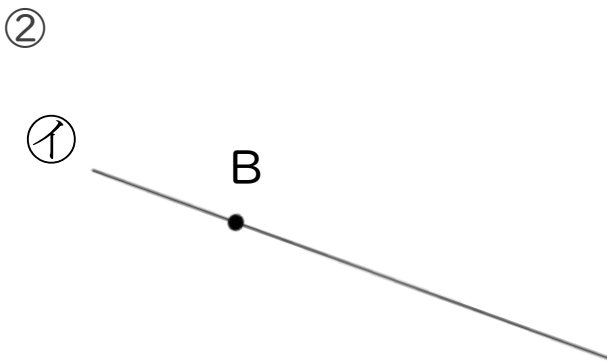
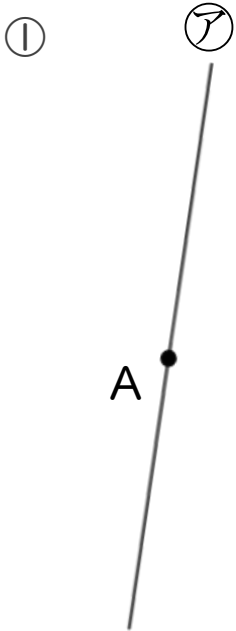
# 9

● 垂直な直線をひく

日にち：            月            日

名まえ \_\_\_\_\_

・ 2まいの三角じょうぎを使って、次の点を通り、直線に垂直な直線をひきましょう。





# 垂直, 平行と 四角形 4

# 10

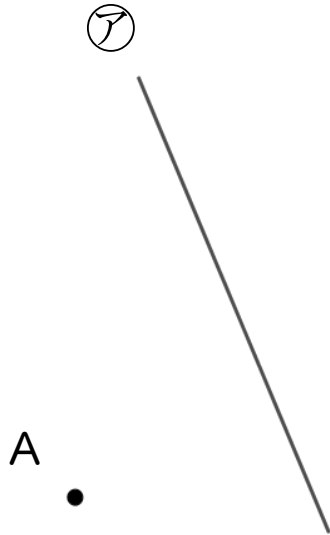
● 垂直な直線をひく

日にち：        月        日

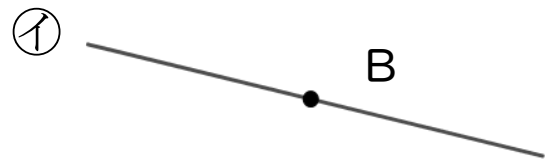
名まえ \_\_\_\_\_

1 2まいの三角じょうぎを使って、次の点を通り、直線に垂直な直線をひきましょう。

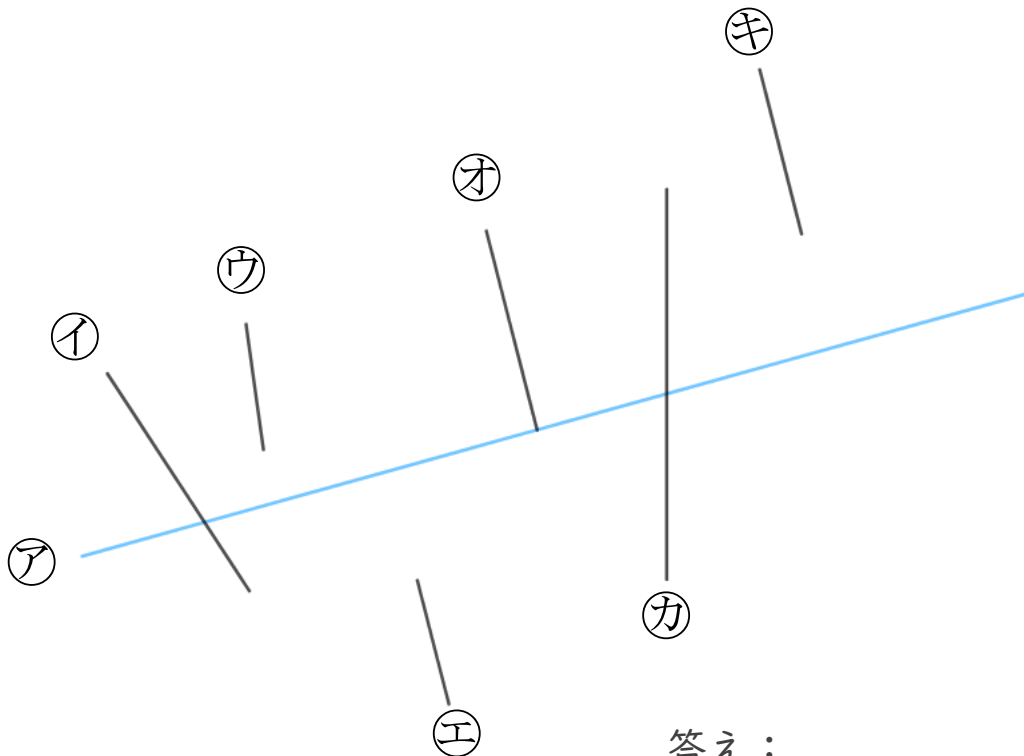
①



②



2 次の図で、アの直線に垂直な直線はどれですか。



答え： \_\_\_\_\_



# 垂直, 平行と 四角形 4

● 垂直な直線をひく



日にち：            月            日

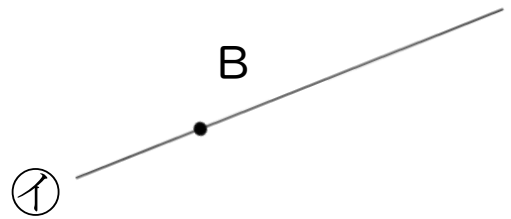
名まえ \_\_\_\_\_

1 2まいの三角じょうぎを使って、次の点を通り、直線に垂直な直線をひきましょう。

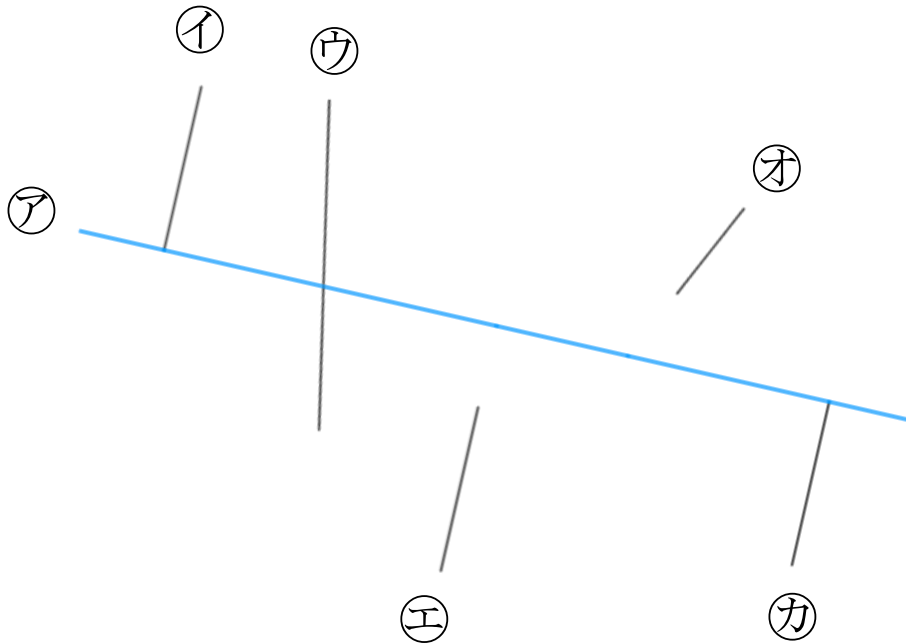
①

②

• A



2 次の図で、アの直線に垂直な直線はどれですか。



答え： \_\_\_\_\_



# 垂直, 平行と 四角形 4

# 12

● 垂直な直線をひく

日にち：          月          日

名まえ \_\_\_\_\_

1 2まいの三角じょうぎを使って、次の点を通り、直線に垂直な直線をひきましょう。

①

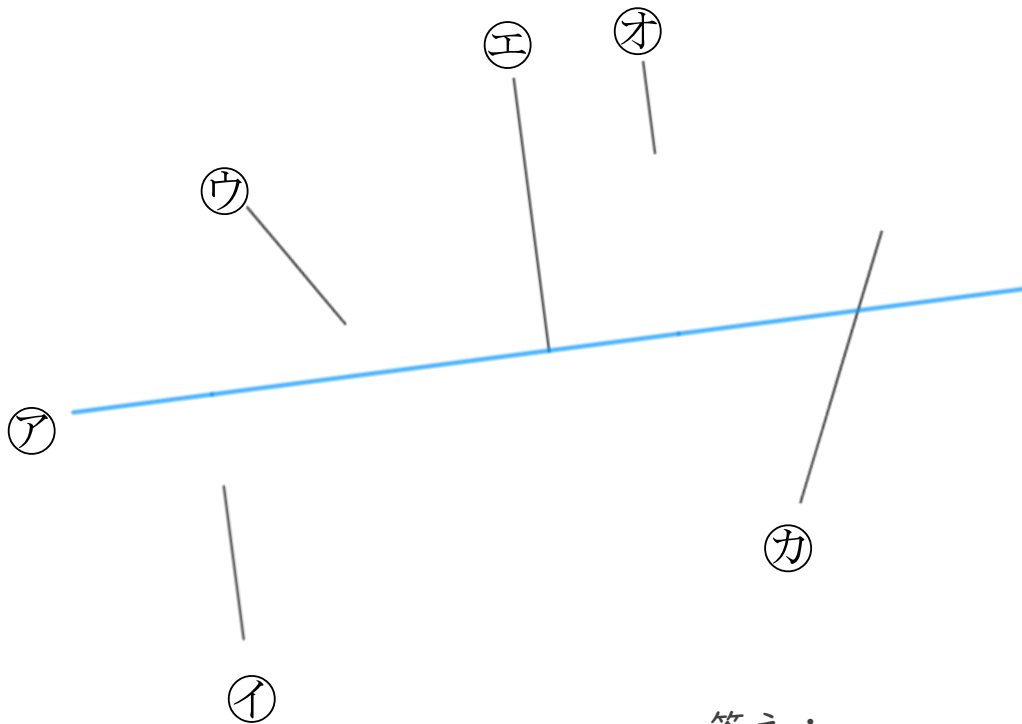


②



• B

2 次の図で、アの直線に垂直な直線はどれですか。



答え： \_\_\_\_\_



# 垂直, 平行と 四角形 4 13

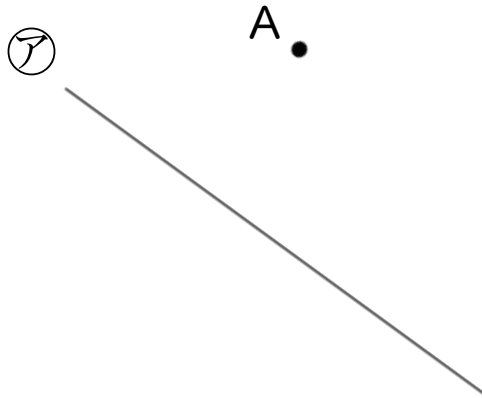
● 垂直な直線をひく

日にち：        月        日

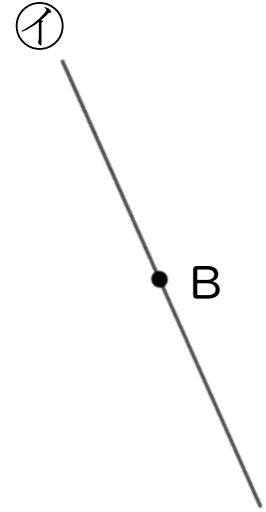
名まえ \_\_\_\_\_

1 2まいの三角じょうぎを使って、次の点を通り、直線に垂直な直線をひきましょう。

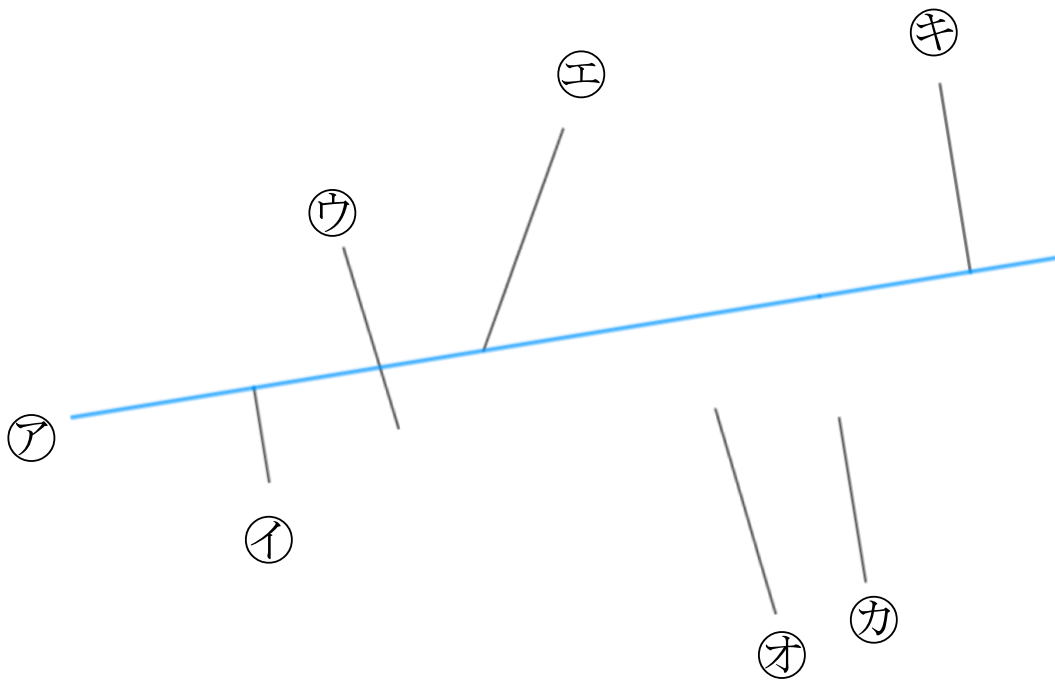
①



②



2 次の図で、アの直線に垂直な直線はどれですか。



答え： \_\_\_\_\_



垂直, 平行と  
四角形 4 14

● 垂直な直線をひく

日にち：      月      日

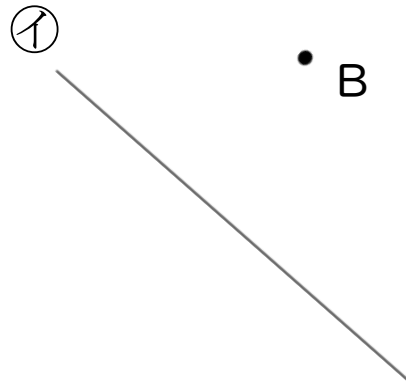
名まえ \_\_\_\_\_

1 2まいの三角じょうぎを使って、次の点を通り、直線に垂直な直線をひきましょう。

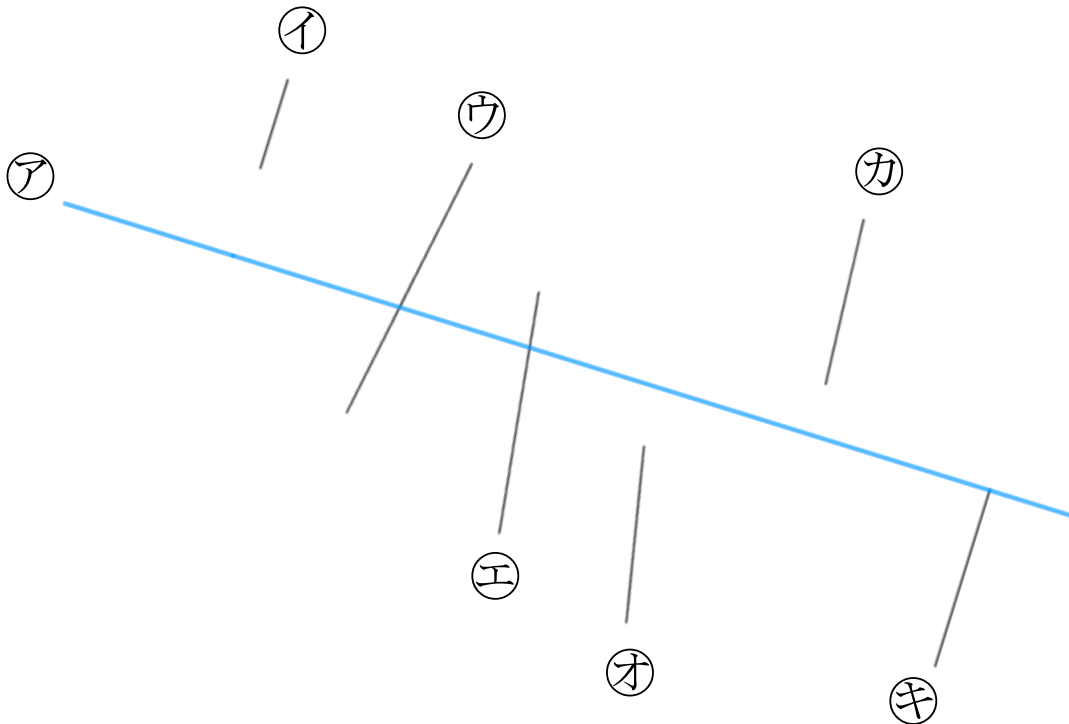
①



②



2 次の図で、アの直線に垂直な直線はどれですか。



答え： \_\_\_\_\_




# 垂直, 平行と 四角形 4

# 15

● 垂直な直線をひく

目指せ70点!



名まえ

1 2まいの三角じょうぎを使って、次の点を通り、直線に垂直な直線をひきましょう。(各30点)

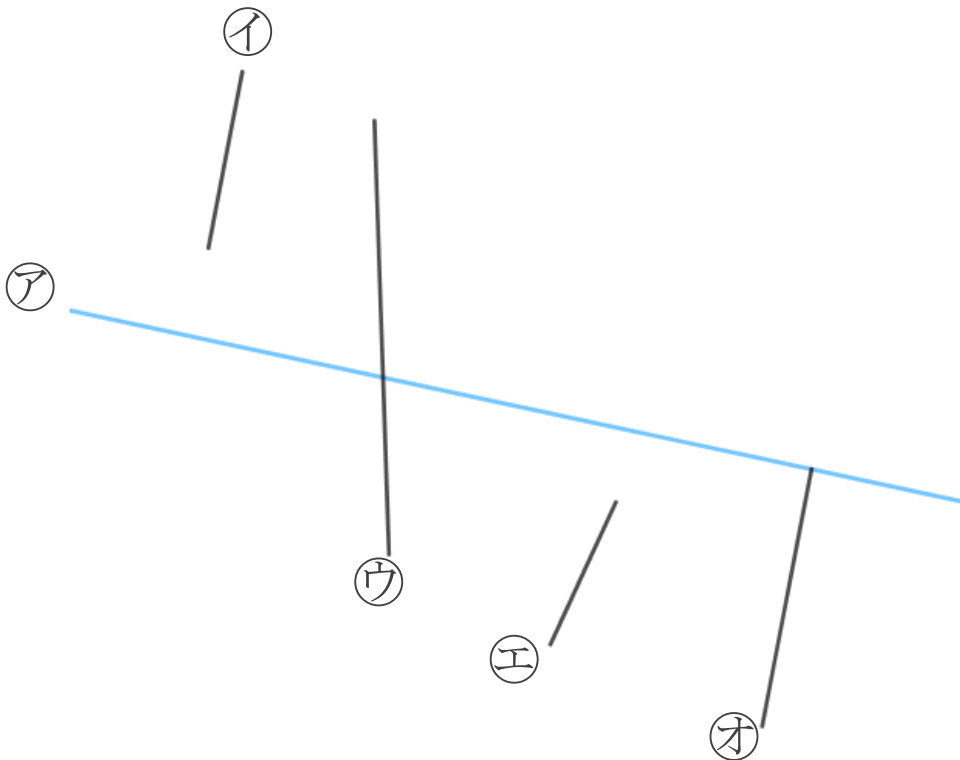
①



②



2 次の図で、アの直線に垂直な直線はどれですか。(40点)



答え：






# 垂直、平行と 四角形 4

# 16

● 垂直な直線をひく

目指せ70点!



名まえ \_\_\_\_\_

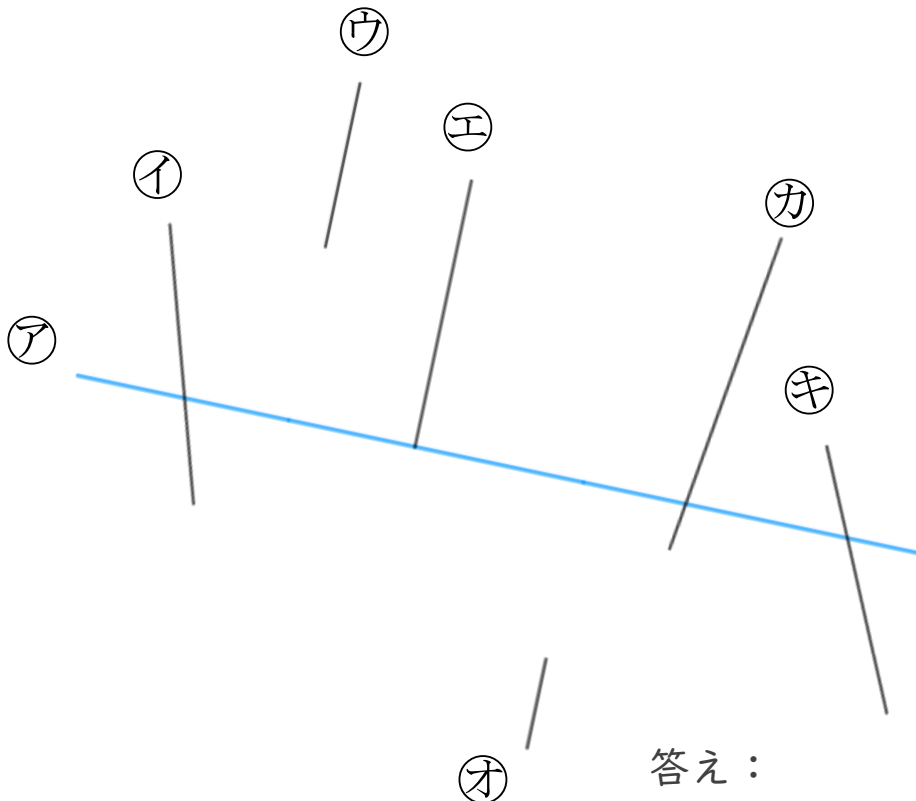
1 2まいの三角じょうぎを使って、次の点を通り、直線に垂直な直線をひきましょう。(各30点)

①

②



2 次の図で、アの直線に垂直な直線はどれですか。(40点)



答え: \_\_\_\_\_





# 垂直, 平行と 四角形 4

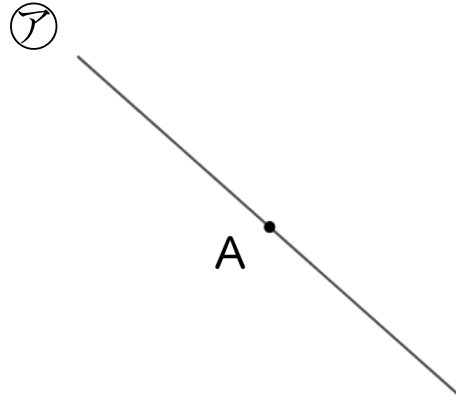
● 垂直な直線をひく



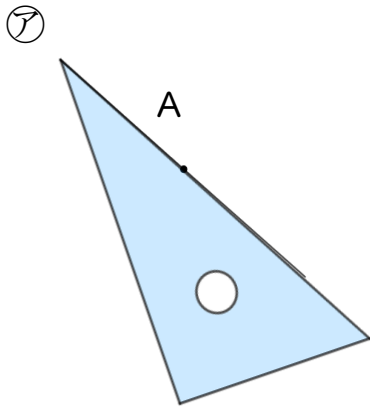
日にち：        月        日

名まえ \_\_\_\_\_

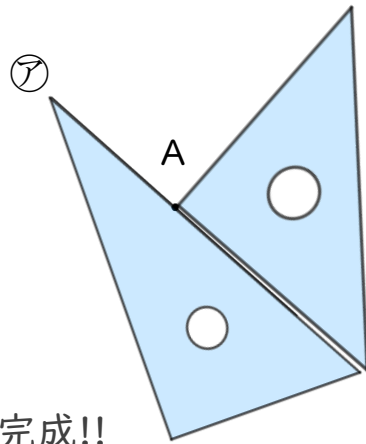
- ・ 2まいの三角じょうぎを使って、点Aを通り、㊦の直線に垂直な直線をひきましょう。(うすい線はしっかりなぞりましょう。)



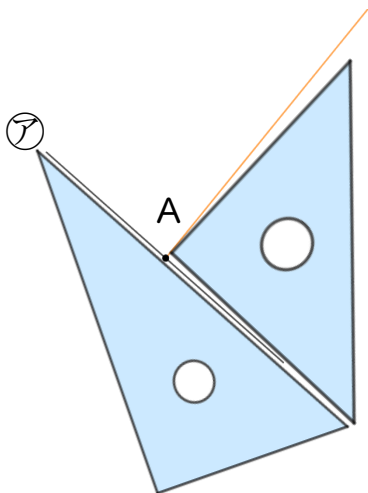
① ㊦に三角じょうぎをあてる



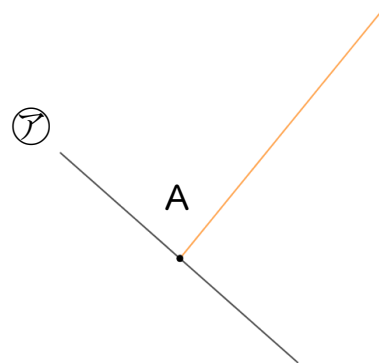
② もう1まいの三角じょうぎの直角を㊦にあてる



③ 線を引く



④ 完成!!





# 垂直, 平行と 四角形 4

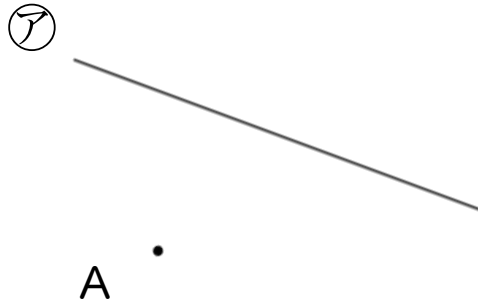
## 2

● 垂直な直線をひく

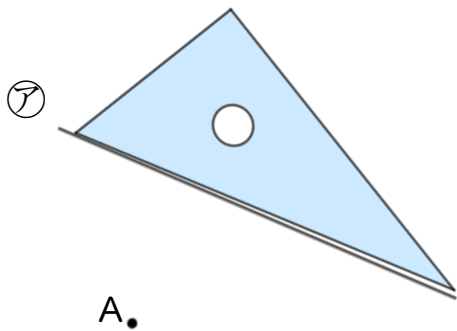
日にち：        月        日

名まえ \_\_\_\_\_

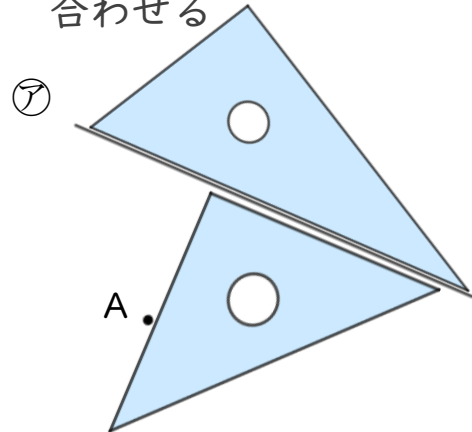
- ・ 2まいの三角じょうぎを使って、点Aを通り、㊦の直線に垂直な直線をひきましょう。(うすい線はしっかりなぞりましょう。)



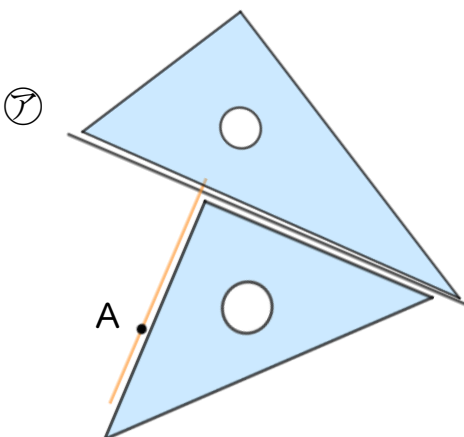
① ㊦に三角じょうぎをあてる



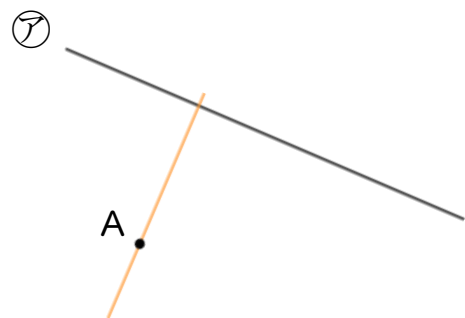
② もう1まいの三角じょうぎの直角を㊦にあてて、Aに合わせる



③ 線を引く



④ 完成!!





# 垂直, 平行と 四角形 4

# 3

● 垂直な直線をひく

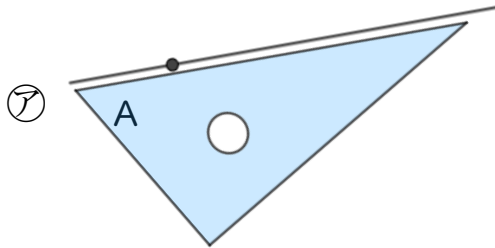
日にち：            月            日

名まえ \_\_\_\_\_

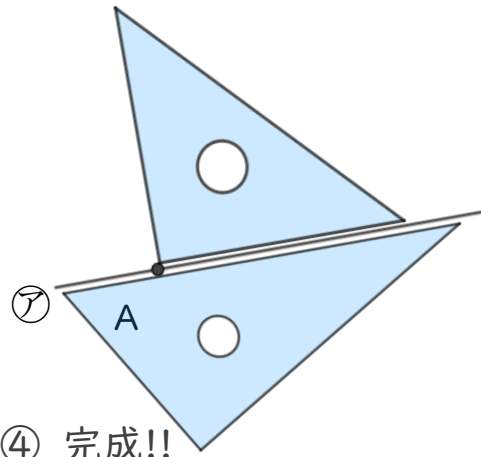
- ・ 2まいの三角じょうぎを使って、点Aを通り、㊦の直線に垂直な直線をひきましょう。(うすい線はしっかりなぞりましょう。)



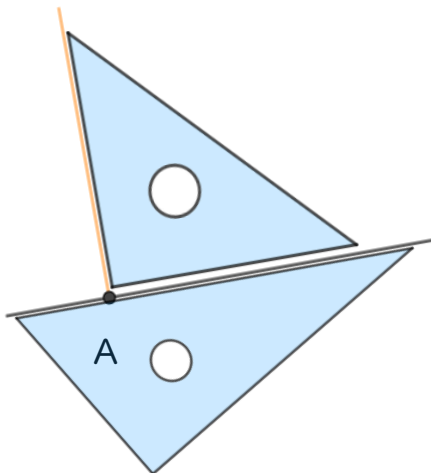
① ㊦に三角じょうぎをあてる



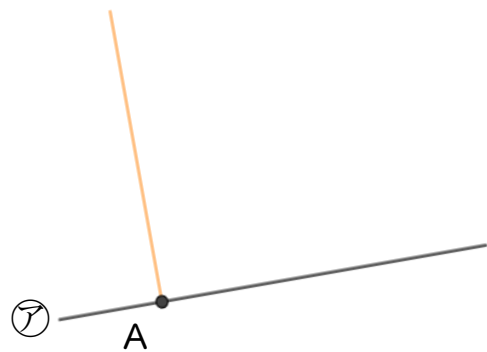
② もう1まいの三角じょうぎの直角を㊦にあてる



③ 線を引く



④ 完成!!





# 垂直, 平行と 四角形 4

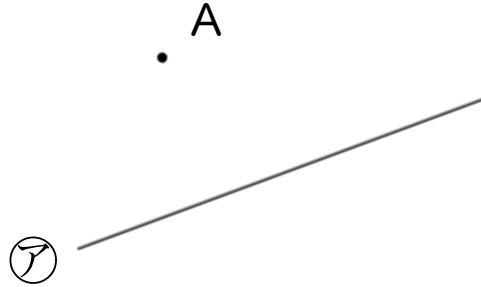


● 垂直な直線をひく

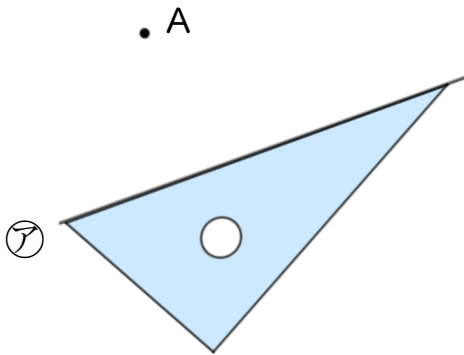
日にち：        月        日

名まえ \_\_\_\_\_

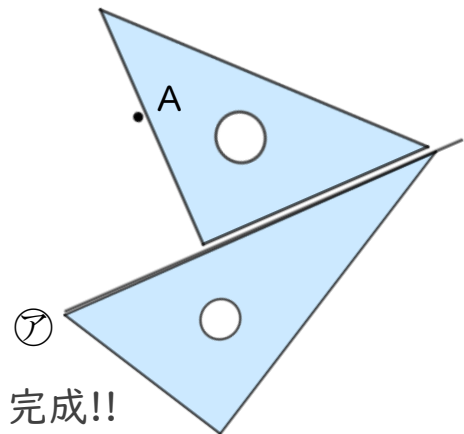
- ・ 2まいの三角じょうぎを使って、点Aを通り、㊦の直線に垂直な直線をひきましょう。(うすい線はしっかりなぞりましょう。)



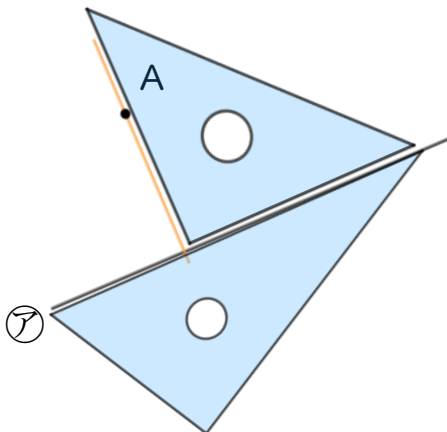
① ㊦に三角じょうぎをあてる



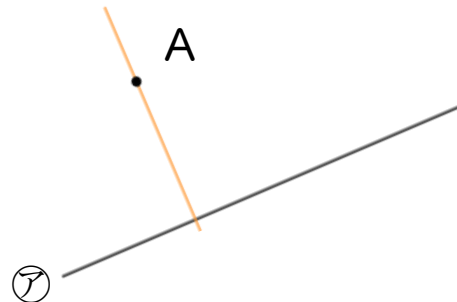
② もう1まいの三角じょうぎの直角を㊦にあてて、Aに合わせる



③ 線を引く



④ 完成!!



④ 確認 答え



すらすらぷりんと



# 垂直, 平行と 四角形 4

# 5

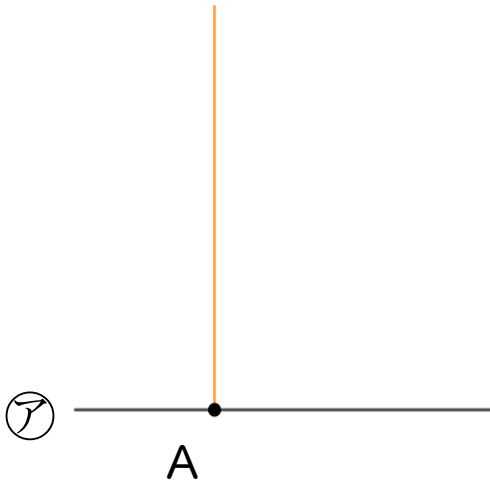
● 垂直な直線をひく

日にち：        月        日

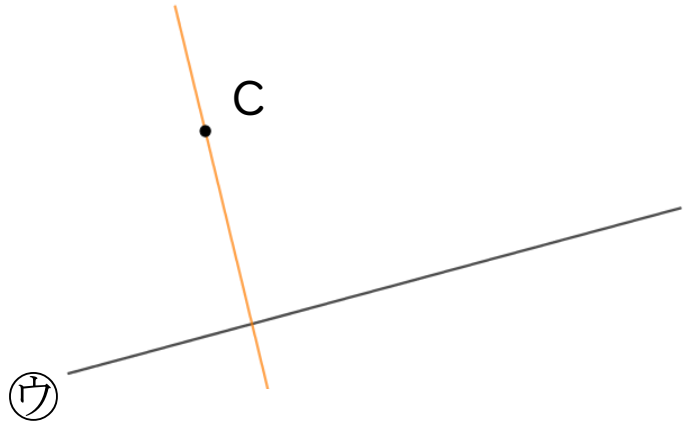
名まえ \_\_\_\_\_

・ 2まいの三角じょうぎを使って、次の点を通り、直線に垂直な直線をひきましょう。(うすい線はしっかりなぞりましょう。)

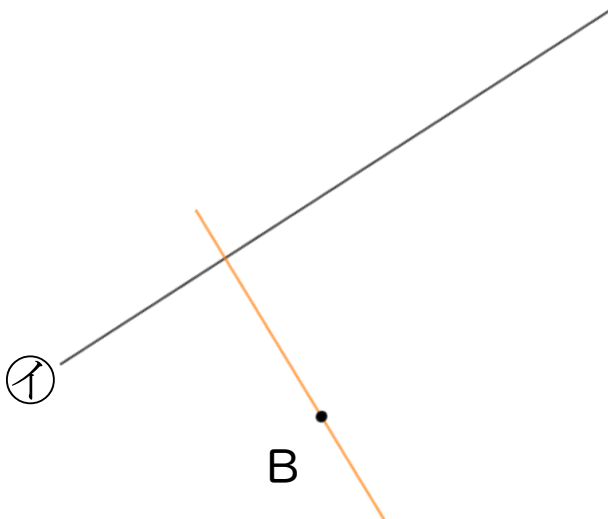
①



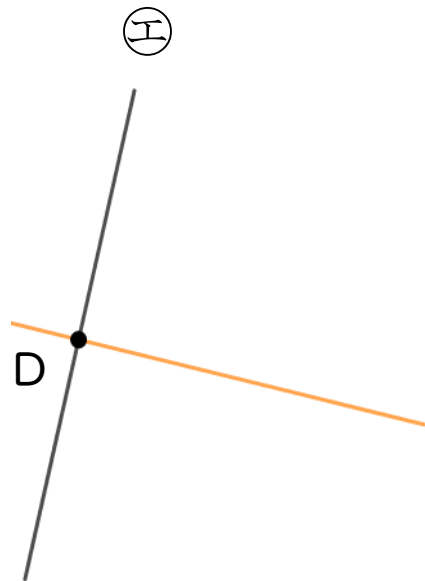
③



②



④





# 垂直, 平行と 四角形 4

# 6

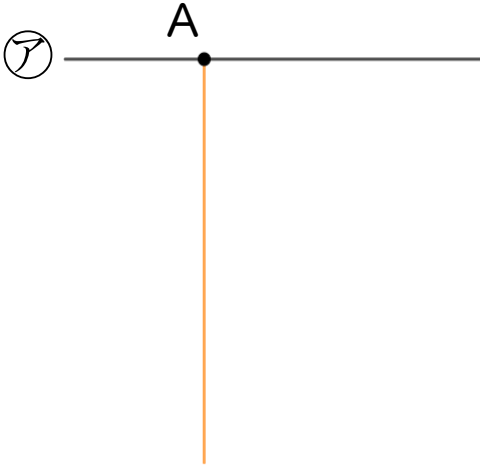
◎ 垂直な直線をひく

日にち：            月            日

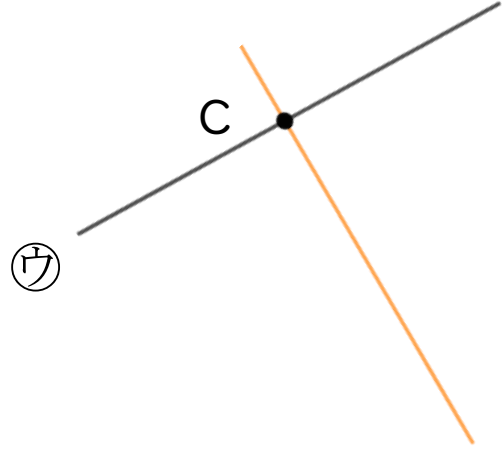
名まえ \_\_\_\_\_

・ 2まいの三角じょうぎを使って、次の点を通り、直線に垂直な直線をひきましょう。(うすい線はしっかりなぞりましょう。)

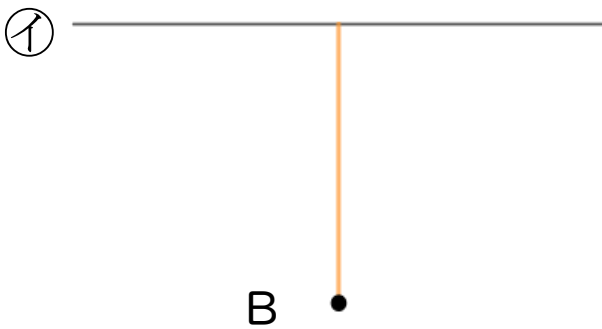
①



③



②



④





# 垂直、平行と 四角形 4

# 7

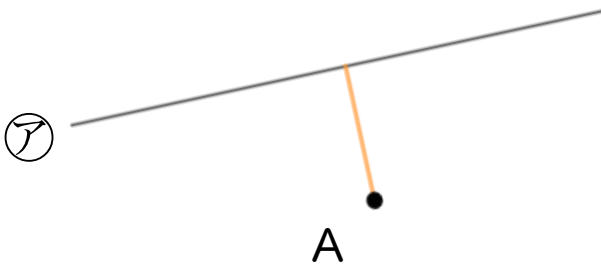
◎ 垂直な直線をひく

日にち：            月            日

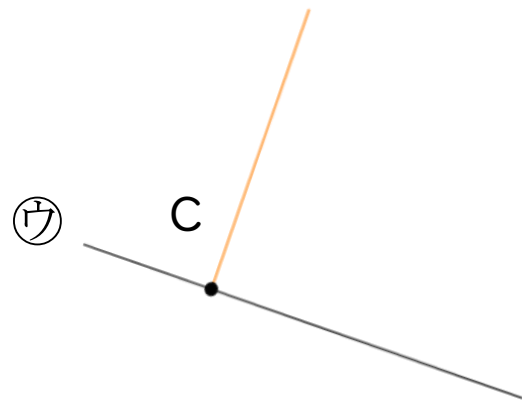
名まえ \_\_\_\_\_

・ 2まいの三角じょうぎを使って、次の点を通り、直線に垂直な直線をひきましょう。(うすい線はしっかりなぞりましょう。)

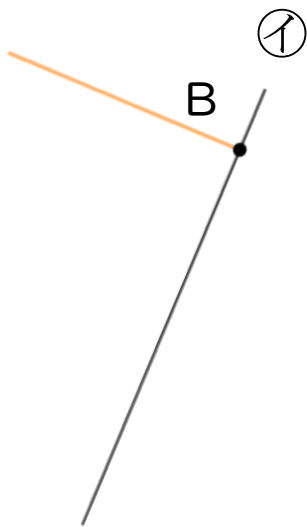
①



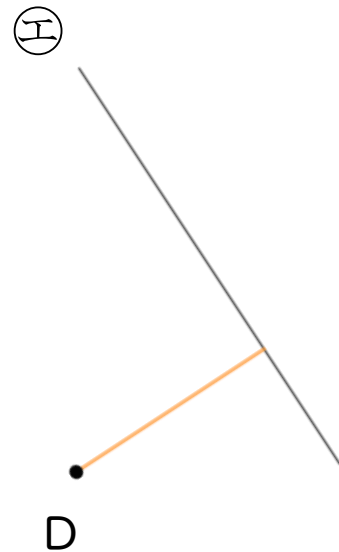
③



②



④





# 垂直、平行と 四角形 4

# 8

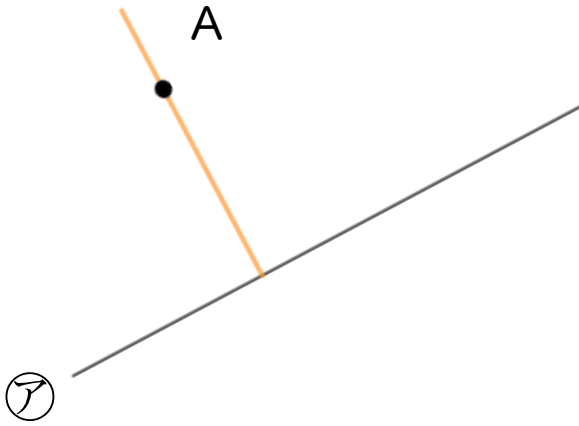
◎ 垂直な直線をひく

日にち：        月        日

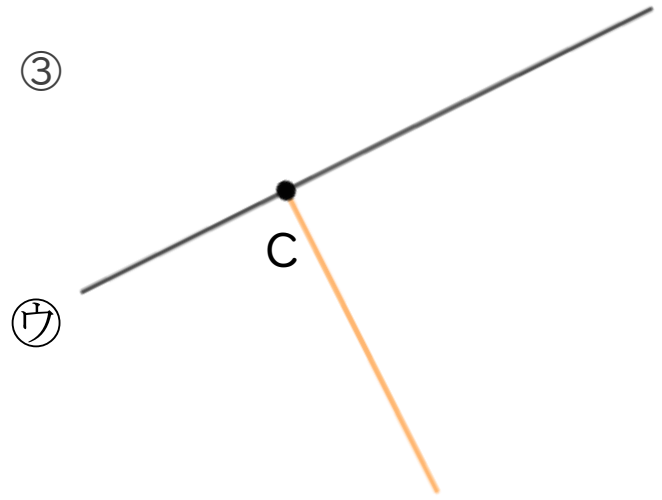
名まえ \_\_\_\_\_

・ 2まいの三角じょうぎを使って、次の点を通り、直線に垂直な直線をひきましょう。

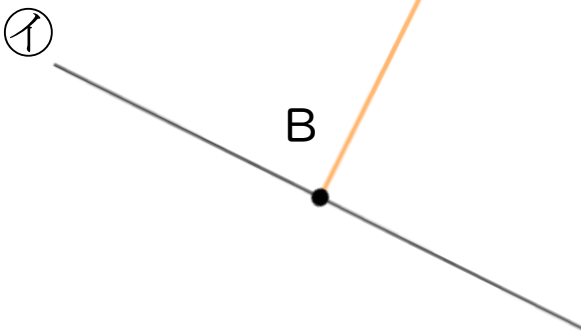
①



③



②



④







# 垂直, 平行と 四角形 4

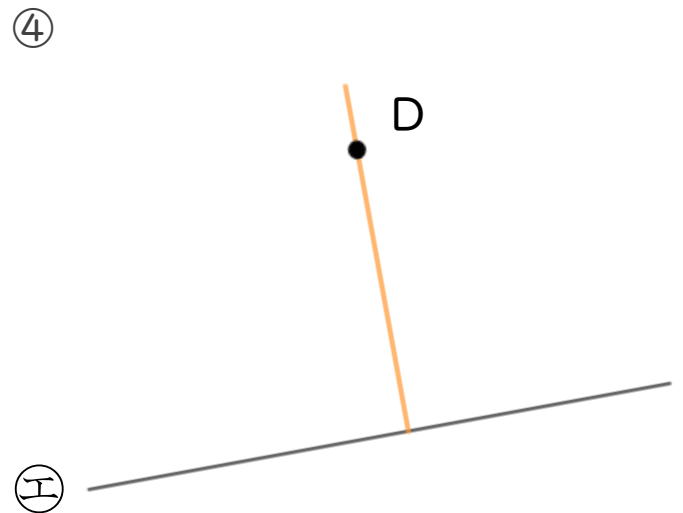
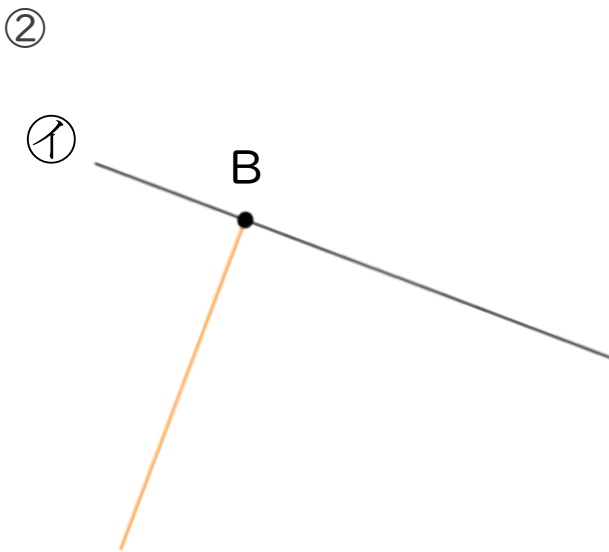
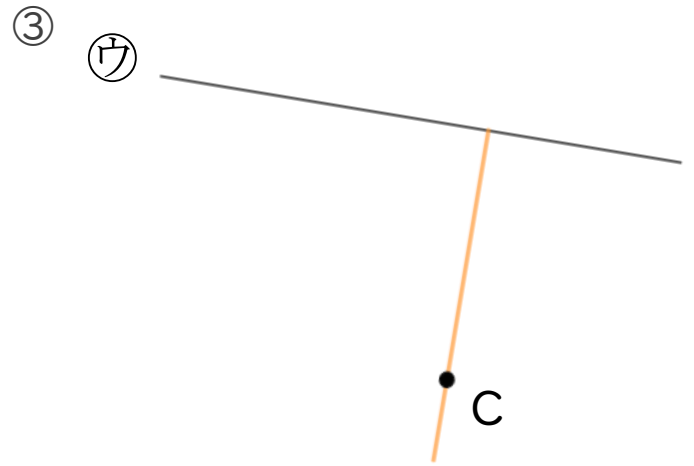
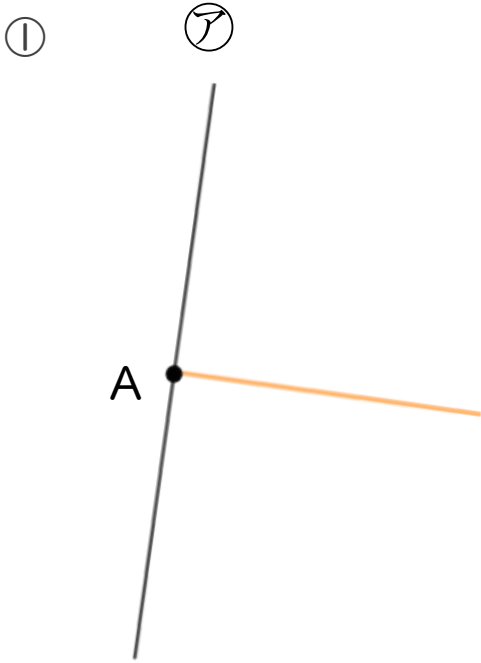
# 9

◎ 垂直な直線をひく

日にち：            月            日

名まえ \_\_\_\_\_

・ 2まいの三角じょうぎを使って、次の点を通り、直線に垂直な直線をひきましょう。





# 垂直, 平行と 四角形 4

# 10

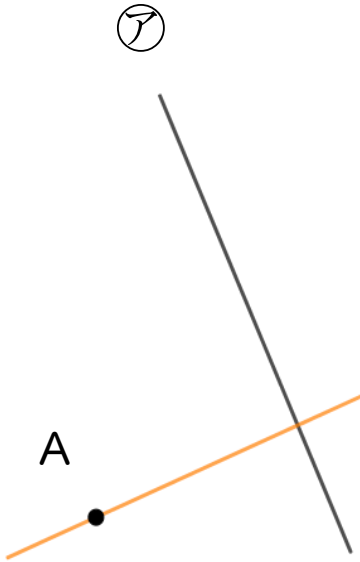
● 垂直な直線をひく

日にち：        月        日

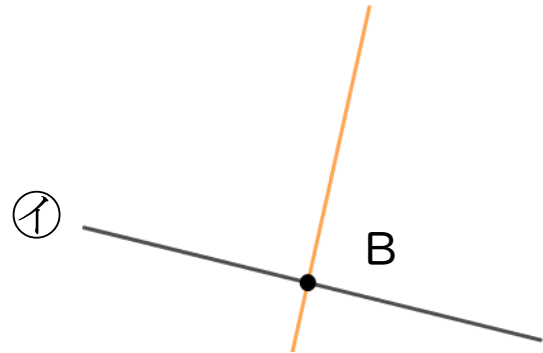
名まえ \_\_\_\_\_

1 2まいの三角じょうぎを使って、次の点を通り、直線に垂直な直線をひきましょう。

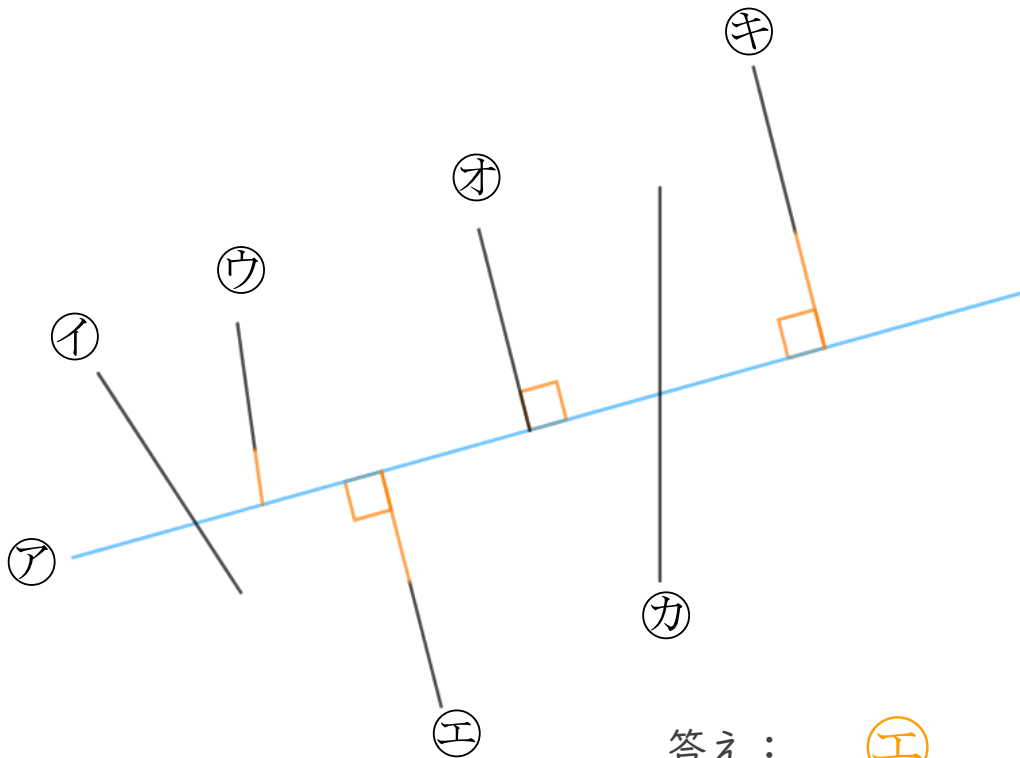
①



②



2 次の図で、アの直線に垂直な直線はどれですか。



答え：    **エ** , **オ** , **キ**



# 垂直, 平行と 四角形 4

● 垂直な直線をひく



日にち：        月        日

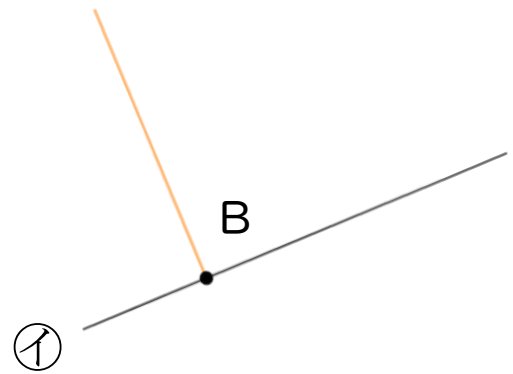
名まえ \_\_\_\_\_

1 2まいの三角じょうぎを使って、次の点を通り、直線に垂直な直線をひきましょう。

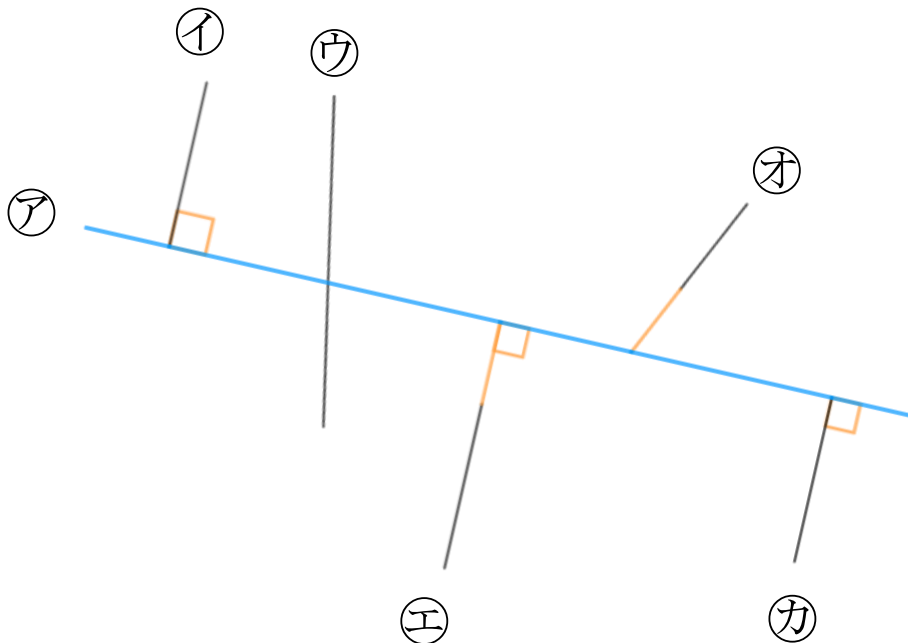
①



②



2 次の図で、アの直線に垂直な直線はどれですか。



答え：    **イ** , **エ** , **カ**



垂直, 平行と  
四角形 4 12

● 垂直な直線をひく

日にち：          月          日

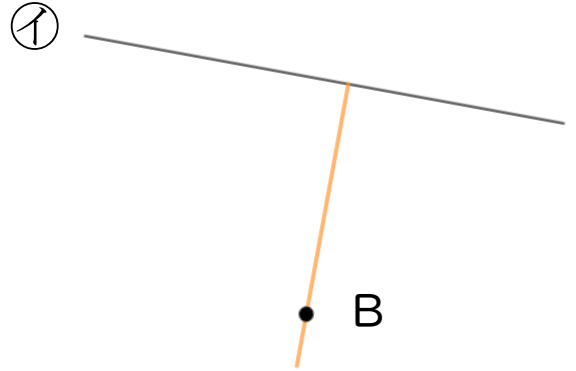
名まえ \_\_\_\_\_

1 2まいの三角じょうぎを使って、次の点を通り、直線に垂直な直線をひきましょう。

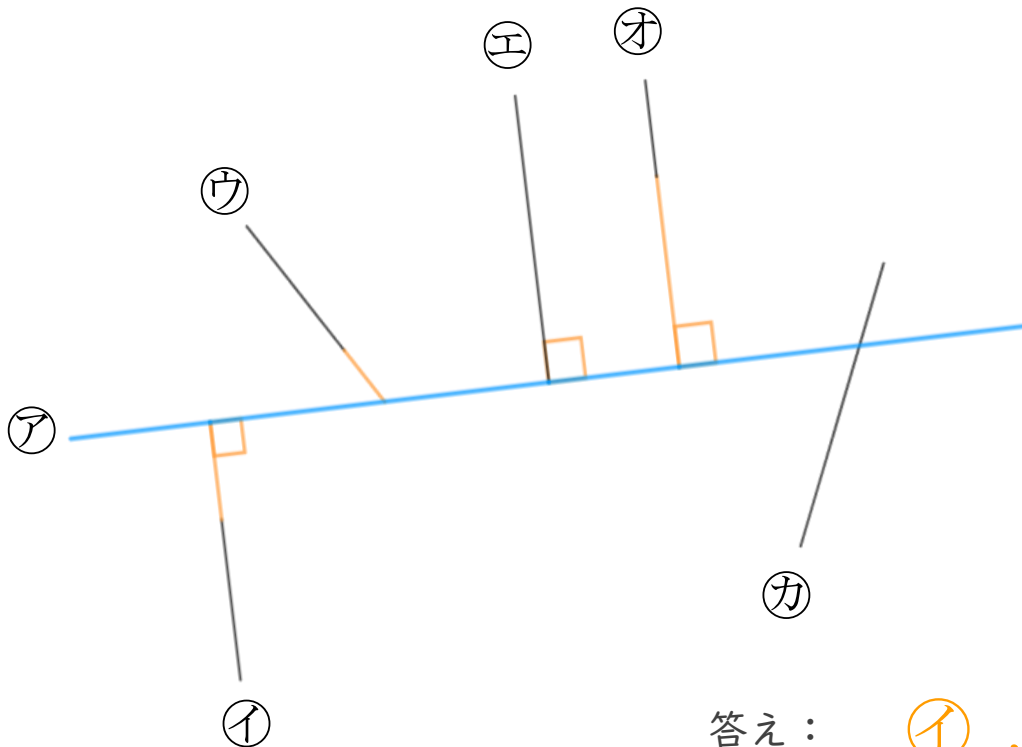
①



②



2 次の図で、アの直線に垂直な直線はどれですか。



答え：      **イ** , **エ** , **オ**



# 垂直, 平行と 四角形 4 13

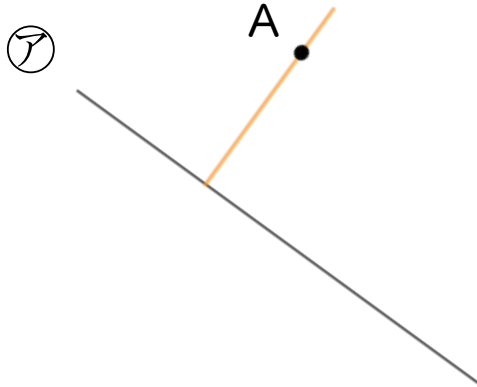
● 垂直な直線をひく

日にち：        月        日

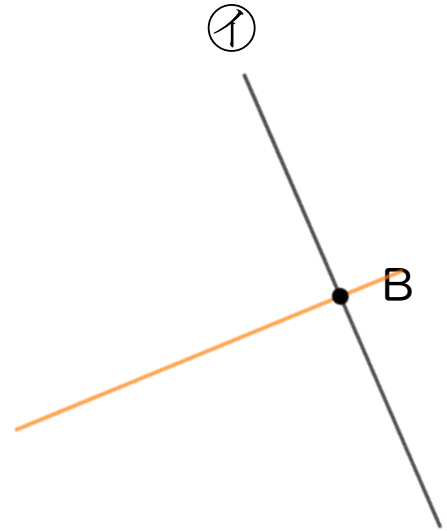
名まえ \_\_\_\_\_

1 2まいの三角じょうぎを使って、次の点を通り、直線に垂直な直線をひきましょう。

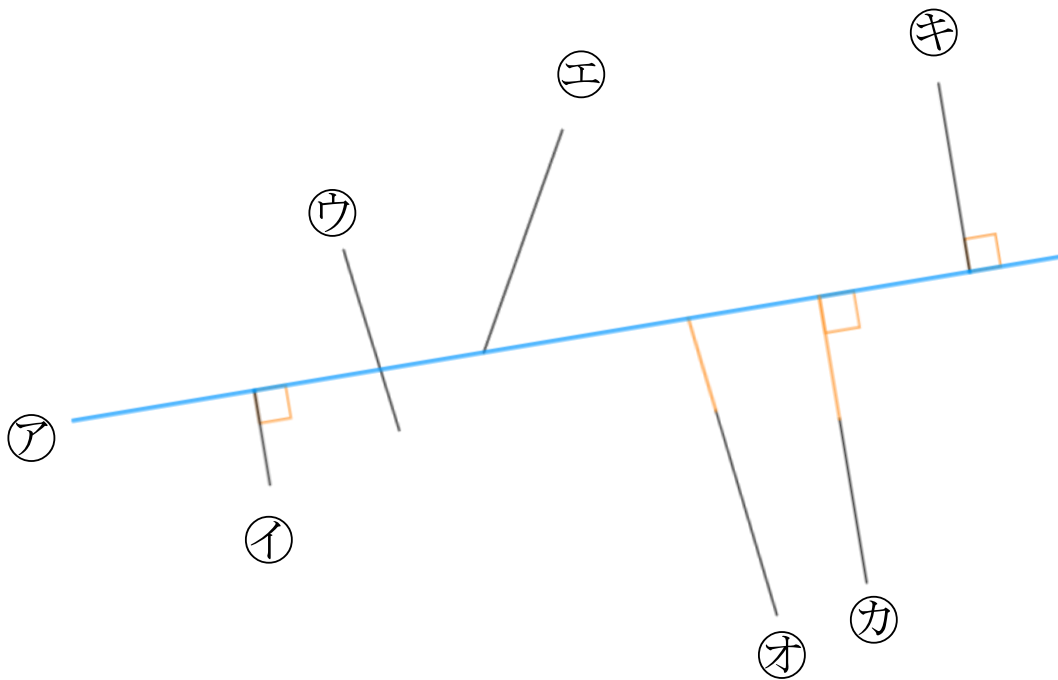
①



②



2 次の図で、アの直線に垂直な直線はどれですか。



答え：    **イ** , **カ** , **キ**



垂直, 平行と  
四角形 4 14

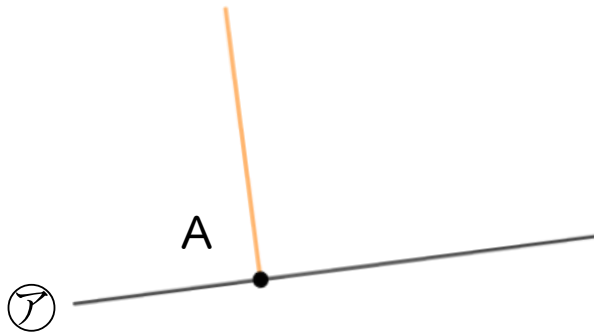
● 垂直な直線をひく

日にち：        月        日

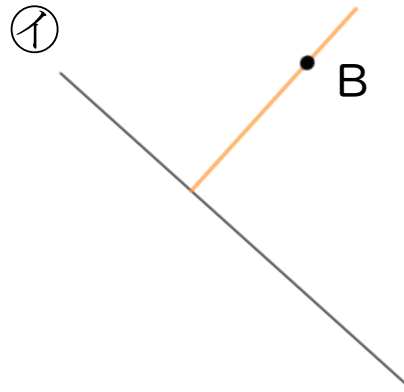
名まえ \_\_\_\_\_

1 2まいの三角じょうぎを使って、次の点を通り、直線に垂直な直線をひきましょう。

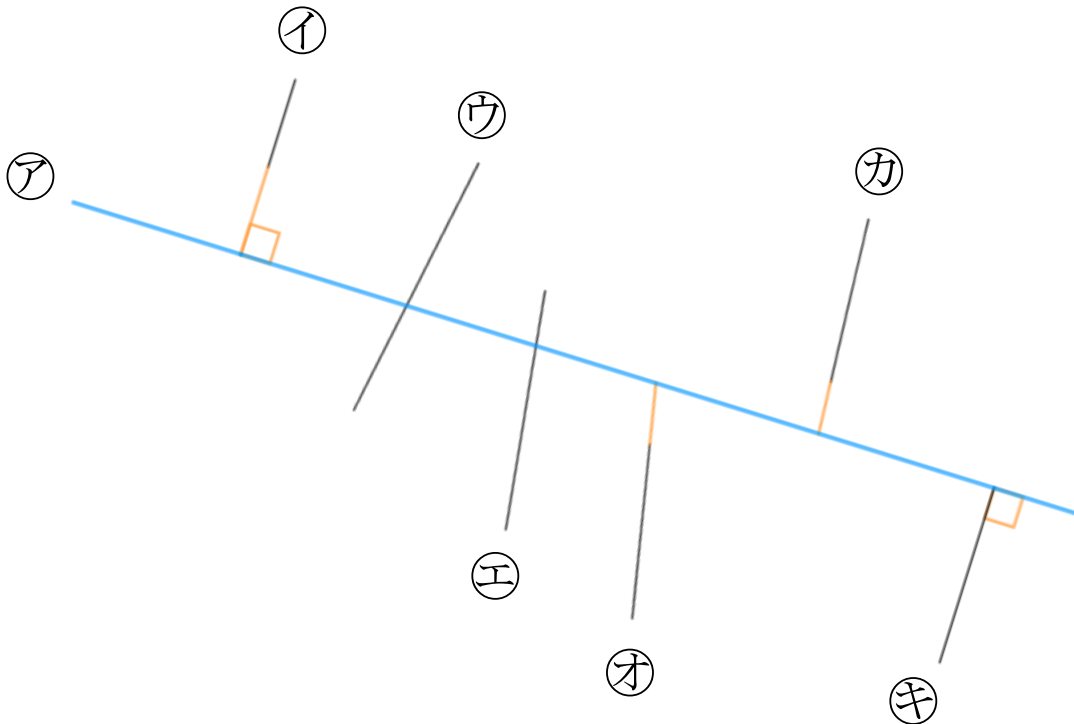
①



②



2 次の図で、アの直線に垂直な直線はどれですか。



答え：        **イ** , **キ**




# 垂直, 平行と 四角形 4

# 15

● 垂直な直線をひく

目指せ70点!




名まえ \_\_\_\_\_

1 2まいの三角じょうぎを使って、次の点を通り、直線に垂直な直線をひきましょう。(各30点)

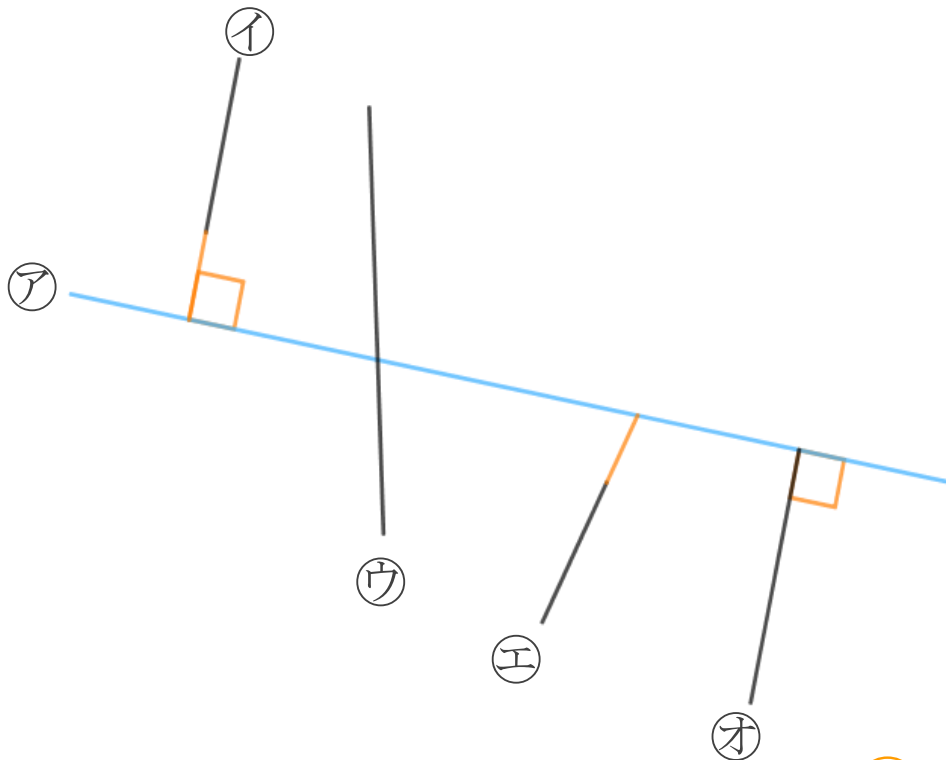
①



②



2 次の図で、アの直線に垂直な直線はどれですか。(40点)



答え： イ, オ






# 垂直, 平行と 四角形 4

# 16

● 垂直な直線をひく

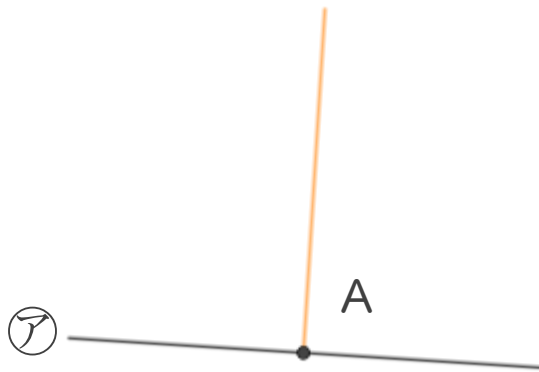
目指せ70点!



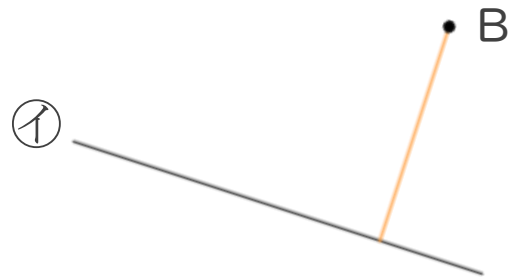
名まえ \_\_\_\_\_

1 2まいの三角じょうぎを使って、次の点を通り、直線に垂直な直線をひきましょう。(各30点)

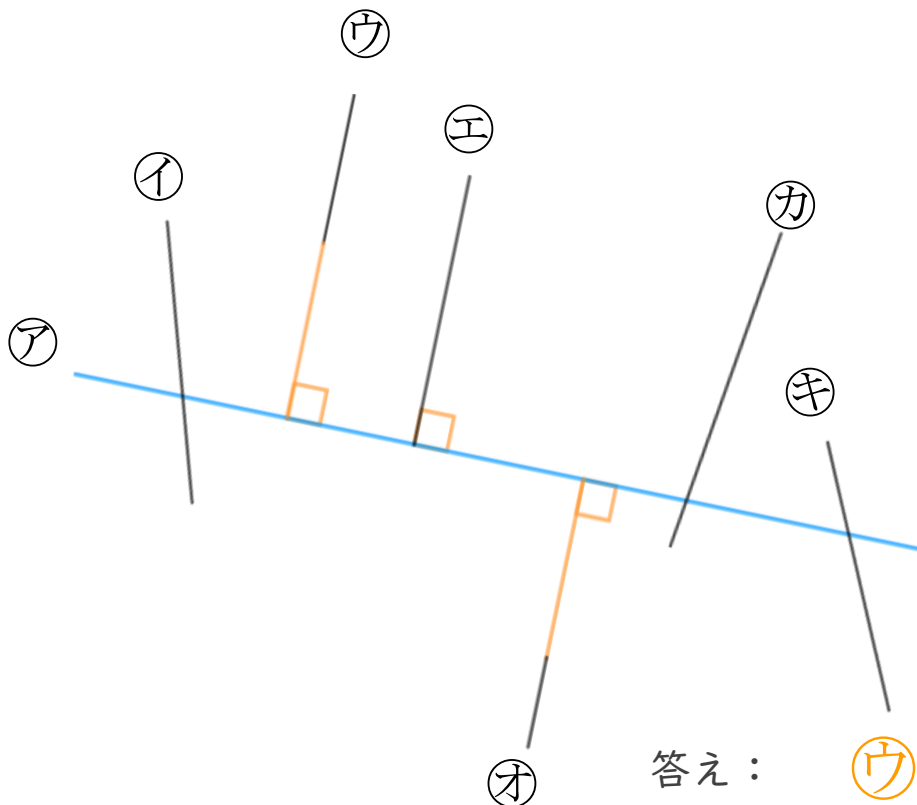
①



②



2 次の図で、アの直線に垂直な直線はどれですか。(40点)



答え： **ウ** , **エ** , **オ**

