



垂直, 平行と 四角形 4

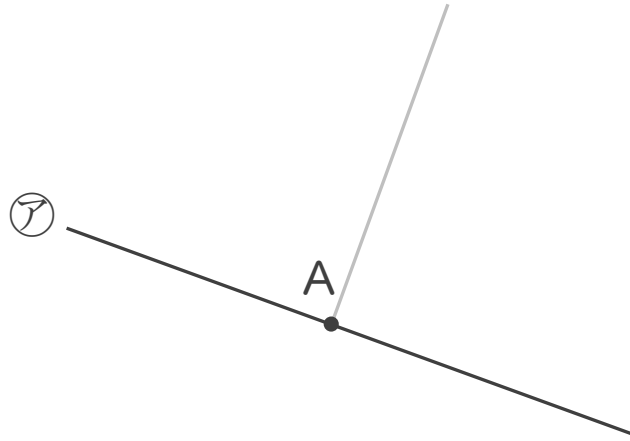


● 垂直な直線をひく

日にち： 月 日

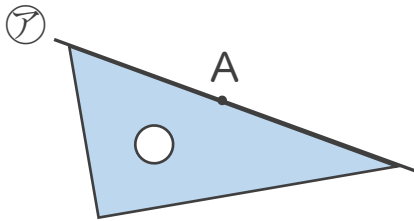
名まえ _____

- 2まいの三角じょうぎを使って、点Aを通り、㊦の直線に垂直な直線をひきましょう。(うすい線はなぞりましょう。)

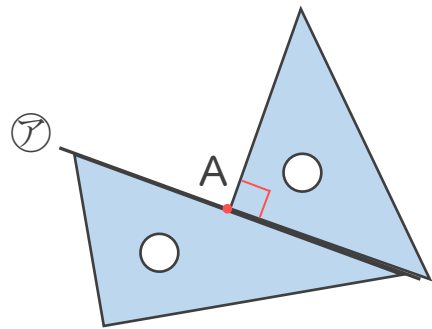


垂直な直線のひき方

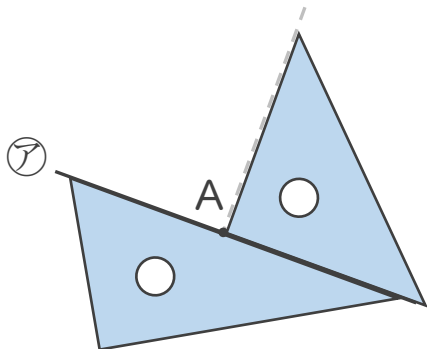
① ㊦の直線に三角じょうぎをあてる。



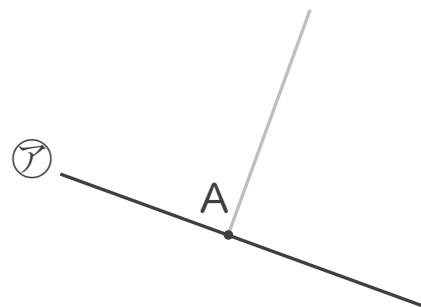
② もう1まいの三角じょうぎの直角を ㊦の直線にあててAに合わせる。



③ 直線をひく。



④ 完成!





垂直, 平行と 四角形 4

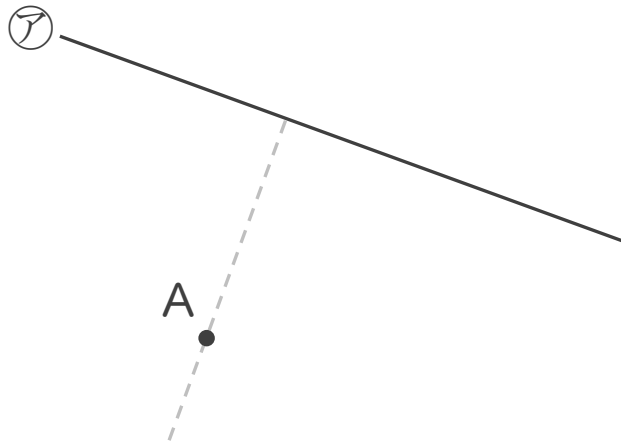
2

● 垂直な直線をひく

日にち： 月 日

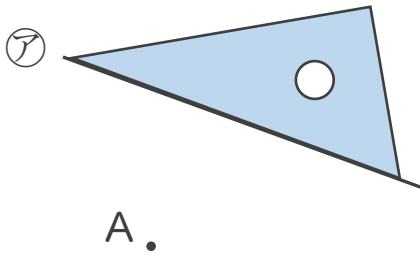
名まえ _____

- ・ 2まいの三角じょうぎを使って、点Aを通り、㊦の直線に垂直な直線をひきましょう。(うすい線はなぞりましょう。)

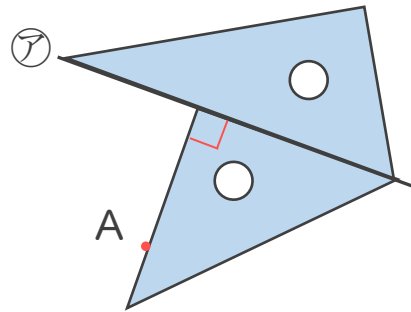


垂直な直線のひき方

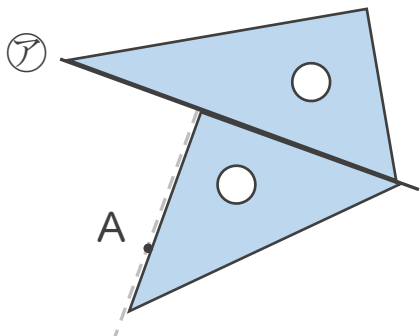
① ㊦の直線に三角じょうぎをあてる。



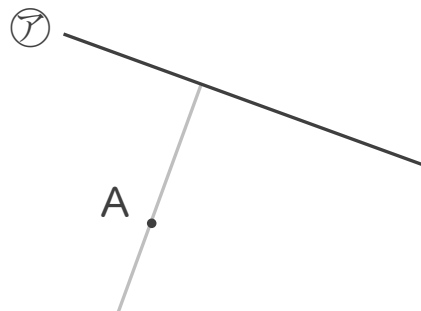
② もう1まいの三角じょうぎの直角を㊦の直線にあててAに合わせる。



③ 直線をひく。



④ 完成!





垂直, 平行と 四角形 4

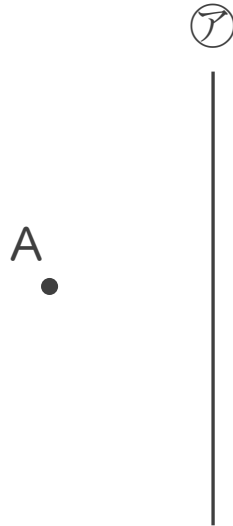
3

◎ 垂直な直線をひく

日にち： 月 日

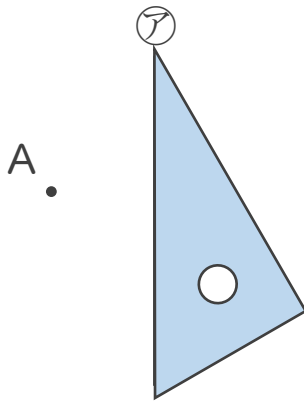
名まえ _____

- ・ 2まいの三角じょうぎを使って、点Aを通り、アの直線に垂直な直線をひきましょう。(うすい線はなぞりましょう。)

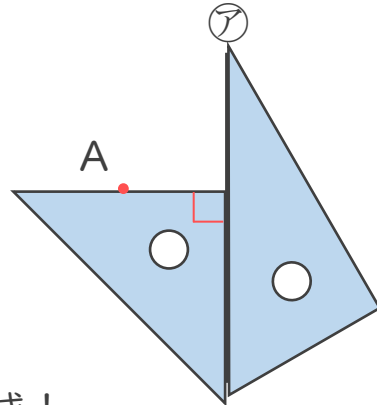


垂直な直線のひき方

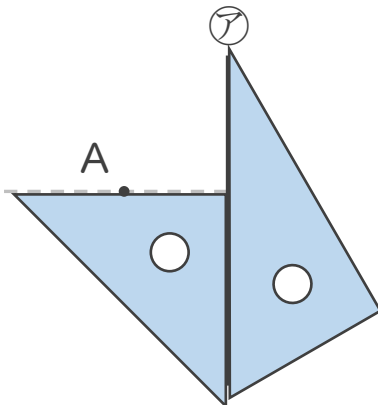
① アの直線に三角じょうぎをあてる。



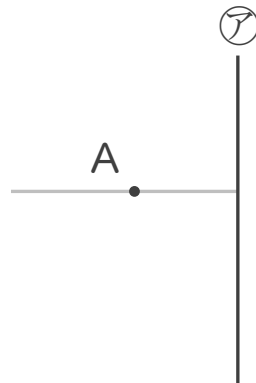
② もう1まいの三角じょうぎの直角をアの直線にあててAに合わせる。



③ 直線をひく。



④ 完成!





垂直, 平行と 四角形 4

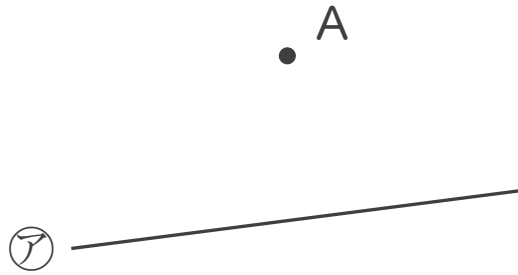


● 垂直な直線をひく

日にち： 月 日

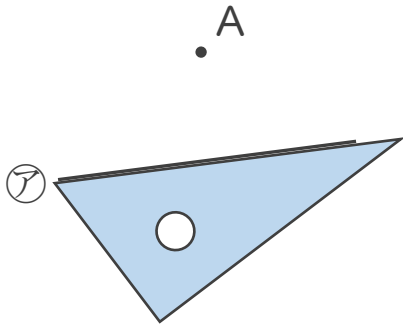
名まえ _____

- 2まいの三角じょうぎを使って、点Aを通り、㊦の直線に垂直な直線をひきましょう。(うすい線はなぞりましょう。)

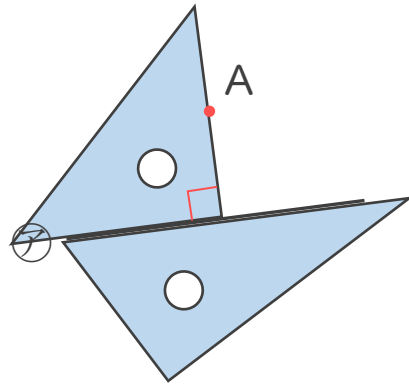


垂直な直線のひき方

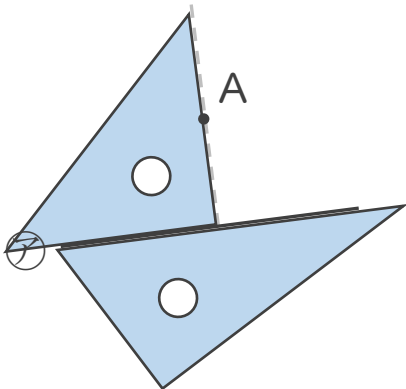
① ㊦の直線に三角じょうぎをあてる。



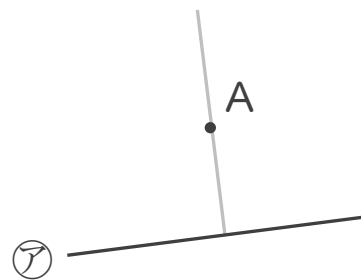
② もう1まいの三角じょうぎの直角を ㊦の直線にあててAに合わせる。



③ 直線をひく。



④ 完成!





垂直, 平行と 四角形 4

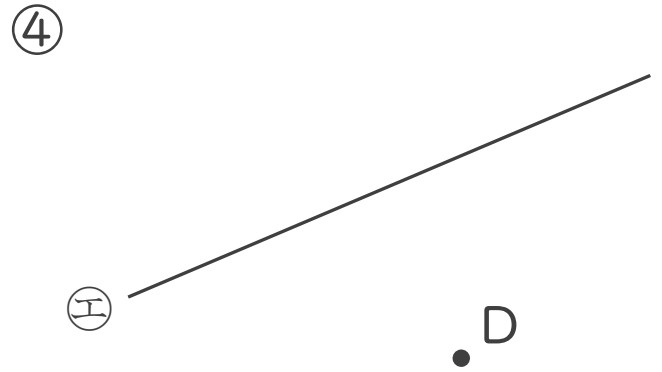
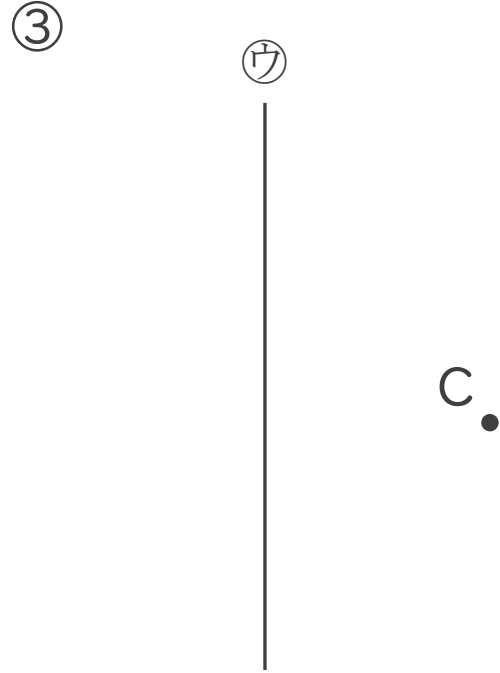
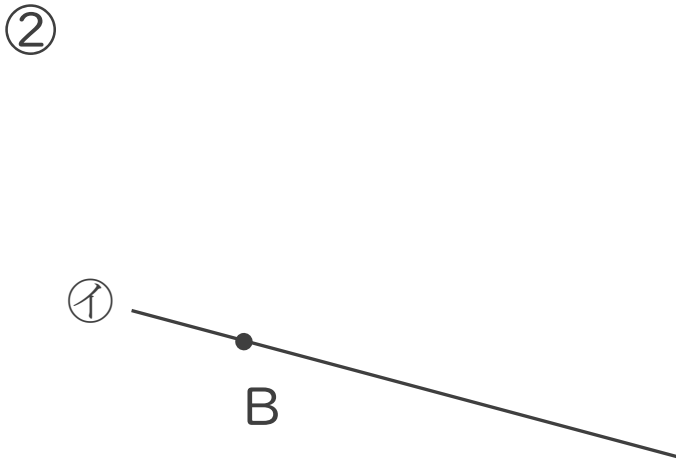
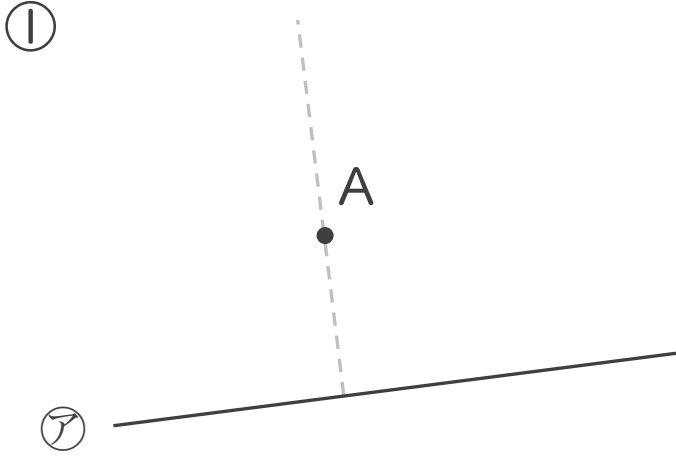
5

● 垂直な直線をひく

日にち： 月 日

名まえ _____

・ 2まいの三角じょうぎを使って、次の点を通り、直線に垂直な直線をひきましょう。(うすい線はなぞりましょう。)





垂直, 平行と 四角形 4

6

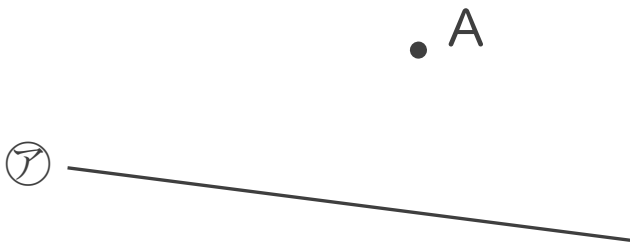
● 垂直な直線をひく

日にち： 月 日

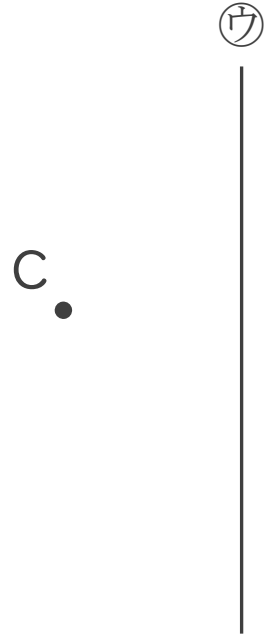
名まえ _____

・ 2まいの三角じょうぎを使って、次の点を通り、直線に垂直な直線をひきましょう。

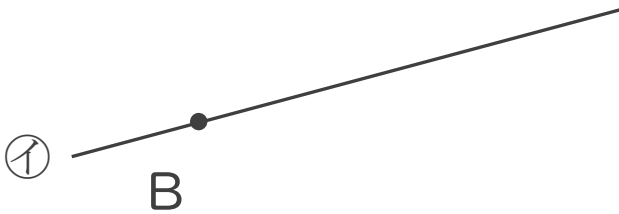
①



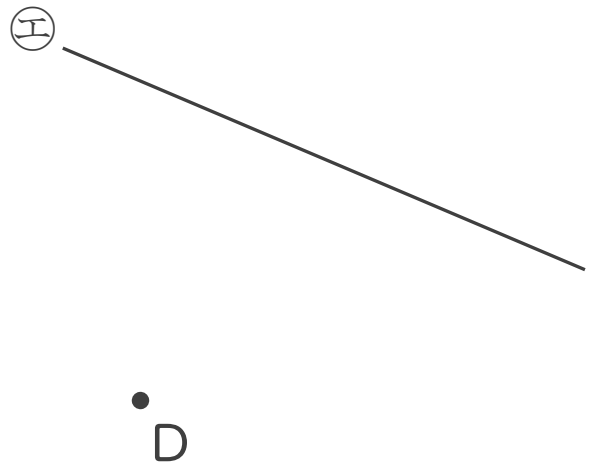
③



②



④





垂直, 平行と 四角形 4

7

● 垂直な直線をひく

日にち： 月 日

名まえ _____

・ 2まいの三角じょうぎを使って、次の点を通り、直線に垂直な直線をひきましょう。

①

● A

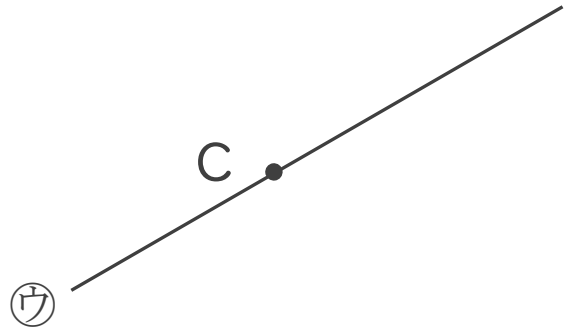


②

①

● B

③



④

①

● D





垂直, 平行と 四角形 4

8

◎ 垂直な直線をひく

日にち： 月 日

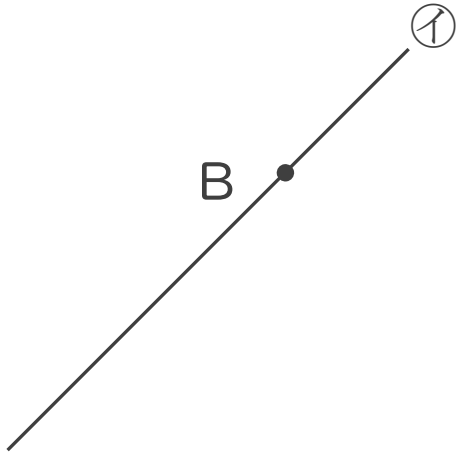
名まえ _____

- ・ 2まいの三角じょうぎを使って、次の点を通り、直線に垂直な直線をひきましょう。

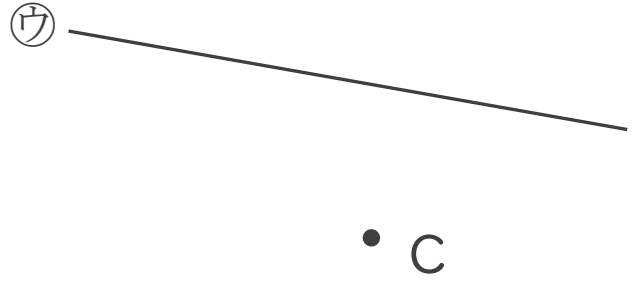
①



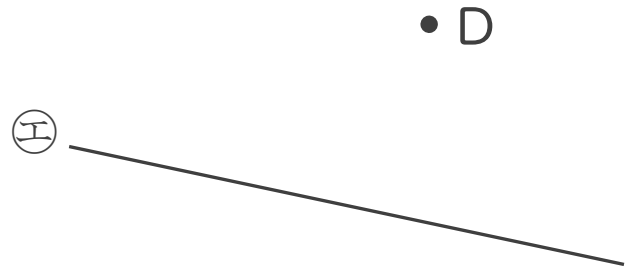
②



③



④





垂直, 平行と 四角形 4

9

● 垂直な直線をひく

日にち： 月 日

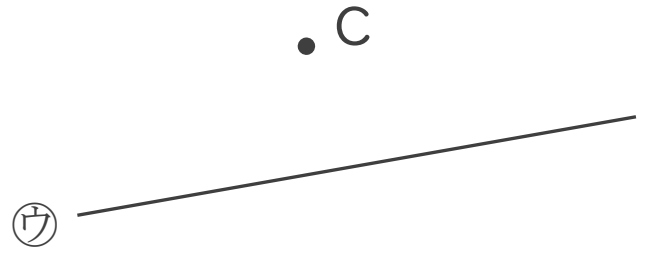
名まえ _____

- ・ 2まいの三角じょうぎを使って、次の点を通り、直線に垂直な直線をひきましょう。


①



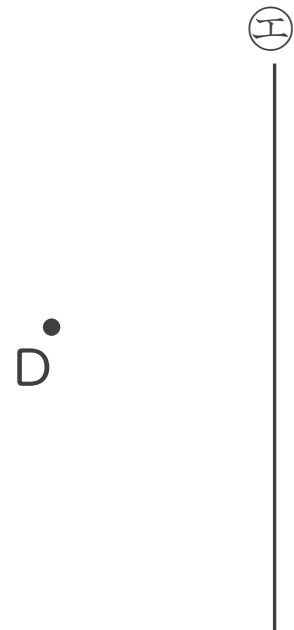
③



②



④





垂直, 平行と 四角形 4

10

◎ 垂直な直線をひく

日にち： 月 日

名まえ _____

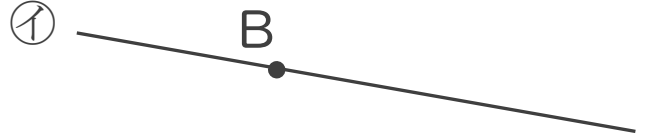
1 2まいの三角じょうぎを使って、次の点を通り、直線に垂直な直線をひきましょう。

①

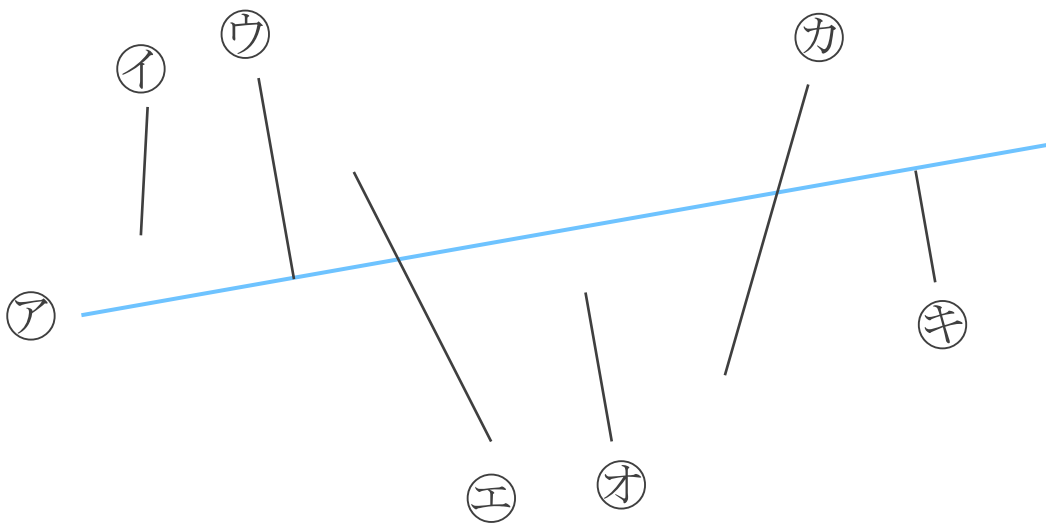


●
A

②



2 次の図で、アの直線に垂直な直線はどれですか。



答え：





垂直, 平行と 四角形 4

● 垂直な直線をひく




日にち： 月 日

名まえ _____

1 2まいの三角じょうぎを使って、次の点を通り、直線に垂直な直線をひきましょう。

①

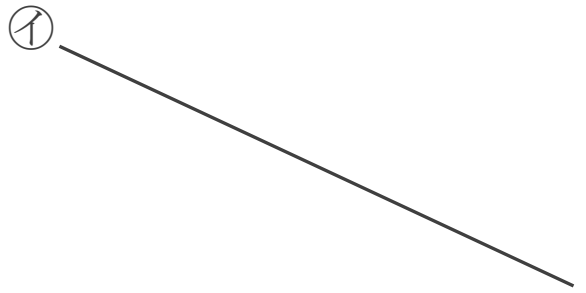
A



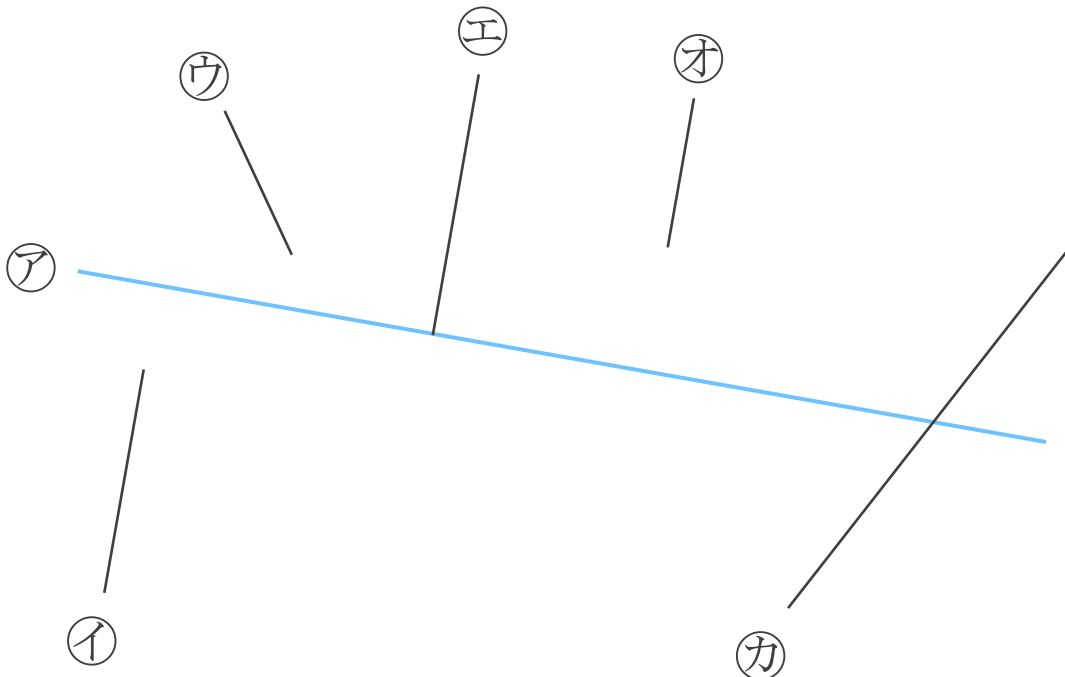
②

イ

B



2 次の図で、アの直線に垂直な直線はどれですか。



答え：





垂直, 平行と 四角形 4

12

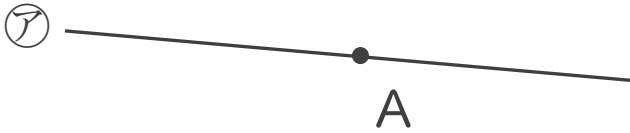
◎ 垂直な直線をひく

日にち： 月 日

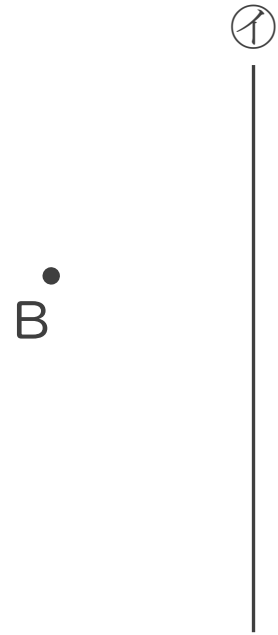
名まえ _____

1 2まいの三角じょうぎを使って、次の点を通り、直線に垂直な直線をひきましょう。

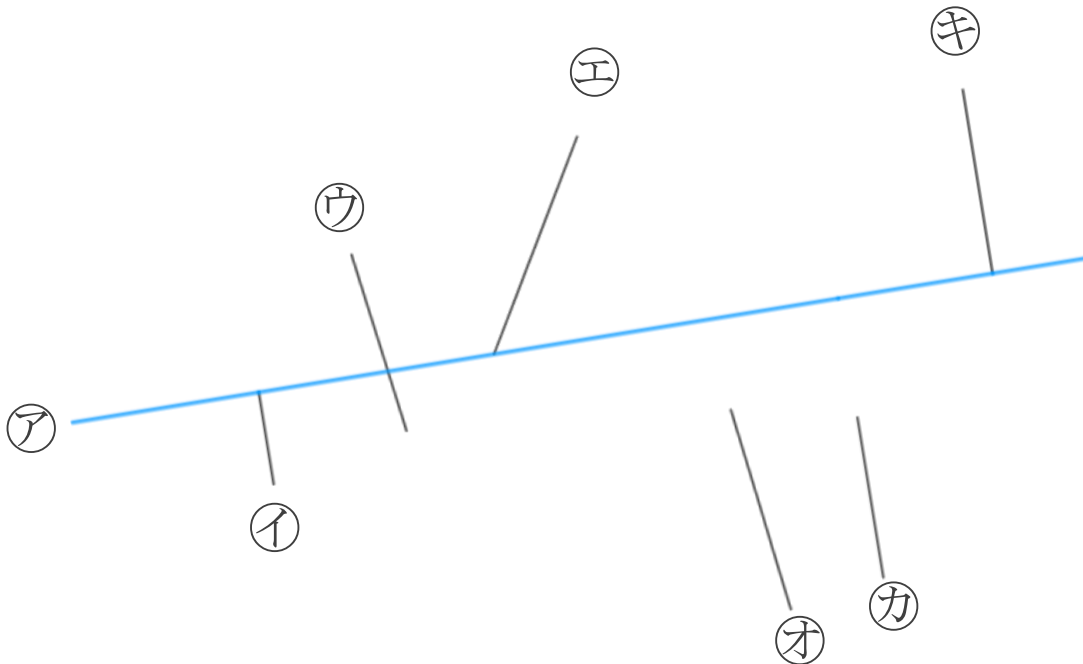
①



②



2 次の図で、アの直線に垂直な直線はどれですか。



答え：



垂直, 平行と 四角形 4

13

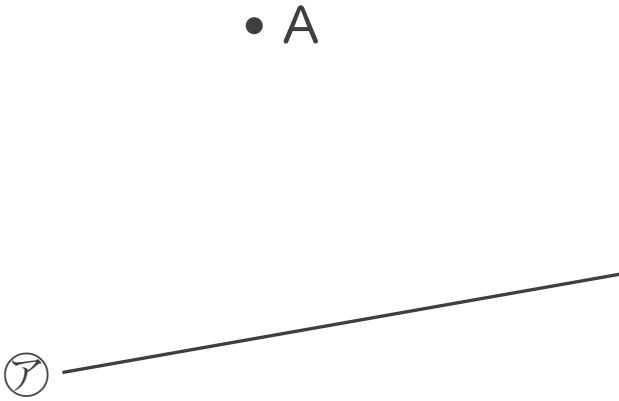
◎ 垂直な直線をひく

日にち： 月 日

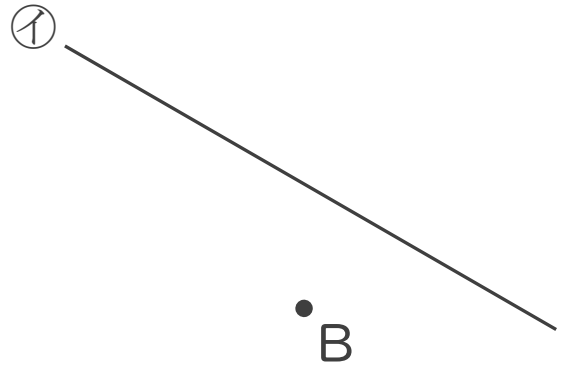
名まえ _____

1 2まいの三角じょうぎを使って、次の点を通り、直線に垂直な直線をひきましょう。

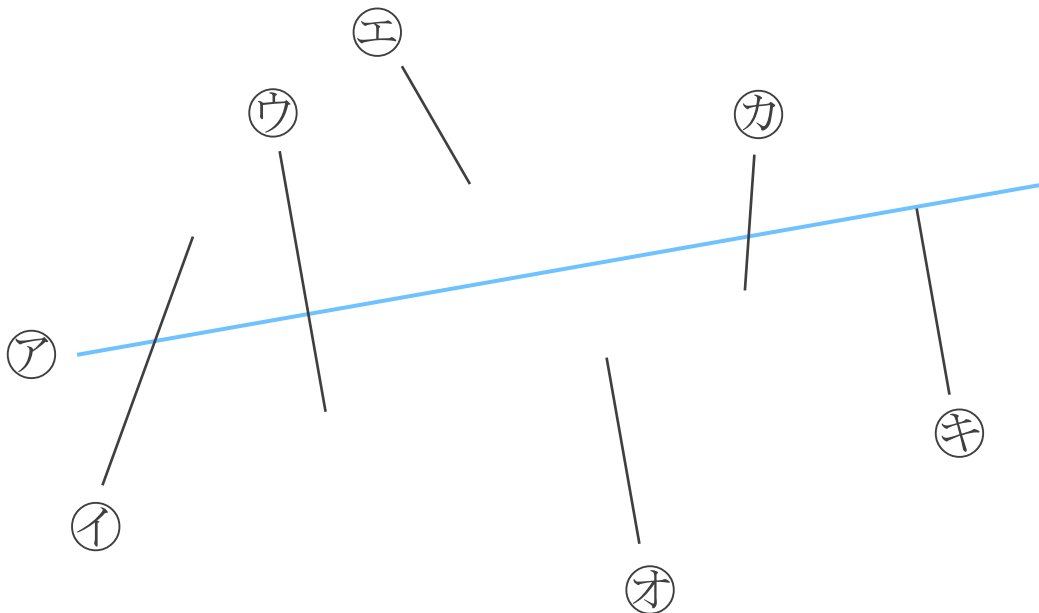
①



②



2 次の図で、アの直線に垂直な直線はどれですか。



答え：





垂直, 平行と 四角形 4

14

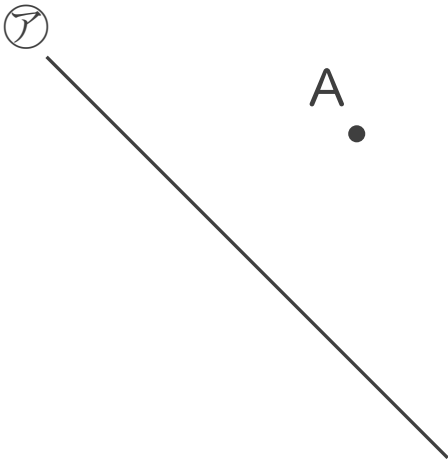
◎ 垂直な直線をひく

日にち： 月 日

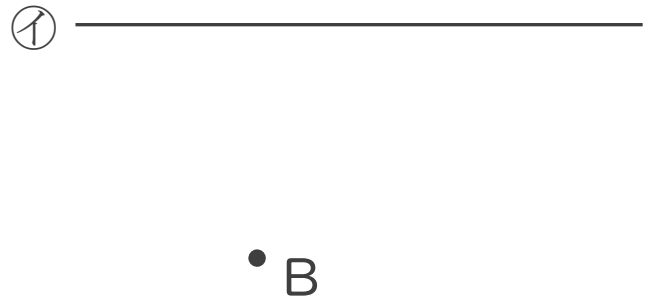
名まえ _____

1 2まいの三角じょうぎを使って、次の点を通り、直線に垂直な直線をひきましょう。

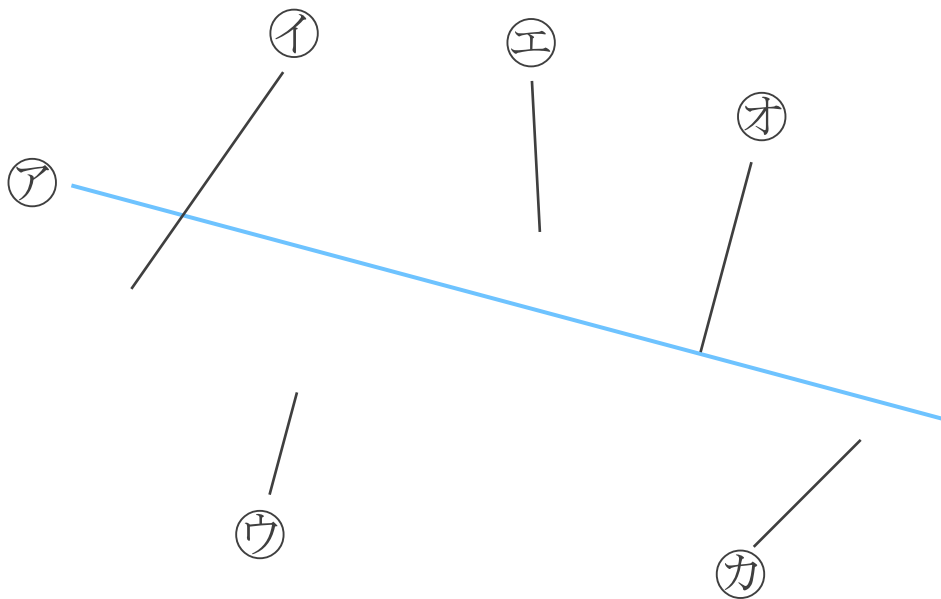
①



②



2 次の図で、アの直線に垂直な直線はどれですか。



答え：






垂直, 平行と 四角形 4

15

◎ 垂直な直線をひく


めざせ100点!



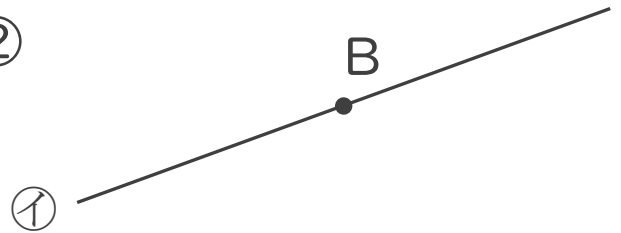
名まえ _____

1 2まいの三角じょうぎを使って、次の点を通り、直線に垂直な直線をひきましょう。(各30点)

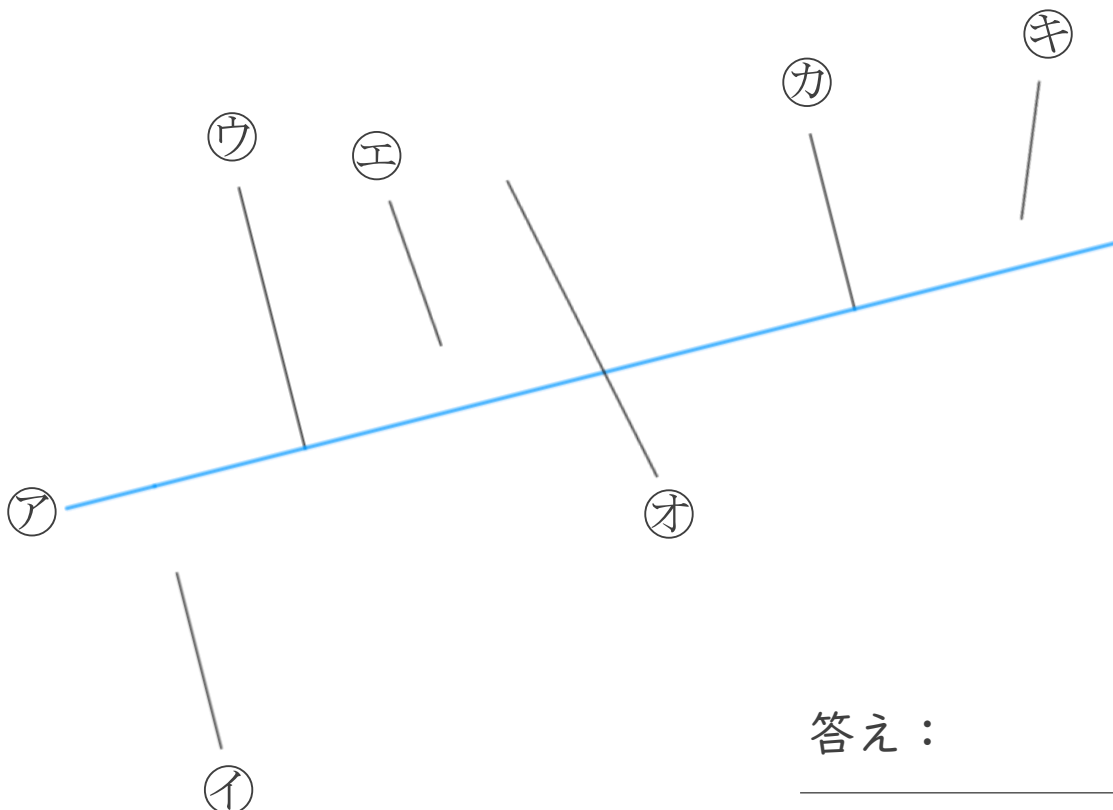
①



②



2 次の図で、アの直線に垂直な直線はどれですか。(20点)



答え: _____




垂直, 平行と 四角形 4

16

◎ 垂直な直線をひく

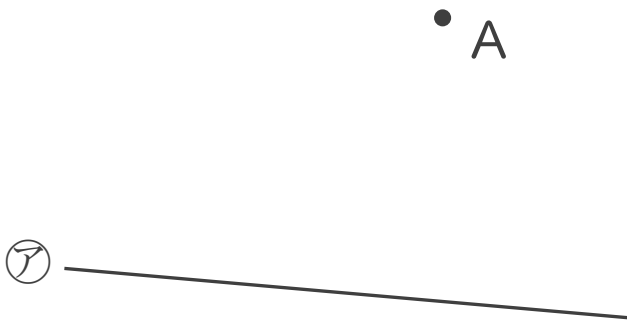
めざせ100点!



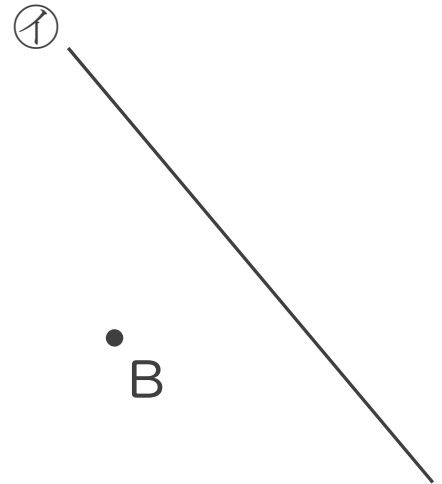
名まえ _____

1 2まいの三角じょうぎを使って、次の点を通り、直線に垂直な直線をひきましょう。(各30点)

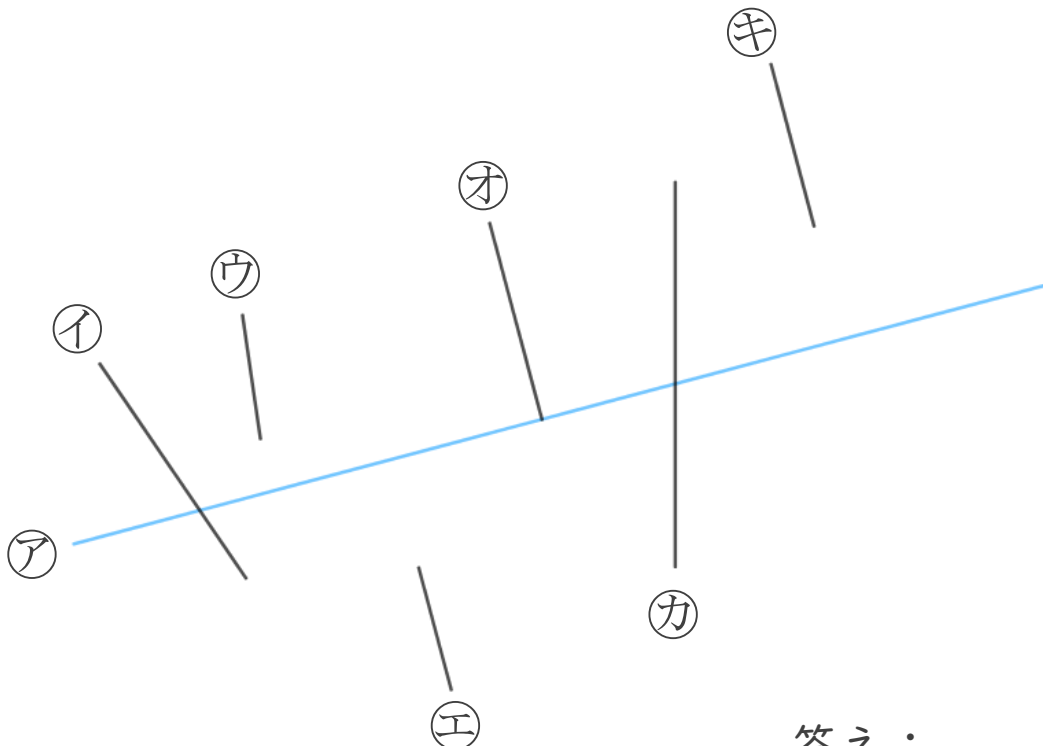
①



②



2 次の図で、アの直線に垂直な直線はどれですか。(20点)



答え: _____



垂直, 平行と 四角形 4

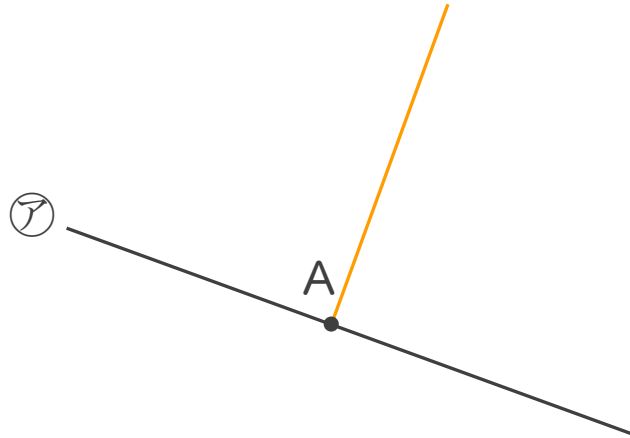


● 垂直な直線をひく

日にち： 月 日

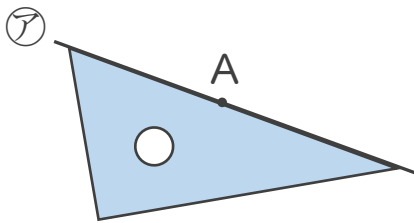
名まえ _____

- ・ 2まいの三角じょうぎを使って、点Aを通り、㊦の直線に垂直な直線をひきましょう。(うすい線はなぞりましょう。)

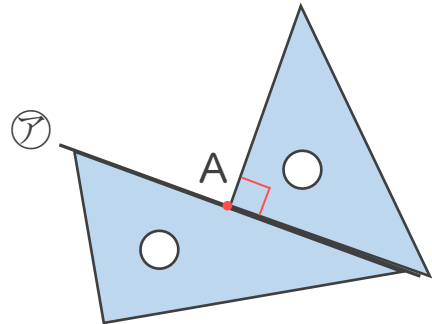


垂直な直線のひき方

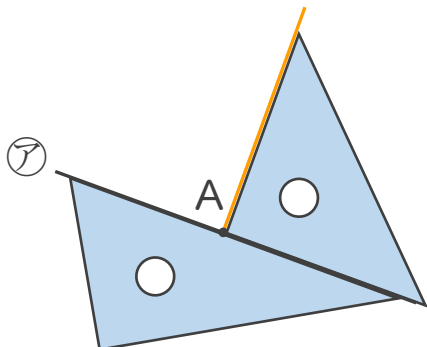
① ㊦の直線に三角じょうぎをあてる。



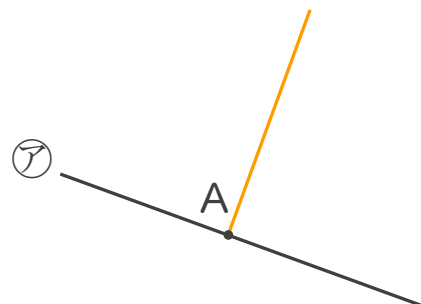
② もう1まいの三角じょうぎの直角を ㊦の直線にあててAに合わせる。



③ 直線をひく。



④ 完成!





垂直, 平行と四角形 4

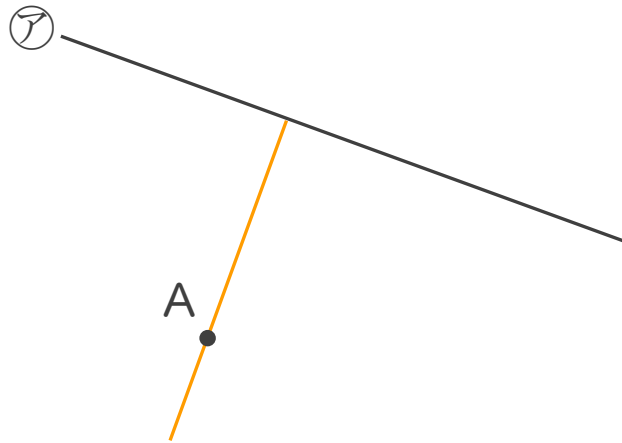
2

● 垂直な直線をひく

日にち： 月 日

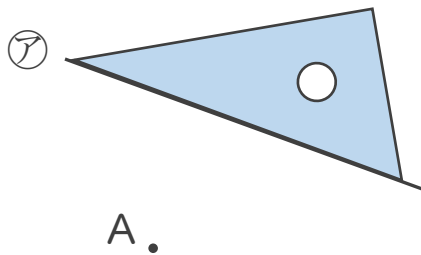
名まえ _____

- ・ 2まいの三角じょうぎを使って、点Aを通り、㊦の直線に垂直な直線をひきましょう。(うすい線はなぞりましょう。)

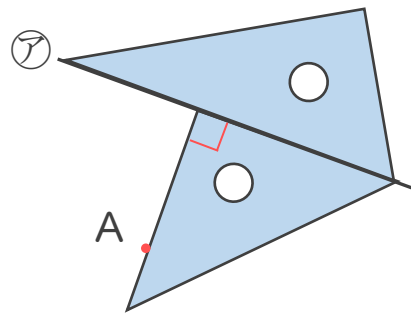


垂直な直線のひき方

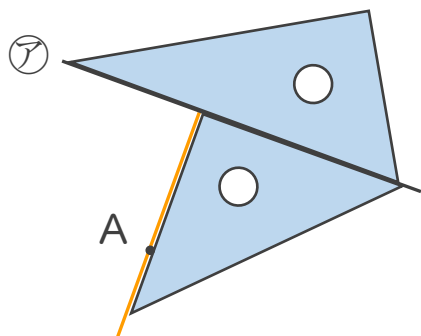
① ㊦の直線に三角じょうぎをあてる。



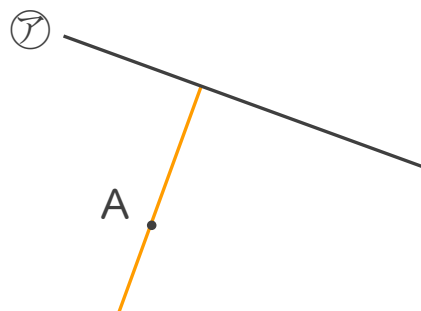
② もう1まいの三角じょうぎの直角を㊦の直線にあててAに合わせる。



③ 直線をひく。



④ 完成！





垂直, 平行と 四角形 4

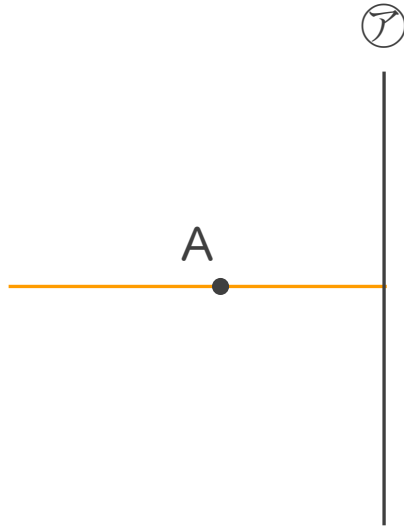
3

● 垂直な直線をひく

日にち： 月 日

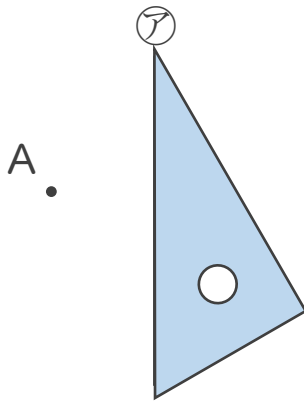
名まえ _____

- 2まいの三角じょうぎを使って、点Aを通り、アの直線に垂直な直線をひきましょう。(うすい線はなぞりましょう。)

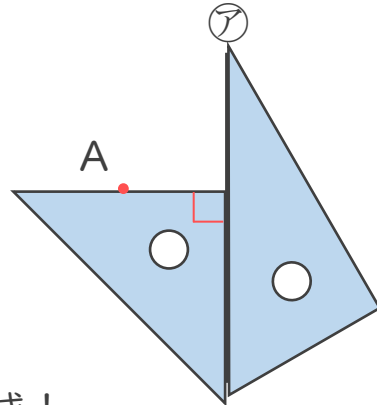


垂直な直線のひき方

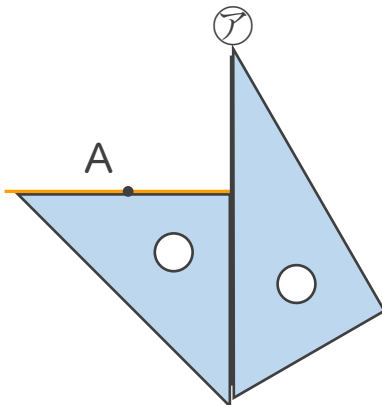
① アの直線に三角じょうぎをあてる。



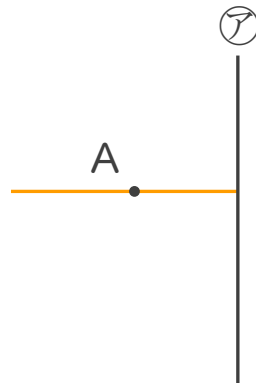
② もう1まいの三角じょうぎの直角を アの直線にあててAに合わせる。



③ 直線をひく。



④ 完成!





垂直, 平行と四角形 4

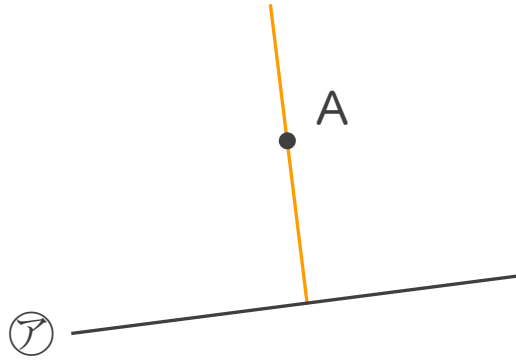
4

● 垂直な直線をひく

日にち： 月 日

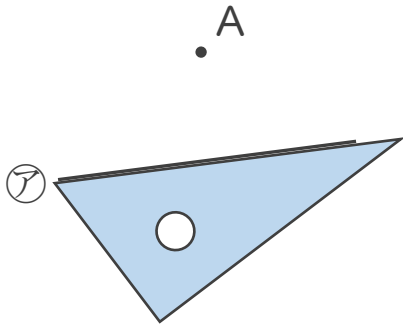
名まえ _____

- 2まいの三角じょうぎを使って、点Aを通り、㊦の直線に垂直な直線をひきましょう。(うすい線はなぞりましょう。)

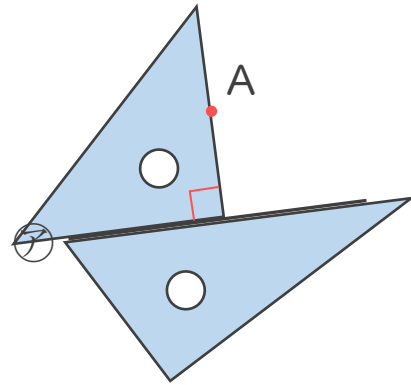


垂直な直線のひき方

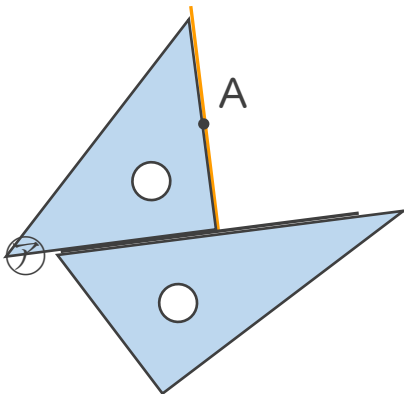
① ㊦の直線に三角じょうぎをあてる。



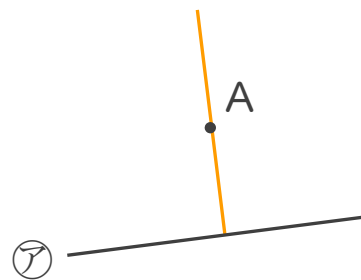
② もう1まいの三角じょうぎの直角を㊦の直線にあててAに合わせる。



③ 直線をひく。



④ 完成!





垂直, 平行と 四角形 4

5

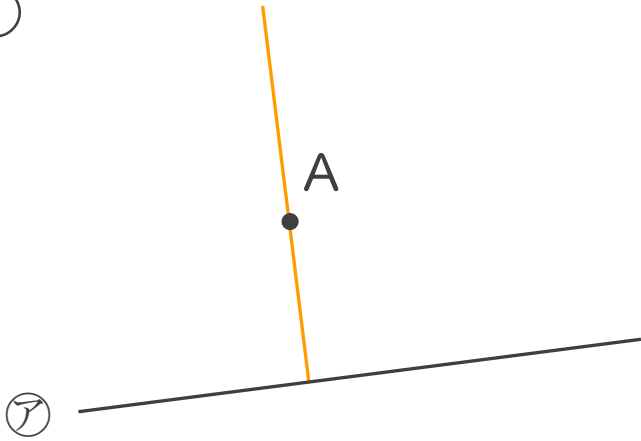
● 垂直な直線をひく

日にち： 月 日

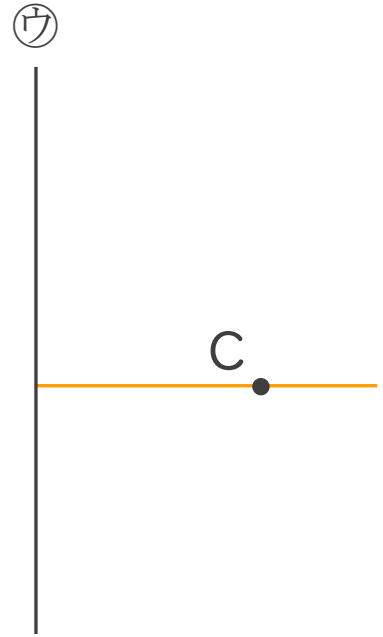
名まえ _____

・ 2まいの三角じょうぎを使って、次の点を通り、直線に垂直な直線をひきましょう。(うすい線はなぞりましょう。)

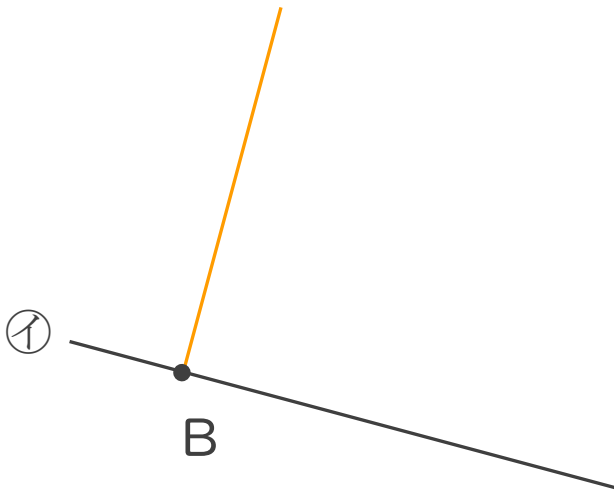
①



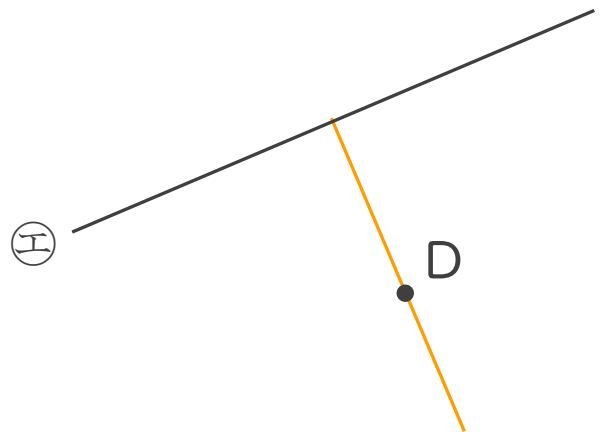
③



②



④





垂直, 平行と 四角形 4

6

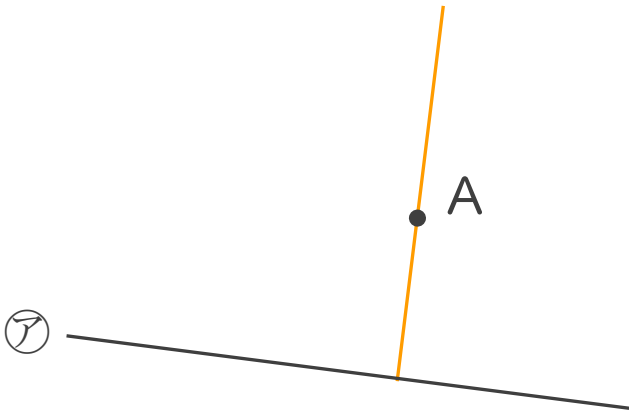
● 垂直な直線をひく

日にち： 月 日

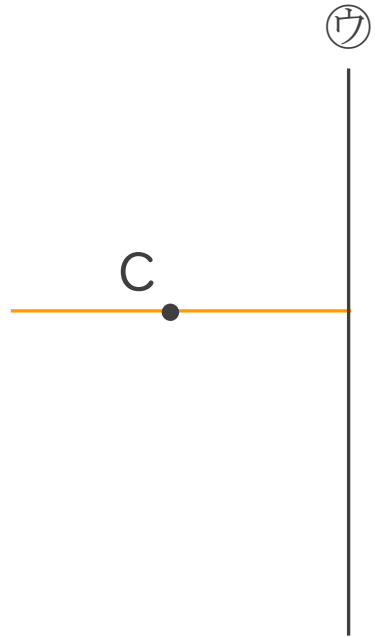
名まえ _____

・ 2まいの三角じょうぎを使って、次の点を通り、直線に垂直な直線をひきましょう。

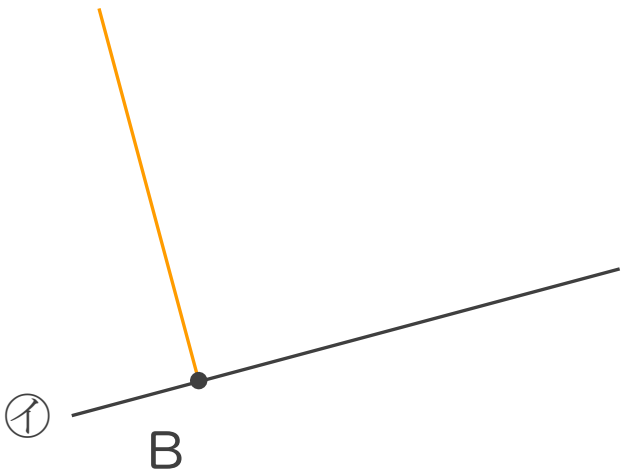
①



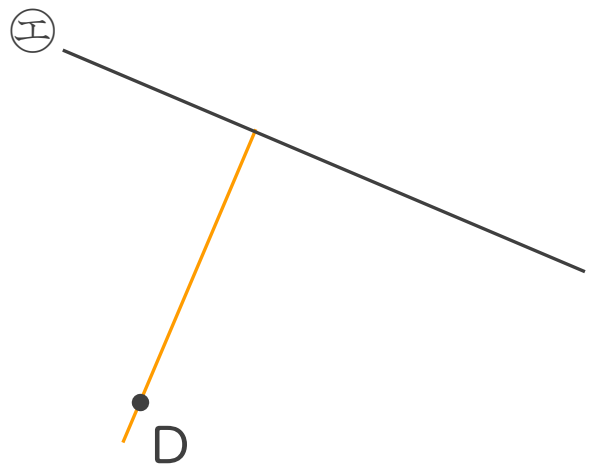
③



②



④





垂直, 平行と 四角形 4

7

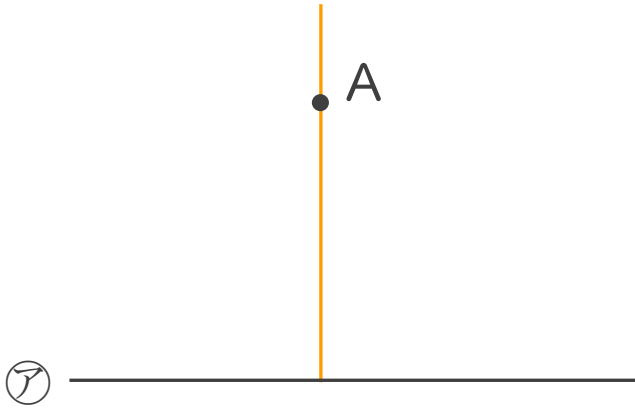
● 垂直な直線をひく

日にち： 月 日

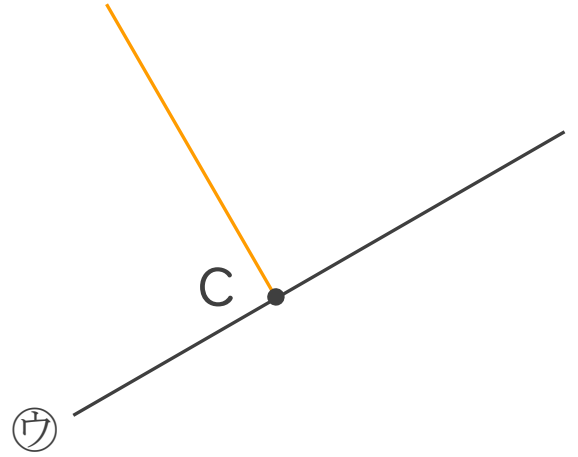
名まえ _____

- ・ 2まいの三角じょうぎを使って、次の点を通り、直線に垂直な直線をひきましょう。

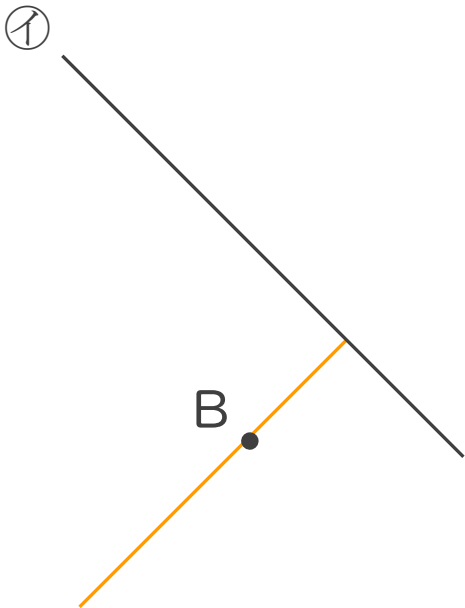
①



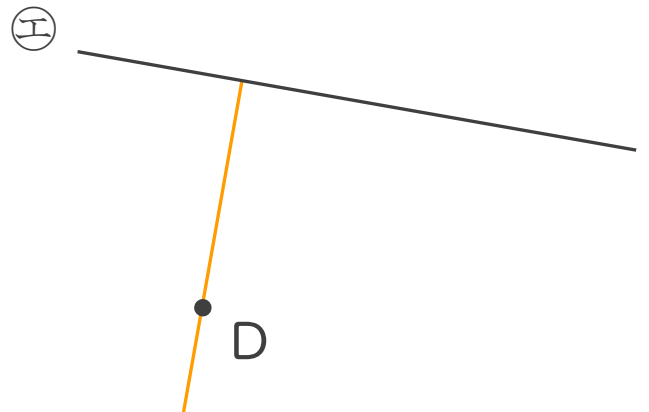
③



②



④





垂直, 平行と 四角形 4

8

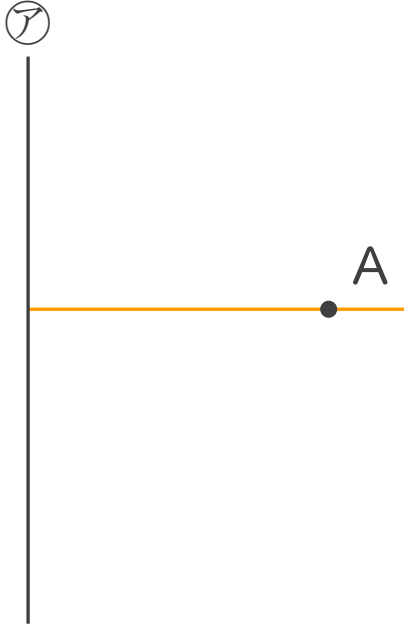
● 垂直な直線をひく

日にち： 月 日

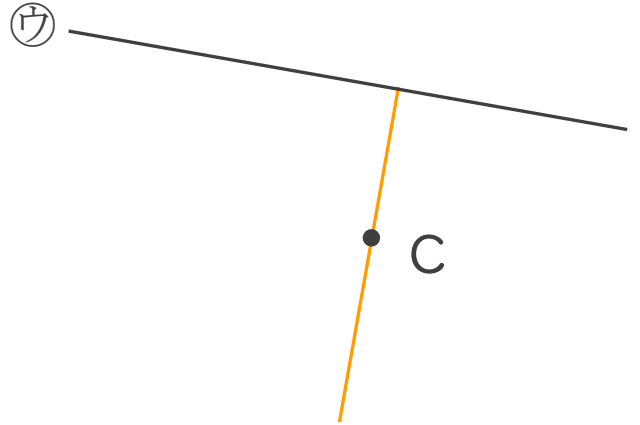
名まえ _____

・ 2まいの三角じょうぎを使って、次の点を通り、直線に垂直な直線をひきましょう。

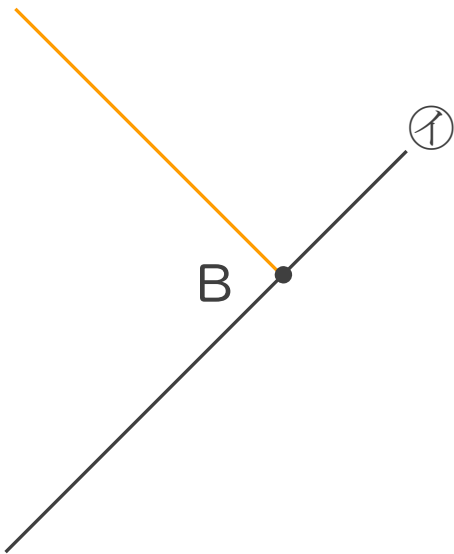
①



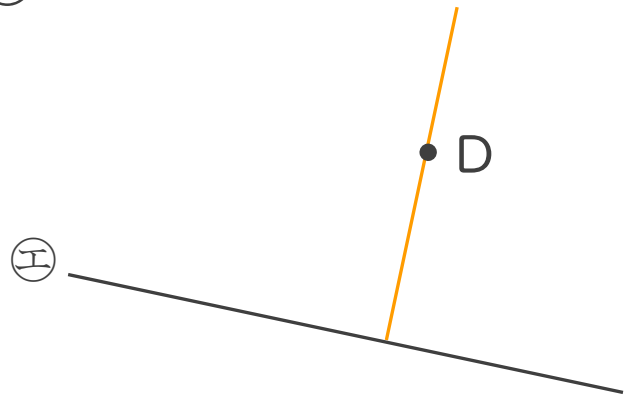
③



②



④





垂直, 平行と 四角形 4

9

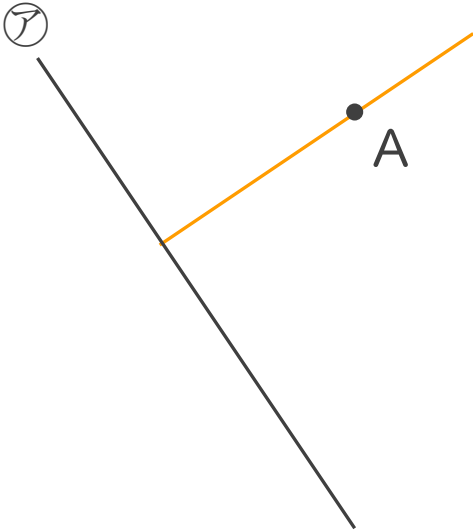
● 垂直な直線をひく

日にち： 月 日

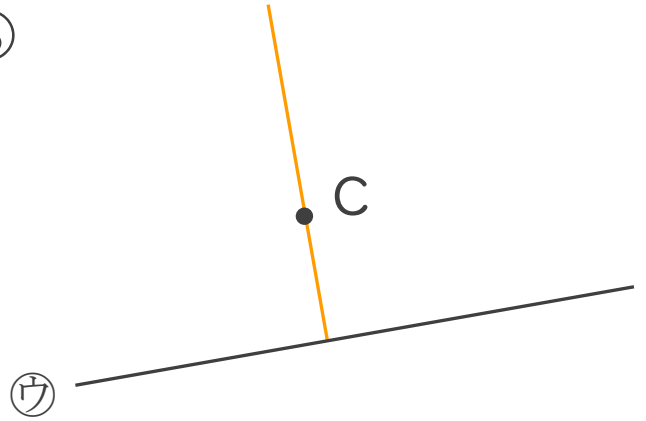
名まえ _____

・ 2まいの三角じょうぎを使って、次の点を通り、直線に垂直な直線をひきましょう。

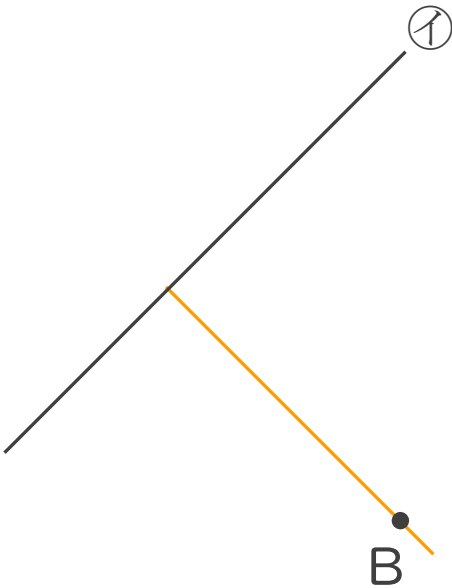
①



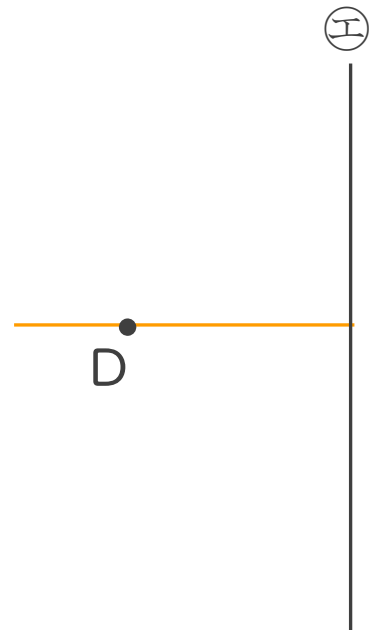
③



②



④





垂直, 平行と 四角形 4

10

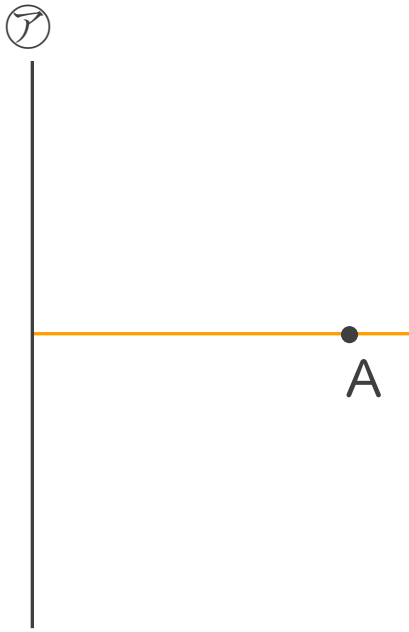
● 垂直な直線をひく

日にち： 月 日

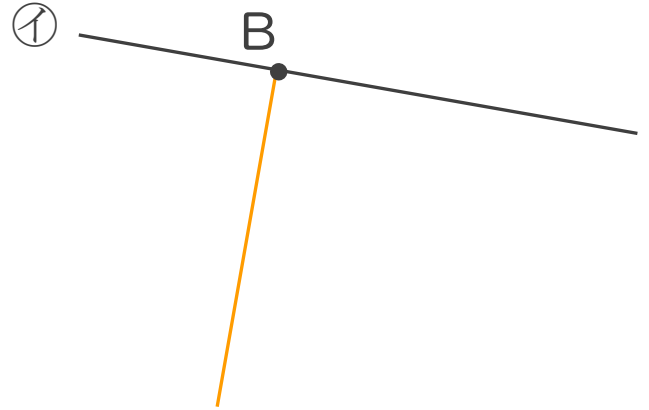
名まえ _____

1 2まいの三角じょうぎを使って、次の点を通り、直線に垂直な直線をひきましょう。

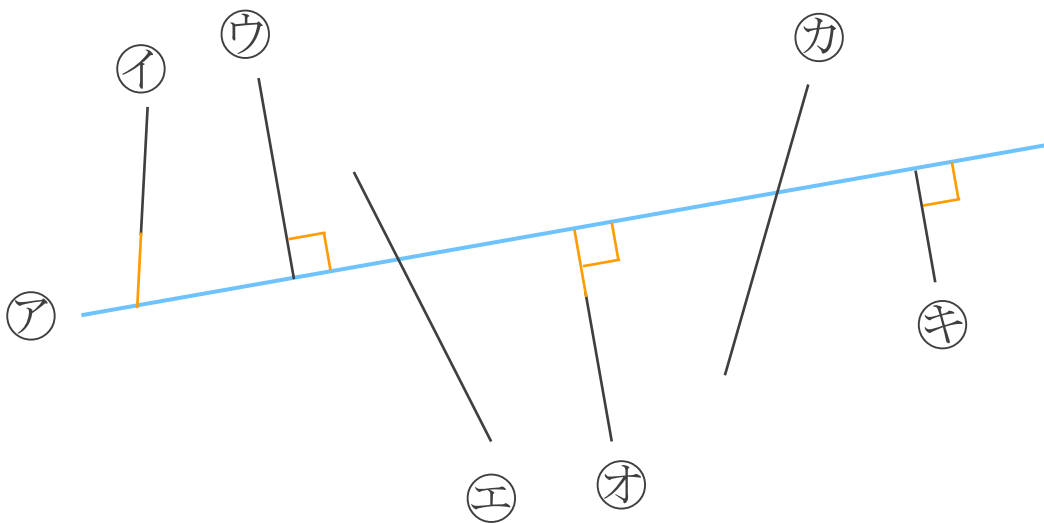
①



②



2 次の図で、アの直線に垂直な直線はどれですか。



答え： **ウ, オ, キ**



垂直, 平行と 四角形 4

● 垂直な直線をひく

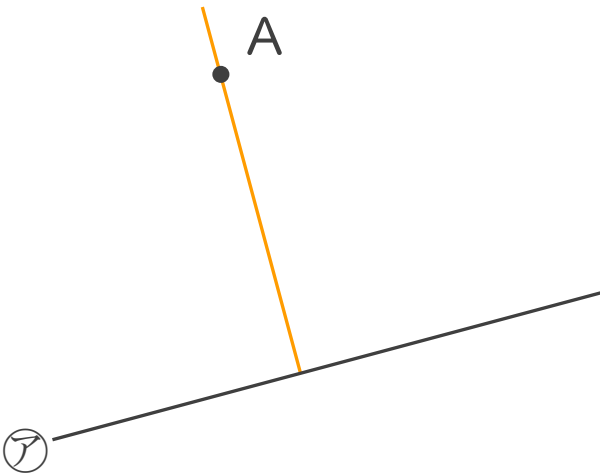


日にち： 月 日

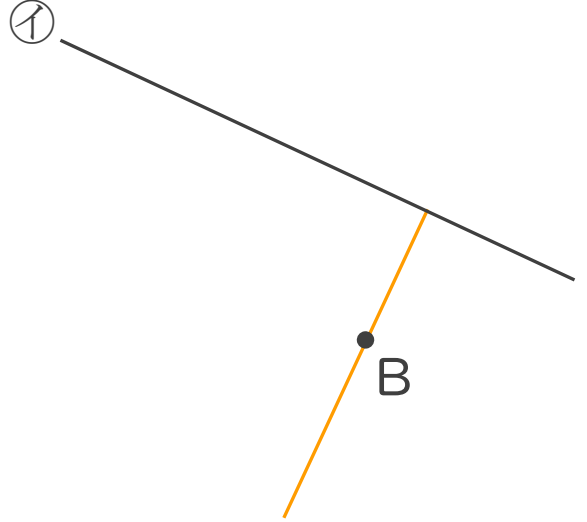
名まえ _____

1 2まいの三角じょうぎを使って、次の点を通り、直線に垂直な直線をひきましょう。

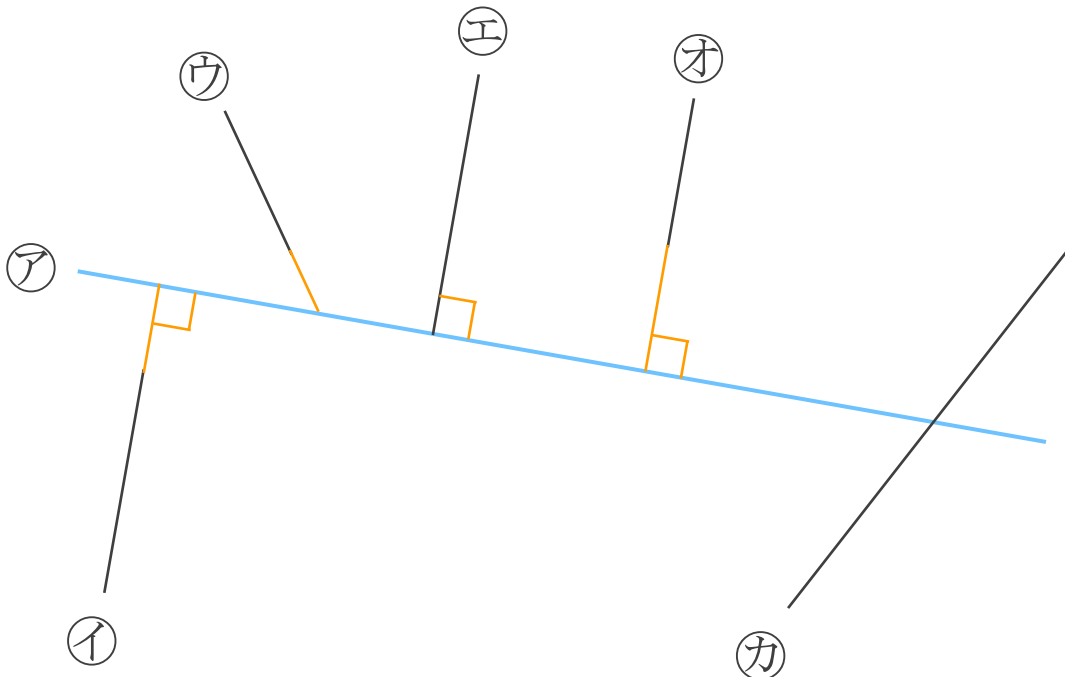
①



②



2 次の図で、アの直線に垂直な直線はどれですか。



答え： **イ, エ, オ**





垂直, 平行と四角形 4

12

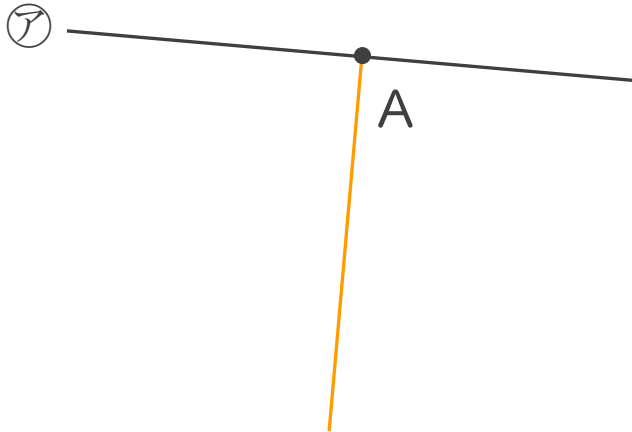
◎ 垂直な直線をひく

日にち： 月 日

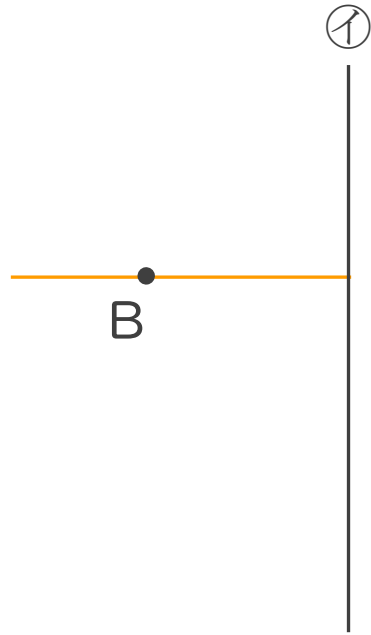
名まえ _____

1 2まいの三角じょうぎを使って、次の点を通り、直線に垂直な直線をひきましょう。

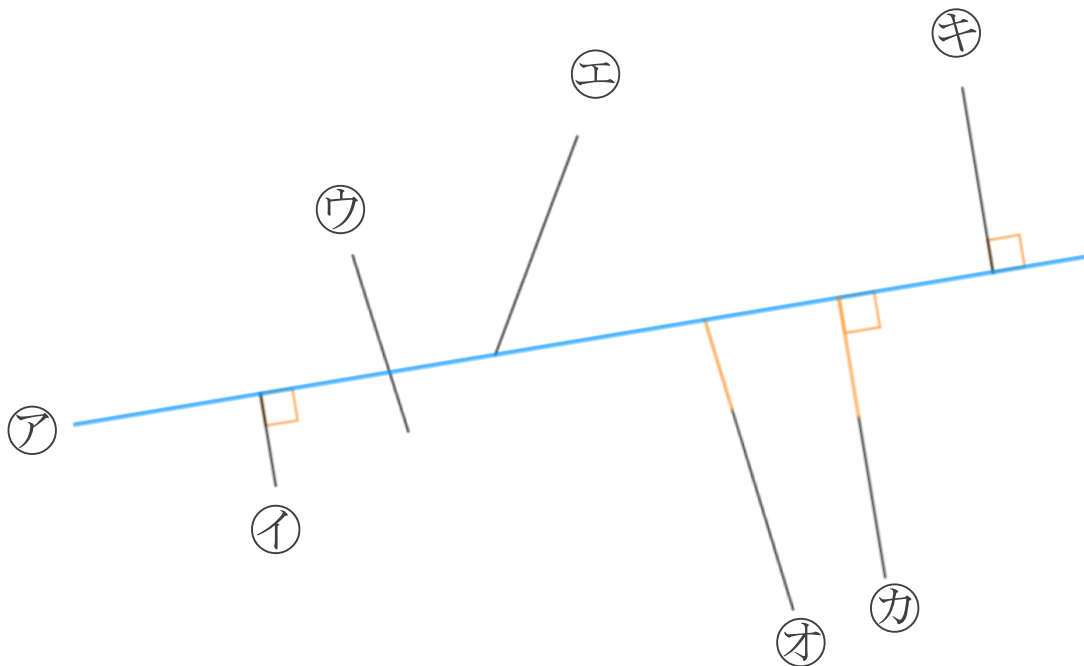
①



②



2 次の図で、アの直線に垂直な直線はどれですか。



答え： イ, カ, キ



垂直, 平行と 四角形 4

13

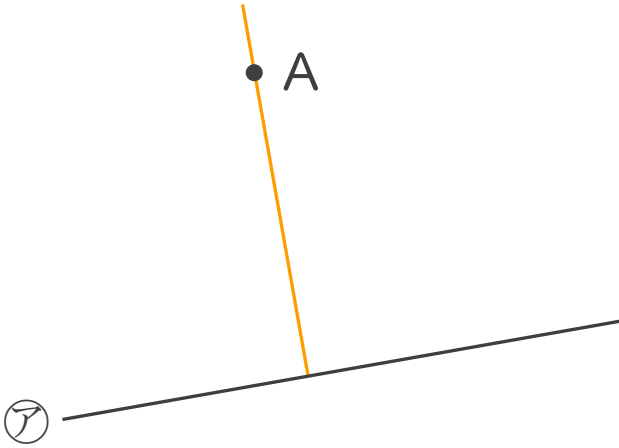
◎ 垂直な直線をひく

日にち： 月 日

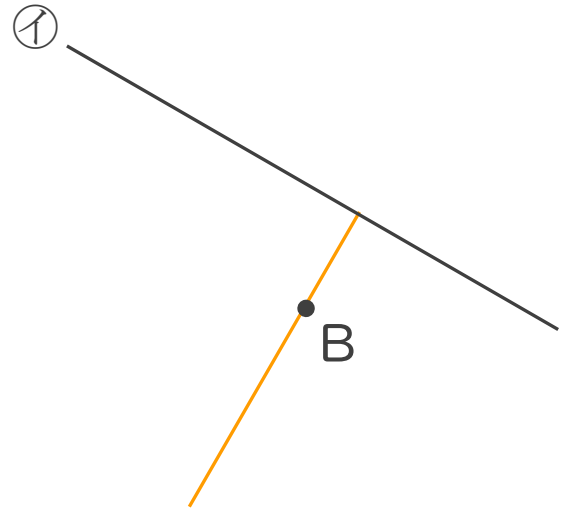
名まえ _____

1 2まいの三角じょうぎを使って、次の点を通り、直線に垂直な直線をひきましょう。

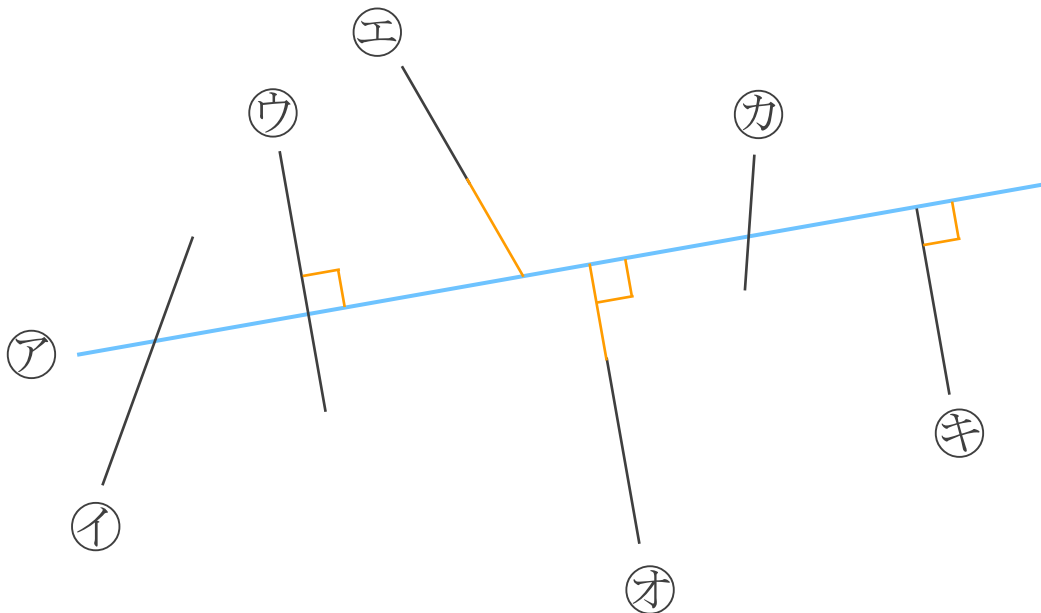
①



②



2 次の図で、アの直線に垂直な直線はどれですか。



答え： ウ, オ, キ



垂直, 平行と 四角形 4

14

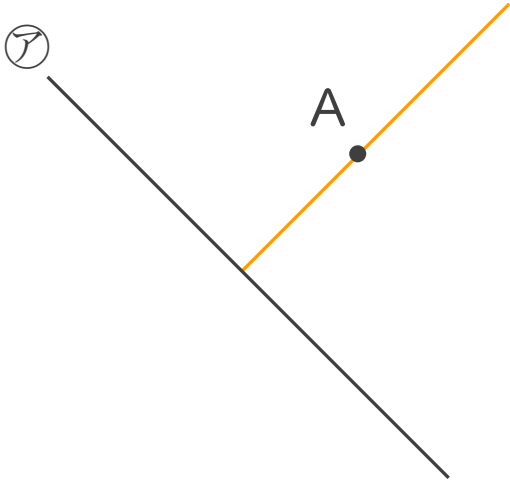
◎ 垂直な直線をひく

日にち： 月 日

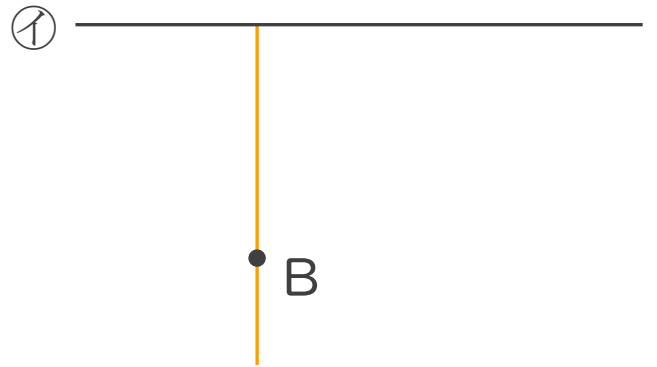
名まえ _____

1 2まいの三角じょうぎを使って、次の点を通り、直線に垂直な直線をひきましょう。

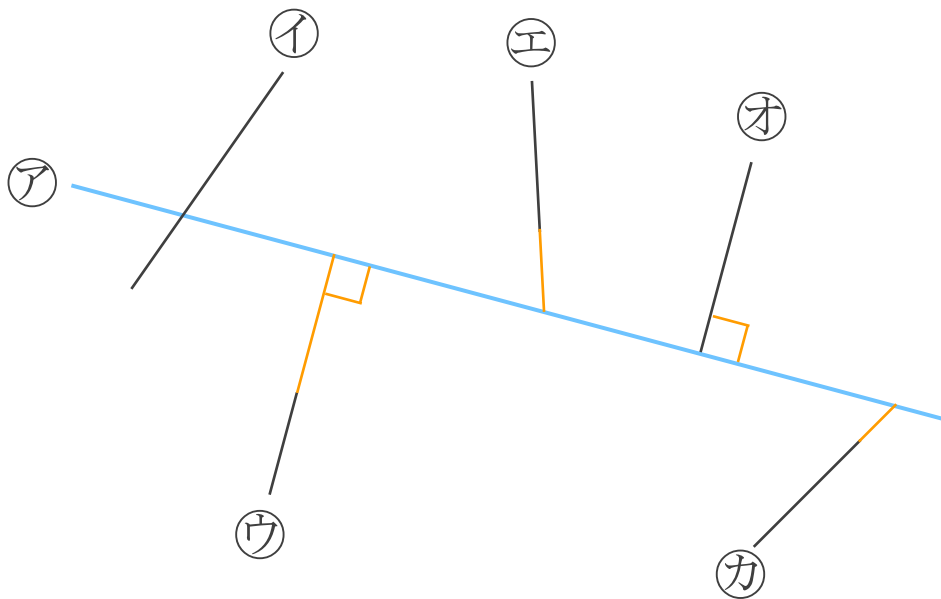
①



②



2 次の図で、アの直線に垂直な直線はどれですか。



答え： ウ, カ




垂直, 平行と 四角形 4

15

◎ 垂直な直線をひく

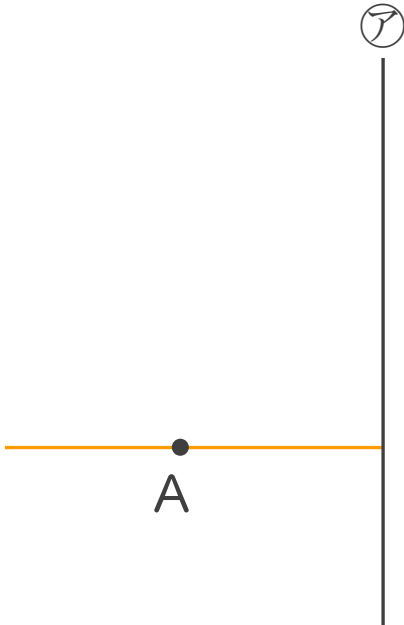
めざせ100点!



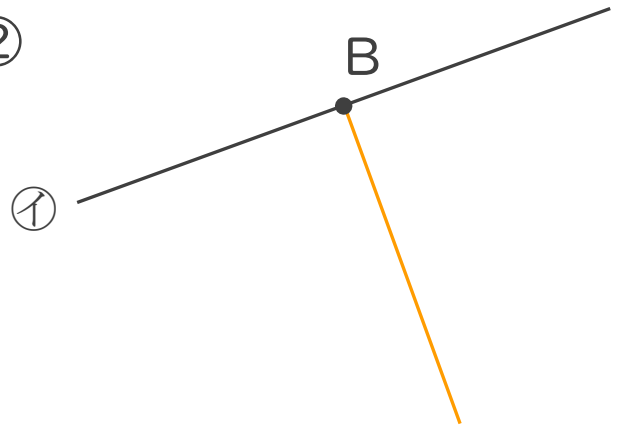
名まえ _____

1 2まいの三角じょうぎを使って、次の点を通り、直線に垂直な直線をひきましょう。(各30点)

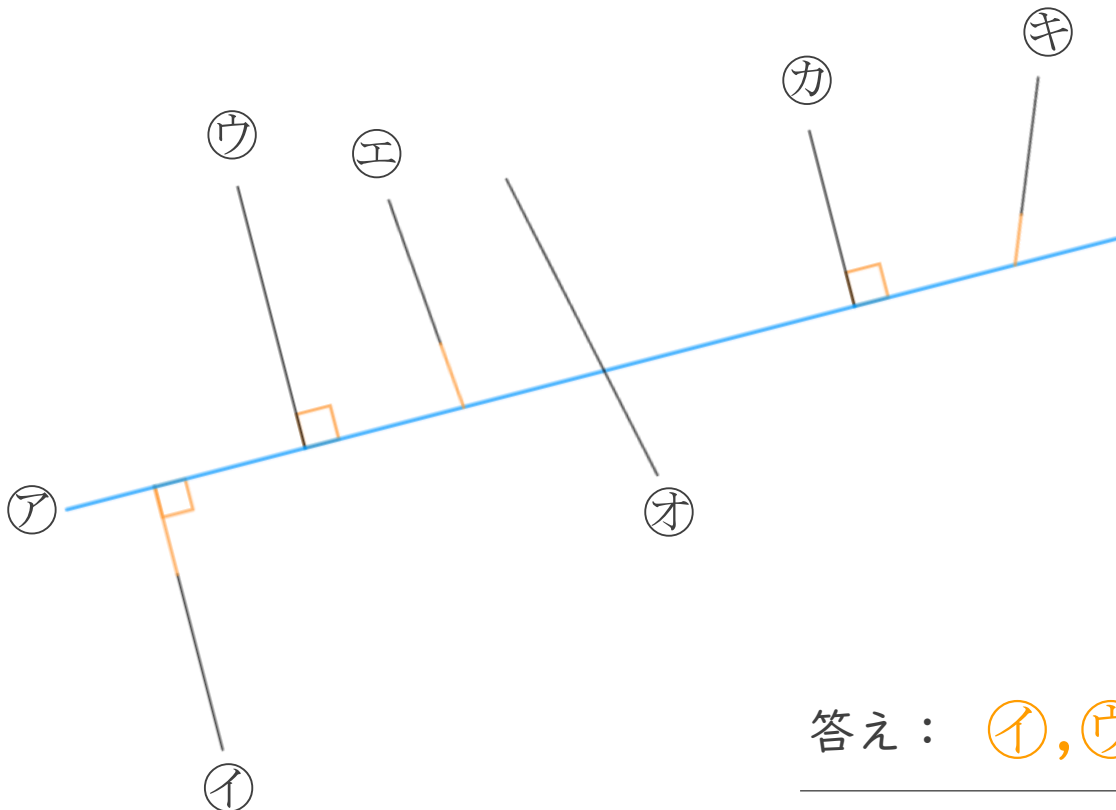
①



②



2 次の図で、アの直線に垂直な直線はどれですか。(20点)



答え： イ, ウ, カ






垂直, 平行と 四角形 4

16

◎ 垂直な直線をひく

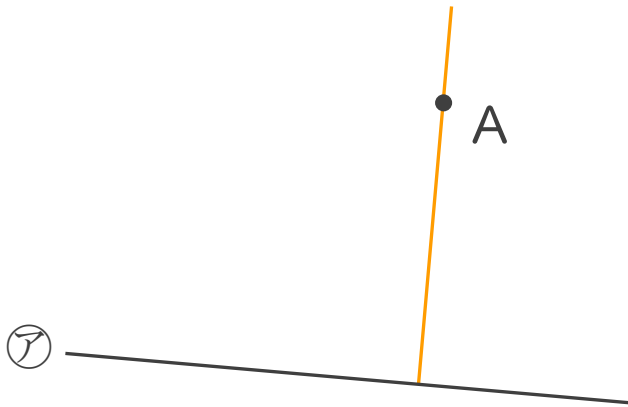
めざせ100点!



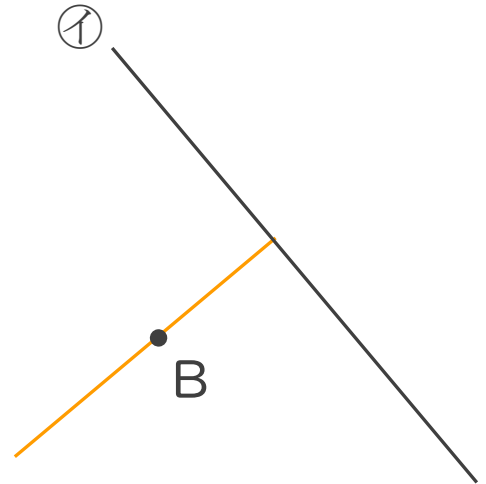
名まえ _____

1 2まいの三角じょうぎを使って、次の点を通り、直線に垂直な直線をひきましょう。(各30点)

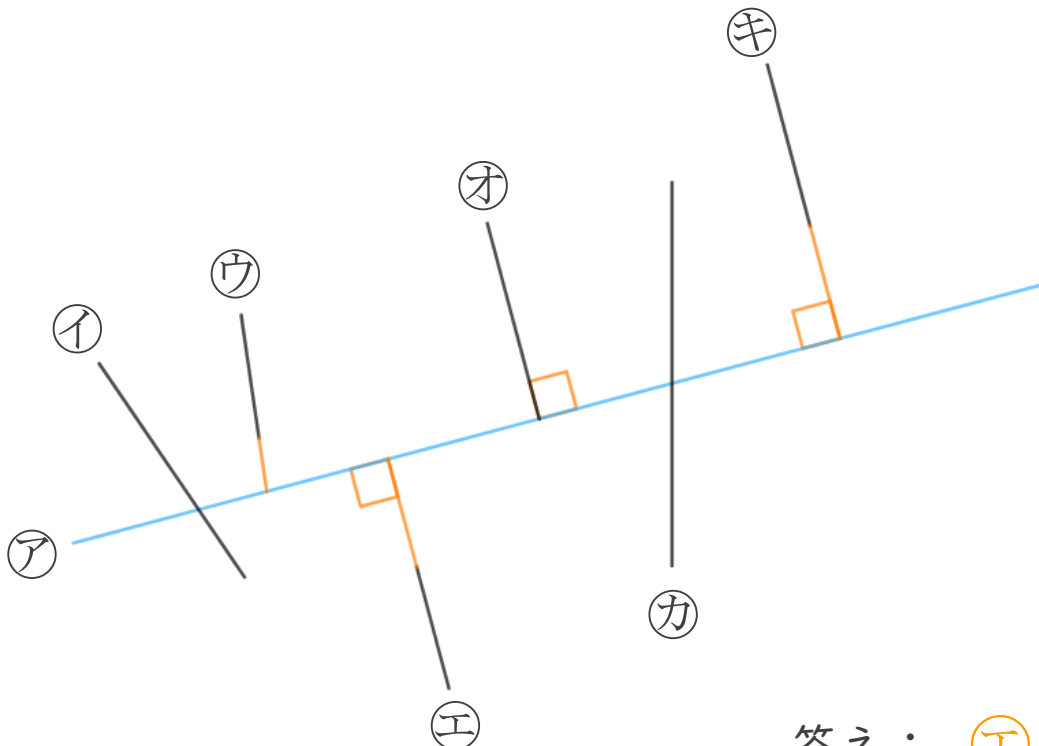
①



②



2 次の図で、アの直線に垂直な直線はどれですか。(20点)



答え： **エ, ウ, キ**

