



大きな数 3
 ● それぞれの位の数字



日にち： 月 日


名まえ _____

1 949670000000という数について、次の問いに答えましょう。
 (うすい字はなぞりましょう。)

① 左から3ばんめの9は、何が9こあることを表していますか。

千	百	十	一	千	百	十	一	千	百	十	一
億				万							
9	4	9	6	7	0	0	0	0	0	0	0

この表に
数字を入れて
考えよう！



答え 十億

② 一億の位の数字は何ですか。


答え 6

2 7780000000という数について、次の問いに答えましょう。

① 左から2ばんめの7は、何が7こあることを表していますか。

千	百	十	一	千	百	十	一	千	百	十	一
億				万							

この表に
数字を入れて
考えよう！



答え

② 千万の位の数字は何ですか。

答え



大きな数 3
 ● それぞれの位の数字



日にち： 月 日


名まえ _____

1 667484000000という数について、次の問いに答えましょう。
 (うすい字はなぞりましょう。)

① 左から2ばんめの6は、何が6こあることを表していますか。

千	百	十	一	千	百	十	一	千	百	十	一
億				万							
						0	0	0	0	0	0

この表に
数字を入れて
考えよう！



答え 百億

② 十億の位の数字は何ですか。


答え _____

2 136150000000という数について、次の問いに答えましょう。

① 左から4ばんめの1は、何が1こあることを表していますか。

千	百	十	一	千	百	十	一	千	百	十	一
億				万							

この表に
数字を入れて
考えよう！



答え _____

② 百億の位の数字は何ですか。

答え _____



大きな数 3
 ● それぞれの位の数字



日にち： 月 日

名まえ _____

1 886960000000という数について、次の問いに答えましょう。

① 左から2ばんめの8は、何が8こあることを表していますか。

千	百	十	一	千	百	十	一	千	百	十	一
億				万							

この表に
数字を入れて
考えよう！

答え _____

② 一億の位の数字は何ですか。

答え _____

2 1610000000という数について、次の問いに答えましょう。

① 左から1ばんめの1は、何が1こあることを表していますか。

千	百	十	一	千	百	十	一	千	百	十	一
億				万							

この表に
数字を入れて
考えよう！

答え _____

② 千万の位の数字は何ですか。

答え _____



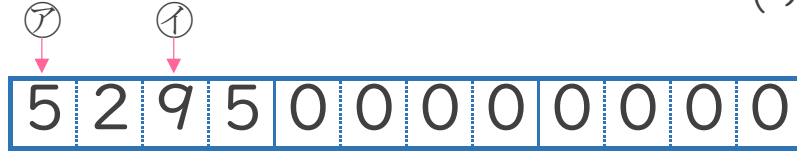
大きな数 3
 ● それぞれの位の数字



日にち： 月 日

名まえ _____

1 529500000000 という数について、次の問いに答えましょう。
 (うすい字はなぞりましょう。)



① ⑦と①は、それぞれ何の位の数字ですか。

答え ⑦ 千億 の位 , ① の位

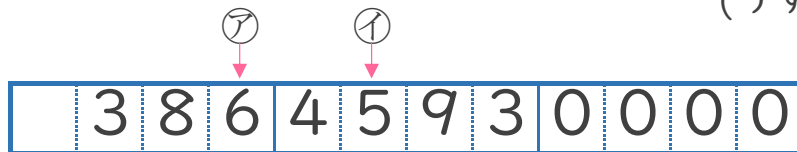
② 左から4ばんめの5は、何が5こあることを表していますか。

答え _____

③ 百億の位の数字は何ですか。

答え _____

2 38645930000 という数について、次の問いに答えましょう。
 (うすい字はなぞりましょう。)



① ⑦と①は、それぞれ何の位の数字ですか。

答え ⑦ 百万 の位 , ① 百万 の位

② 左から2ばんめの8は、何が8こあることを表していますか。

答え _____

③ 百億の位の数字は何ですか。

答え _____



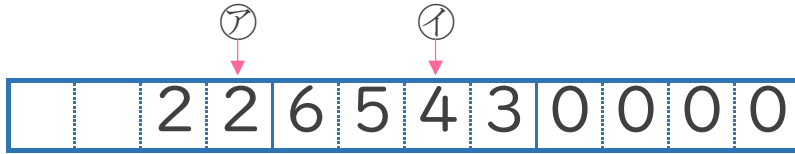
大きな数 3
 ● それぞれの位の数字



日にち： 月 日

名まえ _____

1 2265430000という数について、次の問いに答えましょう。



① ㉞と㉟は、それぞれ何の位の数字ですか。

答え ㉞ の位 , ㉟ の位

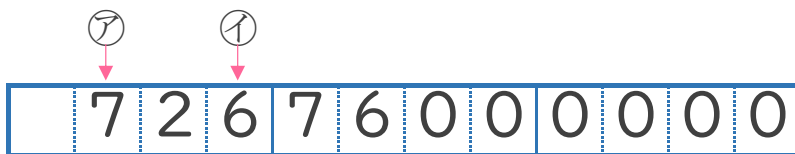
② 左から1ばんめの2は、何が2こあることを表していますか。

答え _____

③ 百万の位の数字は何ですか。

答え _____

2 72676000000という数について、次の問いに答えましょう。



① ㉞と㉟は、それぞれ何の位の数字ですか。

答え ㉞ の位 , ㉟ の位

② 左から5ばんめの6は、何が6こあることを表していますか。

答え _____

③ 十億の位の数字は何ですか。

答え _____



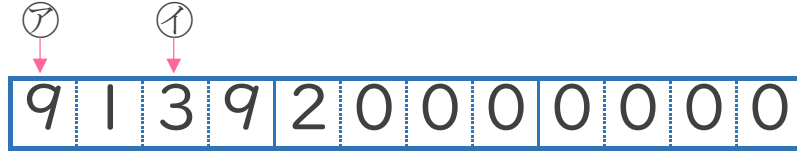
大きな数 3
 ● それぞれの位の数字



日にち： 月 日

名まえ _____

1 913920000000 という数について、次の問いに答えましょう。



① ㉞と㉟は、それぞれ何の位の数字ですか。

答え ㉞ の位 , ㉟ の位

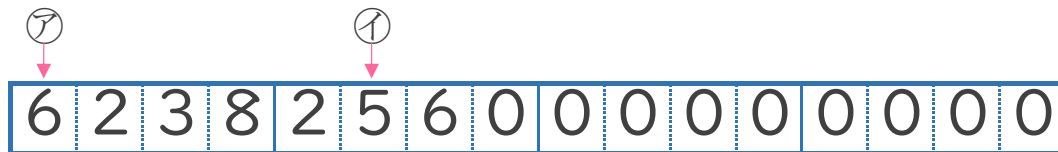
② 左から4ばんめの9は、何が9こあることを表していますか。

答え _____

③ 百億の位の数字は何ですか。

答え _____

2 6238256000000000 という数について 次の問いに答えましょう。



① ㉞と㉟は、それぞれ何の位の数字ですか。

答え ㉞ の位 , ㉟ の位

② 左から2ばんめの2は、何が2こあることを表していますか。

答え _____

③ 一兆の位の数字は何ですか。

答え _____



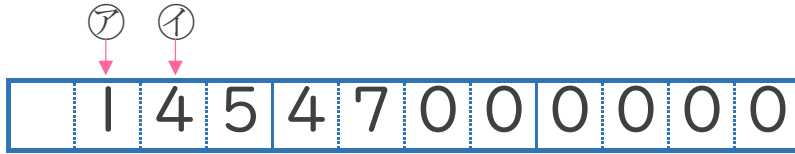
大きな数 3
 ● それぞれの位の数字



日にち： 月 日

名まえ _____

1 14547000000という数について、次の問いに答えましょう。



① アとイは、それぞれ何の位の数字ですか。

答え ^ア の位 , ^イ の位

② 左から4ばんめの4は、何が4こあることを表していますか。

答え _____

③ 一億の位の数字は何ですか。

答え _____

2 878390000という数について、次の問いに答えましょう。



① アとイは、それぞれ何の位の数字ですか。

答え ^ア の位 , ^イ の位

② 左から3ばんめの8は、何が8こあることを表していますか。

答え _____

③ 千万の位の数字は何ですか。

答え _____



大きな数 3
 ● それぞれの位の数字



日にち： 月 日


名まえ _____

1 949670000000という数について、次の問いに答えましょう。
 (うすい字はなぞりましょう。)

① 左から3ばんめの9は、何が9こあることを表していますか。

千	百	十	一	千	百	十	一	千	百	十	一
億				万							
9	4	9	6	7	0	0	0	0	0	0	0

この表に
数字を入れて
考えよう！



答え 十億

② 一億の位の数字は何ですか。


答え 6

2 7780000000という数について、次の問いに答えましょう。

① 左から2ばんめの7は、何が7こあることを表していますか。

千	百	十	一	千	百	十	一	千	百	十	一
億				万							
		7	7	8	0	0	0	0	0	0	0

この表に
数字を入れて
考えよう！



答え 一億

② 千万の位の数字は何ですか。

答え 8



大きな数 3
 ● それぞれの位の数字



日にち： 月 日


名まえ _____

1 667484000000という数について、次の問いに答えましょう。
 (うすい字はなぞりましょう。)

① 左から2ばんめの6は、何が6こあることを表していますか。

千	百	十	一	千	百	十	一	千	百	十	一
億				万							
6	6	7	4	8	4	0	0	0	0	0	0

この表に
数字を入れて
考えよう！



答え 百億

② 十億の位の数字は何ですか。


答え 7

2 136150000000という数について、次の問いに答えましょう。

① 左から4ばんめの1は、何が1こあることを表していますか。

千	百	十	一	千	百	十	一	千	百	十	一
億				万							
1	3	6	1	5	0	0	0	0	0	0	0

この表に
数字を入れて
考えよう！



答え 一億

② 百億の位の数字は何ですか。

答え 3



大きな数 3
 ● それぞれの位の数字



日にち： 月 日

名まえ _____

1 6216245000000000という数について、次の問いに答えましょう。(うすい字はなぞりましょう。)

① 左から3ばんめの1は、何が1こあることを表していますか。

千	百	十	一	千	百	十	一	千	百	十	一	千	百	十	一
兆				億				万							
6	2	1	6	2	4	5	0	0	0	0	0	0	0	0	0

この表に数字を入れて考えよう!



答え 十兆

② 千億の位の数字は何ですか。

答え 2

2 9279000000という数について、次の問いに答えましょう。

① 左から2ばんめの2は、何が2こあることを表していますか。

千	百	十	一	千	百	十	一	千	百	十	一
億				万							
		9	2	7	9	0	0	0	0	0	0

この表に数字を入れて考えよう!



答え 一億

② 十億の位の数字は何ですか。

答え 9



大きな数 3
 ● それぞれの位の数字



日にち： 月 日


名まえ _____

1 886960000000という数について、次の問いに答えましょう。

① 左から2ばんめの8は、何が8こあることを表していますか。

千	百	十	一	千	百	十	一	千	百	十	一
億				万							
8	8	6	9	6	0	0	0	0	0	0	0

この表に
数字を入れて
考えよう！



答え 百億

② 一億の位の数字は何ですか。


答え 9

2 161000000という数について、次の問いに答えましょう。

① 左から1ばんめの1は、何が1こあることを表していますか。

千	百	十	一	千	百	十	一	千	百	十	一
億				万							
			1	6	1	0	0	0	0	0	0

この表に
数字を入れて
考えよう！



答え 一億

② 千万の位の数字は何ですか。

答え 6



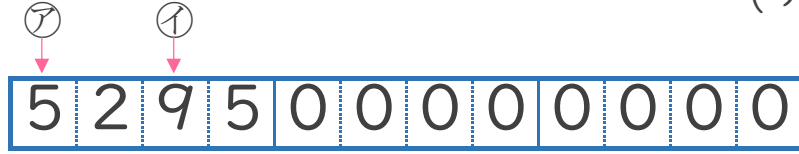
大きな数 3
 ● それぞれの位の数字



日にち： 月 日

名まえ _____

1 529500000000 という数について、次の問いに答えましょう。
 (うすい字はなぞりましょう。)



① ㊦と㊧は、それぞれ何の位の数字ですか。

答え ㊦ **千億** の位 , ㊧ **十億** の位

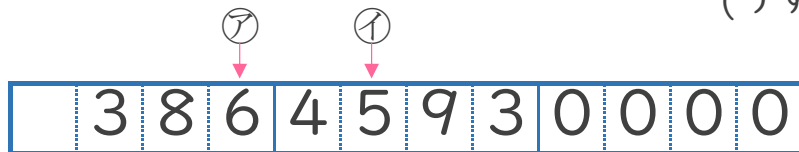
② 左から4ばんめの5は、何が5こあることを表していますか。

答え **一億**

③ 百億の位の数字は何ですか。

答え **2**

2 38645930000 という数について、次の問いに答えましょう。
 (うすい字はなぞりましょう。)



① ㊦と㊧は、それぞれ何の位の数字ですか。

答え ㊦ **一億** の位 , ㊧ **百万** の位

② 左から2ばんめの8は、何が8こあることを表していますか。

答え **十億**

③ 百億の位の数字は何ですか。

答え **3**



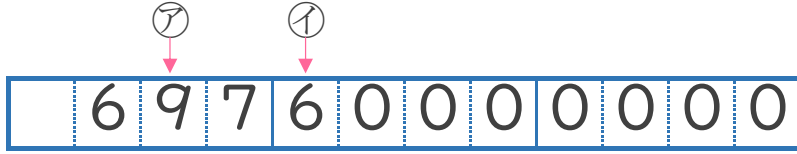
大きな数 3
 ● それぞれの位の数字



日にち： 月 日

名まえ _____

1 69760000000という数について、次の問いに答えましょう。



① ㊦と㊩は、それぞれ何の位の数字ですか。

答え ㊦ **十億** の位 , ㊩ **千万** の位

② 左から3ばんめの7は、何が7こあることを表していますか。

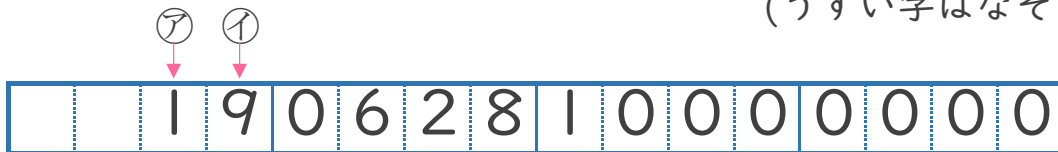
答え **一億**

③ 百億の位の数字は何ですか。

答え **6**

2 19062810000000という数について 次の問いに答えましょう。

(うすい字はなぞりましょう。)



① ㊦と㊩は、それぞれ何の位の数字ですか。

答え ㊦ **十兆** の位 , ㊩ **一兆** の位

② 左から4ばんめの6は、何が6こあることを表していますか。

答え **百億**

③ 十億の位の数字は何ですか。

答え **2**



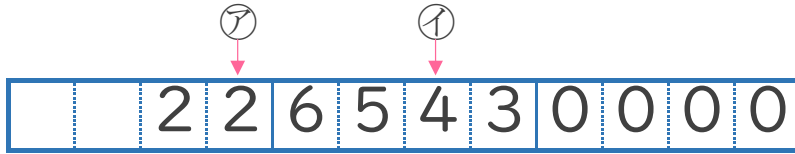
大きな数 3
 ● それぞれの位の数字



日にち： 月 日

名まえ _____

1 2265430000という数について、次の問いに答えましょう。



① ㊦と㊧は、それぞれ何の位の数字ですか。

答え ㊦ **一億** の位 , ㊧ **十万** の位

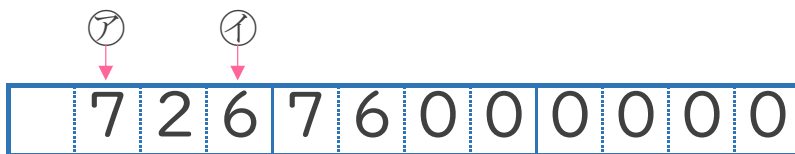
② 左から1ばんめの2は、何が2こあることを表していますか。

答え **十億**

③ 百万の位の数字は何ですか。

答え **5**

2 72676000000という数について、次の問いに答えましょう。



① ㊦と㊧は、それぞれ何の位の数字ですか。

答え ㊦ **百億** の位 , ㊧ **一億** の位

② 左から5ばんめの6は、何が6こあることを表していますか。

答え **百万**

③ 十億の位の数字は何ですか。

答え **2**



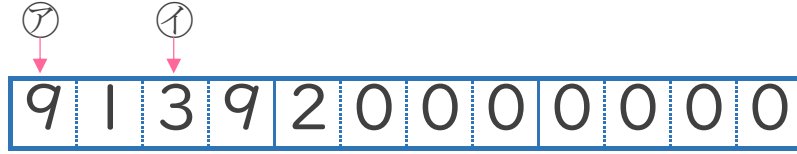
大きな数 3
 ● それぞれの位の数字



日にち： 月 日

名まえ _____

1 913920000000 という数について、次の問いに答えましょう。



① ⑦と⑧は、それぞれ何の位の数字ですか。

答え ⑦ **千億** の位 , ⑧ **十億** の位

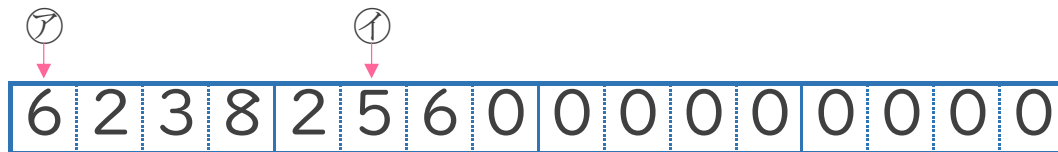
② 左から4ばんめの9は、何が9こあることを表していますか。

答え **一億**

③ 百億の位の数字は何ですか。

答え **1**

2 6238256000000000 という数について 次の問いに答えましょう。



① ⑨と⑩は、それぞれ何の位の数字ですか。

答え ⑨ **千兆** の位 , ⑩ **百億** の位

② 左から2ばんめの2は、何が2こあることを表していますか。

答え **百兆**

③ 一兆の位の数字は何ですか。

答え **8**

