



小数のかけ算Ⅰ

● 小数第一位までの
真小数×1桁の整数



日にち： 月 日

名まえ _____

・ 次の計算をしましょう。(うすい字はしっかりなぞりましょう。)

① $0.2 \times 6 = 1.2$

⑧ $0.6 \times 3 =$

② $0.3 \times 5 =$

⑨ $0.5 \times 9 =$

③ $0.9 \times 1 = 0.9$

⑩ $0.2 \times 4 = 0.8$

④ $0.4 \times 2 =$

⑪ $0.7 \times 8 =$

⑤ $0.5 \times 5 =$

⑫ $0.2 \times 9 =$

⑥ $0.5 \times 3 =$

⑬ $0.9 \times 3 =$

⑦ $0.7 \times 4 =$

⑭ $0.4 \times 4 =$



小数のかけ算Ⅰ

● 小数第一位までの
真小数×1桁の整数



日にち： 月 日

名まえ _____

・ 次の計算をしましょう。(うすい字はしっかりなぞりましょう。)

① $0.4 \times 2 = 0.8$

⑧ $0.1 \times 5 =$

② $0.2 \times 1 =$

⑨ $0.8 \times 2 =$

③ $0.3 \times 4 = 1.2$

⑩ $0.6 \times 3 = 1.8$

④ $0.3 \times 2 =$

⑪ $0.4 \times 3 =$

⑤ $0.9 \times 9 =$


⑫ $0.2 \times 4 =$

⑥ $0.8 \times 3 =$

⑬ $0.4 \times 4 =$

⑦ $0.5 \times 7 =$

⑭ $0.7 \times 6 =$



小数のかけ算Ⅰ

● 小数第一位までの
真小数×1桁の整数



日にち： 月 日

名まえ _____

・ 次の計算をしましょう。(うすい字はしっかりなぞりましょう。)

① $0.7 \times 4 = 2.8$

⑧ $0.9 \times 5 =$

② $0.6 \times 7 =$

⑨ $0.7 \times 9 =$

③ $0.2 \times 4 = 0.8$

⑩ $0.3 \times 7 = 2.1$

④ $0.2 \times 3 =$

⑪ $0.2 \times 2 =$

⑤ $0.8 \times 6 =$


⑫ $0.3 \times 3 =$

⑥ $0.5 \times 7 =$

⑬ $0.1 \times 8 =$

⑦ $0.3 \times 5 =$

⑭ $0.3 \times 9 =$



小数のかけ算Ⅰ

● 小数第一位までの
真小数×1桁の整数



日にち： 月 日

名まえ _____

・ 次の計算をしましょう。(うすい字はしっかりなぞりましょう。)

① $0.3 \times 9 = 2.7$

⑧ $0.6 \times 6 =$

② $0.9 \times 9 =$

⑨ $0.6 \times 8 =$

③ $0.4 \times 1 = 0.4$

⑩ $0.9 \times 3 = 2.7$

④ $0.3 \times 4 =$

⑪ $0.7 \times 3 =$

⑤ $0.9 \times 2 =$


⑫ $0.1 \times 6 =$

⑥ $0.3 \times 6 =$

⑬ $0.6 \times 2 =$

⑦ $0.6 \times 4 =$

⑭ $0.2 \times 8 =$



小数のかけ算Ⅰ

● 小数第一位までの
真小数×1桁の整数



日にち： 月 日

名まえ _____

・ 次の計算をしましょう。(うすい字はしっかりなぞりましょう。)

① $0.3 \times 8 = 2.4$

⑧ $0.2 \times 1 =$

② $0.2 \times 6 =$

⑨ $0.3 \times 9 =$

③ $0.4 \times 7 = 2.8$

⑩ $0.7 \times 9 =$

④ $0.1 \times 9 =$

⑪ $0.8 \times 2 =$

⑤ $0.4 \times 6 =$


⑫ $0.9 \times 6 =$

⑥ $0.5 \times 9 =$

⑬ $0.7 \times 5 =$

⑦ $0.8 \times 9 =$

⑭ $0.4 \times 8 =$



小数のかけ算Ⅰ

● 小数第一位までの
真小数×1桁の整数



日にち： 月 日

名まえ _____

・ 次の計算をしましょう。(うすい字はしっかりなぞりましょう。)

① $0.3 \times 7 = 2.1$

⑧ $0.6 \times 4 =$

② $0.1 \times 2 =$

⑨ $0.3 \times 3 =$

③ $0.3 \times 2 = 0.6$

⑩ $0.4 \times 8 =$

④ $0.5 \times 9 =$

⑪ $0.7 \times 8 =$

⑤ $0.6 \times 9 =$


⑫ $0.9 \times 2 =$

⑥ $0.9 \times 9 =$

⑬ $0.7 \times 7 =$

⑦ $0.3 \times 1 =$

⑭ $0.3 \times 9 =$



小数のかけ算Ⅰ

● 小数第一位までの
真小数×1桁の整数



日にち： 月 日

名まえ _____

・ 次の計算をしましょう。(うすい字はしっかりなぞりましょう。)

① $0.4 \times 9 = 3.6$

⑧ $0.2 \times 9 =$

② $0.9 \times 6 =$

⑨ $0.6 \times 1 =$

③ $0.4 \times 2 = 0.8$

⑩ $0.6 \times 9 =$

④ $0.7 \times 7 =$

⑪ $0.2 \times 3 =$

⑤ $0.3 \times 9 =$


⑫ $0.9 \times 3 =$

⑥ $0.3 \times 6 =$

⑬ $0.8 \times 4 =$

⑦ $0.1 \times 2 =$

⑭ $0.7 \times 4 =$



小数のかけ算 I

● 小数第一位までの
真小数 × 1桁の整数



日にち： 月 日

名まえ _____

・ 次の計算をしましょう。(うすい字はしっかりなぞりましょう。)

① $0.2 \times 4 = 0.8$

⑧ $0.7 \times 9 =$

② $0.6 \times 1 =$

⑨ $0.7 \times 6 =$

③ $0.6 \times 3 = 1.8$

⑩ $0.3 \times 7 =$

④ $0.2 \times 1 =$

⑪ $0.8 \times 6 =$

⑤ $0.7 \times 4 =$


⑫ $0.3 \times 5 =$

⑥ $0.9 \times 2 =$

⑬ $0.4 \times 4 =$

⑦ $0.5 \times 5 =$

⑭ $0.9 \times 8 =$



小数のかけ算 I

● 小数第一位までの
真小数 × 1桁の整数



日にち： 月 日

名まえ _____

・ 次の計算をしましょう。(うすい字はしっかりなぞりましょう。)

① $0.9 \times 8 = 7.2$

⑧ $0.4 \times 4 =$

② $0.5 \times 9 =$

⑨ $0.2 \times 9 =$

③ $0.2 \times 4 = 0.8$

⑩ $0.1 \times 9 =$

④ $0.4 \times 8 =$

⑪ $0.6 \times 3 =$

⑤ $0.6 \times 7 =$

⑫ $0.6 \times 6 =$

⑥ $0.5 \times 3 =$

⑬ $0.3 \times 4 =$

⑦ $0.6 \times 1 =$

⑭ $0.4 \times 6 =$



小数のかけ算 I

● 小数第一位までの
真小数 × 1桁の整数



日にち： 月 日

名まえ _____

・ 次の計算をしましょう。

① $0.2 \times 3 =$

② $0.5 \times 1 =$

③ $0.6 \times 4 =$

④ $0.9 \times 7 =$

⑤ $0.8 \times 7 =$

⑥ $0.4 \times 8 =$

⑦ $0.2 \times 4 =$

⑧ $0.5 \times 9 =$

⑨ $0.2 \times 8 =$


⑩ $0.9 \times 2 =$

⑪ $0.6 \times 3 =$

⑫ $0.1 \times 4 =$

⑬ $0.8 \times 2 =$

⑭ $0.9 \times 9 =$



小数のかけ算 I

● 小数第一位までの
真小数 × 1桁の整数



日にち： 月 日

名まえ _____

・ 次の計算をしましょう。

① $0.7 \times 5 =$

② $0.1 \times 1 =$

③ $0.9 \times 1 =$

④ $0.1 \times 2 =$

⑤ $0.7 \times 2 =$

⑥ $0.9 \times 3 =$

⑦ $0.4 \times 2 =$

⑧ $0.9 \times 9 =$

⑨ $0.7 \times 4 =$


⑩ $0.4 \times 3 =$

⑪ $0.3 \times 6 =$

⑫ $0.6 \times 8 =$

⑬ $0.5 \times 5 =$

⑭ $0.2 \times 1 =$



小数のかけ算Ⅰ

● 小数第一位までの
真小数×1桁の整数



日にち： 月 日

名まえ _____

・ 次の計算をしましょう。

① $0.7 \times 2 =$

② $0.2 \times 8 =$

③ $0.8 \times 4 =$

④ $0.1 \times 9 =$

⑤ $0.6 \times 9 =$

⑥ $0.3 \times 1 =$

⑦ $0.8 \times 2 =$

⑧ $0.6 \times 2 =$

⑨ $0.3 \times 9 =$


⑩ $0.4 \times 3 =$

⑪ $0.6 \times 3 =$

⑫ $0.4 \times 1 =$

⑬ $0.9 \times 5 =$

⑭ $0.6 \times 1 =$



小数のかけ算Ⅰ

● 小数第一位までの
真小数×1桁の整数



日にち： 月 日

名まえ _____

・ 次の計算をしましょう。

① $0.9 \times 7 =$

② $0.7 \times 5 =$

③ $0.3 \times 6 =$

④ $0.5 \times 7 =$

⑤ $0.3 \times 3 =$

⑥ $0.8 \times 6 =$

⑦ $0.4 \times 1 =$

⑧ $0.9 \times 5 =$

⑨ $0.8 \times 4 =$


⑩ $0.1 \times 5 =$

⑪ $0.6 \times 7 =$

⑫ $0.5 \times 3 =$

⑬ $0.1 \times 8 =$

⑭ $0.4 \times 9 =$



小数のかけ算Ⅰ

● 小数第一位までの
真小数×1桁の整数



日にち： 月 日

名まえ _____

・ 次の計算をしましょう。

① $0.1 \times 9 =$

② $0.9 \times 8 =$

③ $0.6 \times 6 =$

④ $0.6 \times 9 =$

⑤ $0.7 \times 4 =$

⑥ $0.1 \times 7 =$

⑦ $0.8 \times 1 =$

⑧ $0.7 \times 2 =$

⑨ $0.2 \times 3 =$


⑩ $0.3 \times 4 =$

⑪ $0.3 \times 9 =$

⑫ $0.2 \times 1 =$

⑬ $0.8 \times 6 =$

⑭ $0.3 \times 7 =$

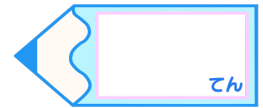


小数のかけ算 I

● 小数第一位までの
真小数×1桁の整数

15

目指せ80点!



名まえ

・ 次の計算をしましょう。(各5点)

① $0.3 \times 1 =$

② $0.7 \times 9 =$

③ $0.4 \times 8 =$

④ $0.6 \times 2 =$

⑤ $0.5 \times 7 =$

⑥ $0.6 \times 2 =$

⑦ $0.7 \times 1 =$

⑧ $0.6 \times 4 =$

⑨ $0.8 \times 3 =$

⑩ $0.1 \times 9 =$

⑪ $0.6 \times 7 =$

⑫ $0.9 \times 4 =$

⑬ $0.3 \times 3 =$

⑭ $0.5 \times 9 =$

⑮ $0.6 \times 8 =$


⑯ $0.2 \times 4 =$

⑰ $0.3 \times 2 =$

⑱ $0.4 \times 3 =$

⑲ $0.9 \times 7 =$

⑳ $0.3 \times 4 =$

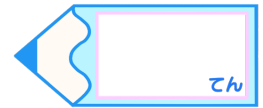


小数のかけ算 I

● 小数第一位までの
真小数 × 1桁の整数

16

目指せ80点!



名まえ

・ 次の計算をしましょう。(各5点)

① $0.1 \times 9 =$

② $0.8 \times 3 =$

③ $0.8 \times 7 =$

④ $0.4 \times 8 =$

⑤ $0.3 \times 5 =$

⑥ $0.7 \times 8 =$

⑦ $0.7 \times 7 =$

⑧ $0.3 \times 6 =$

⑨ $0.5 \times 5 =$

⑩ $0.2 \times 8 =$

⑪ $0.2 \times 7 =$

⑫ $0.6 \times 7 =$

⑬ $0.9 \times 3 =$

⑭ $0.9 \times 5 =$

⑮ $0.6 \times 9 =$

⑯ $0.7 \times 1 =$

⑰ $0.7 \times 9 =$

⑱ $0.5 \times 3 =$

⑲ $0.6 \times 3 =$

⑳ $0.4 \times 6 =$



小数のかけ算Ⅰ

● 小数第一位までの
真小数×1桁の整数



日にち： 月 日

名まえ _____

・ 次の計算をしましょう。(うすい字はしっかりなぞりましょう。)

① $0.2 \times 6 = 1.2$

⑧ $0.6 \times 3 = 1.8$

② $0.3 \times 5 = 1.5$

⑨ $0.5 \times 9 = 4.5$

③ $0.9 \times 1 = 0.9$

⑩ $0.2 \times 4 = 0.8$

④ $0.4 \times 2 = 0.8$

⑪ $0.7 \times 8 = 5.6$

⑤ $0.5 \times 5 = 2.5$

⑫ $0.2 \times 9 = 1.8$

⑥ $0.5 \times 3 = 1.5$

⑬ $0.9 \times 3 = 2.7$

⑦ $0.7 \times 4 = 2.8$

⑭ $0.4 \times 4 = 1.6$



小数のかけ算Ⅰ

● 小数第一位までの
真小数×1桁の整数

2

日にち： 月 日

名まえ _____

・ 次の計算をしましょう。(うすい字はしっかりなぞりましょう。)

① $0.4 \times 2 = 0.8$

⑧ $0.1 \times 5 = 0.5$

② $0.2 \times 1 = 0.2$

⑨ $0.8 \times 2 = 1.6$

③ $0.3 \times 4 = 1.2$

⑩ $0.6 \times 3 = 1.8$

④ $0.3 \times 2 = 0.6$

⑪ $0.4 \times 3 = 1.2$

⑤ $0.9 \times 9 = 8.1$


⑫ $0.2 \times 4 = 0.8$

⑥ $0.8 \times 3 = 2.4$

⑬ $0.4 \times 4 = 1.6$

⑦ $0.5 \times 7 = 3.5$

⑭ $0.7 \times 6 = 4.2$



小数のかけ算 I

● 小数第一位までの
真小数×1桁の整数



日にち： 月 日

名まえ _____

・ 次の計算をしましょう。(うすい字はしっかりなぞりましょう。)

① $0.7 \times 4 = 2.8$

⑧ $0.9 \times 5 = 4.5$

② $0.6 \times 7 = 4.2$

⑨ $0.7 \times 9 = 6.3$

③ $0.2 \times 4 = 0.8$

⑩ $0.3 \times 7 = 2.1$

④ $0.2 \times 3 = 0.6$

⑪ $0.2 \times 2 = 0.4$

⑤ $0.8 \times 6 = 4.8$


⑫ $0.3 \times 3 = 0.9$

⑥ $0.5 \times 7 = 3.5$

⑬ $0.1 \times 8 = 0.8$

⑦ $0.3 \times 5 = 1.5$

⑭ $0.3 \times 9 = 2.7$



小数のかけ算Ⅰ

● 小数第一位までの
真小数×1桁の整数



日にち： 月 日

名まえ _____

・ 次の計算をしましょう。(うすい字はしっかりなぞりましょう。)

① $0.3 \times 9 = 2.7$

⑧ $0.6 \times 6 = 3.6$

② $0.9 \times 9 = 8.1$

⑨ $0.6 \times 8 = 4.8$

③ $0.4 \times 1 = 0.4$

⑩ $0.9 \times 3 = 2.7$

④ $0.3 \times 4 = 1.2$

⑪ $0.7 \times 3 = 2.1$

⑤ $0.9 \times 2 = 1.8$


⑫ $0.1 \times 6 = 0.6$

⑥ $0.3 \times 6 = 1.8$

⑬ $0.6 \times 2 = 1.2$

⑦ $0.6 \times 4 = 2.4$

⑭ $0.2 \times 8 = 1.6$



小数のかけ算 I

● 小数第一位までの
真小数 × 1桁の整数



日にち： 月 日

名まえ _____

・ 次の計算をしましょう。(うすい字はしっかりなぞりましょう。)

① $0.3 \times 8 = 2.4$

⑧ $0.2 \times 1 = 0.2$

② $0.2 \times 6 = 1.2$

⑨ $0.3 \times 9 = 2.7$

③ $0.4 \times 7 = 2.8$

⑩ $0.7 \times 9 = 6.3$

④ $0.1 \times 9 = 0.9$

⑪ $0.8 \times 2 = 1.6$

⑤ $0.4 \times 6 = 2.4$


⑫ $0.9 \times 6 = 5.4$

⑥ $0.5 \times 9 = 4.5$

⑬ $0.7 \times 5 = 3.5$

⑦ $0.8 \times 9 = 7.2$

⑭ $0.4 \times 8 = 3.2$



小数のかけ算 I

● 小数第一位までの
真小数×1桁の整数



日にち： 月 日

名まえ _____

・ 次の計算をしましょう。(うすい字はしっかりなぞりましょう。)

① $0.3 \times 7 = 2.1$

⑧ $0.6 \times 4 = 2.4$

② $0.1 \times 2 = 0.2$

⑨ $0.3 \times 3 = 0.9$

③ $0.3 \times 2 = 0.6$

⑩ $0.4 \times 8 = 3.2$

④ $0.5 \times 9 = 4.5$

⑪ $0.7 \times 8 = 5.6$

⑤ $0.6 \times 9 = 5.4$


⑫ $0.9 \times 2 = 1.8$

⑥ $0.9 \times 9 = 8.1$

⑬ $0.7 \times 7 = 4.9$

⑦ $0.3 \times 1 = 0.3$

⑭ $0.3 \times 9 = 2.7$



小数のかけ算Ⅰ

● 小数第一位までの
真小数×1桁の整数



日にち： 月 日

名まえ _____

・ 次の計算をしましょう。(うすい字はしっかりなぞりましょう。)

① $0.4 \times 9 = 3.6$

⑧ $0.2 \times 9 = 1.8$

② $0.9 \times 6 = 5.4$

⑨ $0.6 \times 1 = 0.6$

③ $0.4 \times 2 = 0.8$

⑩ $0.6 \times 9 = 5.4$

④ $0.7 \times 7 = 4.9$

⑪ $0.2 \times 3 = 0.6$

⑤ $0.3 \times 9 = 2.7$


⑫ $0.9 \times 3 = 2.7$

⑥ $0.3 \times 6 = 1.8$

⑬ $0.8 \times 4 = 3.2$

⑦ $0.1 \times 2 = 0.2$

⑭ $0.7 \times 4 = 2.8$



小数のかけ算Ⅰ

● 小数第一位までの
真小数×1桁の整数



日にち： 月 日

名まえ _____

・ 次の計算をしましょう。(うすい字はしっかりなぞりましょう。)

① $0.2 \times 4 = 0.8$

⑧ $0.7 \times 9 = 6.3$

② $0.6 \times 1 = 0.6$

⑨ $0.7 \times 6 = 4.2$

③ $0.6 \times 3 = 1.8$

⑩ $0.3 \times 7 = 2.1$

④ $0.2 \times 1 = 0.2$

⑪ $0.8 \times 6 = 4.8$

⑤ $0.7 \times 4 = 2.8$


⑫ $0.3 \times 5 = 1.5$

⑥ $0.9 \times 2 = 1.8$

⑬ $0.4 \times 4 = 1.6$

⑦ $0.5 \times 5 = 2.5$

⑭ $0.9 \times 8 = 7.2$



小数のかけ算 I

● 小数第一位までの
真小数 × 1桁の整数



日にち： 月 日

名まえ _____

・ 次の計算をしましょう。(うすい字はしっかりなぞりましょう。)

① $0.9 \times 8 = 7.2$

⑧ $0.4 \times 4 = 1.6$

② $0.5 \times 9 = 4.5$

⑨ $0.2 \times 9 = 1.8$

③ $0.2 \times 4 = 0.8$

⑩ $0.1 \times 9 = 0.9$

④ $0.4 \times 8 = 3.2$

⑪ $0.6 \times 3 = 1.8$

⑤ $0.6 \times 7 = 4.2$

⑫ $0.6 \times 6 = 3.6$

⑥ $0.5 \times 3 = 1.5$

⑬ $0.3 \times 4 = 1.2$

⑦ $0.6 \times 1 = 0.6$

⑭ $0.4 \times 6 = 2.4$



小数のかけ算Ⅰ

● 小数第一位までの
真小数×1桁の整数



日にち： 月 日

名まえ _____

・ 次の計算をしましょう。

① $0.2 \times 3 = 0.6$

② $0.5 \times 1 = 0.5$

③ $0.6 \times 4 = 2.4$

④ $0.9 \times 7 = 6.3$

⑤ $0.8 \times 7 = 5.6$

⑥ $0.4 \times 8 = 3.2$

⑦ $0.2 \times 4 = 0.8$

⑧ $0.5 \times 9 = 4.5$

⑨ $0.2 \times 8 = 1.6$


⑩ $0.9 \times 2 = 1.8$

⑪ $0.6 \times 3 = 1.8$

⑫ $0.1 \times 4 = 0.4$

⑬ $0.8 \times 2 = 1.6$

⑭ $0.9 \times 9 = 8.1$



小数のかけ算Ⅰ

● 小数第一位までの
真小数×1桁の整数



日にち： 月 日

名まえ _____

・ 次の計算をしましょう。

$$\textcircled{1} \quad 0.7 \times 5 = 3.5$$

$$\textcircled{2} \quad 0.1 \times 1 = 0.1$$

$$\textcircled{3} \quad 0.9 \times 1 = 0.9$$

$$\textcircled{4} \quad 0.1 \times 2 = 0.2$$

$$\textcircled{5} \quad 0.7 \times 2 = 1.4$$

$$\textcircled{6} \quad 0.9 \times 3 = 2.7$$

$$\textcircled{7} \quad 0.4 \times 2 = 0.8$$

$$\textcircled{8} \quad 0.9 \times 9 = 8.1$$

$$\textcircled{9} \quad 0.7 \times 4 = 2.8$$


$$\textcircled{10} \quad 0.4 \times 3 = 1.2$$

$$\textcircled{11} \quad 0.3 \times 6 = 1.8$$

$$\textcircled{12} \quad 0.6 \times 8 = 4.8$$

$$\textcircled{13} \quad 0.5 \times 5 = 2.5$$

$$\textcircled{14} \quad 0.2 \times 1 = 0.2$$



小数のかけ算 I

● 小数第一位までの
真小数 × 1桁の整数



日にち： 月 日

名まえ _____

・ 次の計算をしましょう。

① $0.7 \times 2 = 1.4$

② $0.2 \times 8 = 1.6$

③ $0.8 \times 4 = 3.2$

④ $0.1 \times 9 = 0.9$

⑤ $0.6 \times 9 = 5.4$

⑥ $0.3 \times 1 = 0.3$

⑦ $0.8 \times 2 = 1.6$

⑧ $0.6 \times 2 = 1.2$

⑨ $0.3 \times 9 = 2.7$


⑩ $0.4 \times 3 = 1.2$

⑪ $0.6 \times 3 = 1.8$

⑫ $0.4 \times 1 = 0.4$

⑬ $0.9 \times 5 = 4.5$

⑭ $0.6 \times 1 = 0.6$



小数のかけ算Ⅰ

● 小数第一位までの
真小数×1桁の整数



日にち： 月 日

名まえ _____

・ 次の計算をしましょう。

$$\textcircled{1} \quad 0.9 \times 7 = 6.3$$

$$\textcircled{2} \quad 0.7 \times 5 = 3.5$$

$$\textcircled{3} \quad 0.3 \times 6 = 1.8$$

$$\textcircled{4} \quad 0.5 \times 7 = 3.5$$

$$\textcircled{5} \quad 0.3 \times 3 = 0.9$$

$$\textcircled{6} \quad 0.8 \times 6 = 4.8$$

$$\textcircled{7} \quad 0.4 \times 1 = 0.4$$

$$\textcircled{8} \quad 0.9 \times 5 = 4.5$$

$$\textcircled{9} \quad 0.8 \times 4 = 3.2$$


$$\textcircled{10} \quad 0.1 \times 5 = 0.5$$

$$\textcircled{11} \quad 0.6 \times 7 = 4.2$$

$$\textcircled{12} \quad 0.5 \times 3 = 1.5$$

$$\textcircled{13} \quad 0.1 \times 8 = 0.8$$

$$\textcircled{14} \quad 0.4 \times 9 = 3.6$$



小数のかけ算 I

● 小数第一位までの
真小数 × 1桁の整数

14

日にち： 月 日

名まえ _____

・ 次の計算をしましょう。

① $0.1 \times 9 = 0.9$

② $0.9 \times 8 = 7.2$

③ $0.6 \times 6 = 3.6$

④ $0.6 \times 9 = 5.4$

⑤ $0.7 \times 4 = 2.8$

⑥ $0.1 \times 7 = 0.7$

⑦ $0.8 \times 1 = 0.8$

⑧ $0.7 \times 2 = 1.4$

⑨ $0.2 \times 3 = 0.6$


⑩ $0.3 \times 4 = 1.2$

⑪ $0.3 \times 9 = 2.7$

⑫ $0.2 \times 1 = 0.2$

⑬ $0.8 \times 6 = 4.8$

⑭ $0.3 \times 7 = 2.1$

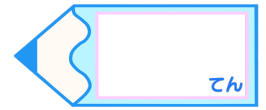


小数のかけ算 I

● 小数第一位までの
真小数 × 1桁の整数

15

目指せ80点!



名まえ

・ 次の計算をしましょう。(各5点)

① $0.3 \times 1 = 0.3$

② $0.7 \times 9 = 6.3$

③ $0.4 \times 8 = 3.2$

④ $0.6 \times 2 = 1.2$

⑤ $0.5 \times 7 = 3.5$

⑥ $0.6 \times 2 = 1.2$

⑦ $0.7 \times 1 = 0.7$

⑧ $0.6 \times 4 = 2.4$

⑨ $0.8 \times 3 = 2.4$

⑩ $0.1 \times 9 = 0.9$

⑪ $0.6 \times 7 = 4.2$

⑫ $0.9 \times 4 = 3.6$

⑬ $0.3 \times 3 = 0.9$

⑭ $0.5 \times 9 = 4.5$

⑮ $0.6 \times 8 = 4.8$


⑯ $0.2 \times 4 = 0.8$

⑰ $0.3 \times 2 = 0.6$

⑱ $0.4 \times 3 = 1.2$

⑲ $0.9 \times 7 = 6.3$

⑳ $0.3 \times 4 = 1.2$

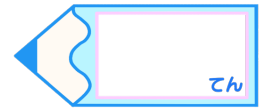


小数のかけ算 I

● 小数第一位までの
真小数×1桁の整数

16

目指せ80点!



名まえ

・ 次の計算をしましょう。(各5点)

① $0.1 \times 9 = 0.9$

② $0.8 \times 3 = 2.4$

③ $0.8 \times 7 = 5.6$

④ $0.4 \times 8 = 3.2$

⑤ $0.3 \times 5 = 1.5$

⑥ $0.7 \times 8 = 5.6$

⑦ $0.7 \times 7 = 4.9$

⑧ $0.3 \times 6 = 1.8$

⑨ $0.5 \times 5 = 2.5$

⑩ $0.2 \times 8 = 1.6$

⑪ $0.2 \times 7 = 1.4$

⑫ $0.6 \times 7 = 4.2$

⑬ $0.9 \times 3 = 2.7$

⑭ $0.9 \times 5 = 4.5$

⑮ $0.6 \times 9 = 5.4$

⑯ $0.7 \times 1 = 0.7$

⑰ $0.7 \times 9 = 6.3$

⑱ $0.5 \times 3 = 1.5$

⑲ $0.6 \times 3 = 1.8$

⑳ $0.4 \times 6 = 2.4$