



小数のかけ算 10

● かけ算とたし算ひき算の
計算の順じょ



日にち： 月 日

名まえ _____

・ 次の計算をしましょう。(うすい字はなぞりましょう。)

$$\begin{aligned} \textcircled{1} & \quad 3.4 \times 6 + 7 \\ & = 20.4 + 7 \\ & = \end{aligned}$$

	3	4		2	0	4
×		6	+		7	○
	2	0				

$$\begin{aligned} \textcircled{2} & \quad 0.5 + 21.5 \times 7 \\ & = 0.5 + 150.5 \\ & = \end{aligned}$$

	2	1	5			0	5	
×			7	+	1	5	0	5
	1	5	0					

$$\begin{aligned} \textcircled{3} & \quad 2.4 \times 6 - 3.1 \\ & = \square \\ & = \end{aligned}$$

	2	4					
×		6					

$$\begin{aligned} \textcircled{4} & \quad 9.4 - 0.8 \times 5 \\ & = \\ & = \end{aligned}$$





小数のかけ算 10

● かけ算とたし算ひき算の
計算の順じよ



日にち： 月 日

名まえ _____

・ 次の計算をしましょう。(うすい字はなぞりましょう。)

$$\textcircled{1} \quad 5.8 \times 2 + 9$$

$$= 11.6 + 9$$

$$=$$

	5	8		1	1	6
×		2	+		9	○
	1	1				

$$\textcircled{2} \quad 3.2 + 42.1 \times 5$$

$$= 3.2 +$$

$$=$$

	4	2	1			3	2
×			5	+			

$$\textcircled{3} \quad 3.7 \times 5 - 8.5$$

$$=$$

$$=$$

×							

$$\textcircled{4} \quad 7.2 - 1.2 \times 3$$

$$=$$

$$=$$



小数のかけ算 10

● かけ算とたし算ひき算の
計算の順じよ



日にち： 月 日

名まえ _____

・ 次の計算をしましょう。(うすい字はなぞりましょう。)

$$\begin{aligned} \textcircled{1} & \quad 5.2 \times 9 + 8 \\ & \quad \downarrow \\ & = 46.8 + 8 \\ & = \end{aligned}$$

	5	2
×		9
4	6	8

	4	6	8
+			

$$\begin{aligned} \textcircled{2} & \quad 1.8 + 38.1 \times 2 \\ & \quad \downarrow \\ & = 1.8 + \square \\ & = \end{aligned}$$

×			

$$\begin{aligned} \textcircled{3} & \quad 1.7 \times 5 - 4.6 \\ & \quad \downarrow \\ & = \square \\ & = \end{aligned}$$

$$\begin{aligned} \textcircled{4} & \quad 8.9 - 1.2 \times 5 \\ & = \\ & = \end{aligned}$$



小数のかけ算 10

● かけ算とたし算ひき算の
計算の順じよ



日にち： 月 日

名まえ _____

・ 次の計算をしましょう。(うすい字はなぞりましょう。)

① $3.1 \times 8 + 5$

= + 5

=

	3	1
×		8

+			

② $6.6 + 14.7 \times 5$

= +

=

③ $4.8 \times 9 - 9.2$

=

=

④ $6.4 - 1.8 \times 3$

=

=



小数のかけ算 10

● かけ算とたし算ひき算の
計算の順じよ



日にち： 月 日

名まえ _____

・ 次の計算をしましょう。(うすい字はなぞりましょう。)

① $1.8 \times 6 + 9$

= + 9

=

	1	8			
×		6	+	9	

② $1.6 + 15.6 \times 3$

= +

=

×					

③ $4.5 \times 4 - 2.2$

④ $8.7 - 1.6 \times 3$





小数のかけ算 10

● かけ算とたし算ひき算の
計算の順じよ



日にち： 月 日

名まえ _____

・ 次の計算をしましょう。(うすい字はなぞりましょう。)

① $1.8 \times 4 + 3$

= $\square + 3$

=

×		

+		

② $6.4 + 18.4 \times 2$

= $6.4 + \square$

=

③ $4.2 \times 8 - 5.9$

④ $8.3 - 0.8 \times 4$





小数のかけ算 10

● かけ算とたし算ひき算の
計算の順じよ



日にち： 月 日

名まえ _____

・ 次の計算をしましょう。(うすい字はなぞりましょう。)

① $2.6 \times 3 + 9$

= $\square +$

=

×			

+			

② $4.6 + 2.8 \times 4$

=

=

③ $1.2 \times 7 - 5.1$

④ $7.6 - 1.3 \times 5$





小数のかけ算 10

● かけ算とたし算ひき算の
計算の順じよ




日にち： 月 日


名まえ _____

・ 次の計算をしましょう。


① $4.7 \times 7 + 6$




② $3.1 + 17.6 \times 5$



③ $6.8 \times 6 - 9.2$



④ $9.4 - 1.4 \times 6$





小数のかけ算 10

● かけ算とたし算ひき算の
計算の順じよ



日にち： 月 日

名まえ _____

・ 次の計算をしましょう。

① $6.1 \times 7 + 9$

② $1.7 + 15.3 \times 4$

③ $6.3 \times 3 - 9.6$

④ $6.2 - 0.3 \times 8$





小数のかけ算 10

● かけ算とたし算ひき算の
計算の順じよ



日にち： 月 日

名まえ _____

・ 次の計算をしましょう。

① $3.6 \times 2 + 4$

② $8.3 - 0.9 \times 4$

③ $6.5 + 16.6 \times 5$

--	--

④ $7.7 \times 9 - 7.6$

--	--





小数のかけ算 10

● かけ算とたし算ひき算の
計算の順じよ



日にち： 月 日

名まえ _____

・ 次の計算をしましょう。

① $6.5 - 1.8 \times 3$

② $2.5 \times 5 + 6$

③ $4.2 + 29.1 \times 6$

--	--

④ $3.7 \times 4 - 3.1$

--	--





小数のかけ算 10

● かけ算とたし算ひき算の
計算の順じよ



日にち： 月 日

名まえ _____

・ 次の計算をしましょう。

① $2.3 \times 4 + 7$

② $6.3 - 1.6 \times 2$

③ $4.2 + 3 \quad 3.6 \times 3$

--	--

④ $8.9 \times 4 - 6.2$

--	--





小数のかけ算 10

● かけ算とたし算ひき算の
計算の順じよ



日にち： 月 日

名まえ _____

・ 次の計算をしましょう。

① $7.2 - 1.3 \times 4$

② $2.7 \times 6 + 4$

③ $8.6 + 16.8 \times 2$

--	--

④ $3.6 \times 4 - 9.2$

--	--





小数のかけ算 10

● かけ算とたし算ひき算の
計算の順じよ



日にち： 月 日

名まえ _____

・ 次の計算をしましょう。

① $7.2 \times 3 + 4$

② $8.2 - 1.3 \times 4$

③ $5.7 + 26.7 \times 5$

--	--

④ $1.6 \times 7 - 5.8$

--	--





小数のかけ算 10

● かけ算とたし算ひき算の
計算の順じよ

15

目指せ75点!



名まえ

・ 次の計算をしましょう。(各25点)

① $3.1 \times 8 - 5.3$

② $4.4 + 17.5 \times 2$

③ $1.6 \times 2 + 6$

④ $7.4 - 1.7 \times 3$





小数のかけ算 10

● かけ算とたし算ひき算の
計算の順じよ

16

目指せ75点!



名まえ

・ 次の計算をしましょう。(各25点)

① $6.7 + 15.2 \times 4$

② $4.8 \times 3 - 5.8$

③ $1.3 \times 4 + 7$

④ $6.9 - 0.7 \times 6$





小数のかけ算 10

● かけ算とたし算ひき算の
計算の順じよ



日にち： 月 日

名まえ _____

・ 次の計算をしましょう。(うすい字はなぞりましょう。)

$$\begin{aligned} \textcircled{1} \quad & 3.4 \times 6 + 7 \\ & = 20.4 + 7 \\ & = 27.4 \end{aligned}$$

	3	.	4		2	0	.	4	
×			6	+			7	.	0

	2	0	.	4		2	7	.	4

$$\begin{aligned} \textcircled{2} \quad & 0.5 + 21.5 \times 7 \\ & = 0.5 + 150.5 \\ & = 151 \end{aligned}$$

	2	1	.	5				0	.	5	
×				7	+	1	5	0	.	5	

	1	5	0	.	5		1	5	1	.	0

$$\begin{aligned} \textcircled{3} \quad & 2.4 \times 6 - 3.1 \\ & = 14.4 - 3.1 \\ & = 11.3 \end{aligned}$$

	2	.	4		1	4	.	4	
×			6	-			3	.	1

	1	4	.	4		1	1	.	3

$$\begin{aligned} \textcircled{4} \quad & 9.4 - 0.8 \times 5 \\ & = 9.4 - 4 \\ & = 5.4 \end{aligned}$$

	0	8		9	.	4	
×			5	-	4	.	0

	4	.	0		5	.	4



小数のかけ算 10

● かけ算とたし算ひき算の
計算の順じよ



日にち： 月 日

名まえ _____

・ 次の計算をしましょう。(うすい字はなぞりましょう。)

$$\begin{aligned} \textcircled{1} \quad & 5.8 \times 2 + 9 \\ & = 11.6 + 9 \\ & = 20.6 \end{aligned}$$

	5	.	8
×			2
<hr/>			
1	1	.	6

	1	1	.	6	
+			9	.	0
<hr/>					
	2	0	.	6	

$$\begin{aligned} \textcircled{2} \quad & 3.2 + 42.1 \times 5 \\ & = 3.2 + 210.5 \\ & = 213.7 \end{aligned}$$

	4	2	.	1
×				5
<hr/>				
2	1	0	.	5

						3	.	2
+	2	1	0	.	5			
<hr/>								
	2	1	3	.	7			

$$\begin{aligned} \textcircled{3} \quad & 3.7 \times 5 - 8.5 \\ & = 18.5 - 8.5 \\ & = 10 \end{aligned}$$

	3	7	
×		5	
<hr/>			
1	8	.	5

	1	8	.	5	
-			8	.	5
<hr/>					
	1	0	.	0	

$$\begin{aligned} \textcircled{4} \quad & 7.2 - 1.2 \times 3 \\ & = 7.2 - 3.6 \\ & = 3.6 \end{aligned}$$

	1	2	
×		3	
<hr/>			
	3	.	6

	7	.	2		
-			3	.	6
<hr/>					
	3	.	6		



小数のかけ算 10

● かけ算とたし算ひき算の
計算の順じよ

3

日にち： 月 日

名まえ _____

・ 次の計算をしましょう。(うすい字はなぞりましょう。)

$$\begin{aligned} \textcircled{1} \quad & 5.2 \times 9 + 8 \\ & = 46.8 + 8 \\ & = 54.8 \end{aligned}$$

	5	.	2		4	6	.	8	
×			9	+			8	.	0
46.8				54.8					

$$\begin{aligned} \textcircled{2} \quad & 1.8 + 38.1 \times 2 \\ & = 1.8 + 76.2 \\ & = 78 \end{aligned}$$

	3	8	.	1			1	.	8
×				2	+	7	6	.	2
76.2				78.0					

$$\begin{aligned} \textcircled{3} \quad & 1.7 \times 5 - 4.6 \\ & = 8.5 - 4.6 \\ & = 3.9 \end{aligned}$$

	1	.	7		8	.	5
×			5	-	4	.	6
8.5				3.9			

$$\begin{aligned} \textcircled{4} \quad & 8.9 - 1.2 \times 5 \\ & = 8.9 - 6 \\ & = 2.9 \end{aligned}$$

	1	.	2		8	.	9
×			5	-	6	.	0
6.0				2.9			



小数のかけ算 10

● かけ算とたし算ひき算の
計算の順じよ



日にち： 月 日

名まえ _____

・ 次の計算をしましょう。(うすい字はなぞりましょう。)

$$\begin{aligned} \textcircled{1} \quad & 3.1 \times 8 + 5 \\ & = 24.8 + 5 \\ & = 29.8 \end{aligned}$$

	3	.	1		2	4	.	8	
×			8	+			5	.	0

	2	4	.	8		2	9	.	8

$$\begin{aligned} \textcircled{2} \quad & 6.6 + 14.7 \times 5 \\ & = 6.6 + 73.5 \\ & = 80.1 \end{aligned}$$

	1	4	.	7			6	.	6
×				5	+	7	3	.	5

	7	3	.	5		8	0	.	1

$$\begin{aligned} \textcircled{3} \quad & 4.8 \times 9 - 9.2 \\ & = 43.2 - 9.2 \\ & = 34 \end{aligned}$$

	4	8			4	3	.	2	
×			9	-			9	.	2

	4	3	.	2		3	4	.	0

$$\begin{aligned} \textcircled{4} \quad & 6.4 - 1.8 \times 3 \\ & = 6.4 - 5.4 \\ & = 1 \end{aligned}$$

	1	8			6	4
×			3	-	5	4

	5	4			1	0



小数のかけ算 10

● かけ算とたし算ひき算の
計算の順じよ



日にち： 月 日

名まえ _____

・ 次の計算をしましょう。(うすい字はなぞりましょう。)

$$\begin{aligned} \textcircled{1} \quad & 1.8 \times 6 + 9 \\ & = 10.8 + 9 \\ & = 19.8 \end{aligned}$$

	1	8		1	0	8
×		6	+		9	0
10.8			19.8			

$$\begin{aligned} \textcircled{2} \quad & 1.6 + 15.6 \times 3 \\ & = 1.6 + 46.8 \\ & = 48.4 \end{aligned}$$

	1	5	6		1	6	
×			3	+	4	6	8
46.8				48.4			

$$\begin{aligned} \textcircled{3} \quad & 4.5 \times 4 - 2.2 \\ & = 18 - 2.2 \\ & = 15.8 \end{aligned}$$

	4	5		1	8	0
×		4	-		2	2
18.0			15.8			

$$\begin{aligned} \textcircled{4} \quad & 8.7 - 1.6 \times 3 \\ & = 8.7 - 4.8 \\ & = 3.9 \end{aligned}$$

	1	6		8	7
×		3	-	4	8
4.8			3.9		





小数のかけ算 10

● かけ算とたし算ひき算の
計算の順じよ



日にち： 月 日

名まえ _____

・ 次の計算をしましょう。(うすい字はなぞりましょう。)

$$\begin{aligned} \textcircled{1} \quad & 1.8 \times 4 + 3 \\ & = 7.2 + 3 \\ & = 10.2 \end{aligned}$$

	1	8		7	2
×		4	+	3	0
-----			-----		
	7	2		1	0
					2

$$\begin{aligned} \textcircled{2} \quad & 6.4 + 18.4 \times 2 \\ & = 6.4 + 36.8 \\ & = 43.2 \end{aligned}$$

	1	8	4		6	4
×			2	+	3	6
-----			-----			
	3	6	8		4	3
						2

$$\begin{aligned} \textcircled{3} \quad & 4.2 \times 8 - 5.9 \\ & = 33.6 - 5.9 \\ & = 27.7 \end{aligned}$$

	4	2		3 ²	3 ²	6
×		8	-		5	9
-----			-----			
	3	3	6		2	7
						7

$$\begin{aligned} \textcircled{4} \quad & 8.3 - 0.8 \times 4 \\ & = 8.3 - 3.2 \\ & = 5.1 \end{aligned}$$

	0	8		8	3
×		4	-	3	2
-----			-----		
	3	2		5	1





小数のかけ算10

● かけ算とたし算ひき算の
計算の順じよ



日にち： 月 日

名まえ _____

・ 次の計算をしましょう。(うすい字はなぞりましょう。)

$$\begin{aligned} \textcircled{1} \quad & 2.6 \times 3 + 9 \\ & = 7.8 + 9 \\ & = 16.8 \end{aligned}$$

	2	6		7	8
×		3	+	9	0
	7	8		1	6
					8

$$\begin{aligned} \textcircled{2} \quad & 4.6 + 22.8 \times 4 \\ & = 4.6 + 91.2 \\ & = 95.8 \end{aligned}$$

	2	2	8		4	6
×			4	+	9	1
	9	1	2		9	5
						8

$$\begin{aligned} \textcircled{3} \quad & 1.2 \times 7 - 5.1 \\ & = 8.4 - 5.1 \\ & = 3.3 \end{aligned}$$

	1	2		8	4
×		7	-	5	1
	8	4		3	3

$$\begin{aligned} \textcircled{4} \quad & 7.6 - 1.3 \times 5 \\ & = 7.6 - 6.5 \\ & = 1.1 \end{aligned}$$

	1	3		7	6
×		5	-	6	5
	6	5		1	1



小数のかけ算 10

● かけ算とたし算ひき算の
計算の順じよ



日にち： 月 日

名まえ _____

・ 次の計算をしましょう。

$$\begin{aligned} \textcircled{1} \quad & 4.7 \times 7 + 6 \\ & = 32.9 + 6 \\ & = 38.9 \end{aligned}$$

	4	.	7		3	2	.	9	
×			7	+		6	.	0	
	3	2	.	9		3	8	.	9

$$\begin{aligned} \textcircled{2} \quad & 3.1 + 17.6 \times 5 \\ & = 3.1 + 88 \\ & = 91.1 \end{aligned}$$

	1	7	.	6			3	.	1
×				5	+	8	8	.	0
	8	8	.	0		9	1	.	1

$$\begin{aligned} \textcircled{3} \quad & 6.8 \times 6 - 9.2 \\ & = 40.8 - 9.2 \\ & = 31.6 \end{aligned}$$

	6	8		4	0	.	8		
×		6	-	9	.	2			
	4	0	.	8		3	1	.	6

$$\begin{aligned} \textcircled{4} \quad & 9.4 - 1.4 \times 6 \\ & = 9.4 - 8.4 \\ & = 1 \end{aligned}$$

	1	4		9	4		
×		6	-	8	4		
	8	.	4		1	.	0





小数のかけ算 10

● かけ算とたし算ひき算の
計算の順じよ



日にち： 月 日

名まえ _____

・ 次の計算をしましょう。

$$\begin{aligned} \textcircled{1} \quad & 6.1 \times 7 + 9 \\ & = 42.7 + 9 \\ & = 38.9 \end{aligned}$$

	6	.	1		4	2	.	7
×			7	+		9	.	0
4				5				
	2	.	7		1	.	7	

$$\begin{aligned} \textcircled{2} \quad & 1.7 + 15.3 \times 4 \\ & = 1.7 + 61.2 \\ & = 62.9 \end{aligned}$$

	1	5	.	3			1	.	7
×				4	+	6	1	.	2
6				6					
	2	.	9		2	.	9		

$$\begin{aligned} \textcircled{3} \quad & 6.3 \times 3 - 9.6 \\ & = 18.9 - 9.6 \\ & = 9.3 \end{aligned}$$

	6	.	3		1	8	.	9
×			3	-		9	.	6
1				9				
	8	.	9			9	.	3

$$\begin{aligned} \textcircled{4} \quad & 6.2 - 0.3 \times 8 \\ & = 6.2 - 2.4 \\ & = 3.8 \end{aligned}$$

	0	.	3		6	.	2
×			8	-	2	.	4
2				3			
	2	.	4		8	.	8





小数のかけ算 10

● かけ算とたし算ひき算の
計算の順じよ



日にち： 月 日

名まえ _____

・ 次の計算をしましょう。

$$\begin{aligned} \textcircled{1} \quad & 3.6 \times 2 + 4 \\ & = 7.2 + 4 \\ & = 11.2 \end{aligned}$$

	3	6		7	2
×		2	+	4	0
<hr/>			<hr/>		
	7	2		1	2

$$\begin{aligned} \textcircled{2} \quad & 8.3 - 0.9 \times 4 \\ & = 8.3 - 3.6 \\ & = 4.7 \end{aligned}$$

	0	9		8	3
×		4	-	3	6
<hr/>			<hr/>		
	3	6		4	7

$$\begin{aligned} \textcircled{3} \quad & 6.5 + 16.6 \times 5 \\ & = 6.5 + 83 \\ & = 89.5 \end{aligned}$$

	1	6	6	
×			5	
<hr/>				
	8	3	0	

		6	5
+	8	3	0
<hr/>			
	8	9	5

$$\begin{aligned} \textcircled{4} \quad & 7.7 \times 9 - 7.6 \\ & = 69.3 - 7.6 \\ & = 61.7 \end{aligned}$$

	7	7
×		9
<hr/>		
	6	9.3

	6	9	3
-		7	6
<hr/>			
	6	1	7





小数のかけ算 10

● かけ算とたし算ひき算の
計算の順じよ



日にち： 月 日

名まえ _____

・ 次の計算をしましょう。

$$\begin{aligned} \textcircled{1} \quad & 6.5 - 1.8 \times 3 \\ & = 6.5 - 5.4 \\ & = 1.1 \end{aligned}$$

	1.8		6.5
×	3	-	5.4
5.4		1.1	

$$\begin{aligned} \textcircled{2} \quad & 2.5 \times 5 + 6 \\ & = 12.5 + 6 \\ & = 18.5 \end{aligned}$$

	2.5		12.5
×	5	+	6.0
12.5		18.5	

$$\begin{aligned} \textcircled{3} \quad & 4.2 + 29.1 \times 6 \\ & = 4.2 + 174.6 \\ & = 178.8 \end{aligned}$$

	29.1		4.2
×	6	+	174.6
174.6		178.8	

$$\begin{aligned} \textcircled{4} \quad & 3.7 \times 4 - 3.1 \\ & = 14.8 - 3.1 \\ & = 11.7 \end{aligned}$$

	3.7		14.8
×	4	-	3.1
14.8		11.7	





小数のかけ算 10

● かけ算とたし算ひき算の
計算の順じよ



日にち： 月 日

名まえ _____

・ 次の計算をしましょう。

$$\begin{aligned} \textcircled{1} \quad & 2.3 \times 4 + 7 \\ & = 9.2 + 7 \\ & = 16.2 \end{aligned}$$

	2.3		9.2
×	4	+	7.0
<hr/>		<hr/>	
	9.2		16.2

$$\begin{aligned} \textcircled{2} \quad & 6.3 - 1.6 \times 2 \\ & = 6.3 - 3.2 \\ & = 3.1 \end{aligned}$$

	1.6		6.3
×	2	-	3.2
<hr/>		<hr/>	
	3.2		3.1

$$\begin{aligned} \textcircled{3} \quad & 4.2 + 3 \times 3.6 \\ & = 4.2 + 10.8 \\ & = 15 \end{aligned}$$

	3.6		4.2
×	3	+	10.8
<hr/>		<hr/>	
	10.8		15.0

$$\begin{aligned} \textcircled{4} \quad & 8.9 \times 4 - 6.2 \\ & = 35.6 - 6.2 \\ & = 29.4 \end{aligned}$$

	8.9		3 5.6
×	4	-	6.2
<hr/>		<hr/>	
	35.6		29.4



小数のかけ算 10

● かけ算とたし算ひき算の
計算の順じよ



日にち： 月 日

名まえ _____

・ 次の計算をしましょう。

$$\begin{aligned} \textcircled{1} \quad & 7.2 - 1.3 \times 4 \\ & = 7.2 - 5.2 \\ & = 2 \end{aligned}$$

	1	3		7	2
×		4	-	5	2
		5	.	2	
				2	0

$$\begin{aligned} \textcircled{2} \quad & 2.7 \times 6 + 4 \\ & = 16.2 + 4 \\ & = 20.2 \end{aligned}$$

	2	7		1	6	2	
×		6	+		4	0	
		1	6	.	2		
				2	0	.	2

$$\begin{aligned} \textcircled{3} \quad & 8.6 + 16.8 \times 2 \\ & = 8.6 + 33.6 \\ & = 42.2 \end{aligned}$$

	1	6	.	8		
×				2		
		3	.	3	.	6

				8	.	6
+	3			3	.	6
		4		2	.	2

$$\begin{aligned} \textcircled{4} \quad & 3.6 \times 4 - 9.2 \\ & = 14.4 - 9.2 \\ & = 5.2 \end{aligned}$$

	3	.	6		
×			4		
		1	4	.	4

				4	.	4
-				9	.	2
				5	.	2





小数のかけ算 10

◎ かけ算とたし算ひき算の
計算の順じよ



日にち： 月 日

名まえ _____

・ 次の計算をしましょう。

$$\begin{aligned} \textcircled{1} \quad & 7.2 \times 3 + 4 \\ & = 21.6 + 4 \\ & = 25.6 \end{aligned}$$

	7	.	2		2	1	.	6
×			3	+		4	.	0
21.6				25.6				

$$\begin{aligned} \textcircled{2} \quad & 8.2 - 1.3 \times 4 \\ & = 8.2 - 5.2 \\ & = 3 \end{aligned}$$

	1	.	3		8	.	2
×			4	-	5	.	2
5.2				3.0			

$$\begin{aligned} \textcircled{3} \quad & 5.7 + 26.7 \times 5 \\ & = 5.7 + 133.5 \\ & = 139.2 \end{aligned}$$

	2	6	.	7
×				5
133.5				

				5	.	7
+	1	3	3	.	5	
139.2						

$$\begin{aligned} \textcircled{4} \quad & 1.6 \times 7 - 5.8 \\ & = 11.2 - 5.8 \\ & = 5.4 \end{aligned}$$

	1	.	6
×			7
11.2			

				1	.	2
-				5	.	8
5.4						





小数のかけ算 10

● かけ算とたし算ひき算の
計算の順じよ

15

目指せ75点!



名まえ _____

・ 次の計算をしましょう。(各25点)

$$\begin{aligned} \textcircled{1} \quad & 3.1 \times 8 - 5.3 \\ & = 24.8 - 5.3 \\ & = 19.5 \end{aligned}$$

$$\begin{array}{r} 3.1 \\ \times 8 \\ \hline 24.8 \end{array}$$

$$\begin{array}{r} 24.8 \\ - 5.3 \\ \hline 19.5 \end{array}$$

$$\begin{aligned} \textcircled{2} \quad & 4.4 + 17.5 \times 2 \\ & = 4.4 + 35 \\ & = 39.4 \end{aligned}$$

$$\begin{array}{r} 17.5 \\ \times 2 \\ \hline 35.0 \end{array}$$

$$\begin{array}{r} 4.4 \\ + 35.0 \\ \hline 39.4 \end{array}$$

$$\begin{aligned} \textcircled{3} \quad & 1.6 \times 2 + 6 \\ & = 3.2 + 6 \\ & = 9.2 \end{aligned}$$

$$\begin{array}{r} 1.6 \\ \times 2 \\ \hline 3.2 \end{array}$$

$$\begin{array}{r} 3.2 \\ + 6.0 \\ \hline 9.2 \end{array}$$

$$\begin{aligned} \textcircled{4} \quad & 7.4 - 1.7 \times 3 \\ & = 7.4 - 5.1 \\ & = 2.3 \end{aligned}$$

$$\begin{array}{r} 1.7 \\ \times 3 \\ \hline 5.1 \end{array}$$

$$\begin{array}{r} 7.4 \\ - 5.1 \\ \hline 2.3 \end{array}$$





小数のかけ算 10

◎ かけ算とたし算ひき算の
計算の順じよ

16

・ 次の計算をしましょう。(各25点)

$$\begin{aligned} \textcircled{1} \quad & 6.7 + 15.2 \times 4 \\ & = 6.7 + 60.8 \\ & = 67.5 \end{aligned}$$

$$\begin{array}{r} 15.2 \\ \times \quad 4 \\ \hline 60.8 \end{array}$$

$$\begin{array}{r} 6.7 \\ + 60.8 \\ \hline 67.5 \end{array}$$

$$\begin{aligned} \textcircled{2} \quad & 4.8 \times 3 - 5.8 \\ & = 14.4 - 5.8 \\ & = 8.6 \end{aligned}$$

$$\begin{array}{r} 4.8 \\ \times \quad 3 \\ \hline 14.4 \end{array}$$

$$\begin{array}{r} \cancel{1}^0 \cancel{4}^3 4 \\ - \quad 5.8 \\ \hline 8.6 \end{array}$$

$$\begin{aligned} \textcircled{3} \quad & 1.3 \times 4 + 7 \\ & = 5.2 + 7 \\ & = 12.2 \end{aligned}$$

$$\begin{array}{r} 1.3 \\ \times \quad 4 \\ \hline 5.2 \end{array}$$

$$\begin{array}{r} 5.2 \\ + 7.0 \\ \hline 12.2 \end{array}$$

$$\begin{aligned} \textcircled{4} \quad & 6.9 - 0.7 \times 6 \\ & = 6.9 - 4.2 \\ & = 2.7 \end{aligned}$$

$$\begin{array}{r} 0.7 \\ \times \quad 6 \\ \hline 4.2 \end{array}$$

$$\begin{array}{r} 6.9 \\ - 4.2 \\ \hline 2.7 \end{array}$$

