



小数のかけ算 10

● かけ算とたし算ひき算の
計算の順じょ



日にち： 月 日

名まえ _____

・ 次の計算をしましょう。(うすい字はなぞりましょう。)

$$\begin{aligned} \textcircled{1} & \quad 3.4 \times 6 + 7 \\ & = 20.4 + 7 \\ & = \end{aligned}$$

	3	4		2	0	4
×		6	+		7	○
	2	0				

$$\begin{aligned} \textcircled{2} & \quad 0.5 + 21.5 \times 7 \\ & = 0.5 + 150.5 \\ & = \end{aligned}$$

	2	1	5			0	5	
×			7	+	1	5	0	5
	1	5	0					

$$\begin{aligned} \textcircled{3} & \quad 2.4 \times 6 - 3.1 \\ & = \square \\ & = \end{aligned}$$

	2	4					
×		6					

$$\begin{aligned} \textcircled{4} & \quad 9.4 - 0.8 \times 5 \\ & = \\ & = \end{aligned}$$





小数のかけ算 10

● かけ算とたし算ひき算の
計算の順じよ



日にち： 月 日

名まえ _____

・ 次の計算をしましょう。(うすい字はなぞりましょう。)

$$\textcircled{1} \quad 5.8 \times 2 + 9$$

$$= 11.6 + 9$$

$$=$$

	5	8		1	1	6
×		2	+		9	○
	1	1				

$$\textcircled{2} \quad 3.2 + 42.1 \times 5$$

$$= 3.2 +$$

$$=$$

	4	2	1			3	2
×			5	+			

$$\textcircled{3} \quad 3.7 \times 5 - 8.5$$

$$=$$

$$=$$

×							

$$\textcircled{4} \quad 7.2 - 1.2 \times 3$$

$$=$$

$$=$$



小数のかけ算 10

● かけ算とたし算ひき算の
計算の順じよ



日にち： 月 日

名まえ _____

・ 次の計算をしましょう。(うすい字はなぞりましょう。)

$$\textcircled{1} \quad 5.2 \times 9 + 8$$

$$= 46.8 + 8$$

$$=$$

	5	2
×		9
4	6	8

	4	6	8
+			

$$\textcircled{2} \quad 1.8 + 38.1 \times 2$$

$$= 1.8 +$$

$$=$$

×			

$$\textcircled{3} \quad 1.7 \times 5 - 4.6$$

$$=$$

$$=$$

$$\textcircled{4} \quad 8.9 - 1.2 \times 5$$

$$=$$

$$=$$



小数のかけ算 10

● かけ算とたし算ひき算の
計算の順じよ



日にち： 月 日

名まえ _____

・ 次の計算をしましょう。(うすい字はなぞりましょう。)

① $3.1 \times 8 + 5$

$=$ $+ 5$
 $=$

	3	1			
×		8	+		

② $6.6 + 14.7 \times 5$

$=$ $+$
 $=$

③ $4.8 \times 9 - 9.2$

$=$
 $=$

④ $6.4 - 1.8 \times 3$

$=$
 $=$



小数のかけ算 10

● かけ算とたし算ひき算の
計算の順じよ



日にち： 月 日

名まえ _____

・ 次の計算をしましょう。(うすい字はなぞりましょう。)

① $1.8 \times 6 + 9$

= + 9

=

	1	8			
×		6	+	9	

② $1.6 + 15.6 \times 3$

= +

=

×					

③ $4.5 \times 4 - 2.2$

④ $8.7 - 1.6 \times 3$





小数のかけ算 10

● かけ算とたし算ひき算の
計算の順じよ



日にち： 月 日

名まえ _____

・ 次の計算をしましょう。(うすい字はなぞりましょう。)

① $1.8 \times 4 + 3$

= $\square + 3$

=

×		

+		

② $6.4 + 18.4 \times 2$

= $6.4 + \square$

=

③ $4.2 \times 8 - 5.9$

④ $8.3 - 0.8 \times 4$





小数のかけ算 10

● かけ算とたし算ひき算の
計算の順じよ



日にち： 月 日

名まえ _____

・ 次の計算をしましょう。(うすい字はなぞりましょう。)

① $2.6 \times 3 + 9$

= $\boxed{}$ +

=

×			

+			

② $4.6 + 2.8 \times 4$

=

=

③ $1.2 \times 7 - 5.1$

④ $7.6 - 1.3 \times 5$





小数のかけ算 10

● かけ算とたし算ひき算の
計算の順じよ




日にち： 月 日


名まえ _____

・ 次の計算をしましょう。


① $4.7 \times 7 + 6$




② $3.1 + 17.6 \times 5$



③ $6.8 \times 6 - 9.2$



④ $9.4 - 1.4 \times 6$





小数のかけ算 10

● かけ算とたし算ひき算の
計算の順じよ



日にち： 月 日

名まえ _____

・ 次の計算をしましょう。

① $6.1 \times 7 + 9$

② $1.7 + 15.3 \times 4$

③ $6.3 \times 3 - 9.6$

④ $6.2 - 0.3 \times 8$





小数のかけ算 10

● かけ算とたし算ひき算の
計算の順じょ



日にち： 月 日

名まえ _____

・ 次の計算をしましょう。

① $3.6 \times 2 + 4$

② $8.3 - 0.9 \times 4$

③ $6.5 + 16.6 \times 5$

--	--

④ $7.7 \times 9 - 7.6$

--	--





小数のかけ算 10

● かけ算とたし算ひき算の
計算の順じよ



日にち： 月 日

名まえ _____

・ 次の計算をしましょう。

① $6.5 - 1.8 \times 3$

② $2.5 \times 5 + 6$

③ $4.2 + 29.1 \times 6$

--	--

④ $3.7 \times 4 - 3.1$

--	--





小数のかけ算 10

● かけ算とたし算ひき算の
計算の順じよ



日にち： 月 日

名まえ _____

・ 次の計算をしましょう。

① $2.3 \times 4 + 7$

② $6.3 - 1.6 \times 2$

③ $4.2 + 3 \quad 3.6 \times 3$

--	--

④ $8.9 \times 4 - 6.2$

--	--





小数のかけ算 10

● かけ算とたし算ひき算の
計算の順じよ



日にち： 月 日

名まえ _____

・ 次の計算をしましょう。

① $7.2 - 1.3 \times 4$

② $2.7 \times 6 + 4$

③ $8.6 + 16.8 \times 2$

--	--

④ $3.6 \times 4 - 9.2$

--	--





小数のかけ算 10

● かけ算とたし算ひき算の
計算の順じよ



日にち： 月 日

名まえ _____

・ 次の計算をしましょう。

① $7.2 \times 3 + 4$

② $8.2 - 1.3 \times 4$

③ $5.7 + 26.7 \times 5$

--	--

④ $1.6 \times 7 - 5.8$

--	--





小数のかけ算 10

● かけ算とたし算ひき算の
計算の順じよ

15

目指せ75点!



名まえ

・ 次の計算をしましょう。(各25点)

① $3.1 \times 8 - 5.3$

② $4.4 + 17.5 \times 2$

③ $1.6 \times 2 + 6$

④ $7.4 - 1.7 \times 3$






小数のかけ算 10

● かけ算とたし算ひき算の
計算の順じよ

16

目指せ75点!



名まえ

・ 次の計算をしましょう。(各25点)

① $6.7 + 15.2 \times 4$

② $4.8 \times 3 - 5.8$

③ $1.3 \times 4 + 7$

④ $6.9 - 0.7 \times 6$





小数のかけ算 10

● かけ算とたし算ひき算の
計算の順じよ



日にち： 月 日

名まえ _____

・ 次の計算をしましょう。(うすい字はなぞりましょう。)

$$\begin{aligned} \textcircled{1} \quad & 3.4 \times 6 + 7 \\ & = 20.4 + 7 \\ & = 27.4 \end{aligned}$$

	3	.	4		2	0	.	4	
×			6	+			7	.	0

	2	0	.	4		2	7	.	4

$$\begin{aligned} \textcircled{2} \quad & 0.5 + 21.5 \times 7 \\ & = 0.5 + 150.5 \\ & = 151 \end{aligned}$$

	2	1	.	5				0	.	5	
×				7	+	1	5	0	.	5	

	1	5	0	.	5		1	5	1	.	0

$$\begin{aligned} \textcircled{3} \quad & 2.4 \times 6 - 3.1 \\ & = 14.4 - 3.1 \\ & = 11.3 \end{aligned}$$

	2	.	4		1	4	.	4	
×			6	-			3	.	1

	1	4	.	4		1	1	.	3

$$\begin{aligned} \textcircled{4} \quad & 9.4 - 0.8 \times 5 \\ & = 9.4 - 4 \\ & = 5.4 \end{aligned}$$

	0	8		9	.	4	
×			5	-	4	.	0

	4	.	0		5	.	4



小数のかけ算 10

● かけ算とたし算ひき算の
計算の順じよ



日にち： 月 日

名まえ _____

・ 次の計算をしましょう。(うすい字はなぞりましょう。)

$$\begin{aligned} \textcircled{1} \quad & 5.8 \times 2 + 9 \\ & = 11.6 + 9 \\ & = 20.6 \end{aligned}$$

	5	.	8		1	1	.	6	
×			2	+			9	.	0

	1	1	.	6					

					1	1	.	6	
+							9	.	0

					2	0	.	6	

$$\begin{aligned} \textcircled{2} \quad & 3.2 + 42.1 \times 5 \\ & = 3.2 + 210.5 \\ & = 213.7 \end{aligned}$$

	4	2	.	1						3	.	2		
×				5	+					2	1	0	.	5

	2	1	0	.	5					2	1	3	.	7

$$\begin{aligned} \textcircled{3} \quad & 3.7 \times 5 - 8.5 \\ & = 18.5 - 8.5 \\ & = 10 \end{aligned}$$

	3	7			1	8	.	5
×		5	-			8	.	5

	1	8	.	5				

					1	8	.	5
-						8	.	5

					1	0	.	0

$$\begin{aligned} \textcircled{4} \quad & 7.2 - 1.2 \times 3 \\ & = 7.2 - 3.6 \\ & = 3.6 \end{aligned}$$

	1	2			7	.	2	
×		3	-			3	.	6

		3	.	6				

					7	.	2	
-						3	.	6

					3	.	6	



小数のかけ算10

● かけ算とたし算ひき算の
計算の順じよ



日にち： 月 日

名まえ _____

・ 次の計算をしましょう。(うすい字はなぞりましょう。)

$$\begin{aligned} \textcircled{1} \quad & 5.2 \times 9 + 8 \\ & \quad \downarrow \\ & = 46.8 + 8 \\ & = 54.8 \end{aligned}$$

	5	.	2
×			9
<hr/>			
4	6	.	8

	4	6	.	8	
+			8	.	0
<hr/>					
	5	4	.	8	

$$\begin{aligned} \textcircled{2} \quad & 1.8 + 38.1 \times 2 \\ & \quad \downarrow \\ & = 1.8 + 76.2 \\ & = 78 \end{aligned}$$

	3	8	.	1
×				2
<hr/>				
	7	6	.	2

			1	.	8
+	7	6	.	2	
<hr/>					
	7	8	.	0	

$$\begin{aligned} \textcircled{3} \quad & 1.7 \times 5 - 4.6 \\ & \quad \downarrow \\ & = 8.5 - 4.6 \\ & = 3.9 \end{aligned}$$

	1	.	7
×			5
<hr/>			
8	.	5	

	8	.	5
-	4	.	6
<hr/>			
3	.	9	

$$\begin{aligned} \textcircled{4} \quad & 8.9 - 1.2 \times 5 \\ & = 8.9 - 6 \\ & = 2.9 \end{aligned}$$

	1	.	2
×			5
<hr/>			
6	.	0	

	8	.	9
-	6	.	0
<hr/>			
2	.	9	



小数のかけ算 10

○ かけ算とたし算ひき算の
計算の順じよ



日にち： 月 日

名まえ _____

・ 次の計算をしましょう。(うすい字はなぞりましょう。)

$$\begin{aligned} \textcircled{1} \quad & 3.1 \times 8 + 5 \\ & \downarrow \\ & = 24.8 + 5 \\ & = 29.8 \end{aligned}$$

	3	1		2	4	8
×		8	+		5	0
-----			-----			
	2	4		2	9	8

$$\begin{aligned} \textcircled{2} \quad & 6.6 + 14.7 \times 5 \\ & \downarrow \\ & = 6.6 + 73.5 \\ & = 80.1 \end{aligned}$$

	1	4	7		6	6	
×			5	+	7	3	5
-----				-----			
	7	3	5		8	0	1

$$\begin{aligned} \textcircled{3} \quad & 4.8 \times 9 - 9.2 \\ & \downarrow \\ & = 43.2 - 9.2 \\ & = 34 \end{aligned}$$

	4	8		4	3	2
×		9	-		9	2
-----			-----			
	4	3		3	4	0

$$\begin{aligned} \textcircled{4} \quad & 6.4 - 1.8 \times 3 \\ & = 6.4 - 5.4 \\ & = 1 \end{aligned}$$

	1	8		6	4
×		3	-	5	4
-----		-----			
	5	4		1	0



小数のかけ算 10

● かけ算とたし算ひき算の
計算の順じよ



日にち： 月 日

名まえ _____

・ 次の計算をしましょう。(うすい字はなぞりましょう。)

$$\begin{aligned} \textcircled{1} \quad & 1.8 \times 6 + 9 \\ & = 10.8 + 9 \\ & = 19.8 \end{aligned}$$

	1	8		1	0	8
×		6	+		9	0
10.8			19.8			

$$\begin{aligned} \textcircled{2} \quad & 1.6 + 15.6 \times 3 \\ & = 1.6 + 46.8 \\ & = 48.4 \end{aligned}$$

	1	5	6		1	6	
×			3	+	4	6	8
46.8				48.4			

$$\begin{aligned} \textcircled{3} \quad & 4.5 \times 4 - 2.2 \\ & = 18 - 2.2 \\ & = 15.8 \end{aligned}$$

	4	5		1	8	0
×		4	-		2	2
18.0			15.8			

$$\begin{aligned} \textcircled{4} \quad & 8.7 - 1.6 \times 3 \\ & = 8.7 - 4.8 \\ & = 3.9 \end{aligned}$$

	1	6		8	7
×		3	-	4	8
4.8			3.9		





小数のかけ算 10

● かけ算とたし算ひき算の
計算の順じよ



日にち： 月 日

名まえ _____

・ 次の計算をしましょう。(うすい字はなぞりましょう。)

$$\begin{aligned} \textcircled{1} \quad & 1.8 \times 4 + 3 \\ & = 7.2 + 3 \\ & = 10.2 \end{aligned}$$

	1	8		7	2
×		4	+	3	0
-----			-----		
	7	2		1	0
					2

$$\begin{aligned} \textcircled{2} \quad & 6.4 + 18.4 \times 2 \\ & = 6.4 + 36.8 \\ & = 43.2 \end{aligned}$$

	1	8	4		6	4
×			2	+	3	6
-----			-----			
	3	6	8		4	3
						2

$$\begin{aligned} \textcircled{3} \quad & 4.2 \times 8 - 5.9 \\ & = 33.6 - 5.9 \\ & = 27.7 \end{aligned}$$

	4	2		3	3	6
×		8	-		5	9
-----			-----			
	3	3	6		2	7
						7

$$\begin{aligned} \textcircled{4} \quad & 8.3 - 0.8 \times 4 \\ & = 8.3 - 3.2 \\ & = 5.1 \end{aligned}$$

	0	8		8	3
×		4	-	3	2
-----			-----		
	3	2		5	1





小数のかけ算 10

● かけ算とたし算ひき算の
計算の順じよ



日にち： 月 日

名まえ _____

・ 次の計算をしましょう。(うすい字はなぞりましょう。)

$$\begin{aligned} \textcircled{1} \quad & 2.6 \times 3 + 9 \\ & = 7.8 + 9 \\ & = 16.8 \end{aligned}$$

	2	6		7	8	
×		3	+	9	0	
-----			-----			
	7	8		1	6	8

$$\begin{aligned} \textcircled{2} \quad & 4.6 + 22.8 \times 4 \\ & = 4.6 + 91.2 \\ & = 95.8 \end{aligned}$$

	2	2	8		4	6	
×			4	+	9	1	2
-----				-----			
	9	1	2		9	5	8

$$\begin{aligned} \textcircled{3} \quad & 1.2 \times 7 - 5.1 \\ & = 8.4 - 5.1 \\ & = 3.3 \end{aligned}$$

	1	2		8	4
×		7	-	5	1
-----			-----		
	8	4		3	3

$$\begin{aligned} \textcircled{4} \quad & 7.6 - 1.3 \times 5 \\ & = 7.6 - 6.5 \\ & = 1.1 \end{aligned}$$

	1	3		7	6
×		5	-	6	5
-----			-----		
	6	5		1	1





小数のかけ算 10

● かけ算とたし算ひき算の
計算の順じよ



日にち： 月 日

名まえ _____

・ 次の計算をしましょう。

$$\begin{aligned} \textcircled{1} \quad & 4.7 \times 7 + 6 \\ & = 32.9 + 6 \\ & = 38.9 \end{aligned}$$

	4	.	7		3	2	.	9	
×			7	+		6	.	0	

	3	2	.	9		3	8	.	9

$$\begin{aligned} \textcircled{2} \quad & 3.1 + 17.6 \times 5 \\ & = 3.1 + 88 \\ & = 91.1 \end{aligned}$$

	1	7	.	6			3	.	1
×				5	+	8	8	.	0

	8	8	.	0		9	1	.	1

$$\begin{aligned} \textcircled{3} \quad & 6.8 \times 6 - 9.2 \\ & = 40.8 - 9.2 \\ & = 31.6 \end{aligned}$$

	6	8		4	0	.	8		
×		6		-	9	.	2		

	4	0	.	8		3	1	.	6

$$\begin{aligned} \textcircled{4} \quad & 9.4 - 1.4 \times 6 \\ & = 9.4 - 8.4 \\ & = 1 \end{aligned}$$

	1	4		9	4	
×		6		-	8	4

	8	4		1	0	





小数のかけ算 10

● かけ算とたし算ひき算の
計算の順じよ



日にち： 月 日

名まえ _____

・ 次の計算をしましょう。

$$\begin{aligned} \textcircled{1} \quad & 6.1 \times 7 + 9 \\ & = 42.7 + 9 \\ & = 51.7 \end{aligned}$$

	6	.	1			4	2	.	7
×			7		+		9	.	0
42.7				51.7					

$$\begin{aligned} \textcircled{2} \quad & 1.7 + 15.3 \times 4 \\ & = 1.7 + 61.2 \\ & = 62.9 \end{aligned}$$

	1	5	.	3			1	.	7
×			4		+	6	1	.	2
61.2				62.9					

$$\begin{aligned} \textcircled{3} \quad & 6.3 \times 3 - 9.6 \\ & = 18.9 - 9.6 \\ & = 9.3 \end{aligned}$$

	6	3			1	8	.	9
×		3		-		9	.	6
18.9				9.3				

$$\begin{aligned} \textcircled{4} \quad & 6.2 - 0.3 \times 8 \\ & = 6.2 - 2.4 \\ & = 3.8 \end{aligned}$$

	0	3			6	2
×		8		-	2	4
2.4			3.8			





小数のかけ算 10

● かけ算とたし算ひき算の
計算の順じよ



日にち： 月 日

名まえ _____

・ 次の計算をしましょう。

$$\begin{aligned} \textcircled{1} \quad & 3.6 \times 2 + 4 \\ & = 7.2 + 4 \\ & = 11.2 \end{aligned}$$

	3	6		7	2
×		2	+	4	0
<hr/>			<hr/>		
	7	2		1	2

$$\begin{aligned} \textcircled{2} \quad & 8.3 - 0.9 \times 4 \\ & = 8.3 - 3.6 \\ & = 4.7 \end{aligned}$$

	0	9		8	3
×		4	-	3	6
<hr/>			<hr/>		
	3	6		4	7

$$\begin{aligned} \textcircled{3} \quad & 6.5 + 16.6 \times 5 \\ & = 6.5 + 83 \\ & = 89.5 \end{aligned}$$

	1	6	6	
×			5	
<hr/>				
	8	3	0	

		6	5
+	8	3	0
<hr/>			
	8	9	5

$$\begin{aligned} \textcircled{4} \quad & 7.7 \times 9 - 7.6 \\ & = 69.3 - 7.6 \\ & = 61.7 \end{aligned}$$

	7	7
×		9
<hr/>		
	6	9.3

	6	9	3
-		7	6
<hr/>			
	6	1	7





小数のかけ算 10

● かけ算とたし算ひき算の
計算の順じよ



日にち： 月 日

名まえ _____

・ 次の計算をしましょう。

$$\begin{aligned} \textcircled{1} \quad & 6.5 - 1.8 \times 3 \\ & = 6.5 - 5.4 \\ & = 1.1 \end{aligned}$$

	1.8		6.5
×	3	-	5.4
5.4		1.1	

$$\begin{aligned} \textcircled{2} \quad & 2.5 \times 5 + 6 \\ & = 12.5 + 6 \\ & = 18.5 \end{aligned}$$

	2.5		12.5
×	5	+	6.0
12.5		18.5	

$$\begin{aligned} \textcircled{3} \quad & 4.2 + 29.1 \times 6 \\ & = 4.2 + 174.6 \\ & = 178.8 \end{aligned}$$

	29.1		4.2
×	6	+	174.6
174.6		178.8	

$$\begin{aligned} \textcircled{4} \quad & 3.7 \times 4 - 3.1 \\ & = 14.8 - 3.1 \\ & = 11.7 \end{aligned}$$

	3.7		14.8
×	4	-	3.1
14.8		11.7	





小数のかけ算 10

● かけ算とたし算ひき算の
計算の順じよ



日にち： 月 日

名まえ _____

・ 次の計算をしましょう。

$$\begin{aligned} \textcircled{1} \quad & 2.3 \times 4 + 7 \\ & = 9.2 + 7 \\ & = 16.2 \end{aligned}$$

	2.3		9.2
×	4	+	7.0
<hr/>		<hr/>	
	9.2		16.2

$$\begin{aligned} \textcircled{2} \quad & 6.3 - 1.6 \times 2 \\ & = 6.3 - 3.2 \\ & = 3.1 \end{aligned}$$

	1.6		6.3
×	2	-	3.2
<hr/>		<hr/>	
	3.2		3.1

$$\begin{aligned} \textcircled{3} \quad & 4.2 + 3 \times 3.6 \\ & = 4.2 + 10.8 \\ & = 15 \end{aligned}$$

	3.6		4.2
×	3	+	10.8
<hr/>		<hr/>	
	10.8		15.0

$$\begin{aligned} \textcircled{4} \quad & 8.9 \times 4 - 6.2 \\ & = 35.6 - 6.2 \\ & = 29.4 \end{aligned}$$

	8.9		3 5.6
×	4	-	6.2
<hr/>		<hr/>	
	35.6		29.4





小数のかけ算 10

● かけ算とたし算ひき算の
計算の順じよ



日にち： 月 日

名まえ _____

・ 次の計算をしましょう。

$$\begin{aligned} \textcircled{1} \quad & 7.2 - 1.3 \times 4 \\ & = 7.2 - 5.2 \\ & = 2 \end{aligned}$$

	1	3		7	2
×		4	-	5	2
<hr/>					
	5	2		2	0

$$\begin{aligned} \textcircled{2} \quad & 2.7 \times 6 + 4 \\ & = 16.2 + 4 \\ & = 20.2 \end{aligned}$$

	2	7		1	6	2	
×		6	+		4	0	
<hr/>							
	1	6	2		2	0	2

$$\begin{aligned} \textcircled{3} \quad & 8.6 + 16.8 \times 2 \\ & = 8.6 + 33.6 \\ & = 42.2 \end{aligned}$$

	1	6	8
×			2
<hr/>			
	3	3	6

		8	6
+	3	3	6
<hr/>			
	4	2	2

$$\begin{aligned} \textcircled{4} \quad & 3.6 \times 4 - 9.2 \\ & = 14.4 - 9.2 \\ & = 5.2 \end{aligned}$$

	3	6	
×		4	
<hr/>			
	1	4	4

		4	4
-		9	2
<hr/>			
		5	2





小数のかけ算 10

● かけ算とたし算ひき算の
計算の順じよ

15

目指せ75点!



名まえ _____

・ 次の計算をしましょう。(各25点)

$$\begin{aligned} \textcircled{1} \quad & 3.1 \times 8 - 5.3 \\ & = 24.8 - 5.3 \\ & = 19.5 \end{aligned}$$

$$\begin{array}{r} 3.1 \\ \times 8 \\ \hline 24.8 \end{array}$$

$$\begin{array}{r} 24.8 \\ - 5.3 \\ \hline 19.5 \end{array}$$

$$\begin{aligned} \textcircled{2} \quad & 4.4 + 17.5 \times 2 \\ & = 4.4 + 35 \\ & = 39.4 \end{aligned}$$

$$\begin{array}{r} 17.5 \\ \times 2 \\ \hline 35.0 \end{array}$$

$$\begin{array}{r} 4.4 \\ + 35.0 \\ \hline 39.4 \end{array}$$

$$\begin{aligned} \textcircled{3} \quad & 1.6 \times 2 + 6 \\ & = 3.2 + 6 \\ & = 9.2 \end{aligned}$$

$$\begin{array}{r} 1.6 \\ \times 2 \\ \hline 3.2 \end{array}$$

$$\begin{array}{r} 3.2 \\ + 6.0 \\ \hline 9.2 \end{array}$$

$$\begin{aligned} \textcircled{4} \quad & 7.4 - 1.7 \times 3 \\ & = 7.4 - 5.1 \\ & = 2.3 \end{aligned}$$

$$\begin{array}{r} 1.7 \\ \times 3 \\ \hline 5.1 \end{array}$$

$$\begin{array}{r} 7.4 \\ - 5.1 \\ \hline 2.3 \end{array}$$



小数のかけ算 10

◎ かけ算とたし算ひき算の
計算の順じよ

16

・ 次の計算をしましょう。(各25点)

$$\begin{aligned} \textcircled{1} \quad & 6.7 + 15.2 \times 4 \\ & = 6.7 + 60.8 \\ & = 67.5 \end{aligned}$$

$$\begin{array}{r} 15.2 \\ \times \quad 4 \\ \hline 620.8 \end{array}$$

$$\begin{array}{r} 6.7 \\ + 60.8 \\ \hline 67.5 \end{array}$$

$$\begin{aligned} \textcircled{2} \quad & 4.8 \times 3 - 5.8 \\ & = 14.4 - 5.8 \\ & = 8.6 \end{aligned}$$

$$\begin{array}{r} 4.8 \\ \times \quad 3 \\ \hline 14.4 \end{array}$$

$$\begin{array}{r} \cancel{1}^0 \cancel{4}^3 \cancel{4} \\ - \quad 5.8 \\ \hline 8.6 \end{array}$$

$$\begin{aligned} \textcircled{3} \quad & 1.3 \times 4 + 7 \\ & = 5.2 + 7 \\ & = 12.2 \end{aligned}$$

$$\begin{array}{r} 1.3 \\ \times \quad 4 \\ \hline 5.2 \end{array}$$

$$\begin{array}{r} 5.2 \\ + 7.0 \\ \hline 12.2 \end{array}$$

$$\begin{aligned} \textcircled{4} \quad & 6.9 - 0.7 \times 6 \\ & = 6.9 - 4.2 \\ & = 2.7 \end{aligned}$$

$$\begin{array}{r} 0.7 \\ \times \quad 6 \\ \hline 4.2 \end{array}$$

$$\begin{array}{r} 6.9 \\ - 4.2 \\ \hline 2.7 \end{array}$$

