



小数のかけ算 3

● くり上がりのある
帯小数 × 1けたの整数の筆算



日にち： 月 日

名まえ _____

・ 次の計算をしましょう。(うすい字はなぞりましょう。)

①

	3	6
×		2
<hr/>		
	7	2

②

	2	5
×		3
<hr/>		
	7	5

③

	1	4
×		6
<hr/>		

④

	3	4
×		3
<hr/>		

⑤

	1	8
×		4
<hr/>		

⑥

	6	9
×		2
<hr/>		

⑦ 5.5×9

	5	5
×		9
<hr/>		

⑧ 7.6×4

	7	6
×		4
<hr/>		

⑨ 9.5×3

×		
<hr/>		

⑩ 8.7×8

×		
<hr/>		

⑪ 2.6×6

×		
<hr/>		

⑫ 6.3×5

	6	3
×		5
<hr/>		



小数のかけ算 3

● くり上がりのある
帯小数 × 1けたの整数の筆算



日にち： 月 日

名まえ _____

・ 次の計算をしましょう。(うすい字はなぞりましょう。)

①

	5	8
×		7
<hr/>		
4	0	6

②

	8	8
×		6
<hr/>		

③

	7	3
×		8
<hr/>		

④

	9	2
×		8
<hr/>		

⑤

	6	8
×		6
<hr/>		

⑥

	8	3
×		6
<hr/>		

⑦ 4.9×6

	4	9
×		6
<hr/>		

⑧ 5.4×7

	5	4
×		7
<hr/>		

⑨ 4.9×2

×		
<hr/>		

⑩ 4.7×5

×		
<hr/>		

⑪ 3.6×9

×		
<hr/>		

⑫ 7.2×6

×		
<hr/>		





小数のかけ算 3

くり上がりのある
帯小数 × 1けたの整数の筆算



日にち： 月 日

名まえ _____

・ 次の計算をしましょう。(うすい字はなぞりましょう。)

①

	5	9
×		9

②

	3	2
×		8

		.

③

	6	7
×		3

④

	3	6
×		4

⑤

	9	2
×		7

⑥

	3	9
×		7

⑦ 3.5×7

	3	5
×		7

		.

⑧ 8.3×7

×		

⑨ 2.8×8

×		

⑩ 4.6×4

×		

⑪ 3.7×8

×		

⑫ 5.6×3

×		





小数のかけ算 3

● くり上がりのある
帯小数 × 1けたの整数の筆算



日にち： 月 日

名まえ _____

・ 次の計算をしましょう。(うすい字はなぞりましょう。)

①

	8	8
×		3

②

	9	6
×		3

		.

③

	7	4
×		6

④

	8	3
×		7

⑤

	8	2
×		6

⑥

	2	8
×		9

⑦ 4.8 × 9

	4	8
×		9

⑧ 7.6 × 8

×		

⑨ 4.5 × 5

×		

⑩ 6.4 × 4

×		

⑪ 9.8 × 4

⑫ 5.2 × 7





小数のかけ算 3

くり上がりのある
帯小数 × 1けたの整数の筆算



日にち： 月 日

名まえ _____

・ 次の計算をしましょう。(うすい字はなぞりましょう。)

①

	4	9
×		2

②

	3	8
×		9

③

	5	3
×		4

④

	8	4
×		7

⑤

	5	5
×		3

⑥

	4	3
×		6

⑦ 6.8 × 2

	6	8
×		2

⑧ 9.2 × 6

	9	2
×		6

⑨ 2.9 × 9

⑩ 2.4 × 6

⑪ 4.3 × 6

⑫ 5.7 × 2



小数のかけ算 ③

くり上がりのある
帯小数 × 1けたの整数の筆算



日にち： 月 日

名まえ _____

・ 次の計算をしましょう。(うすい字はなぞりましょう。)

①

	8	7
×		9

②

	4	2
×		7

③

	7	3
×		4

④

	3	7
×		3

⑤

	5	2
×		7

⑥

	3	7
×		7

⑦ 7.4 × 3

	7	4
×		3

⑧ 3.8 × 4

×		

⑨ 7.2 × 6

⑩ 6.9 × 2

⑪ 5.7 × 3

⑫ 6.4 × 4



小数のかけ算 ③

● くり上がりのある
帯小数 × 1けたの整数の筆算



日にち： 月 日

名まえ _____

・ 次の計算をしましょう。(うすい字はなぞりましょう。)

①

	2	8
×		6

②

	8	5
×		9

③

	2	9
×		9

④

	2	5
×		3

⑤

	4	6
×		8

⑥

	3	3
×		6

⑦ 7.4 × 7

×		

		2

⑧ 7.9 × 2

×		

⑨ 6.2 × 6

⑩ 2.8 × 3

⑪ 6.9 × 6

⑫ 5.7 × 8



小数のかけ算 ③

● くり上がりのある
帯小数 × 1けたの整数の筆算



日にち： 月 日

名まえ _____

・ 次の計算をしましょう。

①

	5	3
×		4

		.

②

	4	7
×		3

③

	9	7
×		4

④

	4	9
×		5

⑤

	8	7
×		5

⑥

	6	5
×		3

⑦ 4.7×2

⑧ 9.2×6

⑨ 8.3×4

⑩ 5.9×7

⑪ 2.2×7

⑫ 6.9×6



小数のかけ算 ③

● くり上がりのある
帯小数 × 1けたの整数の筆算



日にち： 月 日

名まえ _____

・ 次の計算をしましょう。

①

	2	2
×		9

		.

②

	9	4
×		7

③

	5	3
×		7

④

	6	4
×		4

⑤

	9	5
×		3

⑥

	5	2
×		6

⑦ 7.9×9

⑧ 5.5×9

⑨ 5.9×4

⑩ 6.8×4

⑪ 5.3×9

⑫ 7.9×5





小数のかけ算 3

● くり上がりのある
帯小数 × 1けたの整数の筆算



日にち： 月 日

名まえ _____

・ 次の計算をしましょう。

① $0.6 \times 2 =$

② $0.8 \times 4 =$

③ $0.2 \times 9 =$

④ $0.5 \times 5 =$

⑤

	7	9
×		2

⑥

	2	1
×		9

⑦

	5	2
×		6

⑧ 9.2×8

⑨ 5.7×3

⑩ 7.2×7

⑪ 8.1×3

⑫ 2.8×4

⑬ 7.3×2



小数のかけ算 3

● くり上がりのある
帯小数 × 1けたの整数の筆算



日にち： 月 日

名まえ _____

・ 次の計算をしましょう。

① $0.1 \times 8 =$

② $0.6 \times 6 =$

③ $0.4 \times 9 =$

④ $0.4 \times 7 =$

⑤

	3	8
×		9
<hr/>		

⑥

	8	9
×		5
<hr/>		

⑦

	2	6
×		8
<hr/>		

⑧ 2.7×7

⑨ 5.2×3

⑩ 5.9×6

⑪ 7.1×9

⑫ 6.4×4

⑬ 5.1×6





小数のかけ算 3

くり上がりのある
帯小数 × 1けたの整数の筆算



日にち： 月 日

名まえ _____

・ 次の計算をしましょう。

① $0.2 \times 1 =$

② $0.3 \times 6 =$

③ $0.9 \times 7 =$

④ $0.8 \times 4 =$

⑤

	3	2
×		2

⑥

	7	9
×		7

⑦

	6	1
×		4

⑧ 8.9×4

⑨ 4.9×8

⑩ 5.7×7

⑪ 9.1×5

⑫ 3.6×3

⑬ 5.6×3





小数のかけ算 3

● くり上がりのある
帯小数 × 1けたの整数の筆算



日にち： 月 日

名まえ _____

・ 次の計算をしましょう。

① $0.8 \times 9 =$

② $0.5 \times 7 =$

③ $0.3 \times 2 =$

④ $0.6 \times 3 =$

⑤

	7	9
×		3

⑥

	8	6
×		2

⑦

	1	2
×		4

⑧ 6.4×7

⑨ 5.8×4

⑩ 3.8×7

⑪ 6.7×2

⑫ 4.2×3

⑬ 6.9×2





小数のかけ算 3

● くり上がりのある
帯小数 × 1けたの整数の筆算



日にち： 月 日

名まえ _____

・ 次の計算をしましょう。

① $0.8 \times 9 =$

② $0.5 \times 5 =$

③ $0.9 \times 3 =$

④ $0.7 \times 6 =$

⑤

	1	6
×		3
<hr/>		

⑥

	8	3
×		2
<hr/>		

⑦

	3	9
×		8
<hr/>		

⑧ 2.3×4

⑨ 6.7×5

⑩ 9.3×3

⑪ 4.5×7

⑫ 7.5×9

⑬ 8.2×4





小数のかけ算 3

◎ くり上がりのある
帯小数 × 1けたの整数の筆算



目指せ90点!



名まえ _____

・ 次の計算をしましょう。(各10点)

① $0.5 \times 9 =$

② $0.4 \times 8 =$

③ $0.6 \times 2 =$

④ $0.7 \times 3 =$


⑤ 9.2×9




⑥ 7.8×3



⑦ 9.2×4




⑧ 8.2×4



⑨ 5.8×7



⑩ 5.9×2





小数のかけ算 3

◎ くり上がりのある
帯小数 × 1けたの整数の筆算



目指せ90点!



名まえ _____

・ 次の計算をしましょう。(各10点)

① $0.9 \times 1 =$

② $0.7 \times 7 =$

③ $0.2 \times 6 =$

④ $0.4 \times 8 =$


⑤ 4.3×2




⑥ 7.9×4




⑦ 4.2×4



⑧ 1.8×6



⑨ 3.3×5



⑩ 9.2×3





小数のかけ算 3

● くり上がりのある
帯小数 × 1けたの整数の筆算



日にち： 月 日

名まえ _____

・ 次の計算をしましょう。(うすい字はなぞりましょう。)

①

	3	.	6
×			2
<hr/>			
	7	.	2

②

	2	.	5
×			3
<hr/>			
	7	.	5

③

	1	.	4
×			6
<hr/>			
	8	.	4

④

	3	.	4	
×			3	
<hr/>				
	1	0	.	2

⑤

	1	.	8
×			4
<hr/>			
	7	.	2

⑥

	6	.	9	
×			2	
<hr/>				
	1	3	.	8

⑦ 5.5×9

	5	.	5	
×			9	
<hr/>				
	4	9	.	5

⑧ 7.6×4

	7	.	6	
×			4	
<hr/>				
	3	0	.	4

⑨ 9.5×3

	9	.	5	
×			3	
<hr/>				
	2	8	.	5

⑩ 8.7×8

	8	.	7	
×			8	
<hr/>				
	6	9	.	6

⑪ 2.6×6

	2	.	6	
×			6	
<hr/>				
	1	5	.	6

⑫ 6.3×5

	6	.	3	
×			5	
<hr/>				
	3	1	.	5





小数のかけ算 3

● くり上がりのある
帯小数 × 1けたの整数の筆算



日にち： 月 日

名まえ _____

・ 次の計算をしましょう。(うすい字はなぞりましょう。)

①

	5	.	8
×			7
<hr/>			
4	0	.	6

②

	8	.	8
×			6
<hr/>			
5	2	.	8

③

	7	.	3
×			8
<hr/>			
5	8	.	4

④

	9	.	2
×			8
<hr/>			
7	3	.	6

⑤

	6	.	8
×			6
<hr/>			
4	0	.	8

⑥

	8	.	3
×			6
<hr/>			
4	9	.	8

⑦ 4.9×6

	4	.	9
×			6
<hr/>			
2	9	.	4

⑧ 5.4×7

	5	.	4
×			7
<hr/>			
3	7	.	8

⑨ 4.9×2

	4	.	9
×			2
<hr/>			
	9	.	8

⑩ 4.7×5

	4	.	7
×			5
<hr/>			
2	3	.	5

⑪ 3.6×9

	3	.	6
×			9
<hr/>			
3	2	.	4

⑫ 7.2×6

	7	.	2
×			6
<hr/>			
4	3	.	2





小数のかけ算 3

くり上がりのある
帯小数 × 1けたの整数の筆算



日にち： 月 日

名まえ _____

・ 次の計算をしましょう。(うすい字はなぞりましょう。)

①

	5	.	9
×			9
<hr/>			
5	3	.	1

②

	3	.	2
×			8
<hr/>			
2	5	.	6

③

	6	.	7
×			3
<hr/>			
2	0	.	1

④

	3	.	6
×			4
<hr/>			
1	4	.	4

⑤

	9	.	2
×			7
<hr/>			
6	4	.	4

⑥

	3	.	9
×			7
<hr/>			
2	7	.	3

⑦ 3.5 × 7

	3	.	5
×			7
<hr/>			
2	4	.	5

⑧ 8.3 × 7

	8	.	3
×			7
<hr/>			
5	8	.	1

⑨ 2.8 × 8

	2	.	8
×			8
<hr/>			
2	2	.	4

⑩ 4.6 × 4

	4	.	6
×			4
<hr/>			
1	8	.	4

⑪ 3.7 × 8

	3	.	7
×			8
<hr/>			
2	9	.	6

⑫ 5.6 × 3

	5	.	6
×			3
<hr/>			
1	6	.	8





小数のかけ算 3

くり上がりのある
帯小数 × 1けたの整数の筆算



日にち： 月 日

名まえ _____

・ 次の計算をしましょう。(うすい字はなぞりましょう。)

$$\begin{array}{r} \textcircled{1} \quad \quad 8.8 \\ \times \quad \quad 3 \\ \hline 26.4 \end{array}$$

$$\begin{array}{r} \textcircled{2} \quad \quad 9.6 \\ \times \quad \quad 3 \\ \hline 28.8 \end{array}$$

$$\begin{array}{r} \textcircled{3} \quad \quad 7.4 \\ \times \quad \quad 6 \\ \hline 44.4 \end{array}$$

$$\begin{array}{r} \textcircled{4} \quad \quad 8.3 \\ \times \quad \quad 7 \\ \hline 58.1 \end{array}$$

$$\begin{array}{r} \textcircled{5} \quad \quad 8.2 \\ \times \quad \quad 6 \\ \hline 49.2 \end{array}$$

$$\begin{array}{r} \textcircled{6} \quad \quad 2.8 \\ \times \quad \quad 9 \\ \hline 25.2 \end{array}$$

⑦ 4.8×9

$$\begin{array}{r} \quad \quad 4.8 \\ \times \quad \quad 9 \\ \hline 43.2 \end{array}$$

⑧ 7.6×8

$$\begin{array}{r} \quad \quad 7.6 \\ \times \quad \quad 8 \\ \hline 60.8 \end{array}$$

⑨ 4.5×5

$$\begin{array}{r} \quad \quad 4.5 \\ \times \quad \quad 5 \\ \hline 22.5 \end{array}$$

⑩ 6.4×4

$$\begin{array}{r} \quad \quad 6.4 \\ \times \quad \quad 4 \\ \hline 25.6 \end{array}$$

⑪ 9.8×4

$$\begin{array}{r} \quad \quad 9.8 \\ \times \quad \quad 4 \\ \hline 39.2 \end{array}$$

⑫ 5.2×7

$$\begin{array}{r} \quad \quad 5.2 \\ \times \quad \quad 7 \\ \hline 36.4 \end{array}$$





小数のかけ算 3

● くり上がりのある
帯小数 × 1けたの整数の筆算



日にち： 月 日

名まえ _____

・ 次の計算をしましょう。(うすい字はなぞりましょう。)

①

	4	9
×		2
<hr/>		
	9	8

②

	3	8
×		9
<hr/>		
3	4	2

③

	5	3
×		4
<hr/>		
2	1	2

④

	8	4
×		7
<hr/>		
5	8	8

⑤

	5	5
×		3
<hr/>		
1	6	5

⑥

	4	3
×		6
<hr/>		
2	5	8

⑦ 6.8 × 2

	6	8
×		2
<hr/>		
1	3	6

⑧ 9.2 × 6

	9	2
×		6
<hr/>		
5	5	2

⑨ 2.9 × 9

	2	9
×		9
<hr/>		
2	6	1

⑩ 2.4 × 6

	2	4
×		6
<hr/>		
1	4	4

⑪ 4.3 × 6

	4	3
×		6
<hr/>		
2	5	8

⑫ 5.7 × 2

	5	7
×		2
<hr/>		
1	1	4





小数のかけ算 ③

● くり上がりのある
帯小数 × 1けたの整数の筆算



日にち： 月

名まえ _____

・ 次の計算をしましょう。(うすい字はなぞりましょう。)

$$\begin{array}{r} 8.7 \\ \times 9 \\ \hline 78.3 \end{array}$$

$$\begin{array}{r} 4.2 \\ \times 7 \\ \hline 29.4 \end{array}$$

$$\begin{array}{r} 7.3 \\ \times 4 \\ \hline 29.2 \end{array}$$

$$\begin{array}{r} 3.7 \\ \times 3 \\ \hline 11.1 \end{array}$$

$$\begin{array}{r} 5.2 \\ \times 7 \\ \hline 36.4 \end{array}$$

$$\begin{array}{r} 3.7 \\ \times 7 \\ \hline 25.9 \end{array}$$

⑦ 7.4×3

$$\begin{array}{r} 7.4 \\ \times 3 \\ \hline 22.2 \end{array}$$

⑧ 3.8×4

$$\begin{array}{r} 3.8 \\ \times 4 \\ \hline 15.2 \end{array}$$

⑨ 7.2×6

$$\begin{array}{r} 7.2 \\ \times 6 \\ \hline 43.2 \end{array}$$

⑩ 6.9×2

$$\begin{array}{r} 6.9 \\ \times 2 \\ \hline 13.8 \end{array}$$

⑪ 5.7×3

$$\begin{array}{r} 5.7 \\ \times 3 \\ \hline 17.1 \end{array}$$

⑫ 6.4×4

$$\begin{array}{r} 6.4 \\ \times 4 \\ \hline 25.6 \end{array}$$





小数のかけ算 ③

● くり上がりのある
帯小数 × 1けたの整数の筆算



日にち： 月 日

名まえ _____

・ 次の計算をしましょう。(うすい字はなぞりましょう。)

①

	2	8
×		6
<hr/>		
1	6	8

②

	8	5
×		9
<hr/>		
7	6	5

③

	2	9
×		9
<hr/>		
2	6	1

④

	2	5
×		3
<hr/>		
	7	5

⑤

	4	6
×		8
<hr/>		
3	6	8

⑥

	3	3
×		6
<hr/>		
1	9	8

⑦ 7.4 × 7

	7	4
×		7
<hr/>		
5	1	8

⑧ 7.9 × 2

	7	9
×		2
<hr/>		
1	5	8

⑨ 6.2 × 6

	6	2
×		6
<hr/>		
3	7	2

⑩ 2.8 × 3

	2	8
×		3
<hr/>		
	8	4

⑪ 6.9 × 6

	6	9
×		6
<hr/>		
4	1	4

⑫ 5.7 × 8

	5	7
×		8
<hr/>		
4	5	6





小数のかけ算 ③

● くり上がりのある
帯小数 × 1けたの整数の筆算



日にち： 月 日

名まえ _____

・ 次の計算をしましょう。

$$\begin{array}{r} \text{①} \quad \quad 5.3 \\ \times \quad \quad 4 \\ \hline 21.2 \end{array}$$

$$\begin{array}{r} \text{②} \quad \quad 4.7 \\ \times \quad \quad 3 \\ \hline 14.1 \end{array}$$

$$\begin{array}{r} \text{③} \quad \quad 9.7 \\ \times \quad \quad 4 \\ \hline 38.8 \end{array}$$

$$\begin{array}{r} \text{④} \quad \quad 4.9 \\ \times \quad \quad 5 \\ \hline 24.5 \end{array}$$

$$\begin{array}{r} \text{⑤} \quad \quad 8.7 \\ \times \quad \quad 5 \\ \hline 43.5 \end{array}$$

$$\begin{array}{r} \text{⑥} \quad \quad 6.5 \\ \times \quad \quad 3 \\ \hline 19.5 \end{array}$$

⑦ 4.7×2

$$\begin{array}{r} \quad 4.7 \\ \times \quad 2 \\ \hline 9.4 \end{array}$$

⑧ 9.2×6

$$\begin{array}{r} \quad 9.2 \\ \times \quad 6 \\ \hline 55.2 \end{array}$$

⑨ 8.3×4

$$\begin{array}{r} \quad 8.3 \\ \times \quad 4 \\ \hline 33.2 \end{array}$$

⑩ 5.9×7

$$\begin{array}{r} \quad 5.9 \\ \times \quad 7 \\ \hline 41.3 \end{array}$$

⑪ 2.2×7

$$\begin{array}{r} \quad 2.2 \\ \times \quad 7 \\ \hline 15.4 \end{array}$$

⑫ 6.9×6

$$\begin{array}{r} \quad 6.9 \\ \times \quad 6 \\ \hline 41.4 \end{array}$$





小数のかけ算 ③

● くり上がりのある
帯小数 × 1けたの整数の筆算



日にち： 月 日

名まえ _____

・ 次の計算をしましょう。

$$\begin{array}{r} \text{①} \quad \quad 2.2 \\ \times \quad \quad 9 \\ \hline 19.8 \end{array}$$

$$\begin{array}{r} \text{②} \quad \quad 9.4 \\ \times \quad \quad 7 \\ \hline 65.8 \end{array}$$

$$\begin{array}{r} \text{③} \quad \quad 5.3 \\ \times \quad \quad 7 \\ \hline 37.1 \end{array}$$

$$\begin{array}{r} \text{④} \quad \quad 6.4 \\ \times \quad \quad 4 \\ \hline 25.6 \end{array}$$

$$\begin{array}{r} \text{⑤} \quad \quad 9.5 \\ \times \quad \quad 3 \\ \hline 28.5 \end{array}$$

$$\begin{array}{r} \text{⑥} \quad \quad 5.2 \\ \times \quad \quad 6 \\ \hline 31.2 \end{array}$$

⑦ 7.9×9

$$\begin{array}{r} \quad 7.9 \\ \times \quad 9 \\ \hline 71.1 \end{array}$$

⑧ 5.5×9

$$\begin{array}{r} \quad 5.5 \\ \times \quad 9 \\ \hline 49.5 \end{array}$$

⑨ 5.9×4

$$\begin{array}{r} \quad 5.9 \\ \times \quad 4 \\ \hline 23.6 \end{array}$$

⑩ 6.8×4

$$\begin{array}{r} \quad 6.8 \\ \times \quad 4 \\ \hline 27.2 \end{array}$$

⑪ 5.3×9

$$\begin{array}{r} \quad 5.3 \\ \times \quad 9 \\ \hline 47.7 \end{array}$$

⑫ 7.9×5

$$\begin{array}{r} \quad 7.9 \\ \times \quad 5 \\ \hline 39.5 \end{array}$$





小数のかけ算 3

くり上がりのある
帯小数 × 1けたの整数の筆算



日にち： 月 日

名まえ _____

・ 次の計算をしましょう。

① $0.6 \times 2 = 1.2$

② $0.8 \times 4 = 3.2$

③ $0.2 \times 9 = 1.8$

④ $0.5 \times 5 = 2.5$

⑤		7	.	9	
	×			2	
<hr/>					
		1	5	.	8

⑥		2	.	1	
	×			9	
<hr/>					
		1	8	.	9

⑦		5	.	2	
	×			6	
<hr/>					
		3	1	.	2

⑧ 9.2×8

		9	.	2	
	×			8	
<hr/>					
		7	3	.	6

⑨ 5.7×3

		5	.	7	
	×			3	
<hr/>					
		1	7	.	1

⑩ 7.2×7

		7	.	2	
	×			7	
<hr/>					
		5	0	.	4

⑪ 8.1×3

		8	.	1	
	×			3	
<hr/>					
		2	4	.	3

⑫ 2.8×4

		2	.	8	
	×			4	
<hr/>					
		1	1	.	2

⑬ 7.3×2

		7	.	3	
	×			2	
<hr/>					
		1	4	.	6





小数のかけ算 3

● くり上がりのある
帯小数 × 1けたの整数の筆算



日にち： 月 日

名まえ _____

・ 次の計算をしましょう。

① $0.1 \times 8 = 0.8$

② $0.6 \times 6 = 3.6$

③ $0.4 \times 9 = 3.6$

④ $0.4 \times 7 = 2.8$

⑤		3	.	8
	×			9
<hr/>				
		3	4	.2

⑥		8	.	9
	×			5
<hr/>				
		4	4	.5

⑦		2	.	6
	×			8
<hr/>				
		2	0	.8

⑧ 2.7×7

		2	.	7
	×			7
<hr/>				
		1	8	.9

⑨ 5.2×3

		5	.	2
	×			3
<hr/>				
		1	5	.6

⑩ 5.9×6

		5	.	9
	×			6
<hr/>				
		3	5	.4

⑪ 7.1×9

		7	.	1
	×			9
<hr/>				
		6	3	.9

⑫ 6.4×4

		6	.	4
	×			4
<hr/>				
		2	5	.6

⑬ 5.1×6

		5	.	1
	×			6
<hr/>				
		3	0	.6





小数のかけ算 3

くり上がりのある
帯小数 × 1けたの整数の筆算



日にち： 月 日

名まえ _____

・ 次の計算をしましょう。

① $0.2 \times 1 = 0.2$

② $0.3 \times 6 = 1.8$

③ $0.9 \times 7 = 6.3$

④ $0.8 \times 4 = 3.2$

⑤		3	2
	×		2
			4
		6	4

⑥		7	9
	×		7
		5	3
		5	3

⑦		6	1
	×		4
		2	4
		2	4

⑧ 8.9×4

		8	9
	×		4
		3	6
		3	6

⑨ 4.9×8

		4	9
	×		8
		3	2
		3	2

⑩ 5.7×7

		5	7
	×		7
		3	9
		3	9

⑪ 9.1×5

		9	1
	×		5
		4	5
		4	5

⑫ 3.6×3

		3	6
	×		3
		1	0
		1	0

⑬ 5.6×3

		5	6
	×		3
		1	6
		1	6





小数のかけ算 3

くり上がりのある
帯小数 × 1けたの整数の筆算



日にち： 月 日

名まえ _____

・ 次の計算をしましょう。

① $0.8 \times 9 = 7.2$

② $0.5 \times 7 = 3.5$

③ $0.3 \times 2 = 0.6$

④ $0.6 \times 3 = 1.8$

⑤		7	9
	×		3
<hr/>			
		2	3 ² 7

⑥		8	6
	×		2
<hr/>			
		1	7 ¹ 2

⑦		1	2
	×		4
<hr/>			
		4	8

⑧ 6.4×7

		6	4
	×		7
<hr/>			
		4	4 ² 8

⑨ 5.8×4

		5	8
	×		4
<hr/>			
		2	3 ³ 2

⑩ 3.8×7

		3	8
	×		7
<hr/>			
		2	6 ⁵ 6

⑪ 6.7×2

		6	7
	×		2
<hr/>			
		1	3 ¹ 4

⑫ 4.2×3

		4	2
	×		3
<hr/>			
		1	2 ¹ 6

⑬ 6.9×2

		6	9
	×		2
<hr/>			
		1	3 ¹ 8





小数のかけ算 3

くり上がりのある
帯小数 × 1けたの整数の筆算



日にち： 月 日

名まえ _____

・ 次の計算をしましょう。

① $0.8 \times 9 = 7.2$

② $0.5 \times 5 = 2.5$

③ $0.9 \times 3 = 2.7$

④ $0.7 \times 6 = 4.2$

⑤		1	.	6
	×			3
<hr/>				
		4	.	8

⑥		8	.	3	
	×			2	
<hr/>					
		1	6	.	6

⑦		3	.	9	
	×			8	
<hr/>					
		3	1	.	2

⑧ 2.3×4

		2	.	3
	×			4
<hr/>				
		9	.	2

⑨ 6.7×5

		6	.	7	
	×			5	
<hr/>					
		3	3	.	5

⑩ 9.3×3

		9	.	3	
	×			3	
<hr/>					
		2	7	.	9

⑪ 4.5×7

		4	.	5	
	×			7	
<hr/>					
		3	1	.	5

⑫ 7.5×9

		7	.	5	
	×			9	
<hr/>					
		6	7	.	5

⑬ 8.2×4

		8	.	2	
	×			4	
<hr/>					
		3	2	.	8






小数のかけ算 3

◎ くり上がりのある
帯小数 × 1けたの整数の筆算

15

目指せ90点!



名まえ _____

・ 次の計算をしましょう。(各10点)

① $0.5 \times 9 = 4.5$

② $0.4 \times 8 = 3.2$

③ $0.6 \times 2 = 1.2$

④ $0.7 \times 3 = 2.1$

⑤ 9.2×9

	9	2
×		9
<hr/>		
8	2	8

⑥ 7.8×3

	7	8
×		3
<hr/>		
2	3	4

⑦ 9.2×4

	9	2
×		4
<hr/>		
3	6	8

⑧ 8.2×4

	8	2
×		4
<hr/>		
3	2	8

⑨ 5.8×7

	5	8
×		7
<hr/>		
4	0	6

⑩ 5.9×2

	5	9
×		2
<hr/>		
1	1	8




小数のかけ算 3

◎ くり上がりのある
帯小数 × 1けたの整数の筆算



目指せ90点!



名まえ _____

・ 次の計算をしましょう。(各10点)

① $0.9 \times 1 = 0.9$

② $0.7 \times 7 = 4.9$

③ $0.2 \times 6 = 1.2$

④ $0.4 \times 8 = 3.2$

⑤ 4.3×2

	4	3
×		2
<hr/>		
	8	6

⑥ 7.9×4

	7	9
×		4
<hr/>		
3	1	6

⑦ 4.2×4

	4	2
×		4
<hr/>		
1	6	8

⑧ 1.8×6

	1	8
×		6
<hr/>		
1	0	8

⑨ 3.3×5

	3	3
×		5
<hr/>		
1	6	5

⑩ 9.2×3

	9	2
×		3
<hr/>		
2	7	6

