



# 小数のかけ算 6

● 末尾が0になる  
小数 × 2けたの整数



日にち：            月            日

名まえ \_\_\_\_\_

・ 次の計算をしましょう。(うすい字はなぞりましょう。)

①

		2.8	
	×	45	
		140	
		112	
		1260	

②

		6.4	
	×	75	
		320	
		448	

③

		4.5	
	×	28	

④  $4.4 \times 25$

		44	
	×	25	
		220	
		88	

⑤  $8.4 \times 25$

		84	
	×	25	

⑥  $3.4 \times 75$

	×		

⑦  $0.8 \times 45$

	×		

⑧  $0.5 \times 56$

	×		

⑨  $0.6 \times 75$

	×		



# 小数のかけ算 6

● 末尾が0になる  
小数 × 2けたの整数



日にち：            月            日

名まえ \_\_\_\_\_

・ 次の計算をしましょう。(うすい字はなぞりましょう。)

①

		8	.	8
	×	3	5	
		4	4	0
		2	6	4

②

		6	.	5
	×	2	4	

③

		4	.	4
	×	3	5	

④  $3.2 \times 75$

		3	.	2
	×	7	5	

⑤  $5.5 \times 56$

		5	.	5
	×	5	6	

⑥  $3.8 \times 75$

			.	
	×			

⑦  $0.6 \times 85$

			.	
	×			

⑧  $0.8 \times 25$

			.	
	×			

⑨  $0.5 \times 56$

			.	
	×			



# 小数のかけ算 6

● 末尾が0になる  
小数 × 2けたの整数



日にち：            月            日

名まえ \_\_\_\_\_

・ 次の計算をしましょう。(うすい字はなぞりましょう。)

①

		4.5	
	×	64	
<hr/>			

②

		5.2	
	×	45	
<hr/>			

③

		8.4	
	×	25	
<hr/>			

④  $9.6 \times 15$

		9.6	
	×	15	
<hr/>			

⑤  $6.5 \times 42$

	×		
<hr/>			

⑥  $8.6 \times 25$

	×		
<hr/>			

⑦  $0.4 \times 95$

	×		
<hr/>			

⑧  $0.5 \times 76$


⑨  $0.2 \times 85$

	×		
<hr/>			



# 小数のかけ算 6

● 末尾が0になる  
小数 × 2けたの整数



日にち：            月            日

名まえ \_\_\_\_\_

・ 次の計算をしましょう。(うすい字はなぞりましょう。)

①

		3.4
	×	85
<hr/>		

②

		6.5
	×	28
<hr/>		

③

		5.6
	×	75
<hr/>		

④ 7.5 × 24

		7.5
	×	24
<hr/>		

⑤ 9.2 × 15

	×	
<hr/>		

⑥ 9.5 × 16

	×	
<hr/>		

⑦ 0.6 × 75

	×	
<hr/>		

⑧ 0.5 × 84


⑨ 0.8 × 45

	×	
<hr/>		



# 小数のかけ算 6

● 末尾が0になる  
小数 × 2けたの整数



日にち：            月            日

名まえ \_\_\_\_\_

・ 次の計算をしましょう。(うすい字はなぞりましょう。)

①

		8.8
	×	35
<hr/>		

②

		3.5
	×	46
<hr/>		

③

		1.5
	×	72
<hr/>		

④  $4.8 \times 25$

		4.8
	×	25
<hr/>		

⑤  $5.2 \times 25$

		5.2
	×	25
<hr/>		

⑥  $1.5 \times 86$

	×	
<hr/>		

⑦  $0.5 \times 74$


⑧  $0.8 \times 35$


⑨  $0.4 \times 95$




# 小数のかけ算 6

● 末尾が0になる  
小数 × 2けたの整数



日にち：            月            日

名まえ \_\_\_\_\_

・ 次の計算をしましょう。(うすい字はなぞりましょう。)

①

		2	.	8
	×	6	5	
<hr/>				

②

		7	.	5
	×	3	4	
<hr/>				

③

		6	.	4
	×	2	5	
<hr/>				

④  $2.6 \times 95$

		2	.	6
	×	9	5	
<hr/>				

⑤  $4.5 \times 68$

	×			
<hr/>				

⑥  $3.4 \times 75$

	×			
<hr/>				

⑦  $0.4 \times 95$

	×			
<hr/>				

⑧  $0.5 \times 92$

	×			
<hr/>				

⑨  $0.6 \times 75$

	×			
<hr/>				



# 小数のかけ算 6

● 末尾が0になる  
小数 × 2けたの整数



日にち：            月            日

名まえ \_\_\_\_\_

・ 次の計算をしましょう。(うすい字はなぞりましょう。)

①

		7	.	2
	×	2	5	
<hr/>				

②

		3	.	5
	×	8	2	
<hr/>				

③

		8	.	8
	×	4	5	
<hr/>				

④  $4.6 \times 55$

	×			
<hr/>				

⑤  $8.5 \times 62$

	×			
<hr/>				

⑥  $4.2 \times 65$

	×			
<hr/>				

⑦  $0.8 \times 75$

	×			
<hr/>				

⑧  $0.5 \times 68$

	×			
<hr/>				

⑨  $0.4 \times 95$

	×			
<hr/>				







# 小数のかけ算 6

● 末尾が0になる  
小数 × 2けたの整数



日にち：            月            日

名まえ \_\_\_\_\_

・ 次の計算をしましょう。

①

		3.5
	×	68
<hr/>		

②

		5.2
	×	45
<hr/>		

③

		6.8
	×	75
<hr/>		

④  $6.5 \times 94$


⑤  $2.4 \times 55$


⑥  $1.5 \times 98$


⑦  $0.8 \times 85$


⑧  $0.6 \times 45$


⑨  $0.5 \times 64$




# 小数のかけ算 6

● 末尾が0になる  
小数 × 2けたの整数



日にち：            月            日

名まえ \_\_\_\_\_

・ 次の計算をしましょう。

①

		7.2
	×	55
<hr/>		

②

		3.5
	×	18
<hr/>		

③

		7.5
	×	49
<hr/>		

④  $4.5 \times 42$


⑤  $6.5 \times 25$


⑥  $5.6 \times 25$


⑦  $0.7 \times 89$


⑧  $0.5 \times 54$


⑨  $8.4 \times 15$


⑩ 仕上げ



すらすらぷりんと



# 小数のかけ算 6

● 末尾が0になる  
小数 × 2けたの整数



日にち：            月            日

名まえ \_\_\_\_\_

・ 次の計算をしましょう。

①

		9.6
	×	35
<hr/>		

②

		8.6
	×	79
<hr/>		

③

		4.5
	×	86
<hr/>		

④ 8.6 × 61


⑤ 6.6 × 45


⑥ 7.5 × 54


⑦ 0.8 × 33


⑧ 0.5 × 68


⑨ 1.4 × 25






# 小数のかけ算 6

● 末尾が0になる  
小数 × 2けたの整数



日にち：            月            日

名まえ \_\_\_\_\_

・ 次の計算をしましょう。

①

		4	.	2
	×	6	5	
<hr/>				

②

		1	.	8
	×	3	8	
<hr/>				

③

		5	.	5
	×	7	2	
<hr/>				

④  $6.8 \times 45$


⑤  $2.5 \times 72$


⑥  $3.5 \times 75$


⑦  $0.8 \times 75$


⑧  $0.4 \times 89$


⑨  $6.2 \times 25$






# 小数のかけ算 6

● 末尾が0になる  
小数 × 2けたの整数



日にち：            月            日

名まえ \_\_\_\_\_

・ 次の計算をしましょう。

①

		6.2
	×	55
<hr/>		

②

		9.2
	×	24
<hr/>		

③

		7.5
	×	26
<hr/>		

④ 7.2 × 45


⑤ 6.6 × 48


⑥ 3.3 × 89


⑦ 0.6 × 57


⑧ 0.5 × 48


⑨ 1.2 × 35




# 小数のかけ算 6

● 末尾が0になる  
小数 × 2けたの整数



日にち：            月            日

名まえ \_\_\_\_\_

・ 次の計算をしましょう。

①

		3	.	7
	×	6	8	
<hr/>				

②

		1	.	5
	×	3	2	
<hr/>				

③

		6	.	2
	×	7	5	
<hr/>				

④ 8.2 × 45


⑤ 2.5 × 52


⑥ 4.5 × 92


⑦ 0.5 × 32


⑧ 0.7 × 49


⑨ 9.8 × 15



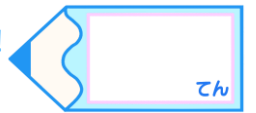



# 小数のかけ算 6

◎ 末尾が0になる  
小数 × 2けたの整数

15

目指せ90点!



名まえ \_\_\_\_\_

・ 次の計算をしましょう。(各10点)

①

		1	6
		.	
		×	8 5
<hr/>			

②

		8	7
		.	
		×	2 9
<hr/>			

③

		5	4
		.	
		×	3 5
<hr/>			

④

		3	6
		.	
		×	3 5
<hr/>			

⑤

		3	5
		.	
		×	7 7
<hr/>			

⑥

		5	5
		.	
		×	5 2
<hr/>			

⑦  $0.6 \times 55$

⑧  $0.5 \times 42$

⑨  $0.6 \times 85$

⑩  $7.2 \times 25$




# 小数のかけ算 6

◎ 末尾が0になる  
小数 × 2けたの整数



目指せ90点!



名まえ \_\_\_\_\_

・ 次の計算をしましょう。(各10点)

①

		8	.	2
		×	4	5
<hr/>				

②

			4	.	5
			×	8	2
<hr/>					

③

			8	.	7
			×	6	2
<hr/>					

④

		0	.	9
		×	6	2
<hr/>				

⑤

		1	.	5
		×	2	2
<hr/>				

⑥

		0	.	8
		×	4	5
<hr/>				

⑦  $5.8 \times 35$

⑧  $8.5 \times 17$

⑨  $7.5 \times 34$

⑩  $3.6 \times 65$





# 小数のかけ算 6

● 末尾が0になる  
小数 × 2けたの整数



日にち：            月            日

名まえ \_\_\_\_\_

・ 次の計算をしましょう。(うすい字はなぞりましょう。)

①

		2	.	8
	×	4	5	
		1	4 <sup>4</sup>	0
		1	1 <sup>3</sup>	2
		1	2	6
				0

②

		6	.	4
	×	7	5	
		3	2 <sup>2</sup>	0
		4	4 <sup>2</sup>	8
		4	8	0
				0

③

		4	.	5
	×	2	8	
		3	6 <sup>4</sup>	0
		9	0	
		1	2	6
				0

④  $4.4 \times 25$

		4	.	4
	×	2	5	
		2	2 <sup>2</sup>	0
		8	8	
		1	1	0
				0

⑤  $8.4 \times 25$

		8	.	4
	×	2	5	
		4	2 <sup>2</sup>	0
		1	6	8
		2	1	0
				0

⑥  $3.4 \times 75$

		3	.	4
	×	7	5	
		1	7 <sup>2</sup>	0
		2	3 <sup>2</sup>	8
		2	5	5
				0

⑦  $0.8 \times 45$

		0	.	8
	×	4	5	
		4	4 <sup>4</sup>	0
		3	2 <sup>3</sup>	
		3	6	0

⑧  $0.5 \times 56$

		0	.	5
	×	5	6	
		3	3 <sup>3</sup>	0
		2	5 <sup>2</sup>	
		2	8	0

⑨  $0.6 \times 75$

		0	.	6
	×	7	5	
		3	3 <sup>3</sup>	0
		4	2 <sup>4</sup>	
		4	5	0





# 小数のかけ算 6

● 末尾が0になる  
小数 × 2けたの整数



日にち：            月            日

名まえ \_\_\_\_\_

・ 次の計算をしましょう。(うすい字はなぞりましょう。)

①

		8	.	8
	×	3	5	
		4	4 <sup>4</sup>	0
		2	6 <sup>2</sup>	4
		3	0	8

②

		6	.	5
	×	2	4	
		2	6 <sup>2</sup>	0
		1	3 <sup>1</sup>	0
		1	5	6

③

		4	.	4
	×	3	5	
		2	2 <sup>2</sup>	0
		1	3 <sup>1</sup>	2
		1	5	4

④  $3.2 \times 75$

		3	.	2
	×	7	5	
		1	6 <sup>1</sup>	0
		2	2 <sup>1</sup>	4
		2	4	0

⑤  $5.5 \times 56$

		5	.	5
	×	5	6	
		3	3 <sup>3</sup>	0
		2	7 <sup>2</sup>	5
		3	0	8

⑥  $3.8 \times 75$

		3	.	8
	×	7	5	
		1	9 <sup>4</sup>	0
		2	6 <sup>5</sup>	6
		2	8	5

⑦  $0.6 \times 85$

		0	.	6
	×	8	5	
		3	3 <sup>3</sup>	0
		4	8 <sup>4</sup>	
		5	1	0

⑧  $0.8 \times 25$

		0	.	8
	×	2	5	
		4	4 <sup>4</sup>	0
		1	6	
		2	0	0

⑨  $0.5 \times 56$

		0	.	5
	×	5	6	
		3	3 <sup>3</sup>	0
		2	5 <sup>2</sup>	
		2	8	0





# 小数のかけ算 6

● 末尾が0になる  
小数 × 2けたの整数



日にち：            月            日

名まえ \_\_\_\_\_

・ 次の計算をしましょう。(うすい字はなぞりましょう。)

①

		4.5
	×	64
		18 <sup>2</sup> 0
		27 <sup>3</sup> 0
		2880

②

		5.2
	×	45
		26 <sup>1</sup> 0
		208
		2340

③

		8.4
	×	25
		42 <sup>2</sup> 0
		168
		2100

④  $9.6 \times 15$

		9.6
	×	15
		48 <sup>3</sup> 0
		96
		1440

⑤  $6.5 \times 42$

		6.5
	×	42
		13 <sup>1</sup> 0
		26 <sup>2</sup> 0
		2730

⑥  $8.6 \times 25$

		8.6
	×	25
		43 <sup>3</sup> 0
		172
		2150

⑦  $0.4 \times 95$

		0.4
	×	95
		2 <sup>2</sup> 0
		3 <sup>3</sup> 6
		380

⑧  $0.5 \times 76$

		0.5
	×	76
		3 <sup>3</sup> 0
		3 <sup>3</sup> 5
		380

⑨  $0.2 \times 85$

		0.2
	×	85
		1 <sup>1</sup> 0
		1 <sup>1</sup> 6
		170





# 小数のかけ算 6

● 末尾が0になる  
小数 × 2けたの整数



日にち：            月            日

名まえ \_\_\_\_\_

・ 次の計算をしましょう。(うすい字はなぞりましょう。)

①

		3.4
	×	85
		17 <sup>2</sup> 0
		27 <sup>3</sup> 2
		2890

②

		6.5
	×	28
		52 <sup>4</sup> 0
		13 <sup>1</sup> 0
		1820

③

		5.6
	×	75
		28 <sup>3</sup> 0
		39 <sup>4</sup> 2
		4200

④ 7.5 × 24

		7.5
	×	24
		30 <sup>2</sup> 0
		15 <sup>1</sup> 0
		1800

⑤ 9.2 × 15

		9.2
	×	15
		46 <sup>1</sup> 0
		9 <sup>1</sup> 2
		1380

⑥ 9.5 × 16

		9.5
	×	16
		57 <sup>3</sup> 0
		95
		1520

⑦ 0.6 × 75

		0.6
	×	75
		3 <sup>3</sup> 0
		4 <sup>4</sup> 2
		450

⑧ 0.5 × 84

		0.5
	×	84
		2 <sup>2</sup> 0
		4 <sup>4</sup> 0
		420

⑨ 0.8 × 45

		0.8
	×	45
		4 <sup>4</sup> 0
		3 <sup>3</sup> 2
		360





# 小数のかけ算 6

● 末尾が0になる  
小数 × 2けたの整数



日にち：            月            日

名まえ \_\_\_\_\_

・ 次の計算をしましょう。(うすい字はなぞりましょう。)

①

		8	.	8
	×	3	5	
		4	4 <sup>4</sup>	0
		2	6 <sup>2</sup>	4
		3	0	8
				0

②

		3	.	5
	×	4	6	
		2	1 <sup>3</sup>	0
		1	4 <sup>2</sup>	0
		1	6	1
				0

③

		1	.	5
	×	7	2	
		3	1 <sup>1</sup>	0
		1	0 <sup>3</sup>	5
		1	0	8
				0

④  $4.8 \times 25$

		4	.	8
	×	2	5	
		2	4 <sup>4</sup>	0
		9	6 <sup>1</sup>	
		1	2	0
				0

⑤  $5.2 \times 25$

		5	.	2
	×	2	5	
		2	6	0
		1	0	4
		1	3	0
				0

⑥  $1.5 \times 86$

		1	.	5
	×	8	6	
		9	3 <sup>3</sup>	0
		1	2 <sup>4</sup>	0
		1	2	9
				0

⑦  $0.5 \times 74$

		0	.	5
	×	7	4	
		2	2 <sup>2</sup>	0
		3	5 <sup>3</sup>	
		3	7	0
				0

⑧  $0.8 \times 35$

		0	.	8
	×	3	5	
		4	4 <sup>4</sup>	0
		2	4 <sup>2</sup>	
		2	8	0
				0

⑨  $0.4 \times 95$

		0	.	4
	×	9	5	
		2	2 <sup>2</sup>	0
		3	6 <sup>3</sup>	
		3	8	0
				0



# 小数のかけ算 6

● 末尾が0になる  
小数 × 2けたの整数



日にち：            月            日

名まえ \_\_\_\_\_

・ 次の計算をしましょう。(うすい字はなぞりましょう。)

①

		2.8
	×	65
		14 <sup>4</sup> 0
		16 <sup>4</sup> 8
		18 <sup>1</sup> 20

②

		7.5
	×	34
		30 <sup>2</sup> 0
		22 <sup>1</sup> 5
		25 <sup>5</sup> 0

③

		6.4
	×	25
		32 <sup>2</sup> 0
		128
		16 <sup>1</sup> 00

④ 2.6 × 95

		2.6
	×	95
		13 <sup>3</sup> 0
		23 <sup>5</sup> 4
		24 <sup>7</sup> 0

⑤ 4.5 × 68

		4.5
	×	68
		36 <sup>4</sup> 0
		27 <sup>3</sup> 0
		30 <sup>6</sup> 0

⑥ 3.4 × 75

		3.4
	×	75
		17 <sup>2</sup> 0
		23 <sup>2</sup> 8
		25 <sup>5</sup> 0

⑦ 0.4 × 95

		0.4
	×	95
		2 <sup>2</sup> 0
		3 <sup>3</sup> 6
		38 <sup>0</sup>

⑧ 0.5 × 92

		0.5
	×	92
		1 <sup>1</sup> 0
		4 <sup>4</sup> 5
		46 <sup>0</sup>

⑨ 0.6 × 75

		0.6
	×	75
		3 <sup>3</sup> 0
		4 <sup>4</sup> 2
		45 <sup>0</sup>





# 小数のかけ算 6

● 末尾が0になる  
小数 × 2けたの整数



日にち：            月            日

名まえ \_\_\_\_\_

・ 次の計算をしましょう。(うすい字はなぞりましょう。)

①

		7.2	
	×	25	
		360	
		144	
		1800	

②

		3.5	
	×	82	
		70	
		280	
		2870	

③

		8.8	
	×	45	
		440	
		352	
		3960	

④  $4.6 \times 55$

		4.6	
	×	55	
		230	
		230	
		2530	

⑤  $8.5 \times 62$

		8.5	
	×	62	
		170	
		510	
		5270	

⑥  $4.2 \times 65$

		4.2	
	×	65	
		210	
		252	
		2730	

⑦  $0.8 \times 75$

		0.8	
	×	75	
		40	
		56	
		600	

⑧  $0.5 \times 68$

		0.5	
	×	68	
		40	
		30	
		340	

⑨  $0.4 \times 95$

		0.4	
	×	95	
		20	
		36	
		380	



# 小数のかけ算 6

● 末尾が0になる  
小数 × 2けたの整数



日にち：            月            日

名まえ \_\_\_\_\_

・ 次の計算をしましょう。

①

		6.6
	×	35
		33 <sup>3</sup> 0
		19 <sup>1</sup> 8
		<hr/>
		23 <sup>1</sup> 10

②

		7.5
	×	36
		45 <sup>3</sup> 0
		22 <sup>1</sup> 5
		<hr/>
		270 <sup>0</sup> 0

③

		6.5
	×	44
		26 <sup>2</sup> 0
		26 <sup>2</sup> 0
		<hr/>
		286 <sup>0</sup> 0

④ 4.6 × 55

		4.6
	×	55
		23 <sup>3</sup> 0
		23 <sup>3</sup> 0
		<hr/>
		253 <sup>0</sup> 0

⑤ 6.5 × 34

		6.5
	×	34
		26 <sup>2</sup> 0
		19 <sup>1</sup> 5
		<hr/>
		221 <sup>0</sup> 0

⑥ 9.8 × 35

		9.8
	×	35
		49 <sup>4</sup> 0
		29 <sup>2</sup> 4
		<hr/>
		343 <sup>0</sup> 0

⑦ 0.6 × 65

		0.6
	×	65
		3 <sup>3</sup> 0
		3 <sup>3</sup> 6
		<hr/>
		39 <sup>0</sup> 0

⑧ 0.5 × 74

		0.5
	×	74
		2 <sup>2</sup> 0
		3 <sup>3</sup> 5
		<hr/>
		37 <sup>0</sup> 0

⑨ 0.5 × 88

		0.5
	×	88
		4 <sup>4</sup> 0
		4 <sup>4</sup> 0
		<hr/>
		44 <sup>0</sup> 0







# 小数のかけ算 6

● 末尾が0になる  
小数 × 2けたの整数



日にち：            月            日

名まえ \_\_\_\_\_

・ 次の計算をしましょう。

①

		3	.	5
	×	6	8	
		2	8 <sup>4</sup>	0
		2	1 <sup>3</sup>	0
		2	3	8
				0

②

		5	.	2
	×	4	5	
		2	6 <sup>1</sup>	0
		2	0	8
		2	3	4
				0

③

		6	.	8
	×	7	5	
		3	4 <sup>4</sup>	0
		4	7 <sup>5</sup>	6
		5	1	0
				0

④  $6.5 \times 94$

		6	.	5
	×	9	4	
		2	6 <sup>2</sup>	0
		5	8 <sup>4</sup>	5
		6	1	1
				0

⑤  $2.4 \times 55$

		2	.	4
	×	5	5	
		1	2 <sup>2</sup>	0
		1	2 <sup>4</sup>	0
		1	3	2
				0

⑥  $1.5 \times 98$

		1	.	5
	×	9	8	
		1	2 <sup>4</sup>	0
		1	3 <sup>4</sup>	5
		1	4	7
				0

⑦  $0.8 \times 85$

		0	.	8
	×	8	5	
		4 <sup>4</sup>	0	
		6 <sup>6</sup>	4	
		6	8	0

⑧  $0.6 \times 45$

		0	.	6
	×	4	5	
		3 <sup>3</sup>	0	
		2 <sup>2</sup>	4	
		2	7	0

⑨  $0.5 \times 64$

		0	.	5
	×	6	4	
		2 <sup>2</sup>	0	
		3 <sup>3</sup>	0	
		3	2	0



# 小数のかけ算 6

● 末尾が0になる  
小数 × 2けたの整数



日にち：            月            日

名まえ \_\_\_\_\_

・ 次の計算をしましょう。

①

		7	.	2
	×	5	5	
		3	6	0
		3	6	0
		3	9	6
				0

②

		3	.	5
	×	1	8	
		2	8	0
		3	5	
		6	3	0
				0

③

		7	.	5
	×	4	9	
		6	7	5
		3	0	0
		3	6	7
				5

④  $4.5 \times 42$

		4	.	5
	×	4	2	
		9	0	
		1	8	0
		1	8	9
				0

⑤  $6.5 \times 25$

		6	.	5
	×	2	5	
		3	2	5
		1	3	0
		1	6	2
				5

⑥  $5.6 \times 25$

		5	.	6
	×	2	5	
		2	8	0
		1	1	2
		1	4	0
				0

⑦  $0.7 \times 89$

		0	.	7
	×	8	9	
		6	3	
		5	6	
		6	2	3
				0

⑧  $0.5 \times 54$

		0	.	5
	×	5	4	
		2	0	
		2	5	
		2	7	0
				0

⑨  $8.4 \times 15$

		8	.	4
	×	1	5	
		4	2	0
		8	4	
		1	2	6
				0





# 小数のかけ算 6

● 末尾が0になる  
小数 × 2けたの整数



日にち：            月            日

名まえ \_\_\_\_\_

・ 次の計算をしましょう。

①

		9.6
	×	35
		48 <sup>3</sup> 0
		28 <sup>1</sup> 8
		33 <sup>1</sup> 6.0

②

		8.6
	×	79
		77 <sup>5</sup> 4
		60 <sup>4</sup> 2
		679.4

③

		4.5
	×	86
		27 <sup>3</sup> 0
		36 <sup>4</sup> 0
		387.0

④ 8.6 × 61

		8.6
	×	61
		86
		51 <sup>3</sup> 6
		52 <sup>1</sup> 4.6

⑤ 6.6 × 45

		6.6
	×	45
		33 <sup>3</sup> 0
		26 <sup>2</sup> 4
		297.0

⑥ 7.5 × 54

		7.5
	×	54
		30 <sup>2</sup> 0
		37 <sup>2</sup> 5
		405.0

⑦ 0.8 × 33

		0.8
	×	33
		2 <sup>2</sup> 4
		2 <sup>2</sup> 4
		26.4

⑧ 0.5 × 68

		0.5
	×	68
		4 <sup>4</sup> 0
		3 <sup>3</sup> 0
		34.0

⑨ 1.4 × 25

		1.4
	×	25
		7 <sup>2</sup> 0
		28
		35.0





# 小数のかけ算 6

● 末尾が0になる  
小数 × 2けたの整数



日にち：            月            日

名まえ \_\_\_\_\_

・ 次の計算をしましょう。

①

		4	.	2
	×	6	5	
		2	1	0
		2	5	2
		2	7	3
				0

②

		1	.	8
	×	3	8	
		1	4	4
		5	4	
		6	8	4

③

		5	.	5
	×	7	2	
		1	1	0
		3	8	5
		3	9	6
				0

④  $6.8 \times 45$

		6	.	8
	×	4	5	
		3	4	0
		2	7	2
		3	0	6
				0

⑤  $2.5 \times 72$

		2	.	5
	×	7	2	
		5	0	
		1	7	5
		1	8	0
				0

⑥  $3.5 \times 75$

		3	.	5
	×	7	5	
		1	7	5
		2	4	5
		2	6	2
				5

⑦  $0.8 \times 75$

		0	.	8
	×	7	5	
		4	0	
		5	6	
		6	0	0

⑧  $0.4 \times 89$

		0	.	4
	×	8	9	
		3	6	
		3	2	
		3	5	6

⑨  $6.2 \times 25$

		6	.	2
	×	2	5	
		3	1	0
		1	2	4
		1	5	5
				0





# 小数のかけ算 6

● 末尾が0になる  
小数 × 2けたの整数



日にち：            月            日

名まえ \_\_\_\_\_

・ 次の計算をしましょう。

①

		6.2
	×	55
		310
		310
		3410

②

		9.2
	×	24
		368
		184
		2208

③

		7.5
	×	26
		450
		150
		1950

④  $7.2 \times 45$

		7.2
	×	45
		360
		288
		3240

⑤  $6.6 \times 48$

		6.6
	×	48
		528
		264
		3168

⑥  $3.3 \times 89$

		3.3
	×	89
		297
		264
		2937

⑦  $0.6 \times 57$

		0.6
	×	57
		42
		30
		342

⑧  $0.5 \times 48$

		0.5
	×	48
		40
		20
		240

⑨  $1.2 \times 35$

		1.2
	×	35
		60
		36
		420



# 小数のかけ算 6

● 末尾が0になる  
小数 × 2けたの整数



日にち：            月            日

名まえ \_\_\_\_\_

・ 次の計算をしましょう。

①

		3	.	7
	×	6	8	
		2	9	6
		2	2	2
		2	5	1.6

②

		1	.	5
	×	3	2	
		3	0	
		4	5	
		4	8	0

③

		6	.	2
	×	7	5	
		3	1	0
		4	3	4
		4	6	5.0

④  $8.2 \times 45$

		8	.	2
	×	4	5	
		4	1	0
		3	2	8
		3	6	9.0

⑤  $2.5 \times 52$

		2	.	5
	×	5	2	
		5	0	
		1	2	5
		1	3	0.0

⑥  $4.5 \times 92$

		4	.	5
	×	9	2	
		9	0	
		4	0	5
		4	1	4.0

⑦  $0.5 \times 32$

		0	.	5
	×	3	2	
		1	0	
		1	5	
		1	6	0

⑧  $0.7 \times 49$

		0	.	7
	×	4	9	
		6	3	
		2	8	
		3	4	3

⑨  $9.8 \times 15$

		9	.	8
	×	1	5	
		4	9	0
		9	8	
		1	4	7.0






# 小数のかけ算 6

● 末尾が0になる  
小数 × 2けたの整数

15

目指せ90点!



名まえ \_\_\_\_\_

・ 次の計算をしましょう。(各10点)

$$\begin{array}{r} 1.6 \\ \times 85 \\ \hline 80 \\ 128 \\ \hline 136.0 \end{array}$$

$$\begin{array}{r} 8.7 \\ \times 29 \\ \hline 783 \\ 174 \\ \hline 252.3 \end{array}$$

$$\begin{array}{r} 5.4 \\ \times 35 \\ \hline 270 \\ 162 \\ \hline 189.0 \end{array}$$

$$\begin{array}{r} 3.6 \\ \times 35 \\ \hline 180 \\ 108 \\ \hline 126.0 \end{array}$$

$$\begin{array}{r} 3.5 \\ \times 77 \\ \hline 245 \\ 245 \\ \hline 269.5 \end{array}$$

$$\begin{array}{r} 5.5 \\ \times 52 \\ \hline 110 \\ 275 \\ \hline 286.0 \end{array}$$

⑦  $0.6 \times 55$

$$\begin{array}{r} 0.6 \\ \times 55 \\ \hline 30 \\ 30 \\ \hline 33.0 \end{array}$$

⑧  $0.5 \times 42$

$$\begin{array}{r} 0.5 \\ \times 42 \\ \hline 10 \\ 20 \\ \hline 21.0 \end{array}$$

⑨  $0.6 \times 85$

$$\begin{array}{r} 0.6 \\ \times 85 \\ \hline 30 \\ 48 \\ \hline 51.0 \end{array}$$

⑩  $7.2 \times 25$

$$\begin{array}{r} 7.2 \\ \times 25 \\ \hline 360 \\ 144 \\ \hline 180.0 \end{array}$$




# 小数のかけ算 6

● 末尾が0になる  
小数 × 2けたの整数

16

目指せ90点!



名まえ \_\_\_\_\_

・ 次の計算をしましょう。(各10点)

$$\begin{array}{r} 8.2 \\ \times 45 \\ \hline 410 \\ 328 \\ \hline 369.0 \end{array}$$

$$\begin{array}{r} 4.5 \\ \times 82 \\ \hline 90 \\ 360 \\ \hline 369.0 \end{array}$$

$$\begin{array}{r} 8.7 \\ \times 62 \\ \hline 174 \\ 522 \\ \hline 539.4 \end{array}$$

$$\begin{array}{r} 0.9 \\ \times 62 \\ \hline 18 \\ 54 \\ \hline 55.8 \end{array}$$

$$\begin{array}{r} 1.5 \\ \times 22 \\ \hline 30 \\ 30 \\ \hline 33.0 \end{array}$$

$$\begin{array}{r} 0.8 \\ \times 45 \\ \hline 40 \\ 32 \\ \hline 36.0 \end{array}$$

⑦  $5.8 \times 35$

$$\begin{array}{r} 5.8 \\ \times 35 \\ \hline 290 \\ 174 \\ \hline 203.0 \end{array}$$

⑧  $8.5 \times 17$

$$\begin{array}{r} 8.5 \\ \times 17 \\ \hline 595 \\ 85 \\ \hline 144.5 \end{array}$$

⑨  $7.5 \times 34$

$$\begin{array}{r} 7.5 \\ \times 34 \\ \hline 300 \\ 225 \\ \hline 255.0 \end{array}$$

⑩  $3.6 \times 65$

$$\begin{array}{r} 3.6 \\ \times 65 \\ \hline 180 \\ 216 \\ \hline 234.0 \end{array}$$