



小数のしくみ3

◎ 何分の一の位？



日にち： 月 日

名まえ _____

・次の問いに答えましょう。

① 6.078の0は何分の一の位の数字ですか。

答え $\frac{1}{10}$ の位

② 1.572の2は何分の一の位の数ですか。

答え $\frac{1}{1000}$ の位

③ 3.704の0は何分の一の位の数ですか。

答え $\frac{1}{100}$ の位

④ 1.59の9は何分の一の位の数ですか。

答え _____

⑤ 3.025の $\frac{1}{10}$ の位の数字は何ですか。

答え 0


⑥ 1.253の $\frac{1}{100}$ の位の数字は何ですか。

答え _____

⑦ 6.201の $\frac{1}{1000}$ の位の数字は何ですか。

答え _____





小数のしくみ3

◎ 何分の一の位？



日にち： 月 日

名まえ _____

・次の問いに答えましょう。

① 4.921の2は何分の一の位の数字ですか。

答え $\frac{1}{100}$ の位

② 7.302の2は何分の一の位の数ですか。

答え

③ 0.365の3は何分の一の位の数ですか。

答え

④ 3.91の9は何分の一の位の数ですか。

答え

⑤ 0.632の $\frac{1}{10}$ の位の数字は何ですか。

答え 6

⑥ 3.852の $\frac{1}{100}$ の位の数字は何ですか。

答え

⑦ 3.032の $\frac{1}{1000}$ の位の数字は何ですか。

答え





小数のしくみ3

◎ 何分の一の位？



日にち： 月 日

名まえ _____

・次の問いに答えましょう。

① 1.632の2は何分の一の位の数字ですか。

答え $\frac{1}{1000}$ の位

② 0.465の4は何分の一の位の数字ですか。

答え

③ 3.742の4は何分の一の位の数字ですか。

答え

④ 0.014の4は何分の一の位の数字ですか。

答え

⑤ 3.612の $\frac{1}{10}$ の位の数字は何ですか。

答え 6


⑥ 2.907の $\frac{1}{100}$ の位の数字は何ですか。

答え

⑦ 5.341の $\frac{1}{1000}$ の位の数字は何ですか。

答え





小数のしくみ3

◎ 何分の一の位？



日にち： 月 日

名まえ _____

・次の問いに答えましょう。

① 6.034の3は何分の一の位の数字ですか。

答え $\frac{1}{100}$ の位

② 2.903の9は何分の一の位の数ですか。

答え

③ 0.71の1は何分の一の位の数ですか。

答え

④ 1.623の3は何分の一の位の数ですか。

答え

⑤ 0.329の $\frac{1}{10}$ の位の数字は何ですか。

答え

⑥ 1.853の $\frac{1}{100}$ の位の数字は何ですか。

答え

⑦ 1.734の $\frac{1}{1000}$ の位の数字は何ですか。

答え





小数のしくみ3

◎ 何分の一の位？



日にち： 月 日

名まえ _____

・次の問いに答えましょう。

① 6.034の3は何分の一の位の数字ですか。

答え $\frac{1}{100}$ の位

② 2.903の9は何分の一の位の数ですか。

答え

③ 0.71の1は何分の一の位の数ですか。

答え

④ 1.623の3は何分の一の位の数ですか。

答え

⑤ 0.329の $\frac{1}{10}$ の位の数字は何ですか。

答え


⑥ 1.853の $\frac{1}{100}$ の位の数字は何ですか。

答え

⑦ 1.734の $\frac{1}{1000}$ の位の数字は何ですか。

答え





小数のしくみ3

◎ 何分の一の位？



日にち： 月 日

名まえ _____

・次の問いに答えましょう。

① 0.719の1は何分の一の位の数字ですか。

答え $\frac{1}{100}$ の位

② 4.103の3は何分の一の位の数ですか。

答え

③ 15.26の6は何分の一の位の数ですか。

答え

④ 2.718の7は何分の一の位の数ですか。

答え

⑤ 2.436の $\frac{1}{10}$ の位の数字は何ですか。

答え


⑥ 5.031の $\frac{1}{100}$ の位の数字は何ですか。

答え

⑦ 7.306の $\frac{1}{1000}$ の位の数字は何ですか。

答え





小数のしくみ3

◎ 何分の一の位？



日にち： 月 日

名まえ _____

・次の問いに答えましょう。

① 2.554の4は何分の一の位の数字ですか。

答え $\frac{1}{1000}$ の位

② 3.768の7は何分の一の位の数字ですか。

答え

③ 0.023の3は何分の一の位の数字ですか。

答え

④ 1.724の2は何分の一の位の数字ですか。

答え

⑤ 3.061の $\frac{1}{10}$ の位の数字は何ですか。

答え


⑥ 2.147の $\frac{1}{100}$ の位の数字は何ですか。

答え

⑦ 3.963の $\frac{1}{1000}$ の位の数字は何ですか。

答え





小数のしくみ3

◎ 何分の一の位？



日にち： 月 日

名まえ _____

・次の問いに答えましょう。

① 1.364の3は何分の一の位の数字ですか。

答え $\frac{1}{10}$ の位

② 7.852の2は何分の一の位の数ですか。

答え

③ 0.164の6は何分の一の位の数ですか。

答え

④ 3.742の7は何分の一の位の数ですか。

答え

⑤ 5.136の $\frac{1}{10}$ の位の数字は何ですか。

答え

⑥ 7.462の $\frac{1}{100}$ の位の数字は何ですか。

答え

⑦ 9.132の $\frac{1}{1000}$ の位の数字は何ですか。

答え





小数のしくみ3

◎ 何分の一の位？



日にち： 月 日

名まえ _____

・次の問いに答えましょう。

① 8.753の7は何分の一の位の数字ですか。

答え $\frac{1}{10}$ の位

② 4.236の6は何分の一の位の数ですか。

答え

③ 0.295の9は何分の一の位の数ですか。

答え

④ 6.741の4は何分の一の位の数ですか。

答え

⑤ 8.763の $\frac{1}{10}$ の位の数字は何ですか。

答え


⑥ 6.412の $\frac{1}{100}$ の位の数字は何ですか。

答え

⑦ 0.602の $\frac{1}{1000}$ の位の数字は何ですか。

答え





小数のしくみ3

◎ 何分の一の位？



日にち： 月 日

名まえ _____

・次の問いに答えましょう。

① 0.684の4は何分の一の位の数字ですか。

答え _____

② 6.702の7は何分の一の位の数ですか。

答え _____

③ 1.273の7は何分の一の位の数ですか。

答え _____

④ 0.103の3は何分の一の位の数ですか。

答え _____

⑤ 5.794の $\frac{1}{10}$ の位の数字は何ですか。

答え _____


⑥ 0.384の $\frac{1}{100}$ の位の数字は何ですか。

答え _____

⑦ 4.706の $\frac{1}{1000}$ の位の数字は何ですか。

答え _____





小数のしくみ3

◎ 何分の一の位？



日にち： 月 日

名まえ _____

・次の問いに答えましょう。

① 1.846の6は何分の一の位の数字ですか。

答え _____

② 0.065の6は何分の一の位の数ですか。

答え _____

③ 4.81の1は何分の一の位の数ですか。

答え _____

④ 1.923の9は何分の一の位の数ですか。

答え _____

⑤ 3.743の $\frac{1}{10}$ の位の数字は何ですか。

答え _____

⑥ 0.913の $\frac{1}{100}$ の位の数字は何ですか。

答え _____

⑦ 4.676の $\frac{1}{1000}$ の位の数字は何ですか。

答え _____





小数のしくみ3

◎ 何分の一の位？



日にち： 月 日

名まえ _____

・次の問いに答えましょう。

① 0.603の3は何分の一の位の数字ですか。

答え _____

② 5.713の1は何分の一の位の数ですか。

答え _____

③ 0.004の4は何分の一の位の数ですか。

答え _____

④ 2.946の9は何分の一の位の数ですか。

答え _____

⑤ 1.845の $\frac{1}{10}$ の位の数字は何ですか。

答え _____

⑥ 2.965の $\frac{1}{100}$ の位の数字は何ですか。

答え _____

⑦ 1.034の $\frac{1}{1000}$ の位の数字は何ですか。

答え _____





小数のしくみ3

◎ 何分の一の位？



日にち： 月 日

名まえ _____

・次の問いに答えましょう。

① 2.714の4は何分の一の位の数字ですか。

答え _____

② 2.851の8は何分の一の位の数ですか。

答え _____

③ 0.63の3は何分の一の位の数ですか。

答え _____

④ 6.702の2は何分の一の位の数ですか。

答え _____

⑤ 0.396の $\frac{1}{10}$ の位の数字は何ですか。

答え _____

⑥ 2.761の $\frac{1}{100}$ の位の数字は何ですか。

答え _____

⑦ 4.509の $\frac{1}{1000}$ の位の数字は何ですか。

答え _____





小数のしくみ3

◎ 何分の一の位？



日にち： 月 日

名まえ _____

・次の問いに答えましょう。

① 3.854の5は何分の一の位の数字ですか。

答え _____

② 0.365の3は何分の一の位の数字ですか。

答え _____

③ 13.04の4は何分の一の位の数字ですか。

答え _____

④ 6.803の3は何分の一の位の数字ですか。

答え _____

⑤ 1.742の $\frac{1}{10}$ の位の数字は何ですか。

答え _____


⑥ 0.381の $\frac{1}{100}$ の位の数字は何ですか。

答え _____

⑦ 2.607の $\frac{1}{1000}$ の位の数字は何ですか。

答え _____






小数のしくみ3

◎ 何分の一の位？

15

目指せ80点!



名まえ _____

・次の問いに答えましょう。(各20点)

① 3.861の1は何分の一の位の数字ですか。

答え _____

② 0.204の2は何分の一の位の数ですか。

答え _____

③ 1.39の9は何分の一の位の数ですか。

答え _____

④ 6.501の $\frac{1}{1000}$ の位の数字は何ですか。

答え _____

⑤ 4.769の $\frac{1}{10}$ の位の数字は何ですか。

答え _____





小数のしくみ3

◎ 何分の一の位？

16

目指せ80点!



名まえ _____

・次の問いに答えましょう。(各20点)

① 3.654の5は何分の一の位の数字ですか。

答え _____

② 1.302の2は何分の一の位の数ですか。

答え _____

③ 0.703の7は何分の一の位の数ですか。

答え _____

④ 2.501の $\frac{1}{10}$ の位の数字は何ですか。

答え _____

⑤ 0.627の $\frac{1}{1000}$ の位の数字は何ですか。

答え _____





小数のしくみ3

◎ 何分の一の位？



日にち： 月 日

名まえ _____

・次の問いに答えましょう。

① 6.078の0は何分の一の位の数字ですか。

答え $\frac{1}{10}$ の位

② 1.572の2は何分の一の位の数ですか。

答え $\frac{1}{1000}$ の位

③ 3.704の0は何分の一の位の数ですか。

答え $\frac{1}{100}$ の位

④ 1.59の9は何分の一の位の数ですか。

答え $\frac{1}{100}$ の位

⑤ 3.025の $\frac{1}{10}$ の位の数字は何ですか。

答え 0

⑥ 1.253の $\frac{1}{100}$ の位の数字は何ですか。

答え 5

⑦ 6.201の $\frac{1}{1000}$ の位の数字は何ですか。

答え 1





小数のしくみ3

◎ 何分の一の位？



日にち： 月 日

名まえ _____

・次の問いに答えましょう。

① 4.921の2は何分の一の位の数字ですか。

答え $\frac{1}{100}$ の位

② 7.302の2は何分の一の位の数ですか。

答え $\frac{1}{1000}$ の位

③ 0.365の3は何分の一の位の数ですか。

答え $\frac{1}{10}$ の位

④ 3.91の9は何分の一の位の数ですか。

答え $\frac{1}{10}$ の位

⑤ 0.632の $\frac{1}{10}$ の位の数字は何ですか。

答え 6

⑥ 3.852の $\frac{1}{100}$ の位の数字は何ですか。

答え 5

⑦ 3.032の $\frac{1}{1000}$ の位の数字は何ですか。

答え 2





小数のしくみ3

◎ 何分の一の位？



日にち： 月 日

名まえ _____

・次の問いに答えましょう。

① 1.632の2は何分の一の位の数字ですか。

答え $\frac{1}{1000}$ の位

② 0.465の4は何分の一の位の数ですか。

答え $\frac{1}{10}$ の位

③ 3.742の4は何分の一の位の数ですか。

答え $\frac{1}{100}$ の位

④ 0.014の4は何分の一の位の数ですか。

答え $\frac{1}{1000}$ の位

⑤ 3.612の $\frac{1}{10}$ の位の数字は何ですか。

答え 6

⑥ 2.907の $\frac{1}{100}$ の位の数字は何ですか。

答え 0

⑦ 5.341の $\frac{1}{1000}$ の位の数字は何ですか。

答え 1





小数のしくみ3

◎ 何分の一の位？



日にち： 月 日

名まえ _____

・次の問いに答えましょう。

① 6.034の3は何分の一の位の数字ですか。

答え $\frac{1}{100}$ の位

② 2.903の9は何分の一の位の数ですか。

答え $\frac{1}{10}$ の位

③ 0.71の1は何分の一の位の数ですか。

答え $\frac{1}{100}$ の位

④ 1.623の3は何分の一の位の数ですか。

答え $\frac{1}{1000}$ の位

⑤ 0.329の $\frac{1}{10}$ の位の数字は何ですか。

答え 3

⑥ 1.853の $\frac{1}{100}$ の位の数字は何ですか。

答え 5

⑦ 1.734の $\frac{1}{1000}$ の位の数字は何ですか。

答え 4





小数のしくみ3

◎ 何分の一の位？



日にち： 月 日

名まえ _____

・次の問いに答えましょう。

① 6.034の3は何分の一の位の数字ですか。

答え $\frac{1}{100}$ の位

② 2.903の9は何分の一の位の数ですか。

答え $\frac{1}{10}$ の位

③ 0.71の1は何分の一の位の数ですか。

答え $\frac{1}{100}$ の位

④ 1.623の3は何分の一の位の数ですか。

答え $\frac{1}{1000}$ の位

⑤ 0.329の $\frac{1}{10}$ の位の数字は何ですか。

答え 3


⑥ 1.853の $\frac{1}{100}$ の位の数字は何ですか。

答え 5

⑦ 1.734の $\frac{1}{1000}$ の位の数字は何ですか。

答え 4





小数のしくみ3

◎ 何分の一の位？



日にち： 月 日

名まえ _____

・次の問いに答えましょう。

① 0.719の1は何分の一の位の数字ですか。

答え $\frac{1}{100}$ の位

② 4.103の3は何分の一の位の数ですか。

答え $\frac{1}{1000}$ の位

③ 15.26の6は何分の一の位の数ですか。

答え $\frac{1}{100}$ の位

④ 2.718の7は何分の一の位の数ですか。

答え $\frac{1}{10}$ の位

⑤ 2.436の $\frac{1}{10}$ の位の数字は何ですか。

答え 4

⑥ 5.031の $\frac{1}{100}$ の位の数字は何ですか。

答え 3

⑦ 7.306の $\frac{1}{1000}$ の位の数字は何ですか。

答え 6





小数のしくみ3

◎ 何分の一の位？



日にち： 月 日

名まえ _____

・次の問いに答えましょう。

① 2.554の4は何分の一の位の数字ですか。

答え $\frac{1}{1000}$ の位

② 3.768の7は何分の一の位の数字ですか。

答え $\frac{1}{10}$ の位

③ 0.023の3は何分の一の位の数字ですか。

答え $\frac{1}{1000}$ の位

④ 1.724の2は何分の一の位の数字ですか。

答え $\frac{1}{100}$ の位

⑤ 3.061の $\frac{1}{10}$ の位の数字は何ですか。

答え 0


⑥ 2.147の $\frac{1}{100}$ の位の数字は何ですか。

答え 4

⑦ 3.963の $\frac{1}{1000}$ の位の数字は何ですか。

答え 3





小数のしくみ3

◎ 何分の一の位？



日にち： 月 日

名まえ _____

・次の問いに答えましょう。

① 1.364の3は何分の一の位の数字ですか。

答え $\frac{1}{10}$ の位

② 7.852の2は何分の一の位の数ですか。

答え $\frac{1}{1000}$ の位

③ 0.164の6は何分の一の位の数ですか。

答え $\frac{1}{100}$ の位

④ 3.742の7は何分の一の位の数ですか。

答え $\frac{1}{10}$ の位

⑤ 5.136の $\frac{1}{10}$ の位の数字は何ですか。

答え 1

⑥ 7.462の $\frac{1}{100}$ の位の数字は何ですか。

答え 6

⑦ 9.132の $\frac{1}{1000}$ の位の数字は何ですか。

答え 2





小数のしくみ3

◎ 何分の一の位？



日にち： 月 日

名まえ _____

・次の問いに答えましょう。

① 8.753の7は何分の一の位の数字ですか。

答え $\frac{1}{10}$ の位

② 4.236の6は何分の一の位の数ですか。

答え $\frac{1}{1000}$ の位

③ 0.295の9は何分の一の位の数ですか。

答え $\frac{1}{100}$ の位

④ 6.741の4は何分の一の位の数ですか。

答え $\frac{1}{100}$ の位

⑤ 8.763の $\frac{1}{10}$ の位の数字は何ですか。

答え 7


⑥ 6.412の $\frac{1}{100}$ の位の数字は何ですか。

答え 1

⑦ 0.602の $\frac{1}{1000}$ の位の数字は何ですか。

答え 2





小数のしくみ3

◎ 何分の一の位？



日にち： 月 日

名まえ _____

・次の問いに答えましょう。

① 0.684の4は何分の一の位の数字ですか。

答え $\frac{1}{1000}$ の位

② 6.702の7は何分の一の位の数字ですか。

答え $\frac{1}{10}$ の位

③ 1.273の7は何分の一の位の数字ですか。

答え $\frac{1}{100}$ の位

④ 0.103の3は何分の一の位の数字ですか。

答え $\frac{1}{1000}$ の位

⑤ 5.794の $\frac{1}{10}$ の位の数字は何ですか。

答え 7

⑥ 0.384の $\frac{1}{100}$ の位の数字は何ですか。

答え 8

⑦ 4.706の $\frac{1}{1000}$ の位の数字は何ですか。

答え 6





小数のしくみ3

◎ 何分の一の位？



日にち： 月 日

名まえ _____

・次の問いに答えましょう。

① 1.846の6は何分の一の位の数字ですか。

答え $\frac{1}{1000}$ の位

② 0.065の6は何分の一の位の数ですか。

答え $\frac{1}{100}$ の位

③ 4.81の1は何分の一の位の数ですか。

答え $\frac{1}{100}$ の位

④ 1.923の9は何分の一の位の数ですか。

答え $\frac{1}{10}$ の位

⑤ 3.743の $\frac{1}{10}$ の位の数字は何ですか。

答え 7

⑥ 0.913の $\frac{1}{100}$ の位の数字は何ですか。

答え 1

⑦ 4.676の $\frac{1}{1000}$ の位の数字は何ですか。

答え 6





小数のしくみ3

◎ 何分の一の位？



日にち： 月 日

名まえ _____

・次の問いに答えましょう。

① 0.603の3は何分の一の位の数字ですか。

答え $\frac{1}{1000}$ の位

② 5.713の1は何分の一の位の数ですか。

答え $\frac{1}{100}$ の位

③ 0.004の4は何分の一の位の数ですか。

答え $\frac{1}{1000}$ の位

④ 2.946の9は何分の一の位の数ですか。

答え $\frac{1}{10}$ の位

⑤ 1.845の $\frac{1}{10}$ の位の数字は何ですか。

答え 8

⑥ 2.965の $\frac{1}{100}$ の位の数字は何ですか。

答え 6

⑦ 1.034の $\frac{1}{1000}$ の位の数字は何ですか。

答え 4





小数のしくみ3

◎ 何分の一の位？



日にち： 月 日

名まえ _____

・次の問いに答えましょう。

① 2.714の4は何分の一の位の数字ですか。

答え $\frac{1}{1000}$ の位

② 2.851の8は何分の一の位の数ですか。

答え $\frac{1}{10}$ の位

③ 0.63の3は何分の一の位の数ですか。

答え $\frac{1}{100}$ の位

④ 6.702の2は何分の一の位の数ですか。

答え $\frac{1}{1000}$ の位

⑤ 0.396の $\frac{1}{10}$ の位の数字は何ですか。

答え 3

⑥ 2.761の $\frac{1}{100}$ の位の数字は何ですか。

答え 6

⑦ 4.509の $\frac{1}{1000}$ の位の数字は何ですか。

答え 9





小数のしくみ3

◎ 何分の一の位？

14

日にち： 月 日

名まえ _____

・次の問いに答えましょう。

① 3.854の5は何分の一の位の数字ですか。

答え $\frac{1}{100}$ の位

② 0.365の3は何分の一の位の数ですか。

答え $\frac{1}{10}$ の位

③ 13.04の4は何分の一の位の数ですか。

答え $\frac{1}{100}$ の位

④ 6.803の3は何分の一の位の数ですか。

答え $\frac{1}{1000}$ の位

⑤ 1.742の $\frac{1}{10}$ の位の数字は何ですか。

答え 7

⑥ 0.381の $\frac{1}{100}$ の位の数字は何ですか。

答え 8

⑦ 2.607の $\frac{1}{1000}$ の位の数字は何ですか。

答え 7





小数のしくみ3

◎ 何分の一の位？

15

目指せ80点!



名まえ _____

・次の問いに答えましょう。(各20点)

① 3.861の1は何分の一の位の数字ですか。

答え $\frac{1}{1000}$ の位

② 0.204の2は何分の一の位の数ですか。

答え $\frac{1}{10}$ の位

③ 1.39の9は何分の一の位の数ですか。

答え $\frac{1}{100}$ の位

④ 6.501の $\frac{1}{1000}$ の位の数字は何ですか。

答え 1

⑤ 4.769の $\frac{1}{10}$ の位の数字は何ですか。

答え 7





小数のしくみ3

◎ 何分の一の位？

16

目指せ80点!



名まえ _____

・次の問いに答えましょう。(各20点)

① 3.654の5は何分の一の位の数字ですか。

答え $\frac{1}{100}$ の位

② 1.302の2は何分の一の位の数ですか。

答え $\frac{1}{1000}$ の位

③ 0.703の7は何分の一の位の数ですか。

答え $\frac{1}{10}$ の位

④ 2.501の $\frac{1}{10}$ の位の数字は何ですか。

答え 5

⑤ 0.627の $\frac{1}{1000}$ の位の数字は何ですか。

答え 7

