

# 小数のしくみ3

◎ 何分の一の位？



日にち：            月            日

名まえ \_\_\_\_\_

・次の問いに答えましょう。（うすい字はなぞりましょう。）

① 6.078の0は何分の一の位の数字ですか。

答え  $\frac{1}{10}$  の位

② 1.572の2は何分の一の位の数ですか。

答え  $\frac{1}{1000}$  の位

③ 3.704の0は何分の一の位の数ですか。

答え  $\frac{1}{100}$  の位

④ 1.59の9は何分の一の位の数ですか。

答え \_\_\_\_\_

⑤ 3.025の  $\frac{1}{10}$  の位の数字は何ですか。

答え            0

⑥ 1.253の  $\frac{1}{100}$  の位の数字は何ですか。

答え \_\_\_\_\_

⑦ 6.201の  $\frac{1}{1000}$  の位の数字は何ですか。

答え \_\_\_\_\_





# 小数のしくみ3

◎ 何分の一の位？



日にち：            月            日

名まえ \_\_\_\_\_

・次の問いに答えましょう。（うすい字はなぞりましょう。）

① 4.921の2は何分の一の位の数字ですか。

答え  $\frac{1}{100}$  の位  
\_\_\_\_\_

② 7.302の2は何分の一の位の数ですか。

答え  
\_\_\_\_\_

③ 0.365の3は何分の一の位の数ですか。

答え  
\_\_\_\_\_

④ 3.91の9は何分の一の位の数ですか。

答え  
\_\_\_\_\_

⑤ 0.632の  $\frac{1}{10}$  の位の数字は何ですか。

答え            6  
\_\_\_\_\_

⑥ 3.852の  $\frac{1}{100}$  の位の数字は何ですか。

答え  
\_\_\_\_\_

⑦ 3.032の  $\frac{1}{1000}$  の位の数字は何ですか。

答え  
\_\_\_\_\_





# 小数のしくみ3

◎ 何分の一の位？



日にち：            月            日

名まえ \_\_\_\_\_

・次の問いに答えましょう。（うすい字はなぞりましょう。）

① 1.632の2は何分の一の位の数字ですか。

答え  $\frac{1}{1000}$  の位  
\_\_\_\_\_

② 0.465の4は何分の一の位の数ですか。

答え  
\_\_\_\_\_

③ 3.742の4は何分の一の位の数ですか。

答え  
\_\_\_\_\_

④ 0.014の4は何分の一の位の数ですか。

答え  
\_\_\_\_\_

⑤ 3.612の  $\frac{1}{10}$  の位の数字は何ですか。

答え            6  
\_\_\_\_\_


⑥ 2.907の  $\frac{1}{100}$  の位の数字は何ですか。

答え  
\_\_\_\_\_

⑦ 5.341の  $\frac{1}{1000}$  の位の数字は何ですか。

答え  
\_\_\_\_\_





# 小数のしくみ3

◎ 何分の一の位？



日にち：            月            日

名まえ \_\_\_\_\_

・次の問いに答えましょう。（うすい字はなぞりましょう。）

① 6.034の3は何分の一の位の数字ですか。

答え  $\frac{1}{100}$  の位  
\_\_\_\_\_

② 2.903の9は何分の一の位の数ですか。

答え  
\_\_\_\_\_

③ 0.71の1は何分の一の位の数ですか。

答え  
\_\_\_\_\_

④ 1.623の3は何分の一の位の数ですか。

答え  
\_\_\_\_\_

⑤ 0.329の  $\frac{1}{10}$  の位の数字は何ですか。

答え  
\_\_\_\_\_

⑥ 1.853の  $\frac{1}{100}$  の位の数字は何ですか。

答え  
\_\_\_\_\_

⑦ 1.734の  $\frac{1}{1000}$  の位の数字は何ですか。

答え  
\_\_\_\_\_





# 小数のしくみ3

◎ 何分の一の位？



日にち：            月            日

名まえ \_\_\_\_\_

・ 次の問いに答えましょう。（うすい字はなぞりましょう。）

① 7.254の2は何分の一の位の数字ですか。

答え  $\frac{1}{10}$  の位  
\_\_\_\_\_

② 1.503の0は何分の一の位の数ですか。

答え  
\_\_\_\_\_

③ 0.89の8は何分の一の位の数ですか。

答え  
\_\_\_\_\_

④ 3.416の6は何分の一の位の数ですか。

答え  
\_\_\_\_\_

⑤ 2.135の  $\frac{1}{10}$  の位の数字は何ですか。

答え  
\_\_\_\_\_


⑥ 0.496の  $\frac{1}{100}$  の位の数字は何ですか。

答え  
\_\_\_\_\_

⑦ 3.172の  $\frac{1}{1000}$  の位の数字は何ですか。

答え  
\_\_\_\_\_





# 小数のしくみ3

◎ 何分の一の位？



日にち： 月 日

名まえ \_\_\_\_\_

・次の問いに答えましょう。（うすい字はなぞりましょう。）

① 0.719の1は何分の一の位の数字ですか。

答え  $\frac{1}{100}$  の位  
\_\_\_\_\_

② 4.103の3は何分の一の位の数ですか。

答え  
\_\_\_\_\_

③ 15.26の6は何分の一の位の数ですか。

答え  
\_\_\_\_\_

④ 2.718の7は何分の一の位の数ですか。

答え  
\_\_\_\_\_

⑤ 2.436の  $\frac{1}{10}$  の位の数字は何ですか。

答え  
\_\_\_\_\_


⑥ 5.031の  $\frac{1}{100}$  の位の数字は何ですか。

答え  
\_\_\_\_\_

⑦ 7.306の  $\frac{1}{1000}$  の位の数字は何ですか。

答え  
\_\_\_\_\_





# 小数のしくみ3

◎ 何分の一の位？



日にち：            月            日

名まえ \_\_\_\_\_

・次の問いに答えましょう。（うすい字はなぞりましょう。）

① 2.554の4は何分の一の位の数字ですか。

答え  $\frac{1}{1000}$  の位  
\_\_\_\_\_

② 3.768の7は何分の一の位の数ですか。

答え  
\_\_\_\_\_

③ 0.023の3は何分の一の位の数ですか。

答え  
\_\_\_\_\_

④ 1.724の2は何分の一の位の数ですか。

答え  
\_\_\_\_\_

⑤ 3.061の  $\frac{1}{10}$  の位の数字は何ですか。

答え  
\_\_\_\_\_

⑥ 2.147の  $\frac{1}{100}$  の位の数字は何ですか。

答え  
\_\_\_\_\_

⑦ 3.963の  $\frac{1}{1000}$  の位の数字は何ですか。

答え  
\_\_\_\_\_





# 小数のしくみ3

◎ 何分の一の位？



日にち：            月            日

名まえ \_\_\_\_\_

・次の問いに答えましょう。

① 1.364の3は何分の一の位の数字ですか。

答え \_\_\_\_\_

② 7.852の2は何分の一の位の数ですか。

答え \_\_\_\_\_

③ 0.164の6は何分の一の位の数ですか。

答え \_\_\_\_\_

④ 3.742の7は何分の一の位の数ですか。

答え \_\_\_\_\_

⑤ 5.136の  $\frac{1}{10}$  の位の数字は何ですか。

答え \_\_\_\_\_

⑥ 7.462の  $\frac{1}{100}$  の位の数字は何ですか。

答え \_\_\_\_\_

⑦ 9.132の  $\frac{1}{1000}$  の位の数字は何ですか。

答え \_\_\_\_\_







# 小数のしくみ3

◎ 何分の一の位？



日にち：            月            日

名まえ \_\_\_\_\_

・次の問いに答えましょう。

① 8.753の7は何分の一の位の数字ですか。

答え \_\_\_\_\_

② 4.236の6は何分の一の位の数ですか。

答え \_\_\_\_\_

③ 0.295の9は何分の一の位の数ですか。

答え \_\_\_\_\_

④ 6.741の4は何分の一の位の数ですか。

答え \_\_\_\_\_

⑤ 8.763の  $\frac{1}{10}$  の位の数字は何ですか。

答え \_\_\_\_\_

⑥ 6.412の  $\frac{1}{100}$  の位の数字は何ですか。

答え \_\_\_\_\_

⑦ 0.602の  $\frac{1}{1000}$  の位の数字は何ですか。

答え \_\_\_\_\_





# 小数のしくみ3

◎ 何分の一の位？



日にち： 月 日

名まえ \_\_\_\_\_

・次の問いに答えましょう。

① 0.684の4は何分の一の位の数字ですか。

答え \_\_\_\_\_

② 6.702の7は何分の一の位の数ですか。

答え \_\_\_\_\_

③ 1.273の7は何分の一の位の数ですか。

答え \_\_\_\_\_

④ 0.103の3は何分の一の位の数ですか。

答え \_\_\_\_\_

⑤ 5.794の  $\frac{1}{10}$  の位の数字は何ですか。

答え \_\_\_\_\_

⑥ 0.384の  $\frac{1}{100}$  の位の数字は何ですか。

答え \_\_\_\_\_

⑦ 4.706の  $\frac{1}{1000}$  の位の数字は何ですか。

答え \_\_\_\_\_





## 小数のしくみ3

◎ 何分の一の位？



日にち：            月            日

名まえ \_\_\_\_\_

・次の問いに答えましょう。

① 1.846の6は何分の一の位の数字ですか。

答え \_\_\_\_\_

② 0.065の6は何分の一の位の数ですか。

答え \_\_\_\_\_

③ 4.81の1は何分の一の位の数ですか。

答え \_\_\_\_\_

④ 1.923の9は何分の一の位の数ですか。

答え \_\_\_\_\_

⑤ 3.743の  $\frac{1}{10}$  の位の数字は何ですか。

答え \_\_\_\_\_

⑥ 0.913の  $\frac{1}{100}$  の位の数字は何ですか。

答え \_\_\_\_\_

⑦ 4.676の  $\frac{1}{1000}$  の位の数字は何ですか。

答え \_\_\_\_\_





# 小数のしくみ3

◎ 何分の一の位？



日にち：            月            日

名まえ \_\_\_\_\_

・次の問いに答えましょう。

① 0.603の3は何分の一の位の数字ですか。

答え \_\_\_\_\_

② 5.713の1は何分の一の位の数字ですか。

答え \_\_\_\_\_

③ 0.004の4は何分の一の位の数字ですか。

答え \_\_\_\_\_

④ 2.946の9は何分の一の位の数字ですか。

答え \_\_\_\_\_

⑤ 1.845の  $\frac{1}{10}$  の位の数字は何ですか。

答え \_\_\_\_\_

⑥ 2.965の  $\frac{1}{100}$  の位の数字は何ですか。

答え \_\_\_\_\_

⑦ 1.034の  $\frac{1}{1000}$  の位の数字は何ですか。

答え \_\_\_\_\_





# 小数のしくみ3

◎ 何分の一の位？



日にち：            月            日

名まえ \_\_\_\_\_

・次の問いに答えましょう。

① 2.714の4は何分の一の位の数字ですか。

答え \_\_\_\_\_

② 2.851の8は何分の一の位の数ですか。

答え \_\_\_\_\_

③ 0.63の3は何分の一の位の数ですか。

答え \_\_\_\_\_

④ 6.702の2は何分の一の位の数ですか。

答え \_\_\_\_\_

⑤ 0.396の  $\frac{1}{10}$  の位の数字は何ですか。

答え \_\_\_\_\_

⑥ 2.761の  $\frac{1}{100}$  の位の数字は何ですか。

答え \_\_\_\_\_

⑦ 4.509の  $\frac{1}{1000}$  の位の数字は何ですか。

答え \_\_\_\_\_





# 小数のしくみ3

◎ 何分の一の位？



日にち：            月            日

名まえ \_\_\_\_\_

・次の問いに答えましょう。

① 3.854の5は何分の一の位の数字ですか。

答え \_\_\_\_\_

② 0.365の3は何分の一の位の数ですか。

答え \_\_\_\_\_

③ 13.04の4は何分の一の位の数ですか。

答え \_\_\_\_\_

④ 6.803の3は何分の一の位の数ですか。

答え \_\_\_\_\_

⑤ 1.742の  $\frac{1}{10}$  の位の数字は何ですか。

答え \_\_\_\_\_


⑥ 0.381の  $\frac{1}{100}$  の位の数字は何ですか。

答え \_\_\_\_\_

⑦ 2.607の  $\frac{1}{1000}$  の位の数字は何ですか。

答え \_\_\_\_\_






# 小数のしくみ3

◎ 何分の一の位？

15

目指せ80点!



名まえ \_\_\_\_\_

・次の問いに答えましょう。(各20点)

① 3.861の1は何分の一の位の数字ですか。

答え \_\_\_\_\_

② 0.204の2は何分の一の位の数ですか。

答え \_\_\_\_\_

③ 1.39の9は何分の一の位の数ですか。

答え \_\_\_\_\_

④ 6.501の  $\frac{1}{1000}$  の位の数字は何ですか。

答え \_\_\_\_\_

⑤ 4.769の  $\frac{1}{10}$  の位の数字は何ですか。

答え \_\_\_\_\_





# 小数のしくみ3

◎ 何分の一の位？

16

目指せ80点!



名まえ \_\_\_\_\_

・次の問いに答えましょう。(各20点)

① 3.654の5は何分の一の位の数字ですか。

答え \_\_\_\_\_

② 1.302の2は何分の一の位の数ですか。

答え \_\_\_\_\_

③ 0.703の7は何分の一の位の数ですか。

答え \_\_\_\_\_

④ 2.501の  $\frac{1}{10}$  の位の数字は何ですか。


答え \_\_\_\_\_

⑤ 0.627の  $\frac{1}{1000}$  の位の数字は何ですか。

答え \_\_\_\_\_







# 小数のしくみ3

◎ 何分の一の位？



日にち：            月            日

名まえ \_\_\_\_\_

・次の問いに答えましょう。（うすい字はなぞりましょう。）

① 6.078の0は何分の一の位の数字ですか。

答え  $\frac{1}{10}$  の位

② 1.572の2は何分の一の位の数ですか。

答え  $\frac{1}{1000}$  の位

③ 3.704の0は何分の一の位の数ですか。

答え  $\frac{1}{100}$  の位

④ 1.59の9は何分の一の位の数ですか。

答え  $\frac{1}{100}$  の位

⑤ 3.025の  $\frac{1}{10}$  の位の数字は何ですか。

答え 0

⑥ 1.253の  $\frac{1}{100}$  の位の数字は何ですか。

答え 5

⑦ 6.201の  $\frac{1}{1000}$  の位の数字は何ですか。

答え 1





# 小数のしくみ3

◎ 何分の一の位？



日にち：          月          日

名まえ \_\_\_\_\_

・次の問いに答えましょう。（うすい字はなぞりましょう。）

① 4.921の2は何分の一の位の数字ですか。

答え  $\frac{1}{100}$  の位

② 7.302の2は何分の一の位の数ですか。

答え  $\frac{1}{1000}$  の位

③ 0.365の3は何分の一の位の数ですか。

答え  $\frac{1}{10}$  の位

④ 3.91の9は何分の一の位の数ですか。

答え  $\frac{1}{10}$  の位

⑤ 0.632の  $\frac{1}{10}$  の位の数字は何ですか。

答え 6

⑥ 3.852の  $\frac{1}{100}$  の位の数字は何ですか。

答え 5

⑦ 3.032の  $\frac{1}{1000}$  の位の数字は何ですか。

答え 2





# 小数のしくみ3

◎ 何分の一の位？



日にち：            月            日

名まえ \_\_\_\_\_

・次の問いに答えましょう。（うすい字はなぞりましょう。）

① 1.632の2は何分の一の位の数字ですか。

答え  $\frac{1}{1000}$  の位

② 0.465の4は何分の一の位の数字ですか。

答え  $\frac{1}{10}$  の位

③ 3.742の4は何分の一の位の数字ですか。

答え  $\frac{1}{100}$  の位

④ 0.014の4は何分の一の位の数字ですか。

答え  $\frac{1}{1000}$  の位

⑤ 3.612の  $\frac{1}{10}$  の位の数字は何ですか。

答え 6

⑥ 2.907の  $\frac{1}{100}$  の位の数字は何ですか。

答え 0

⑦ 5.341の  $\frac{1}{1000}$  の位の数字は何ですか。

答え 1





# 小数のしくみ3

◎ 何分の一の位？



日にち： 月 日

名まえ \_\_\_\_\_

・次の問いに答えましょう。（うすい字はなぞりましょう。）

① 6.034の3は何分の一の位の数字ですか。

答え  $\frac{1}{100}$  の位

② 2.903の9は何分の一の位の数ですか。

答え  $\frac{1}{10}$  の位

③ 0.71の1は何分の一の位の数ですか。

答え  $\frac{1}{100}$  の位

④ 1.623の3は何分の一の位の数ですか。

答え  $\frac{1}{1000}$  の位

⑤ 0.329の  $\frac{1}{10}$  の位の数字は何ですか。

答え 3

⑥ 1.853の  $\frac{1}{100}$  の位の数字は何ですか。

答え 5

⑦ 1.734の  $\frac{1}{1000}$  の位の数字は何ですか。

答え 4





# 小数のしくみ3

◎ 何分の一の位？



日にち：            月            日

名まえ \_\_\_\_\_

・ 次の問いに答えましょう。（うすい字はなぞりましょう。）

① 7.254の2は何分の一の位の数字ですか。

答え  $\frac{1}{10}$  の位

② 1.503の0は何分の一の位の数ですか。

答え  $\frac{1}{100}$  の位

③ 0.89の8は何分の一の位の数ですか。

答え  $\frac{1}{10}$  の位

④ 3.416の6は何分の一の位の数ですか。

答え  $\frac{1}{1000}$  の位

⑤ 2.135の  $\frac{1}{10}$  の位の数字は何ですか。

答え 1

⑥ 0.496の  $\frac{1}{100}$  の位の数字は何ですか。

答え 9

⑦ 3.172の  $\frac{1}{1000}$  の位の数字は何ですか。

答え 2





# 小数のしくみ3

◎ 何分の一の位？



日にち：            月            日

名まえ \_\_\_\_\_

・次の問いに答えましょう。（うすい字はなぞりましょう。）

① 0.719の1は何分の一の位の数字ですか。

答え  $\frac{1}{100}$  の位

② 4.103の3は何分の一の位の数ですか。

答え  $\frac{1}{1000}$  の位

③ 15.26の6は何分の一の位の数ですか。

答え  $\frac{1}{100}$  の位

④ 2.718の7は何分の一の位の数ですか。

答え  $\frac{1}{10}$  の位

⑤ 2.436の  $\frac{1}{10}$  の位の数字は何ですか。

答え 4

⑥ 5.031の  $\frac{1}{100}$  の位の数字は何ですか。

答え 3

⑦ 7.306の  $\frac{1}{1000}$  の位の数字は何ですか。

答え 6





# 小数のしくみ3

◎ 何分の一の位？



日にち： 月 日

名まえ \_\_\_\_\_

・次の問いに答えましょう。（うすい字はなぞりましょう。）

① 2.554の4は何分の一の位の数字ですか。

答え  $\frac{1}{1000}$  の位

② 3.768の7は何分の一の位の数字ですか。

答え  $\frac{1}{10}$  の位

③ 0.023の3は何分の一の位の数字ですか。

答え  $\frac{1}{1000}$  の位

④ 1.724の2は何分の一の位の数字ですか。

答え  $\frac{1}{100}$  の位

⑤ 3.061の  $\frac{1}{10}$  の位の数字は何ですか。

答え 0


⑥ 2.147の  $\frac{1}{100}$  の位の数字は何ですか。

答え 4

⑦ 3.963の  $\frac{1}{1000}$  の位の数字は何ですか。

答え 3





# 小数のしくみ3

◎ 何分の一の位？



日にち：            月            日

名まえ \_\_\_\_\_

・次の問いに答えましょう。

① 1.364の3は何分の一の位の数字ですか。

答え  $\frac{1}{10}$  の位

② 7.852の2は何分の一の位の数ですか。

答え  $\frac{1}{1000}$  の位

③ 0.164の6は何分の一の位の数ですか。

答え  $\frac{1}{100}$  の位

④ 3.742の7は何分の一の位の数ですか。

答え  $\frac{1}{10}$  の位

⑤ 5.136の  $\frac{1}{10}$  の位の数字は何ですか。

答え 1

⑥ 7.462の  $\frac{1}{100}$  の位の数字は何ですか。

答え 6

⑦ 9.132の  $\frac{1}{1000}$  の位の数字は何ですか。

答え 2







# 小数のしくみ3

◎ 何分の一の位？



日にち：            月            日

名まえ \_\_\_\_\_

・次の問いに答えましょう。

① 8.753の7は何分の一の位の数字ですか。

答え  $\frac{1}{10}$  の位

② 4.236の6は何分の一の位の数ですか。

答え  $\frac{1}{1000}$  の位

③ 0.295の9は何分の一の位の数ですか。

答え  $\frac{1}{100}$  の位

④ 6.741の4は何分の一の位の数ですか。

答え  $\frac{1}{100}$  の位

⑤ 8.763の  $\frac{1}{10}$  の位の数字は何ですか。

答え 7

⑥ 6.412の  $\frac{1}{100}$  の位の数字は何ですか。

答え 1

⑦ 0.602の  $\frac{1}{1000}$  の位の数字は何ですか。

答え 2





# 小数のしくみ3

◎ 何分の一の位？



日にち：            月            日

名まえ \_\_\_\_\_

・次の問いに答えましょう。

① 0.684の4は何分の一の位の数字ですか。

答え  $\frac{1}{1000}$  の位

② 6.702の7は何分の一の位の数ですか。

答え  $\frac{1}{10}$  の位

③ 1.273の7は何分の一の位の数ですか。

答え  $\frac{1}{100}$  の位

④ 0.103の3は何分の一の位の数ですか。

答え  $\frac{1}{1000}$  の位

⑤ 5.794の  $\frac{1}{10}$  の位の数字は何ですか。

答え 7

⑥ 0.384の  $\frac{1}{100}$  の位の数字は何ですか。

答え 8

⑦ 4.706の  $\frac{1}{1000}$  の位の数字は何ですか。

答え 6





## 小数のしくみ3

◎ 何分の一の位？



日にち：            月            日

名まえ \_\_\_\_\_

・次の問いに答えましょう。

① 1.846の6は何分の一の位の数字ですか。

答え  $\frac{1}{1000}$  の位

② 0.065の6は何分の一の位の数字ですか。

答え  $\frac{1}{100}$  の位

③ 4.81の1は何分の一の位の数字ですか。

答え  $\frac{1}{100}$  の位

④ 1.923の9は何分の一の位の数字ですか。

答え  $\frac{1}{10}$  の位

⑤ 3.743の  $\frac{1}{10}$  の位の数字は何ですか。

答え 7

⑥ 0.913の  $\frac{1}{100}$  の位の数字は何ですか。

答え 1

⑦ 4.676の  $\frac{1}{1000}$  の位の数字は何ですか。

答え 6





# 小数のしくみ3

◎ 何分の一の位？



日にち：            月            日

名まえ \_\_\_\_\_

・次の問いに答えましょう。

① 0.603の3は何分の一の位の数字ですか。

答え  $\frac{1}{1000}$  の位

② 5.713の1は何分の一の位の数字ですか。

答え  $\frac{1}{100}$  の位

③ 0.004の4は何分の一の位の数字ですか。

答え  $\frac{1}{1000}$  の位

④ 2.946の9は何分の一の位の数字ですか。

答え  $\frac{1}{10}$  の位

⑤ 1.845の  $\frac{1}{10}$  の位の数字は何ですか。

答え 8

⑥ 2.965の  $\frac{1}{100}$  の位の数字は何ですか。

答え 6

⑦ 1.034の  $\frac{1}{1000}$  の位の数字は何ですか。

答え 4





# 小数のしくみ3

◎ 何分の一の位？



日にち：            月            日

名まえ \_\_\_\_\_

・次の問いに答えましょう。

① 2.714の4は何分の一の位の数字ですか。

答え  $\frac{1}{1000}$  の位

② 2.851の8は何分の一の位の数ですか。

答え  $\frac{1}{10}$  の位

③ 0.63の3は何分の一の位の数ですか。

答え  $\frac{1}{100}$  の位

④ 6.702の2は何分の一の位の数ですか。

答え  $\frac{1}{1000}$  の位

⑤ 0.396の  $\frac{1}{10}$  の位の数字は何ですか。

答え 3

⑥ 2.761の  $\frac{1}{100}$  の位の数字は何ですか。

答え 6

⑦ 4.509の  $\frac{1}{1000}$  の位の数字は何ですか。

答え 9





# 小数のしくみ3

◎ 何分の一の位？



日にち：            月            日

名まえ \_\_\_\_\_

・次の問いに答えましょう。

① 3.854の5は何分の一の位の数字ですか。

答え  $\frac{1}{100}$  の位

② 0.365の3は何分の一の位の数ですか。

答え  $\frac{1}{10}$  の位

③ 13.04の4は何分の一の位の数ですか。

答え  $\frac{1}{100}$  の位

④ 6.803の3は何分の一の位の数ですか。

答え  $\frac{1}{1000}$  の位

⑤ 1.742の  $\frac{1}{10}$  の位の数字は何ですか。

答え 7

⑥ 0.381の  $\frac{1}{100}$  の位の数字は何ですか。

答え 8

⑦ 2.607の  $\frac{1}{1000}$  の位の数字は何ですか。

答え 7





# 小数のしくみ3

◎ 何分の一の位？

15

目指せ80点!



名まえ \_\_\_\_\_

・次の問いに答えましょう。(各20点)

① 3.861の1は何分の一の位の数字ですか。

答え  $\frac{1}{1000}$  の位

② 0.204の2は何分の一の位の数字ですか。

答え  $\frac{1}{10}$  の位

③ 1.39の9は何分の一の位の数字ですか。

答え  $\frac{1}{100}$  の位


④ 6.501の  $\frac{1}{1000}$  の位の数字は何ですか。

答え 1

⑤ 4.769の  $\frac{1}{10}$  の位の数字は何ですか。

答え 7



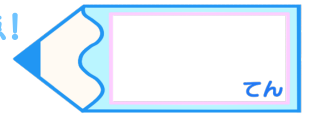


# 小数のしくみ3

◎ 何分の一の位？

16

目指せ80点!



名まえ \_\_\_\_\_

・次の問いに答えましょう。(各20点)

① 3.654の5は何分の一の位の数字ですか。

答え  $\frac{1}{100}$  の位

② 1.302の2は何分の一の位の数ですか。

答え  $\frac{1}{1000}$  の位

③ 0.703の7は何分の一の位の数ですか。

答え  $\frac{1}{10}$  の位

④ 2.501の  $\frac{1}{10}$  の位の数字は何ですか。

答え 5

⑤ 0.627の  $\frac{1}{1000}$  の位の数字は何ですか。

答え 7

