



小数のしくみ4

◎ 小数を大きさ順に並べる



日にち： 月 日

名まえ _____

・ 次のア～エの小数の大きさをくらべます。(うすい字はなぞりましょう。)

ア 2.46

イ 2.406

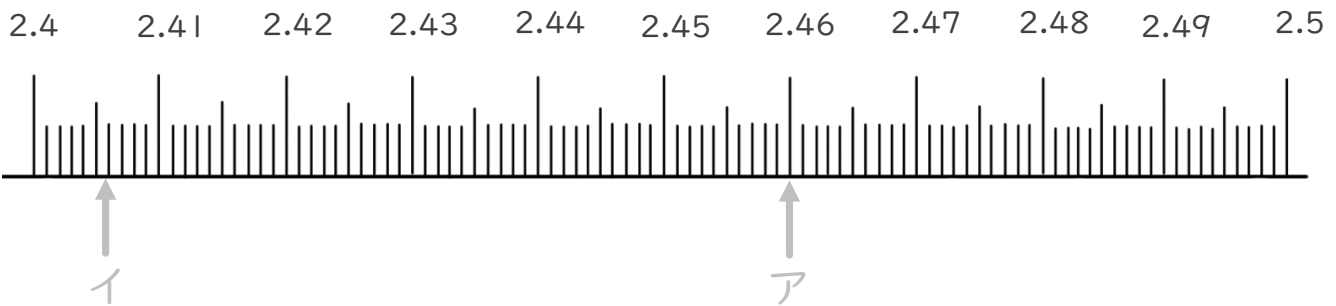
ウ 2.466

エ 2.5

	十の位	一の位	$\frac{1}{10}$ の位	$\frac{1}{100}$ の位	$\frac{1}{1000}$ の位
ア		2	4	6	
イ		2	4	0	6
ウ		2	4	6	6
エ		2	5		

① ア～エの小数を上表に書きこみましょう。

② ア～エの小数を数直線上に書きこみましょう。



③ ア～エを小さい順にならべて書きましょう。

答え: イ → ア → →





小数のしくみ4

◎ 小数を大きさ順に並べる



日にち： 月 日

名まえ _____

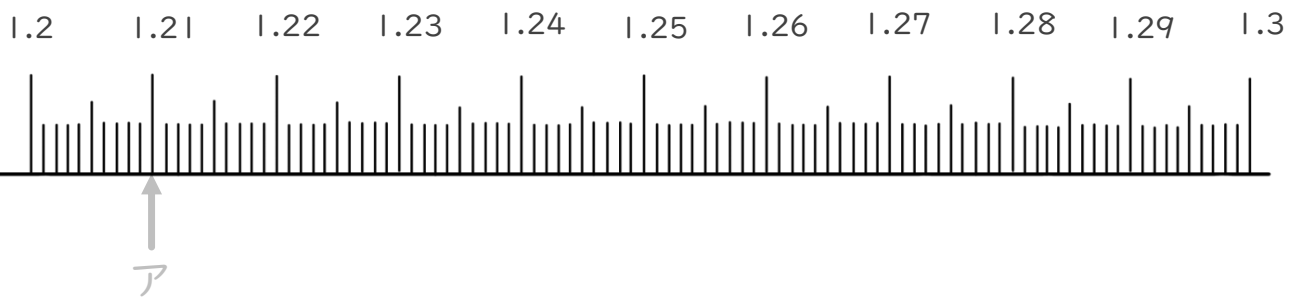
・ 次のア～エの小数の大きさをくらべます。(うすい字はなぞりましょう。)

- ア 1.21
- イ 1.257
- ウ 1.232
- エ 1.3

	十の位	一の位	$\frac{1}{10}$ の位	$\frac{1}{100}$ の位	$\frac{1}{1000}$ の位
ア		1	2	1	
イ		1	2	5	7
ウ					
エ					

① ア～エの小数を上の表に書きこみましょう。

② ア～エの小数を数直線上に書きこみましょう。



③ ア～エを小さい順にならべて書きましょう。

答え: ア → → →





小数のしくみ4

◎ 小数を大きさ順に並べる



日にち： 月 日

名まえ _____

・ 次のア～エの小数の大きさをくらべます。(うすい字はなぞりましょう。)

ア 6.2

イ 6.105

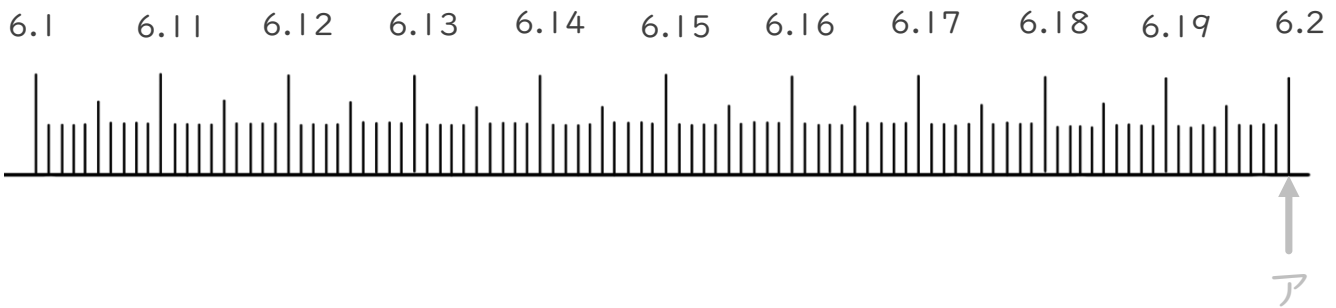
ウ 6.141

エ 6.129

	十の位	一の位	$\frac{1}{10}$ の位	$\frac{1}{100}$ の位	$\frac{1}{1000}$ の位
ア		6	2		
イ			.		
ウ			.		
エ			.		

① ア～エの小数を上表に書きこみましょう。

② ア～エの小数を数直線上に書きこみましょう。



③ ア～エを小さい順にならべて書きましょう。

答え： → → →





小数のしくみ4

◎ 小数を大きさ順に並べる



日にち： 月 日

名まえ _____

・ 次のア～エの小数の大きさをくらべます。(うすい字はなぞりましょう。)

ア 10.74

イ 10.779

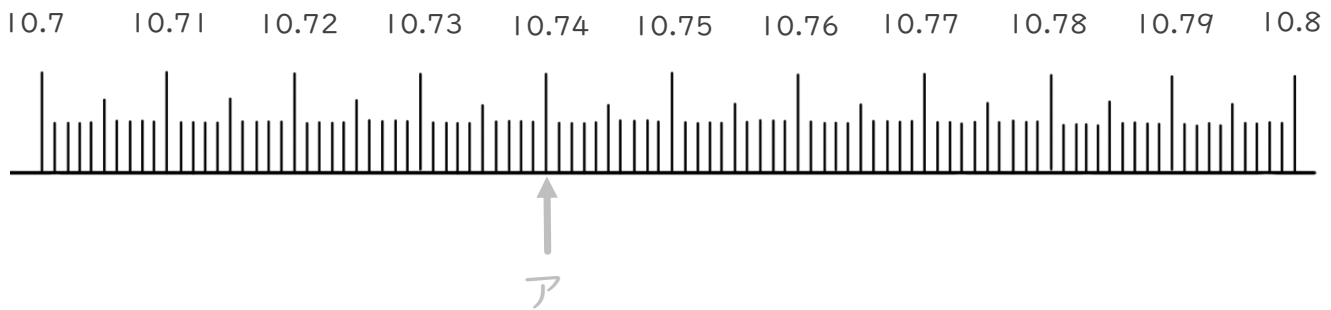
ウ 10.709

エ 10.72

	十の位	一の位	$\frac{1}{10}$ の位	$\frac{1}{100}$ の位	$\frac{1}{1000}$ の位
ア	1	0	7	4	
イ			.		
ウ			.		
エ			.		

① ア～エの小数を上表に書きこみましょう。

② ア～エの小数を数直線上に書きこみましょう。



③ ア～エを小さい順にならべて書きましょう。

答え： → → →





小数のしくみ4

◎ 小数を大きさ順に並べる



日にち： 月 日

名まえ _____

・ 次のア～エの小数の大きさをくらべます。

ア 0.42

イ 0.438

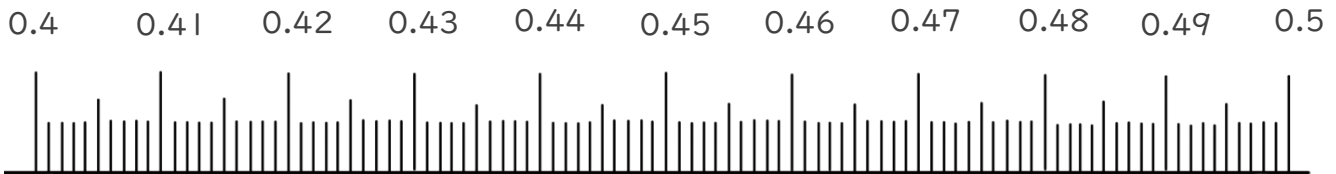
ウ 0.402

エ 0.5

	十 の 位	一 の 位	$\frac{1}{10}$ の 位	$\frac{1}{100}$ の 位	$\frac{1}{1000}$ の 位
ア					
イ					
ウ					
エ					

① ア～エの小数を上表に書きこみましょう。

② ア～エの小数を数直線上に書きこみましょう。



③ ア～エを小さい順にならべて書きましょう。

答え： → → →





小数のしくみ4

◎ 小数を大きさ順に並べる



日にち： 月 日

名まえ _____

・ 次のア～エの小数の大きさをくらべます。

ア 3.984

イ 3.903

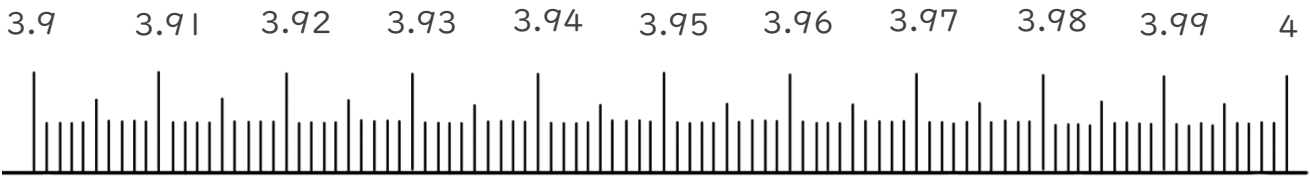
ウ 4

エ 3.956

	十 の 位	一 の 位	$\frac{1}{10}$ の 位	$\frac{1}{100}$ の 位	$\frac{1}{1000}$ の 位
ア					
イ					
ウ					
エ					

① ア～エの小数を上表に書きこみましょう。

② ア～エの小数を数直線上に書きこみましょう。



③ ア～エを小さい順にならべて書きましょう。

答え： → → →





小数のしくみ4

◎ 小数を大きさ順に並べる



日にち： 月 日

名まえ _____

・ 次のア～エの小数の大きさをくらべます。

ア 7.351

イ 7.36

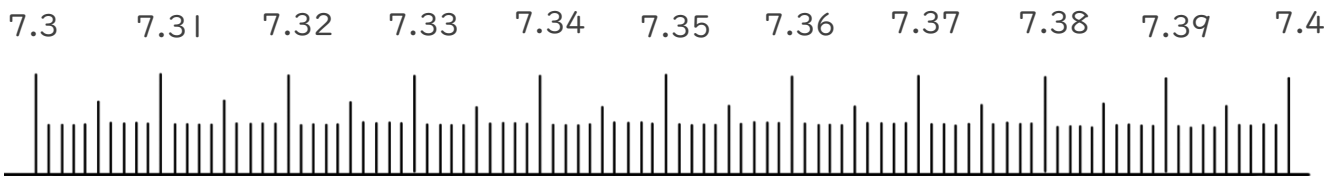
ウ 7.4

エ 7.308

	十 の 位	一 の 位	$\frac{1}{10}$ の 位	$\frac{1}{100}$ の 位	$\frac{1}{1000}$ の 位
ア					
イ					
ウ					
エ					

① ア～エの小数を上表に書きこみましょう。

② ア～エの小数を数直線上に書きこみましょう。



③ ア～エを小さい順にならべて書きましょう。

答え： → → →





小数のしくみ4

◎ 小数を大きさ順に並べる



日にち： 月 日

名まえ _____

・ 次のア～エの小数の大きさをくらべます。

ア 12.1

イ 12.045

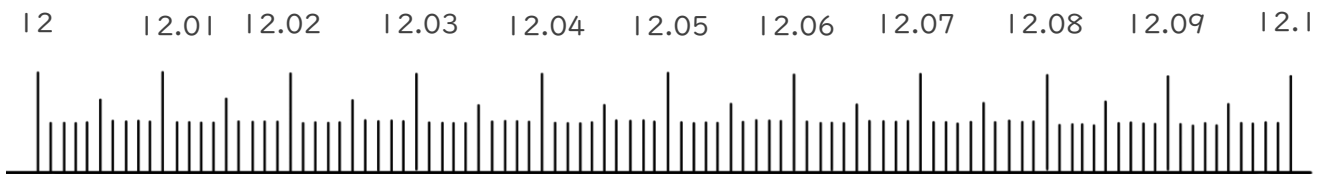
ウ 12.092

エ 12

	十 の 位	一 の 位	$\frac{1}{10}$ の 位	$\frac{1}{100}$ の 位	$\frac{1}{1000}$ の 位
ア					
イ					
ウ					
エ					

① ア～エの小数を上表に書きこみましょう。

② ア～エの小数を数直線上に書きこみましょう。



③ ア～エを小さい順にならべて書きましょう。

答え： → → →





小数のしくみ4

◎ 小数を大きさ順に並べる



日にち： 月 日

名まえ _____

・ 次のア～エの小数の大きさをくらべます。

ア 0.94

イ 0.929

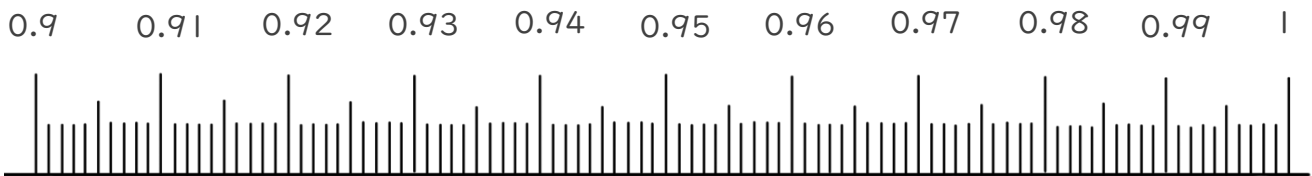
ウ 0.908

エ 1

	十 の 位	一 の 位	$\frac{1}{10}$ の 位	$\frac{1}{100}$ の 位	$\frac{1}{1000}$ の 位
ア					
イ					
ウ					
エ					

① ア～エの小数を上表に書きこみましょう。

② ア～エの小数を数直線上に書きこみましょう。



③ ア～エを小さい順にならべて書きましょう。

答え： → → →





小数のしくみ4

㊦ 小数を大きさ順に並べる



日にち： 月 日

名まえ

1. 次の4つの小数を小さい順にならべて書きましょう。

(うすい字はなぞりましょう。)

① 2.465, 2.412, 2.404, 2.5

2.404,

② 1.512, 1.509, 1.499, 1.5

③ 8.42, 8.402, 8.5, 8.411

2. 次の4つの小数を大きい順にならべて書きましょう。

(うすい字はなぞりましょう。)

① 3.65, 3.642, 3.068, 3.651

3.651,

② 11.24, 11.203, 11.2, 11.229





小数のしくみ4

㊦ 小数を大きさ順に並べる



日にち： 月 日

名まえ

1. 次の4つの小数を小さい順にならべて書きましょう。

(うすい字はなぞりましょう。)

① 1.425, 1.416, 1.403, 1.5

1.403,

② 3.43, 3.475, 3.418, 3.405

③ 6.902, 6.922, 6.971, 7

2. 次の4つの小数を大きい順にならべて書きましょう。

(うすい字はなぞりましょう。)

① 8.103, 8.117, 8.801, 8.111

8.801,

② 10.637, 10.667, 10.376, 10.767





小数のしくみ4

㊦ 小数を大きさ順に並べる



日にち： 月 日

名まえ

1. 次の4つの小数を小さい順にならべて書きましょう。

① 5.75, 5.69, 5.034, 5.287

② 9.375, 9.07, 9.56, 9.1

③ 2.874, 2.88, 2.457, 2.09

2. 次の4つの小数を大きい順にならべて書きましょう。

① 10.465, 10.537, 10.289, 10.721

② 4.925, 4.386, 5, 4.55,





小数のしくみ4

㊦ 小数を大きさ順に並べる



日にち： 月 日

名まえ

1. 次の4つの小数を小さい順にならべて書きましょう。

① 6.73, 6.24, 7, 6.78

② 0.03, 0.305, 0.13, 0.321

③ 3.37, 3.765, 3.61, 3.917

2. 次の4つの小数を大きい順にならべて書きましょう。

① 0.551, 0.555, 0.515, 0

② 15.3, 15.301, 15.531, 15.153





小数のしくみ4

㊦ 小数を大きさ順に並べる



日にち： 月 日

名まえ

1. 次の4つの小数を小さい順にならべて書きましょう。

① 12.02, 12.602, 12.624, 12.026

② 5.406, 5.545, 5.634, 5.506

③ 7.099, 7.197, 7.097, 7.179

2. 次の4つの小数を大きい順にならべて書きましょう。

① 4.149, 4.191, 4.894, 4.819

② 11.011, 11.107, 11.11, 11.017






小数のしくみ4

㊦ 小数を大きさ順に並べる

15

目指せ80点!



名まえ _____

1. 次の4つの小数を大きい順にならべて書きましょう。(各20点)

① 0.94, 0.908, 1, 0.929

② 0.5, 0.402, 0.438, 0.42

③ 3.956, 4, 3.903, 3.984,

2. 次の4つの小数を小さい順にならべて書きましょう。(各20点)

① 0.551, 0, 0.555, 0.515,

② 11.11, 11.017, 11.107, 11.011





小数のしくみ4

㊦ 小数を大きさ順に並べる

16

目指せ80点!



名まえ _____

1. 次の4つの小数を大きい順にならべて書きましょう。(各20点)

① 7.308, 7.4, 7.36, 7.351,

② 3.43, 3.475, 3.418, 3.405

③ 0.565, 0.506, 0.556, 0.566

2. 次の4つの小数を小さい順にならべて書きましょう。(各20点)

① 16.43, 16.495, 16.403, 16.473

② 11.179, 11.097, 11.19, 11.119





小数のしくみ4

◎ 小数を大きさ順に並べる



日にち： 月 日

名まえ _____

・ 次のア～エの小数の大きさをくらべます。(うすい字はなぞりましょう。)

ア 2.46

イ 2.406

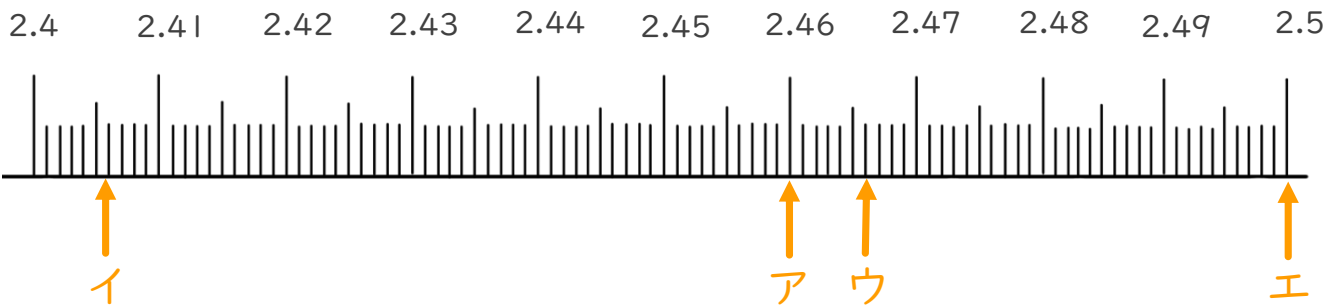
ウ 2.466

エ 2.5

	十の位	一の位	$\frac{1}{10}$ の位	$\frac{1}{100}$ の位	$\frac{1}{1000}$ の位
ア		2	4	6	
イ		2	4	0	6
ウ		2	4	6	6
エ		2	5		

① ア～エの小数を上表に書きこみましょう。

② ア～エの小数を数直線上に書きこみましょう。



③ ア～エを小さい順にならべて書きましょう。

答え: **イ** → **ア** → **ウ** → **エ**





小数のしくみ4

◎ 小数を大きさ順に並べる



日にち： 月 日

名まえ _____

・ 次のア～エの小数の大きさをくらべます。(うすい字はなぞりましょう。)

ア 1.21

イ 1.257

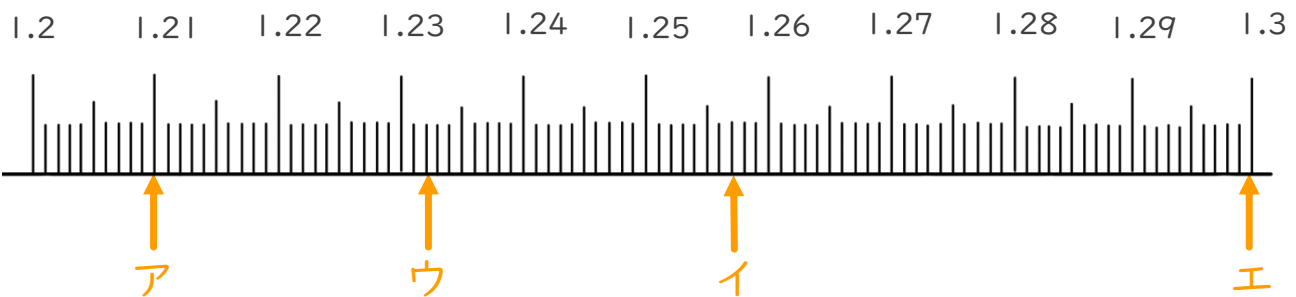
ウ 1.232

エ 1.3

	十の位	一の位	$\frac{1}{10}$ の位	$\frac{1}{100}$ の位	$\frac{1}{1000}$ の位
ア		1	.2	1	
イ		1	.2	5	7
ウ		1	.2	3	2
エ		1	.3		

① ア～エの小数を上表に書きこみましょう。

② ア～エの小数を数直線上に書きこみましょう。



③ ア～エを小さい順にならべて書きましょう。

答え: ア → ウ → イ → エ





小数のしくみ4

◎ 小数を大きさ順に並べる



日にち： 月 日

名まえ _____

・ 次のア～エの小数の大きさをくらべます。(うすい字はなぞりましょう。)

ア 6.2

イ 6.105

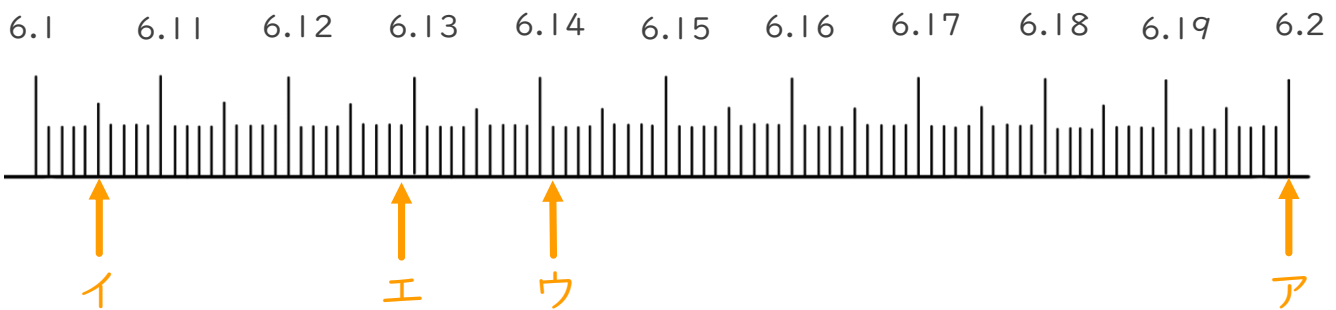
ウ 6.141

エ 6.129

十の位	一の位	$\frac{1}{10}$ の位	$\frac{1}{100}$ の位	$\frac{1}{1000}$ の位
ア	6	2		
イ	6	1	0	5
ウ	6	1	4	1
エ	6	1	2	9

① ア～エの小数を上表に書きこみましょう。

② ア～エの小数を数直線上に書きこみましょう。



③ ア～エを小さい順にならべて書きましょう。

答え: **イ** → **エ** → **ウ** → **ア**





小数のしくみ4

◎ 小数を大きさ順に並べる



日にち： 月 日

名まえ _____

・ 次のア～エの小数の大きさをくらべます。(うすい字はなぞりましょう。)

ア 10.74

イ 10.779

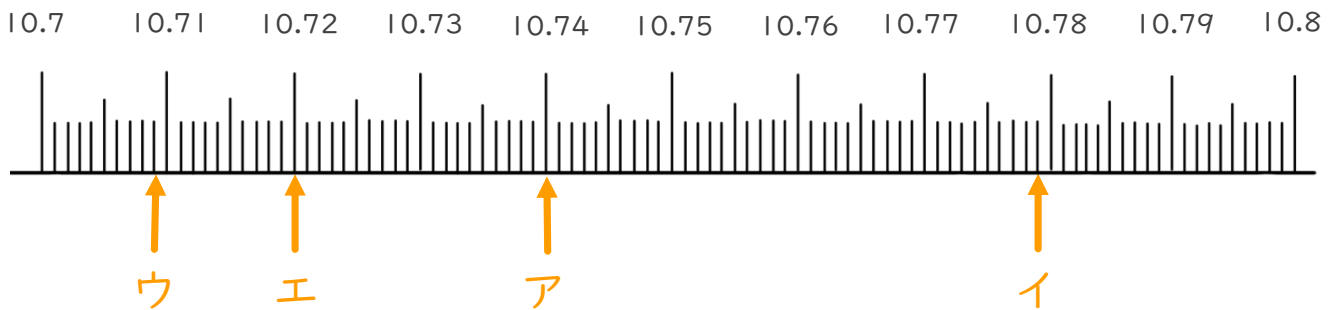
ウ 10.709

エ 10.72

	十の位	一の位	$\frac{1}{10}$ の位	$\frac{1}{100}$ の位	$\frac{1}{1000}$ の位
ア	1	0	7	4	
イ	1	0	7	7	9
ウ	1	0	7	0	9
エ	1	0	7	2	

① ア～エの小数を上表に書きこみましょう。

② ア～エの小数を数直線上に書きこみましょう。



③ ア～エを小さい順にならべて書きましょう。

答え: **ウ** → **エ** → **ア** → **イ**





小数のしくみ4

◎ 小数を大きさ順に並べる



日にち： 月 日

名まえ _____

・ 次のア～エの小数の大きさをくらべます。

ア 0.42

イ 0.438

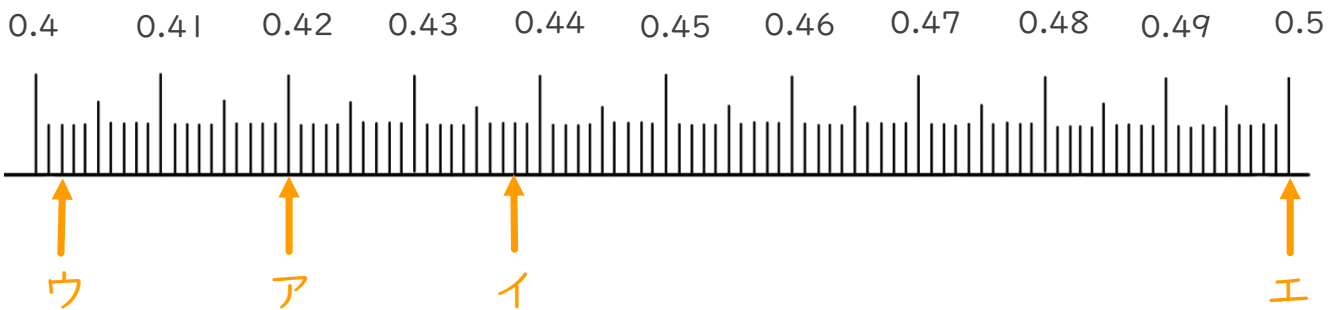
ウ 0.402

エ 0.5

	十の位	一の位	$\frac{1}{10}$ の位	$\frac{1}{100}$ の位	$\frac{1}{1000}$ の位
ア		0	.	4	2
イ		0	.	4	3 8
ウ		0	.	4	0 2
エ		0	.	5	

① ア～エの小数を上表に書きこみましょう。

② ア～エの小数を数直線上に書きこみましょう。



③ ア～エを小さい順にならべて書きましょう。

答え: **ウ** → **ア** → **イ** → **エ**





小数のしくみ4

㊦ 小数を大きさ順に並べる



日にち： 月 日

名まえ _____

1. 次の4つの小数を小さい順にならべて書きましょう。

(うすい字はなぞりましょう。)

① 2.465 , 2.412 , 2.404 , 2.5

2.404, 2.412, 2.465, 2.5

② 1.512 , 1.509 , 1.499 , 1.5

1.499, 1.5, 1.509, 1.512

③ 8.42 , 8.402 , 8.5 , 8.411

8.402, 8.411, 8.42, 8.5

2. 次の4つの小数を大きい順にならべて書きましょう。

(うすい字はなぞりましょう。)

① 3.65 , 3.642 , 3.068 , 3.651

3.651, 3.65, 3.642, 3.068

② 11.24 , 11.203 , 11.2 , 11.229

11.24, 11.229, 11.203, 11.2





小数のしくみ4

㊦ 小数を大きさ順に並べる



日にち： 月 日

名まえ _____

1. 次の4つの小数を小さい順にならべて書きましょう。

(うすい字はなぞりましょう。)

① 1.425, 1.416, 1.403, 1.5

1.403, 1.416, 1.425, 1.5

② 3.43, 3.475, 3.418, 3.405

3.405, 3.418, 3.43, 3.475

③ 6.902, 6.922, 6.971, 7

6.902, 6.922, 6.971, 7

2. 次の4つの小数を大きい順にならべて書きましょう。

(うすい字はなぞりましょう。)

① 8.103, 8.117, 8.801, 8.111

8.801, 8.117, 8.111, 8.103

② 10.637, 10.667, 10.376, 10.767

10.767, 10.667, 10.637, 10.376





小数のしくみ4

㊦ 小数を大きさ順に並べる



日にち： 月 日

名まえ _____

1. 次の4つの小数を小さい順にならべて書きましょう。

① 5.75, 5.69, 5.034, 5.287

5.034, 5.287, 5.69, 5.75

② 9.375, 9.07, 9.56, 9.1

9.07, 9.1, 9.375, 9.56

③ 2.874, 2.88, 2.457, 2.09

2.09, 2.457, 2.874, 2.88

2. 次の4つの小数を大きい順にならべて書きましょう。

① 10.465, 10.537, 10.289, 10.721,

10.721, 10.537, 10.465, 10.289

② 4.925, 4.386, 5, 4.55,

5, 4.925, 4.55, 4.386





小数のしくみ4

㊦ 小数を大きさ順に並べる



日にち： 月 日

名まえ _____

1. 次の4つの小数を小さい順にならべて書きましょう。

① 6.73, 6.24, 7, 6.78

6.24, 6.73, 6.78, 7

② 0.03, 0.305, 0.13, 0.321

0.03, 0.13, 0.305, 0.321

③ 3.37, 3.765, 3.61, 3.917

3.37, 3.61, 3.765, 3.917

2. 次の4つの小数を大きい順にならべて書きましょう。

① 0.551, 0.555, 0.515, 0

0.555, 0.551, 0.515, 0

② 15.3, 15.301, 15.531, 15.153

15.531, 15.301, 15.3, 15.153





小数のしくみ4

㊦ 小数を大きさ順に並べる



日にち： 月 日

名まえ _____

1. 次の4つの小数を小さい順にならべて書きましょう。

① 12.02, 12.602, 12.624, 12.026

12.02, 12.026, 12.602, 12.624

② 5.406, 5.545, 5.634, 5.506

5.406, 5.506, 5.545, 5.634

③ 7.099, 7.197, 7.097, 7.179

7.097, 7.099, 7.179, 7.197

2. 次の4つの小数を大きい順にならべて書きましょう。

① 4.149, 4.191, 4.894, 4.819

4.894, 4.819, 4.191, 4.149

② 11.011, 11.107, 11.11, 11.017

11.11, 11.107, 11.017, 11.011






小数のしくみ4

㊦ 小数を大きさ順に並べる

15

目指せ80点!



名まえ _____

1. 次の4つの小数を大きい順にならべて書きましょう。(各20点)

① 0.94, 0.908, 1, 0.929

1, 0.94, 0.929, 0.908

② 0.5, 0.402, 0.438, 0.42

0.5, 0.438, 0.42, 0.402

③ 3.956, 4, 3.903, 3.984,

4, 3.984, 3.956, 3.903

2. 次の4つの小数を小さい順にならべて書きましょう。(各20点)

① 0.551, 0, 0.555, 0.515,

0, 0.515, 0.551, 0.555

② 11.11, 11.017, 11.107, 11.011

11.011, 11.017, 11.107, 11.11






小数のしくみ4

◎ 小数を大きさ順に並べる

16

目指せ80点!



名まえ _____

1. 次の4つの小数を大きい順にならべて書きましょう。(各20点)

① 7.308, 7.4, 7.36, 7.351,

7.4, 7.36, 7.351, 7.308

② 3.43, 3.475, 3.418, 3.405

3.475, 3.43, 3.418, 3.405

③ 0.565, 0.506, 0.556, 0.566

0.566, 0.565, 0.556, 0.506

2. 次の4つの小数を小さい順にならべて書きましょう。(各20点)

① 16.43, 16.495, 16.403, 16.473

16.403, 16.43, 16.473, 16.495

② 11.179, 11.097, 11.19, 11.119

11.097, 11.119, 11.179, 11.19

