



小数のしくみ5

◎ 小数の大小と不等号



日にち： 月 日

名まえ _____

次の にあてはまる不等号を書きましょう。

① 3.28 3.29

⑦ 45.296 45.3

② 7.032 7.034

⑧ 5.903 5.92

③ 0.173 0.17

⑨ 0.267 0.26

④ 17.179 17.18

⑩ 61.079 61.08

⑤ 8.05 8.048

⑪ 0.635 0.627

⑥ 0.251 0.25

⑫ 56.203 56.23

① 例題



すらすらぷりんと



小数のしくみ5

◎ 小数の大小と不等号



日にち： 月 日

名まえ _____

次の にあてはまる不等号を書きましょう。

① 5.31 5.27

⑦ 28.396 28.39

② 6.03 6.031

⑧ 4.31 4.29

③ 0.53 0.57

⑨ 10.27 10.26

④ 7.079 7.08

⑩ 11.01 11.03


⑤ 0.05 0.043

⑪ 9.33 0.929

⑥ 1.17 1.13

⑫ 22.23 22.203





小数のしくみ5

㊦ 小数の大小と不等号



日にち： 月 日

名まえ _____

次の にあてはまる不等号を書きましょう。

① 11.21 11.2

⑦ 2.06 2.09

② 54.23 54.3

⑧ 0.63 0.62

③ 0.901 0.91

⑨ 3.72 3.71

④ 6.109 6.11

⑩ 5.01 5.03

⑤ 0.45 0.439

⑪ 8.81 8.189

⑥ 4.177 4.2

⑫ 0.109 0.019





小数のしくみ5

◎ 小数の大小と不等号



日にち： 月 日

名まえ _____

次の にあてはまる不等号を書きましょう。

① $0.529 > 0.51$

⑦ $5.16 \square 5.119$

② $1.508 \square 1.52$

⑧ $78.09 \square 78.1$

③ $0.001 \square 0.01$

⑨ $12.21 \square 12.12$

④ $10.335 \square 10.3$

⑩ $5.01 \square 5.03$


⑤ $8.15 \square 8.095$

⑪ $0.021 \square 0.003$

⑥ $14.7 \square 14.077$

⑫ $31.23 \square 31.3$





小数のしくみ5

◎ 小数の大小と不等号



日にち： 月 日

名まえ _____

次の にあてはまる不等号を書きましょう。

① 11.931 11.09

⑦ 0.412 0.145

② 39.08 39.8

⑧ 3.859 3.958

③ 0.059 0.06

⑨ 84.1 84.104

④ 9.716 9.8

⑩ 0.16 0.06

⑤ 18.78 18.8

⑪ 5.1 5.013

⑥ 4.31 4.306

⑫ 0.081 0.009





小数のしくみ5

㊦ 小数の大小と不等号



日にち： 月 日

名まえ _____

次の にあてはまる不等号を書きましょう。

① 0.1 0.09

⑦ 31.12 31.21

② 1.45 1.53

⑧ 2.102 2.012

③ 6.59 6.069

⑨ 4.131 4.14

④ 0.6 0.591

⑩ 76.1 76.089

⑤ 0.854 0.845

⑪ 92.09 92.115

⑥ 51.6 51.06

⑫ 3.705 3.085





小数のしくみ5

◎ 小数の大小と不等号



日にち： 月 日

名まえ _____

次の にあてはまる不等号を書きましょう。

① 36.901 37.01

⑦ 4.728 4.782

② 90.801 90.81

⑧ 0.911 0.902

③ 5.824 5.83

⑨ 7.24 7.034

④ 12.65 12.8

⑩ 0.89 0.091

⑤ 29.13 28.93

⑪ 6.6 6.601

⑥ 0.01 0.1

⑫ 49.01 48.9





小数のしくみ5

◎ 小数の大小と不等号



日にち： 月 日

名まえ _____

次の にあてはまる不等号を書きましょう。

① 5.1 5.06

⑦ 17.24 17.3

② 0.57 0.539

⑧ 3.02 3.012

③ 9.901 9.91

⑨ 13.13 13.14

④ 7.63 7.592

⑩ 6.101 6.099

⑤ 8.055 8.085

⑪ 2.609 2.615

⑥ 1.63 1.065

⑫ 0.005 0.5





小数のしくみ5

◎ 小数の大小と不等号



日にち： 月 日

名まえ _____

次の にあてはまる不等号を書きましょう。

① 0.028 0.1

⑦ 37.82 38.201

② 0.676 0.767

⑧ 45.1 44.915

③ 2.74 2.801

⑨ 11.491 11.5

④ 67.011 67.1

⑩ 1.384 1.084

⑤ 0.921 0.932

⑪ 0.29 0.301

⑥ 5.382 5.41

⑫ 39.3 38.492





小数のしくみ5

⑤ 小数の大小と不等号



日にち： 月 日

名まえ _____

1. 次の にあてはまる不等号を書きましょう。

① 3.28 3.29

⑤ 24.519 25.41

② 7.032 7.034

⑥ 2.016 2.017

③ 0.173 0.17

⑦ 0.498 0.49

④ 17.179 17.18

⑧ 25.304 25.3

2. 次の問いに答えましょう。

① 6.078の0は小数第何位ですか。

答え _____


② 1.572の2は小数第何位ですか。

答え _____

③ 6.201の小数第三位の数字は何ですか。

答え _____





小数のしくみ5

㉟ 小数の大小と不等号



日にち： 月 日

名まえ _____

1. 次の にあてはまる不等号を書きましょう。

① 5.12 5.21

⑤ 11.019 11.12

② 3.432 3.053

⑥ 10.16 10.017

③ 0.389 0.47

⑦ 0.098 0.09

④ 35.295 35.3

⑧ 47.505 46.95

2. 次の問いに答えましょう。

① 8.205 の 0 は小数第何位ですか。

答え _____


② 4.728 の 8 は小数第何位ですか。

答え _____

③ 0.029 の小数第二位の数字は何ですか。

答え _____





小数のしくみ5

㊦ 小数の大小と不等号

12

日にち： 月 日

名まえ _____

1. 次の にあてはまる不等号を書きましょう。

① 0.32 0.302

⑤ 28.416 28.51

② 5.004 5.012

⑥ 31.72 31.703

③ 2.314 2.32

⑦ 14.08 14.103

④ 80.193 80.2

⑧ 39.719 40.01

2. 次の問いに答えましょう。

① 0.823 の 8 は小数第何位ですか。

答え _____


② 3.902 の 0 は小数第何位ですか。

答え _____

③ 17.572 の小数第一位の数字は何ですか。

答え _____





小数のしくみ5

㊦ 小数の大小と不等号

13

日にち： 月 日

名まえ _____

1. 次の にあてはまる不等号を書きましょう。

① 1.46 1.447

⑤ 81.802 81.71

② 19.43 18.981

⑥ 75.023 75.032

③ 0.728 0.701

⑦ 0.109 0.011

④ 30.024 30.1

⑧ 52.812 52.01

2. 次の問いに答えましょう。

① 0.381 の小数第二位の数字は何ですか。

答え _____


② 9.71 の7は小数第何位ですか。

答え _____

③ 1.003 の小数第三位の数字は何ですか。

答え _____





小数のしくみ5

㉟ 小数の大小と不等号



日にち： 月 日

名まえ _____

1. 次の にあてはまる不等号を書きましょう。

① 0.513 0.517

⑤ 1.945 1.954

② 37.05 37.005

⑥ 44.646 44.606

③ 0.236 0.326

⑦ 0.171 0.117

④ 12.843 12.85

⑧ 52.812 52.01

2. 次の問いに答えましょう。

① 74.756 の小数第三位の数字は何ですか。

答え _____


② 0.363 の6は小数第何位ですか。

答え _____

③ 13.409 の0は小数第何位ですか。

答え _____





小数のしくみ5

㊦ 小数の大小と不等号

15

目指せ80点!



名まえ _____

1. 次の にあてはまる不等号を書きましょう。

① 67.32 66.982

⑤ 0.533 0.534

② 7.205 7.025

⑥ 43.056 43.055

③ 0.901 0.911

⑦ 56.07 56.077

④ 10.083 10.08

⑧ 24.101 24.011

2. 次の問いに答えましょう。

① 0.328の3は小数第何位ですか。

答え _____


② 10.284の小数第三位の数字は何ですか。

答え _____

③ 4.564の6は小数第何位ですか。

答え _____





小数のしくみ5

⑤ 小数の大小と不等号

16

目指せ80点!



名まえ _____

1. 次の にあてはまる不等号を書きましょう。

① 7.732 7.728

⑤ 10.33 10.334

② 18.2 18.21

⑥ 0.832 0.829

③ 0.372 0.272

⑦ 6.437 6.377

④ 23.327 23.4

⑧ 89.118 89.801

2. 次の問いに答えましょう。

① 0.347 の小数第一位の数字は何ですか。

答え _____

② 20.621 の 1 は小数第何位ですか。

答え _____

③ 63.25 の小数第二位の数字は何ですか。

答え _____





小数のしくみ5

◎ 小数の大小と不等号



日にち： 月 日

名まえ _____

次の にあてはまる不等号を書きましょう。

① 3.28 3.29

⑦ 45.296 45.3

② 7.032 7.034

⑧ 5.903 5.92

③ 0.173 0.17

⑨ 0.267 0.26

④ 17.179 17.18

⑩ 61.079 61.08


⑤ 8.05 8.048

⑪ 0.635 0.627

⑥ 0.251 0.25

⑫ 56.203 56.23





小数のしくみ5

㊦ 小数の大小と不等号



日にち： 月 日

名まえ _____

次の にあてはまる不等号を書きましょう。

① 5.31 5.27

⑦ 28.396 28.39

② 6.03 6.031

⑧ 4.31 4.29

③ 0.53 0.57

⑨ 10.27 10.26

④ 7.079 7.08

⑩ 11.01 11.03

⑤ 0.05 0.043

⑪ 9.33 0.929

⑥ 1.17 1.13

⑫ 22.23 22.203

② 確認 答え



すらすらぷりんと



小数のしくみ5

㊦ 小数の大小と不等号



日にち： 月 日

名まえ _____

次の にあてはまる不等号を書きましょう。

① 11.21 11.2

⑦ 2.06 2.09

② 54.23 54.3

⑧ 0.63 0.62

③ 0.901 0.91

⑨ 3.72 3.71

④ 6.109 6.11

⑩ 5.01 5.03

⑤ 0.45 0.439

⑪ 8.81 8.189

⑥ 4.177 4.2

⑫ 0.109 0.019





小数のしくみ5

◎ 小数の大小と不等号



日にち： 月 日

名まえ _____

次の にあてはまる不等号を書きましょう。

① 0.529 0.51

⑦ 5.16 5.119

② 1.508 1.52

⑧ 78.09 78.1

③ 0.001 0.01

⑨ 12.21 12.12

④ 10.335 10.3

⑩ 5.01 5.03

⑤ 8.15 8.095

⑪ 0.021 0.003

⑥ 14.7 14.077

⑫ 31.23 31.3





小数のしくみ5

◎ 小数の大小と不等号



日にち： 月 日

名まえ _____

次の にあてはまる不等号を書きましょう。

① $11.931 > 11.09$

⑦ $0.412 > 0.145$

② $39.08 < 39.8$

⑧ $3.859 < 3.958$

③ $0.059 < 0.06$

⑨ $84.1 < 84.104$

④ $9.716 < 9.8$

⑩ $0.16 > 0.06$

⑤ $18.78 < 18.8$

⑪ $5.1 > 5.013$

⑥ $4.31 > 4.306$

⑫ $0.081 > 0.009$





小数のしくみ5

㊦ 小数の大小と不等号



日にち： 月 日

名まえ _____

次の にあてはまる不等号を書きましょう。

① 0.1 0.09

⑦ 31.12 31.21

② 1.45 1.53

⑧ 2.102 2.012

③ 6.59 6.069

⑨ 4.131 4.14

④ 0.6 0.591

⑩ 76.1 76.089

⑤ 0.854 0.845

⑪ 92.09 92.115

⑥ 51.6 51.06

⑫ 3.705 3.085





小数のしくみ5

◎ 小数の大小と不等号



日にち： 月 日

名まえ _____

次の にあてはまる不等号を書きましょう。

① 36.901 37.01

⑦ 4.728 4.782

② 90.801 90.81

⑧ 0.911 0.902

③ 5.824 5.83

⑨ 7.24 7.034

④ 12.65 12.8

⑩ 0.89 0.091

⑤ 29.13 28.93

⑪ 6.6 6.601

⑥ 0.01 0.1

⑫ 49.01 48.9





小数のしくみ5

◎ 小数の大小と不等号



日にち： 月 日

名まえ _____

次の にあてはまる不等号を書きましょう。

① 5.1 5.06

⑦ 17.24 17.3

② 0.57 0.539

⑧ 3.02 3.012

③ 9.901 9.91

⑨ 13.13 13.14

④ 7.63 7.592

⑩ 6.101 6.099


⑤ 8.055 8.085

⑪ 2.609 2.615

⑥ 1.63 1.065

⑫ 0.005 0.5





小数のしくみ5

㊦ 小数の大小と不等号



日にち： 月 日

名まえ _____

次の にあてはまる不等号を書きましょう。

① 0.028 0.1

⑦ 37.82 38.201

② 0.676 0.767

⑧ 45.1 44.915

③ 2.74 2.801

⑨ 11.491 11.5

④ 67.011 67.1

⑩ 1.384 1.084

⑤ 0.921 0.932

⑪ 0.29 0.301

⑥ 5.382 5.41

⑫ 39.3 38.492





小数のしくみ5

◎ 小数の大小と不等号



日にち： 月 日

名まえ _____

1. 次の にあてはまる不等号を書きましょう。

① 3.28 3.29

⑤ 24.519 25.41

② 7.032 7.034

⑥ 2.016 2.017

③ 0.173 0.17

⑦ 0.498 0.49

④ 17.179 17.18

⑧ 25.304 25.3

2. 次の問いに答えましょう。

① 6.078の0は小数第何位ですか。

答え 小数第一位

② 1.572の2は小数第何位ですか。

答え 小数第三位

③ 6.201の小数第三位の数字は何ですか。

答え 1





小数のしくみ5

㉔ 小数の大小と不等号



日にち： 月 日

名まえ _____

1. 次の にあてはまる不等号を書きましょう。

① 5.12 5.21

⑤ 11.019 11.12

② 3.432 3.053

⑥ 10.16 10.017

③ 0.389 0.47

⑦ 0.098 0.09

④ 35.295 35.3

⑧ 47.505 46.95

2. 次の問いに答えましょう。

① 8.205の0は小数第何位ですか。

答え 小数第二位


② 4.728の8は小数第何位ですか。

答え 小数第三位

③ 0.029の小数第二位の数字は何ですか。

答え 2





小数のしくみ5

㊦ 小数の大小と不等号

12

日にち： 月 日

名まえ _____

1. 次の にあてはまる不等号を書きましょう。

① 0.32 0.302

⑤ 28.416 28.51

② 5.004 5.012

⑥ 31.72 31.703

③ 2.314 2.32

⑦ 14.08 14.103

④ 80.193 80.2

⑧ 39.719 40.01

2. 次の問いに答えましょう。

① 0.823の8は小数第何位ですか。

答え 小数第一位

② 3.902の0は小数第何位ですか。

答え 小数第二位

③ 17.572の小数第一位の数字は何ですか。

答え 5





小数のしくみ5

㊦ 小数の大小と不等号

13

日にち： 月 日

名まえ _____

1. 次の にあてはまる不等号を書きましょう。

① 1.46 1.447

⑤ 81.802 81.71

② 19.43 18.981

⑥ 75.023 75.032

③ 0.728 0.701

⑦ 0.109 0.011

④ 30.024 30.1

⑧ 52.812 52.01

2. 次の問いに答えましょう。

① 0.381の小数第二位の数字は何ですか。

答え

8

② 9.71の7は小数第何位ですか。

答え


小数第一位

③ 1.003の小数第三位の数字は何ですか。

答え

3





小数のしくみ5

㉔ 小数の大小と不等号

14

日にち： 月 日

名まえ _____

1. 次の にあてはまる不等号を書きましょう。

① 0.513 < 0.517

⑤ 1.945 < 1.954

② 37.05 > 37.005

⑥ 44.646 > 44.606

③ 0.236 < 0.3269

⑦ 0.171 > 0.117

④ 12.843 < 12.85

⑧ 52.812 > 52.01

2. 次の問いに答えましょう。

① 74.756の小数第三位の数字は何ですか。

答え 6

② 0.363の6は小数第何位ですか。

答え 小数第二位

③ 13.409の0は小数第何位ですか。

答え 小数第二位





小数のしくみ5

㉔ 小数の大小と不等号

15

目指せ80点!



名まえ _____

1. 次の にあてはまる不等号を書きましょう。

① 67.32 66.982

⑤ 0.533 0.534

② 7.205 7.025

⑥ 43.056 43.055

③ 0.901 0.911

⑦ 56.07 56.077

④ 10.083 10.08

⑧ 24.101 24.011

2. 次の問いに答えましょう。

① 0.328の3は小数第何位ですか。

答え 小数第一位


② 10.284の小数第三位の数字は何ですか。

答え 4

③ 4.564の6は小数第何位ですか。

答え 小数第二位





小数のしくみ5

㉔ 小数の大小と不等号

16

目指せ80点!



名まえ _____

1. 次の にあてはまる不等号を書きましょう。

① 7.732 7.728

⑤ 10.33 10.334

② 18.2 18.21

⑥ 0.832 0.829

③ 0.372 0.272

⑦ 6.437 6.377

④ 23.327 23.4

⑧ 89.118 89.801

2. 次の問いに答えましょう。

① 0.347の小数第一位の数字は何ですか。

答え

3

② 20.621の1は小数第何位ですか。

答え

小数第三位

③ 63.25の小数第二位の数字は何ですか。

答え

5

