

小数のしくみ6

◎ 0.01を何個集めた数？



日にち： 月 日

名まえ _____

1. 次の数は、0.01を何こ集めた数ですか。

	一の位	十分の位	百分の位
	0	0	1
①	0	0	4
②	0	1	8
③	4	0	8
④	2	5	
⑤			
⑥			

① 0.04

答え 4こ

② 0.18

答え 18こ

③ 4.08

答え 408こ

④ 2.5

答え 250こ

⑤ 0.05

答え _____

⑥ 0.24

答え _____

2. 次の数はいくつですか。

① 0.01を15こ集めた数

答え 0.15

② 0.01を10こ集めた数

答え 0.1


③ 0.01を586こ集めた数

答え _____

④ 0.01を580こ集めた数

答え _____





小数のしくみ6

◎ 0.01を何個集めた数？



日にち： 月 日

名まえ _____

1. 次の数は、0.01を何こ集めた数ですか。

	一の位	十分の位	百分の位
	0	0	1
①	0	1	5
②	0	6	3
③	5	7	2
④			
⑤			
⑥			

① 0.15

答え 15こ

② 0.63

答え 63こ

③ 5.72

答え 572こ

④ 3.9

答え _____

⑤ 0.02

答え _____

⑥ 0.36

答え _____

2. 次の数はいくつですか。

① 0.01を74こ集めた数

答え 0.74

② 0.01を30こ集めた数

答え 0.3

③ 0.01を226こ集めた数

答え _____

④ 0.01を610こ集めた数

答え _____





小数のしくみ6

◎ 0.01を何個集めた数？



日にち： 月 日

名まえ _____

1. 次の数は、0.01を何こ集めた数ですか。

	一の位	十分の位	百分の位
	0	0	1
①	0	4	2
②	0	5	8
③			
④			
⑤			
⑥			

① 0.42

答え 42こ

② 0.58

答え 58こ

③ 9.02

答え _____

④ 4.2

答え _____

⑤ 0.1

答え _____

⑥ 0.27

答え _____

2. 次の数はいくつですか。

① 0.01を31こ集めた数

答え 0.31

② 0.01を50こ集めた数

答え 0.5

③ 0.01を984こ集めた数

答え _____

④ 0.01を290こ集めた数

答え _____





小数のしくみ6

◎ 0.01を何個集めた数？



日にち： 月 日

名まえ _____

1. 次の数は、0.01を何こ集めた数ですか。

	一の位	十分の位	百分の位
	0	0	1
①	6	7	
②			
③			
④			
⑤			
⑥			

① 6.7

答え 670こ

② 0.26

答え _____

③ 4.19

答え _____

④ 0.05

答え _____

⑤ 0.82

答え _____

⑥ 0.6

答え _____

2. 次の数はいくつですか。

① 0.01を53こ集めた数

答え 0.53

② 0.01を282こ集めた数

答え _____


③ 0.01を4こ集めた数

答え _____

④ 0.01を70こ集めた数

答え _____





小数のしくみ6

◎ 0.01を何個集めた数？



日にち： 月 日

名まえ _____

1. 次の問いに答えましょう。

① 0.05は0.01を何こ集めた数ですか。

答え 5こ

② 0.35は0.01を何こ集めた数ですか。

答え _____

③ 5.23は0.01を何こ集めた数ですか。

答え _____

④ 5.2は0.01を何こ集めた数ですか。

答え _____

⑤ 2.31は0.01を何こ集めた数ですか。

答え _____

⑥ 0.31は0.01を何こ集めた数ですか。

答え _____

2. 次の数はいくつですか。

① 0.01を15こ集めた数

答え 0.15

② 0.01を10こ集めた数

答え 0.1


③ 0.01を586こ集めた数

答え _____

④ 0.01を580こ集めた数

答え _____





小数のしくみ6

◎ 0.01を何個集めた数？



日にち： 月 日

名まえ _____

1. 次の問いに答えましょう。

① 0.82は0.01を何こ集めた数ですか。

答え 82こ

② 0.03は0.01を何こ集めた数ですか。

答え _____

③ 7.93は0.01を何こ集めた数ですか。

答え _____

④ 2.8は0.01を何こ集めた数ですか。

答え _____

⑤ 9.01は0.01を何こ集めた数ですか。

答え _____

⑥ 0.4は0.01を何こ集めた数ですか。

答え _____

2. 次の数はいくつですか。

① 0.01を43こ集めた数

答え 0.43

② 0.01を60こ集めた数

答え 0.6


③ 0.01を294こ集めた数

答え _____

④ 0.01を170こ集めた数

答え _____





小数のしくみ6

◎ 0.01を何個集めた数？



日にち： 月 日

名まえ _____

1. 次の問いに答えましょう。

① 0.13は0.01を何こ集めた数ですか。

答え 13こ

② 0.95は0.01を何こ集めた数ですか。

答え _____

③ 0.09は0.01を何こ集めた数ですか。

答え _____

④ 5.02は0.01を何こ集めた数ですか。

答え _____

⑤ 6.26は0.01を何こ集めた数ですか。

答え _____

⑥ 0.2は0.01を何こ集めた数ですか。

答え _____

2. 次の数はいくつですか。

① 0.01を260こ集めた数

答え 2.6

② 0.01を5こ集めた数

答え _____


③ 0.01を490こ集めた数

答え _____

④ 0.01を70こ集めた数

答え _____





小数のしくみ6

◎ 0.01を何個集めた数？



日にち： 月 日

名まえ _____

1. 次の問いに答えましょう。

① 1.05は0.01を何こ集めた数ですか。

答え 105こ

② 3.56は0.01を何こ集めた数ですか。

答え _____

③ 0.29は0.01を何こ集めた数ですか。

答え _____

④ 0.01は0.01を何こ集めた数ですか。

答え _____

⑤ 4.8は0.01を何こ集めた数ですか。

答え _____

⑥ 0.1は0.01を何こ集めた数ですか。

答え _____

2. 次の数はいくつですか。

① 0.01を384こ集めた数

答え 3.84

② 0.01を40こ集めた数

答え _____


③ 0.01を820こ集めた数

答え _____

④ 0.01を2こ集めた数

答え _____





小数のしくみ6

◎ 0.01を何個集めた数？



日にち： 月 日

名まえ _____

1. 次の問いに答えましょう。

① 0.03は0.01を何こ集めた数ですか。

答え 3こ

② 6.81は0.01を何こ集めた数ですか。

答え _____

③ 3.2は0.01を何こ集めた数ですか。

答え _____

④ 0.5は0.01を何こ集めた数ですか。

答え _____

⑤ 9.37は0.01を何こ集めた数ですか。

答え _____

⑥ 0.8は0.01を何こ集めた数ですか。

答え _____

2. 次の数はいくつですか。

① 0.01を603こ集めた数

答え 6.03

② 0.01を43こ集めた数

答え _____


③ 0.01を70こ集めた数

答え _____

④ 0.01を293こ集めた数

答え _____





小数のしくみ6

◎ 0.01を何個集めた数？



日にち： 月 日

名まえ _____

1. 次の問いに答えましょう。

① 0.05は0.01を何こ集めた数ですか。

答え 5こ

② 0.35は0.01を何こ集めた数ですか。

答え _____

③ 5.23は0.01を何こ集めた数ですか。

答え _____

④ 5.2は0.01を何こ集めた数ですか。

答え _____

2. 次の数はいくつですか。

① 0.01を15こ集めた数

答え 0.15

② 0.01を10こ集めた数

答え _____

③ 0.01を586こ集めた数

答え _____

④ 0.01を580こ集めた数


答え _____

3. 次の にあてはまる不等号を書きましょう。

① 3.28 3.29

② 7.032 7.034





小数のしくみ6

◎ 0.01を何個集めた数？



日にち： 月 日

名まえ _____

1. 次の問いに答えましょう。

① 3.74は0.01を何こ集めた数ですか。

答え 374こ

② 0.62は0.01を何こ集めた数ですか。

答え _____

③ 4.5は0.01を何こ集めた数ですか。

答え _____

④ 0.89は0.01を何こ集めた数ですか。

答え _____

2. 次の数はいくつですか。

① 0.01を2こ集めた数

答え 0.02

② 0.01を326こ集めた数

答え _____

③ 0.01を58こ集めた数

答え _____

④ 0.01を940こ集めた数


答え _____

3. 次の にあてはまる不等号を書きましょう。

① 6.56 6.55

② 0.103 0.104





小数のしくみ6

◎ 0.01を何個集めた数？



日にち： 月 日

名まえ _____

1. 次の問いに答えましょう。

① 0.07は0.01を何こ集めた数ですか。

答え 7こ

② 8.03は0.01を何こ集めた数ですか。

答え _____

③ 4.82は0.01を何こ集めた数ですか。

答え _____

④ 3.5は0.01を何こ集めた数ですか。

答え _____

2. 次の数はいくつですか。

① 0.01を970こ集めた数

答え 9.7

② 0.01を525こ集めた数

答え _____

③ 0.01を8こ集めた数

答え _____

④ 0.01を90こ集めた数

答え _____

3. 次の にあてはまる不等号を書きましょう。

① 53.5 53.51

② 0.305 0.304





小数のしくみ6

◎ 0.01を何個集めた数？



日にち： 月 日

名まえ _____

1. 次の問いに答えましょう。

① 2.1は0.01を何こ集めた数ですか。

答え _____

② 0.06は0.01を何こ集めた数ですか。

答え _____

③ 7.22は0.01を何こ集めた数ですか。

答え _____

④ 5.03は0.01を何こ集めた数ですか。

答え _____

2. 次の数はいくつですか。

① 0.01を1こ集めた数

答え _____

② 0.01を420こ集めた数

答え _____

③ 0.01を756こ集めた数

答え _____

④ 0.01を30こ集めた数


答え _____

3. 次の にあてはまる不等号を書きましょう。

① 1.05 1.04

② 4.901 4.9





小数のしくみ6

◎ 0.01を何個集めた数？



日にち： 月 日

名まえ _____

1. 次の問いに答えましょう。

① 0.09は0.01を何こ集めた数ですか。

答え _____

② 2.14は0.01を何こ集めた数ですか。

答え _____

③ 6.3は0.01を何こ集めた数ですか。

答え _____

④ 0.81は0.01を何こ集めた数ですか。

答え _____

2. 次の数はいくつですか。

① 0.01を31こ集めた数

答え _____

② 0.01を794こ集めた数

答え _____

③ 0.01を911こ集めた数

答え _____

④ 0.01を2こ集めた数

答え _____

3. 次の にあてはまる不等号を書きましょう。

① 11.3 11.31

② 93.51 93.5





小数のしくみ6

◎ 0.01を何個集めた数？

15

目指せ80点!



名まえ _____

1. 次の問いに答えましょう。

① 2.83は0.01を何こ集めた数ですか。

答え _____

② 9.2は0.01を何こ集めた数ですか。

答え _____

③ 0.17は0.01を何こ集めた数ですか。

答え _____

④ 0.08は0.01を何こ集めた数ですか。

答え _____

2. 次の数はいくつですか。

① 0.01を803こ集めた数

答え _____

② 0.01を4こ集めた数

答え _____

③ 0.01を173こ集めた数

答え _____

④ 0.01を10こ集めた数

答え _____

3. 次の にあてはまる不等号を書きましょう。

① 1.34 1.33

② 0.501 0.5






小数のしくみ6

◎ 0.01を何個集めた数？



目指せ80点!



名まえ _____

1. 次の問いに答えましょう。

① 0.8は0.01を何こ集めた数ですか。

答え _____

② 0.71は0.01を何こ集めた数ですか。

答え _____

③ 5.03は0.01を何こ集めた数ですか。

答え _____

④ 0.05は0.01を何こ集めた数ですか。

答え _____

2. 次の数はいくつですか。

① 0.01を3こ集めた数

答え _____

② 0.01を16こ集めた数

答え _____

③ 0.01を50こ集めた数

答え _____

④ 0.01を447こ集めた数

答え _____

3. 次の にあてはまる不等号を書きましょう。

① 27.1 27.01

② 3.498 3.5





小数のしくみ6

◎ 0.01を何個集めた数？



日にち： 月 日

名まえ _____

1. 次の数は、0.01を何こ集めた数ですか。

	一の位	十分の位	百分の位
	0	0	1
①	0	0	4
②	0	1	8
③	4	0	8
④	2	5	
⑤	0	0	5
⑥	0	2	4

① 0.04

答え 4こ

② 0.18

答え 18こ

③ 4.08

答え 408こ

④ 2.5

答え 250こ

⑤ 0.05

答え 5こ

⑥ 0.24

答え 24こ

2. 次の数はいくつですか。

① 0.01を15こ集めた数

答え 0.15

② 0.01を10こ集めた数

答え 0.1

③ 0.01を586こ集めた数

答え 5.86

④ 0.01を580こ集めた数

答え 5.8





小数のしくみ6

◎ 0.01を何個集めた数？



日にち： 月 日

名まえ _____

1. 次の数は、0.01を何こ集めた数ですか。

	一の位	$\frac{1}{10}$ の位	$\frac{1}{100}$ の位
	0	0	1
①	0	1	5
②	0	6	3
③	5	7	2
④	3	9	
⑤	0	0	2
⑥	0	3	6

① 0.15

答え 15こ

② 0.63

答え 63こ

③ 5.72

答え 572こ

④ 3.9

答え 390こ

⑤ 0.02

答え 2こ

⑥ 0.36

答え 36こ

2. 次の数はいくつですか。

① 0.01を74こ集めた数

答え 0.74

② 0.01を30こ集めた数

答え 0.3


③ 0.01を226こ集めた数

答え 2.26

④ 0.01を610こ集めた数

答え 6.1





小数のしくみ6

◎ 0.01を何個集めた数？



日にち： 月 日

名まえ _____

1. 次の数は、0.01を何こ集めた数ですか。

	一の位	十分の位	百分の位
	0	0	1
①	0	4	2
②	0	5	8
③	9	0	2
④	4	2	
⑤	0	1	
⑥	0	2	7

① 0.42

答え 42こ

② 0.58

答え 58こ

③ 9.02

答え 902こ

④ 4.2

答え 420こ

⑤ 0.1

答え 10こ

⑥ 0.27

答え 27こ

2. 次の数はいくつですか。

① 0.01を31こ集めた数

答え 0.31

② 0.01を50こ集めた数

答え 0.5

③ 0.01を984こ集めた数

答え 9.84

④ 0.01を290こ集めた数

答え 2.9





小数のしくみ6

◎ 0.01を何個集めた数？



日にち： 月 日

名まえ _____

1. 次の数は、0.01を何こ集めた数ですか。

	一の位	十分の位	百分の位
	0	0	1
①	6	7	
②	0	2	6
③	4	1	9
④	0	0	5
⑤	0	8	2
⑥	0	6	

① 6.7

答え 670こ

② 0.26

答え 26こ

③ 4.19

答え 419こ

④ 0.05

答え 5こ

⑤ 0.82

答え 82こ

⑥ 0.6

答え 60こ

2. 次の数はいくつですか。

① 0.01を53こ集めた数

答え 0.53

② 0.01を282こ集めた数

答え 2.82


③ 0.01を4こ集めた数

答え 0.04

④ 0.01を70こ集めた数

答え 0.7





小数のしくみ6

◎ 0.01を何個集めた数？

5

日にち： 月 日

名まえ _____

1. 次の問いに答えましょう。

① 0.05は0.01を何こ集めた数ですか。

答え 5こ

② 0.35は0.01を何こ集めた数ですか。

答え 35こ

③ 5.23は0.01を何こ集めた数ですか。

答え 523こ

④ 5.2は0.01を何こ集めた数ですか。

答え 520こ

⑤ 2.31は0.01を何こ集めた数ですか。

答え 231こ

⑥ 0.31は0.01を何こ集めた数ですか。

答え 31こ

2. 次の数はいくつですか。

① 0.01を15こ集めた数

答え 0.15

② 0.01を10こ集めた数

答え 0.1


③ 0.01を586こ集めた数

答え 5.86

④ 0.01を580こ集めた数

答え 5.8





小数のしくみ6

◎ 0.01を何個集めた数？



日にち： 月 日

名まえ _____

1. 次の問いに答えましょう。

① 0.82は0.01を何こ集めた数ですか。

答え 82こ

② 0.03は0.01を何こ集めた数ですか。

答え 3こ

③ 7.93は0.01を何こ集めた数ですか。

答え 793こ

④ 2.8は0.01を何こ集めた数ですか。

答え 280こ

⑤ 9.01は0.01を何こ集めた数ですか。

答え 901こ

⑥ 0.4は0.01を何こ集めた数ですか。

答え 40こ

2. 次の数はいくつですか。

① 0.01を43こ集めた数

答え 0.43

② 0.01を60こ集めた数

答え 0.6


③ 0.01を294こ集めた数

答え 2.94

④ 0.01を170こ集めた数

答え 1.7





小数のしくみ6

◎ 0.01を何個集めた数？



日にち： 月 日

名まえ _____

1. 次の問いに答えましょう。

① 0.13は0.01を何こ集めた数ですか。

答え 13こ

② 0.95は0.01を何こ集めた数ですか。

答え 95こ

③ 0.09は0.01を何こ集めた数ですか。

答え 9こ

④ 5.02は0.01を何こ集めた数ですか。

答え 502こ

⑤ 6.26は0.01を何こ集めた数ですか。

答え 626こ

⑥ 0.2は0.01を何こ集めた数ですか。

答え 20こ

2. 次の数はいくつですか。

① 0.01を260こ集めた数

答え 2.6

② 0.01を5こ集めた数

答え 0.05


③ 0.01を490こ集めた数

答え 4.9

④ 0.01を70こ集めた数

答え 0.7





小数のしくみ6

◎ 0.01を何個集めた数？

8

日にち： 月 日

名まえ _____

1. 次の問いに答えましょう。

① 1.05は0.01を何こ集めた数ですか。

答え 105こ

② 3.56は0.01を何こ集めた数ですか。

答え 356こ

③ 0.29は0.01を何こ集めた数ですか。

答え 29こ

④ 0.01は0.01を何こ集めた数ですか。

答え 1こ

⑤ 4.8は0.01を何こ集めた数ですか。

答え 480こ

⑥ 0.1は0.01を何こ集めた数ですか。

答え 10こ

2. 次の数はいくつですか。

① 0.01を384こ集めた数

答え 3.84

② 0.01を40こ集めた数

答え 0.4


③ 0.01を820こ集めた数

答え 8.2

④ 0.01を2こ集めた数

答え 0.02





小数のしくみ6

◎ 0.01を何個集めた数？



日にち： 月 日

名まえ _____

1. 次の問いに答えましょう。

① 0.03は0.01を何こ集めた数ですか。

答え 3こ

② 6.81は0.01を何こ集めた数ですか。

答え 681こ

③ 3.2は0.01を何こ集めた数ですか。

答え 320こ

④ 0.5は0.01を何こ集めた数ですか。

答え 50こ

⑤ 9.37は0.01を何こ集めた数ですか。

答え 937こ

⑥ 0.8は0.01を何こ集めた数ですか。

答え 80こ

2. 次の数はいくつですか。

① 0.01を603こ集めた数

答え 6.03

② 0.01を43こ集めた数

答え 0.43

③ 0.01を70こ集めた数

答え 0.7

④ 0.01を293こ集めた数

答え 2.93





小数のしくみ6

◎ 0.01を何個集めた数？



日にち： 月 日

名まえ _____

1. 次の問いに答えましょう。

① 0.05は0.01を何こ集めた数ですか。

答え 5こ

② 0.35は0.01を何こ集めた数ですか。

答え 35こ

③ 5.23は0.01を何こ集めた数ですか。

答え 523こ

④ 5.2は0.01を何こ集めた数ですか。

答え 520こ

2. 次の数はいくつですか。

① 0.01を15こ集めた数

答え 0.15

② 0.01を10こ集めた数

答え 0.1

③ 0.01を586こ集めた数

答え 5.86

④ 0.01を580こ集めた数

答え 5.8

3. 次の にあてはまる不等号を書きましょう。

① 3.28 3.29

② 7.032 7.034





小数のしくみ6

◎ 0.01を何個集めた数？



日にち： 月 日

名まえ _____

1. 次の問いに答えましょう。

① 3.74は0.01を何こ集めた数ですか。

答え 374こ

② 0.62は0.01を何こ集めた数ですか。

答え 62こ

③ 4.5は0.01を何こ集めた数ですか。

答え 450こ

④ 0.89は0.01を何こ集めた数ですか。

答え 89こ

2. 次の数はいくつですか。

① 0.01を2こ集めた数

答え 0.02

② 0.01を326こ集めた数

答え 3.26

③ 0.01を58こ集めた数

答え 0.58

④ 0.01を940こ集めた数


答え 9.4

3. 次の にあてはまる不等号を書きましょう。

① 6.56 6.55

② 0.103 0.104





小数のしくみ6

◎ 0.01を何個集めた数？



日にち： 月 日

名まえ _____

1. 次の問いに答えましょう。

① 0.07は0.01を何こ集めた数ですか。

答え 7こ

② 8.03は0.01を何こ集めた数ですか。

答え 803こ

③ 4.82は0.01を何こ集めた数ですか。

答え 482こ

④ 3.5は0.01を何こ集めた数ですか。

答え 350こ

2. 次の数はいくつですか。

① 0.01を970こ集めた数

答え 9.7

② 0.01を525こ集めた数

答え 5.25

③ 0.01を8こ集めた数

答え 0.08

④ 0.01を90こ集めた数

答え 0.9

3. 次の にあてはまる不等号を書きましょう。

① 53.5 53.51

② 0.305 0.304





小数のしくみ6

◎ 0.01を何個集めた数？



日にち： 月 日

名まえ _____

1. 次の問いに答えましょう。

① 2.1は0.01を何こ集めた数ですか。

答え 210こ

② 0.06は0.01を何こ集めた数ですか。

答え 6こ

③ 7.22は0.01を何こ集めた数ですか。

答え 722こ

④ 5.03は0.01を何こ集めた数ですか。

答え 503こ

2. 次の数はいくつですか。

① 0.01を1こ集めた数

答え 0.01

② 0.01を420こ集めた数

答え 4.2

③ 0.01を756こ集めた数

答え 7.56

④ 0.01を30こ集めた数


答え 0.3

3. 次の にあてはまる不等号を書きましょう。

① 1.05 1.04

② 4.901 4.9





小数のしくみ6

◎ 0.01を何個集めた数？



日にち： 月 日

名まえ _____

1. 次の問いに答えましょう。

① 0.09は0.01を何こ集めた数ですか。

答え 9こ

② 2.14は0.01を何こ集めた数ですか。

答え 214こ

③ 6.3は0.01を何こ集めた数ですか。

答え 630こ

④ 0.81は0.01を何こ集めた数ですか。

答え 81こ

2. 次の数はいくつですか。

① 0.01を31こ集めた数

答え 0.31

② 0.01を794こ集めた数

答え 7.94

③ 0.01を911こ集めた数

答え 9.11

④ 0.01を2こ集めた数


答え 0.02

3. 次の にあてはまる不等号を書きましょう。

① 11.3 11.31

② 93.51 93.5





小数のしくみ6

◎ 0.01を何個集めた数？

15

目指せ80点!



名まえ _____

1. 次の問いに答えましょう。

① 2.83は0.01を何こ集めた数ですか。

答え 283こ

② 9.2は0.01を何こ集めた数ですか。

答え 920こ

③ 0.17は0.01を何こ集めた数ですか。

答え 17こ

④ 0.08は0.01を何こ集めた数ですか。

答え 8こ

2. 次の数はいくつですか。

① 0.01を803こ集めた数

答え 8.03

② 0.01を4こ集めた数

答え 0.04

③ 0.01を173こ集めた数

答え 1.73

④ 0.01を10こ集めた数

答え 0.1

3. 次の にあてはまる不等号を書きましょう。

① 1.34 1.33

② 0.501 0.5





小数のしくみ6

◎ 0.01を何個集めた数？

16

目指せ80点!



名まえ _____

1. 次の問いに答えましょう。

① 0.8は0.01を何こ集めた数ですか。

答え 80こ

② 0.71は0.01を何こ集めた数ですか。

答え 71こ

③ 5.03は0.01を何こ集めた数ですか。

答え 503こ

④ 0.05は0.01を何こ集めた数ですか。

答え 5こ

2. 次の数はいくつですか。

① 0.01を3こ集めた数

答え 0.03

② 0.01を16こ集めた数

答え 0.16

③ 0.01を50こ集めた数

答え 0.5

④ 0.01を447こ集めた数

答え 4.47

3. 次の にあてはまる不等号を書きましょう。

① 27.1 27.01

② 3.498 3.5

