



小数のしくみ7

◎ 6より0.03小さい数



日にち： 月 日

名まえ _____

1. 下の数直線で、ア～エの数を表すめもりに ↑ をかきましょう。

また、↑ の下にア～エの記号とその数をかきましょう。

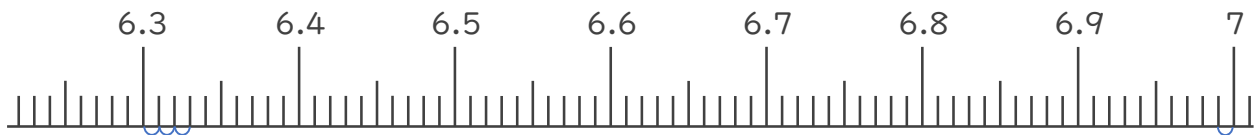
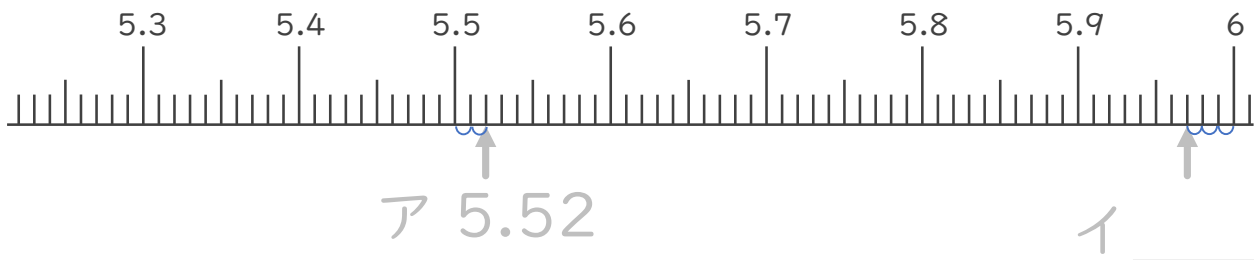
(うすい字はなぞりましょう。)

ア 5.5より0.02大きい数

イ 6より0.03小さい数

ウ 6.3より0.03大きい数

エ 7より0.01小さい数



2. 次の数はいくつですか。(うすい字はなぞりましょう。)

① 5と0.65をあわせた数

答え 5.65

② 1を5こ、0.1を1こ、0.01を4こあわせた数

答え 5.14

③ 1を3こ、0.1を8こ、0.01を2こあわせた数

答え _____





小数のしくみ7

© 6より0.03小さい数



日にち： 月 日

名まえ _____

1. 下の数直線で、ア～エの数を表すめもりに ↑ をかきましょう。

また、↑ の下にア～エの記号とその数をかきましょう。

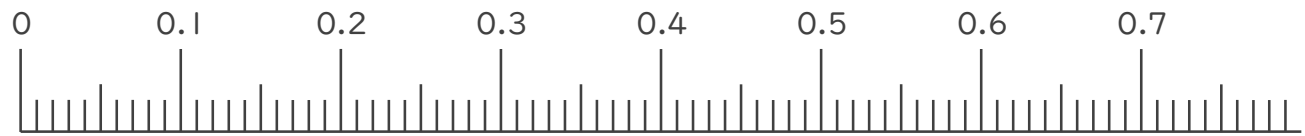
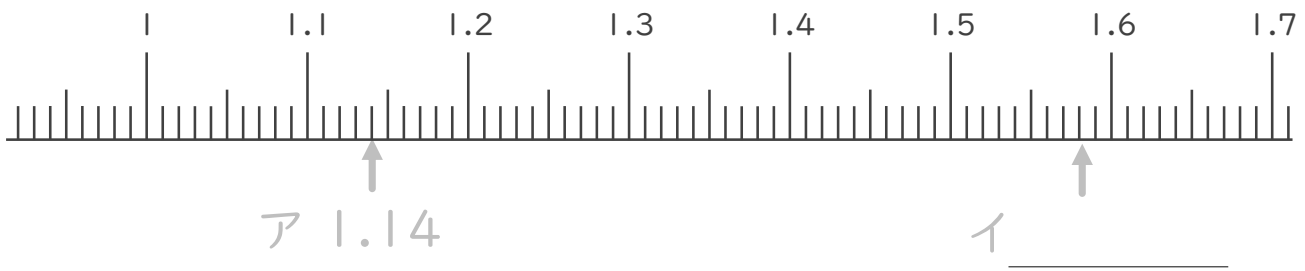
(うすい字はなぞりましょう。)

ア 1.1 より 0.04 大きい数

イ 1.6 より 0.02 小さい数

ウ 0.1 より 0.05 大きい数

エ 0.6 より 0.04 小さい数



2. 次の数はいくつですか。(うすい字はなぞりましょう。)

① 3と0.85をあわせた数

答え 3.85

② 1を6こ、0.1を4こ、0.01を8こあわせた数

答え 6.48

③ 1を2こ、0.1を0こ、0.01を9こあわせた数

答え _____





小数のしくみ7

◎ 6より0.03小さい数



日にち： 月 日

名まえ _____

1. 下の数直線で、ア～エの数を表すめもりに ↑ をかきましょう。

また、↑ の下にア～エの記号とその数をかきましょう。

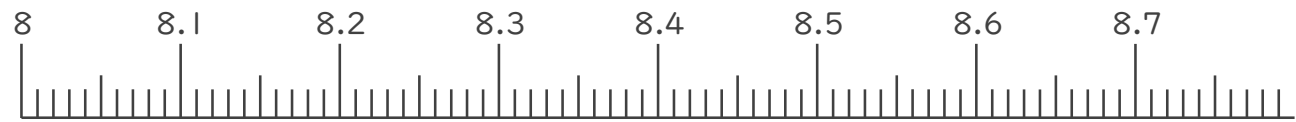
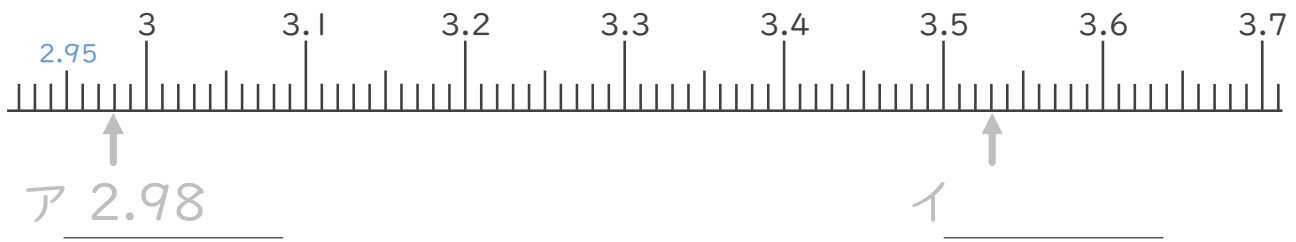
(うすい字はなぞりましょう。)

ア 3より0.02小さい数

イ 3.5より0.03大きい数

ウ 8.2より0.06大きい数

エ 8.7より0.09小さい数



2. 次の数はいくつですか。(うすい字はなぞりましょう。)

① 6と0.04をあわせた数

答え 6.04

② 1を1こ、0.1を0こ、0.01を3こあわせた数

答え _____

③ 1を8こ、0.1を1こ、0.01を5こあわせた数

答え _____





小数のしくみ7

◎ 6より0.03小さい数



日にち： 月 日

名まえ _____

1. 下の数直線で、ア～エの数を表すめもりに ↑ をかきましょう。

また、↑ の下にア～エの記号とその数をかきましょう。

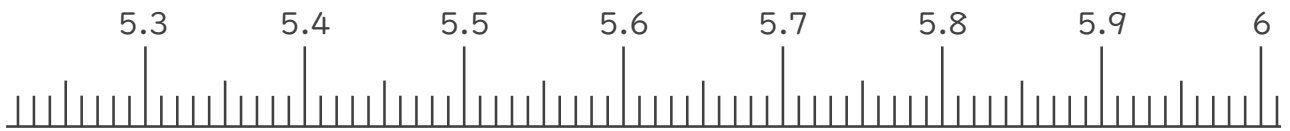
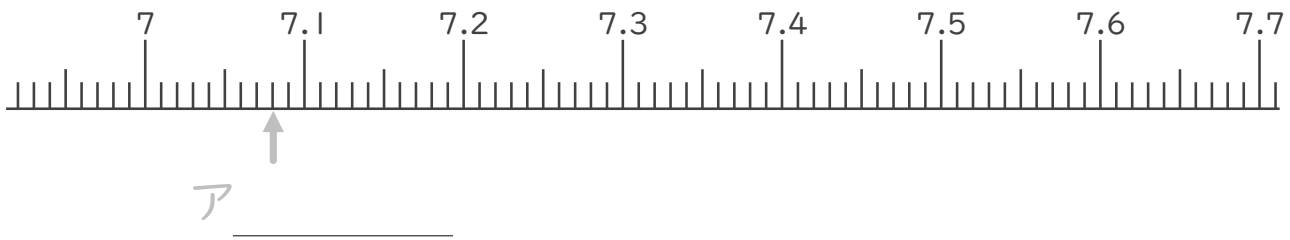
(うすい字はなぞりましょう。)

ア 7より0.08大きい数

イ 7.6より0.01小さい数

ウ 5.5より0.02大きい数

エ 6より0.04小さい数



2. 次の数はいくつですか。(うすい字はなぞりましょう。)

① 0と0.16をあわせた数

答え 0.16

② 1を5こ、0.1を7こ、0.01を1こあわせた数

答え _____

③ 1を1こ、0.1を3こ、0.01を9こあわせた数

答え _____





小数のしくみ7

◎ 6より0.03小さい数



日にち： 月 日

名まえ _____

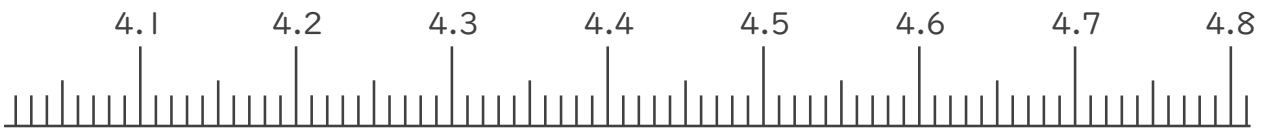
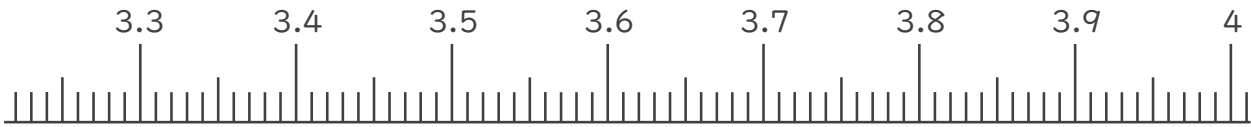
1. 下の数直線で、ア～エの数を表すめもりに ↑ をかきましょう。
また、 ↑ の下にア～エの記号とその数をかきましょう。

ア 3.5より0.02大きい数

イ 4より0.01小さい数

ウ 4.2より0.05大きい数

エ 4.7より0.01小さい数



2. 次の数はいくつですか。(うすい字はなぞりましょう。)

① 3と0.24をあわせた数

答え _____

② 1を4こ、0.01を7こあわせた数

0.1は0こだよ!



答え

3.07

③ 1を5こ、0.1を2こ、0.01を1こあわせた数

答え _____





小数のしくみ7

◎ 6より0.03小さい数



日にち： 月 日

名まえ _____

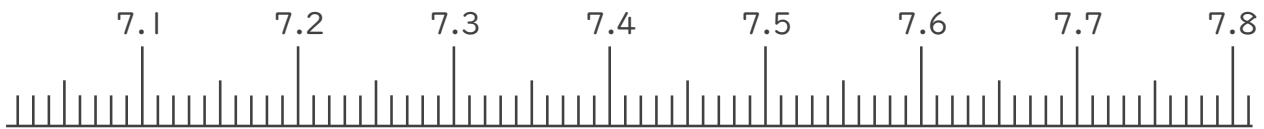
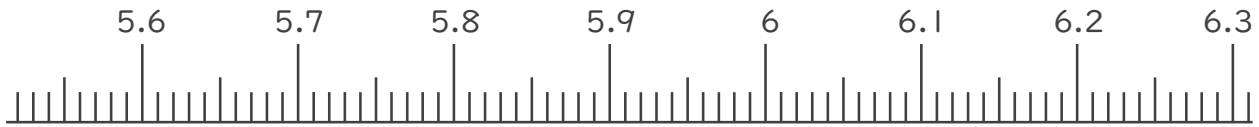
1. 下の数直線で、ア～エの数を表すめもりに ↑ をかきましょう。
また、 ↑ の下にア～エの記号とその数をかきましょう。

ア 5.6より0.01大きい数

イ 6.1より0.03小さい数

ウ 7.2より0.03大きい数

エ 7.7より0.02小さい数



2. 次の数はいくつですか。

① 6と0.11をあわせた数

答え _____

② 1を5こ、0.01を4こあわせた数

0.1は0こだよ!



答え _____

③ 1を2こ、0.1を7こ、0.01を3こあわせた数

答え _____





小数のしくみ7

◎ 6より0.03小さい数



日にち： 月 日

名まえ

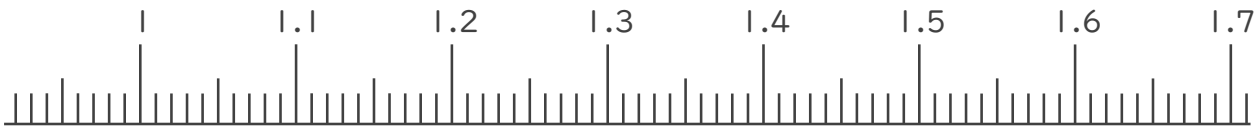
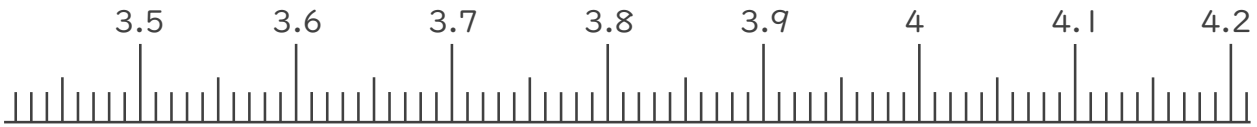
1. 下の数直線で、ア～エの数を表すめもりに ↑ をかきましょう。
また、 ↑ の下にア～エの記号とその数をかきましょう。

ア 3.6より0.03大きい数

イ 4より0.09小さい数

ウ 1.2より0.05大きい数

エ 1.6より0.06小さい数



2. 次の数はいくつですか。

① 3と0.1をあわせた数

答え

② 1を7こ、0.01を3こあわせた数

答え

③ 1を5こ、0.1を4こ、0.01を9こあわせた数

答え





小数のしくみ7

◎ 6より0.03小さい数



日にち： 月 日

名まえ _____

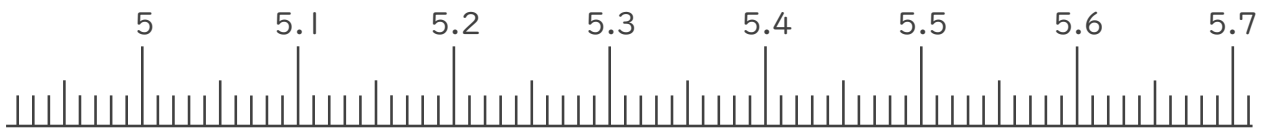
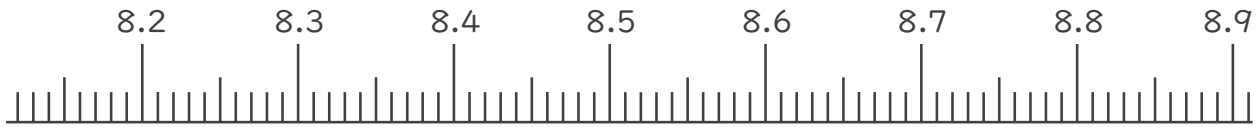
1. 下の数直線で、ア～エの数を表すめもりに ↑ をかきましょう。
また、 ↑ の下にア～エの記号とその数をかきましょう。

ア 8.2より0.07大きい数

イ 8.9より0.08小さい数

ウ 5より0.07大きい数

エ 5.7より0.04小さい数



2. 次の数はいくつですか。

① 7と0.3をあわせた数

答え _____

② 1を9こ、0.01を4こあわせた数

答え _____

③ 1を4こ、0.1を2こ、0.01を8こあわせた数

答え _____





小数のしくみ7

◎ 6より0.03小さい数



日にち： 月 日

名まえ

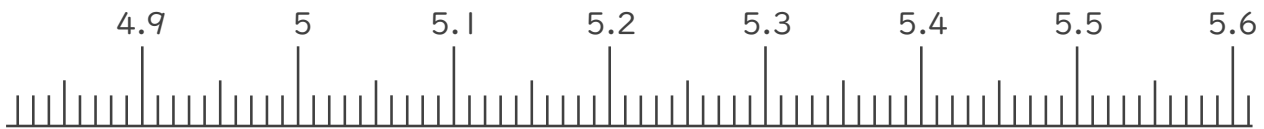
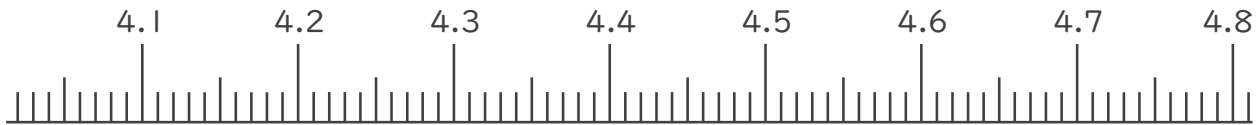
1. 下の数直線で、ア～エの数を表すめもりに ↑ をかきましょう。
また、 ↑ の下にア～エの記号とその数をかきましょう。

ア 4.1より0.03大きい数

イ 4.8より0.06小さい数

ウ 5より0.01大きい数

エ 5.5より0.02小さい数



2. 次の数はいくつですか。

① 2と0.37をあわせた数

答え

② 1を3こ、0.1を6こあわせた数

答え

③ 1を7こ、0.1を9こ、0.01を4こあわせた数

答え





小数のしくみ7

◎ 6より0.03小さい数



日にち： 月 日

名まえ

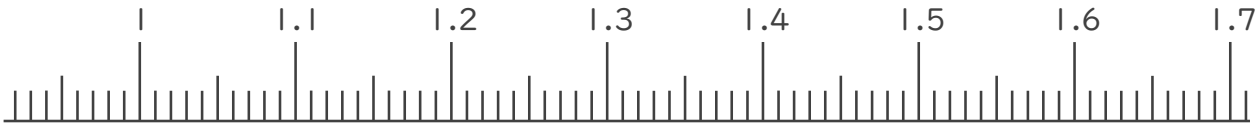
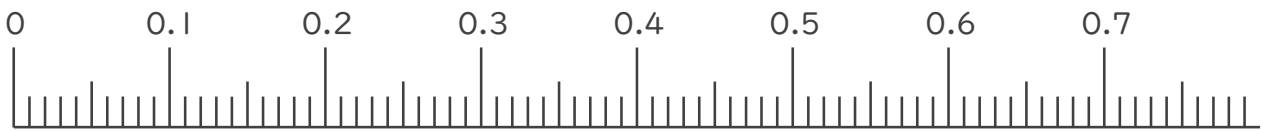
1. 下の数直線で、ア～エの数を表すめもりに ↑ をかきましょう。
また、 ↑ の下にア～エの記号とその数をかきましょう。

ア 0.1より0.02小さい数

イ 0.3より0.01大きい数

ウ 1より0.05小さい数

エ 1.4より0.03大きい数



2. 次の数はいくつですか。

① 3と0.24をあわせた数

答え

② 1を5こ、0.1を2こ、0.01を1こあわせた数

答え

③ 0.01を15こ集めた数

答え





小数のしくみ7

◎ 6より0.03小さい数



日にち： 月 日

名まえ _____

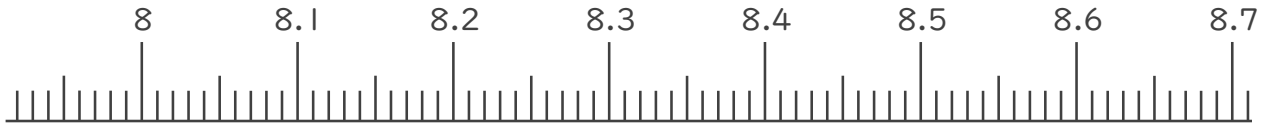
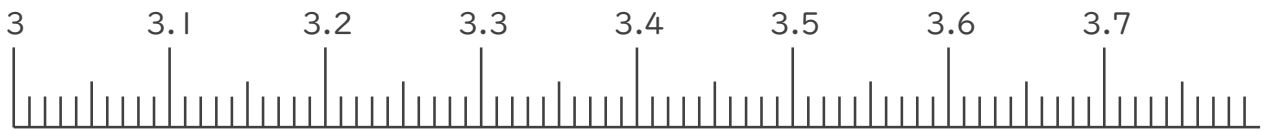
1. 下の数直線で、ア～エの数を表すめもりに ↑ をかきましょう。
また、 ↑ の下にア～エの記号とその数をかきましょう。

ア 3.2より0.03小さい数

イ 3.6より0.04大きい数

ウ 8.2より0.08小さい数

エ 8.4より0.09大きい数



2. 次の数はいくつですか。

① 6と0.81をあわせた数

答え _____

② 1を4こ、0.1を1こ、0.01を7こあわせた数

答え _____

③ 0.01を67こ集めた数

答え _____





小数のしくみ7

© 6より0.03小さい数



日にち： 月 日

名まえ _____

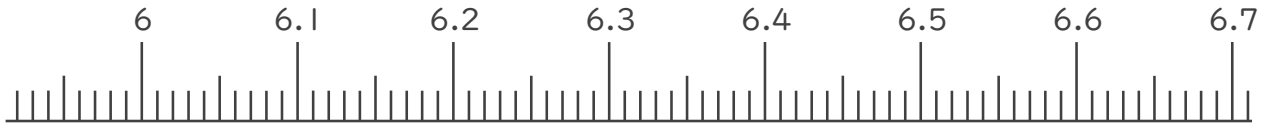
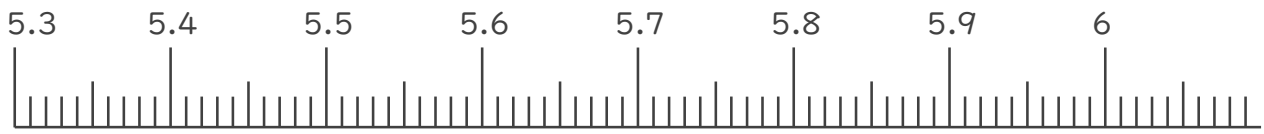
1. 下の数直線で、ア～エの数を表すめもりに ↑ をかきましょう。
また、 ↑ の下にア～エの記号とその数をかきましょう。

ア 5.5より0.07小さい数

イ 5.9より0.06大きい数

ウ 6.1より0.02小さい数

エ 6.5より0.07大きい数



2. 次の数はいくつですか。

① 7と0.26をあわせた数

答え _____

② 1を1こ、0.1を5こ、0.01を2こあわせた数

答え _____

③ 0.01を96こ集めた数

答え _____





小数のしくみ7

◎ 6より0.03小さい数



日にち： 月 日

名まえ

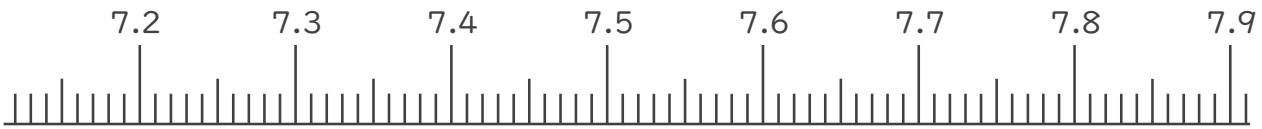
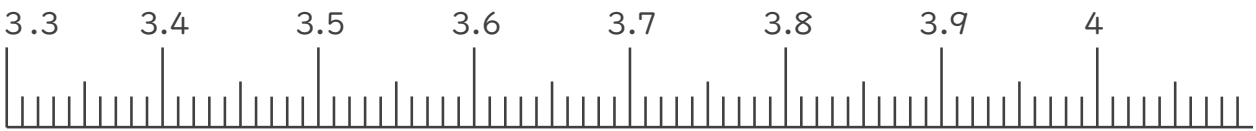
1. 下の数直線で、ア～エの数を表すめもりに ↑ をかきましょう。
また、 ↑ の下にア～エの記号とその数をかきましょう。

ア 3.5より0.04小さい数

イ 4より0.02大きい数

ウ 7.3より0.07小さい数

エ 7.8より0.05大きい数



2. 次の数はいくつですか。

① 3と0.12をあわせた数

答え

② 1を6こ、0.1を1こ、0.01を4こあわせた数

答え

③ 0.01を43こ集めた数

答え





小数のしくみ7

◎ 6より0.03小さい数



日にち： 月 日

名まえ

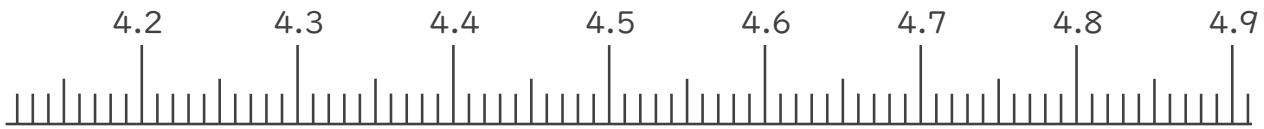
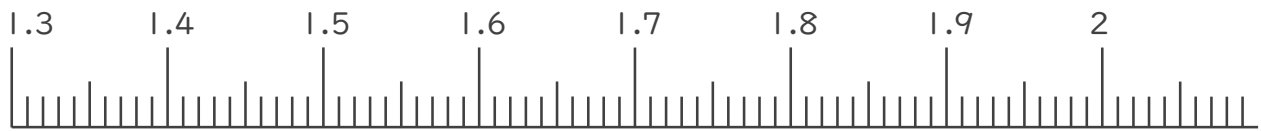
1. 下の数直線で、ア～エの数を表すめもりに ↑ をかきましょう。
また、 ↑ の下にア～エの記号とその数をかきましょう。

ア 1.5より0.02小さい数

イ 2より0.05大きい数

ウ 4.3より0.04小さい数

エ 4.6より0.03大きい数



2. 次の数はいくつですか。

① 7と0.24をあわせた数

答え

② 1を3こ、0.1を9こ、0.01を8こあわせた数

答え

③ 0.01を17こ集めた数

答え





小数のしくみ7
 ◎ 6より0.03小さい数
 15

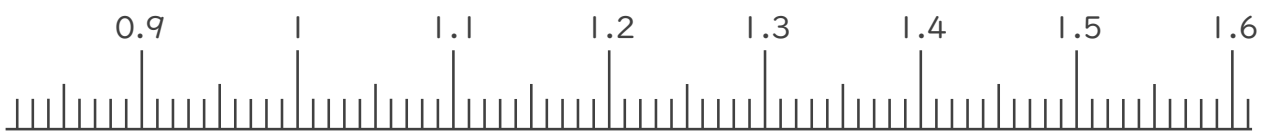
目指せ80点!
 てん

名まえ _____

1. 下の数直線で、ア～エの数を表すめもりに ↑ をかきましょう。
 また、 ↑ の下にア～エの記号とその数をかきましょう。
 (各20点)

ア 1より0.05小さい数

イ 1.3より0.01大きい数



2. 次の数はいくつですか。(各20点)

① 3と0.24をあわせた数

答え _____

② 1を5こ、0.1を2こ、0.01を1こあわせた数

答え _____

③ 0.01を12こ集めた数

答え _____



小数のしくみ7

◎ 6より0.03小さい数



目指せ80点!

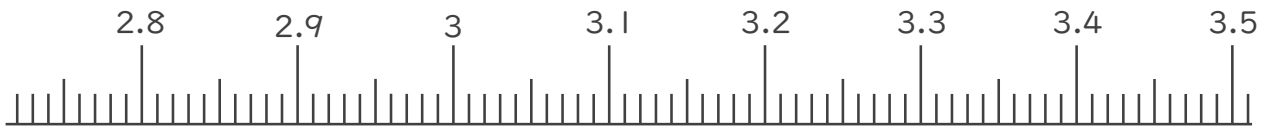


名まえ _____

1. 下の数直線で、ア～エの数を表すめもりに ↑ をかきましょう。
 また、↑ の下にア～エの記号とその数をかきましょう。
 (各20点)

ア 3より0.02小さい数

イ 3.4より0.06大きい数



2. 次の数はいくつですか。(各20点)

① 4と0.83をあわせた数

答え _____

② 1を2こ、0.1を9こ、0.01を4こあわせた数

答え _____

③ 0.01を70こ集めた数

答え _____





小数のしくみ7

© 6より0.03小さい数



日にち： 月 日

名まえ _____

1. 下の数直線で、ア～エの数を表すめもりに ↑ をかきましょう。

また、↑ の下にア～エの記号とその数をかきましょう。

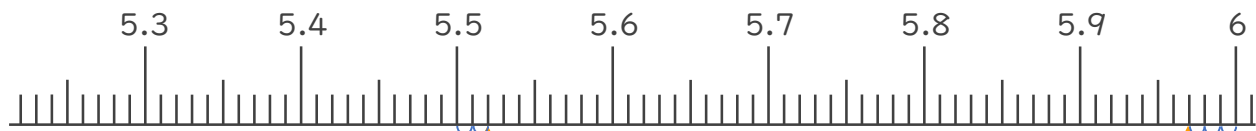
(うすい字はなぞりましょう。)

ア 5.5より0.02大きい数

イ 6より0.03小さい数

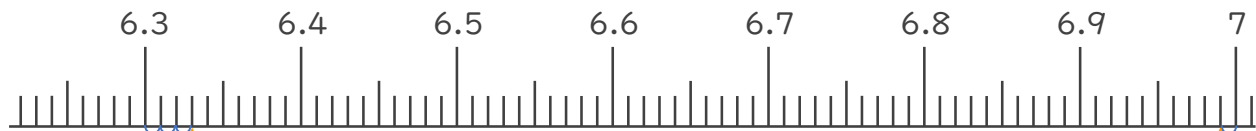
ウ 6.3より0.03大きい数

エ 7より0.01小さい数



ア 5.52

イ 5.97



ウ 6.33

エ 6.99

2. 次の数はいくつですか。(うすい字はなぞりましょう。)

① 5と0.65をあわせた数

答え 5.65

② 1を5こ、0.1を1こ、0.01を4こあわせた数

答え 5.14

③ 1を3こ、0.1を8こ、0.01を2こあわせた数

答え 3.82





小数のしくみ7

◎ 6より0.03小さい数



日にち： 月 日

名まえ _____

1. 下の数直線で、ア～エの数を表すめもりに ↑ をかきましょう。

また、↑ の下にア～エの記号とその数をかきましょう。

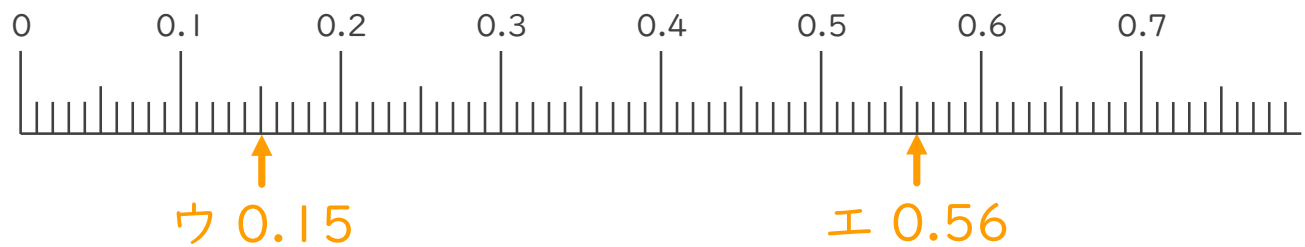
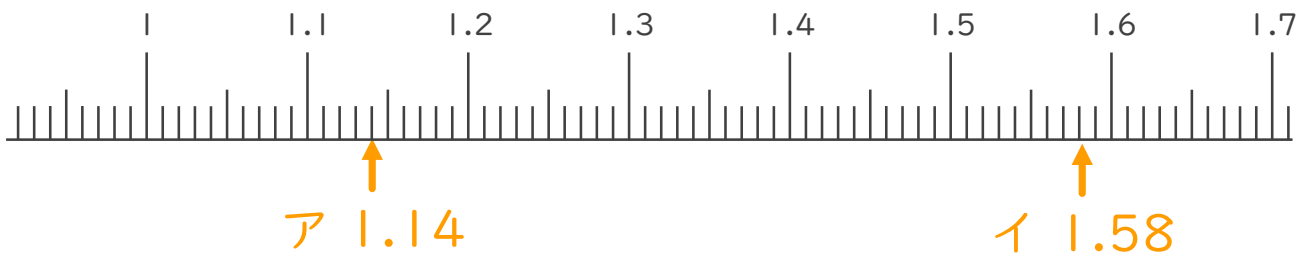
(うすい字はなぞりましょう。)

ア 1.1 より 0.04 大きい数

イ 1.6 より 0.02 小さい数

ウ 0.1 より 0.05 大きい数

エ 0.6 より 0.04 小さい数



2. 次の数はいくつですか。(うすい字はなぞりましょう。)

① 3と0.85をあわせた数

答え 3.85

② 1を6こ、0.1を4こ、0.01を8こあわせた数

答え 6.48

③ 1を2こ、0.1を0こ、0.01を9こあわせた数

答え 2.09





小数のしくみ7

◎ 6より0.03小さい数



日にち： 月 日

名まえ

1. 下の数直線で、ア～エの数を表すめもりに ↑ をかきましょう。

また、↑ の下にア～エの記号とその数をかきましょう。

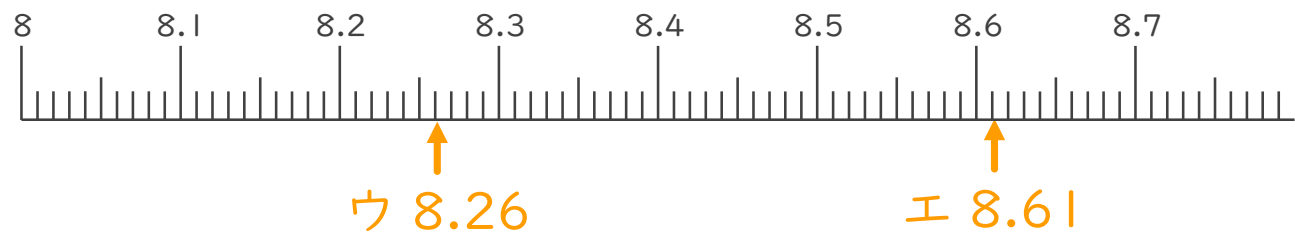
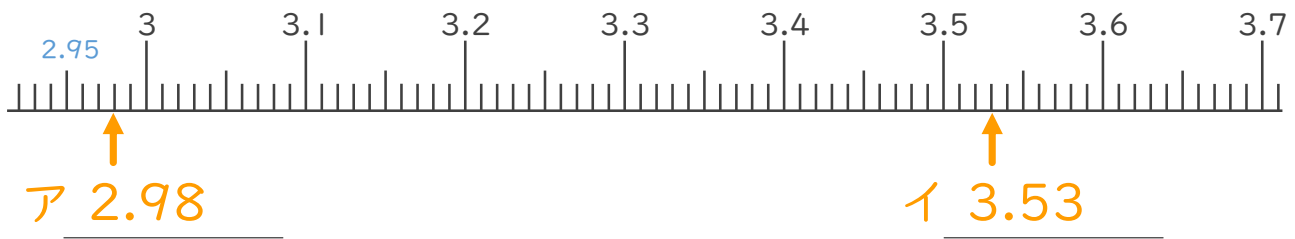
(うすい字はなぞりましょう。)

ア 3より0.02小さい数

イ 3.5より0.03大きい数

ウ 8.2より0.06大きい数

エ 8.7より0.09小さい数



2. 次の数はいくつですか。(うすい字はなぞりましょう。)

① 6と0.04をあわせた数

答え 6.04

② 1を1こ、0.1を0こ、0.01を3こあわせた数

答え 1.03

③ 1を8こ、0.1を1こ、0.01を5こあわせた数

答え 8.15





小数のしくみ7

© 6より0.03小さい数



日にち： 月 日

名まえ _____

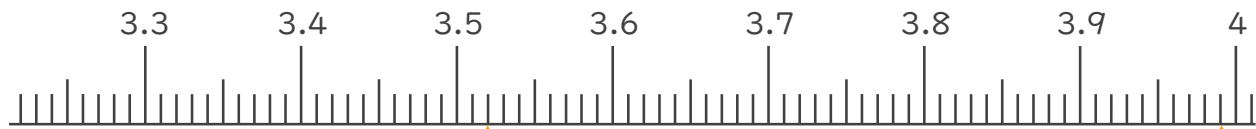
1. 下の数直線で、ア～エの数を表すめもりに ↑ をかきましょう。
また、 ↑ の下にア～エの記号とその数をかきましょう。

ア 3.5より0.02大きい数

イ 4より0.01小さい数

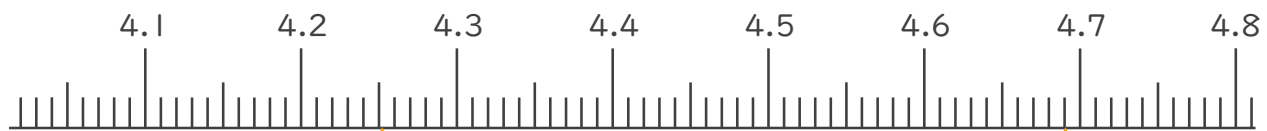
ウ 4.2より0.05大きい数

エ 4.7より0.01小さい数



ア 3.52

イ 3.99



ウ 4.25

エ 4.69

2. 次の数はいくつですか。(うすい字はなぞりましょう。)

① 3と0.24をあわせた数

答え 3.24

② 1を4こ、0.01を7こあわせた数

0.1は0こだよ!



答え 3.07

③ 1を5こ、0.1を2こ、0.01を1こあわせた数

答え 5.21





小数のしくみ7

© 6より0.03小さい数



日にち： 月 日

名まえ _____

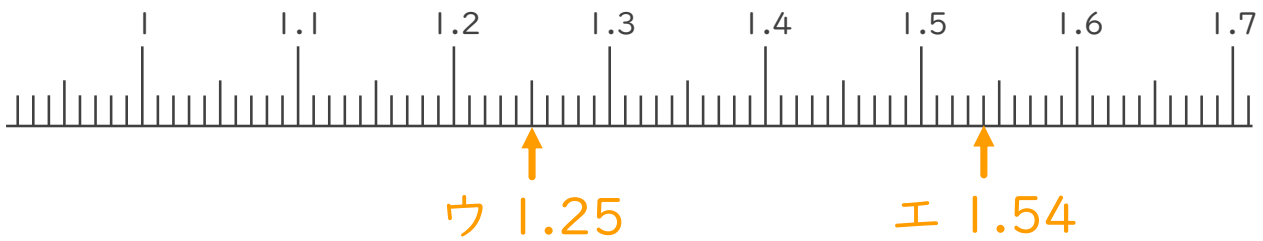
1. 下の数直線で、ア～エの数を表すめもりに ↑ をかきましょう。
また、 ↑ の下にア～エの記号とその数をかきましょう。

ア 3.6より0.03大きい数

イ 4より0.09小さい数

ウ 1.2より0.05大きい数

エ 1.6より0.06小さい数



2. 次の数はいくつですか。

① 3と0.1をあわせた数

答え 3.1

② 1を7こ、0.01を3こあわせた数

答え 7.03

③ 1を5こ、0.1を4こ、0.01を9こあわせた数

答え 5.49





小数のしくみ7

© 6より0.03小さい数



日にち： 月 日

名まえ _____

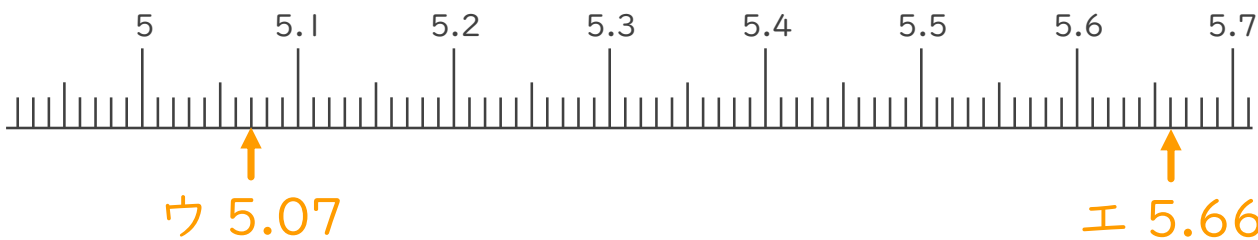
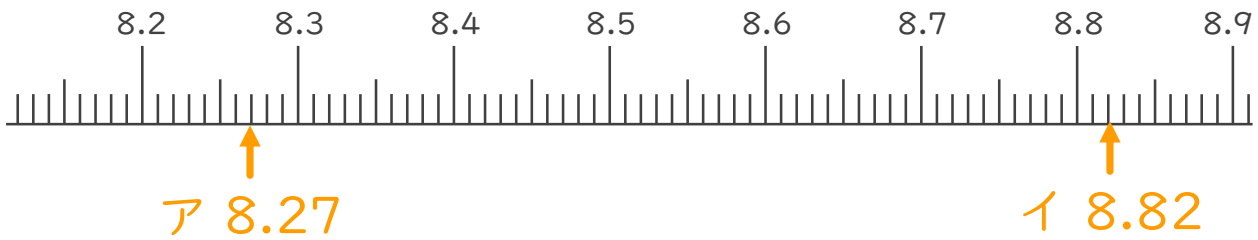
1. 下の数直線で、ア～エの数を表すめもりに ↑ をかきましょう。
また、 ↑ の下にア～エの記号とその数をかきましょう。

ア 8.2より0.07大きい数

イ 8.9より0.08小さい数

ウ 5より0.07大きい数

エ 5.7より0.04小さい数



2. 次の数はいくつですか。

① 7と0.3をあわせた数

答え 7.3

② 1を9こ、0.01を4こあわせた数

答え 9.04

③ 1を4こ、0.1を2こ、0.01を8こあわせた数

答え 4.28





小数のしくみ7

◎ 6より0.03小さい数



日にち： 月 日

名まえ

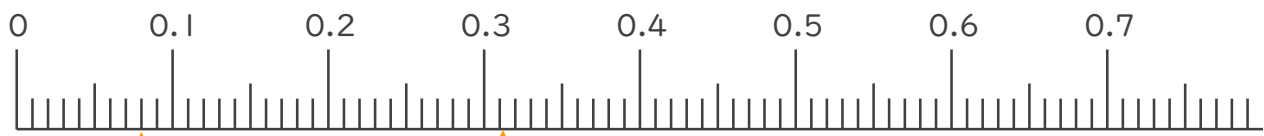
1. 下の数直線で、ア～エの数を表すめもりに ↑ をかきましょう。
また、 ↑ の下にア～エの記号とその数をかきましょう。

ア 0.1より0.02小さい数

イ 0.3より0.01大きい数

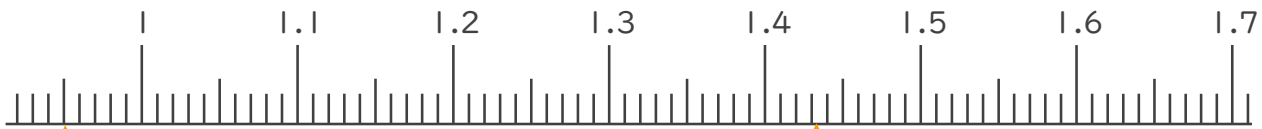
ウ 1より0.05小さい数

エ 1.4より0.03大きい数



ア 0.08

イ 0.31



ウ 0.95

エ 1.43

2. 次の数はいくつですか。

① 3と0.24をあわせた数

答え 3.24

② 1を5こ、0.1を2こ、0.01を1こあわせた数

答え 5.21

③ 0.01を15こ集めた数

答え 0.15





小数のしくみ7

◎ 6より0.03小さい数



日にち： 月 日

名まえ

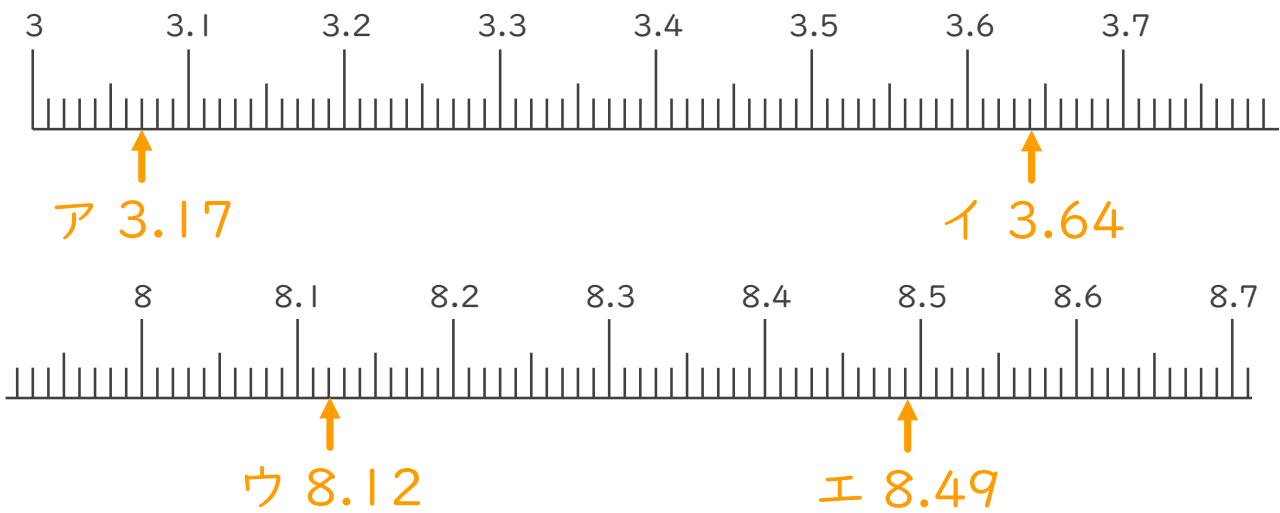
1. 下の数直線で、ア～エの数を表すめもりに ↑ をかきましょう。
また、 ↑ の下にア～エの記号とその数をかきましょう。

ア 3.2より0.03小さい数

イ 3.6より0.04大きい数

ウ 8.2より0.08小さい数

エ 8.4より0.09大きい数



2. 次の数はいくつですか。

① 6と0.81をあわせた数

答え 6.81

② 1を4こ、0.1を1こ、0.01を7こあわせた数

答え 4.17

③ 0.01を67こ集めた数

答え 0.67





小数のしくみ7

◎ 6より0.03小さい数

12

日にち： 月 日

名まえ _____

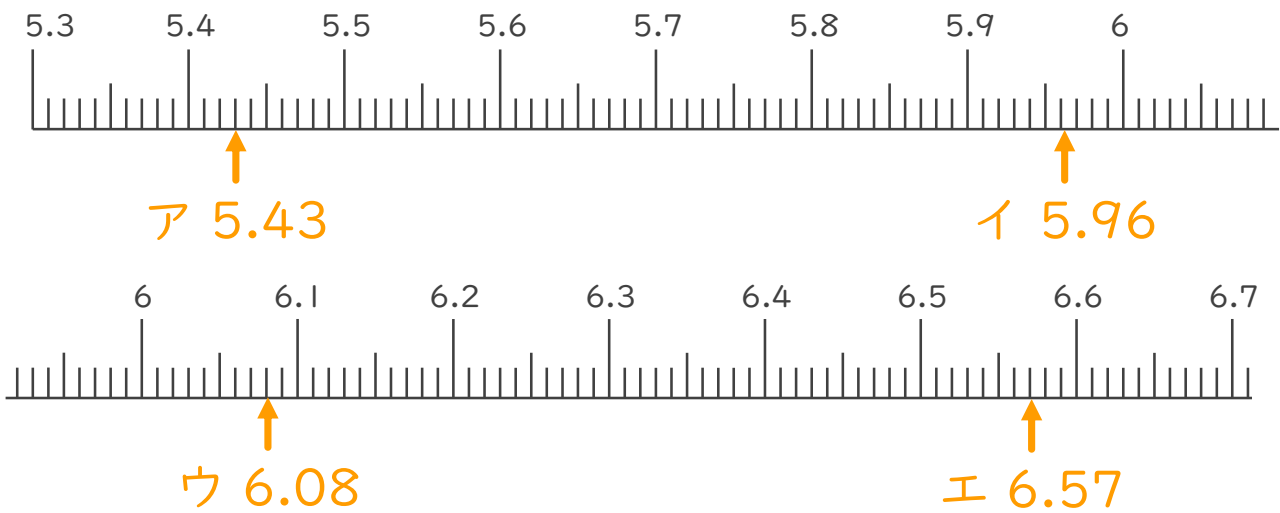
1. 下の数直線で、ア～エの数を表すめもりに ↑ をかきましょう。
また、 ↑ の下にア～エの記号とその数をかきましょう。

ア 5.5より0.07小さい数

イ 5.9より0.06大きい数

ウ 6.1より0.02小さい数

エ 6.5より0.07大きい数



2. 次の数はいくつですか。

① 7と0.26をあわせた数

答え 7.26

② 1を1こ、0.1を5こ、0.01を2こあわせた数

答え 1.52

③ 0.01を96こ集めた数

答え 0.96





小数のしくみ7

◎ 6より0.03小さい数

13

日にち： 月 日

名まえ

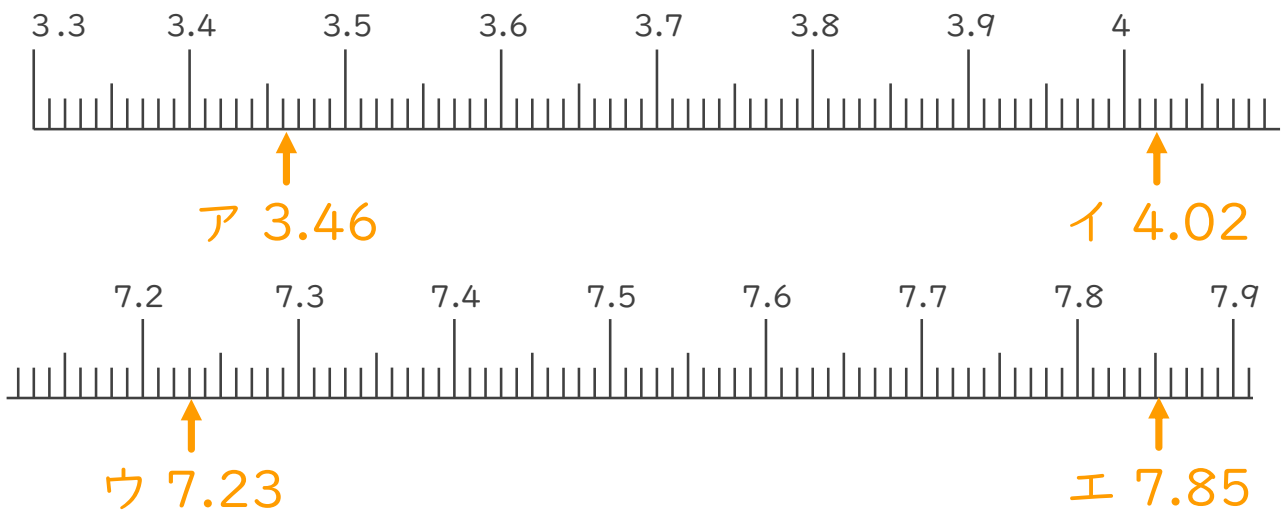
1. 下の数直線で、ア～エの数を表すめもりに ↑ をかきましょう。
また、 ↑ の下にア～エの記号とその数をかきましょう。

ア 3.5より0.04小さい数

イ 4より0.02大きい数

ウ 7.3より0.07小さい数

エ 7.8より0.05大きい数



2. 次の数はいくつですか。

① 3と0.12をあわせた数

答え 3.12

② 1を6こ、0.1を1こ、0.01を4こあわせた数

答え 6.14

③ 0.01を43こ集めた数

答え 0.43





小数のしくみ7

◎ 6より0.03小さい数

14

日にち： 月 日

名まえ

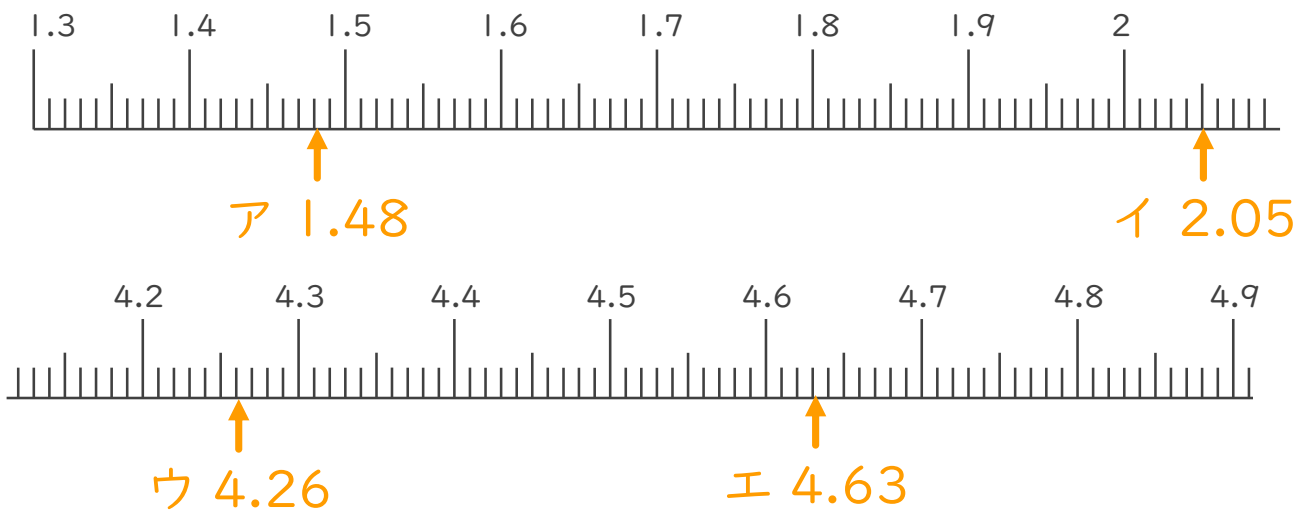
1. 下の数直線で、ア～エの数を表すめもりに ↑ をかきましょう。
また、 ↑ の下にア～エの記号とその数をかきましょう。

ア 1.5より0.02小さい数

イ 2より0.05大きい数

ウ 4.3より0.04小さい数

エ 4.6より0.03大きい数



2. 次の数はいくつですか。

① 7と0.24をあわせた数

答え 7.24

② 1を3こ、0.1を9こ、0.01を8こあわせた数

答え 3.98

③ 0.01を17こ集めた数

答え 0.17





小数のしくみ7

◎ 6より0.03小さい数

15

目指せ80点!

てん

名まえ

1. 下の数直線で、ア～エの数を表すめもりに ↑ をかきましょう。
 また、↑ の下にア～エの記号とその数をかきましょう。
 (各20点)

ア 1より0.05小さい数

イ 1.3より0.01大きい数



2. 次の数はいくつですか。(各20点)

① 3と0.24をあわせた数

答え 3.24

② 1を5こ、0.1を2こ、0.01を1こあわせた数

答え 5.21

③ 0.01を12こ集めた数

答え 0.12



小数のしくみ7

◎ 6より0.03小さい数



目指せ80点!

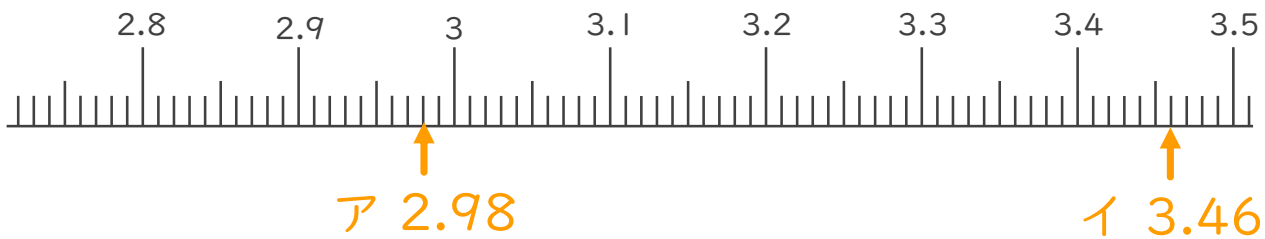


名まえ

1. 下の数直線で、ア～エの数を表すめもりに↑をかきましょう。
 また、↑の下にア～エの記号とその数をかきましょう。
 (各20点)

ア 3より0.02小さい数

イ 3.4より0.06大きい数



2. 次の数はいくつですか。(各20点)

① 4と0.83をあわせた数

答え 4.83

② 1を2こ、0.1を9こ、0.01を4こあわせた数

答え 2.94

③ 0.01を70こ集めた数

答え 0.7

