



# 小数のたし算とひき算4

◎計算のくふうと小数のたし算



日にち：            月            日

名まえ \_\_\_\_\_

・工夫して計算しましょう。（うすい字はなぞりましょう。）

$$\begin{aligned} \textcircled{1} \quad 4.5 + 8.7 + 5.5 &= 4.5 + 5.5 + 8.7 \\ &\quad \downarrow \\ &= \square + 8.7 \\ &= \end{aligned}$$

$$\begin{aligned} \textcircled{2} \quad 6.6 + 4.75 + 0.25 &= 4.75 + 0.25 + 6.6 \\ &\quad \downarrow \\ &= \square + \\ &= \end{aligned}$$

$$\begin{aligned} \textcircled{3} \quad 1.7 + 2.9 + 3.3 &= 1.7 + \square + \\ &\quad \downarrow \\ &= \square + \\ &= \end{aligned}$$

$$\begin{aligned} \textcircled{4} \quad 1.35 + 3.7 + 2.65 &= 1.35 + \square \\ &\quad \downarrow \\ &= \square \\ &= \end{aligned}$$



# 小数のたし算とひき算4

◎ 計算のくふうと小数のたし算



日にち：            月            日

名まえ \_\_\_\_\_

・工夫して計算しましょう。（うすい字はなぞりましょう。）

$$\begin{aligned} \textcircled{1} \quad 1.5 + 8.9 + 4.5 &= 1.5 + 4.5 + 8.9 \\ &\quad \downarrow \\ &= \square + 8.9 \\ &= \end{aligned}$$

$$\begin{aligned} \textcircled{2} \quad 3.7 + 5.35 + 1.65 &= 5.35 + 1.65 + 3.7 \\ &\quad \downarrow \\ &= \square + \\ &= \end{aligned}$$

$$\begin{aligned} \textcircled{3} \quad 6.4 + 8.2 + 3.6 &= 6.4 + \square + 8.2 \\ &\quad \downarrow \\ &= \square + \\ &= \end{aligned}$$

$$\begin{aligned} \textcircled{4} \quad 7.45 + 6.3 + 2.55 &= \square + \square + \\ &\quad \downarrow \\ &= \square + \\ &= \end{aligned}$$



# 小数のたし算とひき算4

◎計算のくふうと小数のたし算

3

日にち： 月 日

名まえ \_\_\_\_\_

・工夫して計算しましょう。(うすい字はなぞりましょう。)

$$\begin{aligned} \textcircled{1} \quad 8.5 + 4.7 + 2.5 &= 8.5 + 2.5 + 4.7 \\ &\quad \downarrow \\ &= \square + 4.7 \\ &= \end{aligned}$$

$$\begin{aligned} \textcircled{2} \quad 2.5 + 5.25 + 6.75 &= 5.25 + 6.75 + 2.5 \\ &\quad \downarrow \\ &= \square + \\ &= \end{aligned}$$

$$\begin{aligned} \textcircled{3} \quad 3.6 + 2.1 + 4.4 &= 3.6 + \square + \\ &\quad \downarrow \\ &= \square + \\ &= \end{aligned}$$

$$\begin{aligned} \textcircled{4} \quad 4.35 + 7.9 + 1.65 &= \square + \square + \\ &\quad \downarrow \\ &= \square + \\ &= \end{aligned}$$



# 小数のたし算とひき算4

◎計算のくふうと小数のたし算

4

日にち： 月 日

名まえ \_\_\_\_\_

・工夫して計算しましょう。(うすい字はなぞりましょう。)

$$\begin{aligned} \textcircled{1} \quad 5.5 + 3.1 + 8.5 &= 5.5 + 8.5 + 3.1 \\ &\quad \downarrow \\ &= \square + 3.1 \\ &= \end{aligned}$$

$$\begin{aligned} \textcircled{2} \quad 8.6 + 4.45 + 2.55 &= 4.45 + 2.55 + 8.6 \\ &\quad \downarrow \\ &= \square + \\ &= \end{aligned}$$

$$\begin{aligned} \textcircled{3} \quad 4.9 + 2.7 + 3.1 &= 4.9 + \square + \\ &\quad \downarrow \\ &= \square + \\ &= \end{aligned}$$

$$\begin{aligned} \textcircled{4} \quad 5.25 + 6.2 + 3.75 &= \square + \square + \\ &\quad \downarrow \\ &= \square + \\ &= \end{aligned}$$



# 小数のたし算とひき算4

◎計算のくふうと小数のたし算



日にち：            月            日

名まえ \_\_\_\_\_

・工夫して計算しましょう。(うすい字はなぞりましょう。)

$$\begin{aligned} \textcircled{1} \quad 3.9 + 2.2 + 1.1 &= 3.9 + 1.1 + \\ &= \square + \\ &= \end{aligned}$$

$$\begin{aligned} \textcircled{2} \quad 2.8 + 6.45 + 1.55 &= 6.45 + \square + \\ &= \square + \\ &= \end{aligned}$$

$$\begin{aligned} \textcircled{3} \quad 3.5 + 4.7 + 4.5 &= \quad + \quad + \\ &= \quad + \\ &= \end{aligned}$$

$$\begin{aligned} \textcircled{4} \quad 3.25 + 5.8 + 5.75 &= \quad + \quad + \\ &= \quad + \\ &= \end{aligned}$$



# 小数のたし算とひき算4

◎ 計算のくふうと小数のたし算



日にち：            月            日

名まえ \_\_\_\_\_

・工夫して計算しましょう。（うすい字はなぞりましょう。）

$$\begin{aligned} \textcircled{1} \quad 7.6 + 2.5 + 1.4 &= 7.6 + \quad + \\ &\quad \downarrow \\ &= \quad + \\ &= \end{aligned}$$

$$\begin{aligned} \textcircled{2} \quad 3.9 + 4.85 + 2.15 &= \quad + \quad + \\ &\quad \downarrow \\ &= \quad + \\ &= \end{aligned}$$

$$\begin{aligned} \textcircled{3} \quad 8.5 + 7.3 + 1.5 &= \quad + \quad + \\ &= \quad + \\ &= \end{aligned}$$

$$\begin{aligned} \textcircled{4} \quad 4.65 + 2.3 + 1.35 &= \\ &= \\ &= \end{aligned}$$



# 小数のたし算とひき算4

◎計算のくふうと小数のたし算



日にち：            月            日

名まえ \_\_\_\_\_

・工夫して計算しましょう。（うすい字はなぞりましょう。）

$$\begin{aligned} \textcircled{1} \quad 7.9 + 5.7 + 6.1 &= \boxed{\phantom{00}} + \boxed{\phantom{00}} + \\ &\quad \downarrow \\ &= \boxed{\phantom{00}} + \\ &= \end{aligned}$$

$$\begin{aligned} \textcircled{2} \quad 3.9 + 9.25 + 4.75 &= \boxed{\phantom{000}} + \boxed{\phantom{000}} + \\ &\quad \downarrow \\ &= \boxed{\phantom{000}} + \\ &= \end{aligned}$$

$$\begin{aligned} \textcircled{3} \quad 6.5 + 1.8 + 2.5 &= \phantom{00} + \phantom{00} + \\ &= \phantom{00} + \\ &= \end{aligned}$$

$$\begin{aligned} \textcircled{4} \quad 7.15 + 3.8 + 4.85 &= \\ &= \\ &= \end{aligned}$$



# 小数のたし算とひき算4

◎ 計算のくふうと小数のたし算



日にち：            月            日

名まえ \_\_\_\_\_

・工夫して計算しましょう。

$$\begin{aligned} \textcircled{1} \quad 3.2 + 9.3 + 2.8 &= \boxed{\phantom{00}} + \boxed{\phantom{00}} + \\ &\quad \downarrow \\ &= \boxed{\phantom{00}} + \\ &= \end{aligned}$$

$$\begin{aligned} \textcircled{2} \quad 4.7 + 3.65 + 9.35 &= \boxed{\phantom{00}} + \boxed{\phantom{00}} + \\ &\quad \downarrow \\ &= \boxed{\phantom{00}} \\ &= \end{aligned}$$

$$\begin{aligned} \textcircled{3} \quad 3.5 + 3.6 + 6.5 &= \\ &= \\ &= \end{aligned}$$

$$\begin{aligned} \textcircled{4} \quad 5.95 + 3.9 + 5.05 &= \\ &= \\ &= \end{aligned}$$





# 小数のたし算とひき算4

◎ 計算のくふうと小数のたし算



日にち：            月            日

名まえ \_\_\_\_\_

・工夫して計算しましょう。

$$\begin{aligned} \textcircled{1} \quad 8.1 + 2.4 + 7.9 &= \boxed{\phantom{00}} + \boxed{\phantom{00}} + \\ &\quad \downarrow \\ &= \boxed{\phantom{00}} + \\ &= \end{aligned}$$

$$\begin{aligned} \textcircled{2} \quad 6.4 + 6.65 + 2.35 &= \boxed{\phantom{000}} + \boxed{\phantom{000}} + \\ &\quad \downarrow \\ &= \boxed{\phantom{000}} \\ &= \end{aligned}$$

$$\begin{aligned} \textcircled{3} \quad 1.5 + 1.2 + 7.5 &= \\ &= \\ &= \end{aligned}$$

$$\begin{aligned} \textcircled{4} \quad 2.85 + 8.3 + 4.15 &= \\ &= \\ &= \end{aligned}$$



# 小数のたし算とひき算4

◎ 計算のくふうと小数のたし算



日にち：            月            日

名まえ \_\_\_\_\_

1 エ夫して計算しましょう。

①  $5.2 + 4.7 + 1.8 =$

=

=


②  $5.49 + 2.3 + 2.51 =$

=


=

2 次の計算をしましょう。


①  $18 + 1.34$




②  $6.69 + 2.31$



③  $0.55 + 3.499$



④  $20.04 + 3.96$





# 小数のたし算とひき算4

◎ 計算のくふうと小数のたし算



日にち：            月            日

名まえ \_\_\_\_\_

1 エ夫して計算しましょう。

①  $8.6 + 5.7 + 2.3 =$

=

=

②  $2.72 + 8.1 + 1.28 =$

=


=

2 次の計算をしましょう。

①  $6.94 + 6.4$




②  $4.32 + 0.98$



③  $16 + 4.983$



④  $84.81 + 7.19$





# 小数のたし算とひき算4

◎計算のくふうと小数のたし算



日にち：            月            日

名まえ \_\_\_\_\_

1 エ夫して計算しましょう。

①  $5.7 + 1.2 + 6.3 =$

=

=

②  $6.73 + 2.5 + 1.27 =$

=


=

2 次の計算をしましょう。


①  $29 + 3.21$




②  $7.45 + 8.55$



③  $0.79 + 1.548$



④  $48.23 + 6.77$





# 小数のたし算とひき算4

◎ 計算のくふうと小数のたし算

13

日にち：            月            日

名まえ \_\_\_\_\_

1 エ夫して計算しましょう。

①  $4.8 + 7.3 + 1.7 =$

=

=

②  $3.19 + 5.2 + 2.81 =$

=


=

2 次の計算をしましょう。


①  $5.29 + 7.3$




②  $8.14 + 0.66$



③  $46 + 1.382$



④  $47.15 + 6.85$





# 小数のたし算とひき算4

◎ 計算のくふうと小数のたし算

14

日にち：            月            日

名まえ \_\_\_\_\_

1 エ夫して計算しましょう。

①  $2.5 + 6.3 + 4.5 =$

$=$

$=$


②  $1.78 + 9.4 + 4.22 =$

$=$


$=$

2 次の計算をしましょう。

①  $32 + 9.61$




②  $7.58 + 8.42$



③  $0.92 + 1.645$



④  $12.83 + 7.17$





# 小数のたし算とひき算4

◎計算のくふうと小数のたし算

15

目指せ80点!



名まえ

---

1 エ夫して計算しましょう。(各20点)

①  $2.3 + 3.8 + 6.2 =$

=

=

②  $6.75 + 4.9 + 1.25 =$

=

=

2 次の計算をしましょう。(各15点)

①  $3.48 + 5.7$

②  $1.578 + 2.922$

③  $45.17 + 2.83$

④  $28 + 3.49$



# 小数のたし算とひき算4

◎計算のくふうと小数のたし算

16

目指せ80点!



名まえ

---

1 エ夫して計算しましょう。(各20点)

①  $6.7 + 3.8 + 3.3 =$

=

=

②  $1.58 + 4.3 + 2.42 =$

=

=

2 次の計算をしましょう。(各15点)

①  $18 + 3.47$

②  $3.44 + 0.66$

③  $6.378 + 2.622$

④  $1.78 + 4.3$





## 小数のたし算とひき算4

◎計算のくふうと小数のたし算



日にち：        月        日

名まえ \_\_\_\_\_

・工夫して計算しましょう。(うすい字はなぞりましょう。)

$$\begin{aligned} \textcircled{1} \quad 4.5 + 8.7 + 5.5 &= 4.5 + 5.5 + 8.7 \\ &\quad \downarrow \\ &= 10 + 8.7 \\ &= 18.7 \end{aligned}$$

$$\begin{aligned} \textcircled{2} \quad 6.6 + 4.75 + 0.25 &= 4.75 + 0.25 + 6.6 \\ &\quad \downarrow \\ &= 5 + \\ &= 11.6 \end{aligned}$$

$$\begin{aligned} \textcircled{3} \quad 1.7 + 2.9 + 3.3 &= 1.7 + 3.3 + 2.9 \\ &\quad \downarrow \\ &= 5 + 2.9 \\ &= 7.9 \end{aligned}$$

$$\begin{aligned} \textcircled{4} \quad 1.35 + 3.7 + 2.65 &= 1.35 + 2.65 + 3.7 \\ &\quad \downarrow \\ &= 4 + 3.7 \\ &= 7.7 \end{aligned}$$





## 小数のたし算とひき算4

◎計算のくふうと小数のたし算

2

日にち：      月      日

名まえ \_\_\_\_\_

・工夫して計算しましょう。(うすい字はなぞりましょう。)

$$\begin{aligned} \textcircled{1} \quad 1.5 + 8.9 + 4.5 &= 1.5 + 4.5 + 8.9 \\ &\quad \downarrow \\ &= 6 + 8.9 \\ &= 14.9 \end{aligned}$$

$$\begin{aligned} \textcircled{2} \quad 3.7 + 5.35 + 1.65 &= 5.35 + 1.65 + 3.7 \\ &\quad \downarrow \\ &= 7 + \\ &= 10.7 \end{aligned}$$

$$\begin{aligned} \textcircled{3} \quad 6.4 + 8.2 + 3.6 &= 6.4 + 3.6 + 8.2 \\ &\quad \downarrow \\ &= 10 + 8.2 \\ &= 18.2 \end{aligned}$$

$$\begin{aligned} \textcircled{4} \quad 7.45 + 6.3 + 2.55 &= 7.45 + 2.55 + 6.3 \\ &\quad \downarrow \\ &= 10 + 6.3 \\ &= 16.3 \end{aligned}$$



## 小数のたし算とひき算4

◎計算のくふうと小数のたし算

3

日にち：      月      日

名まえ \_\_\_\_\_

・工夫して計算しましょう。(うすい字はなぞりましょう。)

$$\begin{aligned} \textcircled{1} \quad 8.5 + 4.7 + 2.5 &= 8.5 + 2.5 + 4.7 \\ &\quad \downarrow \\ &= 11 + 4.7 \\ &= 15.7 \end{aligned}$$

$$\begin{aligned} \textcircled{2} \quad 2.5 + 5.25 + 6.75 &= 5.25 + 6.75 + 2.5 \\ &\quad \downarrow \\ &= 12 + \\ &= 14.5 \end{aligned}$$

$$\begin{aligned} \textcircled{3} \quad 3.6 + 2.1 + 4.4 &= 3.6 + 4.4 + 2.1 \\ &\quad \downarrow \\ &= 8 + 2.1 \\ &= 10.1 \end{aligned}$$

$$\begin{aligned} \textcircled{4} \quad 4.35 + 7.9 + 1.65 &= 4.35 + 1.65 + 7.9 \\ &\quad \downarrow \\ &= 6 + 7.9 \\ &= 13.9 \end{aligned}$$



## 小数のたし算とひき算4

◎計算のくふうと小数のたし算

4

日にち：        月        日

名まえ \_\_\_\_\_

・工夫して計算しましょう。(うすい字はなぞりましょう。)

$$\begin{aligned} \textcircled{1} \quad 5.5 + 3.1 + 8.5 &= 5.5 + 8.5 + 3.1 \\ &\quad \downarrow \\ &= 14 + 3.1 \\ &= 17.1 \end{aligned}$$

$$\begin{aligned} \textcircled{2} \quad 8.6 + 4.45 + 2.55 &= 4.45 + 2.55 + 8.6 \\ &\quad \downarrow \\ &= 7 + \\ &= 15.6 \end{aligned}$$

$$\begin{aligned} \textcircled{3} \quad 4.9 + 2.7 + 3.1 &= 4.9 + 3.1 + 2.7 \\ &\quad \downarrow \\ &= 8 + 2.7 \\ &= 10.7 \end{aligned}$$

$$\begin{aligned} \textcircled{4} \quad 5.25 + 6.2 + 3.75 &= 5.25 + 3.75 + 6.2 \\ &\quad \downarrow \\ &= 9 + 6.2 \\ &= 15.2 \end{aligned}$$





## 小数のたし算とひき算4

◎計算のくふうと小数のたし算

5

日にち：            月            日

名まえ \_\_\_\_\_

・工夫して計算しましょう。(うすい字はなぞりましょう。)

$$\begin{aligned} \textcircled{1} \quad 3.9 + 2.2 + 1.1 &= 3.9 + 1.1 + 2.2 \\ &\quad \downarrow \\ &= 5 + 2.2 \\ &= 7.2 \end{aligned}$$

$$\begin{aligned} \textcircled{2} \quad 2.8 + 6.45 + 1.55 &= 6.45 + 1.55 + 2.8 \\ &\quad \downarrow \\ &= 8 + 2.8 \\ &= 10.8 \end{aligned}$$

$$\begin{aligned} \textcircled{3} \quad 3.5 + 4.7 + 4.5 &= 3.5 + 4.5 + 4.7 \\ &= 8 + 4.7 \\ &= 12.7 \end{aligned}$$

$$\begin{aligned} \textcircled{4} \quad 3.25 + 5.8 + 5.75 &= 3.25 + 5.75 + 5.8 \\ &= 9 + 5.8 \\ &= 14.8 \end{aligned}$$



## 小数のたし算とひき算4

◎計算のくふうと小数のたし算

6

日にち：            月            日

名まえ \_\_\_\_\_

・工夫して計算しましょう。(うすい字はなぞりましょう。)

$$\begin{aligned} \textcircled{1} \quad 7.6 + 2.5 + 1.4 &= 7.6 + 1.4 + 2.5 \\ &\quad \downarrow \\ &= 9 + 2.5 \\ &= 11.5 \end{aligned}$$

$$\begin{aligned} \textcircled{2} \quad 3.9 + 4.85 + 2.15 &= 4.85 + 2.15 + 3.9 \\ &\quad \downarrow \\ &= 7 + 3.9 \\ &= 10.9 \end{aligned}$$

$$\begin{aligned} \textcircled{3} \quad 8.5 + 7.3 + 1.5 &= 8.5 + 1.5 + 7.3 \\ &= 10 + 7.3 \\ &= 17.3 \end{aligned}$$

$$\begin{aligned} \textcircled{4} \quad 4.65 + 2.3 + 1.35 &= 4.65 + 1.35 + 2.3 \\ &= 6 + 2.3 \\ &= 8.3 \end{aligned}$$



## 小数のたし算とひき算4

◎計算のくふうと小数のたし算

7

日にち：            月            日

名まえ \_\_\_\_\_

・工夫して計算しましょう。(うすい字はなぞりましょう。)

$$\begin{aligned} \textcircled{1} \quad 7.9 + 5.7 + 6.1 &= 7.9 + 6.1 + 5.7 \\ &\quad \downarrow \\ &= 14 + 5.7 \\ &= 19.7 \end{aligned}$$

$$\begin{aligned} \textcircled{2} \quad 3.9 + 9.25 + 4.75 &= 9.25 + 4.75 + 3.9 \\ &\quad \downarrow \\ &= 14 + 3.9 \\ &= 17.9 \end{aligned}$$

$$\begin{aligned} \textcircled{3} \quad 6.5 + 1.8 + 2.5 &= 6.5 + 2.5 + 1.8 \\ &= 9 + 1.8 \\ &= 10.8 \end{aligned}$$

$$\begin{aligned} \textcircled{4} \quad 7.15 + 3.8 + 4.85 &= 7.15 + 4.85 + 3.8 \\ &= 12 + 3.8 \\ &= 15.8 \end{aligned}$$



## 小数のたし算とひき算4

◎計算のくふうと小数のたし算



日にち：            月            日

名まえ \_\_\_\_\_

・工夫して計算しましょう。

$$\begin{aligned} \textcircled{1} \quad 3.2 + 9.3 + 2.8 &= 3.2 + 2.8 + 9.3 \\ &\quad \downarrow \\ &= 6 + 9.3 \\ &= 15.3 \end{aligned}$$

$$\begin{aligned} \textcircled{2} \quad 4.7 + 3.65 + 9.35 &= 3.65 + 9.35 + 4.7 \\ &\quad \downarrow \\ &= 13 + 4.7 \\ &= 17.7 \end{aligned}$$

$$\begin{aligned} \textcircled{3} \quad 3.5 + 3.6 + 6.5 &= 3.5 + 6.5 + 3.6 \\ &= 10 + 3.6 \\ &= 13.6 \end{aligned}$$

$$\begin{aligned} \textcircled{4} \quad 5.95 + 3.9 + 5.05 &= 5.95 + 5.05 + 3.9 \\ &= 11 + 3.9 \\ &= 14.9 \end{aligned}$$







## 小数のたし算とひき算4

◎計算のくふうと小数のたし算

9

日にち：            月            日

名まえ \_\_\_\_\_

・工夫して計算しましょう。

$$\begin{aligned} \textcircled{1} \quad 8.1 + 2.4 + 7.9 &= 8.1 + 7.9 + 2.4 \\ &\quad \downarrow \\ &= 16 + 2.4 \\ &= 18.4 \end{aligned}$$

$$\begin{aligned} \textcircled{2} \quad 6.4 + 6.65 + 2.35 &= 6.65 + 2.35 + 6.4 \\ &\quad \downarrow \\ &= 9 + 6.4 \\ &= 15.4 \end{aligned}$$

$$\begin{aligned} \textcircled{3} \quad 1.5 + 1.2 + 7.5 &= 1.5 + 7.5 + 1.2 \\ &= 9 + 1.2 \\ &= 10.2 \end{aligned}$$

$$\begin{aligned} \textcircled{4} \quad 2.85 + 8.3 + 4.15 &= 2.85 + 4.15 + 8.3 \\ &= 7 + 8.3 \\ &= 15.3 \end{aligned}$$



# 小数のたし算とひき算4

◎ 計算のくふうと小数のたし算



日にち：            月            日

名まえ \_\_\_\_\_

1 エ夫して計算しましょう。

$$\begin{aligned} \textcircled{1} \quad 5.2 + 4.7 + 1.8 &= 5.2 + 1.8 + 4.7 \\ &= 7 + 4.7 \\ &= 11.7 \end{aligned}$$

$$\begin{aligned} \textcircled{2} \quad 5.49 + 2.3 + 2.51 &= 5.49 + 2.51 + 2.3 \\ &= 8 + 2.3 \\ &= 10.3 \end{aligned}$$

2 次の計算をしましょう。

① 18 + 1.34

	1	8	0	0
+		1	3	4
<hr/>				
	1	9	3	4

② 6.69 + 2.31

	6	6	9
+	2	3	1
<hr/>			
	9	0	0

③ 0.55 + 3.499

	0	5	5	0
+	3	4	9	9
<hr/>				
	4	0	4	9

④ 20.04 + 3.96

	2	0	0	4
+		3	9	6
<hr/>				
	2	4	0	0



# 小数のたし算とひき算4

◎ 計算のくふうと小数のたし算



日にち：            月            日

名まえ \_\_\_\_\_

1 工夫して計算しましょう。

$$\begin{aligned} \textcircled{1} \quad 8.6 + 5.7 + 2.3 &= 5.7 + 2.3 + 8.6 \\ &= 8 + 8.6 \\ &= 16.6 \end{aligned}$$

$$\begin{aligned} \textcircled{2} \quad 2.72 + 8.1 + 1.28 &= 2.72 + 1.28 + 8.1 \\ &= 4 + 8.1 \\ &= 12.1 \end{aligned}$$

2 次の計算をしましょう。

① 6.94 + 6.4

	6	.	9	4	
+	6	.	4	0	
<hr/>					
	1	3	.	3	4

② 4.32 + 0.98

	4	.	3	2
+	0	.	9	8
<hr/>				
	5	.	3	<del>0</del>

③ 16 + 4.983

	1	6	.	0	0	0
+		4	.	9	8	3
<hr/>						
	2	0	.	9	8	3

④ 84.81 + 7.19

	8	4	.	8	1
+		7	.	1	9
<hr/>					
	9	2	.	<del>0</del>	<del>0</del>





# 小数のたし算とひき算4

◎ 計算のくふうと小数のたし算



日にち：            月            日

名まえ \_\_\_\_\_

1 工夫して計算しましょう。

$$\begin{aligned} \textcircled{1} \quad 5.7 + 1.2 + 6.3 &= 5.7 + 6.3 + 1.2 \\ &= 12 + 1.2 \\ &= 13.2 \end{aligned}$$

$$\begin{aligned} \textcircled{2} \quad 6.73 + 2.5 + 1.27 &= 6.73 + 1.27 + 2.5 \\ &= 8 + 2.5 \\ &= 10.5 \end{aligned}$$

2 次の計算をしましょう。

①  $29 + 3.21$

	2	9	0	0
+		3	2	1
<hr/>				
	3	2	2	1

②  $7.45 + 8.55$

	7	4	5
+	8	5	5
<hr/>			
	1	6	0

③  $0.79 + 1.548$

	0	7	9	0
+	1	5	4	8
<hr/>				
	2	3	3	8

④  $48.23 + 6.77$

	4	8	2	3
+		6	7	7
<hr/>				
	5	5	0	0



1 工夫して計算しましょう。

$$\begin{aligned} \textcircled{1} \quad 4.8 + 7.3 + 1.7 &= 7.3 + 1.7 + 4.8 \\ &= 9 + 4.8 \\ &= 13.8 \end{aligned}$$

$$\begin{aligned} \textcircled{2} \quad 3.19 + 5.2 + 2.81 &= 3.19 + 2.81 + 5.2 \\ &= 6 + 5.2 \\ &= 11.2 \end{aligned}$$

2 次の計算をしましょう。

① 5.29 + 7.3

	5	.	2	9	
+	7	.	3	0	
<hr/>					
	1	2	.	5	9

② 8.14 + 0.66

	8	.	1	4
+	0	.	6	6
<hr/>				
	8	.	8	0

③ 46 + 1.382

	4	6	.	0	0	0
+		1	.	3	8	2
<hr/>						
	4	7	.	3	8	2

④ 47.15 + 6.85

	4	7	.	1	5
+		6	.	8	5
<hr/>					
	5	4	.	0	0





1 工夫して計算しましょう。

$$\begin{aligned} \textcircled{1} \quad 2.5 + 6.3 + 4.5 &= 2.5 + 4.5 + 6.3 \\ &= 7 + 6.3 \\ &= 13.3 \end{aligned}$$

$$\begin{aligned} \textcircled{2} \quad 1.78 + 9.4 + 4.22 &= 1.78 + 4.22 + 9.4 \\ &= 6 + 9.4 \\ &= 15.4 \end{aligned}$$

2 次の計算をしましょう。

① 32 + 9.61

	3	2	0	0
+		9	6	1
<hr/>				
	4	1	6	1

② 7.58 + 8.42

	7	5	8
+	8	4	2
<hr/>			
	1	6	<del>0</del> <del>0</del>

③ 0.92 + 1.645

	0	9	2	0
+	1	6	4	5
<hr/>				
	2	5	6	5

④ 12.83 + 7.17

	1	2	8	3
+		7	1	7
<hr/>				
	2	0	<del>0</del> <del>0</del>	




# 小数のたし算とひき算4

◎計算のくふうと小数のたし算

15

目指せ80点!



名まえ

---

1 エ夫して計算しましょう。(各20点)

$$\begin{aligned} \textcircled{1} \quad 2.3 + 3.8 + 6.2 &= 3.8 + 6.2 + 2.3 \\ &= 10 + 2.3 \\ &= 12.3 \end{aligned}$$

$$\begin{aligned} \textcircled{2} \quad 6.75 + 4.9 + 1.25 &= 6.75 + 1.25 + 4.9 \\ &= 8 + 4.9 \\ &= 12.9 \end{aligned}$$

2 次の計算をしましょう。(各15点)

①  $3.48 + 5.7$

$$\begin{array}{r} 3.48 \\ + 5.70 \\ \hline 9.18 \end{array}$$

②  $1.578 + 2.922$

$$\begin{array}{r} 1.578 \\ + 2.922 \\ \hline 4.500 \end{array}$$

③  $45.17 + 2.83$

$$\begin{array}{r} 45.17 \\ + 2.83 \\ \hline 48.00 \end{array}$$

④  $28 + 3.49$

$$\begin{array}{r} 28.00 \\ + 3.49 \\ \hline 31.49 \end{array}$$



# 小数のたし算とひき算4

◎計算のくふうと小数のたし算

16

目指せ80点!



名まえ

1 エ夫して計算しましょう。(各20点)

$$\begin{aligned} \textcircled{1} \quad 6.7 + 3.8 + 3.3 &= 6.7 + 3.3 + 3.8 \\ &= 10 + 3.8 \\ &= 13.8 \end{aligned}$$

$$\begin{aligned} \textcircled{2} \quad 1.58 + 4.3 + 2.42 &= 1.58 + 2.42 + 4.3 \\ &= 4 + 4.3 \\ &= 8.3 \end{aligned}$$

2 次の計算をしましょう。(各15点)

①  $18 + 3.47$

$$\begin{array}{r} 18.00 \\ + 3.47 \\ \hline 21.47 \end{array}$$

②  $3.44 + 0.66$

$$\begin{array}{r} 3.44 \\ + 0.66 \\ \hline 4.10 \end{array}$$

③  $6.378 + 2.622$

$$\begin{array}{r} 6.378 \\ + 2.622 \\ \hline 9.000 \end{array}$$

④  $1.78 + 4.3$

$$\begin{array}{r} 1.78 \\ + 4.30 \\ \hline 6.08 \end{array}$$