



# 小数のわり算Ⅰ

● 小数を整数で割る暗算



日にち：            月            日

名まえ \_\_\_\_\_

・ 次の計算をしましょう。(うすい字はしっかりなぞりましょう。)

①  $0.8 \div 2 = 0.4$

⑧  $2.4 \div 2 =$

②  $0.9 \div 3 =$

⑨  $1.2 \div 6 =$

③  $4.8 \div 4 = 1.2$

⑩  $9.6 \div 3 =$

④  $6.3 \div 3 =$

⑪  $4.8 \div 8 =$

⑤  $1.2 \div 3 = 0.4$

⑫  $6.4 \div 2 =$

⑥  $8.4 \div 2 =$

⑬  $1.2 \div 4 =$

⑦  $2.8 \div 4 =$

⑭  $8.4 \div 4 =$



# 小数のわり算Ⅰ

● 小数を整数で割る暗算

2

日にち：            月            日

名まえ \_\_\_\_\_

・ 次の計算をしましょう。(うすい字はしっかりなぞりましょう。)

①  $0.8 \div 2 = 0.4$

⑧  $0.4 \div 2 =$

②  $0.6 \div 3 =$

⑨  $6.4 \div 2 =$

③  $5.6 \div 8 = 0.7$

⑩  $3.5 \div 7 =$

④  $1.2 \div 3 =$

⑪  $3.2 \div 4 =$

⑤  $6.6 \div 3 = 2.2$


⑫  $1.8 \div 9 =$

⑥  $5.4 \div 6 =$

⑬  $0.2 \div 2 =$

⑦  $3.6 \div 4 =$

⑭  $0.9 \div 3 =$



# 小数のわり算Ⅰ

● 小数を整数で割る暗算

3

日にち：            月            日

名まえ \_\_\_\_\_

・ 次の計算をしましょう。(うすい字はしっかりなぞりましょう。)

①  $1.4 \div 7 = 0.2$

⑧  $6.4 \div 8 =$

②  $4.2 \div 6 =$

⑨  $1.5 \div 5 =$

③  $0.6 \div 2 = 0.3$

⑩  $0.8 \div 2 =$

④  $3.5 \div 7 =$

⑪  $2.7 \div 9 =$

⑤  $2.7 \div 9 = 0.3$

⑫  $3.2 \div 8 =$

⑥  $4.4 \div 2 =$

⑬  $0.6 \div 3 =$

⑦  $7.2 \div 8 =$

⑭  $4.2 \div 2 =$



# 小数のわり算Ⅰ

● 小数を整数で割る暗算

4

日にち：            月            日

名まえ \_\_\_\_\_

・ 次の計算をしましょう。(うすい字はしっかりなぞりましょう。)

①  $0.8 \div 2 = 0.4$

⑧  $2.8 \div 2 =$

②  $2.4 \div 4 =$

⑨  $0.9 \div 3 =$

③  $0.8 \div 4 = 0.2$

⑩  $2.5 \div 5 =$

④  $3.2 \div 4 =$

⑪  $4.8 \div 8 =$

⑤  $1.6 \div 4 = 0.4$


⑫  $1.5 \div 5 =$

⑥  $1.8 \div 3 =$

⑬  $4.2 \div 7 =$

⑦  $6.3 \div 7 =$

⑭  $0.8 \div 8 =$



# 小数のわり算Ⅰ

● 小数を整数で割る暗算

5

日にち：            月            日

名まえ \_\_\_\_\_

・ 次の計算をしましょう。(うすい字はしっかりなぞりましょう。)

①  $0.6 \div 6 = 0.1$

⑧  $5.4 \div 9 =$

②  $3.6 \div 9 =$

⑨  $4.6 \div 2 =$

③  $8.8 \div 4 = 2.2$

⑩  $1.8 \div 9 =$

④  $4.5 \div 5 =$

⑪  $2.4 \div 6 =$

⑤  $6.3 \div 3 =$

⑫  $2.4 \div 2 =$

⑥  $1.6 \div 8 =$

⑬  $2.7 \div 9 =$

⑦  $1.8 \div 3 =$

⑭  $2.8 \div 7 =$



# 小数のわり算Ⅰ

● 小数を整数で割る暗算

6

日にち：            月            日

名まえ \_\_\_\_\_

・ 次の計算をしましょう。(うすい字はしっかりなぞりましょう。)

①  $0.9 \div 3 = 0.3$

⑧  $6.2 \div 2 =$

②  $4.8 \div 8 =$

⑨  $1.5 \div 5 =$

③  $1.4 \div 7 = 0.2$

⑩  $6.4 \div 2 =$

④  $3.2 \div 4 =$

⑪  $4.5 \div 9 =$

⑤  $5.6 \div 8 =$


⑫  $3.6 \div 3 =$

⑥  $4.2 \div 6 =$

⑬  $0.4 \div 2 =$

⑦  $2.4 \div 8 =$

⑭  $1.6 \div 2 =$



# 小数のわり算Ⅰ

● 小数を整数で割る暗算

7

日にち：            月            日

名まえ \_\_\_\_\_

・ 次の計算をしましょう。(うすい字はしっかりなぞりましょう。)

①  $1.2 \div 6 = 0.2$

⑧  $6.3 \div 9 =$

②  $1.4 \div 7 =$

⑨  $1.2 \div 3 =$

③  $6.9 \div 3 = 2.3$

⑩  $2.8 \div 4 =$

④  $5.6 \div 8 =$

⑪  $0.8 \div 4 =$

⑤  $6.4 \div 8 =$


⑫  $8.4 \div 4 =$

⑥  $2.1 \div 3 =$

⑬  $3.2 \div 8 =$

⑦  $2.4 \div 4 =$

⑭  $0.8 \div 2 =$



# 小数のわり算Ⅰ

● 小数を整数で割る暗算

8

日にち：            月            日

名まえ \_\_\_\_\_

・ 次の計算をしましょう。(うすい字はしっかりなぞりましょう。)

①  $3.6 \div 9 = 0.4$

⑧  $2.1 \div 7 =$

②  $7.2 \div 9 =$

⑨  $8.1 \div 9 =$

③  $4.8 \div 2 = 2.4$

⑩  $0.6 \div 3 =$

④  $4.5 \div 5 =$

⑪  $3.6 \div 6 =$

⑤  $6.3 \div 7 =$

⑫  $0.9 \div 3 =$

⑥  $1.6 \div 8 =$

⑬  $4.2 \div 6 =$

⑦  $2.4 \div 3 =$

⑭  $0.8 \div 4 =$





# 小数のわり算 I

● 小数を整数で割る暗算



日にち：            月            日

名まえ \_\_\_\_\_

・ 次の計算をしましょう。(うすい字はしっかりなぞりましょう。)

①  $0.4 \div 2 = 0.2$

⑧  $1.2 \div 6 =$

②  $1.5 \div 5 =$

⑨  $6.3 \div 9 =$

③  $7.2 \div 8 = 0.9$

⑩  $1.8 \div 2 =$

④  $5.4 \div 6 =$

⑪  $0.6 \div 3 =$

⑤  $2.8 \div 4 =$


⑫  $4.9 \div 7 =$

⑥  $0.9 \div 3 =$

⑬  $7.7 \div 7 =$

⑦  $1.4 \div 7 =$

⑭  $1.8 \div 3 =$



# 小数のわり算Ⅰ

● 小数を整数で割る暗算



日にち：            月            日

名まえ \_\_\_\_\_

・ 次の計算をしましょう。

①  $2.7 \div 3 =$

②  $4.5 \div 5 =$

③  $6.3 \div 3 =$

④  $8.4 \div 4 =$

⑤  $3.5 \div 7 =$

⑥  $4.2 \div 7 =$

⑦  $3.2 \div 8 =$

⑧  $4.2 \div 2 =$

⑨  $4.8 \div 8 =$


⑩  $1.6 \div 2 =$

⑪  $8.2 \div 2 =$

⑫  $3.2 \div 8 =$

⑬  $2.4 \div 4 =$

⑭  $9.6 \div 3 =$



# 小数のわり算Ⅰ

● 小数を整数で割る暗算



日にち：            月            日

名まえ \_\_\_\_\_

・ 次の計算をしましょう。

①  $4.6 \div 2 =$

②  $5.4 \div 9 =$

③  $1.6 \div 8 =$

④  $2.8 \div 7 =$

⑤  $1.4 \div 2 =$

⑥  $4.9 \div 7 =$

⑦  $1.8 \div 9 =$

⑧  $8.2 \div 2 =$

⑨  $3.6 \div 9 =$


⑩  $0.4 \div 2 =$

⑪  $1.2 \div 6 =$

⑫  $2.4 \div 8 =$

⑬  $7.2 \div 8 =$

⑭  $0.8 \div 4 =$



# 小数のわり算Ⅰ

● 小数を整数で割る暗算

12

日にち：            月            日

名まえ \_\_\_\_\_

・ 次の計算をしましょう。

①  $1.6 \div 4 =$

②  $2.7 \div 9 =$

③  $1.5 \div 5 =$

④  $0.8 \div 2 =$

⑤  $3.6 \div 9 =$

⑥  $6.3 \div 7 =$

⑦  $4.2 \div 6 =$

⑧  $1.6 \div 8 =$

⑨  $0.8 \div 4 =$


⑩  $1.4 \div 2 =$

⑪  $1.2 \div 2 =$

⑫  $7.2 \div 8 =$

⑬  $9.6 \div 3 =$

⑭  $2.1 \div 7 =$



# 小数のわり算Ⅰ

● 小数を整数で割る暗算

13

日にち：            月            日

名まえ \_\_\_\_\_

・ 次の計算をしましょう。

①  $0.8 \div 4 =$

②  $5.4 \div 6 =$

③  $1.8 \div 9 =$

④  $3.6 \div 4 =$

⑤  $1.2 \div 2 =$

⑥  $4.2 \div 6 =$

⑦  $2.4 \div 2 =$

⑧  $4.6 \div 2 =$

⑨  $3.6 \div 6 =$


⑩  $0.9 \div 3 =$

⑪  $1.4 \div 7 =$

⑫  $2.1 \div 7 =$

⑬  $3.2 \div 8 =$

⑭  $2.4 \div 8 =$



# 小数のわり算Ⅰ

● 小数を整数で割る暗算

14

日にち：            月            日

名まえ \_\_\_\_\_

・ 次の計算をしましょう。

①  $2.4 \div 8 =$

②  $1.8 \div 2 =$

③  $0.8 \div 4 =$

④  $2.8 \div 2 =$

⑤  $1.4 \div 7 =$

⑥  $3.2 \div 8 =$

⑦  $0.9 \div 3 =$

⑧  $5.6 \div 7 =$

⑨  $1.5 \div 5 =$


⑩  $7.2 \div 8 =$

⑪  $2.7 \div 9 =$

⑫  $3.5 \div 5 =$

⑬  $6.3 \div 9 =$

⑭  $1.8 \div 6 =$



# 小数のわり算 I

● 小数を整数で割る暗算

15

目指せ80点!



名まえ

・ 次の計算をしましょう。(各5点)

①  $3.6 \div 4 =$

②  $5.4 \div 9 =$

③  $9.6 \div 3 =$

④  $1.8 \div 6 =$

⑤  $0.9 \div 3 =$

⑥  $1.5 \div 5 =$

⑦  $3.5 \div 7 =$

⑧  $3.6 \div 3 =$

⑨  $4.8 \div 2 =$

⑩  $0.9 \div 3 =$

⑪  $6.3 \div 3 =$

⑫  $1.8 \div 2 =$

⑬  $0.6 \div 2 =$

⑭  $4.8 \div 8 =$

⑮  $4.8 \div 4 =$


⑯  $2.8 \div 2 =$

⑰  $1.6 \div 2 =$

⑱  $4.5 \div 5 =$

⑲  $5.4 \div 9 =$

⑳  $8.6 \div 2 =$

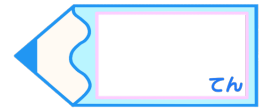


# 小数のわり算 I

● 小数を整数で割る暗算

16

目指せ80点!



名まえ

・ 次の計算をしましょう。(各5点)

①  $1.2 \div 6 =$

②  $2.4 \div 4 =$

③  $0.6 \div 2 =$

④  $2.5 \div 5 =$

⑤  $0.6 \div 6 =$

⑥  $6.3 \div 3 =$

⑦  $1.4 \div 7 =$

⑧  $1.2 \div 3 =$

⑨  $2.7 \div 9 =$

⑩  $0.9 \div 3 =$

⑪  $1.6 \div 2 =$

⑫  $2.1 \div 3 =$

⑬  $3.6 \div 9 =$

⑭  $7.2 \div 9 =$

⑮  $3.5 \div 7 =$

⑯  $0.8 \div 4 =$

⑰  $1.8 \div 9 =$

⑱  $8.1 \div 9 =$

⑲  $8.4 \div 4 =$

⑳  $2.8 \div 4 =$





# 小数のわり算 I

● 小数を整数で割る暗算



日にち：            月            日

名まえ \_\_\_\_\_

・ 次の計算をしましょう。(うすい字はしっかりなぞりましょう。)

①  $0.8 \div 2 = 0.4$

②  $0.9 \div 3 = 0.3$

③  $4.8 \div 4 = 1.2$

④  $6.3 \div 3 = 2.1$

⑤  $1.2 \div 3 = 0.4$

⑥  $8.4 \div 2 = 4.2$

⑦  $2.8 \div 4 = 0.7$

⑧  $2.4 \div 2 = 1.2$

⑨  $1.2 \div 6 = 0.2$

⑩  $9.6 \div 3 = 3.2$

⑪  $4.8 \div 8 = 0.6$

⑫  $6.4 \div 2 = 3.2$

⑬  $1.2 \div 4 = 0.3$

⑭  $8.4 \div 4 = 2.1$



# 小数のわり算Ⅰ

● 小数を整数で割る暗算

2

日にち：            月            日

名まえ \_\_\_\_\_

・ 次の計算をしましょう。(うすい字はしっかりなぞりましょう。)

①  $0.8 \div 2 = 0.4$

⑧  $0.4 \div 2 = 0.2$

②  $0.6 \div 3 = 0.2$

⑨  $6.4 \div 2 = 3.2$

③  $5.6 \div 8 = 0.7$

⑩  $3.5 \div 7 = 0.5$

④  $1.2 \div 3 = 0.4$

⑪  $3.2 \div 4 = 0.8$

⑤  $6.6 \div 3 = 2.2$


⑫  $1.8 \div 9 = 0.2$

⑥  $5.4 \div 6 = 0.9$

⑬  $0.2 \div 2 = 0.1$

⑦  $3.6 \div 4 = 0.9$

⑭  $0.9 \div 3 = 0.3$



# 小数のわり算Ⅰ

● 小数を整数で割る暗算

3

日にち：            月            日

名まえ \_\_\_\_\_

・ 次の計算をしましょう。(うすい字はしっかりなぞりましょう。)

①  $1.4 \div 7 = 0.2$

⑧  $6.4 \div 8 = 0.8$

②  $4.2 \div 6 = 0.7$

⑨  $1.5 \div 5 = 0.3$

③  $0.6 \div 2 = 0.3$

⑩  $0.8 \div 2 = 0.4$

④  $3.5 \div 7 = 0.5$

⑪  $2.7 \div 9 = 0.3$

⑤  $2.7 \div 9 = 0.3$

⑫  $3.2 \div 8 = 0.4$

⑥  $4.4 \div 2 = 2.2$

⑬  $0.6 \div 3 = 0.2$

⑦  $7.2 \div 8 = 0.9$

⑭  $4.2 \div 2 = 2.1$



# 小数のわり算 I

● 小数を整数で割る暗算

4

日にち：            月            日

名まえ \_\_\_\_\_

・ 次の計算をしましょう。(うすい字はしっかりなぞりましょう。)

①  $0.8 \div 2 = 0.4$

⑧  $2.8 \div 2 = 1.4$

②  $2.4 \div 4 = 0.6$

⑨  $0.9 \div 3 = 0.3$

③  $0.8 \div 4 = 0.2$

⑩  $2.5 \div 5 = 0.5$

④  $3.2 \div 4 = 0.8$

⑪  $4.8 \div 8 = 0.6$

⑤  $1.6 \div 4 = 0.4$

⑫  $1.5 \div 5 = 0.3$

⑥  $1.8 \div 3 = 0.6$

⑬  $4.2 \div 7 = 0.6$

⑦  $6.3 \div 7 = 0.9$

⑭  $0.8 \div 8 = 0.1$



# 小数のわり算 I

● 小数を整数で割る暗算

5

日にち：            月            日

名まえ \_\_\_\_\_

・ 次の計算をしましょう。(うすい字はしっかりなぞりましょう。)

①  $0.6 \div 6 = 0.1$

⑧  $5.4 \div 9 = 0.6$

②  $3.6 \div 9 = 0.4$

⑨  $4.6 \div 2 = 2.3$

③  $8.8 \div 4 = 2.2$

⑩  $1.8 \div 9 = 0.2$

④  $4.5 \div 5 = 0.9$

⑪  $2.4 \div 6 = 0.4$

⑤  $6.3 \div 3 = 2.1$


⑫  $2.4 \div 2 = 1.2$

⑥  $1.6 \div 8 = 0.2$

⑬  $2.7 \div 9 = 0.3$

⑦  $1.8 \div 3 = 0.6$

⑭  $2.8 \div 7 = 0.4$



# 小数のわり算Ⅰ

● 小数を整数で割る暗算

6

日にち：            月            日

名まえ \_\_\_\_\_

・ 次の計算をしましょう。(うすい字はしっかりなぞりましょう。)

①  $0.9 \div 3 = 0.3$

⑧  $6.2 \div 2 = 3.1$

②  $4.8 \div 8 = 0.6$

⑨  $1.5 \div 5 = 0.3$

③  $1.4 \div 7 = 0.2$

⑩  $6.4 \div 2 = 3.2$

④  $3.2 \div 4 = 0.8$

⑪  $4.5 \div 9 = 0.5$

⑤  $5.6 \div 8 = 0.7$


⑫  $3.6 \div 3 = 1.2$

⑥  $4.2 \div 6 = 0.7$

⑬  $0.4 \div 2 = 0.2$

⑦  $2.4 \div 8 = 0.3$

⑭  $1.6 \div 2 = 0.8$



# 小数のわり算 I

● 小数を整数で割る暗算

7

日にち：            月            日

名まえ \_\_\_\_\_

・ 次の計算をしましょう。(うすい字はしっかりなぞりましょう。)

①  $1.2 \div 6 = 0.2$

⑧  $6.3 \div 9 = 0.7$

②  $1.4 \div 7 = 0.2$

⑨  $1.2 \div 3 = 0.4$

③  $6.9 \div 3 = 2.3$

⑩  $2.8 \div 4 = 0.7$

④  $5.6 \div 8 = 0.7$

⑪  $0.8 \div 4 = 0.2$

⑤  $6.4 \div 8 = 0.8$


⑫  $8.4 \div 4 = 2.1$

⑥  $2.1 \div 3 = 0.7$

⑬  $3.2 \div 8 = 0.4$

⑦  $2.4 \div 4 = 0.6$

⑭  $0.8 \div 2 = 0.4$



# 小数のわり算 I

● 小数を整数で割る暗算

8

日にち：            月            日

名まえ \_\_\_\_\_

・ 次の計算をしましょう。(うすい字はしっかりなぞりましょう。)

①  $3.6 \div 9 = 0.4$

⑧  $2.1 \div 7 = 0.3$

②  $7.2 \div 9 = 0.8$

⑨  $8.1 \div 9 = 0.9$

③  $4.8 \div 2 = 2.4$

⑩  $0.6 \div 3 = 0.2$

④  $4.5 \div 5 = 0.9$

⑪  $3.6 \div 6 = 0.6$

⑤  $6.3 \div 7 = 0.9$

⑫  $0.9 \div 3 = 0.3$

⑥  $1.6 \div 8 = 0.2$

⑬  $4.2 \div 6 = 0.7$

⑦  $2.4 \div 3 = 0.8$

⑭  $0.8 \div 4 = 0.2$





# 小数のわり算Ⅰ

● 小数を整数で割る暗算

9

日にち：            月            日

名まえ \_\_\_\_\_

・ 次の計算をしましょう。(うすい字はしっかりなぞりましょう。)

①  $0.4 \div 2 = 0.2$

⑧  $1.2 \div 6 = 0.2$

②  $1.5 \div 5 = 0.3$

⑨  $6.3 \div 9 = 0.7$

③  $7.2 \div 8 = 0.9$

⑩  $1.8 \div 2 = 0.9$

④  $5.4 \div 6 = 0.9$

⑪  $0.6 \div 3 = 0.2$

⑤  $2.8 \div 4 = 0.7$

⑫  $4.9 \div 7 = 0.7$

⑥  $0.9 \div 3 = 0.3$

⑬  $7.7 \div 7 = 1.1$

⑦  $1.4 \div 7 = 0.2$

⑭  $1.8 \div 3 = 0.6$



# 小数のわり算Ⅰ

● 小数を整数で割る暗算

10

日にち：            月            日

名まえ \_\_\_\_\_

・ 次の計算をしましょう。

①  $2.7 \div 3 = 0.9$

②  $4.5 \div 5 = 0.9$

③  $6.3 \div 3 = 2.1$

④  $8.4 \div 4 = 2.1$

⑤  $3.5 \div 7 = 0.5$

⑥  $4.2 \div 7 = 0.6$

⑦  $3.2 \div 8 = 0.4$

⑧  $4.2 \div 2 = 2.1$

⑨  $4.8 \div 8 = 0.6$


⑩  $1.6 \div 2 = 0.8$

⑪  $8.2 \div 2 = 4.1$

⑫  $3.2 \div 8 = 0.4$

⑬  $2.4 \div 4 = 0.6$

⑭  $9.6 \div 3 = 3.2$



# 小数のわり算 I

● 小数を整数で割る暗算



日にち：            月            日

名まえ \_\_\_\_\_

・ 次の計算をしましょう。

$$\textcircled{1} \quad 4.6 \div 2 = 2.3$$

$$\textcircled{2} \quad 5.4 \div 9 = 0.6$$

$$\textcircled{3} \quad 1.6 \div 8 = 0.2$$

$$\textcircled{4} \quad 2.8 \div 7 = 0.4$$

$$\textcircled{5} \quad 1.4 \div 2 = 0.7$$

$$\textcircled{6} \quad 4.9 \div 7 = 0.7$$

$$\textcircled{7} \quad 1.8 \div 9 = 0.2$$

$$\textcircled{8} \quad 8.2 \div 2 = 4.1$$

$$\textcircled{9} \quad 3.6 \div 9 = 0.4$$


$$\textcircled{10} \quad 0.4 \div 2 = 0.2$$

$$\textcircled{11} \quad 1.2 \div 6 = 0.2$$

$$\textcircled{12} \quad 2.4 \div 8 = 0.3$$

$$\textcircled{13} \quad 7.2 \div 8 = 0.9$$

$$\textcircled{14} \quad 0.8 \div 4 = 0.2$$



# 小数のわり算Ⅰ

● 小数を整数で割る暗算

12

日にち：            月            日

名まえ \_\_\_\_\_

・ 次の計算をしましょう。

①  $1.6 \div 4 = 0.4$

②  $2.7 \div 9 = 0.3$

③  $1.5 \div 5 = 0.3$

④  $0.8 \div 2 = 0.4$

⑤  $3.6 \div 9 = 0.4$

⑥  $6.3 \div 7 = 0.9$

⑦  $4.2 \div 6 = 0.7$

⑧  $1.6 \div 8 = 0.2$

⑨  $0.8 \div 4 = 0.2$


⑩  $1.4 \div 2 = 0.7$

⑪  $1.2 \div 2 = 0.6$

⑫  $7.2 \div 8 = 0.9$

⑬  $9.6 \div 3 = 3.2$

⑭  $2.1 \div 7 = 0.3$



# 小数のわり算 I

● 小数を整数で割る暗算

13

日にち：            月            日

名まえ \_\_\_\_\_

・ 次の計算をしましょう。

①  $0.8 \div 4 = 0.2$

②  $5.4 \div 6 = 0.9$

③  $1.8 \div 9 = 0.2$

④  $3.6 \div 4 = 0.9$

⑤  $1.2 \div 2 = 0.6$

⑥  $4.2 \div 6 = 0.7$

⑦  $2.4 \div 2 = 1.2$

⑧  $4.6 \div 2 = 2.3$

⑨  $3.6 \div 6 = 0.6$


⑩  $0.9 \div 3 = 0.3$

⑪  $1.4 \div 7 = 0.2$

⑫  $2.1 \div 7 = 0.3$

⑬  $3.2 \div 8 = 3.4$

⑭  $2.4 \div 8 = 0.3$



# 小数のわり算Ⅰ

● 小数を整数で割る暗算

14

日にち：            月            日

名まえ \_\_\_\_\_

・ 次の計算をしましょう。

①  $2.4 \div 8 = 0.3$

②  $1.8 \div 2 = 0.9$

③  $0.8 \div 4 = 0.2$

④  $2.8 \div 2 = 1.4$

⑤  $1.4 \div 7 = 0.2$

⑥  $3.2 \div 8 = 0.4$

⑦  $0.9 \div 3 = 0.3$

⑧  $5.6 \div 7 = 0.8$

⑨  $1.5 \div 5 = 0.3$


⑩  $7.2 \div 8 = 0.9$

⑪  $2.7 \div 9 = 0.3$

⑫  $3.5 \div 5 = 0.7$

⑬  $6.3 \div 9 = 0.7$

⑭  $1.8 \div 6 = 0.3$

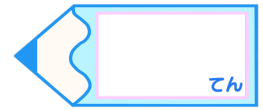


# 小数のわり算 I

● 小数を整数で割る暗算

15

目指せ80点!



名まえ

・ 次の計算をしましょう。(各5点)

①  $3.6 \div 4 = 0.9$

②  $5.4 \div 9 = 0.6$

③  $9.6 \div 3 = 3.2$

④  $1.8 \div 6 = 0.3$

⑤  $0.9 \div 3 = 0.3$

⑥  $1.5 \div 5 = 0.3$

⑦  $3.5 \div 7 = 0.5$

⑧  $3.6 \div 3 = 1.2$

⑨  $4.8 \div 2 = 2.4$

⑩  $0.9 \div 3 = 0.3$

⑪  $6.3 \div 3 = 2.1$

⑫  $1.8 \div 2 = 0.9$

⑬  $0.6 \div 2 = 0.3$

⑭  $4.8 \div 8 = 0.6$

⑮  $4.8 \div 4 = 1.2$


⑯  $2.8 \div 2 = 1.4$

⑰  $1.6 \div 2 = 0.8$

⑱  $4.5 \div 5 = 0.9$

⑲  $5.4 \div 9 = 0.6$

⑳  $8.6 \div 2 = 4.3$

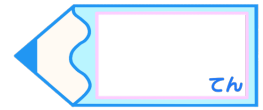


# 小数のわり算 I

● 小数を整数で割る暗算

16

目指せ80点!



名まえ

・ 次の計算をしましょう。(各5点)

①  $1.2 \div 6 = 0.2$

②  $2.4 \div 4 = 0.6$

③  $0.6 \div 2 = 0.3$

④  $2.5 \div 5 = 0.5$

⑤  $0.6 \div 6 = 0.1$

⑥  $6.3 \div 3 = 2.1$

⑦  $1.4 \div 7 = 0.2$

⑧  $1.2 \div 3 = 0.4$

⑨  $2.7 \div 9 = 0.3$

⑩  $0.9 \div 3 = 0.3$

⑪  $1.6 \div 2 = 0.8$

⑫  $2.1 \div 3 = 0.7$

⑬  $3.6 \div 9 = 0.4$

⑭  $7.2 \div 9 = 0.8$

⑮  $3.5 \div 7 = 0.5$

⑯  $0.8 \div 4 = 0.2$

⑰  $1.8 \div 9 = 0.2$

⑱  $8.1 \div 9 = 0.9$

⑲  $8.4 \div 4 = 2.1$

⑳  $2.8 \div 4 = 0.7$