



小数のわり算Ⅰ

● 小数を整数で割る暗算



日にち： 月 日

名まえ _____

・ 次の計算をしましょう。(うすい字はなぞりましょう。)

① $0.8 \div 2 = 0.4$

② $1.5 \div 3 = 0.5$

③ $1.2 \div 6 =$

④ $4.5 \div 5 =$

⑤ $2.8 \div 7 =$

⑥ $6.4 \div 8 =$

⑦ $6.3 \div 9 =$

⑧ $6.3 \div 3 = 2.1$

⑨ $4.8 \div 4 = 1.2$

⑩ $6.4 \div 2 =$

⑪ $7.7 \div 7 =$

⑫ $8.2 \div 2 =$

⑬ $3.9 \div 3 =$

⑭ $8.4 \div 4 =$



小数のわり算Ⅰ

● 小数を整数で割る暗算

2

日にち： 月 日

名まえ _____

・ 次の計算をしましょう。(うすい字はなぞりましょう。)

① $0.6 \div 3 = 0.2$

⑧ $4.4 \div 2 = 2.2$

② $3.5 \div 5 = 0.7$

⑨ $3.9 \div 3 =$

③ $1.2 \div 3 =$

⑩ $4.4 \div 4 =$

④ $4.8 \div 6 =$

⑪ $9.3 \div 3 =$

⑤ $3.2 \div 4 =$

⑫ $8.4 \div 2 =$

⑥ $2.8 \div 7 =$

⑬ $6.3 \div 3 =$

⑦ $5.4 \div 9 =$

⑭ $8.8 \div 8 =$



小数のわり算Ⅰ

● 小数を整数で割る暗算

3

日にち： 月 日

名まえ _____

・ 次の計算をしましょう。(うすい字はなぞりましょう。)

① $2.4 \div 3 = 0.8$

⑧ $5.5 \div 5 = 1.1$

② $0.4 \div 4 =$

⑨ $6.6 \div 2 =$

③ $0.2 \div 2 =$

⑩ $3.6 \div 3 =$

④ $2.1 \div 7 =$

⑪ $6.8 \div 2 =$

⑤ $6.3 \div 9 =$

⑫ $9.9 \div 9 =$

⑥ $2.4 \div 6 =$

⑬ $9.3 \div 3 =$

⑦ $5.6 \div 8 =$

⑭ $4.4 \div 4 =$





小数のわり算Ⅰ

● 小数を整数で割る暗算

4

日にち： 月 日

名まえ _____

・ 次の計算をしましょう。(うすい字はなぞりましょう。)

① $6.4 \div 8 = 0.8$

⑧ $6.8 \div 2 = 3.4$

② $0.9 \div 9 =$

⑨ $3.9 \div 3 =$

③ $1.6 \div 2 =$

⑩ $6.6 \div 6 =$

④ $2.7 \div 3 =$

⑪ $4.8 \div 4 =$

⑤ $4.9 \div 7 =$

⑫ $9.6 \div 3 =$

⑥ $1.2 \div 4 =$

⑬ $8.4 \div 4 =$

⑦ $2.5 \div 5 =$

⑭ $8.8 \div 2 =$



小数のわり算Ⅰ

● 小数を整数で割る暗算

5

日にち： 月 日

名まえ _____

・ 次の計算をしましょう。(うすい字はなぞりましょう。)

① $0.9 \div 3 = 0.3$

⑧ $6.2 \div 2 = 3.1$

② $3.6 \div 6 =$

⑨ $8.8 \div 4 =$

③ $0.6 \div 2 =$

⑩ $6.9 \div 3 =$

④ $0.8 \div 8 =$

⑪ $8.4 \div 4 =$

⑤ $8.1 \div 9 =$

⑫ $5.5 \div 5 =$

⑥ $2.8 \div 4 =$

⑬ $8.6 \div 2 =$

⑦ $4.2 \div 7 =$

⑭ $3.6 \div 3 =$





小数のわり算Ⅰ

● 小数を整数で割る暗算

6

日にち： 月 日

名まえ _____

・ 次の計算をしましょう。(うすい字はなぞりましょう。)

① $0.6 \div 6 = 0.1$

⑧ $4.6 \div 2 =$

② $1.8 \div 9 =$

⑨ $3.3 \div 3 =$

③ $1.2 \div 2 =$

⑩ $8.2 \div 2 =$

④ $3.5 \div 7 =$

⑪ $3.9 \div 3 =$

⑤ $7.2 \div 9 =$

⑫ $8.8 \div 4 =$

⑥ $3.5 \div 5 =$

⑬ $8.8 \div 8 =$

⑦ $1.2 \div 4 =$

⑭ $4.8 \div 4 =$





小数のわり算Ⅰ

● 小数を整数で割る暗算

7

日にち： 月 日

名まえ _____

・ 次の計算をしましょう。

① $1.8 \div 6 =$

② $4.5 \div 9 =$

③ $0.4 \div 2 =$

④ $5.6 \div 7 =$

⑤ $6.3 \div 9 =$

⑥ $0.5 \div 5 =$

⑦ $3.6 \div 4 =$

⑧ $9.9 \div 3 =$

⑨ $4.8 \div 4 =$

⑩ $4.6 \div 2 =$

⑪ $5.5 \div 5 =$

⑫ $2.8 \div 2 =$

⑬ $8.8 \div 4 =$

⑭ $9.3 \div 3 =$





小数のわり算Ⅰ

● 小数を整数で割る暗算

8

日にち： 月 日

名まえ _____

・ 次の計算をしましょう。

① $1.4 \div 7 =$

② $0.8 \div 2 =$

③ $7.2 \div 9 =$

④ $2.1 \div 3 =$

⑤ $5.6 \div 8 =$

⑥ $2.4 \div 4 =$

⑦ $0.5 \div 5 =$

⑧ $2.6 \div 2 =$

⑨ $6.6 \div 6 =$

⑩ $6.9 \div 3 =$

⑪ $8.4 \div 4 =$

⑫ $6.9 \div 3 =$

⑬ $8.6 \div 2 =$

⑭ $4.4 \div 4 =$





小数のわり算 I

● 小数を整数で割る暗算

9

日にち： 月 日

名まえ _____

・ 次の計算をしましょう。

① $1.5 \div 5 =$

② $3.6 \div 9 =$

③ $0.4 \div 2 =$

④ $1.6 \div 4 =$

⑤ $2.1 \div 3 =$

⑥ $7.2 \div 8 =$

⑦ $4.2 \div 6 =$

⑧ $6.6 \div 3 =$

⑨ $4.4 \div 4 =$

⑩ $7.7 \div 7 =$

⑪ $4.2 \div 2 =$

⑫ $8.8 \div 4 =$

⑬ $9.3 \div 3 =$

⑭ $8.6 \div 2 =$





小数のわり算 I

● 小数を整数で割る暗算

10

日にち： 月 日

名まえ _____

・ 次の計算をしましょう。

① $2.7 \div 3 =$

② $4.5 \div 5 =$

③ $0.6 \div 3 =$

④ $8.4 \div 4 =$

⑤ $3.5 \div 7 =$

⑥ $4.2 \div 7 =$

⑦ $3.2 \div 8 =$

⑧ $4.2 \div 2 =$

⑨ $4.8 \div 8 =$

⑩ $1.6 \div 2 =$

⑪ $8.2 \div 2 =$

⑫ $3.2 \div 8 =$

⑬ $2.4 \div 4 =$

⑭ $9.6 \div 3 =$





小数のわり算 I

● 小数を整数で割る暗算



日にち： 月 日

名まえ _____

・ 次の計算をしましょう。

① $4.6 \div 2 =$

② $5.4 \div 9 =$

③ $1.6 \div 8 =$

④ $2.8 \div 7 =$

⑤ $1.4 \div 2 =$

⑥ $4.9 \div 7 =$

⑦ $1.8 \div 9 =$

⑧ $8.2 \div 2 =$

⑨ $3.6 \div 9 =$

⑩ $0.4 \div 2 =$

⑪ $4.8 \div 6 =$

⑫ $2.4 \div 8 =$

⑬ $4.8 \div 8 =$

⑭ $3.2 \div 4 =$





小数のわり算Ⅰ

● 小数を整数で割る暗算

12

日にち： 月 日

名まえ _____

・ 次の計算をしましょう。

① $1.6 \div 4 =$

② $2.7 \div 9 =$

③ $1.5 \div 5 =$

④ $0.8 \div 2 =$

⑤ $4.5 \div 9 =$

⑥ $6.3 \div 7 =$

⑦ $4.2 \div 6 =$

⑧ $1.6 \div 8 =$

⑨ $0.8 \div 4 =$

⑩ $1.4 \div 2 =$

⑪ $1.2 \div 2 =$

⑫ $7.2 \div 8 =$

⑬ $9.6 \div 3 =$

⑭ $2.1 \div 7 =$





小数のわり算Ⅰ

● 小数を整数で割る暗算

13

日にち： 月 日

名まえ _____

・ 次の計算をしましょう。

① $1.2 \div 4 =$

② $5.4 \div 6 =$

③ $1.8 \div 9 =$

④ $3.6 \div 4 =$

⑤ $1.2 \div 2 =$

⑥ $4.2 \div 6 =$

⑦ $2.4 \div 2 =$

⑧ $4.6 \div 2 =$

⑨ $3.6 \div 6 =$

⑩ $0.9 \div 3 =$

⑪ $1.4 \div 7 =$

⑫ $6.3 \div 3 =$

⑬ $3.2 \div 8 =$

⑭ $2.4 \div 8 =$





小数のわり算Ⅰ

● 小数を整数で割る暗算

14

日にち： 月 日

名まえ _____

・ 次の計算をしましょう。

① $2.4 \div 8 =$

② $1.8 \div 2 =$

③ $0.8 \div 4 =$

④ $2.8 \div 2 =$

⑤ $1.4 \div 7 =$

⑥ $3.2 \div 8 =$

⑦ $2.4 \div 3 =$

⑧ $5.6 \div 7 =$

⑨ $1.5 \div 5 =$

⑩ $7.2 \div 8 =$

⑪ $2.7 \div 9 =$

⑫ $3.5 \div 5 =$

⑬ $6.3 \div 9 =$

⑭ $1.8 \div 6 =$




小数のわり算Ⅰ

● 小数を整数で割る暗算

15

目指せ80点!



名まえ

・ 次の計算をしましょう。(各5点)

① $3.6 \div 4 =$

② $5.4 \div 9 =$

③ $9.6 \div 3 =$

④ $1.8 \div 6 =$

⑤ $0.9 \div 3 =$

⑥ $1.5 \div 5 =$

⑦ $3.5 \div 7 =$

⑧ $3.6 \div 3 =$

⑨ $4.8 \div 2 =$

⑩ $1.8 \div 3 =$

⑪ $6.3 \div 3 =$

⑫ $1.8 \div 2 =$

⑬ $0.6 \div 2 =$

⑭ $4.8 \div 8 =$

⑮ $4.8 \div 4 =$

⑯ $2.8 \div 2 =$

⑰ $1.6 \div 2 =$

⑱ $4.5 \div 5 =$

⑲ $5.4 \div 9 =$

⑳ $8.6 \div 2 =$




小数のわり算 I

● 小数を整数で割る暗算

16

目指せ80点!



名まえ _____

・ 次の計算をしましょう。(各5点)

① $1.2 \div 6 =$

② $2.4 \div 4 =$

③ $0.6 \div 2 =$

④ $2.5 \div 5 =$

⑤ $0.6 \div 6 =$

⑥ $6.3 \div 3 =$

⑦ $1.4 \div 7 =$

⑧ $1.2 \div 3 =$

⑨ $2.7 \div 9 =$

⑩ $0.9 \div 3 =$

⑪ $1.6 \div 2 =$

⑫ $2.1 \div 3 =$

⑬ $3.6 \div 9 =$

⑭ $7.2 \div 9 =$

⑮ $3.5 \div 7 =$

⑯ $0.8 \div 4 =$

⑰ $1.8 \div 9 =$

⑱ $8.1 \div 9 =$

⑲ $8.4 \div 4 =$

⑳ $2.8 \div 4 =$





小数のわり算Ⅰ

● 小数を整数で割る暗算



日にち： 月 日

名まえ _____

・ 次の計算をしましょう。(うすい字はなぞりましょう。)

① $0.8 \div 2 = 0.4$

② $1.5 \div 3 = 0.5$

③ $1.2 \div 6 = 0.2$

④ $4.5 \div 5 = 0.9$

⑤ $2.8 \div 7 = 0.4$

⑥ $6.4 \div 8 = 0.8$

⑦ $6.3 \div 9 = 0.7$

⑧ $6.3 \div 3 = 2.1$

⑨ $4.8 \div 4 = 1.2$

⑩ $6.4 \div 2 = 3.2$

⑪ $7.7 \div 7 = 1.1$

⑫ $8.2 \div 2 = 4.1$

⑬ $3.9 \div 3 = 1.3$

⑭ $8.4 \div 4 = 2.1$





小数のわり算Ⅰ

● 小数を整数で割る暗算

2

日にち： 月 日

名まえ _____

・ 次の計算をしましょう。(うすい字はなぞりましょう。)

① $0.6 \div 3 = 0.2$

② $3.5 \div 5 = 0.7$

③ $1.2 \div 3 = 0.4$

④ $4.8 \div 6 = 0.8$

⑤ $3.2 \div 4 = 0.8$

⑥ $2.8 \div 7 = 0.4$

⑦ $5.4 \div 9 = 0.6$

⑧ $4.4 \div 2 = 2.2$

⑨ $3.9 \div 3 = 1.3$

⑩ $4.4 \div 4 = 1.1$

⑪ $9.3 \div 3 = 3.1$

⑫ $8.4 \div 2 = 4.2$

⑬ $4.8 \div 4 = 1.2$

⑭ $8.8 \div 8 = 1.1$





小数のわり算Ⅰ

● 小数を整数で割る暗算

3

日にち： 月 日

名まえ _____

・ 次の計算をしましょう。(うすい字はなぞりましょう。)

① $2.4 \div 3 = 0.8$

⑧ $5.5 \div 5 = 1.1$

② $0.4 \div 4 = 0.1$

⑨ $6.6 \div 2 = 3.3$

③ $0.2 \div 2 = 0.1$

⑩ $3.6 \div 3 = 1.2$

④ $2.1 \div 7 = 0.3$

⑪ $6.8 \div 2 = 3.4$

⑤ $6.3 \div 9 = 0.7$

⑫ $9.9 \div 9 = 1.1$

⑥ $2.4 \div 6 = 0.4$

⑬ $9.3 \div 3 = 3.1$

⑦ $5.6 \div 8 = 0.7$

⑭ $4.4 \div 4 = 1.1$





小数のわり算Ⅰ

● 小数を整数で割る暗算

4

日にち： 月 日

名まえ _____

・ 次の計算をしましょう。(うすい字はなぞりましょう。)

① $6.4 \div 8 = 0.8$

⑧ $6.8 \div 2 = 3.4$

② $0.9 \div 9 = 0.1$

⑨ $3.9 \div 3 = 1.3$

③ $1.6 \div 2 = 0.8$

⑩ $6.6 \div 6 = 1.1$

④ $2.7 \div 3 = 0.9$

⑪ $4.8 \div 4 = 1.2$

⑤ $4.9 \div 7 = 0.7$

⑫ $9.6 \div 3 = 3.2$

⑥ $1.2 \div 4 = 0.3$

⑬ $8.4 \div 4 = 2.1$

⑦ $2.5 \div 5 = 0.5$

⑭ $8.8 \div 2 = 4.4$





小数のわり算 I

● 小数を整数で割る暗算

5

日にち： 月 日

名まえ _____

・ 次の計算をしましょう。(うすい字はなぞりましょう。)

① $0.9 \div 3 = 0.3$

② $3.6 \div 6 = 0.6$

③ $0.6 \div 2 = 0.3$

④ $0.8 \div 8 = 0.1$

⑤ $8.1 \div 9 = 0.9$

⑥ $2.8 \div 4 = 0.7$

⑦ $4.2 \div 7 = 0.6$

⑧ $6.2 \div 2 = 3.1$

⑨ $8.8 \div 4 = 2.2$

⑩ $6.9 \div 3 = 2.3$

⑪ $8.4 \div 4 = 2.1$

⑫ $5.5 \div 5 = 1.1$

⑬ $8.6 \div 2 = 4.3$

⑭ $3.6 \div 3 = 1.2$





小数のわり算 I

● 小数を整数で割る暗算

6

日にち： 月 日

名まえ _____

・ 次の計算をしましょう。(うすい字はなぞりましょう。)

① $0.6 \div 6 = 0.1$

⑧ $4.6 \div 2 = 2.3$

② $1.8 \div 9 = 0.2$

⑨ $3.3 \div 3 = 1.1$

③ $1.2 \div 2 = 0.6$

⑩ $8.2 \div 2 = 4.1$

④ $3.5 \div 7 = 0.5$

⑪ $3.9 \div 3 = 1.3$

⑤ $7.2 \div 9 = 0.8$

⑫ $8.8 \div 4 = 2.2$

⑥ $3.5 \div 5 = 0.7$

⑬ $8.8 \div 8 = 1.1$

⑦ $1.2 \div 4 = 0.3$

⑭ $4.8 \div 4 = 1.2$





小数のわり算 I

● 小数を整数で割る暗算

7

日にち： 月 日

名まえ _____

・ 次の計算をしましょう。

① $1.8 \div 6 = 0.3$

② $4.5 \div 9 = 0.5$

③ $0.4 \div 2 = 0.2$

④ $5.6 \div 7 = 0.8$

⑤ $6.3 \div 9 = 0.7$

⑥ $0.5 \div 5 = 0.1$

⑦ $3.6 \div 4 = 0.9$

⑧ $9.9 \div 3 = 3.3$

⑨ $4.8 \div 4 = 1.2$

⑩ $4.6 \div 2 = 2.3$

⑪ $5.5 \div 5 = 1.1$

⑫ $2.8 \div 2 = 1.4$

⑬ $8.8 \div 4 = 2.2$

⑭ $9.3 \div 3 = 3.1$





小数のわり算Ⅰ

● 小数を整数で割る暗算

8

日にち： 月 日

名まえ _____

・ 次の計算をしましょう。

① $1.4 \div 7 = 0.2$

② $0.8 \div 2 = 0.4$

③ $7.2 \div 9 = 0.8$

④ $2.1 \div 3 = 0.7$

⑤ $5.6 \div 8 = 0.7$

⑥ $2.4 \div 4 = 0.6$

⑦ $0.5 \div 5 = 0.1$

⑧ $2.6 \div 2 = 1.3$

⑨ $6.6 \div 6 = 1.1$

⑩ $6.9 \div 3 = 2.3$

⑪ $8.4 \div 4 = 2.1$

⑫ $6.9 \div 3 = 2.3$

⑬ $8.6 \div 2 = 4.3$

⑭ $4.4 \div 4 = 1.1$





小数のわり算 I

● 小数を整数で割る暗算

9

日にち： 月 日

名まえ _____

・ 次の計算をしましょう。

① $1.5 \div 5 = 0.3$

② $3.6 \div 9 = 0.4$

③ $0.4 \div 2 = 0.2$

④ $1.6 \div 4 = 0.4$

⑤ $2.1 \div 3 = 0.7$

⑥ $7.2 \div 8 = 0.9$

⑦ $4.2 \div 6 = 0.7$

⑧ $6.6 \div 3 = 2.2$

⑨ $4.4 \div 4 = 1.1$

⑩ $7.7 \div 7 = 1.1$

⑪ $4.2 \div 2 = 2.1$

⑫ $8.8 \div 4 = 2.2$

⑬ $9.3 \div 3 = 3.1$

⑭ $8.6 \div 2 = 4.3$





小数のわり算 I

● 小数を整数で割る暗算



日にち： 月 日

名まえ _____

・ 次の計算をしましょう。

① $2.7 \div 3 = 0.9$

② $4.5 \div 5 = 0.9$

③ $0.6 \div 3 = 0.2$

④ $8.4 \div 4 = 2.1$

⑤ $3.5 \div 7 = 0.5$

⑥ $4.2 \div 7 = 0.6$

⑦ $3.2 \div 8 = 0.4$

⑧ $4.2 \div 2 = 2.1$

⑨ $4.8 \div 8 = 0.6$

⑩ $1.6 \div 2 = 0.8$

⑪ $8.2 \div 2 = 4.1$

⑫ $3.2 \div 8 = 0.4$

⑬ $2.4 \div 4 = 0.6$

⑭ $9.6 \div 3 = 3.2$





小数のわり算 I

● 小数を整数で割る暗算



日にち： 月 日

名まえ _____

・ 次の計算をしましょう。

① $4.6 \div 2 = 2.3$

② $5.4 \div 9 = 0.6$

③ $1.6 \div 8 = 0.2$

④ $2.8 \div 7 = 0.4$

⑤ $1.4 \div 2 = 0.7$

⑥ $4.9 \div 7 = 0.7$

⑦ $1.8 \div 9 = 0.2$

⑧ $8.2 \div 2 = 4.1$

⑨ $3.6 \div 9 = 0.4$

⑩ $0.4 \div 2 = 0.2$

⑪ $4.8 \div 6 = 0.8$

⑫ $2.4 \div 8 = 0.3$

⑬ $4.8 \div 8 = 0.6$

⑭ $3.2 \div 4 = 0.8$





小数のわり算 I

● 小数を整数で割る暗算

12

日にち： 月 日

名まえ _____

・ 次の計算をしましょう。

① $1.6 \div 4 = 0.4$

② $2.7 \div 9 = 0.3$

③ $1.5 \div 5 = 0.3$

④ $0.8 \div 2 = 0.4$

⑤ $4.5 \div 9 = 0.5$

⑥ $6.3 \div 7 = 0.9$

⑦ $4.2 \div 6 = 0.7$

⑧ $1.6 \div 8 = 0.2$

⑨ $0.8 \div 4 = 0.2$

⑩ $1.4 \div 2 = 0.7$

⑪ $1.2 \div 2 = 0.6$

⑫ $7.2 \div 8 = 0.9$

⑬ $9.6 \div 3 = 3.2$

⑭ $2.1 \div 7 = 0.3$





小数のわり算 I

● 小数を整数で割る暗算

13

日にち： 月 日

名まえ _____

・ 次の計算をしましょう。

① $1.2 \div 4 = 0.3$

② $5.4 \div 6 = 0.9$

③ $1.8 \div 9 = 0.2$

④ $3.6 \div 4 = 0.9$

⑤ $1.2 \div 2 = 0.6$

⑥ $4.2 \div 6 = 0.7$

⑦ $2.4 \div 2 = 1.2$

⑧ $4.6 \div 2 = 2.3$

⑨ $3.6 \div 6 = 0.6$

⑩ $0.9 \div 3 = 0.3$

⑪ $1.4 \div 7 = 0.2$

⑫ $6.3 \div 3 = 2.1$

⑬ $3.2 \div 8 = 0.4$

⑭ $2.4 \div 8 = 0.3$



小数のわり算Ⅰ

● 小数を整数で割る暗算

14

日にち： 月 日

名まえ _____

・ 次の計算をしましょう。

① $2.4 \div 8 = 0.3$

② $1.8 \div 2 = 0.9$

③ $0.8 \div 4 = 0.2$

④ $2.8 \div 2 = 1.4$

⑤ $1.4 \div 7 = 0.2$

⑥ $3.2 \div 8 = 0.4$

⑦ $2.4 \div 3 = 0.8$

⑧ $5.6 \div 7 = 0.8$

⑨ $1.5 \div 5 = 0.3$

⑩ $7.2 \div 8 = 0.9$

⑪ $2.7 \div 9 = 0.3$

⑫ $3.5 \div 5 = 0.7$

⑬ $6.3 \div 9 = 0.7$

⑭ $1.8 \div 6 = 0.3$






小数のわり算 I

● 小数を整数で割る暗算

15

目指せ80点!



名まえ

・ 次の計算をしましょう。(各5点)

① $3.6 \div 4 = 0.9$

② $5.4 \div 9 = 0.6$

③ $9.6 \div 3 = 3.2$

④ $1.8 \div 6 = 0.3$

⑤ $0.9 \div 3 = 0.3$

⑥ $1.5 \div 5 = 0.3$

⑦ $3.5 \div 7 = 0.5$

⑧ $3.6 \div 3 = 1.2$

⑨ $4.8 \div 2 = 2.4$

⑩ $1.8 \div 3 = 0.6$

⑪ $6.3 \div 3 = 2.1$

⑫ $1.8 \div 2 = 0.9$

⑬ $0.6 \div 2 = 0.3$

⑭ $4.8 \div 8 = 0.6$

⑮ $4.8 \div 4 = 1.2$

⑯ $2.8 \div 2 = 1.4$

⑰ $1.6 \div 2 = 0.8$

⑱ $4.5 \div 5 = 0.9$

⑲ $5.4 \div 9 = 0.6$

⑳ $8.6 \div 2 = 4.3$






小数のわり算Ⅰ

● 小数を整数で割る暗算

16

目指せ80点!



名まえ

・ 次の計算をしましょう。(各5点)

① $1.2 \div 6 = 0.2$

② $2.4 \div 4 = 0.6$

③ $0.6 \div 2 = 0.3$

④ $2.5 \div 5 = 0.5$

⑤ $0.6 \div 6 = 0.1$

⑥ $6.3 \div 3 = 2.1$

⑦ $1.4 \div 7 = 0.2$

⑧ $1.2 \div 3 = 0.4$

⑨ $2.7 \div 9 = 0.3$

⑩ $0.9 \div 3 = 0.3$

⑪ $1.6 \div 2 = 0.8$

⑫ $2.1 \div 3 = 0.7$

⑬ $3.6 \div 9 = 0.4$

⑭ $7.2 \div 9 = 0.8$

⑮ $3.5 \div 7 = 0.5$

⑯ $0.8 \div 4 = 0.2$

⑰ $1.8 \div 9 = 0.2$

⑱ $8.1 \div 9 = 0.9$

⑲ $8.4 \div 4 = 2.1$

⑳ $2.8 \div 4 = 0.7$

