



小数のわり算 12

◎ 帯小数の"あまり"を求める



日にち： 月 日

名まえ _____

・ 次の筆算をしましょう。商は一の位まで求め、あまりもだしましょう。
(うすい字はなぞりましょう。)

①

		4	
9)	4	1.8
		3	6
			5
			8

②

		8	
4)	3	3.2

③

8)	7	7.1

④ $50.5 \div 6$

6)	5	0.5

⑤ $48.3 \div 5$

)	4	8.3

⑥ $22.4 \div 7$

)		

⑦ $58.4 \div 6$

⑧ $26.3 \div 7$

⑨ $14.7 \div 6$

6)	1	4.7



小数のわり算 12

◎ 帯小数の"あまり"を求める

2

日にち： 月 日

名まえ _____

・ 次の筆算をしましょう。商は一の位まで求め、あまりもだしましょう。
(うすい字はなぞりましょう。)

①

		5	
7)	37	.1
		35	

②

		2	
6)	14	.6

③

9)	69	.9

④ $57.1 \div 7$

)	57	.1	

⑤ $31.4 \div 4$

)			

⑥ $19.1 \div 4$

⑦ $46.5 \div 9$

⑧ $38.9 \div 7$

⑨ $58.5 \div 6$

)	58	.5	



小数のわり算 12

◎ 帯小数の"あまり"を求める

3

日にち： 月 日

名まえ _____

・ 次の筆算をしましょう。商は一の位まで求め、あまりもだしましょう。
(うすい字はなぞりましょう。)

①

		5	
8)	4	1.1

②

9)	7	5.8

③

8)	5	3.6

④ $20.8 \div 9$

)	2	0.8	

⑤ $49.3 \div 6$

)			

⑥ $39.6 \div 5$

⑦ $57.3 \div 6$

⑧ $20.4 \div 3$

⑨ $23.1 \div 6$

)			.



小数のわり算 12

◎ 帯小数の"あまり"を求める

4

日にち： 月 日

名まえ _____

・ 次の筆算をしましょう。商は一の位まで求め、あまりもだしましょう。
(うすい字はなぞりましょう。)

①

		8	
5)	4	1.4

②

7)	4	3.8

③

8)	5	3.3

④ $30.4 \div 7$

)			

⑤ $35.6 \div 4$

)			

⑥ $46.4 \div 6$

⑦ $26.2 \div 8$

⑧ $41.3 \div 5$

⑨ $29.8 \div 4$

)			



小数のわり算 12

◎ 帯小数の"あまり"を求める

5

日にち： 月 日

名まえ

・ 次の筆算をしましょう。商は一の位まで求め、あまりもだしましょう。
(うすい字はしっかりなぞりましょう。)

①

8)	4	1.7

②

9)	8	9.1

③

5)	2	2.7

④

$22.8 \div 6$

6)	2	2.8

⑤

$46.8 \div 9$

)			

⑥

$25.4 \div 3$

⑦

$37.9 \div 7$

⑧

$65.3 \div 8$

⑨

$19.9 \div 3$

)			



小数のわり算 12

◎ 帯小数の"あまり"を求める

6

日にち： 月 日

名まえ _____

・ 次の筆算をしましょう。商は一の位まで求め、あまりもだしましょう。
(うすい字はしっかりなぞりましょう。)

①

7)	29.8	

②

9)	35.3	

③

6)	39.9	

④

$37.5 \div 5$

)	37.5		

⑤

$53.9 \div 8$

⑥

$18.3 \div 4$

⑦

$28.4 \div 8$

⑧

$47.2 \div 9$

⑨

$21.2 \div 5$

)			.





小数のわり算 12

◎ 帯小数の"あまり"を求める

7

日にち： 月 日

名まえ _____

・ 次の筆算をしましょう。商は一の位まで求め、あまりもだしましょう。
(うすい字はしっかりなぞりましょう。)

①

7)	6	6.3

②

6)	5	1.4

③

8)	6	1.3

④

56.5 ÷ 9

)	5	6.5	

⑤

19.6 ÷ 7

⑥

31.7 ÷ 4

⑦

69.6 ÷ 8

⑧

25.9 ÷ 4

⑨

42.6 ÷ 5



小数のわり算 12

◎ 帯小数の"あまり"を求める

8

日にち： 月 日

名まえ _____

・ 次の筆算をしましょう。商は一の位まで求め、あまりもだしましょう。

①

6)	20	.9

②

7)	15	.4

③

3)	25	.6

④

$32.6 \div 7$

⑤

$28.4 \div 5$

⑥

$37.9 \div 7$

⑦

$62.5 \div 8$

⑧

$35.2 \div 4$

⑨

$18.9 \div 7$





小数のわり算 12

◎ 帯小数の"あまり"を求める



日にち： 月 日

名まえ _____

・ 次の筆算をしましょう。商は一の位まで求め、あまりもだしましょう。

①

6)	56.8	

②

5)	44.2	

③

7)	45.1	

④

$59.2 \div 6$

⑤

$74.2 \div 9$

⑥

$13.5 \div 5$

⑦

$42.6 \div 8$

⑧

$29.1 \div 4$

⑨

$14.9 \div 3$





小数のわり算 12

◎ 帯小数の"あまり"を求める



日にち： 月 日

名まえ _____

1 次の筆算をしましょう。商は一の位まで求め、あまりもだしましょう。

① $65.3 \div 8$

② $21.9 \div 5$

③ $43.1 \div 6$

④ $44.7 \div 5$

⑤ $32.2 \div 9$

⑥ $39.3 \div 6$

2 次の計算を筆算でしましょう。

① $3.04 \div 16$

② $0.56 \div 8$

③ $0.36 \div 6$



小数のわり算 12

◎ 帯小数の"あまり"を求める



日にち： 月 日

名まえ _____

1 次の筆算をしましょう。商は一の位まで求め、あまりもだしましょう。

① $63.5 \div 8$

② $71.1 \div 9$

③ $21.2 \div 4$

④ $31.7 \div 7$

⑤ $42.1 \div 8$

⑥ $14.9 \div 3$

2 次の計算を筆算でしましょう。

① $0.98 \div 14$

② $9.12 \div 38$

③ $0.42 \div 6$



小数のわり算 12

◎ 帯小数の"あまり"を求める



日にち： 月 日


名まえ _____

1 次の筆算をしましょう。商は一の位まで求め、あまりもだしましょう。


① $42.5 \div 8$




② $54.9 \div 7$




③ $55.3 \div 9$




④ $13.3 \div 5$



⑤ $35.8 \div 6$




⑥ $17.6 \div 3$




2 次の計算を筆算でしましょう。


① $4.59 \div 27$



② $0.45 \div 9$



③ $0.14 \div 2$





小数のわり算 12

◎ 帯小数の"あまり"を求める

13

日にち： 月 日

名まえ _____

1 次の筆算をしましょう。商は一の位まで求め、あまりもだしましょう。

① $42.7 \div 5$

② $41.7 \div 6$

③ $15.9 \div 6$

④ $66.8 \div 7$

⑤ $43.6 \div 7$

⑥ $15.5 \div 4$

2 次の計算を筆算でしましょう。

① $0.78 \div 13$

② $4.56 \div 24$

③ $0.28 \div 4$



小数のわり算 12

◎ 帯小数の"あまり"を求める

14

日にち： 月 日

名まえ _____

1 次の筆算をしましょう。商は一の位まで求め、あまりもだしましょう。

① $47.4 \div 6$

② $32.9 \div 6$

③ $26.2 \div 8$

④ $67.4 \div 7$

⑤ $44.1 \div 7$

⑥ $14.7 \div 4$

2 次の計算を筆算でしましょう。

① $3.84 \div 12$

② $0.24 \div 3$

③ $0.25 \div 5$



小数のわり算12

○ 帯小数の"あまり"を求める

15

目指せ80点!




名まえ _____

1 次の筆算をしましょう。商は一の位まで求め、あまりもだしましょう。
(各20点)

① $29.7 \div 6$



② $50.5 \div 7$



③ $55.7 \div 9$






2 次の計算を筆算でしましょう。(各20点)

① $0.64 \div 16$



② $6.46 \div 19$





小数のわり算 12

◎ 帯小数の"あまり"を求める

16

目指せ80点!



名まえ _____


1 次の筆算をしましょう。商は一の位まで求め、あまりもだしましょう。

(各20点)


① $25.2 \div 4$



② $26.6 \div 8$




③ $43.4 \div 8$






2 次の計算を筆算でしましょう。(各20点)

① $0.27 \div 9$



② $4.37 \div 23$





小数のわり算 12

◎ 帯小数の"あまり"を求める



日にち： 月 日

名まえ _____

・ 次の筆算をしましょう。商は一の位まで求め、あまりもだしましょう。
(うすい字はなぞりましょう。)

①

		4	
9)	41	.8
		36	
		5	8

②

		8	
4)	33	.2
		32	
		1	2

③

		9	
8)	77	.1
		72	
		5	1

④ $50.5 \div 6$

		8	
6)	50	.5
		48	
		2	5

⑤ $48.3 \div 5$

		9	
5)	48	.3
		45	
		3	3

⑥ $22.4 \div 7$

		3	
7)	22	.4
		21	
		1	4

⑦ $58.4 \div 6$

		9	
6)	58	.4
		54	
		4	4

⑧ $26.3 \div 7$

		3	
7)	26	.3
		21	
		5	3

⑨ $14.7 \div 6$

		2	
6)	14	.7
		12	
		2	7





小数のわり算 12

◎ 帯小数の"あまり"を求める

2

日にち： 月 日

名まえ _____

・ 次の筆算をしましょう。商は一の位まで求め、あまりもだしましょう。
(うすい字はなぞりましょう。)

①

		5	
7)	37	.1
		35	
		2	↓ 1

②

		2	
6)	14	.6
		12	
		2	↓ 6

③

		7	
9)	69	.9
		63	
		6	↓ 9

④ $57.1 \div 7$

		8	
7)	57	.1
		56	
		1	↓ 1

⑤ $31.4 \div 4$

		7	
4)	31	.4
		28	
		3	↓ 4

⑥ $19.1 \div 4$

		4	
4)	19	.1
		16	
		3	↓ 1

⑦ $46.5 \div 9$

		5	
9)	46	.5
		45	
		1	↓ 5

⑧ $38.9 \div 7$

		5	
7)	38	.9
		35	
		3	↓ 9

⑨ $58.5 \div 6$

		9	
6)	58	.5
		54	
		4	↓ 5





小数のわり算 12

◎ 帯小数の"あまり"を求める

3

日にち： 月 日

名まえ _____

・ 次の筆算をしましょう。商は一の位まで求め、あまりもだしましょう。
(うすい字はなぞりましょう。)

①

		5	
8)	41	.1
		40	
			↓
			11

②

		8	
9)	75	.8
		72	
			↓
			38

③

		6	
8)	53	.6
		48	
			↓
			56

④ $20.8 \div 9$

		2	
9)	20	.8
		18	
			↓
			28

⑤ $49.3 \div 6$

		8	
6)	49	.3
		48	
			↓
			13

⑥ $39.6 \div 5$

		7	
5)	39	.6
		35	
			↓
			46

⑦ $57.3 \div 6$

		9	
6)	57	.3
		54	
			↓
			33

⑧ $20.4 \div 3$

		6	
3)	20	.4
		18	
			↓
			24

⑨ $23.1 \div 6$

		3	
6)	23	.1
		18	
			↓
			51





小数のわり算 12

◎ 帯小数の"あまり"を求める

4

日にち： 月 日

名まえ _____

・ 次の筆算をしましょう。商は一の位まで求め、あまりもだしましょう。
(うすい字はなぞりましょう。)

①

		8	
5)	41	.4
		40	
			↓
			4

②

		6	
7)	43	.8
		42	
			↓
			8

③

		6	
8)	53	.3
		48	
			↓
			3

④ $30.4 \div 7$

		4	
7)	30	.4
		28	
			↓
			4

⑤ $35.6 \div 4$

		8	
4)	35	.6
		32	
			↓
			6

⑥ $46.4 \div 6$

		7	
6)	46	.4
		42	
			↓
			4

⑦ $26.2 \div 8$

		3	
8)	26	.2
		24	
			↓
			2

⑧ $41.3 \div 5$

		8	
5)	41	.3
		40	
			↓
			3

⑨ $29.8 \div 4$

		7	
4)	29	.8
		28	
			↓
			8





小数のわり算 12

◎ 帯小数の"あまり"を求める

5

日にち： 月 日

名まえ _____

・ 次の筆算をしましょう。商は一の位まで求め、あまりもだしましょう。
(うすい字はしっかりなぞりましょう。)

①

		5	
8)	41	.7
		40	
			↓
			17

②

		9	
9)	89	.1
		81	
			↓
			81

③

		4	
5)	22	.7
		20	
			↓
			27

④ $22.8 \div 6$

		3	
6)	22	.8
		18	
			↓
			48

⑤ $46.8 \div 9$

		5	
9)	46	.8
		45	
			↓
			18

⑥ $25.4 \div 3$

		8	
3)	25	.4
		24	
			↓
			14

⑦ $37.9 \div 7$

		5	
7)	37	.9
		35	
			↓
			29

⑧ $65.3 \div 8$

		8	
8)	65	.3
		64	
			↓
			13

⑨ $19.9 \div 3$

		6	
3)	19	.9
		18	
			↓
			19





小数のわり算 12

◎ 帯小数の"あまり"を求める

6

日にち： 月 日

名まえ _____

・ 次の筆算をしましょう。商は一の位まで求め、あまりもだしましょう。
(うすい字はしっかりなぞりましょう。)

①

		4	
7)	29.8	
		28	
		1	↓ 8

②

		3	
9)	35.3	
		27	
		8	↓ 3

③

		6	
6)	39.9	
		36	
		3	↓ 9

④ $37.5 \div 5$

		7	
5)	37.5	
		35	
		2	↓ 5

⑤ $53.9 \div 8$

		6	
8)	53.9	
		48	
		5	↓ 9

⑥ $18.3 \div 4$

		4	
4)	18.3	
		16	
		2	↓ 3

⑦ $28.4 \div 8$

		3	
8)	28.4	
		24	
		4	↓ 4

⑧ $47.2 \div 9$

		5	
9)	47.2	
		45	
		2	↓ 2

⑨ $21.2 \div 5$

		4	
5)	21.2	
		20	
		1	↓ 2





小数のわり算 12

◎ 帯小数の"あまり"を求める

7

日にち： 月 日

名まえ _____

・ 次の筆算をしましょう。商は一の位まで求め、あまりもだしましょう。
(うすい字はしっかりなぞりましょう。)

①

		9	
7)	66.3	
		63	
		3	3

②

		8	
6)	51.4	
		48	
		3	4

③

		7	
8)	61.3	
		56	
		5	3

④ $56.5 \div 9$

		6	
9)	56.5	
		54	
		2	5

⑤ $19.6 \div 7$

		2	
7)	19.6	
		14	
		5	6

⑥ $31.7 \div 4$

		7	
4)	31.7	
		28	
		3	7

⑦ $69.6 \div 8$

		8	
8)	69.6	
		64	
		5	6

⑧ $25.9 \div 4$

		6	
4)	25.9	
		24	
		1	9

⑨ $42.6 \div 5$

		8	
5)	42.6	
		40	
		2	6





小数のわり算 12

◎ 帯小数の"あまり"を求める

8

日にち： 月 日

名まえ _____

・ 次の筆算をしましょう。商は一の位まで求め、あまりもだしましょう。

①

		3	
6)	20	.9
		18	
		2	9

②

		2	
7)	15	.4
		14	
		1	4

③

		8	
3)	25	.6
		24	
		1	6

④ $32.6 \div 7$

		4	
7)	32	.6
		28	
		4	6

⑤ $28.4 \div 5$

		5	
5)	28	.4
		25	
		3	4

⑥ $37.9 \div 7$

		5	
7)	37	.9
		35	
		2	9

⑦ $62.5 \div 8$

		7	
8)	62	.5
		56	
		6	5

⑧ $35.2 \div 4$

		8	
4)	35	.2
		32	
		3	2

⑨ $18.9 \div 7$

		2	
7)	18	.9
		14	
		4	9



小数のわり算 12

◎ 帯小数の"あまり"を求める



日にち： 月 日

名まえ _____

・ 次の筆算をしましょう。商は一の位まで求め、あまりもだしましょう。

①

		9	
6)	56.8	
		54	
		2	8

②

		8	
5)	44.2	
		40	
		4	2

③

		6	
7)	45.1	
		42	
		3	1

④ $59.2 \div 6$

		9	
6)	59.2	
		54	
		5	2

⑤ $74.2 \div 9$

		8	
9)	74.2	
		72	
		2	2

⑥ $13.5 \div 5$

		2	
5)	13.5	
		10	
		3	5

⑦ $42.6 \div 8$

		5	
8)	42.6	
		40	
		2	6

⑧ $29.1 \div 4$

		7	
4)	29.1	
		28	
		1	1

⑨ $14.9 \div 3$

		4	
3)	14.9	
		12	
		2	9



小数のわり算12

◎ 帯小数の"あまり"を求める



日にち： 月 日

名まえ _____

1 次の筆算をしましょう。商は一の位まで求め、あまりもだしましょう。

① $65.3 \div 8$

		8	
8)	65.3	
		64	
		1	3

② $21.9 \div 5$

		4	
5)	21.9	
		20	
		1	9

③ $43.1 \div 6$

		7	
6)	43.1	
		42	
		1	1

④ $44.7 \div 5$

		8	
5)	44.7	
		40	
		4	7

⑤ $32.2 \div 9$

		3	
9)	32.2	
		27	
		5	2

⑥ $39.3 \div 6$

		6	
6)	39.3	
		36	
		3	3

2 次の計算を筆算でしましょう。

① $3.04 \div 16$

		0.19	
16)	3.04	
		16	
		144	
		144	
		0	

② $0.56 \div 8$

		0.07	
8)	0.56	
		56	
		0	

③ $0.36 \div 6$

		0.06	
6)	0.36	
		36	
		0	



小数のわり算 12

◎ 帯小数の"あまり"を求める



日にち： 月 日

名まえ _____

1 次の筆算をしましょう。商は一の位まで求め、あまりもだしましょう。

① $63.5 \div 8$

		7	
8)	63.5	
		56	
		7	5

② $71.1 \div 9$

		7	
9)	71.1	
		63	
		8	1

③ $21.2 \div 4$

		5	
4)	21.2	
		20	
		1	2

④ $31.7 \div 7$

		4	
7)	31.7	
		28	
		3	7

⑤ $42.1 \div 8$

		5	
8)	42.1	
		40	
		2	1

⑥ $14.9 \div 3$

		4	
3)	14.9	
		12	
		2	9

2 次の計算を筆算でしましょう。

① $0.98 \div 14$

		0.07	
14)	0.98	
		98	
		0	

② $9.12 \div 38$

		0.24	
38)	9.12	
		76	
		152	
		152	
		0	

③ $0.42 \div 6$

		0.07	
6)	0.42	
		42	
		0	



小数のわり算 12

◎ 帯小数の"あまり"を求める

12

日にち： 月 日

名まえ _____

1 次の筆算をしましょう。商は一の位まで求め、あまりもだしましょう。

① $42.5 \div 8$

		5	
8)	42.5	
		40	
		2	5

② $54.9 \div 7$

		7	
7)	54.9	
		49	
		5	9

③ $55.3 \div 9$

		6	
9)	55.3	
		54	
		1	3

④ $13.3 \div 5$

		2	
5)	13.3	
		10	
		3	3

⑤ $35.8 \div 6$

		5	
6)	35.8	
		30	
		5	8

⑥ $17.6 \div 3$

		5	
3)	17.6	
		15	
		2	6

2 次の計算を筆算でしましょう。

① $4.59 \div 27$

		0.17	
27)	4.59	
		27	
		189	
		189	
		0	

② $0.45 \div 9$

		0.05	
9)	0.45	
		45	
		0	

③ $0.14 \div 2$

		0.07	
2)	0.14	
		14	
		0	





小数のわり算 12

◎ 帯小数の"あまり"を求める

13

日にち： 月 日

名まえ _____

1 次の筆算をしましょう。商は一の位まで求め、あまりもだしましょう。

① $42.7 \div 5$

		8	
5)	42.7	
		40	
		2	7

② $41.7 \div 6$

		6	
6)	41.7	
		36	
		5	7

③ $15.9 \div 6$

		2	
6)	15.9	
		12	
		3	9

④ $66.8 \div 7$

		9	
7)	66.8	
		63	
		3	8

⑤ $43.6 \div 7$

		6	
7)	43.6	
		42	
		1	6

⑥ $15.5 \div 4$

		3	
4)	15.5	
		12	
		3	5

2 次の計算を筆算でしましょう。

① $0.78 \div 13$

		0.06	
13)	0.78	
		78	
		0	

② $4.56 \div 24$

		0.19	
24)	4.56	
		24	
		216	
		216	
		0	

③ $0.28 \div 4$

		0.07	
4)	0.28	
		28	
		0	





小数のわり算 12

◎ 帯小数の"あまり"を求める

14

日にち： 月 日

名まえ _____

1 次の筆算をしましょう。商は一の位まで求め、あまりもだしましょう。

① $47.4 \div 6$

		7	
6)	47.4	
		42	
		5	4

② $32.9 \div 6$

		5	
6)	32.9	
		30	
		2	9

③ $26.2 \div 8$

		3	
8)	26.2	
		24	
		2	2

④ $67.4 \div 7$

		9	
7)	67.4	
		63	
		4	4

⑤ $44.1 \div 7$

		6	
7)	44.1	
		42	
		2	1

⑥ $14.7 \div 4$

		3	
4)	14.7	
		12	
		2	7

2 次の計算を筆算でしましょう。

① $3.84 \div 12$

		0.32	
12)	3.84	
		36	
		24	
		24	
		0	

② $0.24 \div 3$

		0.08	
3)	0.24	
		24	
		0	

③ $0.25 \div 5$

		0.05	
5)	0.25	
		25	
		0	



小数のわり算 12

◎ 帯小数の"あまり"を求める

15

目指せ80点!



名まえ

1 次の筆算をしましょう。商は一の位まで求め、あまりもだしましょう。

(各20点)

① $29.7 \div 6$

		4	
6)	29.7	
		24	
		5.7	

② $50.5 \div 7$

		7	
7)	50.5	
		49	
		1.5	

③ $55.7 \div 9$

		6	
9)	55.7	
		54	
		1.7	



2 次の計算を筆算でしましょう。(各20点)

① $0.64 \div 16$

		0.04	
16)	0.64	
		64	
		0	

② $6.46 \div 19$

		0.34	
19)	6.46	
		57	
		76	
		76	
		0	





小数のわり算 12

◎ 帯小数の"あまり"を求める

16

目指せ80点!



名まえ

1 次の筆算をしましょう。商は一の位まで求め、あまりもだしましょう。

(各20点)

① $25.2 \div 4$

		6	
4)	25.2	
		24	
		1	2

② $26.6 \div 8$

		3	
8)	26.6	
		24	
		2	6

③ $43.4 \div 8$

		5	
8)	43.4	
		40	
		3	4

2 次の計算を筆算でしましょう。(各20点)

① $0.27 \div 9$

		0.03	
9)	0.27	
		27	
		0	

② $4.37 \div 23$

		0.19	
23)	4.37	
		23	
		207	
		207	
		0	

