



小数のわり算20

○わり進み
(整数を2桁の整数でわる)



日にち： 月 日

名まえ _____

・ 次の計算をわりきれぬまでしましょう。(うすい字はしっかりなぞろう。)

①

			1	.	2	
1	5)	1	8	.	0
			1	5		
			3	0		
			3	0		
				0		

②

				1	.	
6	6)	9	9	.	0
			6	6		
			3	3	0	

③

1	6)	5	6	

④ $3 \div 75$

			0	.	0	4	
7	5)	3	.	0	.	0
			3	0	0		
					0		


⑤ $2 \div 25$

⑥ $6 \div 75$

⑦ $49 \div 14$

⑧ $48 \div 32$

⑨ $1 \div 25$



小数のわり算20

わり進み
(整数を2桁の整数でわる)



日にち： 月 日

名まえ _____

・ 次の計算をわりきれぬまでしましょう。(うすい字はしっかりなぞろう。)

①

			1.4
2	5)	35.0
	2	5	
	1	0	0
	1	0	0
			0

②

			1.
3	6)	54.0
	3	6	
	1	8	0

③

4	6)	69

④ $1 \div 25$

			0.04
2	5)	1.00
	1	0	0
			0


⑤ $3 \div 75$

⑥ $2 \div 25$

⑦ $72 \div 48$

⑧ $85 \div 34$

⑨ $45 \div 18$



小数のわり算20

わり進み
(整数を2桁の整数でわる)



日にち： 月 日

名まえ _____

・ 次の計算をわりきれるまでしましょう。(うすい字はしっかりなぞろう。)

①

			3.5
1	4)	49.0
			42
			70
			70
			0

②

			2.
3	4)	85.0
			68
			170

③

3	5)	63

④ $3 \div 75$

7	5)	3.00

⑤ $2 \div 25$

⑥ $6 \div 75$

⑦ $33 \div 22$

⑧ $57 \div 38$

⑨ $1 \div 25$



小数のわり算20

④ わり進み
(整数を2桁の整数でわる)



日にち： 月 日

名まえ _____

・ 次の計算をわりきれぬまでしましょう。(うすい字はしっかりなぞろう。)

①

			2.5
1	8)	45.0
			36
			90
			90
			0

②

			1.
4	4)	66.0
			44
			220

③

1	4)	49

④ $1 \div 25$

2	5)	1

⑤ $3 \div 75$

--	--	--	--

⑥ $2 \div 25$

--	--	--	--

⑦ $39 \div 15$


--	--	--	--

⑧ $69 \div 46$

--	--	--	--

⑨ $81 \div 18$

--	--	--	--



小数のわり算20

わり進み
(整数を2桁の整数でわる)



日にち： 月 日

名まえ

・ 次の計算をわりきれるまでしましょう。(うすい字はしっかりなぞろう。)

①

			1	5		
2	2)	3	3	.	0
			2	2		
			1	1		0
			1	1		0
						0

②

1	2)	9	0	

③

3	5)	9	1	

④ $6 \div 75$

)	6	


⑤ $3 \div 75$

⑥ $2 \div 25$

⑦ $54 \div 45$

⑧ $1 \div 25$

⑨ $88 \div 16$



小数のわり算20

わり進み
(整数を2桁の整数でわる)



日にち： 月 日

名まえ _____

・ 次の計算をわりきれぬまでしましょう。(うすい字はしっかりなぞろう。)

①

			1.5
28)	42.	0
		28	
		14	0
		14	0
			0

②

45)	72	

③

15)	48	

④ $2 \div 25$

)	2	

⑤ $1 \div 25$

)	1	

⑥ $3 \div 75$

)	3	

⑦ $77 \div 22$


)	77	

⑧ $45 \div 25$

)	45	

⑨ $6 \div 75$

)	6	



小数のわり算20

わり進み
(整数を2桁の整数でわる)



日にち： 月 日

名まえ _____

・ 次の計算をわりきれぬまでしましょう。(うすい字はしっかりなぞろう。)

①

			1.6
1	5)	24.0
	1	5	
			90
			90
			0

②

2	5)	95

③

1	6)	56

④ $3 \div 75$

)	3

⑤ $2 \div 25$

)	2

⑥ $1 \div 25$

)	1

⑦ $63 \div 45$


)	63

⑧ $6 \div 75$

)	6

⑨ $78 \div 12$

)	78



小数のわり算20

わり進み
(整数を2桁の整数でわる)



日にち： 月 日

名まえ

・ 次の計算をわりきれるまでしましょう。

①

$$45 \overline{)99}$$

②

$$14 \overline{)91}$$

③

$$25 \overline{)80}$$

④

$$2 \div 25$$

⑤

$$3 \div 75$$

⑥

$$6 \div 75$$

⑦

$$84 \div 35$$

⑧

$$57 \div 38$$

⑨

$$1 \div 25$$



小数のわり算20

わり進み
(整数を2桁の整数でわる)



日にち： 月 日

名まえ _____

・ 次の計算をわりきれるまでしましょう。

①

$$35 \overline{)84}$$

②

$$45 \overline{)81}$$

③

$$35 \overline{)98}$$

④

$$1 \div 25$$

⑤

$$6 \div 75$$

⑥

$$2 \div 25$$

⑦

$$90 \div 36$$


⑧

$$3 \div 75$$

⑨

$$72 \div 48$$





小数のわり算20

● わり進み
(整数を2桁の整数でわる)



日にち： 月 日

名まえ _____

・ 次の計算をわりきれるまでしましょう。

① $39 \div 26$


② $70 \div 25$

③ $3 \div 75$

④ $21 \div 6$

⑤ $25 \div 2$

⑥ $9 \div 4$



小数のわり算20

●わり進み
(整数を2桁の整数でわる)



日にち： 月 日

名まえ _____

・ 次の計算をわりきれぬまでしましょう。

① $93 \div 15$

② $2 \div 25$

③ $2 \div 8$

④ $98 \div 28$

⑤ $85 \div 25$

⑥ $15 \div 4$



小数のわり算20

わり進み
(整数を2桁の整数でわる)



日にち： 月 日

名まえ

・ 次の計算をわりきれるまでしましょう。

① $69 \div 15$


② $56 \div 16$

③ $1 \div 25$

④ $7 \div 4$

⑤ $26 \div 8$

⑥ $72 \div 45$



小数のわり算20

わり進み
(整数を2桁の整数でわる)


13

日にち： 月 日


名まえ _____

・ 次の計算をわりきれるまでしましょう。

① $66 \div 15$



② $3 \div 75$




③ $3 \div 4$




④ $69 \div 15$




⑤ $95 \div 25$



⑥ $34 \div 8$





小数のわり算20

わり進み
(整数を2桁の整数でわる)

14

日にち： 月 日

名まえ _____

・ 次の計算をわりきれぬまでしましょう。


① $63 \div 42$




② $98 \div 35$




③ $3 \div 75$




④ $5 \div 4$




⑤ $17 \div 4$



⑥ $80 \div 32$



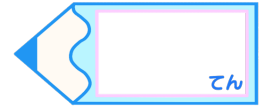


小数のわり算20

わり進み
(整数を2桁の整数でわる)

15


目指せ80点!



名まえ

・ 次の計算をわりきれぬまでしましょう。(各20点)


① $54 \div 12$



② $63 \div 35$





③ $1 \div 25$



④ $34 \div 5$



⑤ $2 \div 8$



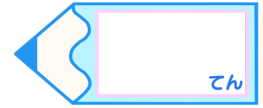


小数のわり算20

● わり進み
(整数を2桁の整数でわる)

16

目指せ80点!



名まえ

・ 次の計算をわりきれるまでしましょう。(各20点)



① $85 \div 34$

② $6 \div 75$

③ $13 \div 5$

④ $7 \div 4$

⑤ $17 \div 4$





小数のわり算20

わり進み
(整数を2桁の整数でわる)



日にち： 月 日

名まえ _____

・ 次の計算をわりきれぬまでしましょう。(うすい字はしっかりなぞろう。)

①

			1.2
15)	18.0	
		15	
		30	
		30	
		0	

②

			1.5
66)	99.0	
		66	
		330	
		330	
		0	

③

			3.5
16)	56.0	
		48	
		80	
		80	
		0	

④ $3 \div 75$

			0.04
75)	3.00	
		300	
		0	

⑤ $2 \div 25$

			0.08
25)	2.00	
		200	
		0	

⑥ $6 \div 75$

			0.08
75)	6.00	
		600	
		0	

⑦ $49 \div 14$

			3.5
14)	49.0	
		420	
		70	
		70	
		0	

⑧ $48 \div 32$

			1.5
32)	48.0	
		320	
		160	
		160	
		0	

⑨ $1 \div 25$

			0.04
25)	1.00	
		100	
		0	



小数のわり算20

わり進み
(整数を2桁の整数でわる)



日にち： 月 日

名まえ _____

・ 次の計算をわりきれぬまでしましょう。(うすい字はしっかりなぞろう。)

①

			1.4
25)	35.0	
		25	
		100	
		100	
			0

②

			1.5
36)	54.0	
		36	
		180	
		180	
			0

③

			1.5
46)	69.0	
		46	
		230	
		230	
			0

④ $1 \div 25$

			0.04
25)	1.00	
		100	
			0

⑤ $3 \div 75$

			0.04
75)	3.00	
		300	
			0

⑥ $2 \div 25$

			0.08
25)	2.00	
		200	
			0

⑦ $72 \div 48$

			1.5
48)	72.0	
		480	
		240	
		240	
			0

⑧ $85 \div 34$

			2.5
34)	85.0	
		680	
		170	
		170	
			0

⑨ $45 \div 18$

			2.5
18)	45.0	
		360	
		90	
		90	
			0



小数のわり算20

わり進み
(整数を2桁の整数でわる)



日にち： 月 日

名まえ _____

・ 次の計算をわりきれるまでしましょう。(うすい字はしっかりなぞろう。)

①

			3.5
1	4)	49.0
			42
			70
			70
			0

②

			2.5
3	4)	85.0
			68
			170
			170
			0

③

			1.8
3	5)	63.0
			35
			280
			280
			0

④ $3 \div 75$

			0.04
7	5)	3.00
			300
			0

⑤ $2 \div 25$

			0.08
2	5)	2.00
			200
			0

⑥ $6 \div 75$

			0.08
7	5)	6.00
			600
			0

⑦ $33 \div 22$


			1.5
2	2)	33.0
			220
			110
			110
			0

⑧ $57 \div 38$

			1.5
3	8)	57.0
			380
			190
			190
			0

⑨ $1 \div 25$

			0.04
2	5)	1.00
			100
			0



小数のわり算20

わり進み
(整数を2桁の整数でわる)



日にち： 月 日

名まえ _____

・ 次の計算をわりきれぬまでしましょう。(うすい字はしっかりなぞろう。)

①

			2.5
1	8)	45.0
			36
			90
			90
			0

②

			1.5
4	4)	66.0
			44
			220
			220
			0

③

			3.5
1	4)	49.0
			42
			70
			70
			0

④ $1 \div 25$

			0.04
2	5)	1.00
			100
			0

⑤ $3 \div 75$

			0.04
7	5)	3.00
			300
			0

⑥ $2 \div 25$

			0.08
2	5)	2.00
			200
			0

⑦ $39 \div 15$


			2.6
1	5)	39.0
			300
			90
			90
			0

⑧ $69 \div 46$

			1.5
4	6)	69.0
			460
			230
			230
			0

⑨ $81 \div 18$

			4.5
1	8)	81.0
			720
			90
			90
			0



小数のわり算20

わり進み
(整数を2桁の整数でわる)



日にち： 月 日

名まえ _____

・ 次の計算をわりきれるまでしましょう。(うすい字はしっかりなぞろう。)

①

			1.5
2	2)	33.0
			22
			110
			110
			0

②

			7.5
1	2)	90.0
			84
			60
			60
			0

③

			2.6
3	5)	91.0
			70
			210
			210
			0

④ $6 \div 75$

			0.08
7	5)	6.00
			600
			0

⑤ $3 \div 75$

			0.04
7	5)	3.00
			300
			0

⑥ $2 \div 25$

			0.08
2	5)	2.00
			200
			0

⑦ $54 \div 45$


			1.2
4	5)	54.0
			450
			90
			90
			0

⑧ $1 \div 25$

			0.04
2	5)	1.00
			100
			0

⑨ $88 \div 16$

			5.5
1	6)	88.0
			800
			80
			80
			0



小数のわり算20

わり進み
(整数を2桁の整数でわる)



日にち： 月 日

名まえ _____

・ 次の計算をわりきれるまでしましょう。(うすい字はしっかりなぞろう。)

①

			1.5
2	8)	42.0
			28
			140
			140
			0

②

			1.6
4	5)	72.0
			45
			270
			270
			0

③

			3.2
1	5)	48.0
			45
			30
			30
			0

④ $2 \div 25$

			0.08
2	5)	2.00
			200
			0

⑤ $1 \div 25$

			0.04
2	5)	1.00
			100
			0

⑥ $3 \div 75$

			0.04
7	5)	3.00
			300
			0

⑦ $77 \div 22$


			3.5
2	2)	77.0
			660
			110
			110
			0

⑧ $45 \div 25$

			1.8
2	5)	45.0
			250
			200
			200
			0

⑨ $6 \div 75$

			0.08
7	5)	6.00
			600
			0



小数のわり算20

わり進み
(整数を2桁の整数でわる)



日にち： 月 日

名まえ

・ 次の計算をわりきれぬまでしましょう。(うすい字はしっかりなぞろう。)

①

			1.6
1	5)	24.0
			15
			90
			90
			0

②

			3.8
2	5)	95.0
			75
			200
			200
			0

③

			3.5
1	6)	56.0
			48
			80
			80
			0

④ $3 \div 75$

			0.04
7	5)	3.00
			300
			0

⑤ $2 \div 25$

			0.08
2	5)	2.00
			200
			0

⑥ $1 \div 25$

			0.04
2	5)	1.00
			100
			0

⑦ $63 \div 45$


			1.4
4	5)	63.0
			450
			180
			180
			0

⑧ $6 \div 75$

			0.08
7	5)	6.00
			600
			0

⑨ $78 \div 12$

			6.5
1	2)	78.0
			720
			60
			60
			0



小数のわり算20

わり進み
(整数を2桁の整数でわる)



日にち： 月 日

名まえ _____

・ 次の計算をわりきれるまでしましょう。

①

			2.2
4	5)	99.0
			90
			90
			90
			0

②

			6.5
1	4)	91.0
			84
			70
			70
			0

③

			3.2
2	5)	80.0
			75
			50
			50
			0

④ $2 \div 25$

			0.08
2	5)	2.00
			200
			0

⑤ $3 \div 75$

			0.04
7	5)	3.00
			300
			0

⑥ $6 \div 75$

			0.08
7	5)	6.00
			600
			0

⑦ $84 \div 35$


			2.4
3	5)	84.0
			700
			140
			140
			0

⑧ $57 \div 38$

			1.5
3	8)	57.0
			380
			190
			190
			0

⑨ $1 \div 25$

			0.04
2	5)	1.00
			100
			0



小数のわり算20

わり進み
(整数を2桁の整数でわる)



日にち： 月 日

名まえ

・ 次の計算をわりきれるまでしましょう。

①

			2.4
3	5)	84.0
			70
			140
			140
			0

②

			1.8
4	5)	81.0
			45
			360
			360
			0

③

			2.8
3	5)	98.0
			70
			280
			280
			0

④ $1 \div 25$

			0.04
2	5)	1.00
			100
			0

⑤ $6 \div 75$

			0.08
7	5)	6.00
			600
			0

⑥ $2 \div 25$

			0.08
2	5)	2.00
			200
			0

⑦ $90 \div 36$

			2.5
3	6)	90.0
			720
			180
			180
			0

⑧ $3 \div 75$

			0.04
7	5)	3.00
			300
			0

⑨ $72 \div 48$

			1.5
4	8)	72.0
			480
			240
			240
			0



小数のわり算20

わり進み
(整数を2桁の整数でわる)



日にち： 月 日

名まえ _____

・ 次の計算をわりきれぬまでしましょう。

① $39 \div 26$

			1.5
26)	39.0	
		260	
		130	
		130	
			0

② $70 \div 25$

			2.8
25)	70.0	
		500	
		200	
		200	
			0

③ $3 \div 75$

			0.04
75)	3.00	
		300	
			0

④ $21 \div 6$

			3.5
6)	21.0	
		18	
		30	
		30	
			0

⑤ $25 \div 2$

			12.5
2)	25.0	
		2	
		50	
		40	
		10	
		10	
			0

⑥ $9 \div 4$

			2.25
4)	9.00	
		8	
		10	
		8	
		20	
		20	
			0



小数のわり算20

わり進み
(整数を2桁の整数でわる)



日にち： 月 日

名まえ _____

・ 次の計算をわりきれぬまでしましょう。

① $93 \div 15$

			6.2
1	5)	93.0
			900
			30
			30
			0

② $2 \div 25$

			0.08
2	5)	2.00
			200
			0

③ $2 \div 8$

			0.25
8)	2.00	
			16
			40
			40
			0

④ $98 \div 28$


			3.5
2	8)	98.0
			84
			140
			140
			0

⑤ $85 \div 25$

			3.4
2	5)	85.0
			75
			100
			100
			0

⑥ $15 \div 4$

			3.75
4)	15.00	
			12
			30
			28
			20
			20
			0



小数のわり算20

わり進み
(整数を2桁の整数でわる)



日にち： 月 日

名まえ _____

・ 次の計算をわりきれるまでしましょう。

① $69 \div 15$

			4.6
1	5)	69.0
			600
			90
			90
			0

② $56 \div 16$

			3.5
1	6)	56.0
			480
			80
			80
			0

③ $1 \div 25$

			0.04
2	5)	1.00
			100
			0

④ $7 \div 4$


			1.75
4)	7.00	
		4	
		30	
		28	
		20	
		20	
		0	

⑤ $26 \div 8$

			3.25
8)	26.00	
		24	
		20	
		16	
		40	
		40	
		0	

⑥ $72 \div 45$

			1.6
4	5)	72.0
		45	
		270	
		270	
		0	



小数のわり算20

わり進み
(整数を2桁の整数でわる)



日にち： 月 日

名まえ

・ 次の計算をわりきれぬまでしましょう。

① $66 \div 15$

			4.4
1	5)	66.0
			600
			60
			60
			0

② $3 \div 75$

			0.04
7	5)	3.00
			300
			0

③ $3 \div 4$

			0.75
4)	3.00	
		28	
		20	
		20	
		0	

④ $69 \div 15$


			4.6
1	5)	69.0
			60
			90
			90
			0

⑤ $95 \div 25$

			3.8
2	5)	95.0
			75
			200
			200
			0

⑥ $34 \div 8$

			4.25
8)	34.00	
		32	
		20	
		16	
		40	
		40	
		0	



小数のわり算20

わり進み
(整数を2桁の整数でわる)

14

日にち： 月 日

名まえ

・ 次の計算をわりきれぬまでしましょう。

① $63 \div 42$

			1.5
4	2)	63.0
			420
			210
			210
			0

② $98 \div 35$

			2.8
3	5)	98.0
			700
			280
			280
			0

③ $3 \div 75$

			0.04
7	5)	3.00
			300
			0

④ $5 \div 4$


			1.25
4)	5.00	
		4	
		10	
		8	
		20	
		20	
		0	

⑤ $17 \div 4$

			4.25
4)	17.00	
		16	
		10	
		8	
		20	
		20	
		0	

⑥ $80 \div 32$

			2.5
3	2)	80.0
		64	
		160	
		160	
		0	

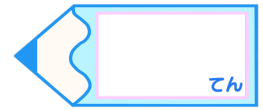


小数のわり算20

わり進み
(整数を2桁の整数でわる)

15

目指せ80点!



名まえ

・ 次の計算をわりきれぬまでしましょう。(各20点)

① $54 \div 12$

			4.5
1	2)	54.0
			480
			60
			60
			0

② $63 \div 35$

			1.8
3	5)	63.0
			350
			280
			280
			0

③ $1 \div 25$



			0.04
2	5)	1.00
			100
			0

④ $34 \div 5$

			6.8
5)		34.0
			300
			40
			40
			0

⑤ $2 \div 8$

			0.25
8)		2.00
			16
			40
			40
			0



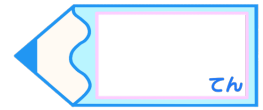


小数のわり算20

わり進み
(整数を2桁の整数でわる)

16

目指せ80点!



名まえ

・ 次の計算をわりきれぬまでしましょう。(各20点)

① $85 \div 34$

$$\begin{array}{r}
 2.5 \\
 34 \overline{)85.0} \\
 \underline{68} \\
 170 \\
 \underline{170} \\
 0
 \end{array}$$

② $6 \div 75$

$$\begin{array}{r}
 0.08 \\
 75 \overline{)6.00} \\
 \underline{600} \\
 0
 \end{array}$$

③ $13 \div 5$

$$\begin{array}{r}
 2.6 \\
 5 \overline{)13.0} \\
 \underline{10} \\
 30 \\
 \underline{30} \\
 0
 \end{array}$$

④ $7 \div 4$

$$\begin{array}{r}
 1.75 \\
 4 \overline{)7.00} \\
 \underline{4} \\
 30 \\
 \underline{28} \\
 20 \\
 \underline{20} \\
 0
 \end{array}$$

⑤ $17 \div 4$

$$\begin{array}{r}
 4.25 \\
 4 \overline{)17.00} \\
 \underline{16} \\
 10 \\
 \underline{8} \\
 20 \\
 \underline{20} \\
 0
 \end{array}$$

