



# 小数のわり算5

● 商が小数第一位までの真小数



日にち：            月            日

名まえ \_\_\_\_\_

・ 次の計算をしなさい。（うすい字はなぞりましょう。）

①

	0	9
7	)	6.3
	6	3
		0

②

	0	
4	)	3.6

③

6	)	4.2

④  $6.4 \div 8$

	)	6.4

⑤  $1.6 \div 2$


⑥  $2.7 \div 9$


⑦  $2.4 \div 3$


⑧  $3.5 \div 7$


⑨  $5.4 \div 6$


⑩  $1.8 \div 2$


⑪  $1.2 \div 3$


⑫  $4.5 \div 5$

5	)	4.5



# 小数のわり算5

● 商が小数第一位までの真小数

2

日にち：            月            日

名まえ \_\_\_\_\_

・ 次の計算をしなさい。（うすい字はなぞりましょう。）

① 
$$\begin{array}{r} 0.5 \\ 9 \overline{)4.5} \end{array}$$

② 
$$\begin{array}{r} 0. \\ 3 \overline{)2.4} \end{array}$$

③ 
$$\begin{array}{r} \\ 8 \overline{)1.6} \end{array}$$

④  $7.2 \div 9$

$$\begin{array}{r} \\ \overline{)7.2} \end{array}$$

⑤  $2.1 \div 3$

$$\begin{array}{r} \\ \overline{)2.1} \end{array}$$

⑥  $5.4 \div 9$

$$\begin{array}{r} \\ \overline{)5.4} \end{array}$$

⑦  $5.6 \div 7$

$$\begin{array}{r} \\ \overline{)5.6} \end{array}$$

⑧  $2.4 \div 4$

$$\begin{array}{r} \\ \overline{)2.4} \end{array}$$

⑨  $1.8 \div 2$

$$\begin{array}{r} \\ \overline{)1.8} \end{array}$$

⑩  $2.8 \div 4$

$$\begin{array}{r} \\ \overline{)2.8} \end{array}$$

⑪  $1.4 \div 2$

$$\begin{array}{r} \\ \overline{)1.4} \end{array}$$

⑫  $3.6 \div 4$

$$\begin{array}{r} \\ \overline{)3.6} \end{array}$$



# 小数のわり算5

● 商が小数第一位までの真小数

3

日にち：            月            日

名まえ \_\_\_\_\_

・ 次の計算をしなさい。（うすい字はなぞりましょう。）

① 
$$\begin{array}{r} 0. \\ 3 \overline{) 1.5} \end{array}$$

② 
$$\begin{array}{r} \\ 3 \overline{) 1.2} \end{array}$$

③ 
$$\begin{array}{r} \\ 8 \overline{) 3.2} \end{array}$$

④  $3.6 \div 4$

$$\begin{array}{r} \\ \overline{) } \end{array}$$

⑤  $4.9 \div 7$

$$\begin{array}{r} \\ \overline{) } \end{array}$$

⑥  $2.4 \div 6$

$$\begin{array}{r} \\ \overline{) } \end{array}$$

⑦  $5.6 \div 8$

$$\begin{array}{r} \\ \overline{) } \end{array}$$

⑧  $4.8 \div 8$

$$\begin{array}{r} \\ \overline{) } \end{array}$$

⑨  $2.8 \div 7$

$$\begin{array}{r} \\ \overline{) } \end{array}$$

⑩  $4.5 \div 5$

$$\begin{array}{r} \\ \overline{) } \end{array}$$

⑪  $1.2 \div 2$

$$\begin{array}{r} \\ \overline{) } \end{array}$$

⑫  $1.8 \div 2$

$$\begin{array}{r} \\ \overline{) } \end{array}$$



# 小数のわり算5

商が小数第一位までの真小数

4

日にち：            月            日

名まえ \_\_\_\_\_

・ 次の計算をしなさい。（うすい字はなぞりましょう。）

①

	0	
5	)	3.5

②

2	)	1.8

③

6	)	5.4

④  $2.4 \div 3$

	)	2.4

⑤  $3.6 \div 4$


⑥  $1.2 \div 6$


⑦  $4.5 \div 9$


⑧  $2.8 \div 4$


⑨  $5.6 \div 7$


⑩  $4.2 \div 6$


⑪  $8.1 \div 9$


⑫  $2.7 \div 9$




# 小数のわり算5

● 商が小数第一位までの真小数



日にち：            月            日

名まえ \_\_\_\_\_

・ 次の計算をしなさい。（うすい字はなぞりましょう。）

①

6	4.8	

②

7	6.3	

③

5	2.5	

④

5.4 ÷ 9

	5.4	

⑤

4.5 ÷ 9


⑥

2.4 ÷ 3


⑦

1.2 ÷ 3


⑧

3.5 ÷ 5


⑨

7.2 ÷ 8


⑩

5.6 ÷ 7


⑪

3.6 ÷ 4


⑫

2.4 ÷ 4




# 小数のわり算5

● 商が小数第一位までの真小数

6

日にち：            月            日

名まえ \_\_\_\_\_

・ 次の計算をしなさい。（うすい字はなぞりましょう。）

①

3	)	1.5

②

2	)	1.4

③

6	)	3.6

④

7.2 ÷ 9

	)	7.2

⑤

4.5 ÷ 5


⑥

5.4 ÷ 6


⑦

2.4 ÷ 4


⑧

1.6 ÷ 4


⑨

3.6 ÷ 4


⑩

1.8 ÷ 3


⑪

1.8 ÷ 2


⑫

2.1 ÷ 7




# 小数のわり算5

● 商が小数第一位までの真小数

7

日にち：            月            日

名まえ \_\_\_\_\_

・ 次の計算をなさい。

①

4	)	2.4

②

3	)	2.4

③

9	)	3.6

④

$3.2 \div 4$


⑤

$4.2 \div 7$


⑥

$2.7 \div 3$


⑦

$5.6 \div 7$


⑧

$1.2 \div 2$


⑨

$1.6 \div 8$


⑩

$2.5 \div 5$


⑪

$3.6 \div 6$


⑫

$2.8 \div 4$




# 小数のわり算5

● 商が小数第一位までの真小数



日にち：            月            日

名まえ \_\_\_\_\_

・ 次の計算をなさい。

①

3	)	2.4

②

4	)	2.8

③

8	)	4.8

④

$1.2 \div 6$


⑤

$2.7 \div 3$


⑥

$6.4 \div 8$


⑦

$2.4 \div 6$


⑧

$2.1 \div 3$


⑨

$4.5 \div 9$


⑩

$7.2 \div 9$


⑪

$4.2 \div 6$


⑫

$1.6 \div 4$






# 小数のわり算5

● 商が小数第一位までの真小数



日にち：            月            日

名まえ \_\_\_\_\_

・ 次の計算をなさい。

①

2	)	1.6

②

7	)	4.2

③

2	)	1.2

④

3.2 ÷ 4


⑤

4.5 ÷ 9


⑥

2.4 ÷ 4


⑦

6.3 ÷ 7


⑧

1.2 ÷ 3


⑨

2.4 ÷ 3


⑩

3.6 ÷ 9


⑪

1.5 ÷ 5


⑫

5.4 ÷ 9




# 小数のわり算5

● 商が小数第一位までの真小数



日にち：            月            日

名まえ \_\_\_\_\_

・ 次の計算をなさい。

①  $2.5 \div 5 =$

③  $2.7 \div 3 =$

②  $0.9 \div 3 =$

④  $4.5 \div 9 =$

⑤  $3.6 \div 9$


⑥  $2.7 \div 9$


⑦  $4.2 \div 7$


⑧  $5.6 \div 8$


⑨  $2.8 \div 4$


⑩  $4.8 \div 6$


⑪  $1.6 \div 2$


⑫  $7.2 \div 9$


⑬  $2.4 \div 4$




# 小数のわり算5

●商が小数第一位までの真小数



日にち：            月            日

名まえ \_\_\_\_\_

・ 次の計算をなさい。

①  $0.9 \div 9 =$

③  $4.8 \div 8 =$

②  $3.6 \div 6 =$

④  $1.6 \div 2 =$

⑤  $3.6 \div 9$


⑥  $6.3 \div 7$


⑦  $1.8 \div 2$


⑧  $7.2 \div 8$


⑨  $1.5 \div 3$


⑩  $5.4 \div 6$


⑪  $1.8 \div 3$


⑫  $6.4 \div 8$


⑬  $2.7 \div 9$




# 小数のわり算5

● 商が小数第一位までの真小数

12

日にち：            月            日

名まえ \_\_\_\_\_

・ 次の計算をなさい。

①  $1.2 \div 4 =$

③  $0.6 \div 3 =$

②  $5.4 \div 6 =$

④  $3.6 \div 6 =$

⑤  $1.8 \div 9$


⑥  $3.2 \div 4$


⑦  $1.5 \div 5$


⑧  $3.5 \div 7$


⑨  $1.2 \div 2$


⑩  $2.1 \div 3$


⑪  $4.5 \div 9$


⑫  $4.8 \div 6$


⑬  $2.8 \div 4$




# 小数のわり算5

● 商が小数第一位までの真小数

13

日にち：            月            日

名まえ \_\_\_\_\_

・ 次の計算をなさい。

①  $0.6 \div 3 =$

③  $4.2 \div 6 =$

②  $1.4 \div 7 =$

④  $0.8 \div 2 =$

⑤  $5.6 \div 7$


⑥  $2.1 \div 3$


⑦  $2.8 \div 7$


⑧  $2.4 \div 8$


⑨  $5.6 \div 7$


⑩  $3.2 \div 4$


⑪  $3.6 \div 9$


⑫  $1.6 \div 2$


⑬  $3.6 \div 6$




# 小数のわり算5

●商が小数第一位までの真小数

14

日にち：            月            日

名まえ \_\_\_\_\_

・ 次の計算をなさい。

①  $2.1 \div 3 =$

③  $5.6 \div 8 =$

②  $0.6 \div 3 =$

④  $1.6 \div 4 =$

⑤  $1.5 \div 5$


⑥  $1.2 \div 6$


⑦  $3.6 \div 9$


⑧  $4.2 \div 7$


⑨  $6.3 \div 7$


⑩  $2.4 \div 8$


⑪  $2.7 \div 3$


⑫  $3.6 \div 4$


⑬  $3.2 \div 8$




# 小数のわり算5

● 商が小数第一位までの真小数

15

目指せ90点!



名まえ \_\_\_\_\_

・ 次の計算をなさい。(①～④各5点 ⑤～⑫各10点)

①  $1.2 \div 3 =$

③  $0.8 \div 2 =$

②  $1.8 \div 2 =$

④  $1.2 \div 6 =$

⑤  $4.2 \div 7$

⑥  $2.1 \div 3$

⑦  $2.4 \div 8$


⑧  $3.5 \div 5$

⑨  $5.6 \div 7$

⑩  $1.8 \div 3$

⑪  $1.5 \div 3$

⑫  $4.5 \div 9$






# 小数のわり算5

●商が小数第一位までの真小数

16

目指せ90点!



名まえ \_\_\_\_\_

・ 次の計算をなさい。(①～④各5点 ⑤～⑫各10点)

①  $5.4 \div 9 =$

③  $6.3 \div 9 =$

②  $2.5 \div 5 =$

④  $0.8 \div 4 =$

⑤  $2.4 \div 3$

⑥  $2.7 \div 3$

⑦  $5.6 \div 8$


⑧  $1.4 \div 2$

⑨  $7.2 \div 9$

⑩  $1.2 \div 3$

⑪  $6.4 \div 8$

⑫  $8.1 \div 9$







# 小数のわり算5

● 商が小数第一位までの真小数



日にち：            月            日

名まえ \_\_\_\_\_

・ 次の計算をしなさい。（うすい字はなぞりましょう。）

①

	0	.	9	
7	)	6	.	3
		6	3	
				0

②

	0	.	9	
4	)	3	.	6
		3	6	
				0

③

	0	.	7	
6	)	4	.	2
		4	2	
				0

④  $6.4 \div 8$

	0	.	8	
8	)	6	.	4
		6	4	
				0

⑤  $1.6 \div 2$

	0	.	8	
2	)	1	.	6
		1	6	
				0

⑥  $2.7 \div 9$

	0	.	3	
9	)	2	.	7
		2	7	
				0

⑦  $2.4 \div 3$

	0	.	8	
3	)	2	.	4
		2	4	
				0

⑧  $3.5 \div 7$

	0	.	5	
7	)	3	.	5
		3	5	
				0

⑨  $5.4 \div 6$

	0	.	9	
6	)	5	.	4
		5	4	
				0

⑩  $1.8 \div 2$

	0	.	9	
2	)	1	.	8
		1	8	
				0

⑪  $1.2 \div 3$

	0	.	4	
3	)	1	.	2
		1	2	
				0

⑫  $4.5 \div 5$

	0	.	9	
5	)	4	.	5
		4	5	
				0



# 小数のわり算5

商が小数第一位までの真小数

2

日にち： 月 日

名まえ \_\_\_\_\_

・ 次の計算をしなさい。（うすい字はなぞりましょう。）

①

	0	.	5	
9	)	4	.	5
		4	5	
				0

②

	0	.	8	
3	)	2	.	4
		2	4	
				0

③

	0	.	2	
8	)	1	.	6
		1	6	
				0

④  $7.2 \div 9$

	0	.	8	
9	)	7	.	2
		7	2	
				0

⑤  $2.1 \div 3$

	0	.	7	
3	)	2	.	1
		2	1	
				0

⑥  $5.4 \div 9$

	0	.	6	
9	)	5	.	4
		5	4	
				0

⑦  $5.6 \div 7$

	0	.	8	
7	)	5	.	6
		5	6	
				0

⑧  $2.4 \div 4$

	0	.	6	
4	)	2	.	4
		2	4	
				0

⑨  $1.8 \div 2$

	0	.	9	
2	)	1	.	8
		1	8	
				0

⑩  $2.8 \div 4$

	0	.	7	
4	)	2	.	8
		2	8	
				0

⑪  $1.4 \div 2$

	0	.	7	
2	)	1	.	4
		1	4	
				0

⑫  $3.6 \div 4$

	0	.	9	
4	)	3	.	6
		3	6	
				0



# 小数のわり算5

● 商が小数第一位までの真小数

3

日にち：            月            日

名まえ \_\_\_\_\_

・ 次の計算をしなさい。（うすい字はなぞりましょう。）

①

	0	.	5	
3	)	1	.	5
		1	5	
				0

②

	0	.	4	
3	)	1	.	2
		1	2	
				0

③

	0	.	4	
8	)	3	.	2
		3	2	
				0

④  $3.6 \div 4$

	0	.	9	
4	)	3	.	6
		3	6	
				0

⑤  $4.9 \div 7$

	0	.	7	
7	)	4	.	9
		4	9	
				0

⑥  $2.4 \div 6$

	0	.	4	
6	)	2	.	4
		2	4	
				0

⑦  $5.6 \div 8$

	0	.	7	
8	)	5	.	6
		5	6	
				0

⑧  $4.8 \div 8$

	0	.	6	
8	)	4	.	8
		4	8	
				0

⑨  $2.8 \div 7$

	0	.	4	
7	)	2	.	8
		2	8	
				0

⑩  $4.5 \div 5$

	0	.	9	
5	)	4	.	5
		4	5	
				0

⑪  $1.2 \div 2$

	0	.	6	
2	)	1	.	2
		1	2	
				0

⑫  $1.8 \div 2$

	0	.	9	
2	)	1	.	8
		1	8	
				0



# 小数のわり算5

商が小数第一位までの真小数

4

日にち： 月 日

名まえ \_\_\_\_\_

・ 次の計算をしなさい。（うすい字はなぞりましょう。）

①

	0	.	7	
5	)	3	.	5
		3	5	
				0

②

	0	.	9	
2	)	1	.	8
		1	8	
				0

③

	0	.	9	
6	)	5	.	4
		5	4	
				0

④  $2.4 \div 3$

	0	.	8	
3	)	2	.	4
		2	4	
				0

⑤  $3.6 \div 4$

	0	.	9	
4	)	3	.	6
		3	6	
				0

⑥  $1.2 \div 6$

	0	.	2	
6	)	1	.	2
		1	2	
				0

⑦  $4.5 \div 9$

	0	.	5	
9	)	4	.	5
		4	5	
				0

⑧  $2.8 \div 4$

	0	.	7	
4	)	2	.	8
		2	8	
				0

⑨  $5.6 \div 7$

	0	.	8	
7	)	5	.	6
		5	6	
				0

⑩  $4.2 \div 6$

	0	.	7	
6	)	4	.	2
		4	2	
				0

⑪  $8.1 \div 9$

	0	.	9	
9	)	8	.	1
		8	1	
				0

⑫  $2.7 \div 9$

	0	.	3	
9	)	2	.	7
		2	7	
				0



# 小数のわり算5

● 商が小数第一位までの真小数



日にち：            月            日

名まえ \_\_\_\_\_

・ 次の計算をしなさい。（うすい字はなぞりましょう。）

①

	0	.	8	
6	)	4	.	8
		4	8	
				0

②

	0	.	9	
7	)	6	.	3
		6	3	
				0

③

	0	.	5	
5	)	2	.	5
		2	5	
				0

④  $5.4 \div 9$

	0	.	6	
9	)	5	.	4
		5	4	
				0

⑤  $4.5 \div 9$

	0	.	5	
9	)	4	.	5
		4	5	
				0

⑥  $2.4 \div 3$

	0	.	8	
3	)	2	.	4
		2	4	
				0

⑦  $1.2 \div 3$

	0	.	4	
3	)	1	.	2
		1	2	
				0

⑧  $3.5 \div 5$

	0	.	7	
5	)	3	.	5
		3	5	
				0

⑨  $7.2 \div 8$

	0	.	9	
8	)	7	.	2
		7	2	
				0

⑩  $5.6 \div 7$

	0	.	8	
7	)	5	.	6
		5	6	
				0

⑪  $3.6 \div 4$

	0	.	9	
4	)	3	.	6
		3	6	
				0

⑫  $2.4 \div 4$

	0	.	6	
4	)	2	.	4
		2	4	
				0



# 小数のわり算5

● 商が小数第一位までの真小数

6

日にち：            月            日

名まえ \_\_\_\_\_

・ 次の計算をしなさい。（うすい字はなぞりましょう。）

①

	0	.	5	
3	)	1	.	5
		1	5	
				0

②

	0	.	7	
2	)	1	.	4
		1	4	
				0

③

	0	.	6	
6	)	3	.	6
		3	6	
				0

④  $7.2 \div 9$

	0	.	8	
9	)	7	.	2
		7	2	
				0

⑤  $4.5 \div 5$

	0	.	9	
5	)	4	.	5
		4	5	
				0

⑥  $5.4 \div 6$

	0	.	9	
6	)	5	.	4
		5	4	
				0

⑦  $2.4 \div 4$

	0	.	6	
4	)	2	.	4
		2	4	
				0

⑧  $1.6 \div 4$

	0	.	4	
4	)	1	.	6
		1	6	
				0

⑨  $3.6 \div 4$

	0	.	9	
4	)	3	.	6
		3	6	
				0

⑩  $1.8 \div 3$

	0	.	6	
3	)	1	.	8
		1	8	
				0

⑪  $1.8 \div 2$

	0	.	9	
2	)	1	.	8
		1	8	
				0

⑫  $2.1 \div 7$

	0	.	3	
7	)	2	.	1
		2	1	
				0



# 小数のわり算5

商が小数第一位までの真小数

7

日にち： 月 日

名まえ \_\_\_\_\_

・ 次の計算をなさい。

①

	0.6
4	)2.4
	24
	0

②

	0.8
3	)2.4
	24
	0

③

	0.4
9	)3.6
	36
	0

④  $3.2 \div 4$

	0.8
4	)3.2
	32
	0

⑤  $4.2 \div 7$

	0.6
7	)4.2
	42
	0

⑥  $2.7 \div 3$

	0.9
3	)2.7
	27
	0

⑦  $5.6 \div 7$

	0.8
7	)5.6
	56
	0

⑧  $1.2 \div 2$

	0.6
2	)1.2
	12
	0

⑨  $1.6 \div 8$

	0.2
8	)1.6
	16
	0

⑩  $2.5 \div 5$

	0.5
5	)2.5
	25
	0

⑪  $3.6 \div 6$

	0.6
6	)3.6
	36
	0

⑫  $2.8 \div 4$

	0.7
4	)2.8
	28
	0



# 小数のわり算5

● 商が小数第一位までの真小数



日にち：            月            日

名まえ \_\_\_\_\_

・ 次の計算をしなさい。

①

		0.8
3	)	2.4
		24
		0

②

		0.7
4	)	2.8
		28
		0

③

		0.6
8	)	4.8
		48
		0

④  $1.2 \div 6$

		0.2
6	)	1.2
		12
		0

⑤  $2.7 \div 3$

		0.9
3	)	2.7
		27
		0

⑥  $6.4 \div 8$

		0.8
8	)	6.4
		64
		0

⑦  $2.4 \div 6$

		0.4
6	)	2.4
		24
		0

⑧  $2.1 \div 3$

		0.7
3	)	2.1
		21
		0

⑨  $4.5 \div 9$

		0.5
9	)	4.5
		45
		0

⑩  $7.2 \div 9$

		0.8
9	)	7.2
		72
		0

⑪  $4.2 \div 6$

		0.7
6	)	4.2
		42
		0

⑫  $1.6 \div 4$

		0.4
4	)	1.6
		16
		0





# 小数のわり算5

● 商が小数第一位までの真小数



日にち：            月            日

名まえ \_\_\_\_\_

・ 次の計算をしなさい。

①

		0.8
2	)	1.6
		16
		0

②

		0.6
7	)	4.2
		42
		0

③

		0.6
2	)	1.2
		12
		0

④  $3.2 \div 4$

		0.8
4	)	3.2
		32
		0

⑤  $4.5 \div 9$

		0.5
9	)	4.5
		45
		0

⑥  $2.4 \div 4$

		0.6
4	)	2.4
		24
		0

⑦  $6.3 \div 7$

		0.9
7	)	6.3
		63
		0

⑧  $1.2 \div 3$

		0.4
3	)	1.2
		12
		0

⑨  $2.4 \div 3$

		0.8
3	)	2.4
		24
		0

⑩  $3.6 \div 9$

		0.4
9	)	3.6
		36
		0

⑪  $1.5 \div 5$

		0.3
5	)	1.5
		15
		0

⑫  $5.4 \div 9$

		0.6
9	)	5.4
		54
		0



# 小数のわり算5

● 商が小数第一位までの真小数



日にち：            月            日

名まえ \_\_\_\_\_

・ 次の計算をなさい。

①  $2.5 \div 5 = 0.5$

③  $2.7 \div 3 = 0.9$

②  $0.9 \div 3 = 0.3$

④  $4.5 \div 9 = 0.5$

⑤  $3.6 \div 9$

	0.4
9	)3.6
	36
	0

⑥  $2.7 \div 9$

	0.3
9	)2.7
	27
	0

⑦  $4.2 \div 7$

	0.6
7	)4.2
	42
	0

⑧  $5.6 \div 8$

	0.7
8	)5.6
	56
	0

⑨  $2.8 \div 4$

	0.7
4	)2.8
	28
	0

⑩  $4.8 \div 6$

	0.8
6	)4.8
	48
	0

⑪  $1.6 \div 2$

	0.8
2	)1.6
	16
	0

⑫  $7.2 \div 9$

	0.8
9	)7.2
	72
	0

⑬  $2.4 \div 4$

	0.6
4	)2.4
	24
	0



# 小数のわり算5

● 商が小数第一位までの真小数



日にち：            月            日

名まえ \_\_\_\_\_

・ 次の計算をしなさい。

①  $0.9 \div 9 = 0.1$

③  $4.8 \div 8 = 0.6$

②  $3.6 \div 6 = 0.6$

④  $1.6 \div 2 = 0.8$

⑤  $3.6 \div 9$

	0	.	4	
9	)	3	.	6
		3	6	
			0	

⑥  $6.3 \div 7$

	0	.	9	
7	)	6	.	3
		6	3	
			0	

⑦  $1.8 \div 2$

	0	.	9	
2	)	1	.	8
		1	8	
			0	

⑧  $7.2 \div 8$

	0	.	9	
8	)	7	.	2
		7	2	
			0	

⑨  $1.5 \div 3$

	0	.	5	
3	)	1	.	5
		1	5	
			0	

⑩  $5.4 \div 6$

	0	.	9	
6	)	5	.	4
		5	4	
			0	

⑪  $1.8 \div 3$

	0	.	6	
3	)	1	.	8
		1	8	
			0	

⑫  $6.4 \div 8$

	0	.	8	
8	)	6	.	4
		6	4	
			0	

⑬  $2.7 \div 9$

	0	.	3	
9	)	2	.	7
		2	7	
			0	





# 小数のわり算5

● 商が小数第一位までの真小数

12

日にち：            月            日

名まえ \_\_\_\_\_

・ 次の計算をなさい。

①  $1.2 \div 4 = 0.3$

③  $0.6 \div 3 = 0.2$

②  $5.4 \div 6 = 0.9$

④  $3.6 \div 6 = 0.6$

⑤  $1.8 \div 9$

	0.	2
9	)	1.8
		18
		0

⑥  $3.2 \div 4$

	0.	8
4	)	3.2
		32
		0

⑦  $1.5 \div 5$

	0.	3
5	)	1.5
		15
		0

⑧  $3.5 \div 7$

	0.	5
7	)	3.5
		35
		0

⑨  $1.2 \div 2$

	0.	6
2	)	1.2
		12
		0

⑩  $2.1 \div 3$

	0.	7
3	)	2.1
		21
		0

⑪  $4.5 \div 9$

	0.	5
9	)	4.5
		45
		0

⑫  $4.8 \div 6$

	0.	8
6	)	4.8
		48
		0

⑬  $2.8 \div 4$

	0.	7
4	)	2.8
		28
		0





# 小数のわり算5

● 商が小数第一位までの真小数

13

日にち：            月            日

名まえ \_\_\_\_\_

・ 次の計算をなさい。

①  $0.6 \div 3 = 0.2$

③  $4.2 \div 6 = 0.7$

②  $1.4 \div 7 = 0.2$

④  $0.8 \div 2 = 0.4$

⑤  $5.6 \div 7$

	0	.	8	
7	)	5	.	6
		5	6	
				0

⑥  $2.1 \div 3$

	0	.	7	
3	)	2	.	1
		2	1	
				0

⑦  $2.8 \div 7$

	0	.	4	
7	)	2	.	8
		2	8	
				0

⑧  $2.4 \div 8$

	0	.	3	
8	)	2	.	4
		2	4	
				0

⑨  $5.6 \div 7$

	0	.	8	
7	)	5	.	6
		5	6	
				0

⑩  $3.2 \div 4$

	0	.	8	
4	)	3	.	2
		3	2	
				0

⑪  $3.6 \div 9$

	0	.	4	
9	)	3	.	6
		3	6	
				0

⑫  $1.6 \div 2$

	0	.	8	
2	)	1	.	6
		1	6	
				0

⑬  $3.6 \div 6$

	0	.	6	
6	)	3	.	6
		3	6	
				0



# 小数のわり算5

● 商が小数第一位までの真小数

14

日にち：            月            日

名まえ \_\_\_\_\_

・ 次の計算をしなさい。

①  $2.1 \div 3 = 0.7$

③  $5.6 \div 8 = 0.7$

②  $0.6 \div 3 = 0.2$

④  $1.6 \div 4 = 0.4$

⑤  $1.5 \div 5$

	0.	3
5	)	1.5
		15
		0

⑥  $1.2 \div 6$

	0.	2
6	)	1.2
		12
		0

⑦  $3.6 \div 9$

	0.	4
9	)	3.6
		36
		0

⑧  $4.2 \div 7$

	0.	6
7	)	4.2
		42
		0

⑨  $6.3 \div 7$

	0.	9
7	)	6.3
		63
		0

⑩  $2.4 \div 8$

	0.	3
8	)	2.4
		24
		0

⑪  $2.7 \div 3$

	0.	9
3	)	2.7
		27
		0

⑫  $3.6 \div 4$

	0.	9
4	)	3.6
		36
		0

⑬  $3.2 \div 8$

	0.	4
8	)	3.2
		32
		0






# 小数のわり算5

● 商が小数第一位までの真小数

# 15

目指せ90点!



名まえ \_\_\_\_\_

・ 次の計算をなさい。(①～④各5点 ⑤～⑫各10点)

①  $1.2 \div 3 = 0.4$

③  $0.8 \div 2 = 0.4$

②  $1.8 \div 2 = 0.9$

④  $1.2 \div 6 = 0.2$

⑤  $4.2 \div 7$

$$\begin{array}{r} 0.6 \\ 7 \overline{)4.2} \\ \underline{42} \\ 0 \end{array}$$

⑥  $2.1 \div 3$

$$\begin{array}{r} 0.7 \\ 3 \overline{)2.1} \\ \underline{21} \\ 0 \end{array}$$

⑦  $2.4 \div 8$

$$\begin{array}{r} 0.3 \\ 8 \overline{)2.4} \\ \underline{24} \\ 0 \end{array}$$

⑧  $3.5 \div 5$

$$\begin{array}{r} 0.7 \\ 5 \overline{)3.5} \\ \underline{35} \\ 0 \end{array}$$

⑨  $5.6 \div 7$

$$\begin{array}{r} 0.8 \\ 7 \overline{)5.6} \\ \underline{56} \\ 0 \end{array}$$

⑩  $1.8 \div 3$


$$\begin{array}{r} 0.6 \\ 3 \overline{)1.8} \\ \underline{18} \\ 0 \end{array}$$

⑪  $1.5 \div 3$

$$\begin{array}{r} 0.5 \\ 3 \overline{)1.5} \\ \underline{15} \\ 0 \end{array}$$

⑫  $4.5 \div 9$

$$\begin{array}{r} 0.5 \\ 9 \overline{)4.5} \\ \underline{45} \\ 0 \end{array}$$





# 小数のわり算5

● 商が小数第一位までの真小数

16

目指せ90点!



名まえ \_\_\_\_\_

・ 次の計算をしなさい。(①～④各5点 ⑤～⑫各10点)

①  $5.4 \div 9 = 0.6$

③  $6.3 \div 9 = 0.7$

②  $2.5 \div 5 = 0.5$

④  $0.8 \div 4 = 0.2$

⑤  $2.4 \div 3$

$$\begin{array}{r} 0.8 \\ 3 \overline{)2.4} \\ \underline{24} \\ 0 \end{array}$$

⑥  $2.7 \div 3$

$$\begin{array}{r} 0.9 \\ 3 \overline{)2.7} \\ \underline{27} \\ 0 \end{array}$$

⑦  $5.6 \div 8$

$$\begin{array}{r} 0.7 \\ 8 \overline{)5.6} \\ \underline{56} \\ 0 \end{array}$$

⑧  $1.4 \div 2$

$$\begin{array}{r} 0.7 \\ 2 \overline{)1.4} \\ \underline{14} \\ 0 \end{array}$$

⑨  $7.2 \div 9$

$$\begin{array}{r} 0.8 \\ 9 \overline{)7.2} \\ \underline{72} \\ 0 \end{array}$$

⑩  $1.2 \div 3$

$$\begin{array}{r} 0.4 \\ 3 \overline{)1.2} \\ \underline{12} \\ 0 \end{array}$$

⑪  $6.4 \div 8$

$$\begin{array}{r} 0.8 \\ 8 \overline{)6.4} \\ \underline{64} \\ 0 \end{array}$$

⑫  $8.1 \div 9$

$$\begin{array}{r} 0.9 \\ 9 \overline{)8.1} \\ \underline{81} \\ 0 \end{array}$$

