



# 小数のわり算 14

● 2けたの整数で割って  
あまりも求める



日にち：            月            日

名まえ \_\_\_\_\_

・ 次の筆算をしましょう。商は一の位まで求め、あまりもだしましょう。  
(うすい字はなぞりましょう。)

①

			3	
1	3	)	4	0.2
			3	9
			1	2

②

			4	
2	1	)	8	6.3
			8	4

③

2	5	)	5	4.9

④  $68.6 \div 34$

3	4	)	6	8.6

⑤  $85.7 \div 17$

1	7	)	8	5.7

⑥  $89.9 \div 29$

		)		

⑦  $78.4 \div 39$


⑧  $99.4 \div 14$


⑨  $72.7 \div 24$

2	4	)	7	2.7





# 小数のわり算 14

● 2けたの整数で割って  
あまりも求める



日にち：            月            日

名まえ \_\_\_\_\_

・ 次の筆算をしましょう。商は一の位まで求め、あまりもだしましょう。  
(うすい字はなぞりましょう。)

①

			4	
1	8	)	7	3.2
			7	2

②

			2	
1	5	)	3	8.6

③

3	2	)	6	9.2

④  $90.3 \div 28$

2	8	)	9	0.3

⑤  $85.4 \div 27$

		)		

⑥  $78.7 \div 18$

		)		

⑦  $75.9 \div 25$

		)		

⑧  $86.8 \div 14$

		)		

⑨  $95.3 \div 19$

		)	9	5.3



# 小数のわり算 14

● 2けたの整数で割って  
あまりも求める



日にち：            月            日

名まえ \_\_\_\_\_

・ 次の筆算をしましょう。商は一の位まで求め、あまりもだしましょう。  
(うすい字はなぞりましょう。)

①

			7	
1	3	)	9	3.4

②

			3	
2	4	)	7	6.1

③

4	2	)	8	6.5

④  $64.4 \div 16$

		)	6	4.4

⑤  $78.7 \div 37$

		)		

⑥  $62.4 \div 29$

		)		

⑦  $46.7 \div 23$

		)		

⑧  $81.5 \div 26$

		)		

⑨  $87.4 \div 21$

		)		





# 小数のわり算 14

● 2けたの整数で割って  
あまりも求める



日にち：            月            日

名まえ \_\_\_\_\_

・ 次の筆算をしましょう。商は一の位まで求め、あまりもだしましょう。  
(うすい字はなぞりましょう。)

①

4	9	)	9	9	.	2

②

1	8	)	7	3	.	9

③

2	8	)	8	4	.	8

④  $93.6 \div 23$

		)				

⑤  $76.8 \div 15$

		)				

⑥  $54.3 \div 18$

		)				

⑦  $95.9 \div 23$

		)				

⑧  $72.4 \div 36$

		)				

⑨  $72.5 \div 17$

		)				



# 小数のわり算 14

● 2けたの整数で割って  
あまりも求める



日にち：            月            日

名まえ \_\_\_\_\_

・ 次の筆算をしましょう。商は一の位まで求め、あまりもだしましょう。  
(うすい字はなぞりましょう。)

①

			2	
3	8	)	7	8.8

②

3	2	)	9	6.4

③

3	5	)	7	6.5

④  $93.6 \div 29$

2	9	)	9	3.6

⑤  $83.8 \div 26$

		)		

⑥  $91.9 \div 13$


⑦  $64.3 \div 16$


⑧  $96.4 \div 12$


⑨  $92.9 \div 23$

		)		



# 小数のわり算 14

◎ 2けたの整数で割って  
あまりも求める



日にち：            月            日

名まえ

---

・ 次の筆算をしましょう。商は一の位まで求め、あまりもだしましょう。  
(うすい字はなぞりましょう。)

①


$$\begin{array}{r} 34 \overline{)69.2} \\ \hline \end{array}$$

②


$$\begin{array}{r} 29 \overline{)87.5} \\ \hline \end{array}$$

③


$$\begin{array}{r} 31 \overline{)65.2} \\ \hline \end{array}$$

④

$$42.2 \div 19$$


$$\begin{array}{r} \phantom{0} \overline{)42.2} \\ \hline \end{array}$$

⑤

$$70.9 \div 17$$


$$\begin{array}{r} \phantom{0} \overline{) \phantom{00} \phantom{.0} \phantom{0}} \\ \hline \end{array}$$

⑥

$$48.8 \div 16$$


$$\begin{array}{r} \phantom{0} \overline{) \phantom{00} \phantom{.0} \phantom{0}} \\ \hline \end{array}$$

⑦

$$77.9 \div 38$$


$$\begin{array}{r} \phantom{0} \overline{) \phantom{00} \phantom{.0} \phantom{0}} \\ \hline \end{array}$$

⑧

$$75.2 \div 37$$


$$\begin{array}{r} \phantom{0} \overline{) \phantom{00} \phantom{.0} \phantom{0}} \\ \hline \end{array}$$

⑨

$$75.4 \div 15$$


$$\begin{array}{r} \phantom{0} \overline{) \phantom{00} \phantom{.0} \phantom{0}} \\ \hline \end{array}$$



# 小数のわり算 14

● 2けたの整数で割って  
あまりも求める



日にち：            月            日

名まえ \_\_\_\_\_

・ 次の筆算をしましょう。商は一の位まで求め、あまりもだしましょう。  
(うすい字はなぞりましょう。)

①

1	7	)	5	7.2

②

2	5	)	7	5.9

③

1	4	)	6	1.1

④  $65.3 \div 13$

		)	6	5.3

⑤  $61.5 \div 29$


⑥  $72.2 \div 16$


⑦  $91.4 \div 29$


⑧  $85.7 \div 28$


⑨  $78.4 \div 26$




# 小数のわり算 14

◎ 2けたの整数で割って  
あまりも求める



日にち：            月            日

名まえ

---

・ 次の筆算をしましょう。商は一の位まで求め、あまりもだしましょう。

①

4	8	)	9	7.1

②

2	9	)	9	1.5

③

3	2	)	9	6.9

④  $76.2 \div 36$


⑤  $78.3 \div 26$


⑥  $57.5 \div 27$


⑦  $74.4 \div 18$


⑧  $72.4 \div 24$


⑨  $64.3 \div 16$






# 小数のわり算 14

◎ 2けたの整数で割って  
あまりも求める



日にち：            月            日

名まえ

---

・ 次の筆算をしましょう。商は一の位まで求め、あまりもだしましょう。

①

3	7	)	7	8.6

②

3	2	)	6	4.4

③

2	9	)	5	9.6

④  $99.4 \div 49$


⑤  $72.9 \div 36$


⑥  $78.6 \div 13$


⑦  $79.3 \div 38$


⑧  $78.4 \div 26$


⑨  $79.3 \div 39$




# 小数のわり算 14

● 2けたの整数で割って  
あまりも求める



日にち：            月            日

名まえ

・ 次の筆算をしましょう。商は一の位まで求め、あまりもだしましょう。

①  $58.7 \div 18$


②  $78.9 \div 39$


③  $78.8 \div 26$


④  $37.3 \div 4$


⑤  $24.4 \div 6$


⑥  $18.8 \div 8$


⑦  $70.5 \div 16$


⑧  $65.5 \div 13$


⑨  $53.6 \div 23$




# 小数のわり算 14

● 2けたの整数で割って  
あまりも求める



日にち：            月            日

名まえ \_\_\_\_\_

・ 次の筆算をしましょう。商は一の位まで求め、あまりもだしましょう。

①  $77.2 \div 37$


②  $96.3 \div 24$


③  $82.6 \div 39$


④  $78.5 \div 13$


⑤  $59.3 \div 29$


⑥  $72.2 \div 18$


⑦  $26.2 \div 8$


⑧  $18.3 \div 6$


⑨  $19.3 \div 2$




# 小数のわり算 14

● 2けたの整数で割って  
あまりも求める



日にち：            月            日

名まえ \_\_\_\_\_

・ 次の筆算をしましょう。商は一の位まで求め、あまりもだしましょう。

①  $78.3 \div 26$


②  $91.8 \div 44$


③  $79.7 \div 38$


④  $24.1 \div 7$


⑤  $45.1 \div 5$


⑥  $12.2 \div 3$


⑦  $94.3 \div 46$


⑧  $68.4 \div 34$


⑨  $78.8 \div 19$




# 小数のわり算 14

● 2けたの整数で割って  
あまりも求める



日にち：            月            日

名まえ \_\_\_\_\_

・ 次の筆算をしましょう。商は一の位まで求め、あまりもだしましょう。

①  $66.7 \div 33$


②  $69.2 \div 22$


③  $68.8 \div 32$


④  $56.7 \div 28$


⑤  $82.9 \div 26$


⑥  $62.2 \div 31$


⑦  $28.1 \div 4$


⑧  $24.2 \div 3$


⑨  $16.2 \div 6$




## 小数のわり算 14

● 2けたの整数で割って  
あまりも求める



日にち：            月            日

名まえ

---

・ 次の筆算をしましょう。商は一の位まで求め、あまりもだしましょう。

①  $98.8 \div 48$


②  $96.4 \div 32$


③  $75.4 \div 25$


④  $24.2 \div 4$


⑤  $40.4 \div 9$


⑥  $21.3 \div 7$


⑦  $48.5 \div 22$


⑧  $84.9 \div 42$


⑨  $76.3 \div 19$




# 小数のわり算 14

◎ 2けたの整数で割って  
あまりも求める

15

目指せ80点!



名まえ

・次の筆算をしましょう。商は一の位まで求め、あまりもだしましょう。

(各20点)


①  $79.9 \div 18$


②  $84.3 \div 28$


③  $35.2 \div 6$


④  $77.6 \div 34$


⑤  $45.4 \div 9$



# 小数のわり算 14

◎ 2けたの整数で割って  
あまりも求める

16

目指せ80点!



名まえ

・次の筆算をしましょう。商は一の位まで求め、あまりもだしましょう。

(各20点)

①  $14.2 \div 7$


②  $69.9 \div 23$



③  $81.2 \div 39$


④  $35.1 \div 4$

--	--	--	--

⑤  $96.4 \div 16$

--	--	--	--







# 小数のわり算 14

● 2けたの整数で割って  
あまりも求める



日にち：            月            日

名まえ \_\_\_\_\_

・ 次の筆算をしましょう。商は一の位まで求め、あまりもだしましょう。  
(うすい字はなぞりましょう。)

①

			3	
1	3	)	4	0.2
			3	9
			<hr/>	
			1	2

②

			4	
2	1	)	8	6.3
			8	4
			<hr/>	
			2	3

③

			2	
2	5	)	5	4.9
			5	0
			<hr/>	
			4	9

④  $68.6 \div 34$

			2	
3	4	)	6	8.6
			6	8
			<hr/>	
			0	6

⑤  $85.7 \div 17$

			5	
1	7	)	8	5.7
			8	5
			<hr/>	
			0	7

⑥  $89.9 \div 29$

			3	
2	9	)	8	9.9
			8	7
			<hr/>	
			2	9

⑦  $78.4 \div 39$

			2	
3	9	)	7	8.4
			7	8
			<hr/>	
			0	4

⑧  $99.4 \div 14$

			7	
1	4	)	9	9.4
			9	8
			<hr/>	
			1	4

⑨  $72.7 \div 24$

			3	
2	4	)	7	2.7
			7	2
			<hr/>	
			0	7



# 小数のわり算 14

● 2けたの整数で割って  
あまりも求める



日にち：            月            日

名まえ \_\_\_\_\_

・ 次の筆算をしましょう。商は一の位まで求め、あまりもだしましょう。  
(うすい字はなぞりましょう。)

①

			4	
1	8	)	7	3.2
			7	2
			<hr/>	
			1	2

②

			2	
1	5	)	3	8.6
			3	0
			<hr/>	
			8	6

③

			2	
3	2	)	6	9.2
			6	4
			<hr/>	
			5	2

④  $90.3 \div 28$

			3	
2	8	)	9	0.3
			8	4
			<hr/>	
			6	3

⑤  $85.4 \div 27$

			3	
2	7	)	8	5.4
			8	1
			<hr/>	
			4	4

⑥  $78.7 \div 18$

			4	
1	8	)	7	8.7
			7	2
			<hr/>	
			6	7

⑦  $75.9 \div 25$

			3	
2	5	)	7	5.9
			7	5
			<hr/>	
			0	9

⑧  $86.8 \div 14$

			6	
1	4	)	8	6.8
			8	4
			<hr/>	
			2	8

⑨  $95.3 \div 19$

			5	
1	9	)	9	5.3
			9	5
			<hr/>	
			0	3



# 小数のわり算 14

● 2けたの整数で割って  
あまりも求める



日にち：            月            日

名まえ \_\_\_\_\_

・ 次の筆算をしましょう。商は一の位まで求め、あまりもだしましょう。  
(うすい字はなぞりましょう。)

①

			7	
1	3	)	9	3.4
			9	1
			<hr/>	
			2	4

②

			3	
2	4	)	7	6.1
			7	2
			<hr/>	
			4	1

③

			2	
4	2	)	8	6.5
			8	4
			<hr/>	
			2	5

④  $64.4 \div 16$

			4	
1	6	)	6	4.4
			6	4
			<hr/>	
			0	4

⑤  $78.7 \div 37$

			2	
3	7	)	7	8.7
			7	4
			<hr/>	
			4	7

⑥  $62.4 \div 29$

			2	
2	9	)	6	2.4
			5	8
			<hr/>	
			4	4

⑦  $46.7 \div 23$

			2	
2	3	)	4	6.7
			4	6
			<hr/>	
			0	7

⑧  $81.5 \div 26$

			3	
2	6	)	8	1.5
			7	8
			<hr/>	
			3	5

⑨  $87.4 \div 21$

			4	
2	1	)	8	7.4
			8	4
			<hr/>	
			3	4



# 小数のわり算 14

● 2けたの整数で割って  
あまりも求める



日にち：            月            日

名まえ \_\_\_\_\_

・ 次の筆算をしましょう。商は一の位まで求め、あまりもだしましょう。  
(うすい字はなぞりましょう。)

①

			2	
4	9	)	9	9.2
			9	8
			<hr/>	
			1	2

②

			4	
1	8	)	7	3.9
			7	2
			<hr/>	
			1	9

③

			3	
2	8	)	8	4.8
			8	4
			<hr/>	
			0	8

④  $93.6 \div 23$

			4	
2	3	)	9	3.6
			9	2
			<hr/>	
			1	6

⑤  $76.8 \div 15$

			5	
1	5	)	7	6.8
			7	5
			<hr/>	
			1	8

⑥  $54.3 \div 18$

			3	
1	8	)	5	4.3
			5	4
			<hr/>	
			0	3

⑦  $95.9 \div 23$

			4	
2	3	)	9	5.9
			9	2
			<hr/>	
			3	9

⑧  $72.4 \div 36$

			2	
3	6	)	7	2.4
			7	2
			<hr/>	
			0	4

⑨  $72.5 \div 17$

			4	
1	7	)	7	2.5
			6	8
			<hr/>	
			4	5



# 小数のわり算 14

◎ 2けたの整数で割って  
あまりも求める



日にち：            月            日

名まえ

・ 次の筆算をしましょう。商は一の位まで求め、あまりもだしましょう。  
(うすい字はなぞりましょう。)

①

			2	
3	8	)	7	8.8
			7	6
			<hr/>	
				2
				8

②

			3	
3	2	)	9	6.4
			9	6
			<hr/>	
				0
				4

③

			2	
3	5	)	7	6.5
			7	0
			<hr/>	
				6
				5

④  $93.6 \div 29$

			3	
2	9	)	9	3.6
			8	7
			<hr/>	
				6
				6

⑤  $83.8 \div 26$

			3	
2	6	)	8	3.8
			7	8
			<hr/>	
				5
				8

⑥  $91.9 \div 13$

			7	
1	3	)	9	1.9
			9	1
			<hr/>	
				0
				9

⑦  $64.3 \div 16$

			4	
1	6	)	6	4.3
			6	4
			<hr/>	
				0
				3

⑧  $96.4 \div 12$

			8	
1	2	)	9	6.4
			9	6
			<hr/>	
				0
				4

⑨  $92.9 \div 23$

			4	
2	3	)	9	2.9
			9	2
			<hr/>	
				0
				9



# 小数のわり算 14

◎ 2けたの整数で割って  
あまりも求める



日にち：            月            日

名まえ

・ 次の筆算をしましょう。商は一の位まで求め、あまりもだしましょう。  
(うすい字はなぞりましょう。)

①

			2	
3	4	)	6	9.2
			6	8
			<hr/>	
			1	2

②

			3	
2	9	)	8	7.5
			8	7
			<hr/>	
			0	5

③

			2	
3	1	)	6	5.2
			6	2
			<hr/>	
			3	2

④  $42.2 \div 19$

			2	
1	9	)	4	2.2
			3	8
			<hr/>	
			4	2

⑤  $70.9 \div 17$

			4	
1	7	)	7	0.9
			6	8
			<hr/>	
			2	9

⑥  $48.8 \div 16$

			3	
1	6	)	4	8.8
			4	8
			<hr/>	
			0	8

⑦  $77.9 \div 38$

			2	
3	8	)	7	7.9
			7	6
			<hr/>	
			1	9

⑧  $75.2 \div 37$

			2	
3	7	)	7	5.2
			7	4
			<hr/>	
			1	2

⑨  $75.4 \div 15$

			5	
1	5	)	7	5.4
			7	5
			<hr/>	
			0	4



# 小数のわり算 14

◎ 2けたの整数で割って  
あまりも求める



日にち：            月            日

名まえ

・ 次の筆算をしましょう。商は一の位まで求め、あまりもだしましょう。  
(うすい字はなぞりましょう。)

①

			3	
1	7	)	5	7.2
			5	1
			<hr/>	
			6	2

②

			3	
2	5	)	7	5.9
			7	5
			<hr/>	
			0	9

③

			4	
1	4	)	6	1.1
			5	6
			<hr/>	
			5	1

④  $65.3 \div 13$

			5	
1	3	)	6	5.3
			6	5
			<hr/>	
			0	3

⑤  $61.5 \div 29$

			2	
2	9	)	6	1.5
			5	8
			<hr/>	
			3	5

⑥  $72.2 \div 16$

			4	
1	6	)	7	2.2
			6	4
			<hr/>	
			8	2

⑦  $91.4 \div 29$

			3	
2	9	)	9	1.4
			8	7
			<hr/>	
			4	4

⑧  $85.7 \div 28$

			3	
2	8	)	8	5.7
			8	4
			<hr/>	
			1	7

⑨  $78.4 \div 26$

			3	
2	6	)	7	8.4
			7	8
			<hr/>	
			0	4



# 小数のわり算 14

◎ 2けたの整数で割って  
あまりも求める



日にち：            月            日

名まえ \_\_\_\_\_

・ 次の筆算をしましょう。商は一の位まで求め、あまりもだしましょう。

①

			2			
4	8	)	9	7	.	1
			9	6		
						↓
						1

②

			3			
2	9	)	9	1	.	5
			8	7		
						↓
						4

③

			3			
3	2	)	9	6	.	9
			9	6		
						↓
						0

④  $76.2 \div 36$

			2			
3	6	)	7	6	.	2
			7	2		
						↓
						4

⑤  $78.3 \div 26$

			3			
2	6	)	7	8	.	3
			7	8		
						↓
						0

⑥  $57.5 \div 27$

			2			
2	7	)	5	7	.	5
			5	4		
						↓
						3

⑦  $74.4 \div 18$

			4			
1	8	)	7	4	.	4
			7	2		
						↓
						2

⑧  $72.4 \div 24$

			3			
2	4	)	7	2	.	4
			7	2		
						↓
						0

⑨  $64.3 \div 16$

			4			
1	6	)	6	4	.	3
			6	4		
						↓
						0





# 小数のわり算 14

◎ 2けたの整数で割って  
あまりも求める



日にち：            月            日

名まえ

・ 次の筆算をしましょう。商は一の位まで求め、あまりもだしましょう。

①

			2	
3	7	)	7	8.6
			7	4
			<hr/>	
			4	6

②

			2	
3	2	)	6	4.4
			6	4
			<hr/>	
			0	4

③

			2	
2	9	)	5	9.6
			5	8
			<hr/>	
			1	6

④  $99.4 \div 49$

			2	
4	9	)	9	9.4
			9	8
			<hr/>	
			1	4

⑤  $72.9 \div 36$

			2	
3	6	)	7	2.9
			7	2
			<hr/>	
			0	9

⑥  $78.6 \div 13$

			6	
1	3	)	7	8.6
			7	8
			<hr/>	
			0	6

⑦  $79.3 \div 38$

			2	
3	8	)	7	9.3
			7	6
			<hr/>	
			3	3

⑧  $78.4 \div 26$

			3	
2	6	)	7	8.4
			7	8
			<hr/>	
			0	4

⑨  $79.3 \div 39$

			2	
3	9	)	7	9.3
			7	8
			<hr/>	
			1	3



# 小数のわり算 14

● 2けたの整数で割って  
あまりも求める



日にち：            月            日

名まえ \_\_\_\_\_

・ 次の筆算をしましょう。商は一の位まで求め、あまりもだしましょう。

①  $58.7 \div 18$

			3			
1	8	)	5	8	.	7
			5	4		
			4	7		

②  $78.9 \div 39$

			2			
3	9	)	7	8	.	9
			7	8		
			0	9		

③  $78.8 \div 26$

			3			
2	6	)	7	8	.	8
			7	8		
			0	8		

④  $37.3 \div 4$

			9			
4	)	3	7	.	3	
			3	6		
			1	3		

⑤  $24.4 \div 6$

			4			
6	)	2	4	.	4	
			2	4		
			0	4		

⑥  $18.8 \div 8$

			2			
8	)	1	8	.	8	
			1	6		
			2	8		

⑦  $70.5 \div 16$

			4			
1	6	)	7	0	.	5
			6	4		
			6	5		

⑧  $65.5 \div 13$

			5			
1	3	)	6	5	.	5
			6	5		
			0	5		

⑨  $53.6 \div 23$

			2			
2	3	)	5	3	.	6
			4	6		
			7	6		



# 小数のわり算 14

● 2けたの整数で割って  
あまりも求める



日にち：            月            日

名まえ \_\_\_\_\_

・ 次の筆算をしましょう。商は一の位まで求め、あまりもだしましょう。

①  $77.2 \div 37$

			2			
3	7	)	7	7	.	2
			7	4		
			3	2		

②  $96.3 \div 24$

			4			
2	4	)	9	6	.	3
			9	6		
			0	3		

③  $82.6 \div 39$

			2			
3	9	)	8	2	.	6
			7	8		
			4	6		

④  $78.5 \div 13$

			6			
1	3	)	7	8	.	5
			7	8		
			0	5		

⑤  $59.3 \div 29$

			2			
2	9	)	5	9	.	3
			5	8		
			1	3		

⑥  $72.2 \div 18$

			4			
1	8	)	7	2	.	2
			7	2		
			0	2		

⑦  $26.2 \div 8$

			3			
8	)	2	6	.	2	
			2	4		
			2	2		

⑧  $18.3 \div 6$

			3			
6	)	1	8	.	3	
			1	8		
			0	3		

⑨  $19.3 \div 2$

			9			
2	)	1	9	.	3	
			1	8		
			1	3		



# 小数のわり算 14

● 2けたの整数で割って  
あまりも求める



日にち：            月            日

名まえ \_\_\_\_\_

・ 次の筆算をしましょう。商は一の位まで求め、あまりもだしましょう。

①  $78.3 \div 26$

			3				
2	6	)	7	8	.	3	
			7	8			
			—			0	3

②  $91.8 \div 44$

			2				
4	4	)	9	1	.	8	
			8	8			
			—			3	8

③  $79.7 \div 38$

			2				
3	8	)	7	9	.	7	
			7	6			
			—			3	7

④  $24.1 \div 7$

			3				
7	)	2	4	.	1		
			2	1			
			—			3	1

⑤  $45.1 \div 5$

			9				
5	)	4	5	.	1		
			4	5			
			—			0	1

⑥  $12.2 \div 3$

			4				
3	)	1	2	.	2		
			1	2			
			—			0	2

⑦  $94.3 \div 46$

			2				
4	6	)	9	4	.	3	
			9	2			
			—			2	3

⑧  $68.4 \div 34$

			2				
3	4	)	6	8	.	4	
			6	8			
			—			0	4

⑨  $78.8 \div 19$

			4				
1	9	)	7	8	.	8	
			7	6			
			—			2	8





# 小数のわり算 14

● 2けたの整数で割って  
あまりも求める

13

日にち：            月            日

名まえ \_\_\_\_\_

・ 次の筆算をしましょう。商は一の位まで求め、あまりもだしましょう。

①  $66.7 \div 33$

			2				
3	3	)	6	6	.	7	
			6	6			
			—			0	7

②  $69.2 \div 22$

			3				
2	2	)	6	9	.	2	
			6	6			
			—			3	2

③  $68.8 \div 32$

			2				
3	2	)	6	8	.	8	
			6	4			
			—			4	8

④  $56.7 \div 28$

			2				
2	8	)	5	6	.	7	
			5	6			
			—			0	7

⑤  $82.9 \div 26$

			3				
2	6	)	8	2	.	9	
			7	8			
			—			4	9

⑥  $62.2 \div 31$

			2				
3	1	)	6	2	.	2	
			6	2			
			—			0	2

⑦  $28.1 \div 4$

			7			
4	)	2	8	.	1	
		2	8			
		—			0	1

⑧  $24.2 \div 3$

			8			
3	)	2	4	.	2	
		2	4			
		—			0	2

⑨  $16.2 \div 6$

			2			
6	)	1	6	.	2	
		1	2			
		—			4	2



# 小数のわり算 14

● 2けたの整数で割って  
あまりも求める



日にち：            月            日

名まえ \_\_\_\_\_

・ 次の筆算をしましょう。商は一の位まで求め、あまりもだしましょう。

①  $98.8 \div 48$

			2				
4	8	)	9	8	.	8	
			9	6			
						2	8

②  $96.4 \div 32$

			3				
3	2	)	9	6	.	4	
			9	6			
						0	4

③  $75.4 \div 25$

			3				
2	5	)	7	5	.	4	
			7	5			
						0	4

④  $24.2 \div 4$

			6				
4	)	2	4	.	2		
			2	4			
						0	2

⑤  $40.4 \div 9$

			4				
9	)	4	0	.	4		
			3	6			
						4	4

⑥  $21.3 \div 7$

			3				
7	)	2	1	.	3		
			2	1			
						0	3

⑦  $48.5 \div 22$

			2				
2	2	)	4	8	.	5	
			4	4			
						4	5

⑧  $84.9 \div 42$

			2				
4	2	)	8	4	.	9	
			8	4			
						0	9

⑨  $76.3 \div 19$

			4				
1	9	)	7	6	.	3	
			7	6			
						0	3



# 小数のわり算 14

◎ 2けたの整数で割って  
あまりも求める



目指せ80点!



名まえ

・次の筆算をしましょう。商は一の位まで求め、あまりもだしましょう。

(各20点)

①  $79.9 \div 18$

			4			
1	8	)	7	9	.	9
			7	2		
			—			
				7	9	

②  $84.3 \div 28$

			3			
2	8	)	8	4	.	3
			8	4		
			—			
				0	3	

③  $35.2 \div 6$


			5			
6	)	3	5	.	2	
			3	0		
			—			
				5	2	

④  $77.6 \div 34$

			2			
3	4	)	7	7	.	6
			6	8		
			—			
				9	6	

⑤  $45.4 \div 9$

			5			
9	)	4	5	.	4	
			4	5		
			—			
				0	4	





# 小数のわり算 14

◎ 2けたの整数で割って  
あまりも求める



目指せ80点!



名まえ

・ 次の筆算をしましょう。商は一の位まで求め、あまりもだしましょう。

(各20点)

①  $14.2 \div 7$

		2	
7	)	14.2	
		14	
		0	2

②  $69.9 \div 23$

		3	
23	)	69.9	
		69	
		0	9

③  $81.2 \div 39$

		2	
39	)	81.2	
		78	
		3	2

④  $35.1 \div 4$

		8	
4	)	35.1	
		32	
		3	1

⑤  $96.4 \div 16$

		6	
16	)	96.4	
		96	
		0	4

