



小数のわり算 16

● あまりを求める
(商が帯小数)



日にち： 月 日

名まえ _____

・ 次の筆算をしましょう。商は小数第一位まで求め、あまりもだしましょう。
(うすい字はなぞりましょう。)

①

	1	2
7)	8.9
	7	
	1	9
	1	4
	0	5

②

	1	
6)	8.1
	6	

③

5)	9.8

④

4)	7.4

⑤ $3.7 \div 2$

2)	3.7

⑥ $5.5 \div 3$

)	5.5

⑦ $8.9 \div 6$

⑧ $5.7 \div 4$

4)	5.7



小数のわり算 16

● あまりを求める
(商が帯小数)



日にち： 月 日

名まえ _____

・ 次の筆算をしましょう。商は小数第一位まで求め、あまりもだしましょう。
(うすい字はなぞりましょう。)

①

7)	8.1
		7
		7

②

5)	7.4

③

3)	5.3

④

4)	5.5

⑤ $8.7 \div 5$

8	.	7

⑥ $6.1 \div 4$

⑦ $7.5 \div 6$

⑧ $7.9 \div 4$



小数のわり算 16

● あまりを求める
(商が帯小数)



日にち： 月 日

名まえ _____

・ 次の筆算をしましょう。商は小数第一位まで求め、あまりもだしましょう。
(うすい字はなぞりましょう。)

①

	1	
3)	5.6
		3
		26

②

6)	7.9

③

2)	3.1

④

5)	8.8

⑤ $5.8 \div 4$

)	5.8	

⑥ $4.4 \div 3$

)		

⑦ $9.9 \div 7$

⑧ $8.5 \div 6$

)		



小数のわり算 16

● あまりを求める
(商が帯小数)



日にち： 月 日

名まえ _____

・ 次の筆算をしましょう。商は小数第一位まで求め、あまりもだしましょう。
(うすい字はなぞりましょう。)

①

	2	
2	5.1	
	4	

②

6	8.3	

③

3	4.3	

④

4	5.7	

⑤ $9.4 \div 7$

)	9.4	

⑥ $7.6 \div 6$

)		

⑦ $8.9 \div 3$

⑧ $5.9 \div 4$

)		



小数のわり算 16

● あまりを求める
(商が帯小数)



日にち： 月 日

名まえ _____

・ 次の筆算をしましょう。商は小数第一位まで求め、あまりもだしましょう。
(うすい字はなぞりましょう。)

①

4)	7.5

②

3)	4.4

③

4)	6.7

④

5)	7.3

⑤ 8.8 ÷ 6

6)	8.8

⑥ 9.9 ÷ 7

)	

⑦ 5.4 ÷ 4

)	

⑧ 4.7 ÷ 2

)	



小数のわり算 16

● あまりを求める
(商が帯小数)



日にち： 月 日

名まえ _____

・ 次の筆算をしましょう。商は小数第一位まで求め、あまりもだしましょう。
(うすい字はなぞりましょう。)

①

3)	4.4

②

4)	6.3

③

3)	4.6

④

6)	9.4

⑤ $6.5 \div 4$

)	6.5	

⑥ $8.9 \div 7$

)		

⑦ $8.2 \div 5$

⑧ $5.3 \div 3$

)		



小数のわり算 16

● あまりを求める
(商が帯小数)



日にち： 月 日

名まえ _____

・ 次の筆算をしましょう。商は小数第一位まで求め、あまりもだしましょう。
(うすい字はなぞりましょう。)

①

4)	5.8

②

3)	7.7

③

4)	6.2

④

3)	6.4

⑤ $6.8 \div 5$

)	6.8

⑥ $7.9 \div 6$

)	

⑦ $8.5 \div 3$

)	

⑧ $9.8 \div 4$

)	



小数のわり算 16

● あまりを求める
(商が帯小数)



日にち： 月 日

名まえ _____

・ 次の筆算をしましょう。商は小数第一位まで求め、あまりもだしましょう。

①

4)	5.1

②

6)	8.7

③

4)	6.5

④

3)	4.7

⑤

$6.7 \div 5$

⑥

$4.1 \div 3$

⑦

$5.2 \div 3$

⑧

$6.3 \div 5$





小数のわり算 16

● あまりを求める
(商が帯小数)



日にち： 月 日

名まえ _____

・ 次の筆算をしましょう。商は小数第一位まで求め、あまりもだしましょう。

①

6)	7.7

②

4)	5.4

③

4)	7.8

④

3)	5.8

⑤

$9.1 \div 8$

⑥

$9.6 \div 7$

⑦

$6.9 \div 4$

⑧

$6.2 \div 5$



小数のわり算 16

● あまりを求める
(商が帯小数)



日にち： 月 日

名まえ _____

・ 次の筆算をしましょう。商は小数第一位まで求め、あまりもだしましょう。

① $6.6 \div 5$

② $9.6 \div 7$

③ $7.5 \div 4$

④ $9.3 \div 5$

⑤ $4.8 \div 7$

⑥ $3.7 \div 6$

⑦ $2.4 \div 7$

⑧ $5.4 \div 8$

⑨ $7.6 \div 3$

⑩ $5.1 \div 4$

⑪ $8.3 \div 7$

⑫ $4.9 \div 3$





小数のわり算 16

● あまりを求める
(商が帯小数)



日にち： 月 日

名まえ _____

・ 次の筆算をしましょう。商は小数第一位まで求め、あまりもだしましょう。

① $1.9 \div 4$

② $3.2 \div 6$

③ $3.7 \div 4$

④ $4.1 \div 7$

⑤ $7.2 \div 5$

⑥ $7.7 \div 6$

⑦ $9.3 \div 8$

⑧ $9.9 \div 7$

⑨ $9.6 \div 5$

⑩ $5.4 \div 4$

⑪ $7.4 \div 6$

⑫ $6.8 \div 3$



小数のわり算 16

● あまりを求める
(商が帯小数)

12

日にち： 月 日

名まえ _____

・ 次の筆算をしましょう。商は小数第一位まで求め、あまりもだしましょう。

① $3.7 \div 2$

② $4.4 \div 3$

③ $8.2 \div 7$

④ $6.1 \div 4$

⑤ $2.5 \div 6$

⑥ $5.3 \div 7$

⑦ $5.1 \div 8$

⑧ $4.8 \div 5$

⑨ $5.7 \div 4$

⑩ $7.8 \div 4$

⑪ $6.2 \div 5$

⑫ $8.9 \div 6$



小数のわり算 16

● あまりを求める
(商が帯小数)



日にち： 月 日

名まえ _____

・ 次の筆算をしましょう。商は小数第一位まで求め、あまりもだしましょう。

① $3.5 \div 6$

② $5.8 \div 7$

③ $5.5 \div 8$

④ $2.7 \div 6$

⑤ $4.4 \div 3$

⑥ $9.3 \div 7$

⑦ $6.4 \div 5$

⑧ $7.8 \div 4$

⑨ $9.6 \div 7$

⑩ $9.1 \div 6$

⑪ $8.8 \div 7$

⑫ $7.3 \div 4$



小数のわり算 16

● あまりを求める
(商が帯小数)

14

日にち： 月 日

名まえ _____

・ 次の筆算をしましょう。商は小数第一位まで求め、あまりもだしましょう。

① $6.1 \div 4$

② $9.2 \div 8$

③ $6.9 \div 4$

④ $9.6 \div 7$

⑤ $1.3 \div 5$

⑥ $5.3 \div 8$

⑦ $4.5 \div 8$

⑧ $2.4 \div 7$

⑨ $7.9 \div 5$

⑩ $8.6 \div 3$

⑪ $9.3 \div 8$

⑫ $6.7 \div 4$




小数のわり算 16

● あまりを求める
(商が帯小数)

15

目指せ80点!



名まえ

・ 次の筆算をしましょう。商は小数第一位まで求め、あまりもだしましょう。
(各10点)

① $8.7 \div 6$

② $6.7 \div 4$

③ $9.4 \div 7$

④ $6.3 \div 2$

⑤ $9.5 \div 8$


⑥ $5.2 \div 3$

⑦ $6.3 \div 4$

⑧ $7.9 \div 4$

⑨ $2.3 \div 4$

⑩ $3.6 \div 7$





小数のわり算 16

● あまりを求める
(商が帯小数)

16

目指せ80点!



名まえ

・ 次の筆算をしましょう。商は小数第一位まで求め、あまりもだしましょう。
(各10点)

① $6.1 \div 4$

② $4.9 \div 3$

③ $9.5 \div 7$

④ $6.2 \div 4$

⑤ $6.9 \div 4$


⑥ $5.9 \div 3$

⑦ $7.2 \div 5$

⑧ $8.6 \div 6$

⑨ $4.2 \div 9$

⑩ $3.8 \div 7$





小数のわり算 16

● あまりを求める
(商が帯小数)



日にち： 月 日

名まえ _____

・ 次の筆算をしましょう。商は小数第一位まで求め、あまりもだしましょう。
(うすい字はなぞりましょう。)

①

	1	.	2	
7)	8	.	9
	7			
	1	9		
	1	4		
	0	.	5	

②

	1	.	3	
6)	8	.	1
	6			
	2	1		
	1	8		
	0	.	3	

③

	1	.	9	
5)	9	.	8
	5			
	4	8		
	4	5		
	0	.	3	

④

	1	.	8	
4)	7	.	4
	4			
	3	4		
	3	2		
	0	.	2	

⑤ $3.7 \div 2$

	1	.	8	
2)	3	.	7
	2			
	1	7		
	1	6		
	0	.	1	

⑥ $5.5 \div 3$

	1	.	8	
3)	5	.	5
	3			
	2	5		
	2	4		
	0	.	1	

⑦ $8.9 \div 6$

	1	.	4	
6)	8	.	9
	6			
	2	9		
	2	4		
	0	.	5	

⑧ $5.7 \div 4$

	1	.	4	
4)	5	.	7
	4			
	1	7		
	1	6		
	0	.	1	



小数のわり算 16

● あまりを求める
(商が帯小数)



日にち： 月 日

名まえ _____

・ 次の筆算をしましょう。商は小数第一位まで求め、あまりもだしましょう。
(うすい字はなぞりましょう。)

①

	1	.	1	
7)	8	.	1
		7		
		1	1	
			7	
		0	.	4

②

	1	.	4	
5)	7	.	4
		5		
		2	4	
		2	0	
		0	.	4

③

	1	.	7	
3)	5	.	3
		3		
		2	3	
		2	1	
		0	.	2

④

	1	.	3	
4)	5	.	5
		4		
		1	5	
		1	2	
		0	.	3

⑤ $8.7 \div 5$

	1	.	7	
5)	8	.	7
		5		
		3	7	
		3	5	
		0	.	2

⑥ $6.1 \div 4$

	1	.	5	
4)	6	.	1
		4		
		2	1	
		2	0	
		0	.	1

⑦ $7.5 \div 6$

	1	.	2	
6)	7	.	5
		6		
		1	5	
		1	2	
		0	.	3

⑧ $7.9 \div 4$

	1	.	9	
4)	7	.	9
		4		
		3	9	
		3	6	
		0	.	3



小数のわり算 16

● あまりを求める
(商が帯小数)



日にち： 月 日

名まえ _____

・ 次の筆算をしましょう。商は小数第一位まで求め、あまりもだしましょう。
(うすい字はなぞりましょう。)

①

	1	.	8	
3)	5	.	6
		3		
		2	6	
		2	4	
		0	.	2

②

	1	.	3	
6)	7	.	9
		6		
		1	9	
		1	8	
		0	.	1

③

	1	.	5	
2)	3	.	1
		2		
		1	1	
		1	0	
		0	.	1

④

	1	.	7	
5)	8	.	8
		5		
		3	8	
		3	5	
		0	.	3

⑤ $5.8 \div 4$

	1	.	4	
4)	5	.	8
		4		
		1	8	
		1	6	
		0	.	2

⑥ $4.4 \div 3$

	1	.	4	
3)	4	.	4
		3		
		1	4	
		1	2	
		0	.	2

⑦ $9.9 \div 7$

	1	.	4	
7)	9	.	9
		7		
		2	9	
		2	8	
		0	.	1

⑧ $8.5 \div 6$

	1	.	4	
6)	8	.	5
		6		
		2	5	
		2	4	
		0	.	1



小数のわり算 16

● あまりを求める
(商が帯小数)



日にち： 月 日

名まえ _____

・ 次の筆算をしましょう。商は小数第一位まで求め、あまりもだしましょう。
(うすい字はなぞりましょう。)

①

	2	.	5
2)	5	.1
	4		
	1	1	
	1	0	
	0	.	1

②

	1	.	3
6)	8	.3
	6		
	2	3	
	1	8	
	0	.	5

③

	1	.	4
3)	4	.3
	3		
	1	3	
	1	2	
	0	.	1

④

	1	.	4
4)	5	.7
	4		
	1	7	
	1	6	
	0	.	1

⑤ $9.4 \div 7$

	1	.	3
7)	9	.4
	7		
	2	4	
	2	1	
	0	.	3

⑥ $7.6 \div 6$

	1	.	2
6)	7	.6
	6		
	1	6	
	1	2	
	0	.	4

⑦ $8.9 \div 3$

	2	.	9
3)	8	.9
	6		
	2	9	
	2	7	
	0	.	2

⑧ $5.9 \div 4$

	1	.	4
4)	5	.9
	4		
	1	9	
	1	6	
	0	.	3



小数のわり算 16

● あまりを求める
(商が帯小数)



日にち： 月 日

名まえ _____

・ 次の筆算をしましょう。商は小数第一位まで求め、あまりもだしましょう。
(うすい字はなぞりましょう。)

①

		1	.	8
4)	7	.	5
		4		
		3	5	
		3	2	
		0	.	3

②

		1	.	4
3)	4	.	4
		3		
		1	4	
		1	2	
		0	.	2

③

		1	.	6
4)	6	.	7
		4		
		2	7	
		2	4	
		0	.	3

④

		1	.	4
5)	7	.	3
		5		
		2	3	
		2	0	
		0	.	3

⑤ $8.8 \div 6$

		1	.	4
6)	8	.	8
		6		
		2	8	
		2	4	
		0	.	4

⑥ $9.9 \div 7$

		1	.	4
7)	9	.	9
		7		
		2	9	
		2	8	
		0	.	1

⑦ $5.4 \div 4$

		1	.	3
4)	5	.	4
		4		
		1	4	
		1	2	
		0	.	2

⑧ $4.7 \div 2$

		2	.	3		
2)	4	.	7		
		4				
				7		
				6		
				0	.	1



小数のわり算 16

● あまりを求める
(商が帯小数)



日にち： 月 日

名まえ _____

・ 次の筆算をしましょう。商は小数第一位まで求め、あまりもだしましょう。
(うすい字はなぞりましょう。)

①

	1	.	4	
3)	4	.	4
		3		
		1	4	
		1	2	
		0	.	2

②

	1	.	5	
4)	6	.	3
		4		
		2	3	
		2	0	
		0	.	3

③

	1	.	5	
3)	4	.	6
		3		
		1	6	
		1	5	
		0	.	1

④

	1	.	5	
6)	9	.	4
		6		
		3	4	
		3	0	
		0	.	4

⑤ $6.5 \div 4$

	1	.	6	
4)	6	.	5
		4		
		2	5	
		2	4	
		0	.	1

⑥ $8.9 \div 7$

	1	.	2	
7)	8	.	9
		7		
		1	9	
		1	4	
		0	.	5

⑦ $8.2 \div 5$

	1	.	6	
5)	8	.	2
		5		
		3	2	
		3	0	
		0	.	2

⑧ $5.3 \div 3$

	1	.	7	
3)	5	.	3
		3		
		2	3	
		2	1	
		0	.	2



小数のわり算 16

● あまりを求める
(商が帯小数)



日にち： 月 日

名まえ _____

・ 次の筆算をしましょう。商は小数第一位まで求め、あまりもだしましょう。
(うすい字はなぞりましょう。)

①

	1	.	4	
4)	5	.	8
		4		
		1	8	
		1	6	
		0	.	2

②

	2	.	5	
3)	7	.	7
		6		
		1	7	
		1	5	
		0	.	2

③

	1	.	5	
4)	6	.	2
		4		
		2	2	
		2	0	
		0	.	2

④

	2	.	1	
3)	6	.	4
		6		
			4	
			3	
		0	.	1

⑤ $6.8 \div 5$

	1	.	3	
5)	6	.	8
		5		
		1	8	
		1	5	
		0	.	3

⑥ $7.9 \div 6$

	1	.	3	
6)	7	.	9
		6		
		1	9	
		1	8	
		0	.	1

⑦ $8.5 \div 3$

	2	.	8	
3)	8	.	5
		6		
		2	5	
		2	4	
		0	.	1

⑧ $9.8 \div 4$

	2	.	4	
4)	9	.	8
		8		
		1	8	
		1	6	
		0	.	2



小数のわり算16

● あまりを求める
(商が帯小数)



日にち： 月 日

名まえ _____

・ 次の筆算をしましょう。商は小数第一位まで求め、あまりもだしましょう。

①

		1	.	2
4)	5	.	1
		4		
		1	1	
			8	
		0	.	3

②

		1	.	4
6)	8	.	7
		6		
		2	7	
		2	4	
		0	.	3

③

		1	.	6
4)	6	.	5
		4		
		2	5	
		2	4	
		0	.	1

④

		1	.	5
3)	4	.	7
		3		
		1	7	
		1	5	
		0	.	2

⑤ $6.7 \div 5$

		1	.	3
5)	6	.	7
		5		
		1	7	
		1	5	
		0	.	2

⑥ $4.1 \div 3$

		1	.	3
3)	4	.	1
		3		
		1	1	
			9	
		0	.	2

⑦ $5.2 \div 3$

		1	.	7
3)	5	.	2
		3		
		2	2	
		2	1	
		0	.	1

⑧ $6.3 \div 5$

		1	.	2
5)	6	.	3
		5		
		1	3	
		1	0	
		0	.	3



小数のわり算16

● あまりを求める
(商が帯小数)



日にち： 月 日

名まえ _____

・ 次の筆算をしましょう。商は小数第一位まで求め、あまりもだしましょう。

①

	1.2
6)7.7
	6
	17
	12
	0.5

②

	1.3
4)5.4
	4
	14
	12
	0.2

③

	1.9
4)7.8
	4
	38
	36
	0.2

④

	1.9
3)5.8
	3
	28
	27
	0.1

⑤ $9.1 \div 8$

	1.1
8)9.1
	8
	11
	8
	0.3

⑥ $9.6 \div 7$

	1.3
7)9.6
	7
	26
	21
	0.5

⑦ $6.9 \div 4$

	1.7
4)6.9
	4
	29
	28
	0.1

⑧ $6.2 \div 5$

	1.2
5)6.2
	5
	12
	10
	0.2



小数のわり算 16

● あまりを求める
(商が帯小数)



日にち： 月 日

名まえ _____

・ 次の筆算をしましょう。商は小数第一位まで求め、あまりもだしましょう。

① $6.6 \div 5$

	1	.	3	
5)	6	.	6
		5		
		1	6	
		1	5	
		0	.	1

② $9.6 \div 7$

	1	.	3	
7)	9	.	6
		7		
		2	6	
		2	1	
		0	.	5

③ $7.5 \div 4$

	1	.	8	
4)	7	.	5
		4		
		3	5	
		3	2	
		0	.	3

④ $9.3 \div 5$

	1	.	8	
5)	9	.	3
		5		
		4	3	
		4	0	
		0	.	3

⑤ $4.8 \div 7$

	0	.	6	
7)	4	.	8
		4	2	
		0	.	6

⑥ $3.7 \div 6$

	0	.	6	
6)	3	.	7
		3	6	
		0	.	1

⑦ $2.4 \div 7$

	0	.	3	
7)	2	.	4
		2	1	
		0	.	3

⑧ $5.4 \div 8$

	0	.	6	
8)	5	.	4
		4	8	
		0	.	6

⑨ $7.6 \div 3$

	2	.	5	
3)	7	.	6
		6		
		1	6	
		1	5	
		0	.	1

⑩ $5.1 \div 4$

	1	.	2	
4)	5	.	1
		4		
		1	1	
			8	
		0	.	3

⑪ $8.3 \div 7$

	1	.	1	
7)	8	.	3
		7		
		1	3	
			7	
		0	.	6

⑫ $4.9 \div 3$

	1	.	6	
3)	4	.	9
		3		
		1	9	
		1	8	
		0	.	1



小数のわり算 16

● あまりを求める
(商が帯小数)



日にち： 月 日

名まえ _____

・ 次の筆算をしましょう。商は小数第一位まで求め、あまりもだしましょう。

① $1.9 \div 4$

	0.4
4)1.9
	16
	0.3

② $3.2 \div 6$

	0.5
6)3.2
	30
	0.2

③ $3.7 \div 4$

	0.9
4)3.7
	36
	0.1

④ $4.1 \div 7$

	0.5
7)4.1
	35
	0.6

⑤ $7.2 \div 5$

	1.4
5)7.2
	5
	22
	20
	0.2

⑥ $7.7 \div 6$

	1.2
6)7.7
	6
	17
	12
	0.5

⑦ $9.3 \div 8$

	1.1
8)9.3
	8
	13
	8
	0.5

⑧ $9.9 \div 7$

	1.4
7)9.9
	7
	29
	28
	0.1

⑨ $9.6 \div 5$

	1.9
5)9.6
	5
	46
	45
	0.1

⑩ $5.4 \div 4$

	1.3
4)5.4
	4
	14
	12
	0.2

⑪ $7.4 \div 6$

	1.2
6)7.4
	6
	14
	12
	0.2

⑫ $6.8 \div 3$

	2.2
3)6.8
	6
	8
	6
	0.2



小数のわり算 16

● あまりを求める
(商が帯小数)

12

日にち： 月 日

名まえ _____

・ 次の筆算をしましょう。商は小数第一位まで求め、あまりもだしましょう。

① $3.7 \div 2$

	1	8
2)	3.7
	2	
	1	7
	1	6
	0	.1

② $4.4 \div 3$

	1	4
3)	4.4
	3	
	1	4
	1	2
	0	.2

③ $8.2 \div 7$

	1	1
7)	8.2
	7	
	1	2
		7
	0	.5

④ $6.1 \div 4$

	1	5
4)	6.1
	4	
	2	1
	2	0
	0	.1

⑤ $2.5 \div 6$

	0	4
6)	2.5
	2	4
	0	.1

⑥ $5.3 \div 7$

	0	7
7)	5.3
	4	9
	0	.4

⑦ $5.1 \div 8$

	0	6
8)	5.1
	4	8
	0	.3

⑧ $4.8 \div 5$

	0	9
5)	4.8
	4	5
	0	.3

⑨ $5.7 \div 4$

	1	4
4)	5.7
	4	
	1	7
	1	6
	0	.1

⑩ $7.8 \div 4$

	1	9
4)	7.8
	4	
	3	8
	3	6
	0	.2

⑪ $6.2 \div 5$

	1	2
5)	6.2
	5	
	1	2
	1	0
	0	.2

⑫ $8.9 \div 6$

	1	4
6)	8.9
	6	
	2	9
	2	4
	0	.5





小数のわり算 16

● あまりを求める
(商が帯小数)

13

日にち： 月 日

名まえ _____

・ 次の筆算をしましょう。商は小数第一位まで求め、あまりもだしましょう。

① $3.5 \div 6$

	0.5
6)3.5
	3 0
	0.5

② $5.8 \div 7$

	0.8
7)5.8
	5 6
	0.2

③ $5.5 \div 8$

	0.6
8)5.5
	4 8
	0.7

④ $2.7 \div 6$

	0.4
6)2.7
	2 4
	0.3

⑤ $4.4 \div 3$

	1.4
3)4.4
	3
	1 4
	1 2
	0.2

⑥ $9.3 \div 7$

	1.3
7)9.3
	7
	2 3
	2 1
	0.2

⑦ $6.4 \div 5$

	1.2
5)6.4
	5
	1 4
	1 0
	0.4

⑧ $7.8 \div 4$

	1.9
4)7.8
	4
	3 8
	3 6
	0.2

⑨ $9.6 \div 7$

	1.3
7)9.6
	7
	2 6
	2 1
	0.5

⑩ $9.1 \div 6$

	1.5
6)9.1
	6
	3 1
	3 0
	0.1

⑪ $8.8 \div 7$

	1.2
7)8.8
	7
	1 8
	1 4
	0.4

⑫ $7.3 \div 4$

	1.7
4)7.3
	4
	3 3
	2 8
	0.5



小数のわり算 16

● あまりを求める
(商が帯小数)

14

日にち： 月 日

名まえ _____

・ 次の筆算をしましょう。商は小数第一位まで求め、あまりもだしましょう。

① $6.1 \div 4$

	1	5
4)	6.1
	4	
	2	1
	2	0
	0	.1

② $9.2 \div 8$

	1	1
8)	9.2
	8	
	1	2
		8
	0	.4

③ $6.9 \div 4$

	1	7
4)	6.9
	4	
	2	9
	2	8
	0	.1

④ $9.6 \div 7$

	1	3
7)	9.6
	7	
	2	6
	2	1
	0	.5

⑤ $1.3 \div 5$

	0	2
5)	1.3
	1	0
	0	.3

⑥ $5.3 \div 8$

	0	6
8)	5.3
	4	8
	0	.5

⑦ $4.5 \div 8$

	0	5
8)	4.5
	4	0
	0	.5

⑧ $2.4 \div 7$

	0	3
7)	2.4
	2	1
	0	.3

⑨ $7.9 \div 5$

	1	5
5)	7.9
	5	
	2	9
	2	5
	0	.4

⑩ $8.6 \div 3$

	2	8
3)	8.6
	6	
	2	6
	2	4
	0	.2

⑪ $9.3 \div 8$

	1	1
8)	9.3
	8	
	1	3
		8
	0	.5

⑫ $6.7 \div 4$

	1	6
4)	6.7
	4	
	2	7
	2	4
	0	.3




小数のわり算 16

● あまりを求める
(商が帯小数)

15

目指せ80点!



名まえ

・ 次の筆算をしましょう。商は小数第一位まで求め、あまりもだしましょう。
(各10点)

① $8.7 \div 6$

$$\begin{array}{r}
 1.4 \\
 6 \overline{)8.7} \\
 \underline{6} \\
 27 \\
 \underline{24} \\
 0.3
 \end{array}$$

② $6.7 \div 4$

$$\begin{array}{r}
 1.6 \\
 4 \overline{)6.7} \\
 \underline{4} \\
 27 \\
 \underline{24} \\
 0.3
 \end{array}$$

③ $9.4 \div 7$

$$\begin{array}{r}
 1.3 \\
 7 \overline{)9.4} \\
 \underline{7} \\
 24 \\
 \underline{21} \\
 0.3
 \end{array}$$

④ $6.3 \div 2$

$$\begin{array}{r}
 3.1 \\
 2 \overline{)6.3} \\
 \underline{6} \\
 3 \\
 \underline{2} \\
 0.1
 \end{array}$$

⑤ $9.5 \div 8$

$$\begin{array}{r}
 1.1 \\
 8 \overline{)9.5} \\
 \underline{8} \\
 15 \\
 \underline{8} \\
 0.7
 \end{array}$$

⑥ $5.2 \div 3$

$$\begin{array}{r}
 1.7 \\
 3 \overline{)5.2} \\
 \underline{3} \\
 22 \\
 \underline{21} \\
 0.1
 \end{array}$$

⑦ $6.3 \div 4$

$$\begin{array}{r}
 1.5 \\
 4 \overline{)6.3} \\
 \underline{4} \\
 23 \\
 \underline{20} \\
 0.3
 \end{array}$$

⑧ $7.9 \div 4$


$$\begin{array}{r}
 1.9 \\
 4 \overline{)7.9} \\
 \underline{4} \\
 39 \\
 \underline{36} \\
 0.3
 \end{array}$$

⑨ $2.3 \div 4$

$$\begin{array}{r}
 0.5 \\
 4 \overline{)2.3} \\
 \underline{20} \\
 0.3
 \end{array}$$

⑩ $3.6 \div 7$

$$\begin{array}{r}
 0.5 \\
 7 \overline{)3.6} \\
 \underline{35} \\
 0.1
 \end{array}$$





小数のわり算 16

● あまりを求める
(商が帯小数)



目指せ80点!



名まえ

・ 次の筆算をしましょう。商は小数第一位まで求め、あまりもだしましょう。
(各10点)

① $6.1 \div 4$

$$\begin{array}{r}
 1.5 \\
 4 \overline{)6.1} \\
 \underline{4} \\
 21 \\
 \underline{20} \\
 0.1
 \end{array}$$

② $4.9 \div 3$

$$\begin{array}{r}
 1.6 \\
 3 \overline{)4.9} \\
 \underline{3} \\
 19 \\
 \underline{18} \\
 0.1
 \end{array}$$

③ $9.5 \div 7$

$$\begin{array}{r}
 1.3 \\
 7 \overline{)9.5} \\
 \underline{7} \\
 25 \\
 \underline{21} \\
 0.4
 \end{array}$$

④ $6.2 \div 4$

$$\begin{array}{r}
 1.5 \\
 4 \overline{)6.2} \\
 \underline{4} \\
 22 \\
 \underline{20} \\
 0.2
 \end{array}$$

⑤ $6.9 \div 4$

$$\begin{array}{r}
 1.7 \\
 4 \overline{)6.9} \\
 \underline{4} \\
 29 \\
 \underline{28} \\
 0.1
 \end{array}$$

⑥ $5.9 \div 3$

$$\begin{array}{r}
 1.9 \\
 3 \overline{)5.9} \\
 \underline{3} \\
 29 \\
 \underline{27} \\
 0.2
 \end{array}$$

⑦ $7.2 \div 5$

$$\begin{array}{r}
 1.4 \\
 5 \overline{)7.2} \\
 \underline{5} \\
 22 \\
 \underline{20} \\
 0.2
 \end{array}$$

⑧ $8.6 \div 6$

$$\begin{array}{r}
 1.4 \\
 6 \overline{)8.6} \\
 \underline{6} \\
 26 \\
 \underline{24} \\
 0.2
 \end{array}$$

⑨ $4.2 \div 9$

$$\begin{array}{r}
 0.4 \\
 9 \overline{)4.2} \\
 \underline{36} \\
 0.6
 \end{array}$$

⑩ $3.8 \div 7$

$$\begin{array}{r}
 0.5 \\
 7 \overline{)3.8} \\
 \underline{35} \\
 0.3
 \end{array}$$

