



# 小数のわり算 17

● あまりを求める  
(商も余りも帯小数)



日にち：            月            日

名まえ \_\_\_\_\_

・ 次の筆算をしましょう。商は小数第一位まで求め、あまりもだしましょう。  
(うすい字はなぞりましょう。)

①

			3	7
1	2	)	4	5.5
			3	6
			9	5
			8	4
			1	1

②

			2	9	
2	6	)	7	7.4	
			5	2	
			2	5	4
			2	3	4
			2	0	

③

3	2	)	9	4.1

④  $40.9 \div 17$

1	7	)	4	0.9

⑤  $58.5 \div 23$

		)	5	8.5

⑥  $76.8 \div 18$

1	8	)	7	6.8



# 小数のわり算17

● あまりを求める  
(商も余りも帯小数)



日にち：            月            日

名まえ \_\_\_\_\_

・ 次の筆算をしましょう。商は小数第一位まで求め、あまりもだしましょう。  
(うすい字はなぞりましょう。)

①

			4	
1	5	)	6	6.5
			6	0
			6	5

②

			3	
1	3	)	4	7.9
			3	9

③

1	6	)	7	0.2

④  $61.9 \div 33$

		)	6	1.9

⑤  $58.4 \div 14$

		)		

⑥  $60.3 \div 13$

		)		



# 小数のわり算17

● あまりを求める  
(商も余りも帯小数)



日にち：            月            日

名まえ \_\_\_\_\_

・ 次の筆算をしましょう。商は小数第一位まで求め、あまりもだしましょう。  
(うすい字はなぞりましょう。)

①

			1	5	
5	5	)	8	5.5	
			5	5	
			3	0	5
			2	7	5

②

			3	.
2	7	)	9	7.3

③

2	3	)	6	6.6

④  $79.7 \div 29$

		)	7	9.7

⑤  $49.6 \div 32$


⑥  $51.8 \div 28$

		)		



# 小数のわり算17

● あまりを求める  
(商も余りも帯小数)



日にち：            月            日

名まえ \_\_\_\_\_

・ 次の筆算をしましょう。商は小数第一位まで求め、あまりもだしましょう。  
(うすい字はなぞりましょう。)

①

			5	
1	4	)	7	1.6
			7	0

②

1	9	)	5	6.1

③

1	2	)	6	2.1

④  $87.2 \div 44$

		)	8	7.2

⑤  $52.3 \div 21$


⑥  $62.6 \div 14$

		)		



# 小数のわり算 17

● あまりを求める  
(商も余りも帯小数)



日にち：            月            日

名まえ \_\_\_\_\_

・ 次の筆算をしましょう。商は小数第一位まで求め、あまりもだしましょう。  
(うすい字はなぞりましょう。)

①

1	2	)	4	5	.	4

②

1	3	)	3	2	.	9

③

2	9	)	5	2	.	8

④  $81.8 \div 32$

3	2	)	8	1	.	8

⑤  $46.5 \div 22$

		)			.	

⑥  $85.9 \div 39$

		)			.	



# 小数のわり算 17

● あまりを求める  
(商も余りも帯小数)



日にち：            月            日

名まえ \_\_\_\_\_

・ 次の筆算をしましょう。商は小数第一位まで求め、あまりもだしましょう。  
(うすい字はなぞりましょう。)

①

4	9	)	6	1.8

②

4	3	)	9	7.5

③

1	6	)	7	4.8

④  $69.3 \div 14$

		)	6	9.3

⑤  $51.4 \div 26$


⑥  $42.5 \div 23$

		)		



# 小数のわり算 17

● あまりを求める  
(商も余りも帯小数)



日にち：            月            日

名まえ \_\_\_\_\_

・ 次の筆算をしましょう。商は小数第一位まで求め、あまりもだしましょう。  
(うすい字はなぞりましょう。)

①

2	4	)	6	8.2

②

1	6	)	7	8.1

③

3	2	)	6	1.8

④  $88.8 \div 18$

		)	8	8.8

⑤  $80.2 \div 23$


⑥  $44.3 \div 12$




# 小数のわり算 17

● あまりを求める  
(商も余りも帯小数)



日にち：            月            日

名まえ \_\_\_\_\_

・ 次の筆算をしましょう。商は小数第一位まで求め、あまりもだしましょう。

①

2	8	)	6	2	.	7

②

2	4	)	7	6	.	4

③

3	4	)	6	2	.	4

④  $55.6 \div 21$


⑤  $53.8 \div 11$


⑥  $80.6 \div 24$






# 小数のわり算 17

● あまりを求める  
(商も余りも帯小数)



日にち：            月            日

名まえ \_\_\_\_\_

・ 次の筆算をしましょう。商は小数第一位まで求め、あまりもだしましょう。

①

3	9	)	8	8	.	2

②

1	2	)	5	3	.	4

③

1	6	)	8	2	.	6

④  $42.4 \div 18$


⑤  $94.9 \div 25$


⑥  $79.6 \div 27$




# 小数のわり算 17

● あまりを求める  
(商も余りも帯小数)



日にち：            月            日

名まえ \_\_\_\_\_

・ 次の筆算をしましょう。商は小数第一位まで求め、あまりもだしましょう。

①  $73.6 \div 35$


②  $86.7 \div 27$


③  $93.9 \div 16$


④  $83.8 \div 24$


⑤  $75.1 \div 35$


⑥  $85.5 \div 25$


⑦  $94.4 \div 19$

--	--	--	--	--	--	--	--	--	--

⑧  $7.8 \div 4$

--	--	--	--	--	--	--	--	--	--

⑨  $5.3 \div 7$

--	--	--	--	--	--	--	--	--	--



# 小数のわり算 17

● あまりを求める  
(商も余りも帯小数)



日にち： 月 日

名まえ \_\_\_\_\_

・ 次の筆算をしましょう。商は小数第一位まで求め、あまりもだしましょう。

①  $50.6 \div 16$


②  $66.9 \div 15$


③  $47.8 \div 12$


④  $81.2 \div 24$


⑤  $71.6 \div 27$


⑥  $6.7 \div 9$


⑦  $44.4 \div 16$


⑧  $53.6 \div 31$


⑨  $8.5 \div 3$




# 小数のわり算 17

● あまりを求める  
(商も余りも帯小数)



日にち：            月            日

名まえ \_\_\_\_\_

・ 次の筆算をしましょう。商は小数第一位まで求め、あまりもだしましょう。

①  $68.9 \div 18$


②  $99.9 \div 43$


③  $47.9 \div 36$


④  $85.2 \div 26$


⑤  $43.2 \div 19$


⑥  $82.4 \div 28$


⑦  $80.8 \div 18$


⑧  $8.8 \div 5$


⑨  $3.4 \div 6$




# 小数のわり算 17

● あまりを求める  
(商も余りも帯小数)



日にち： 月 日

名まえ \_\_\_\_\_

・ 次の筆算をしましょう。商は小数第一位まで求め、あまりもだしましょう。

①  $46.5 \div 13$


②  $61.3 \div 23$


③  $34.7 \div 12$


④  $59.9 \div 31$


⑤  $83.9 \div 21$


⑥  $4.7 \div 8$


⑦  $61.7 \div 45$


⑧  $71.7 \div 16$


⑨  $6.3 \div 4$




# 小数のわり算 17

● あまりを求める  
(商も余りも帯小数)



日にち：            月            日

名まえ \_\_\_\_\_

・ 次の筆算をしましょう。商は小数第一位まで求め、あまりもだしましょう。

①  $31.8 \div 12$


②  $58.7 \div 27$


③  $93.7 \div 28$


④  $40.7 \div 13$


⑤  $62.8 \div 14$


⑥  $89.8 \div 37$


⑦  $84.3 \div 25$


⑧  $8.3 \div 3$


⑨  $4.1 \div 7$







# 小数のわり算 17

● あまりを求める  
(商も余りも帯小数)

15

目指せ80点!



名まえ

・ 次の筆算をしましょう。商は小数第一位まで求め、あまりもだしましょう。  
(各10点)


①  $97.8 \div 14$


②  $64.4 \div 35$


③  $8.1 \div 6$


④  $5.4 \div 7$


⑤  $86.7 \div 31$



# 小数のわり算 17

● あまりを求める  
(商も余りも帯小数)

16

目指せ80点!



名まえ

・ 次の筆算をしましょう。商は小数第一位まで求め、あまりもだしましょう。  
(各10点)


①  $57.1 \div 43$


②  $99.5 \div 25$


③  $3.9 \div 7$


④  $72.9 \div 21$


⑤  $9.4 \div 4$





# 小数のわり算17

● あまりを求める  
(商も余りも帯小数)



日にち： 月 日

名まえ \_\_\_\_\_

・ 次の筆算をしましょう。商は小数第一位まで求め、あまりもだしましょう。  
(うすい字はなぞりましょう。)

①

			3.7
1	2	)	45.5
			36
			95
			84
			11

②

			2.9
2	6	)	77.4
			52
			254
			234
			20

③

			2.9
3	2	)	94.1
			64
			301
			288
			13

④  $40.9 \div 17$

			2.4
1	7	)	40.9
			34
			69
			68
			0.1

⑤  $58.5 \div 23$

			2.5
2	3	)	58.5
			46
			125
			115
			10

⑥  $76.8 \div 18$

			4.2
1	8	)	76.8
			72
			48
			36
			1.2



# 小数のわり算17

● あまりを求める  
(商も余りも帯小数)



日にち： 月 日

名まえ \_\_\_\_\_

・ 次の筆算をしましょう。商は小数第一位まで求め、あまりもだしましょう。  
(うすい字はなぞりましょう。)

①

			4.4
1	5	)	66.5
			60
			65
			60
			0.5

②

			3.6
1	3	)	47.9
			39
			89
			78
			1.1

③

			4.3
1	6	)	70.2
			64
			62
			48
			1.4

④  $61.9 \div 33$

			1.8
3	3	)	61.9
			33
			289
			264
			2.5

⑤  $58.4 \div 14$

			4.1
1	4	)	58.4
			56
			24
			14
			1.0

⑥  $60.3 \div 13$

			4.6
1	3	)	60.3
			52
			83
			78
			0.5



# 小数のわり算17

● あまりを求める  
(商も余りも帯小数)



日にち： 月 日

名まえ \_\_\_\_\_

・ 次の筆算をしましょう。商は小数第一位まで求め、あまりもだしましょう。  
(うすい字はなぞりましょう。)

①

			1.5
55	)	85.5	
		55	
		305	
		275	
		30	

②

			3.6
27	)	97.3	
		81	
		163	
		162	
		01	

③

			2.8
23	)	66.6	
		46	
		206	
		184	
		22	

④  $79.7 \div 29$

			2.7
29	)	79.7	
		58	
		217	
		203	
		14	

⑤  $49.6 \div 32$

			1.5
32	)	49.6	
		32	
		176	
		160	
		16	

⑥  $51.8 \div 28$

			1.8
28	)	51.8	
		28	
		238	
		224	
		14	



# 小数のわり算17

● あまりを求める  
(商も余りも帯小数)



日にち：            月            日

名まえ \_\_\_\_\_

・ 次の筆算をしましょう。商は小数第一位まで求め、あまりもだしましょう。  
(うすい字はなぞりましょう。)

①

			5.1
14	)	71.6	
		70	
		16	
		14	
		0.2	

②

			2.9
19	)	56.1	
		38	
		181	
		171	
		10	

③

			5.1
12	)	62.1	
		60	
		21	
		12	
		0.9	

④  $87.2 \div 44$

			1.9
44	)	87.2	
		44	
		432	
		396	
		36	

⑤  $52.3 \div 21$

			2.4
21	)	52.3	
		42	
		103	
		84	
		19	

⑥  $62.6 \div 14$

			4.4
14	)	62.6	
		56	
		66	
		56	
		10	



# 小数のわり算17

● あまりを求める  
(商も余りも帯小数)



日にち：            月            日

名まえ \_\_\_\_\_

・ 次の筆算をしましょう。商は小数第一位まで求め、あまりもだしましょう。  
(うすい字はなぞりましょう。)

①

			3.7
1	2	)	45.4
			36
			94
			84
			10

②

			2.5
1	3	)	32.9
			26
			69
			65
			0.4

③

			1.8
2	9	)	52.8
			29
			238
			232
			0.6

④  $81.8 \div 32$

			2.5
3	2	)	81.8
			64
			178
			160
			18

⑤  $46.5 \div 22$

			2.1
2	2	)	46.5
			44
			25
			22
			0.3

⑥  $85.9 \div 39$

			2.2
3	9	)	85.9
			78
			79
			78
			0.1



# 小数のわり算17

● あまりを求める  
(商も余りも帯小数)



日にち：            月            日

名まえ \_\_\_\_\_

・ 次の筆算をしましょう。商は小数第一位まで求め、あまりもだしましょう。  
(うすい字はなぞりましょう。)

①

			1.2
49	)	61.8	
		49	
		128	
		98	
		30	

②

			2.2
43	)	97.5	
		86	
		115	
		86	
		29	

③

			4.6
16	)	74.8	
		64	
		108	
		96	
		12	

④  $69.3 \div 14$

			4.9
14	)	69.3	
		56	
		133	
		126	
		07	

⑤  $51.4 \div 26$

			1.9
26	)	51.4	
		26	
		254	
		234	
		20	

⑥  $42.5 \div 23$

			1.8
23	)	42.5	
		23	
		195	
		184	
		11	



# 小数のわり算17

● あまりを求める  
(商も余りも帯小数)



日にち：            月            日

名まえ \_\_\_\_\_

・ 次の筆算をしましょう。商は小数第一位まで求め、あまりもだしましょう。  
(うすい字はなぞりましょう。)

①

			2.8
24	)	68.2	
		48	
		202	
		192	
		10	

②

			4.8
16	)	78.1	
		64	
		141	
		128	
		13	

③

			1.9
32	)	61.8	
		32	
		298	
		288	
		10	

④  $88.8 \div 18$

			4.9
18	)	88.8	
		72	
		168	
		162	
		0.6	

⑤  $80.2 \div 23$

			3.4
23	)	80.2	
		69	
		112	
		92	
		20	

⑥  $44.3 \div 12$

			3.6
12	)	44.3	
		36	
		83	
		72	
		11	



# 小数のわり算 17

● あまりを求める  
(商も余りも帯小数)



日にち：            月            日

名まえ \_\_\_\_\_

・ 次の筆算をしましょう。商は小数第一位まで求め、あまりもだしましょう。

①

			2.2
28	)	62.7	
		56	
		67	
		56	
		11	

②

			3.1
24	)	76.4	
		72	
		44	
		24	
		20	

③

			1.8
34	)	62.4	
		34	
		284	
		272	
		12	

④  $55.6 \div 21$

			2.6
21	)	55.6	
		42	
		136	
		126	
		10	

⑤  $53.8 \div 11$

			4.8
11	)	53.8	
		44	
		98	
		88	
		10	

⑥  $80.6 \div 24$

			3.3
24	)	80.6	
		72	
		86	
		72	
		14	





# 小数のわり算 17

● あまりを求める  
(商も余りも帯小数)



日にち： 月 日

名まえ \_\_\_\_\_

・ 次の筆算をしましょう。商は小数第一位まで求め、あまりもだしましょう。

①

			2.2
3	9	)	88.2
			78
			102
			78
			2.4

②

			4.4
1	2	)	53.4
			48
			54
			48
			0.6

③

			5.1
1	6	)	82.6
			80
			26
			16
			10

④  $42.4 \div 18$

			2.3
1	8	)	42.4
			36
			64
			54
			10

⑤  $94.9 \div 25$

			3.7
2	5	)	94.9
			75
			199
			175
			24

⑥  $79.6 \div 27$

			2.9
2	7	)	79.6
			54
			256
			243
			13



# 小数のわり算 17

● あまりを求める  
(商も余りも帯小数)



日にち： 月 日

名まえ \_\_\_\_\_

・ 次の筆算をしましょう。商は小数第一位まで求め、あまりもだしましょう。

①  $73.6 \div 35$

			2	.	1	
3	5	)	7	3	.	6
			7	0		
			3	6		
			3	5		
			0	.	1	

②  $86.7 \div 27$

			3	.	2	
2	7	)	8	6	.	7
			8	1		
			5	7		
			5	4		
			0	.	3	

③  $93.9 \div 16$

			5	.	8	
1	6	)	9	3	.	9
			8	0		
			1	3	9	
			1	2	8	
				1	.	1

④  $83.8 \div 24$

			3	.	4	
2	4	)	8	3	.	8
			7	2		
			1	1	8	
			9	6		
			2	.	2	

⑤  $75.1 \div 35$

			2	.	1	
3	5	)	7	5	.	1
			7	0		
			5	1		
			3	5		
			1	.	6	

⑥  $85.5 \div 25$

			3	.	4	
2	5	)	8	5	.	5
			7	5		
			1	0	5	
			1	0	0	
			0	.	5	

⑦  $94.4 \div 19$

			4	.	9	
1	9	)	9	4	.	4
			7	6		
			1	8	4	
			1	7	1	
			1	.	3	

⑧  $7.8 \div 4$

			1	.	9	
4	)	7	.	8		
			4			
			3	8		
			3	6		
			0	.	2	

⑨  $5.3 \div 7$

			0	.	7	
7	)	5	.	3		
			4	9		
			0	.	4	



# 小数のわり算17

●あまりを求める  
(商も余りも帯小数)



日にち： 月 日

名まえ \_\_\_\_\_

・ 次の筆算をしましょう。商は小数第一位まで求め、あまりもだしましょう。

①  $50.6 \div 16$

			3	.	1	
1	6	)	5	0	.	6
			4	8		
			2	6		
			1	6		
			1	0		

②  $66.9 \div 15$

			4	.	4	
1	5	)	6	6	.	9
			6	0		
			6	9		
			6	0		
			0	9		

③  $47.8 \div 12$

			3	.	9	
1	2	)	4	7	.	8
			3	6		
			1	1	8	
			1	0	8	
			1	0		

④  $81.2 \div 24$

			3	.	3	
2	4	)	8	1	.	2
			7	2		
			9	2		
			7	2		
			2	0		

⑤  $71.6 \div 27$

			2	.	6	
2	7	)	7	1	.	6
			5	4		
			1	7	6	
			1	6	2	
			1	4		

⑥  $6.7 \div 9$

			0	.	7
9	)	6	.	7	
			6	3	
			0	4	

⑦  $44.4 \div 16$

			2	.	7	
1	6	)	4	4	.	4
			3	2		
			1	2	4	
			1	1	2	
			1	2		

⑧  $53.6 \div 31$

			1	.	7	
3	1	)	5	3	.	6
			3	1		
			2	2	6	
			2	1	7	
			0	9		

⑨  $8.5 \div 3$

			2	.	8
3	)	8	.	5	
			6		
			2	5	
			2	4	
			0	1	





# 小数のわり算 17

● あまりを求める  
(商も余りも帯小数)

# 12

日にち：            月            日

名まえ \_\_\_\_\_

・ 次の筆算をしましょう。商は小数第一位まで求め、あまりもだしましょう。

①  $68.9 \div 18$

			3.8
18	)	68.9	
		54	
		149	
		144	
		05	

②  $99.9 \div 43$

			2.3
43	)	99.9	
		86	
		139	
		129	
		10	

③  $47.9 \div 36$

			1.3
36	)	47.9	
		36	
		119	
		108	
		11	

④  $85.2 \div 26$

			3.2
26	)	85.2	
		78	
		72	
		52	
		20	

⑤  $43.2 \div 19$

			2.2
19	)	43.2	
		38	
		52	
		38	
		14	

⑥  $82.4 \div 28$

			2.9
28	)	82.4	
		56	
		264	
		252	
		12	

⑦  $80.8 \div 18$

			4.4
18	)	80.8	
		72	
		88	
		72	
		16	

⑧  $8.8 \div 5$

			1.7
5	)	8.8	
		5	
		38	
		35	
		0.3	

⑨  $3.4 \div 6$

			0.5
6	)	3.4	
		30	
		0.4	



# 小数のわり算17

● あまりを求める  
(商も余りも帯小数)

# 13

日にち：      月      日

名まえ \_\_\_\_\_

・ 次の筆算をしましょう。商は小数第一位まで求め、あまりもだしましょう。

①  $46.5 \div 13$

			3	.	5	
1	3	)	4	6	.	5
			3	9		
			<hr/>			
			7	5		
			6	5		
			<hr/>			
			1	0		

②  $61.3 \div 23$

			2	.	6	
2	3	)	6	1	.	3
			4	6		
			<hr/>			
			1	5	3	
			1	3	8	
			<hr/>			
			1	5		

③  $34.7 \div 12$

			2	.	8	
1	2	)	3	4	.	7
			2	4		
			<hr/>			
			1	0	7	
				9	6	
			<hr/>			
			1	1		

④  $59.9 \div 31$

			1	.	9	
3	1	)	5	9	.	9
			3	1		
			<hr/>			
			2	8	9	
			2	7	9	
			<hr/>			
			1	0		

⑤  $83.9 \div 21$

			3	.	9	
2	1	)	8	3	.	9
			6	3		
			<hr/>			
			2	0	9	
			1	8	9	
			<hr/>			
			2	0		

⑥  $4.7 \div 8$

			0	.	5	
8	)	4	.	7		
			4	0		
			<hr/>			
			0	7		

⑦  $61.7 \div 45$

			1	.	3	
4	5	)	6	1	.	7
			4	5		
			<hr/>			
			1	6	7	
			1	3	5	
			<hr/>			
			3	2		

⑧  $71.7 \div 16$

			4	.	4	
1	6	)	7	1	.	7
			6	4		
			<hr/>			
			7	7		
			6	4		
			<hr/>			
			1	3		

⑨  $6.3 \div 4$

			1	.	5	
4	)	6	.	3		
			4			
			<hr/>			
			2	3		
			2	0		
			<hr/>			
			0	3		



# 小数のわり算 17

● あまりを求める  
(商も余りも帯小数)

# 14

日にち：      月      日

名まえ \_\_\_\_\_

・ 次の筆算をしましょう。商は小数第一位まで求め、あまりもだしましょう。

①  $31.8 \div 12$

			2.6
1	2	)	31.8
			24
			78
			72
			0.6

②  $58.7 \div 27$

			2.1
2	7	)	58.7
			54
			47
			27
			20

③  $93.7 \div 28$

			3.3
2	8	)	93.7
			84
			97
			84
			13

④  $40.7 \div 13$

			3.1
1	3	)	40.7
			39
			17
			13
			0.4

⑤  $62.8 \div 14$

			4.4
1	4	)	62.8
			56
			68
			56
			12

⑥  $89.8 \div 37$

			2.4
3	7	)	89.8
			74
			158
			148
			10

⑦  $84.3 \div 25$

			3.3
2	5	)	84.3
			75
			93
			75
			1.8

⑧  $8.3 \div 3$

			2.7
3	)	8.3	
		6	
		23	
		21	
		0.2	

⑨  $4.1 \div 7$

			0.5
7	)	4.1	
		35	
		0.6	



# 小数のわり算 17

● あまりを求める  
(商も余りも帯小数)

# 15

目指せ80点!



## 名まえ

・次の筆算をしましょう。商は小数第一位まで求め、あまりもだしましょう。  
(各10点)

①  $97.8 \div 14$

			6	.	9
1	4	)	9	7	.8
			8	4	
			1	3	8
			1	2	6
			1	.	2

②  $64.4 \div 35$

			1	.	8
3	5	)	6	4	.4
			3	5	
			2	9	4
			2	8	0
			1	.	4

③  $8.1 \div 6$


			1	.	3
6	)	8	.	1	
			6		
			2	1	
			1	8	
			0	.	3

④  $5.4 \div 7$

			0	.	7
7	)	5	.	4	
			4	9	
			0	.	5

⑤  $86.7 \div 31$

			2	.	7
3	1	)	8	6	.7
			6	2	
			2	4	7
			2	1	7
			3	.	0





# 小数のわり算 17

● あまりを求める  
(商も余りも帯小数)

# 16

目指せ80点!



## 名まえ

・次の筆算をしましょう。商は小数第一位まで求め、あまりもだしましょう。  
(各10点)

①  $57.1 \div 43$

			1	.	3	
4	3	)	5	7	.	1
			4	3		
			-----			
			1	4	1	
			1	2	9	
			-----			
			1	.	2	

②  $99.5 \div 25$

			3	.	9	
2	5	)	9	9	.	5
			7	5		
			-----			
			2	4	5	
			2	2	5	
			-----			
			2	.	0	

③  $3.9 \div 7$

			0	.	5	
7	)	3	.	9		
			3	5		
			-----			
			0	.	4	

④  $72.9 \div 21$

			3	.	4	
2	1	)	7	2	.	9
			6	3		
			-----			
			9	9		
			8	4		
			-----			
			1	.	5	

⑤  $9.4 \div 4$

			2	.	3	
4	)	9	.	4		
			8			
			-----			
			1	4		
			1	2		
			-----			
			0	.	2	

