



小数のわり算 19

●わり進み
(2けたの整数 ÷ 1けたの整数)



日にち： 月 日

名まえ _____

・ 次の計算をわりきれぬまでしましょう。(うすい字はなぞりましょう。)

①

		3	7	5
4)	15	.0	0
		12		
		30		
		28		
		20		
		20		
			0	

②

		3	.
6)	21	.0
		18	

③

8)	10		

④ $42 \div 8$

8)	42		

⑤ $30 \div 4$

4)	30		

⑥ $17 \div 4$

4)	17		



小数のわり算 19

●わり進み
(2けたの整数 ÷ 1けたの整数)



日にち： 月 日

名まえ _____

・ 次の計算をわりきれるまでしましょう。(うすい字はなぞりましょう。)

①

		3	2	
4)	13	.00	
		12		
		10		
		8		
		20		

②

		3		
5)	17	.0	
		15		

③

4)	27		

④ $15 \div 4$

4)	15		

⑤ $52 \div 8$

)	52		

⑥ $21 \div 4$

4)	21		



小数のわり算 19

●わり進み
(2けたの整数 ÷ 1けたの整数)



日にち： 月 日

名まえ _____

・ 次の計算をわりきれるまでしましょう。(うすい字はなぞりましょう。)

①

		4	2		
8)	3	4	0	0
		3	2		
		2	0		
		1	6		

②

		4		
5)	2	3	0

③

4)	2	3	

④ $14 \div 8$

)	1	4		

⑤ $26 \div 4$

)				

⑥ $30 \div 8$

)	3	0		



小数のわり算 19

●わり進み
(2けたの整数 ÷ 1けたの整数)



日にち： 月 日

名まえ _____

・ 次の計算をわりきれるまでしましょう。(うすい字はなぞりましょう。)

①

		7		
4)	29	.	00
		28		
		10		

②

5)	14	.	0

③

8)	14		

④ $11 \div 4$

)	1	1		

⑤ $21 \div 6$

)	2	1		

⑥ $25 \div 4$

)	2	5		



小数のわり算 19

●わり進み
(2けたの整数 ÷ 1けたの整数)



日にち： 月 日

名まえ

・ 次の計算をわりきれるまでしましょう。(うすい字はなぞりましょう。)

①

4)	19	

②

5)	13	

③

4)	25	

④

$30 \div 8$

8)	30	

⑤

$27 \div 6$

⑥

$50 \div 8$



小数のわり算 19

●わり進み
(2けたの整数 ÷ 1けたの整数)



日にち： 月 日

名まえ _____

・ 次の計算をわりきれるまでしましょう。(うすい字はなぞりましょう。)

①

8)	3	4	

②

8)	3	6	

③

4)	1	3	

④

50 ÷ 8

5	0		
)			

⑤

18 ÷ 5

1	8		
)			

⑥

22 ÷ 8



小数のわり算 19

●わり進み
(2けたの整数 ÷ 1けたの整数)



日にち： 月 日

名まえ _____

・ 次の計算をわりきれるまでしましょう。(うすい字はなぞりましょう。)

①

8)	1	4	

②

4)	1	7	

③

6)	3	

④

34 ÷ 8

3	4		
)			

⑤

25 ÷ 4

⑥

36 ÷ 5



小数のわり算 19

● わり進み
(2けたの整数 ÷ 1けたの整数)



日にち： 月 日

名まえ _____

・ 次の計算をわりきれるまでしましょう。

①

8)	14	

②

5)	18	

③

4)	29	

④

23 ÷ 4

⑤

26 ÷ 4

⑥

26 ÷ 8



小数のわり算 19

● わり進み
(2けたの整数 ÷ 1けたの整数)



日にち： 月 日

名まえ _____

・ 次の計算をわりきれるまでしましょう

①

4)	17	

②

8)	38	

③

8)	52	

④

$25 \div 4$

⑤

$46 \div 8$

⑥

$45 \div 6$



小数のわり算 19

●わり進み
(2けたの整数 ÷ 1けたの整数)

15

目指せ80点!



名まえ

・ 次の計算をわりきれるまでしましょう。(各20点)

① $22 \div 8$

② $29 \div 4$

③ $39 \div 6$

④ $17 \div 4$

⑤ $2 \div 8$





小数のわり算 19

●わり進み
(2けたの整数 ÷ 1けたの整数)



目指せ80点!



名まえ

・ 次の計算をわりきれるまでしましょう。(各20点)


① $29 \div 4$




② $22 \div 8$





③ $28 \div 8$



④ $9 \div 4$



⑤ $25 \div 4$





小数のわり算 19

●わり進み
(2けたの整数 ÷ 1けたの整数)



日にち： 月 日

名まえ _____

・ 次の計算をわりきれぬまでしましょう。(うすい字はなぞりましょう。)

①

		3	7	5
4)	15	00	
		12		
		30		
		28		
		20		
		20		
		0		

②

		3	5	
6)	21	0	
		18		
		30		
		30		
		0		

③

		1	2	5
8)	10	00	
		8		
		20		
		16		
		40		
		40		
		0		

④ 42 ÷ 8

		5	2	5
8)	42	00	
		40		
		20		
		16		
		40		
		40		
		0		

⑤ 30 ÷ 4

		7	5	
4)	30	0	
		28		
		20		
		20		
		0		

⑥ 17 ÷ 4

		4	2	5
4)	17	00	
		16		
		10		
		8		
		20		
		20		
		0		



小数のわり算 19

●わり進み
(2けたの整数 ÷ 1けたの整数)



日にち： 月 日

名まえ _____

・ 次の計算をわりきれぬまでしましょう。(うすい字はなぞりましょう。)

①

		3	.	2	5
4)	1	3	0	0
		1	2		

		1	0		
			8		

		2	0		
			2	0	

			0		

②

		3	.	4
5)	1	7	0
		1	5	

		2	0	
			2	0

			0	

③

		6	.	7	5
4)	2	7	0	0
		2	4		

		3	0		
			2	8	

			2	0	
			2	0	

			0		

④ $15 \div 4$

		3	.	7	5
4)	1	5	0	0
		1	2		

		3	0		
			2	8	

		2	0		
			2	0	

			0		

⑤ $52 \div 8$

		6	.	5
8)	5	2	0
		4	8	

		4	0	
			4	0

			0	

⑥ $21 \div 4$

		5	.	2	5
4)	2	1	0	0
		2	0		

		1	0		
			8		

			2	0	
			2	0	

			0		





小数のわり算 19

●わり進み
(2けたの整数 ÷ 1けたの整数)



日にち： 月 日

名まえ _____

・ 次の計算をわりきれぬまでしましょう。(うすい字はなぞりましょう。)

①

		4	.	2	5	
8)	3	4	.	0	0
		3	2			
		—				
		2	0			
		1	6			
		—				
		4	0			
		4	0			
		—				
			0			

②

		4	.	6	
5)	2	3	.	0
		2	0		
		—			
		3	0		
		3	0		
		—			
			0		

③

		5	.	7	5	
4)	2	3	.	0	0
		2	0			
		—				
		3	0			
		2	8			
		—				
			2	0		
			2	0		
		—				
				0		

④ $14 \div 8$

		1	.	7	5	
8)	1	4	.	0	0
		8				
		—				
		6	0			
		5	6			
		—				
		4	0			
		4	0			
		—				
			0			

⑤ $26 \div 4$

		6	.	5	
4)	2	6	.	0
		2	4		
		—			
		2	0		
		2	0		
		—			
			0		

⑥ $30 \div 8$

		3	.	7	5	
8)	3	0	.	0	0
		2	4			
		—				
		6	0			
		5	6			
		—				
			4	0		
			4	0		
		—				
				0		



小数のわり算 19

●わり進み
(2けたの整数 ÷ 1けたの整数)



日にち： 月 日

名まえ _____

・ 次の計算をわりきれぬまでしましょう。(うすい字はなぞりましょう。)

①

		7	.	2	5	
4)	2	9	.	0	0
		2	8			
		1	0			
			8			
			2	0		
			2	0		
				0		

②

		2	.	8	
5)	1	4	.	0
		1	0		
			4	0	
			4	0	
				0	

③

		1	.	7	5	
8)	1	4	.	0	0
		8				
		6	0			
		5	6			
			4	0		
			4	0		
				0		

④ $11 \div 4$

		2	.	7	5	
4)	1	1	.	0	0
		8				
		3	0			
		2	8			
			2	0		
			2	0		
				0		

⑤ $21 \div 6$

		3	.	5	
6)	2	1	.	0
		1	8		
			3	0	
			3	0	
				0	

⑥ $25 \div 4$

		6	.	2	5	
4)	2	5	.	0	0
		2	4			
			1	0		
				8		
				2	0	
				2	0	
					0	





小数のわり算 19

●わり進み
(2けたの整数 ÷ 1けたの整数)



日にち： 月 日

名まえ _____

・ 次の計算をわりきれぬまでしましょう。(うすい字はなぞりましょう。)

①

		4	.	7	5	
4)	1	9	.	0	0
		1	6			

			3	0		
			2	8		

				2	0	
				2	0	

					0	

②

		2	.	6		
5)	1	3	.	0	
		1	0			

			3	0		
			3	0		

				0		

③

		6	.	2	5	
4)	2	5	.	0	0
		2	4			

			1	0		
				8		

				2	0	
				2	0	

					0	

④ $30 \div 8$

		3	.	7	5	
8)	3	0	.	0	0
		2	4			

			6	0		
			5	6		

				4	0	
				4	0	

					0	

⑤ $27 \div 6$

		4	.	5		
6)	2	7	.	0	
		2	4			

			3	0		
			3	0		

				0		

⑥ $50 \div 8$

		6	.	2	5	
8)	5	0	.	0	0
		4	8			

			2	0		
			1	6		

				4	0	
				4	0	

					0	



小数のわり算 19

●わり進み
(2けたの整数 ÷ 1けたの整数)



日にち： 月 日

名まえ _____

・ 次の計算をわりきれぬまでしましょう。(うすい字はなぞりましょう。)

①

		4	.	2	5	
8)	3	4	.	0	0
		3	2			
		—				
			2	0		
			1	6		
			—			
				4	0	
				4	0	
				—		
					0	

②

		4	.	5	
8)	3	6	.	0
		3	2		
		—			
			4	0	
			4	0	
			—		
				0	

③

		3	.	2	5	
4)	1	3	.	0	0
		1	2			
		—				
			1	0		
				8		
				—		
					2	0
					2	0
					—	
						0

④ $50 \div 8$

		6	.	2	5	
8)	5	0	.	0	0
		4	8			
		—				
			2	0		
			1	6		
			—			
				4	0	
				4	0	
				—		
					0	

⑤ $18 \div 5$

		3	.	6	
5)	1	8	.	0
		1	5		
		—			
			3	0	
			3	0	
			—		
				0	

⑥ $22 \div 8$

		2	.	7	5	
8)	2	2	.	0	0
		1	6			
		—				
			6	0		
			5	6		
			—			
				4	0	
				4	0	
				—		
					0	



小数のわり算 19

●わり進み
(2けたの整数 ÷ 1けたの整数)



日にち： 月 日

名まえ _____

・ 次の計算をわりきれぬまでしましょう。(うすい字はなぞりましょう。)

①

		1	7	5	
8)	1	4	0	0
		8			

		6	0		
		5	6		

		4	0		
		4	0		

			0		

②

		4	2	5	
4)	1	7	0	0
		1	6		

		1	0		
			8		

		2	0		
		2	0		

			0		

③

		6	5	
6)	3	9	0
		3	6	

		3	0	
		3	0	

			0	

④ $34 \div 8$

		4	2	5	
8)	3	4	0	0
		3	2		

		2	0		
		1	6		

		4	0		
		4	0		

			0		

⑤ $25 \div 4$

		6	2	5	
4)	2	5	0	0
		2	4		

		1	0		
			8		

		2	0		
		2	0		

			0		

⑥ $36 \div 5$

		7	2	
5)	3	6	0
		3	5	

		1	0	
		1	0	

			0	



小数のわり算 19

●わり進み
(2けたの整数 ÷ 1けたの整数)



日にち： 月 日

名まえ _____

・ 次の計算をわりきれるまでしましょう。

①

		1	7	5	
		.			
8)	1	4	0	0
		8			

		6	0		
		5	6		

		4	0		
		4	0		

				0	

②

		3	6	
		.		
5)	1	8	0
		1	5	

		3	0	
		3	0	

			0	

③

		7	2	5	
		.			
4)	2	9	0	0
		2	8		

		1	0		
			8		

			2	0	
			2	0	

				0	

④ $23 \div 4$

		5	7	5	
		.			
4)	2	3	0	0
		2	0		

		3	0		
		2	8		

		2	0		
		2	0		

				0	

⑤ $26 \div 4$

		6	5	
		.		
4)	2	6	0
		2	4	

		2	0	
		2	0	

			0	

⑥ $26 \div 8$

		3	2	5	
		.			
8)	2	6	0	0
		2	4		

		2	0		
		1	6		

			4	0	
			4	0	

				0	



小数のわり算 19

●わり進み
(2けたの整数 ÷ 1けたの整数)



日にち： 月 日

名まえ _____

・ 次の計算をわりきれるまでしましょう。

①

		4	.	2	5	
4)	1	7	0	0	
		1	6			

			1	0		
				8		

				2	0	
					2	0

					0	

②

		4	.	7	5	
8)	3	8	0	0	
		3	2			

			6	0		
				5	6	

				4	0	
					4	0

					0	

③

		6	.	5		
8)	5	2	0		
		4	8			

			4	0		
				4	0	

					0	

④ $25 \div 4$

		6	.	2	5	
4)	2	5	0	0	
		2	4			

			1	0		
				8		

				2	0	
					2	0

					0	

⑤ $46 \div 8$

		5	.	7	5	
8)	4	6	0	0	
		4	0			

			6	0		
				5	6	

				4	0	
					4	0

					0	

⑥ $45 \div 6$

		7	.	5		
6)	4	5	0		
		4	2			

			3	0		
				3	0	

					0	



小数のわり算 19

●わり進み
(2けたの整数 ÷ 1けたの整数)



日にち： 月 日

名まえ _____

・ 次の計算をわりきれるまでしましょう。

① $23 \div 4$

		5	7	5
4)	23	00	
		20		
		30		
		28		
		20		
		20		
		0		

② $23 \div 5$

		4	6
5)	23	0
		20	
		30	
		30	
		0	

③ $26 \div 8$

		3	2	5
8)	26	00	
		24		
		20		
		16		
		40		
		40		
		0		

④ $14 \div 8$

		1	7	5
8)	14	00	
		8		
		60		
		56		
		40		
		40		
		0		

⑤ $6 \div 8$

		0	7	5
8)	6	00	
		56		
		40		
		40		
		0		

⑥ $25 \div 4$

		6	2	5
4)	25	00	
		24		
		10		
		8		
		20		
		20		
		0		



小数のわり算 19

●わり進み
(2けたの整数 ÷ 1けたの整数)



日にち： 月 日

名まえ _____

・ 次の計算をわりきれるまでしましょう。

① $25 \div 4$

		6	.	2	5
4)	2	5	0	0
		2	4		
		1	0		
			8		
			2	0	
			2	0	
				0	

② $14 \div 8$

		1	.	7	5
8)	1	4	0	0
		8			
		6	0		
			5	6	
				4	0
				4	0
					0

③ $9 \div 4$

		2	.	2	5
4)	9	0	0	
		8			
		1	0		
			8		
				2	0
				2	0
					0

④ $33 \div 4$

		8	.	2	5
4)	3	3	0	0
		3	2		
		1	0		
			8		
				2	0
				2	0
					0

⑤ $22 \div 8$

		2	.	7	5
8)	2	2	0	0
		1	6		
		6	0		
			5	6	
				4	0
				4	0
					0

⑥ $3 \div 4$

		0	.	7	5
4)	3	0	0	
		2	8		
				2	0
				2	0
					0



小数のわり算 19

●わり進み
(2けたの整数 ÷ 1けたの整数)



日にち： 月 日

名まえ _____

・ 次の計算をわりきれるまでしましょう。

① $34 \div 8$

		4	.	2	5
8)	3	4	0	0
		3	2		
		<hr/>			
		2	0		
		1	6		
		<hr/>			
		4	0		
		4	0		
		<hr/>			
		0			

② $41 \div 5$

		8	.	2
5)	4	1	0
		4	0	
		<hr/>		
		1	0	
		1	0	
		<hr/>		
		0		

③ $29 \div 4$

		7	.	2	5
4)	2	9	0	0
		2	8		
		<hr/>			
		1	0		
			8		
		<hr/>			
			2	0	
			2	0	
		<hr/>			
			0		

④ $27 \div 4$

		6	.	7	5
4)	2	7	0	0
		2	4		
		<hr/>			
		3	0		
		2	8		
		<hr/>			
		2	0		
		2	0		
		<hr/>			
		0			

⑤ $7 \div 4$

		1	.	7	5
4)	7	0	0	
		4			
		<hr/>			
		3	0		
		2	8		
		<hr/>			
		2	0		
		2	0		
		<hr/>			
		0			

⑥ $30 \div 8$

		3	.	7	5
8)	3	0	0	0
		2	4		
		<hr/>			
		6	0		
		5	6		
		<hr/>			
			4	0	
			4	0	
		<hr/>			
			0		





小数のわり算 19

●わり進み
(2けたの整数 ÷ 1けたの整数)

13

日にち： 月 日

名まえ _____

・ 次の計算をわりきれるまでしましょう。

① $58 \div 8$

		7	.	2	5			
8)	5	8	.	0	0		
		5	6					
		—		2	0			
				1	6			
				—		4	0	
						4	0	
						—		0

② $25 \div 4$

		6	.	2	5					
4)	2	5	.	0	0				
		2	4							
		—		1	0					
						8				
						—		2	0	
								2	0	
								—		0

③ $3 \div 4$

		0	.	7	5			
4)	3	.	0	0			
		2	8					
		—		2	0			
						2	0	
						—		0

④ $46 \div 8$

		5	.	7	5			
8)	4	6	.	0	0		
		4	0					
		—		6	0			
				5	6			
				—		4	0	
						4	0	
						—		0

⑤ $33 \div 4$

		8	.	2	5					
4)	3	3	.	0	0				
		3	2							
		—		1	0					
						8				
						—		2	0	
								2	0	
								—		0

⑥ $31 \div 5$

		6	.	2				
5)	3	1	.	0			
		3	0					
		—		1	0			
						1	0	
						—		0



小数のわり算 19

●わり進み
(2けたの整数 ÷ 1けたの整数)



日にち： 月 日

名まえ _____

・ 次の計算をわりきれるまでしましょう。

① $19 \div 4$

		4	7	5
4)	19	00	
		16		
		30		
		28		
		20		
		20		
		0		

② $2 \div 8$

		2	5
8)	20	0
		16	
		40	
		40	
		0	

③ $14 \div 8$

		1	7	5
8)	14	00	
		8		
		60		
		56		
		40		
		40		
		0		

④ $22 \div 8$

		2	7	5
8)	22	00	
		16		
		60		
		56		
		40		
		40		
		0		

⑤ $45 \div 6$

		7	5
6)	45	0
		42	
		30	
		30	
		0	

⑥ $38 \div 8$

		4	7	5
8)	38	00	
		32		
		60		
		56		
		40		
		40		
		0		



小数のわり算 19

●わり進み
(2けたの整数 ÷ 1けたの整数)

15

目指せ80点!



名まえ

・ 次の計算をわりきれるまでしましょう。(各20点)

① $22 \div 8$

		2	7	5	
8)	2	2	0	0
		1	6		
		6	0		
		5	6		
		4	0		
		4	0		
			0		

② $29 \div 4$

		7	2	5	
4)	2	9	0	0
		2	8		
		1	0		
			8		
			2	0	
			2	0	
				0	

③ $39 \div 6$

		6	5	
6)	3	9	0
		3	6	
			3	0
			3	0
				0

④ $17 \div 4$

		4	2	5	
4)	1	7	0	0
		1	6		
			1	0	
			8		
			2	0	
			2	0	
				0	

⑤ $2 \div 8$

		0	2	5
8)	2	0	0
		1	6	
			4	0
			4	0
				0





小数のわり算 19

●わり進み
(2けたの整数 ÷ 1けたの整数)

16

目指せ80点!



名まえ

・ 次の計算をわりきれぬまでしましょう。(各20点)

① $29 \div 4$

		7	.	2	5	
4)	2	9	.	0	0
		2	8			
		1	0			
			8			
			2	0		
			2	0		
				0		

② $22 \div 8$

		2	.	7	5	
8)	2	2	.	0	0
		1	6			
			6	0		
			5	6		
				4	0	
				4	0	
					0	

③ $28 \div 8$

		3	.	5	
8)	2	8	.	0
		2	4		
			4	0	
			4	0	
				0	

④ $9 \div 4$

		2	.	2	5
4)	9	.	0	0
		8			
		1	0		
			8		
			2	0	
			2	0	
				0	

⑤ $25 \div 4$

		6	.	2	5	
4)	2	5	.	0	0
		2	4			
			1	0		
				8		
				2	0	
				2	0	
					0	

