



小数のわり算 2

● 小数第一位までの
帯小数 ÷ 1けたの整数



日にち： 月 日

名まえ _____

・ 次の計算をなさい。（うすい字はなぞりましょう。）

①

	1	4
2)	2.8
	2	
		8
		8
		0

②

	2	
4)	9.2
	8	
	1	2

③

3)	5.7

④ $4.8 \div 3$

3)	4.8

⑤ $7.2 \div 4$

)	

⑥ $3.6 \div 2$

)	

⑦ $4.5 \div 3$

)	

⑧ $9.6 \div 3$

)	

⑨ $3.2 \div 2$

)	





小数のわり算 2

● 小数第一位までの
帯小数 ÷ 1けたの整数



日にち： 月 日

名まえ _____

・ 次の計算をなさい。（うすい字はなぞりましょう。）

①

	2	4
3)	7.2
	6	
	1	2

②

	1	
4)	6.8
	4	
	2	8

③

3)	8.7

④ $8.4 \div 6$

6)	8.4

⑤ $4.5 \div 3$

)	

⑥ $7.8 \div 3$

)	

⑦ $9.6 \div 3$

)	

⑧ $9.5 \div 5$

)	

⑨ $8.4 \div 7$

)	



小数のわり算 2

● 小数第一位までの
帯小数 ÷ 1けたの整数



日にち： 月 日

名まえ _____

・ 次の計算をしなさい。（うすい字はなぞりましょう。）

①

	1	
3)	5.1
		3
		21

②

	1	
2)	3.4
		2

③

5)	6.5

④ 4.6 ÷ 2

2)	4.6

⑤ 7.6 ÷ 4

)	

⑥ 9.2 ÷ 4

)	

⑦ 9.8 ÷ 7

)	

⑧ 8.6 ÷ 2

)	

⑨ 4.8 ÷ 3

)	



小数のわり算 2

● 小数第一位までの
帯小数 ÷ 1けたの整数



日にち： 月 日

名まえ _____

・ 次の計算をしなさい。（うすい字はなぞりましょう。）

①

		3.	
2)	7.6	
		6	

②

4)	7.2	

③

3)	9.6	

④ $7.2 \div 2$

2)	7.2	

⑤ $5.2 \div 4$

)		

⑥ $5.7 \div 3$

)		

⑦ $6.3 \div 3$

)		

⑧ $7.8 \div 3$

)		

⑨ $7.2 \div 3$

)		





小数のわり算 2

● 小数第一位までの
帯小数 ÷ 1けたの整数



日にち： 月 日

名まえ _____

・ 次の計算をなさい。（うすい字はなぞりましょう。）

①

4)	5.2

②

2)	2.8

③

3)	7.2

④ 5.6 ÷ 4

4)	5.6

⑤ 8.4 ÷ 7

)	

⑥ 8.1 ÷ 3

)	

⑦ 8.4 ÷ 4

)	

⑧ 4.2 ÷ 3

)	

⑨ 8.4 ÷ 6

)	



小数のわり算 2

● 小数第一位までの
帯小数 ÷ 1けたの整数



日にち： 月 日

名まえ _____

・ 次の計算をしなさい。（うすい字はなぞりましょう。）

①

2)	6.4

②

2)	3.4

③

6)	7.8

④ $7.6 \div 4$

4)	7.6

⑤ $5.2 \div 4$

)	

⑥ $9.1 \div 7$

)	

⑦ $9.8 \div 7$

)	

⑧ $5.7 \div 3$

)	

⑨ $8.4 \div 4$

)	



小数のわり算 2

● 小数第一位までの
帯小数 ÷ 1けたの整数



日にち： 月 日

名まえ _____

・ 次の計算をしなさい。（うすい字はなぞりましょう。）

①

3)	7.2

②

2)	5.8

③

8)	9.6

④ $7.5 \div 5$

)	

⑤ $6.2 \div 2$

)	

⑥ $8.1 \div 3$

)	

⑦ $9.6 \div 4$

)	

⑧ $7.6 \div 4$

)	

⑨ $3.8 \div 2$

)	





小数のわり算 2

● 小数第一位までの
帯小数 ÷ 1けたの整数



日にち： 月 日

名まえ _____

・ 次の計算をしなさい。

①

3)	5.7

②

4)	4.8

③

4)	6.4

④ $7.8 \div 6$

⑤ $8.4 \div 3$

)	

⑥ $7.5 \div 5$

⑦ $7.4 \div 2$

⑧ $9.6 \div 3$

⑨ $9.2 \div 4$



小数のわり算 2

● 小数第一位までの
帯小数 ÷ 1けたの整数



日にち： 月 日

名まえ _____

・ 次の計算をなさい。

①

2)	5.4

②

5)	6.5

③

3)	8.7

④ $9.8 \div 2$

⑤ $4.5 \div 3$

)	

⑥ $5.2 \div 4$

⑦ $6.4 \div 2$

⑧ $7.2 \div 6$

⑨ $8.4 \div 7$



小数のわり算 2

● 小数第一位までの
帯小数 ÷ 1けたの整数



日にち： 月 日

名まえ _____

・ 次の計算をしなさい。

①

3)	5.4

②

2)	8.2

③

4)	6.4

④ $8.4 \div 7$

⑤ $7.2 \div 6$

⑥ $9.6 \div 4$

⑦ $4.2 \div 3$

⑧ $8.4 \div 4$

⑨ $7.2 \div 3$



小数のわり算 2

● 小数第一位までの
帯小数 ÷ 1けたの整数



日にち： 月 日

名まえ _____

・ 次の計算をなさい。

①

6)	8.4

②

3)	3.9

③

4)	9.2

④ $5.4 \div 2$

⑤ $9.2 \div 4$

⑥ $6.4 \div 4$

⑦ $9.1 \div 7$

⑧ $7.5 \div 5$

⑨ $8.2 \div 2$



小数のわり算 2

● 小数第一位までの
帯小数 ÷ 1けたの整数



日にち： 月 日

名まえ _____

・ 次の計算をしなさい。

①

2)	9.8

②

3)	7.2

③

3)	4.8

④ $4.6 \div 2$

⑤ $8.4 \div 6$

⑥ $6.5 \div 5$

⑦ $9.6 \div 8$

⑧ $7.2 \div 6$

⑨ $2.6 \div 2$



小数のわり算 2

● 小数第一位までの
帯小数 ÷ 1けたの整数



日にち： 月 日

名まえ _____

・ 次の計算をなさい。

①

2)	9.4

②

4)	4.8

③

6)	9.6

④ $3.4 \div 2$

⑤ $7.6 \div 4$

⑥ $5.4 \div 3$

⑦ $9.6 \div 4$

⑧ $9.3 \div 3$

⑨ $4.8 \div 3$



小数のわり算 2

● 小数第一位までの
帯小数 ÷ 1けたの整数



日にち： 月 日

名まえ _____

・ 次の計算をなさい。

①

3)	7.5

②

6)	7.8

③

6)	7.2

④ $6.4 \div 4$

⑤ $8.2 \div 2$

⑥ $9.6 \div 8$

⑦ $9.1 \div 7$

⑧ $4.8 \div 4$

⑨ $8.7 \div 3$




小数のわり算 2

○ 小数第一位までの
帯小数 ÷ 1けたの整数

15

目指せ80点!



名まえ _____

・ 次の計算をなさい。(各10点)

①

3)	4.2

②

4)	5.6

③

3)	3.9

④

2)	3.2

⑤ $7.2 \div 3$

⑥ $8.4 \div 6$

⑦ $6.5 \div 5$

⑧ $9.6 \div 8$

⑨ $9.6 \div 3$

⑩ $8.4 \div 7$



小数のわり算 2

○ 小数第一位までの
帯小数 ÷ 1けたの整数

16

目指せ80点!



名まえ _____

・ 次の計算をなさい。(各10点)

①

7)	9.1

②

4)	9.6

③

2)	2.4

④

6)	7.2

⑤ $7.5 \div 3$

⑥ $7.8 \div 2$

⑦ $6.8 \div 4$

⑧ $9.2 \div 4$

⑨ $3.2 \div 2$

⑩ $9.6 \div 3$



小数のわり算 2

● 小数第一位までの
帯小数 ÷ 1けたの整数



日にち： 月 日

名まえ _____

・ 次の計算をなさい。（うすい字はなぞりましょう。）

①

	1	.	4
2)	2	.8
		2	
			8
			8
			0

②

	2	.	3
4)	9	.2
		8	
			12
			12
			0

③

	1	.	9
3)	5	.7
		3	
			27
			27
			0

④ $4.8 \div 3$

	1	.	6
3)	4	.8
		3	
			18
			18
			0

⑤ $7.2 \div 4$

	1	.	8
4)	7	.2
		4	
			32
			32
			0

⑥ $3.6 \div 2$

	1	.	8
2)	3	.6
		2	
			16
			16
			0

⑦ $4.5 \div 3$

	1	.	5
3)	4	.5
		3	
			15
			15
			0

⑧ $9.6 \div 3$

	3	.	2
3)	9	.6
		9	
			6
			6
			0

⑨ $3.2 \div 2$

	1	.	6
2)	3	.2
		2	
			12
			12
			0





小数のわり算 2

● 小数第一位までの
帯小数 ÷ 1けたの整数



日にち： 月 日

名まえ _____

・ 次の計算をなさい。（うすい字はなぞりましょう。）

①

	2	.	4	
3)	7	.	2
	6			
	1	2		
	1	2		
	1	0		

②

	1	.	7	
4)	6	.	8
	4			
	2	8		
	2	8		
		0		

③

	2	.	9	
3)	8	.	7
	6			
	2	7		
	2	7		
		0		

④ $8.4 \div 6$

	1	.	4	
6)	8	.	4
	6			
	2	4		
	2	4		
		0		

⑤ $4.5 \div 3$

	1	.	5	
3)	4	.	5
	3			
	1	5		
	1	5		
		0		

⑥ $7.8 \div 3$

	2	.	6	
3)	7	.	8
	6			
	1	8		
	1	8		
		0		

⑦ $9.6 \div 3$

	3	.	2	
3)	9	.	6
	9			
		6		
		6		
		0		

⑧ $9.5 \div 5$

	1	.	9	
5)	9	.	5
	5			
	4	5		
	4	5		
		0		

⑨ $8.4 \div 7$

	1	.	2	
7)	8	.	4
	7			
	1	4		
	1	4		
		0		



小数のわり算 2

● 小数第一位までの
帯小数 ÷ 1けたの整数



日にち： 月 日

名まえ _____

・ 次の計算をしなさい。（うすい字はなぞりましょう。）

①

	1	.	7	
3)	5	.	1
		3		
		2	1	
		2	1	
		1	0	

②

	1	.	7	
2)	3	.	4
		2		
		1	4	
		1	4	
			0	

③

	1	.	3	
5)	6	.	5
		5		
		1	5	
		1	5	
			0	

④ $4.6 \div 2$

	2	.	3	
2)	4	.	6
		4		
			6	
			6	
			0	

⑤ $7.6 \div 4$

	1	.	9	
4)	7	.	6
		4		
		3	6	
		3	6	
			0	

⑥ $9.2 \div 4$

	2	.	3	
4)	9	.	2
		8		
		1	2	
		1	2	
			0	

⑦ $9.8 \div 7$

	1	.	4	
7)	9	.	8
		7		
		2	8	
		2	8	
			0	

⑧ $8.6 \div 2$

	4	.	3	
2)	8	.	6
		8		
			6	
			6	
			0	

⑨ $4.8 \div 3$

	1	.	6	
3)	4	.	8
		3		
		1	8	
		1	8	
			0	





小数のわり算 2

● 小数第一位までの
帯小数 ÷ 1けたの整数



日にち： 月 日

名まえ _____

・ 次の計算をなさい。（うすい字はなぞりましょう。）

①

	3	.	8	
2)	7	.	6
	6			
		1	6	
		1	6	
				0

②

	1	.	8	
4)	7	.	2
	4			
		3	2	
		3	2	
				0

③

	3	.	2	
3)	9	.	6
	9			
				6
				6
				0

④ $7.2 \div 2$

	3	.	6	
2)	7	.	2
	6			
		1	2	
		1	2	
				0

⑤ $5.2 \div 4$

	1	.	3	
4)	5	.	2
	4			
		1	2	
		1	2	
				0

⑥ $5.7 \div 3$

	1	.	9	
3)	5	.	7
	3			
		2	7	
		2	7	
				0

⑦ $6.3 \div 3$

	2	.	1	
3)	6	.	3
	6			
			3	
			3	
				0

⑧ $7.8 \div 3$

	2	.	6	
3)	7	.	8
	6			
		1	8	
		1	8	
				0

⑨ $7.2 \div 3$

	2	.	4	
3)	7	.	2
	6			
		1	2	
		1	2	
				0



小数のわり算 2

● 小数第一位までの
帯小数 ÷ 1けたの整数



日にち： 月 日

名まえ _____

・ 次の計算をしなさい。（うすい字はなぞりましょう。）

①

	1	3
4)	5.2
	4	
	1	2
	1	2
		0

②

	1	4
2)	2.8
	2	
		8
		8
		0

③

	2	4
3)	7.2
	6	
	1	2
	1	2
		0

④ $5.6 \div 4$

	1	4
4)	5.6
	4	
	1	6
	1	6
		0

⑤ $8.4 \div 7$

	1	2
7)	8.4
	7	
	1	4
	1	4
		0

⑥ $8.1 \div 3$

	2	7
3)	8.1
	6	
	2	1
	2	1
		0

⑦ $8.4 \div 4$

	2	1
4)	8.4
	8	
		4
		4
		0

⑧ $4.2 \div 3$

	1	4
3)	4.2
	3	
	1	2
	1	2
		0

⑨ $8.4 \div 6$

	1	4
6)	8.4
	6	
	2	4
	2	4
		0





小数のわり算 2

● 小数第一位までの
帯小数 ÷ 1けたの整数



日にち： 月 日

名まえ _____

・ 次の計算をなさい。（うすい字はなぞりましょう。）

①

		3	.	2
2)	6	.	4
		6		
				4
				4
				0

②

		1	.	7	
2)	3	.	4	
		2			
				1	4
				1	4
					0

③

		1	.	3	
6)	7	.	8	
		6			
				1	8
				1	8
					0

④ $7.6 \div 4$

		1	.	9	
4)	7	.	6	
		4			
				3	6
				3	6
					0

⑤ $5.2 \div 4$

		1	.	3	
4)	5	.	2	
		4			
				1	2
				1	2
					0

⑥ $9.1 \div 7$

		1	.	3	
7)	9	.	1	
		7			
				2	1
				2	1
					0

⑦ $9.8 \div 7$

		1	.	4	
7)	9	.	8	
		7			
				2	8
				2	8
					0

⑧ $5.7 \div 3$

		1	.	9	
3)	5	.	7	
		3			
				2	7
				2	7
					0

⑨ $8.4 \div 4$

		2	.	1
4)	8	.	4
		8		
				4
				4
				0





小数のわり算 2

● 小数第一位までの
帯小数 ÷ 1けたの整数



日にち： 月 日

名まえ _____

・ 次の計算をしなさい。（うすい字はなぞりましょう。）

①

	2	.	4	
3)	7	.	2
	6			
	1	2		
	1	2		
			0	

②

	2	.	9	
2)	5	.	8
	4			
	1	8		
	1	8		
			0	

③

	1	.	2	
8)	9	.	6
	8			
	1	6		
	1	6		
			0	

④ $7.5 \div 5$

	1	.	5	
5)	7	.	5
	5			
	2	5		
	2	5		
			0	

⑤ $6.2 \div 2$

	3	.	1	
2)	6	.	2
	6			
		2		
		2		
			0	

⑥ $8.1 \div 3$

	2	.	7	
3)	8	.	1
	6			
	2	1		
	2	1		
			0	

⑦ $9.6 \div 4$

	2	.	4	
4)	9	.	6
	8			
	1	6		
	1	6		
			0	

⑧ $7.6 \div 4$

	1	.	9	
4)	7	.	6
	4			
	3	6		
	3	6		
			0	

⑨ $3.8 \div 2$

	1	.	9	
2)	3	.	8
	2			
	1	8		
	1	8		
			0	





小数のわり算 2

● 小数第一位までの
帯小数 ÷ 1けたの整数



日にち： 月 日

名まえ _____

・ 次の計算をしなさい。

①

	1	.	9	
3)	5	.	7
		3		
		<hr/>		
		2	7	
		2	7	
		<hr/>		
			0	

②

	1	.	2	
4)	4	.	8
		4		
		<hr/>		
			8	
			8	
		<hr/>		
			0	

③

	1	.	6	
4)	6	.	4
		4		
		<hr/>		
		2	4	
		2	4	
		<hr/>		
			0	

④ $7.8 \div 6$

	1	.	3	
6)	7	.	8
		6		
		<hr/>		
		1	8	
		1	8	
		<hr/>		
			0	

⑤ $8.4 \div 3$

	2	.	8	
3)	8	.	4
		6		
		<hr/>		
		2	4	
		2	4	
		<hr/>		
			0	

⑥ $7.5 \div 5$

	1	.	5	
5)	7	.	5
		5		
		<hr/>		
		2	5	
		2	5	
		<hr/>		
			0	

⑦ $7.4 \div 2$

	3	.	7	
2)	7	.	4
		6		
		<hr/>		
		1	4	
		1	4	
		<hr/>		
			0	

⑧ $9.6 \div 3$

	3	.	2	
3)	9	.	6
		9		
		<hr/>		
			6	
			6	
		<hr/>		
			0	

⑨ $9.2 \div 4$

	2	.	3	
4)	9	.	2
		8		
		<hr/>		
		1	2	
		1	2	
		<hr/>		
			0	



小数のわり算 2

● 小数第一位までの
帯小数 ÷ 1けたの整数



日にち： 月 日

名まえ _____

・ 次の計算をしなさい。

①

	2	.	7
2)	5	.4
		4	
		1	4
		1	4
			0

②

	1	.	3
5)	6	.5
		5	
		1	5
		1	5
			0

③

	2	.	9
3)	8	.7
		6	
		2	7
		2	7
			0

④ $9.8 \div 2$

	4	.	9
2)	9	.8
		8	
		1	8
		1	8
			0

⑤ $4.5 \div 3$

	1	.	5
3)	4	.5
		3	
		1	5
		1	5
			0

⑥ $5.2 \div 4$

	1	.	3
4)	5	.2
		4	
		1	2
		1	2
			0

⑦ $6.4 \div 2$

	3	.	2
2)	6	.4
		6	
			4
			4
			0

⑧ $7.2 \div 6$

	1	.	2
6)	7	.2
		6	
		1	2
		1	2
			0

⑨ $8.4 \div 7$

	1	.	2
7)	8	.4
		7	
		1	4
		1	4
			0





小数のわり算 2

● 小数第一位までの
帯小数 ÷ 1けたの整数



日にち： 月 日

名まえ _____

・ 次の計算をしなさい。

①

	1	8
3)	5.4
	3	
	2	4
	2	4
		0

②

	4	1
2)	8.2
	8	
		2
		2
		0

③

	1	6
4)	6.4
	4	
	2	4
	2	4
		0

④ $8.4 \div 7$

	1	2
7)	8.4
	7	
	1	4
	1	4
		0

⑤ $7.2 \div 6$

	1	2
6)	7.2
	6	
	1	2
	1	2
		0

⑥ $9.6 \div 4$

	2	4
4)	9.6
	8	
	1	6
	1	6
		0

⑦ $4.2 \div 3$

	1	4
3)	4.2
	3	
	1	2
	1	2
		0

⑧ $8.4 \div 4$

	2	1
4)	8.4
	8	
		4
		4
		0

⑨ $7.2 \div 3$

	2	4
3)	7.2
	6	
	1	2
	1	2
		0





小数のわり算 2

● 小数第一位までの
帯小数 ÷ 1けたの整数



日にち： 月 日

名まえ _____

・ 次の計算をしなさい。

①

	1	4
6)	8.4
	6	
	2	4
	2	4
		0

②

	1	3
3)	3.9
	3	
		9
		9
		0

③

	2	3
4)	9.2
	8	
	1	2
	1	2
		0

④ $5.4 \div 2$

	2	7
2)	5.4
	4	
	1	4
	1	4
		0

⑤ $9.2 \div 4$

	2	3
4)	9.2
	8	
	1	2
	1	2
		0

⑥ $6.4 \div 4$

	1	6
4)	6.4
	4	
	2	4
	2	4
		0

⑦ $9.1 \div 7$

	1	3
7)	9.1
	7	
	2	1
	2	1
		0

⑧ $7.5 \div 5$

	1	5
5)	7.5
	5	
	2	5
	2	5
		0

⑨ $8.2 \div 2$

	4	1
2)	8.2
	8	
		2
		2
		0



小数のわり算 2

● 小数第一位までの
帯小数 ÷ 1けたの整数



日にち： 月 日

名まえ _____

・ 次の計算をしなさい。

①

	4	9
2)	9.8
	8	
	1	8
	1	8
		0

②

	2	4
3)	7.2
	6	
	1	2
	1	2
		0

③

	1	6
3)	4.8
	3	
	1	8
	1	8
		0

④ $4.6 \div 2$

	2	3
2)	4.6
	4	
		6
		6
		0

⑤ $8.4 \div 6$

	1	4
6)	8.4
	6	
	2	4
	2	4
		0

⑥ $6.5 \div 5$

	1	3
5)	6.5
	5	
	1	5
	1	5
		0

⑦ $9.6 \div 8$

	1	2
8)	9.6
	8	
	1	6
	1	6
		0

⑧ $7.2 \div 6$

	1	2
6)	7.2
	6	
	1	2
	1	2
		0

⑨ $2.6 \div 2$

	1	3
2)	2.6
	2	
		6
		6
		0



小数のわり算 2

● 小数第一位までの
帯小数 ÷ 1けたの整数



日にち： 月 日

名まえ _____

・ 次の計算をしなさい。

①

	4	7
2)	9.4
	8	
	1	4
	1	4
		0

②

	1	2
4)	4.8
	4	
		8
		8
		0

③

	1	6
6)	9.6
	6	
	3	6
	3	6
		0

④ $3.4 \div 2$

	1	7
2)	3.4
	2	
	1	4
	1	4
		0

⑤ $7.6 \div 4$

	1	9
4)	7.6
	4	
	3	6
	3	6
		0

⑥ $5.4 \div 3$

	1	8
3)	5.4
	3	
	2	4
	2	4
		0

⑦ $9.6 \div 4$

	2	4
4)	9.6
	8	
	1	6
	1	6
		0

⑧ $9.3 \div 3$

	3	1
3)	9.3
	9	
		3
		3
		0

⑨ $4.8 \div 3$

	1	6
3)	4.8
	3	
	1	8
	1	8
		0



小数のわり算 2

● 小数第一位までの
帯小数 ÷ 1けたの整数



日にち： 月 日

名まえ _____

・ 次の計算をしなさい。

①

	2	5
3)	7.5
	6	
	1	5
	1	5
		0

②

	1	3
6)	7.8
	6	
	1	8
	1	8
		0

③

	1	2
6)	7.2
	6	
	1	2
	1	2
		0

④ $6.4 \div 4$

	1	6
4)	6.4
	4	
	2	4
	2	4
		0

⑤ $8.2 \div 2$

	4	1
2)	8.2
	8	
		2
		2
		0

⑥ $9.6 \div 8$

	1	2
8)	9.6
	8	
	1	6
	1	6
		0

⑦ $9.1 \div 7$

	1	3
7)	9.1
	7	
	2	1
	2	1
		0

⑧ $4.8 \div 4$

	1	2
4)	4.8
	4	
		8
		8
		0

⑨ $8.7 \div 3$

	2	9
3)	8.7
	6	
	2	7
	2	7
		0






小数のわり算 2

○ 小数第一位までの
帯小数 ÷ 1けたの整数

15

目指せ80点!



名まえ

・ 次の計算をしなさい。(各10点)

①

	1	4
3)	4.2
	3	
	1	2
	1	2
		0

②

	1	4
4)	5.6
	4	
	1	6
	1	6
		0

③

	1	3
3)	3.9
	3	
		9
		9
		0

④

	1	6
2)	3.2
	2	
	1	2
	1	2
		0

⑤ 7.2 ÷ 3

	2	4
3)	7.2
	6	
	1	2
	1	2
		0

⑥ 8.4 ÷ 6

	1	4
6)	8.4
	6	
	2	4
	2	4
		0

⑦ 6.5 ÷ 5

	1	3
5)	6.5
	5	
	1	5
	1	5
		0

⑧ 9.6 ÷ 8

	1	2
8)	9.6
	8	
	1	6
	1	6
		0

⑨ 9.6 ÷ 3

	3	2
3)	9.6
	9	
		6
		6
		0

⑩ 8.4 ÷ 7

	1	2
7)	8.4
	7	
	1	4
	1	4
		0




小数のわり算 2

○ 小数第一位までの
帯小数 ÷ 1けたの整数

16

目指せ80点!



名まえ

・ 次の計算をしなさい。(各10点)

①

$$\begin{array}{r} 1.3 \\ 7 \overline{)9.1} \\ \underline{7} \\ 21 \\ \underline{21} \\ 0 \end{array}$$

②

$$\begin{array}{r} 2.4 \\ 4 \overline{)9.6} \\ \underline{8} \\ 16 \\ \underline{16} \\ 0 \end{array}$$

③

$$\begin{array}{r} 1.2 \\ 2 \overline{)2.4} \\ \underline{2} \\ 4 \\ \underline{4} \\ 0 \end{array}$$

④

$$\begin{array}{r} 1.2 \\ 6 \overline{)7.2} \\ \underline{6} \\ 12 \\ \underline{12} \\ 0 \end{array}$$

⑤ $7.5 \div 3$

$$\begin{array}{r} 2.5 \\ 3 \overline{)7.5} \\ \underline{6} \\ 15 \\ \underline{15} \\ 0 \end{array}$$

⑥ $7.8 \div 2$

$$\begin{array}{r} 3.9 \\ 2 \overline{)7.8} \\ \underline{6} \\ 18 \\ \underline{18} \\ 0 \end{array}$$

⑦ $6.8 \div 4$

$$\begin{array}{r} 1.7 \\ 4 \overline{)6.8} \\ \underline{4} \\ 28 \\ \underline{28} \\ 0 \end{array}$$

⑧ $9.2 \div 4$

$$\begin{array}{r} 2.3 \\ 4 \overline{)9.2} \\ \underline{8} \\ 12 \\ \underline{12} \\ 0 \end{array}$$

⑨ $3.2 \div 2$

$$\begin{array}{r} 1.6 \\ 2 \overline{)3.2} \\ \underline{2} \\ 12 \\ \underline{12} \\ 0 \end{array}$$

⑩ $9.6 \div 3$

$$\begin{array}{r} 3.2 \\ 3 \overline{)9.6} \\ \underline{9} \\ 6 \\ \underline{6} \\ 0 \end{array}$$