



小数のわり算 20

●わり進み
(整数を2けたの整数でわる)



日にち： 月 日

名まえ _____

・ 次の計算をわりきれぬまでしましょう。(うすい字はなぞりましょう。)

①

			1	5		
1	2)	1	8	.	0
			1	2		
			6	0		
			6	0		
				0		

②

			1			
6	6)	9	9	.	0
			6	6		
			3	3	0	

③

1	6)	5	6

④ $3 \div 75$

			0	0	4
7	5)	3	0	0
			3	0	0
					0

⑤ $2 \div 25$

2	5)	2		

⑥ $6 \div 75$

)	6		

⑦ $49 \div 14$

)			

⑧ $48 \div 32$

)			

⑨ $1 \div 25$

2	5)	1		



小数のわり算 20

●わり進み
(整数を2けたの整数でわる)



日にち： 月 日

名まえ _____

・ 次の計算をわりきれるまでしましょう。(うすい字はなぞりましょう。)

①

2	5)	3	5	.	0
	2	5				
	1	0	0			

②

3	6)	5	4	.	0
	3	6				

③

4	6)	6	9

④ $1 \div 25$

			0	.	0	4
2	5)	1	.	0	0

⑤ $3 \div 75$

)	3	

⑥ $2 \div 25$

)		

⑦ $72 \div 48$

)		

⑧ $85 \div 34$

)		

⑨ $45 \div 18$

1	8)	4	5



小数のわり算 20

●わり進み
(整数を2けたの整数でわる)



日にち： 月 日

名まえ _____

・ 次の計算をわりきれるまでしましょう。(うすい字はなぞりましょう。)

①

			3.		
1	4)	4	9	○

②

			2.		
3	4)	8	5	○

③

3	5)	6	3

④ $3 \div 75$

)	3	

⑤ $2 \div 25$

)		

⑥ $6 \div 75$

)		

⑦ $33 \div 22$

)		

⑧ $57 \div 38$

⑨ $1 \div 25$

)		





小数のわり算 20

●わり進み
(整数を2けたの整数でわる)



日にち： 月 日

名まえ _____

・ 次の計算をわりきれるまでしましょう。(うすい字はなぞりましょう。)

①

			2	.
1	8)	4	5

②

4	4)	6	6

③

1	4)	4	9

④ $1 \div 25$

)	1	

⑤ $3 \div 75$

)		

⑥ $2 \div 25$

)		

⑦ $39 \div 15$

)		

⑧ $69 \div 46$

)		

⑨ $81 \div 18$

)		



小数のわり算 20

●わり進み
(整数を2けたの整数でわる)



日にち： 月 日

名まえ _____

・ 次の計算をわりきれるまでしましょう。(うすい字はなぞりましょう。)

①

2	2)	3	3

②

1	2)	9	0

③

3	5)	9	1

④

6 ÷ 75

)	6	

⑤

3 ÷ 75

⑥

2 ÷ 25

⑦

54 ÷ 45

)	5	4

⑧

1 ÷ 25

⑨

88 ÷ 16

)		



小数のわり算 20

●わり進み
(整数を2けたの整数でわる)



日にち： 月 日

名まえ _____

・ 次の計算をわりきれぬまでしましょう。(うすい字はなぞりましょう。)

①

2	8)	4	2

②

4	5)	7	2

③

1	5)	4	8

④

2 ÷ 25

)	2	

⑤

1 ÷ 25

⑥

3 ÷ 75

⑦

77 ÷ 22

)	7	7

⑧

45 ÷ 25

⑨

6 ÷ 75



小数のわり算 20

●わり進み
(整数を2けたの整数でわる)



日にち： 月 日

名まえ _____

・ 次の計算をわりきれぬまでしましょう。(うすい字はなぞりましょう。)

①

1	5)	2	4

②

2	5)	9	5

③

1	6)	5	6

④

3 ÷ 75

)	3	

⑤

2 ÷ 25

⑥

1 ÷ 25

⑦

63 ÷ 45

)		

⑧

6 ÷ 75

⑨

78 ÷ 12



小数のわり算 20

●わり進み
(整数を2けたの整数でわる)



日にち： 月 日

名まえ _____

・ 次の計算をわりきれるまでしましょう。

①

4	5)	9	9

②

1	4)	9	1

③

2	5)	8	0

④

2 ÷ 25

⑤

3 ÷ 75

⑥

6 ÷ 75

⑦

84 ÷ 35

⑧

57 ÷ 38

⑨

1 ÷ 25



小数のわり算 20

●わり進み
(整数を2けたの整数でわる)



日にち： 月 日

名まえ _____

・ 次の計算をわりきれぬまでしましょう。

①

3	5)	8	4

②

4	5)	8	1

③

3	5)	9	8

④

1 ÷ 25

⑤

6 ÷ 75

⑥

2 ÷ 25

⑦

90 ÷ 36

⑧

3 ÷ 75

⑨

72 ÷ 48





小数のわり算 20

● わり進み
(整数を2けたの整数でわる)



日にち： 月 日

名まえ _____

・ 次の計算をわりきれるまでしましょう。


① $39 \div 26$



② $70 \div 25$



③ $3 \div 75$




④ $21 \div 6$



⑤ $25 \div 2$



⑥ $9 \div 4$





小数のわり算 20

● わり進み
(整数を2けたの整数でわる)



日にち： 月 日


名まえ _____

・ 次の計算をわりきれるまでしましょう。

① $93 \div 15$




② $2 \div 25$



③ $2 \div 8$




④ $98 \div 28$



⑤ $85 \div 25$



⑥ $15 \div 4$





小数のわり算 20

●わり進み
(整数を2けたの整数でわる)



日にち： 月 日

名まえ _____

・ 次の計算をわりきれるまでしましょう。


① $69 \div 15$




② $56 \div 16$




③ $1 \div 25$




④ $7 \div 4$



⑤ $26 \div 8$



⑥ $72 \div 45$





小数のわり算 20

● わり進み
(整数を2けたの整数でわる)



日にち： 月 日

名まえ _____

・ 次の計算をわりきれるまでしましょう。


① $66 \div 15$



② $3 \div 75$




③ $3 \div 4$




④ $69 \div 15$



⑤ $95 \div 25$



⑥ $34 \div 8$





小数のわり算 20

○わり進み
(整数を2けたの整数でわる)

14

日にち： 月 日

名まえ _____

・ 次の計算をわりきれるまでしましょう。

① $63 \div 42$

② $98 \div 35$

③ $3 \div 75$

④ $5 \div 4$

⑤ $17 \div 4$

⑥ $80 \div 32$



小数のわり算 20

●わり進み
(整数を2けたの整数でわる)

15

目指せ80点!



名まえ

・ 次の計算をわりきれるまでしましょう。(各20点)


① $54 \div 12$



② $63 \div 35$





③ $1 \div 25$



④ $34 \div 5$



⑤ $2 \div 8$





小数のわり算 20

●わり進み
(整数を2けたの整数でわる)



目指せ80点!



名まえ

・ 次の計算をわりきれるまでしましょう。(各20点)

① $85 \div 34$




② $6 \div 75$





③ $13 \div 5$



④ $7 \div 4$



⑤ $17 \div 4$





小数のわり算 20

●わり進み
(整数を2けたの整数でわる)



日にち： 月 日

名まえ _____

・ 次の計算をわりきれぬまでしましょう。(うすい字はなぞりましょう。)

①

			1	.	5	
1	2)	1	8	.	0
			1	2		

				6	0	
				6	0	

					0	

②

			1	.	5	
6	6)	9	9	.	0
			6	6		

				3	3	0
				3	3	0

					0	

③

			3	.	5	
1	6)	5	6	.	0
			4	8		

				8	0	
				8	0	

					0	

④ $3 \div 75$

			0	.	0	4	
7	5)	3	.	0	0	
			3	0	0		

					0		

⑤ $2 \div 25$

			0	.	0	8	
2	5)	2	.	0	0	
			2	0	0		

					0		

⑥ $6 \div 75$

			0	.	0	8	
7	5)	6	.	0	0	
			6	0	0		

					0		

⑦ $49 \div 14$

			3	.	5	
1	4)	4	9	.	0
			4	2	0	

				7	0	
				7	0	

					0	

⑧ $48 \div 32$

			1	.	5	
3	2)	4	8	.	0
			3	2	0	

				1	6	0
				1	6	0

					0	

⑨ $1 \div 25$

			0	.	0	4	
2	5)	1	.	0	0	
			1	0	0		

					0		





小数のわり算 20

●わり進み
(整数を2けたの整数でわる)



日にち： 月 日

名まえ _____

・ 次の計算をわりきれぬまでしましょう。(うすい字はなぞりましょう。)

①

			1	.	4
2	5)	3	5	0
			2	5	
			1	0	0
			1	0	0
					0

②

			1	.	5
3	6)	5	4	0
			3	6	
			1	8	0
			1	8	0
					0

③

			1	.	5
4	6)	6	9	0
			4	6	
			2	3	0
			2	3	0
					0

④ $1 \div 25$

			0	.	0	4
2	5)	1	0	0	
			1	0	0	
						0

⑤ $3 \div 75$

			0	.	0	4
7	5)	3	0	0	
			3	0	0	
						0

⑥ $2 \div 25$

			0	.	0	8
2	5)	2	0	0	
			2	0	0	
						0

⑦ $72 \div 48$

			1	.	5
4	8)	7	2	0
			4	8	0
			2	4	0
			2	4	0
					0

⑧ $85 \div 34$

			2	.	5
3	4)	8	5	0
			6	8	0
			1	7	0
			1	7	0
					0

⑨ $45 \div 18$

			2	.	5
1	8)	4	5	0
			3	6	0
			9	0	
			9	0	
					0



小数のわり算 20

●わり進み
(整数を2けたの整数でわる)



日にち： 月 日

名まえ _____

・ 次の計算をわりきれぬまでしましょう。(うすい字はなぞりましょう。)

①

			3.5
14)	49.0	
		42	
		70	
		70	
		0	

②

			2.5
34)	85.0	
		68	
		170	
		170	
		0	

③

			1.8
35)	63.0	
		35	
		280	
		280	
		0	

④ $3 \div 75$

			0.04
75)	3.00	
		300	
		0	

⑤ $2 \div 25$

			0.08
25)	2.00	
		200	
		0	

⑥ $6 \div 75$

			0.08
75)	6.00	
		600	
		0	

⑦ $33 \div 22$

			1.5
22)	33.0	
		220	
		110	
		110	
		0	

⑧ $57 \div 38$

			1.5
38)	57.0	
		380	
		190	
		190	
		0	

⑨ $1 \div 25$

			0.04
25)	1.00	
		100	
		0	



小数のわり算 20

●わり進み
(整数を2けたの整数でわる)



日にち： 月 日

名まえ _____

・ 次の計算をわりきれぬまでしましょう。(うすい字はなぞりましょう。)

①

			2.5
1	8)	45.0
			36
			90
			90
			0

②

			1.5
4	4)	66.0
			44
			220
			220
			0

③

			3.5
1	4)	49.0
			42
			70
			70
			0

④ $1 \div 25$

			0.04
2	5)	1.00
			100
			0

⑤ $3 \div 75$

			0.04
7	5)	3.00
			300
			0

⑥ $2 \div 25$

			0.08
2	5)	2.00
			200
			0

⑦ $39 \div 15$

			2.6
1	5)	39.0
			300
			90
			90
			0

⑧ $69 \div 46$

			1.5
4	6)	69.0
			460
			230
			230
			0

⑨ $81 \div 18$

			4.5
1	8)	81.0
			720
			90
			90
			0



小数のわり算 20

●わり進み
(整数を2けたの整数でわる)



日にち： 月 日

名まえ _____

・ 次の計算をわりきれぬまでしましょう。(うすい字はなぞりましょう。)

①

			1.5
2	2)	33.0
			22
			110
			110
			0

②

			7.5
1	2)	90.0
			84
			60
			60
			0

③

			2.6
3	5)	91.0
			70
			210
			210
			0

④ $6 \div 75$

			0.08
7	5)	6.00
			600
			0

⑤ $3 \div 75$

			0.04
7	5)	3.00
			300
			0

⑥ $2 \div 25$

			0.08
2	5)	2.00
			200
			0

⑦ $54 \div 45$

			1.2
4	5)	54.0
			450
			90
			90
			0

⑧ $1 \div 25$

			0.04
2	5)	1.00
			100
			0

⑨ $88 \div 16$

			5.5
1	6)	88.0
			800
			80
			80
			0



小数のわり算 20

●わり進み
(整数を2けたの整数でわる)



日にち： 月 日

名まえ _____

・ 次の計算をわりきれぬまでしましょう。(うすい字はなぞりましょう。)

①

			1.5
28)	42.0	
		28	
		140	
		140	
			0

②

			1.6
45)	72.0	
		45	
		270	
		270	
			0

③

			3.2
15)	48.0	
		45	
		30	
		30	
			0

④ $2 \div 25$

			0.08
25)	2.00	
		200	
			0

⑤ $1 \div 25$

			0.04
25)	1.00	
		100	
			0

⑥ $3 \div 75$

			0.04
75)	3.00	
		300	
			0

⑦ $77 \div 22$

			3.5
22)	77.0	
		660	
		110	
		110	
			0

⑧ $45 \div 25$

			1.8
25)	45.0	
		250	
		200	
		200	
			0

⑨ $6 \div 75$

			0.08
75)	6.00	
		600	
			0



小数のわり算 20

●わり進み
(整数を2けたの整数でわる)



日にち： 月 日

名まえ _____

・ 次の計算をわりきれぬまでしましょう。(うすい字はなぞりましょう。)

①

			1.6
1	5)	24.0
			15
			90
			90
			0

②

			3.8
2	5)	95.0
			75
			200
			200
			0

③

			3.5
1	6)	56.0
			48
			80
			80
			0

④ $3 \div 75$

			0.04
7	5)	3.00
			300
			0

⑤ $2 \div 25$

			0.08
2	5)	2.00
			200
			0

⑥ $1 \div 25$

			0.04
2	5)	1.00
			100
			0

⑦ $63 \div 45$

			1.4
4	5)	63.0
			450
			180
			180
			0

⑧ $6 \div 75$

			0.08
7	5)	6.00
			600
			0

⑨ $78 \div 12$

			6.5
1	2)	78.0
			720
			60
			60
			0



小数のわり算 20

●わり進み
(整数を2けたの整数でわる)



日にち： 月 日

名まえ _____

・ 次の計算をわりきれぬまでしましょう。

①

			2	.	2	
4	5)	9	9	.	0
			9	0		
			9	0		
			9	0		
			0			

②

			6	.	5	
1	4)	9	1	.	0
			8	4		
			7	0		
			7	0		
			0			

③

			3	.	2	
2	5)	8	0	.	0
			7	5		
			5	0		
			5	0		
			0			

④ $2 \div 25$

			0	.	0	8
2	5)	2	.	0	0
			2	0	0	
			0			

⑤ $3 \div 75$

			0	.	0	4
7	5)	3	.	0	0
			3	0	0	
			0			

⑥ $6 \div 75$

			0	.	0	8
7	5)	6	.	0	0
			6	0	0	
			0			

⑦ $84 \div 35$

			2	.	4	
3	5)	8	4	.	0
			7	0	0	
			1	4	0	
			1	4	0	
			0			

⑧ $57 \div 38$

			1	.	5	
3	8)	5	7	.	0
			3	8	0	
			1	9	0	
			1	9	0	
			0			

⑨ $1 \div 25$

			0	.	0	4
2	5)	1	.	0	0
			1	0	0	
			0			



小数のわり算 20

●わり進み
(整数を2けたの整数でわる)



日にち： 月 日

名まえ _____

・ 次の計算をわりきれぬまでしましょう。

①

			2.4
3	5)	84.0
			70
			140
			140
			0

②

			1.8
4	5)	81.0
			45
			360
			360
			0

③

			2.8
3	5)	98.0
			70
			280
			280
			0

④ $1 \div 25$

			0.04
2	5)	1.00
			100
			0

⑤ $6 \div 75$

			0.08
7	5)	6.00
			600
			0

⑥ $2 \div 25$

			0.08
2	5)	2.00
			200
			0

⑦ $90 \div 36$

			2.5
3	6)	90.0
			720
			180
			180
			0

⑧ $3 \div 75$

			0.04
7	5)	3.00
			300
			0

⑨ $72 \div 48$

			1.5
4	8)	72.0
			480
			240
			240
			0



小数のわり算 20

●わり進み
(整数を2けたの整数でわる)



日にち： 月 日

名まえ _____

・ 次の計算をわりきれるまでしましょう。

① $39 \div 26$

			1	.	5
2	6)	3	9	0
			2	6	0
			1	3	0
			1	3	0
					0

② $70 \div 25$

			2	.	8
2	5)	7	0	0
			5	0	0
			2	0	0
			2	0	0
					0

③ $3 \div 75$

			0	.	0	4
7	5)	3	0	0	
			3	0	0	
					0	

④ $21 \div 6$

			3	.	5
6)	2	1	.	0
		1	8		
			3	0	
			3	0	
				0	

⑤ $25 \div 2$

		1	2	.	5
2)	2	5	.	0
		2			
			5	0	
			4	0	
			1	0	
			1	0	
				0	

⑥ $9 \div 4$

		2	.	2	5
4)	9	.	0	0
		8			
			1	0	
				8	
				2	0
				2	0
					0





小数のわり算 20

●わり進み
(整数を2けたの整数でわる)



日にち： 月 日

名まえ _____

・ 次の計算をわりきれるまでしましょう。

① $93 \div 15$

			6	.	2
1	5)	9	3	0
			9	0	0
			3	0	
			3	0	
				0	

② $2 \div 25$

			0	.	0	8
2	5)	2	0	0	
			2	0	0	
					0	

③ $2 \div 8$

			0	.	2	5
8)	2	0	0		
			1	6		
			4	0		
			4	0		
				0		

④ $98 \div 28$

			3	.	5
2	8)	9	8	0
			8	4	
			1	4	0
			1	4	0
				0	

⑤ $85 \div 25$

			3	.	4
2	5)	8	5	0
			7	5	
			1	0	0
			1	0	0
				0	

⑥ $15 \div 4$

			3	.	7	5
4)	1	5	0	0	
			1	2		
			3	0		
			2	8		
				2	0	
				2	0	
					0	



小数のわり算 20

●わり進み
(整数を2けたの整数でわる)



日にち： 月 日

名まえ _____

・ 次の計算をわりきれるまでしましょう。

① $69 \div 15$

			4	.	6
1	5)	6	9	0
			6	0	0
			9	0	
			9	0	
			0		

② $56 \div 16$

			3	.	5
1	6)	5	6	0
			4	8	0
			8	0	
			8	0	
			0		

③ $1 \div 25$

			0	.	0	4
2	5)	1	0	0	
			1	0	0	
					0	

④ $7 \div 4$

			1	.	7	5
4)	7	.	0	0	
		4				
		3	0			
		2	8			
		2	0			
		2	0			
		0				

⑤ $26 \div 8$

			3	.	2	5
8)	2	6	.	0	0
		2	4			
		2	0			
		1	6			
		4	0			
		4	0			
		0				

⑥ $72 \div 45$

			1	.	6	
4	5)	7	2	.	0
		4	5			
		2	7	0		
		2	7	0		
		0				



小数のわり算 20

●わり進み
(整数を2けたの整数でわる)

13

日にち： 月 日

名まえ _____

・ 次の計算をわりきれぬまでしましょう。

① $66 \div 15$

			4	.	4
1	5)	6	6	.0
			6	0	0
			6	0	
			6	0	
				0	

② $3 \div 75$

			0	.	0	4
7	5)	3	0	0	
			3	0	0	
					0	

③ $3 \div 4$

			0	.	7	5
4)	3	0	0		
			2	8		
				2	0	
				2	0	
					0	

④ $69 \div 15$

			4	.	6
1	5)	6	9	.0
			6	0	
			9	0	
			9	0	
				0	

⑤ $95 \div 25$

			3	.	8
2	5)	9	5	.0
			7	5	
			2	0	0
			2	0	0
					0

⑥ $34 \div 8$

			4	.	2	5
8)	3	4	.0	0	
			3	2		
			2	0		
			1	6		
				4	0	
				4	0	
					0	



小数のわり算 20

●わり進み
(整数を2けたの整数でわる)



日にち： 月 日

名まえ _____

・ 次の計算をわりきれぬまでしましょう。

① $63 \div 42$

			1	.	5
4	2)	6	3	.0
			4	2	0
			2	1	0
			2	1	0
					0

② $98 \div 35$

			2	.	8
3	5)	9	8	.0
			7	0	0
			2	8	0
			2	8	0
					0

③ $3 \div 75$

			0	.	0	4
7	5)	3	0	0	
			3	0	0	
					0	

④ $5 \div 4$

			1	.	2	5
4)	5	.	0	0	
		4				
		1	0			
			8			
			2	0		
			2	0		
					0	

⑤ $17 \div 4$

			4	.	2	5
4)	1	7	.	0	0
		1	6			
			1	0		
				8		
				2	0	
				2	0	
					0	

⑥ $80 \div 32$

			2	.	5
3	2)	8	0	.0
			6	4	
			1	6	0
			1	6	0
					0



小数のわり算 20

●わり進み
(整数を2けたの整数でわる)

15

目指せ80点!



名まえ

・ 次の計算をわりきれるまでしましょう。(各20点)

① $54 \div 12$

			4	5	
1	2)	5	4	0
			4	8	0
			6	0	
			6	0	
			0		

② $63 \div 35$

			1	8	
3	5)	6	3	0
			3	5	0
			2	8	0
			2	8	0
			0		

③ $1 \div 25$



			0	0	4
2	5)	1	0	0
			1	0	0
					0

④ $34 \div 5$

			6	8
5)	3	4	0
		3	0	0
		4	0	
		4	0	
		0		

⑤ $2 \div 8$

			0	2	5
8)	2	0	0	
		1	6		
		4	0		
		4	0		
		0			





小数のわり算 20

●わり進み
(整数を2けたの整数でわる)

16

目指せ80点!



名まえ

・ 次の計算をわりきれぬまでしましょう。(各20点)

① $85 \div 34$

			2.5
34)	85.0	
		68	
		170	
		170	
		0	

② $6 \div 75$

			0.08
75)	6.00	
		600	
		0	

③ $13 \div 5$

			2.6
5)	13.0	
		10	
		30	
		30	
		0	

④ $7 \div 4$

			1.75
4)	7.00	
		4	
		30	
		28	
		20	
		20	
		0	

⑤ $17 \div 4$

			4.25
4)	17.00	
		16	
		10	
		8	
		20	
		20	
		0	

