



# 小数のわり算4

● 十の位に商がたたない  
小数÷整数



日にち：            月            日

名まえ \_\_\_\_\_

・ 次の計算をしなさい。（うすい字はなぞりましょう。）

①

		3	9
6	)	23	.4
		18	
		54	
		54	
			0

②

		6	
7	)	45	.5
		42	
			3

③

6	)	13	.8

④  $15.2 \div 4$

4	)	15	.2

⑤  $33.2 \div 4$

	)		

⑥  $72.9 \div 9$

	)		

⑦  $30.8 \div 4$

	)		

⑧  $24.9 \div 3$

	)		

⑨  $52.2 \div 6$

6	)	52	.2





# 小数のわり算4

● 十の位に商がたたない  
小数÷整数



日にち：            月            日

名まえ \_\_\_\_\_

・ 次の計算をしなさい。（うすい字はなぞりましょう。）

①

			3	.	
3	)	1	1	.	4
			9		
			2	4	

②

8	)	5	7	.	6

③

4	)	3	6	.	8

④  $40.6 \div 7$

7	)	4	0	.	6

⑤  $22.5 \div 5$

	)				

⑥  $33.6 \div 8$

	)				

⑦  $23.2 \div 4$


⑧  $38.4 \div 6$


⑨  $30.1 \div 7$

	)				





# 小数のわり算4

● 十の位に商がたたない  
小数÷整数



日にち：            月            日

名まえ \_\_\_\_\_

・ 次の計算をしなさい。（うすい字はなぞりましょう。）

①

		6	.
5	)	30	.5
		30	

②

3	)	20	.4

③

5	)	38	.5

④  $60.2 \div 7$

7	)	60	.2

⑤  $50.4 \div 9$

	)		

⑥  $62.3 \div 7$

	)		

⑦  $13.6 \div 4$


⑧  $18.6 \div 2$


⑨  $20.4 \div 3$

	)		





# 小数のわり算4

● 十の位に商がたたない  
小数÷整数



日にち：            月            日

名まえ \_\_\_\_\_

・ 次の計算をしなさい。（うすい字はなぞりましょう。）

①

3	)	1	7	.	4

②

9	)	5	0	.	4

③

7	)	3	2	.	9

④

10.4 ÷ 4

4	)	1	0	.	4

⑤

67.9 ÷ 7

	)			.	

⑥

69.6 ÷ 8

	)			.	

⑦

19.6 ÷ 7

	)			.	

⑧

33.6 ÷ 6

	)			.	

⑨

47.6 ÷ 7

	)			.	





# 小数のわり算4

● 十の位に商がたたない  
小数÷整数



日にち：            月            日

名まえ \_\_\_\_\_

・ 次の計算をしなさい。(うすい字はなぞりましょう。)

①

4	)	1	4	.	4

②

4	)	2	3	.	6

③

3	)	1	0	.	8

④

51.8 ÷ 7

7	)	5	1	.	8

⑤

37.6 ÷ 8

	)			.	

⑥

24.6 ÷ 3

	)			.	

⑦

10.4 ÷ 4

	)			.	

⑧

59.2 ÷ 8

	)			.	

⑨

37.5 ÷ 5

	)			.	





# 小数のわり算4

● 十の位に商がたたない  
小数÷整数



日にち：            月            日

名まえ \_\_\_\_\_

・ 次の計算をしなさい。（うすい字はなぞりましょう。）

①

8	)	2	0	.	8

②

8	)	5	5	.	2

③

5	)	2	2	.	5

④

38.7 ÷ 9

	)	3	8	.	7

⑤

44.5 ÷ 5

	)				

⑥

39.2 ÷ 8

	)				

⑦

24.8 ÷ 4

	)				

⑧

37.5 ÷ 5

	)				

⑨

29.5 ÷ 5

	)				





# 小数のわり算4

● 十の位に商がたたない  
小数÷整数



日にち：            月            日

名まえ \_\_\_\_\_

・ 次の計算をしなさい。（うすい字はなぞりましょう。）

①

4	)	3	0	.	8

②

9	)	5	9	.	4

③

3	)	2	0	.	4

④

$46.4 \div 8$

4	6	.	4
)			

⑤

$44.8 \div 7$


⑥

$41.4 \div 6$


⑦

$30.6 \div 9$


⑧

$34.8 \div 6$


⑨

$17.2 \div 4$






# 小数のわり算4

● 十の位に商がたたない  
小数÷整数



日にち：            月            日

名まえ \_\_\_\_\_

・ 次の計算をしなさい。

①

9	)	5	5.8

②

9	)	7	6.5

③

3	)	1	9.5

④

$55.8 \div 6$


⑤

$20.4 \div 3$


⑥

$23.1 \div 3$


⑦

$34.8 \div 4$


⑧

$55.8 \div 9$


⑨

$36.5 \div 5$








# 小数のわり算4

● 十の位に商がたたない  
小数÷整数



日にち：            月            日

名まえ \_\_\_\_\_

・ 次の計算をしなさい。

①

5	)	2	3	.	5

②

8	)	5	2	.	8

③

4	)	3	1	.	6

④

$24.3 \div 9$


⑤

$33.6 \div 6$


⑥

$47.2 \div 8$


⑦

$41.5 \div 5$


⑧

$34.8 \div 6$


⑨

$31.2 \div 8$






## 小数のわり算4

● 十の位に商がたたない  
小数÷整数



日にち：            月            日

名まえ \_\_\_\_\_

・ 次の計算をしなさい。

①

5	)	19.5

②

9	)	22.5

③

6	)	49.2

④  $37.2 \div 6$


⑤  $14.5 \div 5$


⑥  $15.2 \div 2$


⑦  $16.1 \div 7$


⑧  $71.2 \div 4$


⑨  $76.2 \div 6$




# 小数のわり算4

● 十の位に商がたたない  
小数÷整数



日にち：      月      日

名まえ \_\_\_\_\_

・ 次の計算をなさい。

①

7	)	1	7	.	5

②

8	)	2	8	.	8

③

9	)	1	7	.	1

④

59.2 ÷ 8


⑤

25.2 ÷ 3


⑥

47.6 ÷ 7


⑦

47.7 ÷ 3


⑧

71.2 ÷ 8


⑨

26.4 ÷ 8






# 小数のわり算4

● 十の位に商がたたない  
小数 ÷ 整数



日にち：            月            日

名まえ \_\_\_\_\_

・ 次の計算をしなさい。

①

5	)	2	4	.	5

②

9	)	5	5	.	8

③

8	)	6	5	.	6

④

39.9 ÷ 7


⑤

22.2 ÷ 3


⑥

21.2 ÷ 4


⑦

36.4 ÷ 7


⑧

67.5 ÷ 5


⑨

65.1 ÷ 3




# 小数のわり算4

● 十の位に商がたたない  
小数÷整数

13

日にち：      月      日

名まえ \_\_\_\_\_

・ 次の計算をしなさい。

①

4	)	3	8	.	8

②

4	)	1	9	.	2

③

6	)	2	7	.	6

④

$26.6 \div 7$


⑤

$37.5 \div 5$


⑥

$28.5 \div 3$


⑦

$82.5 \div 5$


⑧

$65.8 \div 7$


⑨

$34.8 \div 6$




# 小数のわり算4

● 十の位に商がたたない  
小数÷整数

14

日にち：      月      日

名まえ \_\_\_\_\_

・ 次の計算をしなさい。

①

9	)	8	2	.	8

②

3	)	2	0	.	4

③

8	)	2	2	.	4

④

44.4 ÷ 6


⑤

79.2 ÷ 9


⑥

23.2 ÷ 8


⑦

11.5 ÷ 5


⑧

90.4 ÷ 8


⑨

74.1 ÷ 3





# 小数のわり算4

● 十の位に商がたたない  
小数÷整数

15

目指せ80点!



名まえ \_\_\_\_\_

・ 次の計算をしなさい。(各10点)

①  $3 \overline{) 10.2}$

②  $8 \overline{) 51.2}$

③  $7 \overline{) 44.1}$

④  $4 \overline{) 15.2}$

⑤  $69.6 \div 6$



⑥  $36.8 \div 4$

⑦  $23.5 \div 5$

⑧  $58.4 \div 8$

⑨  $88.9 \div 7$

⑩  $88.5 \div 3$





# 小数のわり算4

● 十の位に商がたたない  
小数÷整数

16

目指せ80点!



名まえ \_\_\_\_\_

・ 次の計算をしなさい。(各10点)

①  $9 \overline{) 13.5}$

②  $4 \overline{) 37.2}$

③  $6 \overline{) 13.2}$

④  $4 \overline{) 15.2}$

⑤  $26.1 \div 9$



⑥  $16.8 \div 7$

⑦  $34.4 \div 8$

⑧  $52.2 \div 3$

⑨  $65.7 \div 9$

⑩  $96.6 \div 7$







# 小数のわり算4

● 十の位に商がたたない  
小数÷整数



日にち：            月            日

名まえ \_\_\_\_\_

・ 次の計算をしなさい。（うすい字はなぞりましょう。）

①

		3.9
6	)	23.4
		18
		54
		54
		0

②

		6.5
7	)	45.5
		42
		35
		35
		0

③

		2.3
6	)	13.8
		12
		18
		18
		0

④  $15.2 \div 4$

		3.8
4	)	15.2
		12
		32
		32
		0

⑤  $33.2 \div 4$

		8.3
4	)	33.2
		32
		12
		12
		0

⑥  $72.9 \div 9$

		8.1
9	)	72.9
		72
		9
		9
		0

⑦  $30.8 \div 4$

		7.7
4	)	30.8
		28
		28
		28
		28
		0

⑧  $24.9 \div 3$

		8.3
3	)	24.9
		24
		9
		9
		0

⑨  $52.2 \div 6$

		8.7
6	)	52.2
		48
		42
		42
		0





# 小数のわり算4

● 十の位に商がたたない  
小数÷整数



日にち：            月            日

名まえ \_\_\_\_\_

・ 次の計算をしなさい。（うすい字はなぞりましょう。）

①

		3.8
3	)	11.4
		9
		24
		24
		0

②

		7.2
8	)	57.6
		56
		16
		16
		0

③

		9.2
4	)	36.8
		36
		8
		8
		0

④  $40.6 \div 7$

		5.8
7	)	40.6
		35
		56
		56
		0

⑤  $22.5 \div 5$

		4.5
5	)	22.5
		20
		25
		25
		0

⑥  $33.6 \div 8$

		4.2
8	)	33.6
		32
		16
		16
		0

⑦  $23.2 \div 4$

		5.8
4	)	23.2
		20
		32
		32
		0

⑧  $38.4 \div 6$

		6.4
6	)	38.4
		36
		24
		24
		0

⑨  $30.1 \div 7$

		4.3
7	)	30.1
		28
		21
		21
		0





# 小数のわり算4

● 十の位に商がたたない  
小数÷整数



日にち：            月            日

名まえ \_\_\_\_\_

・ 次の計算をしなさい。（うすい字はなぞりましょう。）

①

		6.1
5	)	30.5
		30
		5
		5
		0

②

		6.8
3	)	20.4
		18
		24
		24
		0

③

		7.7
5	)	38.5
		35
		35
		35
		0

④  $60.2 \div 7$

		8.6
7	)	60.2
		56
		42
		42
		0

⑤  $50.4 \div 9$

		5.6
9	)	50.4
		45
		54
		54
		0

⑥  $62.3 \div 7$

		8.9
7	)	62.3
		56
		63
		63
		0

⑦  $13.6 \div 4$

		3.4
4	)	13.6
		12
		16
		16
		0

⑧  $18.6 \div 2$

		9.3
2	)	18.6
		18
		6
		6
		0

⑨  $20.4 \div 3$

		6.8
3	)	20.4
		18
		24
		24
		0





# 小数のわり算4

● 十の位に商がたたない  
小数÷整数



日にち：            月            日

名まえ \_\_\_\_\_

・ 次の計算をしなさい。（うすい字はなぞりましょう。）

①

		5.8
3	)	17.4
		15
		24
		24
		0

②

		5.6
9	)	50.4
		45
		54
		54
		0

③

		4.7
7	)	32.9
		28
		49
		49
		0

④  $10.4 \div 4$

		2.6
4	)	10.4
		8
		24
		24
		0

⑤  $67.9 \div 7$

		9.7
7	)	67.9
		63
		49
		49
		0

⑥  $69.6 \div 8$

		8.7
8	)	69.6
		64
		56
		56
		0

⑦  $19.6 \div 7$

		2.8
7	)	19.6
		14
		56
		56
		0

⑧  $33.6 \div 6$

		5.6
6	)	33.6
		30
		36
		36
		0

⑨  $47.6 \div 7$

		6.8
7	)	47.6
		42
		56
		56
		0





# 小数のわり算4

● 十の位に商がたたない  
小数÷整数



日にち：            月            日

名まえ \_\_\_\_\_

・ 次の計算をしなさい。（うすい字はなぞりましょう。）

①

		3.6
4	)	14.4
		12
		24
		24
		0

②

		5.9
4	)	23.6
		20
		36
		36
		0

③

		3.6
3	)	10.8
		9
		18
		18
		0

④  $51.8 \div 7$

		7.4
7	)	51.8
		49
		28
		28
		0

⑤  $37.6 \div 8$

		4.7
8	)	37.6
		32
		56
		56
		0

⑥  $24.6 \div 3$

		8.2
3	)	24.6
		24
		6
		6
		0

⑦  $10.4 \div 4$

		2.6
4	)	10.4
		8
		24
		24
		0

⑧  $59.2 \div 8$

		7.4
8	)	59.2
		56
		32
		32
		0

⑨  $37.5 \div 5$

		7.5
5	)	37.5
		35
		25
		25
		0





# 小数のわり算4

十の位に商がたたない  
小数÷整数



日にち： 月 日

名まえ \_\_\_\_\_

・ 次の計算をしなさい。（うすい字はなぞりましょう。）

①

		2.6
8	)	20.8
		16
		48
		48
		0

②

		6.9
8	)	55.2
		48
		72
		72
		0

③

		4.5
5	)	22.5
		20
		25
		25
		0

④  $38.7 \div 9$

		4.3
9	)	38.7
		36
		27
		27
		0

⑤  $44.5 \div 5$

		8.9
5	)	44.5
		40
		45
		45
		0

⑥  $39.2 \div 8$

		4.9
8	)	39.2
		32
		72
		72
		0

⑦  $24.8 \div 4$

		6.2
4	)	24.8
		24
		8
		8
		0

⑧  $37.5 \div 5$

		7.5
5	)	37.5
		35
		25
		25
		0

⑨  $29.5 \div 5$

		5.9
5	)	29.5
		25
		45
		45
		0





# 小数のわり算4

十の位に商がたたない  
小数÷整数



日にち： 月 日

名まえ \_\_\_\_\_

・ 次の計算をしなさい。(うすい字はなぞりましょう。)

①

		7	7
4	)	30	.8
		28	
		28	
		28	
		0	

②

		6	6
9	)	59	.4
		54	
		54	
		54	
		0	

③

		6	8
3	)	20	.4
		18	
		24	
		24	
		0	

④  $46.4 \div 8$

		5	8
8	)	46	.4
		40	
		64	
		64	
		0	

⑤  $44.8 \div 7$

		6	4
7	)	44	.8
		42	
		28	
		28	
		0	

⑥  $41.4 \div 6$

		6	9
6	)	41	.4
		36	
		54	
		54	
		0	

⑦  $30.6 \div 9$

		3	4
9	)	30	.6
		27	
		36	
		36	
		0	

⑧  $34.8 \div 6$

		5	8
6	)	34	.8
		30	
		48	
		48	
		0	

⑨  $17.2 \div 4$

		4	3
4	)	17	.2
		16	
		12	
		12	
		0	





# 小数のわり算4

十の位に商がたたない  
小数÷整数



日にち： 月 日

名まえ \_\_\_\_\_

・ 次の計算をしなさい。

①

		6.2
9	)	55.8
		54
		18
		18
		0

②

		8.5
9	)	76.5
		72
		45
		45
		0

③

		6.5
3	)	19.5
		18
		15
		15
		0

④  $55.8 \div 6$

		9.3
6	)	55.8
		54
		18
		18
		0

⑤  $20.4 \div 3$

		6.8
3	)	20.4
		18
		24
		24
		0

⑥  $23.1 \div 3$

		7.7
3	)	23.1
		21
		21
		21
		0

⑦  $34.8 \div 4$

		8.7
4	)	34.8
		32
		28
		28
		0

⑧  $55.8 \div 9$

		6.2
9	)	55.8
		54
		18
		18
		0

⑨  $36.5 \div 5$

		7.3
5	)	36.5
		35
		15
		15
		0







# 小数のわり算4

十の位に商がたたない  
小数÷整数



日にち：            月            日

名まえ \_\_\_\_\_

・ 次の計算をしなさい。

①

		4.7
5	)	23.5
		20
		35
		35
		0

②

		6.6
8	)	52.8
		48
		48
		48
		0

③

		7.9
4	)	31.6
		28
		36
		36
		0

④  $24.3 \div 9$

		2.7
9	)	24.3
		18
		63
		63
		0

⑤  $33.6 \div 6$

		5.6
6	)	33.6
		30
		36
		36
		0

⑥  $47.2 \div 8$

		5.9
8	)	47.2
		40
		72
		72
		0

⑦  $41.5 \div 5$

		8.3
5	)	41.5
		40
		15
		15
		0

⑧  $34.8 \div 6$

		5.8
6	)	34.8
		30
		48
		48
		0

⑨  $31.2 \div 8$

		3.9
8	)	31.2
		24
		72
		72
		0





# 小数のわり算4

● 十の位に商がたたない  
小数÷整数



日にち： 月 日

名まえ \_\_\_\_\_

・ 次の計算をしなさい。

①

$$\begin{array}{r} 3.9 \\ 5 \overline{) 19.5} \\ \underline{15} \phantom{0} \\ 45 \\ \underline{45} \\ 0 \end{array}$$

②

$$\begin{array}{r} 2.5 \\ 9 \overline{) 22.5} \\ \underline{18} \phantom{0} \\ 45 \\ \underline{45} \\ 0 \end{array}$$

③

$$\begin{array}{r} 8.2 \\ 6 \overline{) 49.2} \\ \underline{48} \phantom{0} \\ 12 \\ \underline{12} \\ 0 \end{array}$$

④  $37.2 \div 6$

$$\begin{array}{r} 6.2 \\ 6 \overline{) 37.2} \\ \underline{36} \phantom{0} \\ 12 \\ \underline{12} \\ 0 \end{array}$$

⑤  $14.5 \div 5$

$$\begin{array}{r} 2.9 \\ 5 \overline{) 14.5} \\ \underline{10} \phantom{0} \\ 45 \\ \underline{45} \\ 0 \end{array}$$

⑥  $15.2 \div 2$

$$\begin{array}{r} 7.6 \\ 2 \overline{) 15.2} \\ \underline{14} \phantom{0} \\ 12 \\ \underline{12} \\ 0 \end{array}$$

⑦  $16.1 \div 7$

$$\begin{array}{r} 2.3 \\ 7 \overline{) 16.1} \\ \underline{14} \phantom{0} \\ 21 \\ \underline{21} \\ 0 \end{array}$$

⑧  $71.2 \div 4$

$$\begin{array}{r} 17.8 \\ 4 \overline{) 71.2} \\ \underline{4} \phantom{0} \\ 31 \\ \underline{28} \\ 32 \\ \underline{32} \\ 0 \end{array}$$

⑨  $76.2 \div 6$

$$\begin{array}{r} 12.7 \\ 6 \overline{) 76.2} \\ \underline{6} \phantom{0} \\ 16 \\ \underline{12} \\ 42 \\ \underline{42} \\ 0 \end{array}$$



# 小数のわり算4

● 十の位に商がたたない  
小数÷整数



日にち： 月 日

名まえ \_\_\_\_\_

・ 次の計算をしなさい。

①

		2	5
7	)	1	7.5
		1	4
		<hr/>	
		3	5
		3	5
		<hr/>	
			0

②

		3	6
8	)	2	8.8
		2	4
		<hr/>	
		4	8
		4	8
		<hr/>	
			0

③

		1	9
9	)	1	7.1
		9	
		<hr/>	
		8	1
		8	1
		<hr/>	
			0

④  $59.2 \div 8$

		7	4
8	)	5	9.2
		5	6
		<hr/>	
		3	2
		3	2
		<hr/>	
			0

⑤  $25.2 \div 3$

		8	4
3	)	2	5.2
		2	4
		<hr/>	
		1	2
		1	2
		<hr/>	
			0

⑥  $47.6 \div 7$

		6	8
7	)	4	7.6
		4	2
		<hr/>	
		5	6
		5	6
		<hr/>	
			0

⑦  $47.7 \div 3$

		1	5	9
3	)	4	7	.7
		3		
		<hr/>		
		1	7	
		1	5	
		<hr/>		
			2	7
			2	7
		<hr/>		
				0

⑧  $71.2 \div 8$

		8	9
8	)	7	1.2
		6	4
		<hr/>	
		7	2
		7	2
		<hr/>	
			0

⑨  $26.4 \div 8$

		3	3	
8	)	2	6.4	
		2	4	
		<hr/>		
			2	4
			2	4
		<hr/>		
				0



# 小数のわり算4

● 十の位に商がたたない  
小数÷整数



日にち：      月      日

名まえ \_\_\_\_\_

・ 次の計算をしなさい。

①

$$\begin{array}{r} 4.9 \\ 5 \overline{)24.5} \\ \underline{20} \phantom{0} \\ 45 \\ \underline{45} \\ 0 \end{array}$$

②

$$\begin{array}{r} 6.2 \\ 9 \overline{)55.8} \\ \underline{54} \phantom{0} \\ 18 \\ \underline{18} \\ 0 \end{array}$$

③

$$\begin{array}{r} 8.2 \\ 8 \overline{)65.6} \\ \underline{64} \phantom{0} \\ 16 \\ \underline{16} \\ 0 \end{array}$$

④  $39.9 \div 7$

$$\begin{array}{r} 5.7 \\ 7 \overline{)39.9} \\ \underline{35} \phantom{0} \\ 49 \\ \underline{49} \\ 0 \end{array}$$

⑤  $22.2 \div 3$

$$\begin{array}{r} 7.4 \\ 3 \overline{)22.2} \\ \underline{21} \phantom{0} \\ 12 \\ \underline{12} \\ 0 \end{array}$$

⑥  $21.2 \div 4$

$$\begin{array}{r} 5.3 \\ 4 \overline{)21.2} \\ \underline{20} \phantom{0} \\ 12 \\ \underline{12} \\ 0 \end{array}$$

⑦  $36.4 \div 7$

$$\begin{array}{r} 5.2 \\ 7 \overline{)36.4} \\ \underline{35} \phantom{0} \\ 14 \\ \underline{14} \\ 0 \end{array}$$

⑧  $67.5 \div 5$

$$\begin{array}{r} 13.5 \\ 5 \overline{)67.5} \\ \underline{5} \phantom{0} \\ 17 \\ \underline{15} \\ 25 \\ \underline{25} \\ 0 \end{array}$$

⑨  $65.1 \div 3$

$$\begin{array}{r} 21.7 \\ 3 \overline{)65.1} \\ \underline{6} \phantom{0} \\ 5 \\ \underline{3} \\ 21 \\ \underline{21} \\ 0 \end{array}$$





# 小数のわり算4

● 十の位に商がたたない  
小数÷整数



日にち：      月      日

名まえ \_\_\_\_\_

・ 次の計算をしなさい。

①

$$\begin{array}{r} 9.7 \\ 4 \overline{) 38.8} \\ \underline{36} \phantom{0} \\ 28 \\ \underline{28} \\ 0 \end{array}$$

②

$$\begin{array}{r} 4.8 \\ 4 \overline{) 19.2} \\ \underline{16} \phantom{0} \\ 32 \\ \underline{32} \\ 0 \end{array}$$

③

$$\begin{array}{r} 4.6 \\ 6 \overline{) 27.6} \\ \underline{24} \phantom{0} \\ 36 \\ \underline{36} \\ 0 \end{array}$$

④  $26.6 \div 7$

$$\begin{array}{r} 3.8 \\ 7 \overline{) 26.6} \\ \underline{21} \phantom{0} \\ 56 \\ \underline{56} \\ 0 \end{array}$$

⑤  $37.5 \div 5$

$$\begin{array}{r} 7.5 \\ 5 \overline{) 37.5} \\ \underline{35} \phantom{0} \\ 25 \\ \underline{25} \\ 0 \end{array}$$

⑥  $28.5 \div 3$

$$\begin{array}{r} 9.5 \\ 3 \overline{) 28.5} \\ \underline{27} \phantom{0} \\ 15 \\ \underline{15} \\ 0 \end{array}$$

⑦  $82.5 \div 5$

$$\begin{array}{r} 16.5 \\ 5 \overline{) 82.5} \\ \underline{5} \phantom{0} \\ 32 \\ \underline{30} \\ 25 \\ \underline{25} \\ 0 \end{array}$$

⑧  $65.8 \div 7$

$$\begin{array}{r} 9.4 \\ 7 \overline{) 65.8} \\ \underline{63} \phantom{0} \\ 28 \\ \underline{28} \\ 0 \end{array}$$

⑨  $34.8 \div 6$

$$\begin{array}{r} 5.8 \\ 6 \overline{) 34.8} \\ \underline{30} \phantom{0} \\ 48 \\ \underline{48} \\ 0 \end{array}$$





# 小数のわり算4

● 十の位に商がたたない  
小数÷整数

14

日にち： 月 日

名まえ \_\_\_\_\_

・ 次の計算をしなさい。

①

$$\begin{array}{r} 9.2 \\ 9 \overline{) 82.8} \\ \underline{81} \phantom{0} \\ 18 \\ \underline{18} \\ 0 \end{array}$$

②

$$\begin{array}{r} 6.8 \\ 3 \overline{) 20.4} \\ \underline{18} \phantom{0} \\ 24 \\ \underline{24} \\ 0 \end{array}$$

③

$$\begin{array}{r} 2.8 \\ 8 \overline{) 22.4} \\ \underline{16} \phantom{0} \\ 64 \\ \underline{64} \\ 0 \end{array}$$

④  $44.4 \div 6$

$$\begin{array}{r} 7.4 \\ 6 \overline{) 44.4} \\ \underline{42} \phantom{0} \\ 24 \\ \underline{24} \\ 0 \end{array}$$

⑤  $79.2 \div 9$

$$\begin{array}{r} 9.9 \\ 8 \overline{) 79.2} \\ \underline{72} \phantom{0} \\ 72 \\ \underline{72} \\ 0 \end{array}$$

⑥  $23.2 \div 8$

$$\begin{array}{r} 2.9 \\ 8 \overline{) 23.2} \\ \underline{16} \phantom{0} \\ 72 \\ \underline{72} \\ 0 \end{array}$$

⑦  $11.5 \div 5$

$$\begin{array}{r} 2.3 \\ 5 \overline{) 11.5} \\ \underline{10} \phantom{0} \\ 15 \\ \underline{15} \\ 0 \end{array}$$

⑧  $90.4 \div 8$

$$\begin{array}{r} 11.3 \\ 8 \overline{) 90.4} \\ \underline{8} \phantom{0} \\ 10 \\ \underline{8} \phantom{0} \\ 24 \\ \underline{24} \\ 0 \end{array}$$

⑨  $74.1 \div 3$

$$\begin{array}{r} 24.7 \\ 3 \overline{) 74.1} \\ \underline{6} \phantom{0} \\ 14 \\ \underline{12} \phantom{0} \\ 21 \\ \underline{21} \\ 0 \end{array}$$




# 小数のわり算4

● 十の位に商がたたない  
小数÷整数

15

目指せ80点!



名まえ

・ 次の計算をしなさい。(各10点)

$$\begin{array}{r} 3 \overline{) 10.2} \\ \underline{9} \phantom{0} \\ 12 \\ \underline{12} \\ 0 \end{array}$$

$$\begin{array}{r} 8 \overline{) 51.2} \\ \underline{48} \phantom{0} \\ 32 \\ \underline{32} \\ 0 \end{array}$$

$$\begin{array}{r} 7 \overline{) 44.1} \\ \underline{42} \phantom{0} \\ 21 \\ \underline{21} \\ 0 \end{array}$$

$$\begin{array}{r} 4 \overline{) 15.2} \\ \underline{12} \phantom{0} \\ 32 \\ \underline{32} \\ 0 \end{array}$$

⑤  $69.6 \div 6$

$$\begin{array}{r} 11.6 \\ 6 \overline{) 69.6} \\ \underline{6} \phantom{0} \\ 9 \\ \underline{6} \\ 36 \\ \underline{36} \\ 0 \end{array}$$

⑥  $36.8 \div 4$

$$\begin{array}{r} 9.2 \\ 4 \overline{) 36.8} \\ \underline{36} \phantom{0} \\ 8 \\ \underline{8} \\ 0 \end{array}$$

⑦  $23.5 \div 5$

$$\begin{array}{r} 4.7 \\ 5 \overline{) 23.5} \\ \underline{20} \phantom{0} \\ 35 \\ \underline{35} \\ 0 \end{array}$$

⑧  $58.4 \div 8$



$$\begin{array}{r} 7.3 \\ 8 \overline{) 58.4} \\ \underline{56} \phantom{0} \\ 24 \\ \underline{24} \\ 0 \end{array}$$

⑨  $88.9 \div 7$

$$\begin{array}{r} 12.7 \\ 7 \overline{) 88.9} \\ \underline{7} \phantom{0} \\ 18 \\ \underline{14} \\ 49 \\ \underline{49} \\ 0 \end{array}$$

⑩  $88.5 \div 3$

$$\begin{array}{r} 29.5 \\ 3 \overline{) 88.5} \\ \underline{6} \phantom{0} \\ 28 \\ \underline{27} \\ 15 \\ \underline{15} \\ 0 \end{array}$$





# 小数のわり算4

● 十の位に商がたたない  
小数÷整数

16

目指せ80点!



名まえ \_\_\_\_\_

・ 次の計算をしなさい。(各10点)

①

$$\begin{array}{r} 1.5 \\ 9 \overline{) 13.5} \\ \underline{9 \phantom{0}} \\ 45 \\ \underline{45} \\ 0 \end{array}$$

②

$$\begin{array}{r} 9.3 \\ 4 \overline{) 37.2} \\ \underline{36 \phantom{0}} \\ 12 \\ \underline{12} \\ 0 \end{array}$$

③

$$\begin{array}{r} 2.2 \\ 6 \overline{) 13.2} \\ \underline{12 \phantom{0}} \\ 12 \\ \underline{12} \\ 0 \end{array}$$

④

$$\begin{array}{r} 3.8 \\ 4 \overline{) 15.2} \\ \underline{12 \phantom{0}} \\ 32 \\ \underline{32} \\ 0 \end{array}$$

⑤  $26.1 \div 9$

$$\begin{array}{r} 2.9 \\ 9 \overline{) 26.1} \\ \underline{18 \phantom{0}} \\ 81 \\ \underline{81} \\ 0 \end{array}$$

⑥  $16.8 \div 7$

$$\begin{array}{r} 2.4 \\ 7 \overline{) 16.8} \\ \underline{14 \phantom{0}} \\ 28 \\ \underline{28} \\ 0 \end{array}$$

⑦  $34.4 \div 8$

$$\begin{array}{r} 4.3 \\ 8 \overline{) 34.4} \\ \underline{32 \phantom{0}} \\ 24 \\ \underline{24} \\ 0 \end{array}$$

⑧  $52.2 \div 3$

$$\begin{array}{r} 17.4 \\ 3 \overline{) 52.2} \\ \underline{3 \phantom{00}} \\ 22 \\ \underline{21} \\ 12 \\ \underline{12} \\ 0 \end{array}$$

⑨  $65.7 \div 9$

$$\begin{array}{r} 7.3 \\ 9 \overline{) 65.7} \\ \underline{63 \phantom{0}} \\ 27 \\ \underline{27} \\ 0 \end{array}$$

⑩  $96.6 \div 7$

$$\begin{array}{r} 13.8 \\ 7 \overline{) 96.6} \\ \underline{7 \phantom{00}} \\ 26 \\ \underline{21} \\ 56 \\ \underline{56} \\ 0 \end{array}$$

